



# 历史

学校 \_\_\_\_\_ 姓名 \_\_\_\_\_ 准考证号 \_\_\_\_\_





考  
生  
须  
知

1. 本试卷共 10 页，共两部分，34 道小题。满分 90 分。考试时间 90 分钟。
2. 在试卷和答题卡上准确填写学校名称、姓名和准考证号。
3. 试题答案一律填涂或书写在答题卡上，在试卷上作答无效。
4. 在答题卡上，选择题用 2B 铅笔作答，其他题用黑色字迹签字笔作答。
5. 考试结束，请将本试卷、答案卡和草稿纸一并交回。

## 第一部分 选择题 (30 小题，共 45 分)

本部分共 30 小题，每小题 1.5 分，共 45 分。在每小题列出四个选项中，选出最符合题目要求的一项。

1. 北京人距今约 70 万 -20 万年，半坡人距今约 6000 年。与北京人相比，半坡人的进步是  
A. 制造使用工具    B. 利用保存火种    C. 种植农业作物    D. 进行狩猎活动
2. 文物是文明的密码。下列文物留存了商朝文明密码的是

			
①铁制农具	②甲骨刻辞	③殷墟青铜器	④马踏匈奴雕塑

- A. ①②    B. ②③    C. ①④    D. ③④
3. 某同学梳理商鞅变法主要内容时列表如下，其中①处应填写

政治	废除旧贵族的世袭特权
经济	①
军事	奖励军功

- A. 奖励耕织    B. 确立县制    C. 严明法度    D. 统一文字
4. 中国古代政治体制几经变迁。右图所示政治特点形成于

- A. 夏朝    B. 商朝  
C. 西周    D. 秦朝

1. 创皇帝制度
2. 地方官员由中央任命
3. 量才任官，不得世袭

5. 依据右图目录内容判断, 该著作名称是

- A. 《秦始皇》  
B. 《汉武帝传》  
C. 《汉光武帝传》  
D. 《魏武帝传》

目录(节选)	
第二章	森德木 重法治 燕廷百端之学
第一节	“家临百家、独尊儒术”考释
第二节	森德木
第三节	重法治
第四节	燕廷百端之学
……	……
第六章	外蕃因夷 教通四海
第一节	北击匈奴
第二节	通西域
第三节	统一两越、西南夷与平定朝鲜
……	……

6. 下列史实与结论对应正确的是

选项	史实	结论
A	西汉的建立	标志着第一个专制主义中央集权制王朝建立
B	刺史制度的确立	加强了中央对地方的控制
C	推恩令开始实施	促进了民族间经济文化交流
D	宦官外戚交替执政	结束了南北朝以来长期分裂对峙的局面

7. 右图所示历史事件所产生的影响是

- A. 奠定了唐朝政权建立的基础  
B. 密切了唐朝与周边政权的联系  
C. 削弱了唐朝对地方的控制能力  
D. 维护了唐朝边疆地区的安定



8. 依据内容推断, 下列材料节选自

【宣德楼前省府官宇】……至渡仪桥之西, 即开封府御街一直南去, 过州桥, 两边皆居民, 街东车家炭、张家酒店, 次则王楼山洞梅花包子、李家香铺、曹婆婆肉饼、李四分茶

【潘楼东街巷】……茶坊五更点灯, 博易买卖衣服、图画、花环、领袖之类, 至晚即散, 谓之“鬼市子”。

- A. (汉) 刘向编集《战国策》  
B. (北魏) 郦道元著《水经注》  
C. (唐) 吴兢著《贞观政要》  
D. (宋) 孟元老著《东京梦华录》

9. 对右侧连环画中的主人公评价准确的是

- A. 能征惯战的起义军领袖  
B. 平定内乱挽救危局的忠臣  
C. 维护国家主权的民族英雄  
D. 足智多谋勤政爱民的明君



图9 元二二年(1279年), 丞相伯颜率军攻占了崖山, 使南宋灭亡。图中的伯颜, 是元朝的一位重要人物。

10. 一位同学对中国古代的历史人物进行分类整理, 其中①和②处分别应填写的是





- A. 李时珍 关汉卿 B. 徐光启 宋应星  
C. 祖冲之 贾思勰 D. 玄奘 忽必烈

- 一、华佗 张仲景 孙思邈 ①  
二、杜甫 李清照 ② 曹雪芹

11. 下表的材料能说明

新石器时代	唐代	宋代	明清
半坡居民制作彩陶；河姆渡居民制作黑陶	唐三彩造型精美；越窑青瓷如冰如玉；邢窑白瓷类雪似银	瓷器史上的辉煌时代，景德镇成为著名的瓷都	明中后期烧制出彩瓷，以五彩瓷最为有名；清代还出现了珐琅瓷

- A. 古代陶瓷业的发展  
B. 对外贸易的发展  
C. 古代商业辉煌灿烂  
D. 古代农业的进步
12. 他三征噶尔丹，团结众蒙古部，把新疆牢牢地守住。他尊崇达赖喇嘛，维护了西藏的统一。他下令在雅克萨反击沙俄，签订《尼布楚条约》，巩固了东北边疆。他是
- A. 宋太祖  
B. 明太祖  
C. 康熙帝  
D. 乾隆帝
13. 同学们到下列地区游学，认识到这些古迹都是古人给我们留下的

			
秦始皇陵兵马俑坑	敦煌莫高窟	明万里长城	紫禁城

- A. 文化遗产  
B. 军事设施  
C. 宫殿建筑  
D. 宗教寺庙
14. 某同学在写给中国近代史上一位历史人物的信中写到：“为使您的政权长久存在，您应对《天朝田亩制度》稍作修改……处理好与诸王的关系，避免兄弟阋墙。”据此判断，该信最有可能写给
- A. 林则徐  
B. 洪秀全  
C. 曾国藩  
D. 李鸿章
15. 《中国海军史（晚清民国卷）》讲述了中国海军在晚清和民国时期的发展情况。下列内容反映了晚清中国海军状况的是
- ①台州九捷——戚家军抗倭  
②买舰与造舰——精练北洋海军  
③海上对决——黄海海战  
④孤岛悲歌——威海卫之战
- A. ①②③  
B. ②③④  
C. ①②④  
D. ①③④
16. 奏折、诏书是研究历史的重要史料。下列两则奏折、诏书反映了


奏折：已而东师大举，遂有割台补款之事，于是外邦蔑视，海内离心。职就愤迫切，谏陈大计，请及时变法，图保疆域。




诏书：数年以来，中外臣工，讲求时务，多主变法自强。迨者诏书数下，如开特科，裁冗兵，改武科制度，立大小学堂，皆经再三审定，筹之至熟，尚议施行。

- A. 鸦片战争的危害  
B. 甲午战争爆发的历史背景  
C. 维新运动的历程  
D. 八国联军侵华战争的结局
17. 右侧日记的写作背景是
- A. 《南京条约》签订  
B. 《北京条约》签订  
C. 《马关条约》签订  
D. 《辛丑条约》签订

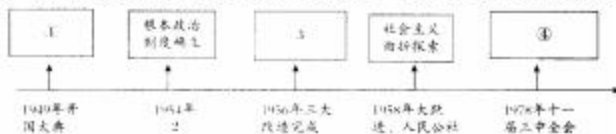
朝廷价从和议，而输与洋夷金四百五十兆（注：白银4.5亿两），山西起派八百万金，吾邑派十五万金。  
——摘自光绪二十七年（1901年）某举人日记

18. 1912年,许多满清宗亲和官僚纷纷逃离北京,“每次火车均挤不能容”。造成这一现象的原因是
- A. 英法联军火烧圆明园  
B. 八国联军占据北京城  
C. 义和团民众进入北京  
D. 辛亥革命影响北京城
19. 李大钊称赞它是一场爱国运动;历史学家把它视为分水岭,将八十年的“旧民主”时期和“新民主”时期分开。材料中“它”指的是
- A. 五四运动  
B. 中共诞生  
C. 国民革命  
D. 北伐战争
20. 中国共产党领导的中国革命,历经艰险,百折不回,蕴含着丰富的精神财富。从第三阶段的中国革命历程中可以提炼出
- A. 红船精神  
B. 八一精神  
C. 井冈山精神  
D. 长征精神
21. 综合以下资料,可以得出的正确结论是



			
“国立西南联合大学抗战以来从军学生题名”拓片	海外华侨支援抗战的汇款单	八路军战士保存的拥军鞋	《五龄童抗日漫画》集

- A. 抗战时期艺术创作成果辉煌  
B. 抗日战争是中华民族全民族抗战  
C. 学生参军改变抗日部队结构  
D. 国际援助是抗战胜利的主要原因
22. 右图为解放军某部下发给指战员的渡江南征誓师纪念册,封面印有“打过长江去,解放全中国”的字样,内页印有渡江南征誓词。这次战役的影响是
- A. 解放战争正式爆发  
B. 国民党重点进攻被粉碎  
C. 战略反攻全面展开  
D. 国民政府统治土崩瓦解
23. 立足本职,勤奋工作,在我们国家,每一个人都有自己的中国梦。“铁人”王进喜的中国梦是
- A. 宁可少活二十年,拼死也要拿下大油田  
B. 提高杂交水稻的产量造福中国和世界  
C. 推广青蒿素,解除疟疾病人的痛苦  
D. 治理沙漠,让兰考人民生活更幸福
24. 某同学在学习中华人民共和国的历史时,自制了以下年代尺,其中③处应该填写的内容是



- A. 结束了半殖民地半封建社会的历史  
B. 为我国经济建设赢得了相对稳定的和平环境  
C. 完成了生产资料私有制向社会主义公有制的转变  
D. 结束了长达十年之久的“文化大革命”



25. “60 个人应当这样分派工作：12 个人去选料、染色和洗羊毛；30 个人去纺纱和刷毛梳毛；12 个人去织呢和剪呢，剩下的 6 个人去帮助别人干活。”这一场景反映的是 15 世纪英国的
- A. 自给自足的领主庄园  
B. 雇佣劳动的租地农场  
C. 分工协作的手工作坊  
D. 机器生产的现代工厂

26. 右图反映了近代自然科学技术的发展，括号内应填写

- A. 达·芬奇  
B. 瓦特  
C. 爱迪生  
D. 贝多芬

牛顿—提出了万有引力定律  
达尔文—阐释了生物进化理论  
( )—改良蒸汽机为工业革命提供动力  
爱因斯坦—提出了广义相对论

27. 19 世纪 60 年代，随着工业革命向世界其他地区不断扩展，各个国家的发展情况出现不同程度上的变动。某同学制作思维导图梳理这一时期的历史事件，空白处应填写

- A. 文艺复兴  
B. 新航路的开辟  
C. 英国资产阶级革命  
D. 日本的明治维新



28. 1929 年 10 月，纽约证券交易所股票价格雪崩似的跌落，5 天后，纽约股票市场陷入崩溃。1933 年，整个资本主义工业生产下降 40%，各国工业产量倒退到 19 世纪末的水平，资本主义世界贸易额减少三分之二，资本主义世界失业工人达 3000 多万。上述材料可以说明

- A. 经济危机出现的原因  
B. 解决经济危机的具体方案  
C. 经济危机的具体表现  
D. 解除经济危机后的社会状况

29. 近期特朗普政府对中国出口美国的商品加征关税，中国被迫实施反征税措施。有责任协调上述纠纷的国际机构是

- A. 国际联盟  
B. 世界贸易组织  
C. 欧洲联盟  
D. 华沙条约组织

30. 对以下大事年表的正确解读是

1947 年	1960 年	1990 年	1999 年
印度独立	喀麦隆等 17 个非洲国家独立	非洲最后一个殖民国家纳米比亚独立	巴拿马从美国手中收回运河主权

- A. 两极格局长期对峙  
B. 多极化趋势日渐明显  
C. 殖民体系彻底崩溃  
D. 经济全球化联系加强



## 第二部分 非选择题 (4小题, 共45分)

31. (10分) 马克思主义对人类社会产生了深远的影响。

**材料一** 1835年17岁的马克思在题为《青年在选择职业时的考虑》中学毕业论文中写道: 在选择职业时, 我们应该遵循的主要指针是人类的幸福和我们自身的完美……如果我们选择了最能为人类福利而劳动的职业, 那么, 重担就不能把我们压倒, 因为这是为大家而献身; 那时我们感到的就不是可怜的、有限的、自私的乐趣。我们的幸福将属于千百万人, 我们的事业将默默地、也会永远发挥作用地存在下去。面对我们的骨灰, 高尚的人们将洒下热泪。

(1) 依据材料一, 概括青年马克思的职业理想。结合马克思的贡献, 谈谈他又是如何为实现这一理想而奋斗的。(3分)

**材料二** 马克思主义推进了人类文明进程, 对人类社会的发展产生了深刻影响。以下是能够印证这一观点的部分史实

- ①俄国十月革命
- ②中华人民共和国成立
- ③第一国际的建立
- ④中国社会主义市场经济体制的建立与完善

(2) 请运用材料二中的相关史实证明下列观点。(4分, 填写序号, 序号可重复使用, 多选、少选均不得分)

- A. 国际工人运动蓬勃发展: \_\_\_\_\_
- B. 资本主义一统天下的世界格局被打破: \_\_\_\_\_
- C. 民族解放运动进一步发展: \_\_\_\_\_
- D. 马克思主义改变了中国: \_\_\_\_\_

**材料三** 习近平发展了马克思的“共同体”思想, 提出了“人类命运共同体”的新理念。

世界正处于大发展大变革大调整时期, 和平与发展仍然是时代主题。世界多极化、经济全球化、社会信息化、文化多样化深入发展, 全球治理体系和国际秩序变革加速推进, 各国相互联系和依存日益加深, 国际力量对比更趋平衡, 和平发展大势不可逆转。

——习近平



充满挑战的世界

(3) 依据材料三, 说明构建“人类命运共同体”新理念提出的背景。(2分)

**材料四** 马克思的整个世界观提供的不是现成的教条, 而是进一步研究的出发点和供这种研究使用的方法。马克思主义理论是一种历史的产物, 它在不同的时代具有完全不同的形式, 同时具有完全不同的内容。

(4) 综合上述材料, 概括共产党人学习和运用马克思主义的基本方法。(1分)



32. (9分) 文明因交流而多彩, 文明因互鉴而丰富。

材料一 古代海陆丝绸之路将各地不同的文明联系在一起, 推动了欧亚地区文明的交流。

史实	结论
中国的丝绸、瓷器和茶叶, 中亚的马匹和药材, 西亚和东南亚的香料等流通于欧亚世界	① 之路
西亚的基督教聂斯托里派、琐罗亚斯德教、摩尼教、伊斯兰教, 以及② 的佛教等传到中亚、东亚和东南亚	宗教文化传播之路
西亚的冶铁、历法、医药等东传中国; 中国的造纸术、火药、指南针、③ 等“四大发明”向西传播	技术文化传播之路
中国北方的游牧民族向西迁至西亚、欧洲; 西亚的阿拉伯人、波斯人迁入中国, 形成现在的回族; 中国东南沿海汉人下南洋, 形成东南亚的华人社会。	④ 之路

(1) 将材料一表格填写完整。(4分)

材料二 16世纪新航路开辟后, 欧洲人凭借美洲白银和海上军力, 逐渐垄断了印度洋—太平洋贸易, 欧洲人成为全球海洋贸易的中间商。19世纪后欧洲进入工业资本主义时代, 通过侵略殖民将全世界纳入一个资本主义的生产体系。陆、海“丝路”上的文明古国沦为欧洲工业的原料产地和销售市场, 有的直接被殖民统治。一个以欧洲为塔尖的垂直世界体系取代了过去以各文明为中心的横向联系网络。

——摘编自许亮《从“丝绸之路”到“一带一路”——一部人类共同体的演进史》

(2) 依据材料二, 结合所学谈谈你对新航路开辟后, “一个以欧洲为塔尖的垂直世界体系取代了过去以各文明为中心的横向联系网络”这一观点的理解。(2分)

材料三 2019年5月15日亚洲文明对话大会在北京举行

亚洲文明对话大会期间的活动名称(部分)	相对应的活动主题
亚洲文明联展	A
北京亚洲美食节	“享亚洲美食 赏京城美景 品古都文化”
亚洲文化旅游展	“交流互鉴与共融发展”
亚洲影视周	B
亚洲文明巡游活动	“亚洲文明 世界共融”
亚洲文化嘉年华	“青春嘉年华 共圆亚洲梦”

(3) 将下列两个主题填写于表格相应位置(只填写序号, 1分)

① “发挥影视桥梁作用, 推进亚洲文明交流互鉴”

② “文明之源 美美与共——璀璨的亚洲文明”

A \_\_\_\_\_

B \_\_\_\_\_

(4) 某同学从亚洲文明对话大会所举行的各项活动中提炼出如下观点。请你运用所学的史实, 仿照示例说明这个观点。(抄写示例不得分, 2分)

观点	史实	说明
文明因交流而发展	【示例】张骞通西域	加强了汉朝同西域、中亚等地的交往, 形成了丝绸之路, 促进了东西方的经济文化交流。

33. (13分) 节日是人类生活的重要内容。

**材料一** 宋人改变了以往自给自节的节日消费习惯。杭都风俗,自初一至端午日,家家买桃、柳、石榴、蒲叶、艾草、时令水果等,像粽子这样的节日象征物也在市场上购买。北宋文学家宋庠描述了寒食节各种活动:酒市上弹奏管弦卖酒;陆地上斗鸡、踢球、吹箫;水面上竞船、击鼓、弹琵琶。热热闹闹,一派繁华景象。

在宋代民风民俗以及市民文化的影响和作用下,节日市场更强调好吃、好喝、好看和好玩,这为各类文化娱乐发展提供了依据和空间。原本仅用于军事上的纸鸢成为清明节的娱乐活动——放风筝,并由宫廷逐渐扩展至民间。

——摘编自张金花等《历史视阈下的经济与文化——宋代城镇节日市场探析》

(1) 依据材料一,对以下表述做出判断:直接从材料得出的,在括号内划“√”;违背材料所表达意思的,在括号内划“×”;材料没有涉及的,在括号内划“○”。(4分)

①宋代节日习惯、习俗与以往相比有所变化。( )

②宋人过节从市场购买饮食主要是因为宋代水陆交通便利。( )

③宋代的节日更加市场化,注重娱乐性。( )

④宋人在清明节放风筝是为了满足军事的需求。( )

**材料二** 近代以来,节日随着社会发展出现新的变化。晚清时期洋酒开始登上一些市民家宴的餐桌,成为款待宾朋和欢庆节日的饮品。维新派人士提倡移风易俗,贺年者始以西式名片投递,改变了以前烦琐的拜年礼仪;民国成立后,仿效西方设立新式纪念节日,如1月1日的民国成立日,3月29日的革命先烈纪念日,10月10日的国庆节等等;一些进步社会团体举行娱乐活动,如田径运动会、球类比赛,戏剧及各种新式游戏来欢庆端午佳节。各大城市都兴建了发电厂,安装上了电灯。电灯的安装,使元宵节的花灯进入“以电代烛时期”。

——摘编自《中国近代节日的演化及其特点》

(2) 与古代节日相比,近代中国节日发生了什么变化?(2分)

**材料三**

	
法国国庆日巴黎上空燃放烟花	美国国庆日美国民众街游表演
法国国庆日是7月14日。在国庆节,法国每年都举行大规模的阅兵仪式,晚上各城市多放焰火,庆祝节日。	美国国庆日(7月4日)又称独立日。这一天美国各地都举行盛大庆典和游行,举行娱乐、体育竞赛、放烟火礼炮等活动。

(3) 以上国家国庆日的设定与国家的重大事件有关。结合所学,任选以上一个国家,说明其设立国庆日的历史背景。(2分)





**材料四** 某校为迎接2019年的国庆节，举行“辉煌七十年，奋斗新时代”的主题征集活动。历史学习小组搜集了如下历史资料

- ① 1949年第一届中国人民政治协商会议在北平召开。
- ② 1953年中国开始实施第一个五年计划，集中力量发展重工业，加强基础设施建设。
- ③ 1954年中华人民共和国第一届全国人民代表大会在北京举行。
- ④ 1964年我国成功爆炸了独立研制的原子弹。
- ⑤ 1978年中国共产党十一届中央委员会第三次全体会议在北京举行。
- ⑥ 1990年上海浦东开发区设立。
- ⑦ 2003年我国自行研制的神舟五号载人飞船成功升空及返航。
- ⑧ 2017年中国共产党第十九次全国代表大会召开。
- ⑨ 2018年我国首艘国产航母离港海试。

(4) 请你结合材料，为他们提供主题活动的具体建议，推荐与具体建议相符的历史资料（只填写序号，序号可重复使用），仿照示例将表格内容补充完整。（抄写示例不得分，4分）

【示例】

具体建议	资料序号
辉煌七十年与 政治制度创新	①
	③

具体建议	资料序号
辉煌七十年与	④
	⑨

具体建议	资料序号
辉煌七十年与	

**材料五** 节日民俗具有历史传承性，但它在发展过程中会出现新的变化。比如，明代之前只有门神，春节贴春联的习俗在明代才出现。在当代，随着科技的发展，手机短信拜年、微信拜年等新的庆祝春节的方式应运而生。

——摘编自林慧《论全球化下中国传统节日的创新》

(5) 依据材料五，结合你过节的体验，谈谈你对“节日的创新”的看法。（1分）

34. (13分) 人口流动对社会产生深远影响

**材料一** 东汉末年以来，中原大乱<sup>①</sup>，当地人民被迫四出逃命。江东地区地广人稀，战乱较少，成为中原和江北人民出逃避乱的首选之区。西晋<sup>②</sup>永嘉年间，北方琅郡王司马睿率幽、冀、青、并、兖五州及徐州淮北流民过江，其中仅来自山东琅郡（今临沂）的移民就有1000多家。由此，魏晋南北朝时期出现了人口南迁的浪潮，改变了江南地区的经济状况<sup>③</sup>。

北宋末年，战乱再起<sup>④</sup>，随后是长达100多年的南宋与金<sup>⑤</sup>的南北对峙。这一重大的历史变动，又促成了一场人口大迁徙，此间大批汉人向南渡过淮河和长江，由此改变了南北方经济发展的格局<sup>⑥</sup>。

(1) 给资料作注释可以使资料的内容更清晰易懂。某同学在阅读上述资料时对资料进行了注释，请仿照完成其他注释。（3分）

注释：

① 黄巾起义爆发，曹操、袁绍借镇压黄巾军割据一方，北方陷入军阀混战。

② 指司马炎建立的政权。它结束三国鼎立局面，实现国家的短暂统一。

③ 江南地区经济得到开发，南北经济差距缩小。

④

⑤

⑥



## 材料二

18世纪中后期英国部分城市人口数据（单位：人）

	格拉斯哥	伯明翰	布里斯托	伦敦
1750年	24000	24000	50000	675000
1800年	77000	74000	60000	959000

(2) 依据材料二，指出18世纪中后期英国城市人口变化趋势。结合所学说明其原因。(3分)

**材料三** 1931年9月—1937年6月，大批不愿做亡国奴东北同胞，相率逃到关内（山海关以南的地区）……造成北京等地东北人口激增。被迫撤离家乡的东北军首领张学良在演讲时号召大家“吾人于此云雾惨淡之笼罩下，惟有本诸吾人全副之精神，血和力，坚毅果敢，排除万难，则必有拨开云雾之日……吾敢断言必能取得整个民族之复兴。”流亡关内的东北人士陆韶则说“我们这些流亡的人们，真的，用不着写什么纪念文章，可以说天天的饮食起居，都在做着纪念的文章。我们想到白山黑水，祖坟庐墓，处在敌人铁蹄之下，三千万父老同胞，过着牛马奴隶的生活，只要有血性的人，又谁能一时一刻把它忘掉？我常说任何人可以忘掉东北，惟其我们不能忘、不忍忘，才应该具有最大决心最大勇气，去完成收复故土复兴民族的大业。”

(3) 指出20世纪30年代初东北人流亡关内的原因。结合所学史实说明东北同胞在收复故土复兴民族大业中的具体表现。(3分)

**材料四** 深圳，是当代中国新兴的移民城市。它既是中国改革开放的最前沿，又是中西文化的汇集地和交流的“窗口”。深圳滨临大海，毗邻香港。截至2011年，深圳总人口1046万人，其中原住民只有30多万，人口的90%以上是来自外地的移民。移民们离开原来的居住地，来到新的环境中，必须改变原来的陈规陋习和落后的思想观念，不断开拓创新。20世纪90年代以后，深圳率先进行现代企业制度、公务员制度、基层民主制度等多项改革，推动了深圳的快速发展。移民大量涌入，形成移民文化的开放性、兼容性特征，孕育出深圳人勇于探索、敢为天下先、开拓创新的精神气质。

——摘编自刘志山、兰美荣《移民文化与深圳特区的发展》

(4) 依据材料四及所学，说一说为什么深圳能够成为移民城市？移民为深圳的发展带来了什么影响？(3分)

(5) 某学校历史研究小组就人口流动成因问题进行探讨，大家提出了人口流动“与战乱有关”“与经济发展有关”等观点，请你补充一个新观点。(1分)

