



# 房山区 2023—2024 学年度第一学期期末检测试卷

## 八年级历史

本试卷共 10 页，共 70 分，考试时长 70 分钟。考生务必将答案答在答题卡上，在试卷上作答无效。考试结束后，将答题卡交回，试卷自行保存。


### 第一部分 选择题（共 30 分）

本部分共 20 小题，每小题 1.5 分，共 30 分。在每小题列出的四个选项中，选出最符合题目要求的一项。

1. 福州新馆位于北京市西城区虎坊桥西北的骡马市大街，是林则徐和福建籍在京官员筹资购置的同乡会馆。2019 年北京市西城区完成福州新馆文物腾退修缮，将其辟为“全国禁毒宣传教育基地”。这是由于林则徐
- A. 编写《四库全书》  
B. 在东南沿海组织抗倭斗争  
C. 领导了虎门销烟  
D. 发起并开展了洋务运动
2. 下边图文材料佐证了

[法]维克多·雨果信件记载：“有一天，两个来自欧洲的强盗闯进了圆明园。一个强盗洗劫财物，另一个强盗放火……”

我希望有朝一日，解放了的干干净净的法兰西会把这份战利品归还给被掠夺的中国，那才是真正的物主。”

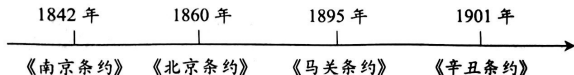


圆明园大水法遗址

- A. 第一次鸦片战争的失败  
B. 英法联军可耻的暴行  
C. 俄国侵占我国大片领土  
D. 北洋舰队的全军覆没
3. 某文献记载：“凡分田照人口，不论男妇，算其家口多寡，人多则分多，人寡则分寡，杂以九等……凡天下田，天下人同耕。”这一文献是
- A. 《天朝田亩制度》  
B. 《资政新篇》  
C. 《中华民国临时约法》  
D. 《新青年》



4. 下面示意图反映的主题是



- A. 近代中国人民反抗外来侵略的全过程
- B. 中国沦为半殖民地半封建社会的历程
- C. 中华民族探索现代化发展的曲折历程
- D. 中国民族工业艰难曲折的发展历程
5. 甲午中日战争的失败使得许多有识之士认识到,当时中国面临的最迫切的任务不是“自强”“求富”,而是“救亡”。此后资产阶级进行了两条路径的“救亡”探索,代表性的事件是

- A. 虎门销烟、金田起义                  B. 金田起义、洋务运动
- C. 洋务运动、百日维新                  D. 百日维新、辛亥革命

6. 对以下材料理解正确的是

- ①维新派在北京组织强学会,在上海创办《时务报》。
- ②戊戌变法作为一场政治运动失败了,但作为一场思想文化运动,其作用远不是政变所能剿洗干净。

- A. ①属于历史结论                          B. ①说明戊戌变法废除了旧制度
- C. ②属于历史史实                          D. ②肯定了戊戌变法的历史作用

7. 以下内容是一位历史人物的部分经历,他是

时间	1894年	1905年	1912年	1913年
事件	成立兴中会	成立中国同盟会	就任中华民国临时大总统	发动“二次革命”

- A. 洪秀全                  B. 梁启超                  C. 章炳麟                  D. 孙中山
8. 吴玉章说:“从前皇帝自称天子,如果有人说皇帝是强盗,可以打倒,别人一定把他看作疯子。……在辛亥革命后,如果有人想做皇帝或者拥护别人做皇帝,一定也被看作是疯子。”他意在说明辛亥革命
- A. 打击了帝国主义的侵略势力                  B. 为民族资本主义的发展创造了条件
- C. 推动了中华民族的思想解放                  D. 使中国真正成为了独立自主的国家

9. 有同学围绕以下历史人物制作了一张手抄报。这张手抄报的主题应该是



- A. 洋务运动      B. 戊戌变法      C. 辛亥革命      D. 新文化运动

10. 有历史学家称赞五四运动为“中国近现代史上第一次真正的群众运动”。以下关于五四运动的史实中，最能体现“群众运动”这一特点的是

- A. 提出了“外争主权，内除国贼”的口号  
B. 广泛开展了学生罢课、工人罢工、商人罢市的斗争  
C. 后期运动的中心由北京转移到了上海  
D. 中国代表拒绝在“巴黎和约”上签字

11. 《毛泽东选集》中写道：“由于两党在一定纲领上的合作，发动了一九二四年至一九二七年的革命”。能体现材料中“合作”的重大事件是

- A. 鸦片战争      B. 二次革命      C. 五四运动      D. 北伐战争

12. 右侧是教材某单元中的三课内容。这一单元的学习主题是

- A. 近代化的早期探索与民族危机的加剧  
B. 新民主主义革命的开始  
C. 从国共合作到国共对立  
D. 中华民族的抗日战争

第 15 课 国共合作与北伐战争  
第 16 课 毛泽东开辟井冈山道路  
第 17 课 中国工农红军长征

13. 1923 年 6 月中共三大召开时，中国共产党只有党员 420 人，1925 年 1 月中共四大召开时党员人数发展到 994 人，到 1927 年 4 月，党员人数已达到近 6 万人，并培养出大批骨干人才。工农运动在南方各省蓬勃发展，各地的农民协会和工会纷纷成立。

以上历史现象出现的原因是

- ①革命统一战线的建立      ②北伐的胜利进军  
③中国共产党深入工农群众      ④抗日根据地巩固
- A. ①②③      B. ①②④      C. ②③④      D. ①③④



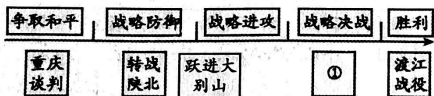
14. 阅读下表, 指出北京大学校名及办学地点变化的原因是

时间	学校名称	地点
1912年	北京大学	北平
1937年	临时大学(北京大学与清华大学、南开大学共同组成)	长沙
1938年	西南联大	昆明
1946年	北京大学	北平

- A. 清帝退位      B. 军阀割据      C. 国共对立      D. 日本侵略
15. 下列两则史料共同印证了

<p>日军“杀人比赛”的新闻报道</p>	<p>东京国际军事法庭对甲级战犯的判决书中写道：“这种暗无天日的犯罪是从一九三七年十二月十三日占领南京市开始的，迨至一九三八年二月初还没有停止。”</p>
----------------------	---

- A. 国民党军队遭遇严重溃败      B. 中华民族坚持局部抗战
- C. 日军在中国犯下滔天罪行      D. 国共两党合作共同抗战
16. 以下是人民解放战争进程示意图, ①处应该填写



- A. 孟良崮战役      B. 展开运动战      C. 三大战役      D. 开展土地革命
17. 下表是某同学的笔记, 该笔记归纳的是人民解放战争

政治	团结一切可以团结的力量
经济	解放区土地改革
军事	战略正确, 作战英勇
民心	争取民主, 人心所向

- A. 爆发的时代背景      B. 取得胜利的原因
- C. 主要的历史进程      D. 取得胜利的影响



姓名

班级

学校

密封线内不能答题

18. 竹枝词是一种以吟咏社会风土人情为主的文学体裁。20 世纪初电车刚进入北京时，有竹枝词写道：“电车初试人都怕，说是将来肇祸多。”后来，有人赞叹：“人坐（电）车中称稳便，儿童指点陆行舟。”这说明
- A. 人们对新式交通工具由排斥到认可      B. 沿海地区更易感受到社会生活变化  
C. 居民对电车破坏自然环境强烈不满      D. 中国近代民族工业在夹缝中求生存
19. 下表是同学整理的中国近代教育事业发展的部分史实。据此可以得出的认识是

洋务运动期间	兴办京师同文馆、福州船政学堂
甲午战争后	在天津创办北洋西学堂（北洋大学堂）、在上海创办南洋公学
百日维新期间	创办京师大学堂
八国联军侵华后	1902 年废除八股文、1905 年停止科举制、颁布各级学堂章程

- A. 近代教育的发展既受时局的影响又得益于不断的探索  
B. 近代教育事业的发展过程中女子获得了受教育的权利  
C. 列强通过不平等条约强迫中国废除了传统教育和学制  
D. 兴西学、废八股文和科举制，不利于近代人才的培养
20. 右表中文艺作品的共同历史背景是

- A. 打倒列强，除军阀  
B. 红军不怕远征难  
C. 众志成城抗日寇  
D. 百万雄师过大江

作者	代表作品
聂耳	《义勇军进行曲》
冼星海	《黄河大合唱》
徐悲鸿	《愚公移山》

## 第二部分 综合题（40 分）

21. 近代中国的铁路建设（16 分）

材料一

1876 年李鸿章派唐廷枢筹办开平煤矿，为解决煤炭运输困难，唐廷枢提议修筑唐山至胥各庄的铁路，得到李鸿章的大力支持，获得朝廷允准。1882 年唐胥铁路建成通车，促进了开平煤矿的开发，一定程度上减少了洋煤的进口，同时也保证了北洋海军的燃煤供应。

——摘编自李占才《近代中国铁路发展特色》

- (1) 依据材料一并结合所学，指出唐胥铁路修建的历史背景。(2分) 说出唐胥铁路在当时所发挥的作用。(2分)



## 材料二

1895年甲午战败，给清政府以极大刺激。清政府决定“力行实政”，并将修筑铁路作为“实政”首策。1905年，清政府决定自主修建京张铁路，由詹天佑担任总工程师。他是中国派遣的第一批留学生，留学期间勤奋学习，并以优异成绩从美国耶鲁大学铁路专修科毕业。他为了打破外国人的技术垄断，从勘探、设计到施工都亲自参与，大胆创新，克服困难，使工程提前竣工。



詹天佑自主设计的“人”字形  
轨道上下车同行场景

——摘编自龚云《铁路史话》

- (2) 依据材料二并结合所学，从个人与社会的角度分析詹天佑主持建成京张铁路的原因。(2分) 结合詹天佑的事迹谈谈他身上体现出的精神。(2分)

## 材料三

1912年孙中山主张铺设铁路干线连接全国，通过铁路使各地人员、物资密切交流，推动经济发展的同时，消除各地区、民族间的隔阂与冲突，增强民族意识，促进国家统一。他还组建了铁路总公司，力图推进全国性铁路建设。1913年袁世凯的北洋政府以二次革命为由，撤消了中国铁路总公司，后来军阀混战，大量铁路遭到破坏，筑路款也被改做军费。

——摘编自马陵合《从救国至治国：国家视野下的近代中国铁路功能演化》

- (3) 依据材料三并结合所学，说出孙中山提出在全国建设铁路的目的。(2分) 说出孙中山的铁路建设计划未能实现的原因。(2分)

材料四

1927—1945年中国铁路建设情况（部分）


①	1927—1931年	南京国民政府成立铁道部，制定铁路建设计划，后因资金缺乏和国共内战而未能实施。
②	1932—1936年	南京国民政府颁布《铁道法》，制定“国防交通建设计划”，计划修筑 8000 余公里的铁路网，用于战时军队和军用物资的调运，加快军事运输体系建设，后因战争大多未能实施。
③	1937—1945年	华北、华东、华中地区铁路遭到日军大肆破坏，但西南、西北大后方相继修建了湘桂、黔桂、滇缅、川滇等若干条铁路。

——整理自杨勇刚《中国近代铁路史》

- (4) 依据材料四并结合所学，概括 1927—1945 年中国铁路建设中所遇到的困难。(2 分) 谈谈你的认识。(2 分)

22. 革命实践铸就革命精神 (12 分)

材料一

	<p>“红船，见证了中国历史上开天辟地的大事变，成为中国革命源头的象征。</p> <p>红船所代表和昭示的是时代高度，是发展方向，是奋进明灯，是铸就在中华儿女心中的永不褪色的精神丰碑。”</p> <p>——习近平《弘扬“红船精神”，走在时代前列》</p>
---	---

- (1) 说出材料一所反映的历史事件。(1 分) 依据材料并结合所学，说出该事件的历史意义。(2 分)



## 材料二

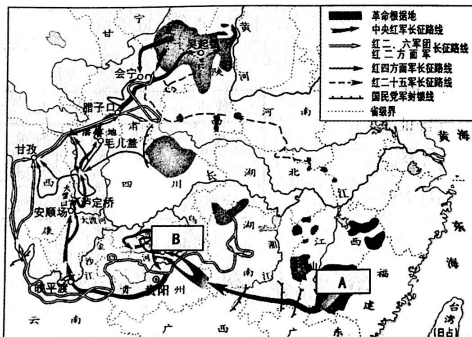
有人将井冈山革命“道路”的产生和发展壮大归纳为三大阶段，其三大阶段分别为：

	阶段特征	相关史事
第一阶段	“寻路阶段”——武装反抗攻城市	A _____ (填序号)
第二阶段	“开路阶段”——革命摇篮井冈山	B _____ (填序号)
第三阶段	“守路阶段”——武装割据燃星火	C _____ (填序号)

- ①井冈山会师    ②南昌起义    ③毛泽东开辟井冈山革命根据地  
④打土豪分田地    ⑤秋收起义    ⑥在根据地开展游击战争

(2) 将①②③④⑤⑥的史实，填写进材料二表格的相应位置。(3分) 依据材料二并结合所学，说说你对井冈山道路的理解。(2分)

## 材料三



中国工农红军长征路线示意图

(3) 《中国工农红军长征路线示意图》中，长征出发地点在 A；长征途中召开的 B 会议，成为中国共产党历史上一个生死攸关的转折点。请写出 A、B 处的地名。(2分)

A: \_\_\_\_\_ B: \_\_\_\_\_





#### 材料四

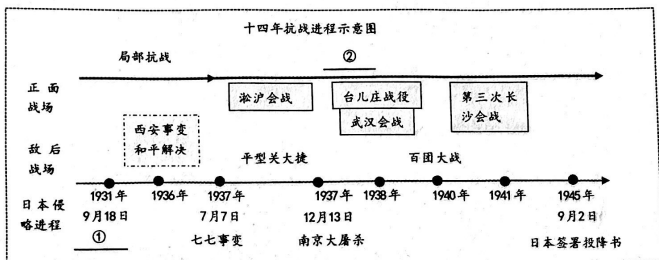
中国共产党自一九二一年成立以来，始终把为中国人民谋幸福、为中华民族谋复兴作为自己的初心使命，始终坚持共产主义理想和社会主义信念，团结带领全国各族人民为争取民族独立、人民解放和实现国家富强、人民幸福而不懈奋斗……

——《中共中央关于党的百年奋斗重大成就和历史经验的决议》

(4) 依据材料四并结合所学，谈谈中国共产党“红色精神”的共同内涵。(2分)

### 23. 中华民族的抗日战争是一场伟大的民族解放战争(12分)

#### 材料一



(1) 结合所学，将材料一中的抗战进程示意图补充完整。(2分)

① \_\_\_\_\_ ② \_\_\_\_\_

#### 材料二

##### 中国共产党抗日大事记

- ① 1935年8月，瓦窑堡会议确定了建立抗日民族统一战线的方针
- ② 1936年12月，中国共产党促成西安事变和平解决，抗日民族统一战线初步形成
- ③ 1938年，毛泽东发表《论持久战》，阐明中国共产党抗日持久战战略总方针
- ④ 1940年下半年，彭德怀指挥百团大战，对日军进行大规模进攻
- ⑤ 1941年9月，晋察冀军区五位战士为掩护群众和主力撤退，在狼牙山与日军血战
- ⑥ 1945年4月到6月，中国共产党召开第七次全国代表大会，明确在中国共产党的领导下，打败侵略者，解放全国人民，建立一个新民主主义的中国



(2)用材料二中的史实说明以下观点(3分,填序号,多选、少选、错选均不得分)。

结合所学,说出抗日战争胜利的决定性因素。(1分)

中国共产党以正确的战略指引抗战: \_\_\_\_\_

中国共产党高举抗日民族统一战线的旗帜: \_\_\_\_\_

中国共产党勇敢战斗: \_\_\_\_\_

### 材料三

中国抗战在世界反法西斯战场上的地位

年份	日军师团数量	侵华师团数量	占比	假如没有中国,假如中国被打垮了,你想想有多少个师团的日本兵,可以调到其他方面来作战,他们可以马上打下澳洲,打下印度……他们可以毫不费力地打下来,他们并且可以一直冲向中东。 ——罗斯福
1937年	24	21	88%	
1938年	34	32	94%	
1939年	41	34	83%	
1941年太平洋战争爆发后	51	34师团以及44个独立旅、混成旅	80%以上	

(3)依据材料三,指出中国抗战在世界反法西斯战争中作出的贡献。(2分)

### 材料四

抗日战争使近百年饱受分裂之苦的中国重新统一起来了,增强了国民对国家认同的程度和对政府的监督程度,……从而成为中华民族复兴的重要枢纽。

——杨奎松《抗战燃起中国现代国家梦想》

(4)综合上述材料并结合所学,分析中国人民抗日战争胜利的历史意义。(4分)