

密云区 2018—2019 学年度第一学期期末考试

九年级道德与法治试卷 2019.1



考 生 须 知	<ol style="list-style-type: none">1. 本试卷共 8 页，共两部分，26 道小题。满分 90 分。考试时间 90 分钟。2. 在试卷和答题纸上准确填写姓名、班级和学校。3. 试题答案一律书写在答题纸上，在试卷上作答无效。4. 在答题纸上，试题用黑色字迹签字笔作答。5. 考试结束，将本试卷和答题纸一并交回。
------------------	--

第一部分（选择题 共 40 分）

本部分共 20 小题，每小题 2 分，共 40 分。在每小题列出的四个选项中，选出最符合题目要求的一项。

1. 2018 年 11 月 5 日至 10 日，首届中国国际_____在国家会展中心（上海）举行，这是全球首个以进口为主题的博览会。
A. 环境保护大会
B. 出口博览会
C. 进口博览会
D. 科技创新大会
2. 中央纪委国家监委网站消息，河南省政协原副主席靳绥东涉嫌严重违纪违法，目前正接受中央纪委国家监委纪律审查和监察调查。这体现了
A. 法律是由国家制定或认可的社会规范
B. 法律是靠国家强制力保证实施的
C. 法律的目的不在于惩罚，而在于保障
D. 法律对全体社会成员具有普遍的约束力
3. 联合国确定 2018 年“世界水日”的宣传主题是“Nature for water”（借自然之力，护绿水青山）。对此理解正确的是
A. 地球控制在人类手中，由人类摆布
B. 人类不合理地开发利用自然资源破坏了环境
C. 唤起公众的节水意识，加强水资源保护
D. 世界水资源储量丰富
4. 右面漫画《人口膨胀》主要说明了人口过多会
①促进经济发展
②制约人民生活水平的提高
③对生态环境造成巨大压力
④加剧资源紧张的形势
A. ①②③
B. ②③④
C. ①③④
D. ①②④
5. 习近平于 11 月 13 日前往国家博物馆，参观“伟大的变革——庆祝改革开放 40 周年大型展览”。他强调，改革开放 40 年来，在中国共产党坚强领导下，中国人民艰苦奋斗、顽强拼搏，用双手书写了国家和民族发展的壮丽史诗，中华大地发生了感天动地的伟大变革。对此，认识正确的是





- A. 小吴：改革开放成果是由人民发挥艰苦奋斗精神取得的，应由人民共享
B. 小李：改革开放的成果是在中国共产党的领导下取得的，与其他党派无关
C. 小何：我国要坚持改革开放的基本国策，因为国外的科学技术都比我国先进
D. 小王：改革开放能有今天的成果，完全是靠人民的艰苦奋斗，不需要有人领导
6. 9月26日中共中央、国务院印发《乡村振兴战略规划（2018—2022年）》。从党的十九大到二十大，是“两个一百年”奋斗目标的历史交汇期，既要实现第一个百年奋斗目标，又要乘势而上向第二个百年奋斗目标进军。我国两个百年目标分别指的是
- A. 基本实现总体小康和基本建成社会主义现代化强国
B. 总体上实现小康和建成社会主义现代化强国
C. 全面建成小康社会和建成社会主义现代化强国
D. 全面建成小康社会和基本实现社会主义现代化
7. 10月1日上午，我国自主研制的大型水陆两栖飞机AG600在湖北完成了首次水上高速滑行。它可以在2米海浪等复杂气象条件下作业，一次性救助50名海上遇险人员。这充分说明
- A. 承担责任必然会获得回报
B. 我国正实施人才强国战略
C. 公民的智力成果受到法律保护
D. 科学技术是第一生产力
8. 李克强总理就电影《我不是药神》引发舆论热议做出批示，要求有关部门加快落实抗癌药降价保供等相关措施。“癌症等重病患者关于进口‘救命药’买不起、拖不起、买不到等诉求，突出反映了推进解决药品降价保供问题的紧迫性。”批示指出，“国务院常务会确定的相关措施要抓紧落实，能加快的要尽可能加快”。这体现
- ①中国共产党的宗旨是为人民服务
②政府的工作目标是关注民生、重视民生、保障民生、改善民生
③政府全心全意为人民服务
④政府是行政机关
- A. ②③
B. ①④
C. ①③
D. ①②
9. 大型纪录片《辉煌中国》提供了一组信息：中国沙化土地年均缩减1980平方公里，联合国环境规划署盛赞中国是全球沙漠治理的典范；东海伏季休渔，“东海无鱼”的困境已经不复存在；京津冀地区五年来PM2.5浓度下降了33%，特别是北京，蓝天白云正渐渐成为常态。成绩取得的原因在于
- ①人们的环境保护意识增强
②坚持了保护环境的基本国策
③经济发展带来的必然结果
④践行了绿水青山就是金山银山的理念
- A. ①②③
B. ①②④
C. ①③④
D. ②③④
10. 《银龄讲学计划实施方案》计划从2018年到2020年招募万名优秀退休校长、教研员、特级教师、高级教师等到农村义务教育学校讲学。这一计划
- ①有利于促进城乡义务教育均衡发展
②有利于促进教育公平
③坚持把教育放在优先发展的战略位置
④主要源于教育是引领发展的第一动力
- A. ③④
B. ①②
C. ②③
D. ①③
11. 某社区老年人较多，但没有老年人文化和娱乐活动场所，这一问题引起了媒体的关注。该社区的几名中学生联名向社区居委会提交了一份“建立老年人活动站”的建议书。同学们是通过_____的方式参与政治生活。
- A. 民主监督
B. 民主决策
C. 民主管理
D. 民主选举
12. 给下列一组图片选出最合适的主题



上网用宽带的



电视看数字的



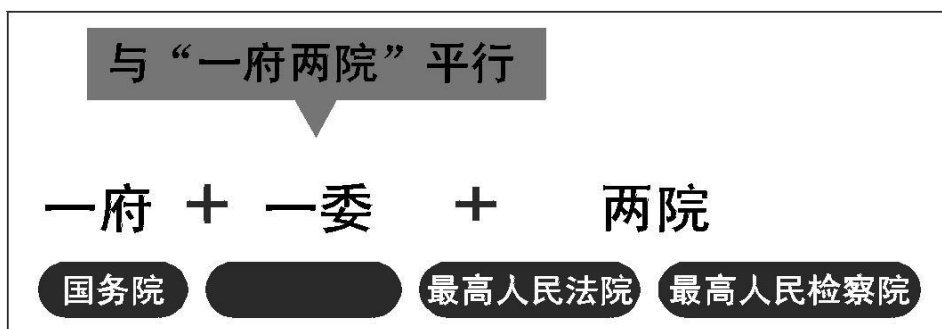
手机用拍照的



出门开节能的

- A. 环保和节能的意识已经深入人心
- B. 国际互联网的发展速度令人不可思议
- C. 数字化模拟技术和通讯手段的飞速发展
- D. 科技改变人们的思想观念和生活方式

13. 2018年3月5日至3月20日，第十三届全国人民代表大会第一次会议在北京召开。会议表决通过的《中华人民共和国宪法修正案》，在“国家机构”一章中明确了一个新增国家机关的宪法地位（见下图）。这个国家机关（“一委”）是



- A. 国家监察委员会
- B. 国家卫生健康委员会
- C. 国家发展和改革委员会
- D. 国家民族事务委员会

14. 2018年10月3日，经税务部门查处，范冰冰需补缴税款、滞纳金及罚款共超过8亿。范冰冰称：“对违法深感痛苦、羞愧，会尽全力克服困难，筹措资金缴税款和罚款。”从中可以吸取的教训有

- ①每个公民都应该自觉承担依法纳税的义务
 - ②偷税的行为是违法的，需要承担法律责任
 - ③任何偷税行为，都只需要受到舆论的谴责
 - ④虽然偷税是违法行为，但只要补交就没事
- A. ②③ B. ③④ C. ①② D. ②④

15. 2018年6月崔永元爆出娱乐圈“阴阳合同”偷税问题，10月10日崔永元又“发帖举报上海公安民警涉嫌违法违纪。崔永元实名举报违法犯罪行为，无论其目的是何，但勇气可嘉，广大群众都把他看成了正义的化身。这体现了人们对_____的追求。

- A. 公平正义
- B. 自由平等
- C. 诚实守信
- D. 传统美德



16. 下列属于公民依法享受文化权利的是

- A. 依法获得养老金
- B. 参加“书香能源城”主题活动, 阅读红色经典
- C. 积极参与电价调整听证会
- D. 依法服兵役和参加民兵组织

17. 右侧漫画说明法治与自由的关系。下列关于法治与自由的关系, 正确的是

- ①自由是相对的
- ②法治是自由的保障
- ③法治标定了自由的界限, 自由的实现不能触碰法律的红线
- ④法治既规范自由又保障自由

- A. ①②③
- B. ①②④
- C. ①③④
- D. ②③④



18. 2018年8月31日下午, 关于修改个人所得税法的决定经十三届全国人大常委会第五次会议表决通过。这是全国人大常委会在行使

- A. 任免权
- B. 监督权
- C. 立法权
- D. 决定权

19. 2018年双十一网购数据再次刷新纪录, 天猫单日成交额首次突破2000亿元, 京东本月累计下单额1598亿元, 苏宁易购销售同比增长132%。很多消费者热衷网购, 只要是“名牌”, 便信手“点”来, 花费不菲, 但是买了没有用的商品, 造成浪费。上述材料给我们的启示有

- ①随着经济不断发展, 人们的消费水平不断提高
- ②非公有制经济是社会主义市场经济的重要组成部分
- ③非公有制经济对加快我国经济发展具有重要作用
- ④随着物质生活水平不断提高, 我们的消费不再需要节俭

- A. ①②③
- B. ②③④
- C. ①③④
- D. ①②④

20. 某校为增强学生宪法意识, 组织开展宪法晨读活动。

右图是宪法晨读卡的部分内容, 该内容说明宪法

- ①有最高的法律效力
- ②要求公民积极行使监督权
- ③规定了国家机关的组织与职权
- ④是一切组织最根本的活动准则

- A. ①②
- B. ①④
- C. ②③
- D. ③④

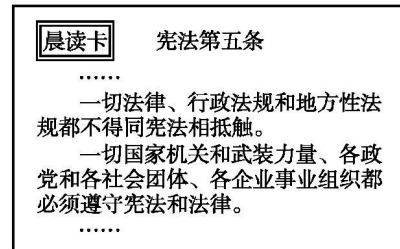
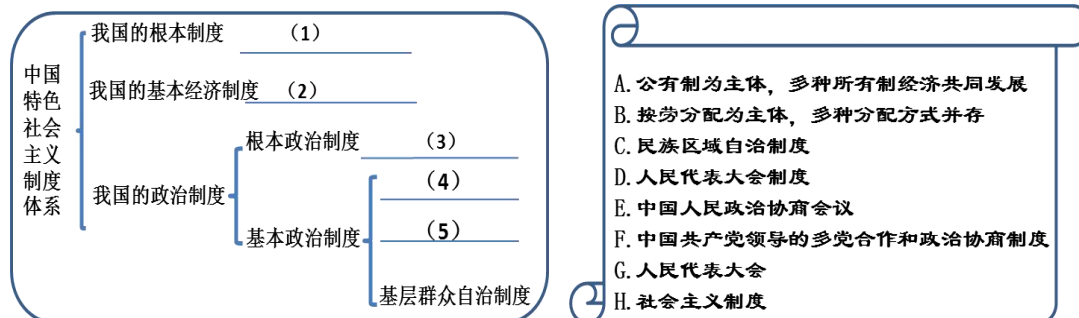


图 宪法晨读卡

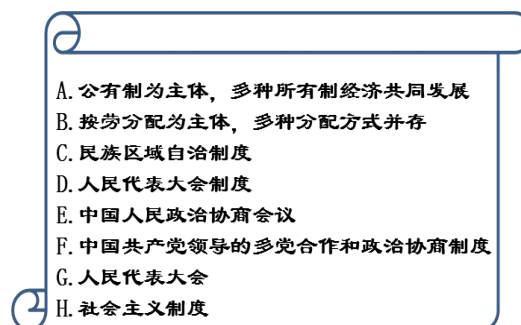


第二部分 (非选择题 共 50 分)

21. (5 分) 请把图一补充完整。



图一



图二

在图二的内容中选取相应序号填写在图一相应的位置。(只写序号)

(1) _____ (2) _____ (3) _____ (4) _____ (5) _____

22. (6 分) 【社会观察】

2018 年 7 月 23 日，广西巴马瑶族自治县人民法院巡回法庭对所略乡 4 起拒不送子女入学的案件进行公开审理，当地干部群众 200 多人到场旁听。据悉，这 4 户家庭的子女原就读于所略中学，但因各种原因未完成义务教育便辍学回家务工。所略乡人民政府十分重视，先后指派工作人员多次入户劝学生回校，但上述被告均置之不理，于是该乡人民政府向县人民法院依法提起诉讼。对此事件村民议论纷纷：



村民甲

所略乡人民政府是在多管闲事

家长不送子女读书是家庭私事，与政府何干？



村民乙

【法律链接】



《中华人民共和国义务教育法》第一章
 第五条 各级人民政府及其有关部门应当履行本法规定的各项职责，保障适龄儿童、少年接受义务教育的权利。
 适龄儿童、少年的父母或者其他法定监护人应当依法保证其按时入学接受并完成义务教育

结合村民的观点和法律链接，运用所学知识谈谈你的看法。(6 分)



23. (8分)【明辨是非】

乘客乘坐高铁或火车，强占他人座位究竟是法律问题还是道德问题，一直受社会关注和争议。

【事件回放】2018年8月21日，在从济南西站开往北京的G334次高速动车组列车上，一男子霸占别人的座位还对前来劝阻的乘务员各种胡搅蛮缠，视频发到网上后，引起了全国人民的愤慨。从而被人称为霸座哥。

【依法整治】

针对近期社会关注的乘客“霸座”事件，铁路公安部门已对事件调查、取证完结。济南铁路公安处依据《治安管理处罚法》第二十三条一款三项之规定，给予孙某(霸座哥)治安罚款200元的处罚。

.....

【法律链接】

《中华人民共和国治安管理处罚法》第二十三条 有下列行为之一的，处警告或者二百元以下罚款；情节较重的，处五日以上十日以下拘留，可以并处五百元以下罚款：

.....

(三) 扰乱公共汽车、电车、火车、船舶、航空器或者其他公共交通工具上的秩序的；

.....




(1) “霸座哥”的行为属于什么违法行为？判断的依据是什么？(2分)

(2) 结合上述材料，请从法治的角度，谈谈应如何维护公共秩序，营造正能量的社会风气？(6分)

24. (8分)【观影谈感受】

由中共中央宣传部、中央广播电视总台联合制作的大型电视纪录片《我们一起走过——致敬改革开放40周年》。该片以改革开放40年取得的历史性成就和发生的历史性变革为基础，选取我国经济社会各个领域的发展变迁故事，呈现40年来中国改革开放的宏伟实践。该片一经播放就引起网友的热议：



<p>网友甲  我是一个赋闲在家的人 👍 223</p> <p>四十年的改革开放，创出了具有中国特色的创新之路，今昔对比，变化确实巨大，人民幸福感不断提高，中国在国际上的地位越来越高，我们的朋友遍天下，四十年的巨变证明，没有共产党就没有新中国，中国共产党万岁！</p> <p>12-03 17:56 · 2回复</p>	<p>网友乙  cs1272 👍 81</p> <p>致敬改革开放40周年！伟大的变革，伟大的时代，翻天覆地，人民生活甜如蜜，青山绿水，伟大的祖国多么美丽！</p> <p>12-03 19:30 · 1回复</p>
<p>网友丙  12116 关注</p> <p>四十年前开始的改革开放，深刻而全面地开启了中华民族的现代化进程，尽管困难重重，险阻不断，但发展和改变使我们远离了贫困落后。感谢小平，感谢与时俱进的党，感谢全国人民的奋斗！不折腾，不后退，不停步，祖国会更好！</p>	<p>跟帖</p> <p style="text-align: center;">(2)</p>

(1) 针对网友乙的观点，请你举两例。(2分)

(2) 依据网友的观点，运用所学知识请从中国40年取得辉煌成就的原因和结果两方面进行跟贴。(6分)

25. (10分)【美好家园有我在】

材料一：小清家坐落在一条小河旁。以前，小河清澈见底，人们常在河里捕鱼捉虾，洗衣洗菜。后来，河水渐渐变得浑浊起来，鱼虾不见了踪影，人们也不就在河里洗衣洗菜了。原来，在小河的上游建了一家造纸厂，厂里的污水违规排放直接进入河里。河水被严重污染了。村民王婶、造纸厂厂长、小清父亲有不同的看法：



(1) 请从上述观点中任选一个，运用所学知识予以评析。(4分)



小清准备把村里“河水被严重污染”的情况向有关部门反映，但他不知该如何反映。

(2) 你建议他通过什么渠道反映情况？(2分)

(3) 小清向有关部门反映情况是在行使公民的什么权利？公民行使这一权利应该注意哪些问题？(4分)

26. (13分)【厉害了，我的国】

材料一：2018年10月24日，举世瞩目的(1)正式通车。此桥集桥、岛、隧道于一体，为世界首创。它是世界总体跨度最长、钢结构桥体最长、海底沉管隧道最长的跨海大桥，也是公路建设史上技术最复杂、施工难度最高、工程规模最庞大的桥梁，此桥建成之后，创造了新的400多项专利。创造了一系列“世界之最”，可谓名副其实的超级工程。



(1) 此桥为_____ (2分)

- A. 重庆朝天门大桥
- B. 长江复线大桥
- C. 胶州湾跨海大桥
- D. 港珠澳大桥

(2) 材料一中划线的句子说明了什么？其成功背后的具体原因有哪些？(6分)

【加油吧，我的国】

材料二：飞跃在伶仃洋万顷碧波之上的(1)大桥，在我国桥梁的“百万军中”“可堪翘楚，因为它填补了诸多中国乃至世界空白，很多技术都远超世界级水平，被业界誉为桥梁界的“珠穆朗玛峰”。党的十八大以来，从天眼探空、神舟飞天，到蛟龙探海、墨子传信，从高铁奔驰、北斗组网，到超算发威、大飞机首飞……我们一路向前，不断书写新篇。

(3) 我国的高新技术从无到有，从“跟跑”到“并跑”到“领跑”，科技领域实现了一次次跨越式发展，所以有人说：我国已经是科技强国。你认同这一观点吗？请说明理由。(5分)