



2022 北京东城初三二模

历史

2022 6


考生须知

1. 本试卷共 12 页，24 道小题，满分 70 分。考试时间为 70 分钟。
2. 在试卷和答题卡上准确填写学校、班级、姓名和教育 ID 号。
3. 试题答案一律填涂或书写在答题卡上，在试卷上作答无效。
4. 在答题卡上，选择题用 2B 铅笔作答，其他试题用黑色字迹签字笔作答。
5. 考试结束后，将本试卷、答案卡和草稿纸一并交回。

第一部分 选择题（共 30 分）

本部分共 20 小题，每小题 1.5 分，共 30 分。在每小题列出的四个选项中，选出最符合题目要求的一项。

1. 大克鼎是西周贵族膳夫克祭祀祖父的器物。以下有关大克鼎的信息中，对于研究我国文字发展历史具有参考价值的是（ ）

 <p>大克鼎 (现藏上海博物馆)</p>	①材质：青铜
	②形制：圆腹三足两耳
	③纹饰：波曲纹、饕餮纹和龙纹
	④铭文：腹内铸有两段铭文，共 290 字

- A. ①② B. ①③ C. ②③ D. ①④

2. 春秋时期农业生产水平提高的重要标志是（ ）

- A. 对火的使用和保存 B. 稻、粟和黍的栽培
C. 干栏式建筑的建造 D. 铁农具和牛耕出现

3. 《说文系传》中记述：“诸侯力政，不统于王。恶礼乐之害己，而皆去其典籍，分为七国，田畴异亩，车涂异轨，律令异法，衣冠异制，言语异声，文字异形。”以上材料可用于研究（ ）

- A. 百家争鸣对后世的影响 B. 秦王嬴政灭六国的经过
C. 秦巩固统一措施的背景 D. 汉武帝“推恩”的结果

4. 以下两张邮票所纪念的历史事件的共同作用是（ ）



《凿空西域》

《西行求法》

- A. 开辟了沟通欧亚的丝绸之路
- B. 推动西域正式归属中央政权
- C. 为中日文化交流做出了贡献
- D. 有助于了解西域的具体情况

5. 以下引文能够反映经济重心南移这一历史现象的是（ ）

- ①“伐无道，诛暴秦”
- ②“楚越之地，地广人希（稀）”
- ③“苏湖熟，天下足”
- ④“国家根本，仰给东南”

- A. ①②
- B. ③④
- C. ②④
- D. ①③

6. 在史籍中有这样一段记载：“（此物）发作，声如雷震，热力达半亩之上，人与牛皮皆碎进无迹，甲铁皆透。”其记载的是（ ）

- A. 筒车
- B. 曲辕犁
- C. 火药
- D. 指南针

7. 以下是某一专题知识示意图，图中①处应填的是（ ）



- A. 行书书法形成
- B. 瓦子出现
- C. 小说开始流行
- D. 京剧诞生

8. 一位同学在实践中作业《发现身边的历史》中写道，“它忍受着被迫允许外国公使进驻北京的无奈；它也背负着被划定为使馆界，不准中国人居住的耻辱。”材料中的“它”应是（ ）

- A. 圆明园
- B. 东交民巷
- C. 威海卫
- D. 大沽炮台

9. 1896年，梁启超在其所著的《西学书目表》中指出，当时中国翻译西方的兵书、医书、格致（物理、化学等自然科学）书较多，西方的社会政治理论书籍则“译者寥寥”。他认为涉及“官制学制农政诸门”的西书才是学习西方的“本原所在”，应当多加翻译。这反映出梁启超（ ）

- A. 注重引进外国器物
- B. 希望谋求制度变革
- C. 呼吁投身实业救国
- D. 要求推翻清朝统治

10. 1919年，陈独秀听到中国外交失败消息时，愤然断言美国总统威尔逊提出的和谈原则“成了一文不值的空话”，和会实现不了公理与和平。这场“中国外交失败”直接引发了（ ）

- A. 太平天国运动
- B. 义和团运动
- C. 五四运动
- D. 北伐战争

11. 对下图反映的历史事件，理解正确的是（ ）



北京中考
 解放军进攻方向
 解放军歼灭国民党军地域
 国民党军增援方向
 国民党军起义、投诚地区



北京中考在线
 微信号: BJ_zkao



- A. 提高了共产党和八路军的威望
- B. 揭开了解放军战略反攻的序幕
- C. 国民党军队的主力基本被消灭
- D. 国民党在大陆的统治宣告结束

12. 1957年国庆节，列队整齐的歼-5型飞机飞越天安门，接受检阅。毛泽东主席在天安门城楼上高兴地对外宾说：“我们自己制造的飞机飞过去了！”材料中“自己制造的飞机”应属于（ ）

- A. 土地改革的成就
- B. 农业合作化成果
- C. 公私合营的成果
- D. “一五”计划成就

13. 下表①和②处应填写（ ）

<p>1960年，①_____率领钻井队到大庆参加石油大会战。当井喷险情发生时，他不顾腿伤跳进泥浆池，用身体搅拌泥浆，制服了井喷，被誉为“铁人”。</p>	<p>1962年，②_____任河南兰考县委书记。为了改变当地的落后面貌，虽然身患癌症，仍顽强工作，与内涝、风沙、盐碱作斗争，被人民称颂为“党的好干部”。</p>
---	---

- A. ①王进喜 ②焦裕禄
- B. ①焦裕禄 ②雷锋
- C. ①王进喜 ②邓稼先
- D. ①邓稼先 ②雷锋

14. 将同一年代发生的重要历史事件进行专题整理是学习历史的方法之一。以下“1992年大事记”专题知识卡片中①和②处应填写（ ）

<p>..... ·①_____，推动改革开放和社会主义现代化建设进入新阶段</p>



北京中共十四大，提出必须用邓小平建设有中国特色社会主义理论武装全党

②_____，海峡两岸关系的发展迈出了历史性的重要一步

- A. ①南方谈话 ②“九二共识”
 B. ①“九二共识” ②澳门回归祖国
 C. ①南方谈话 ②香港回归祖国
 D. ①香港回归祖国 ②澳门回归祖国

15. 2022年1月，故宫博物院举办了“钟鸣盛世——紫禁城和避暑山庄藏钟表联展”，集中展示了清代宫廷的钟表藏品。以下是两个制造于法国的钟表藏品，它们应制造于（ ）



火车头式表



轮船式风雨表

- A. 手工工场产生阶段
 B. 新航路的开辟时期
 C. 文艺复兴兴起阶段
 D. 工业革命开展以后

16. 恩格斯曾评价一部著作是“全部社会主义文献中传播最广和最具有国际性的著作，是从西伯利亚到加利福尼亚的千百万工人公认的共同纲领”。这部著作应是（ ）

- A. 《共产党宣言》
 B. 《物种起源》
 C. 《战争与和平》
 D. 《人间喜剧》

17. 以下内容是一位历史人物的部分经历。对此解读正确的是（ ）

时间	1783年	1795年	1807年	1819年
经历	出生于加拉加斯城	在欧洲求学期间，深受启蒙运动思想影响，立志解放自己祖国	开始进行反对西班牙殖民统治的斗争	率领队伍翻越安第斯山，打败西班牙军队。在解放了哥伦比亚、委内瑞拉和厄瓜多尔等地后，成立了“大哥伦比亚共和国”

- A. 拿破仑主持制定了《法国民法典》
 B. 玻利瓦尔成为了南美的“解放者”
 C. 章西女王在印度民族大起义中牺牲
 D. 彼得一世改革开启俄国近代化进程

18. 何顺果教授在《世界史——以文明演进为线索》一书中指出，到19世纪末，日本好比一艘从东亚驶出的世界级航船，已初露桅杆了。他所指的应是日本（ ）

- A. 进行大化改新，成为中央集权制的封建国家
 B. 实行明治维新，走上了发展资本主义的道路
 C. 策划九一八事变，发动蓄谋已久的侵华战争
 D. 制造卢沟桥事变，悍然发动了全面侵华战争

19. 20世纪40年代前半期，美苏逐渐结成盟友，相互支援。后半期，美苏却逐渐转变成对手。相关史实应是（ ）

- A. 萨伏那拉事件的发生，《九国公约》的签订
 B. 苏联模式的形成，罗斯福新政的实施
 C. 《联合国宣言》签署，杜鲁门主义的出台
 D. 欧洲共同体成立，世界贸易组织成立




20. 历史学家汤因比曾指出，“如果滥用日益增长的技术力量，人类将置大地母亲于死地；如果克服了那导致自我毁灭的放肆的贪欲，人类则能够使她重返青春”。他意在唤起人们（ ）

- A. 关注生态环境的问题
 B. 重视妇女地位的提高
 C. 建立起社会保障制度
 D. 进行第三次科技革命

第二部分 材料分析题（共40分）

21. 向书本学习，是丰富知识、增长才干的重要途径。

材料一 汉代画像石（砖）中著名的读书图

 <p>讲经画像砖（拓片）</p>	 <p>孔子见老子画像石（拓片）</p>	 <p>儒生捧筒阅读画像石（拓片）</p>
<p>画像左侧的经师坐于榻上。弟子六人设席跪坐，头戴进贤冠，身着儒服，手中各执简牍。反映了东汉时讲经授课的场面。</p>	<p>画像右侧有二人躬身相对，左为孔子，右为老子。孔子身后众弟子捧筒而立。反映了孔子携弟子向老子求教的场景。</p>	<p>上层画像右侧众儒生或坐或立，捧筒而读。反映出众儒生手不释卷，刻苦求学的场景。</p>

——图文整理自兰钰崙等《汉代画像石（砖）中的读书图》

(1) 依据材料一，写出汉代画像石（砖）读书图反映出的社会主流思想。结合所学，分析这一主流思想的成因。

材料二 1917年12月，北京大学校长蔡元培在今东城区发起创办了一所新型的中小学校——孔德学校。学校取名自法国著名哲学家奥古斯特·孔德，“取他注重科学的精神”作为教育宗旨。为了培养学生的科学精神，孔德学校自编了生物等自然科学课本。而且，孔德学校的课本都以白话文编排，这在当时开了风气之先。钱玄同在《新青年》6卷6号中提到，去年蔡先生在北京办了个孔德学校，由我们几个人编的白话文课本，学生要容易领会得多了。



孔德学校自编的生物课本



2. 依据材料二，概括孔德学校编排课本的做法。结合所学，说明这些做法与新文化运动的关系。

材料三 20世纪50年代被翻译到中国的外国文学作品中，苏联文学作品数量惊人。从1949年10月至1958年12月，中国翻译出版苏联文学作品达3526种（不计报刊上所载的作品），印数达8200万册以上，它们分别约占同时期全部外国文学作品翻译种数的三分之二和印数的四分之三。

——摘编自陈建华《论50年代初期的中苏文学关系》

(3) 依据材料三，概括20世纪50年代中国翻译外国文学作品的特点。结合所学，说明这一特点产生的历史背景。

材料四 2016年4月，习近平总书记在知识分子、劳动模范、青年代表座谈会上指出：“人生的黄金时期在青年。青年时期学识基础厚实不厚实，影响甚至决定自己的一生。广大青年要如饥似渴、孜孜不倦学习，既多读有字之书，也多读无字之书，注重学习人生经验和社会知识。”

(4) 结合材料四与自身实际，谈谈对“既多读有字之书，也多读无字之书”的认识。

22. 中华民族共同体的形成是中国历史发展的必然结果。

材料一 ①在我国各民族间，相互借用词汇的现象是很普遍的。这是生活的需要决定的，是由于经济文化交流的需要决定的，尤其是由于我国各少数民族小聚居、大分散这一民族分布情况所决定的。如维吾尔族借用的汉语词汇有：韭菜、花椒、凉面、亩、斤、两……，以及共产党、解放军等大量的政治词汇。新疆及西北的汉族也借用了许多维吾尔族语词汇，如馕（维吾尔族烤饼）、皮亚孜（洋葱）等等。

——摘编自费孝通主编《中华民族多元一体格局》

(1) 依据材料一，写出产生①处历史现象的因素。结合所学，写出魏晋南北朝时期各民族在文化上相互借鉴的表现。

材料二

		
①唐蕃会盟碑	②西夏货币	③金奔巴瓶

(2) 从材料二中找出能说明以下主题的文物。（写序号，多选、错选不得分）

中央政权对边疆地方的管辖：_____

民族政权间的和平相处：_____

周边民族仿效中原制度：_____

材料三



民族自治地方经济发展概况

	农业总产值 (亿元)	工业总产值 (亿元)
1952年	46.5	11.4
1978年	155.6	212.1
2011年	12 140	50 976

民族区域自治制度是我国一项基本政治制度。民族区域自治制度的实行，对于中国在任何复杂的国际国内环境下，始终保持国家完整统一、促进各民族团结互助和发展进步，具有重大而长远的意义。

……

1999年，中央作出实施西部大开发战略的决定，支持中西部地区和少数民族地区加快发展。2000年，西部大开发战略的实施全面启动。

——摘编自《中国共产党简史》

(3) 依据材料三，指出民族自治地方经济发展的趋势。并概括这一趋势出现的因素。

23. 演说传递着历史的声音。

材料一 黑奴占全国总人口的八分之一，但他们并不是平均分散于全国各地，而是集中于南方。这些黑奴本身就构成（对种植园主）一种特殊强大的利益。大家明白，这项利益也就是战争的肇因。为了达到加强、继续、扩大这项利益的目的，叛乱分子不惜通过战争来分裂联邦，而政府当即声明要限制战争范围的扩大。

——1865年3月4日，林肯总统第二次就职演说

(1) 结合所学，写出材料一中这场“战争”名称，并写出其在美国历史发展中的作用。

材料二 这个革命的意义首先在于我们将拥有一个苏维埃政府，一个绝无资产阶级参加的我们自己的政权机关。被压迫的群众将亲自建立政权。旧的国家机构将被彻底打碎，而新的管理机构即苏维埃组织将建立起来。俄国历史的新时代从此开始了。

——1917年11月7日，列宁在彼得格勒工农兵代表苏维埃会议上的讲话

(2) 结合所学，写出材料二中“这个革命”的名称，并谈谈对“俄国历史的新时代从此开始了”的理解。

材料三 毛泽东在1938年五六月间作了长篇讲演，他指出：敌强我弱，中国不能迅速战胜日本。但是，日本的帝国主义侵略战争是退步的、野蛮的，失道寡助；中国的反侵略战争是进步的、正义的，得道多助。日本是小国，经不起长期战争；中国是大国，能够支持长期战争。因此，中国既不能速胜，也不会亡国。抗日战争是持久战，战争的伟力之最深厚的根源，存在于民众之中。实行人民战争的路线，最后的胜利一定属于中国。



1938年5月26日，毛泽东在延安中国人民抗日军政大学作报告

(3) 依据材料三，概括毛泽东的主要观点。结合所学，写出“最后的胜利”的具体史实。

材料四



演说者	演说时间	演说地点或场所	演说内容摘要
周恩来总理	1955年 4月	印度尼西亚万隆召开的第一次亚非会议	“中国代表团是来求同而不是来立异的。”“应该从怎样解除殖民主义痛苦和灾难中，找出我们各国的共同基础。”
埃及总统纳赛尔	1956年 7月	埃及亚历山大城	“苏伊士运河是我们的！……将苏伊士运河收归埃及国有，由埃及管理！”
巴拿马首脑托里霍斯	1973年 3月	联合国安理会巴拿马会议	希望“全世界了解巴拿马永远不是美国的殖民地”，呼吁世界各国承认巴拿马对巴拿马运河区的领土主权。

(4) 依据材料四并结合所学，写出表格中的演说反映出的共同主题。

24. 从古至今，人类一直在“问天”之路上探索。

材料一 北京古观象台是中国明清两代的皇家天文台，发挥着“观象授时”的重要作用。

明朝于 1442 年在北京建立观星台，设立钦天监进行管理。观星台顶放置着复制前朝的浑仪、浑象、简仪三件天文仪器。大学士徐光启聘请西方传教士，采用西法编撰《崇祯历书》时，多次赴观星台测验天象。	清朝建立后，将观星台更名为观象台，隶属于钦天监。钦天监在整理《崇祯历书》基础上颁行《时宪历》。清朝聘请比利时传教士南怀仁，按照西方天文测量制度监制了六架大型铜制天文仪器，置于观象台。
---	---

(1) 依据材料一，写出明清两朝在“观象授时”上的共同做法。

材料二 1903 年 12 月 17 日，美国莱特兄弟成功地进行了飞机试飞试验，为 20 世纪人类的航空事业发展揭开了新的一页。飞机的发明引发了一系列航空技术的飞速进步，从而极大地缩短了人类旅行、运输的时间，与通信的进步相结合使偌大的一个地球缩成一个“地球村”。它也为抗灾救灾提供了便利的交通工具。飞机制造涉及一系列高新技术，因此，航空业的发达程度已成为一国现代化的重要标志。

——摘编自姜振寰《科学技术史》

(2) 结合所学，写出莱特兄弟飞机试飞试验背景。依据材料二，概括飞机的发明产生的影响。

材料三 2003 年以来中国航天大事记（部分）

①	2003 年 10 月	中国第一艘载人航天飞船“神舟五号”发射成功，我国成为世界上第三个独立掌握载人航天技术的国家
②	2007 年 10 月	我国首颗绕月人造卫星“嫦娥一号”发射成功，中国开启探月时代
③	2012 年 12 月	中国北斗卫星导航系统正式开启区域服务，成为世界上第三个成熟的卫星导航系统
④	2015 年 12 月	我国成功将“悟空”号暗物质粒子探测卫星送入太空



⑤	2016年11月	我国首枚大型运载火箭长征五号（俗称“胖五”）发射成功
⑥	2020年7月	火星探测器“天问一号”发射成功，中国迈出了行星探测的第一步
⑦	2021年6月	中国空间站阶段首次载人飞行任务取得圆满成功
⑧	2021年10月	我国首颗太阳探测科学技术试验卫星“羲和号”成功发射，我国正式步入“探日”时代

(3) 依据材料三，概括中国航天成就的特点。

(4) 如果在中国空间站的“天宫课堂”开设历史课，讲授新中国航天英模的故事，请你结合所学，帮助推荐一位新中国航天英模并说明理由。

北京中考
BJ_zkao



北京中考
微信号: BJ_zkao



北京中考
BJ_zkao




北京中考
微信号: BJ_zkao



参考答案

1. 大克鼎是西周贵族膳夫克祭祀祖父的器物。以下有关大克鼎的信息中，对于研究我国文字发展历史具有参考价值的是（ ）

	①材质：青铜
	②形制：圆腹三足两耳
	③纹饰：波曲纹、饕餮纹和龙纹
	④铭文：腹内铸有两段铭文，共 290 字

A. ①②

B. ①③

C. ②③

D. ①④

【答案】D

【解析】

【详解】大克鼎的腹内铸有两段铭文，是西周晚期具有代表性的金文字体之一，西周时期青铜铸造技术精湛，铭文一般都能够相当程度上体现出墨书的笔意，①④正确，D项正确；大克鼎形制、纹饰与研究我国文字发展历史无关，排除②③，排除ABC项。故选D项。

2. 春秋时期农业生产力水平提高的重要标志是（ ）

A. 对火的使用和保存

B. 稻、粟和黍的栽培

C. 干栏式建筑的建造

D. 铁农具和牛耕出现

【答案】D

【解析】

【详解】春秋后期，铁制农具和牛耕出现，促进了农业上的深耕细作。是农业生产力水平提高的重要标志，D项正确；北京人学会对火的使用和保存，排除A项；稻、粟和黍的栽培属于原始农耕时期，排除B项；河姆渡人学会干栏式建筑的建造，排除C项。故选D项。

3. 《说文系传》中记述：“诸侯力政，不统于王。恶礼乐之害己，而皆去其典籍，分为七国，田畴异亩，车涂异轨，律令异法，衣冠异制，言语异声，文字异形。”以上材料可用于研究（ ）

A. 百家争鸣对后世的影响

B. 秦王嬴政灭六国的经过

C. 秦巩固统一措施 背景

D. 汉武帝“推恩”的结果

【答案】C

【解析】

【详解】依据“诸侯力政，不统于王。恶礼乐之害己，而皆去其典籍，分为七国，田畴异亩，车涂异轨，律令异法，衣冠异制，言语异声，文字异形。”可知大意是说战国时期各国诸侯互相征伐，当时天下分为七国，各国田亩划分的制度不同，车路轨道的宽窄不同，法律制度不同，衣冠形式不同，语言的声音不同，文字的形体也不同，由此可知该材料可用研究秦巩固统一措施的背景，即说明为什么在灭掉六国之后秦要统一文字、货币、度量衡、车轨等，C项正确；题干没有体现百家争鸣的影响，排除A项；题干没有体现秦王嬴政灭六国的经过，而是分析秦巩固统一措施的背景，排除B项；汉武帝“推恩”旨在解决当时的王国问题，与题干不符，排除D项。故选C项。

4. 以下两张邮票所纪念的历史事件的共同作用是（ ）



《凿空西域》 《西行求法》

- A. 开辟了沟通欧亚的丝绸之路
B. 推动西域正式归属中央政权
C. 为中日文化交流做出了贡献
D. 有助于了解西域的具体情况

【答案】D

【解析】

【详解】张骞通西域过程中了解了西域具体风情。唐朝玄奘西游天竺必经西域，沿途也对西域风情有所研究。因此，两张邮票所纪念的历史事件的共同作用有助于了解西域的具体情况，D项正确；张骞通西域有助于丝绸之路开辟，排除A项；西域正式归属中央政权是西域都护的设置，排除B项；为中日文化交流做出了贡献的是鉴真，排除C项。故选D项。

5. 以下引文能够反映经济重心南移这一历史现象的是（ ）

- ①“伐无道，诛暴秦” ②“楚越之地，地广人希（稀）”
③“苏湖熟，天下足” ④“国家根本，仰给东南”

- A. ①② B. ③④ C. ②④ D. ①③

【答案】B

【解析】

【详解】依据题干和所学知识，两宋时期经济重心南移完成，“苏湖熟，天下足”反映的正是这一时期江南地区成为全国的主要粮仓，而“国家根本，仰给东南”反映的是国家财政收入也仰仗南方，③④正确；“伐无道，诛暴秦”反映的是秦末农民起义反抗秦朝暴政，①排除；“楚越之地，地广人希（稀）”反映的是此前南方贫瘠落后，地广人稀，②排除。B项正确，排除ACD项。故选B项。

6. 在史籍中有这样一段记载：“（此物）发作，声如雷震，热力达半亩之上，人与牛皮皆碎进无迹，甲铁皆透。”其记载的是（ ）

- A. 筒车 B. 曲辕犁 C. 火药 D. 指南针

【答案】C

【解析】

【详解】史料大体意思是说这种物体爆炸后“声如雷震，热力达半亩之上”，可见史籍中记载的是火药。C项正确；筒车属于灌溉工具，排除A项；曲辕犁是农业生产工具，排除B项；指南针是判断方向的仪器，排除D项。故选C项。

7. 以下是某一专题知识示意图，图中①处应填的是（ ）



- A. 行书书法形成 B. 瓦子出现 C. 小说开始流行 D. 京剧诞生

【答案】D

【解析】

【详解】知识示意图展示的是古代戏曲成就，因此，清代的应该是京剧。依据所学可知，1790年，四大徽班先后到北京为乾隆帝祝寿献艺。徽调吸收其他地方戏的优点，加以创造和改进，在道光年间形成一个新的剧种“皮黄戏”。皮黄戏博采其他剧种的优点，又带有北京的地方特色，被称为“京戏”或“京剧”，D项正确；书法、瓦子和小说与前面戏曲主题不符合，排除A、B和C项。故选D项。

8. 一位同学在实践中作业《发现身边的历史》中写道，“它忍受着被迫允许外国公使进驻北京的无奈；它也背负着被划定为使馆界，不准中国人居住的耻辱。”材料中的“它”应是（ ）

- A. 圆明园 B. 东交民巷 C. 威海卫 D. 大沽炮台

【答案】B

【解析】

【详解】依据“它忍受着被迫允许外国公使进驻北京的无奈；它也背负着被划定为使馆界，不准中国人居住的耻辱。”可知“它”应是东交民巷，1901年清政府被迫签订《辛丑条约》，其中规定划北京东交民巷为使馆界，不许中国人居住，B项正确；1860年，英法联军在第二次鸦片战争中洗劫并火烧皇家园林圆明园，与题干不符，排除A项；1895年威海卫战役宣告北洋舰队在甲午中日海战中全军覆没，与题干不符，排除C项；《辛丑条约》规定清政府拆毁天津大沽口到北京沿线设防的炮台，允许列强各国派驻兵驻扎北京到山海关铁路沿线要地，与题干不符，排除D项。故选B项。

9. 1896年，梁启超在其所著的《西学书目表》中指出，当时中国翻译西方的兵书、医书、格致（物理、化学等自然科学）书较多，西方的社会政治理论书籍则“译者寥寥”。他认为涉及“官制学制农政诸门”的西书才是学习西方的“本原所在”，应当多加翻译。这反映出梁启超（ ）

- A. 注重引进外国器物 B. 希望谋求制度变革
C. 呼吁投身实业救国 D. 要求推翻清朝统治

【答案】B

【解析】

【详解】根据所学可知，梁启超认为学习西方的“本原所在”，是“官制学制”，这体现出，他认为应当变革中国的官制、学制，这是希望谋求制度变革，B项正确；维新派是学习西方制度，张謇呼吁投身实业救国，梁启超主张君主立宪，不是要求推翻清朝统治，排除ACD三项。故选B项。

10. 1919年，陈独秀听到中国外交失败消息时，愤然断言美国总统威尔逊提出的和谈原则“成了一文不值的空话”，和会实现不了公理与和平。这场“中国外交失败”直接引发了（ ）

- A. 太平天国运动 B. 义和团运动 C. 五四运动 D. 北伐战争

【答案】C

【解析】

【详解】根据所学可知，1919年，陈独秀听到中国外交失败消息时，愤然断言美国总统威尔逊提出的和谈原则“成了一文不值的空话”，和会实现不了公理与和平，这场“中国外交失败”直接引发了五四运动，C项正确；太平天国运动在1851年开始，义和团运动在1898年开始，北伐战争在1926年开始，排除ABD三项。故选C项。

11. 对下图反映的历史事件，理解正确的是（ ）



- A. 提高了共产党和八路军的威望 B. 揭开了解放军战略反攻的序幕
C. 国民党军队的主力基本被消灭 D. 国民党在大陆的统治宣告结束

【答案】C

【解析】

【详解】图示中所示的战役是三大战役，三大战役共歼灭和改编国民党军队150多万人，国民党军队的主力基本被消灭，大大加速了人民解放战争在全国的胜利。C项正确；八路军是抗战时期军队名称，排除A项；揭开了解放军战略反攻的序幕刘邓大军挺进大别山，排除B项；国民党在大陆的统治宣告结束是渡江战役，排除D项。故选C项。

12. 1957年国庆节，列队整齐的歼-5型飞机飞越天安门，接受检阅。毛泽东主席在天安门城楼上高兴地对外宾说：“我们自己制造的飞机飞过去了！”材料中“自己制造的飞机”应属于（ ）



A. 土地改革的成就
C. 公私合营的成果

B. 农业合作化成果
D. “一五”计划成就

【答案】D

【解析】

【详解】1953-1957年，我国进行一五计划，优先发展重工业。其中歼-5型飞机就是一五计划的成就。D项正确；土地改革是1952年完成，排除A项；农业合作化运动属于生产关系变革，排除B项；公私合营属于资本主义工商业社会主义改造形式，排除C项。故选D项。

13. 下表①和②处应填写（ ）

1960年，①_____率领钻井队到大庆参加石油大会战。当井喷险情发生时，他不顾腿伤跳进泥浆池，用身体搅拌泥浆，制服了井喷，被誉为“铁人”。	1962年，②_____任河南兰考县委书记。为了改变当地的落后面貌，虽然身患癌症，仍顽强工作，与内涝、风沙、盐碱作斗争，被人民称颂为“党的好干部”。
--	--

A. ①王进喜 ②焦裕禄
C. ①王进喜 ②邓稼先

B. ①焦裕禄 ②雷锋
D. ①邓稼先 ②雷锋

【答案】A

【解析】

【详解】根据所学可知，1960年，王进喜率领钻井队到大庆参加石油大会战，当井喷险情发生时，他不顾腿伤跳进泥浆池，用身体搅拌泥浆，制服了井喷，被誉为“铁人”；1962年，焦裕禄任河南兰考县委书记。为了改变当地的落后面貌，虽然身患癌症，仍顽强工作，与内涝、风沙、盐碱作斗争，被人民称颂为“党的好干部”，A项正确。雷锋是中国人民解放军战士，邓稼先是两弹元勋，排除BCD三项。故选A项。

14. 将同一年代发生的重要历史事件进行专题整理是学习历史的方法之一。以下“1992年大事记”专题知识卡片中①和②处应填写（ ）

..... ·①_____, 推动改革开放和社会主义现代化建设进入新阶段 ·中共十四大, 提出必须用邓小平建设有中国特色社会主义理论武装全党 ·②_____, 海峡两岸关系的发展迈出了历史性的重要一步
--

A. ①南方谈话 ②“九二共识”
C. ①南方谈话 ②香港回归祖国

B. ①“九二共识” ②澳门回归祖国
D. ①香港回归祖国 ②澳门回归祖国


【答案】A

【解析】

【详解】1992年初，邓小平南方视察，多次发表谈话，强调党的基本路线要管一百年，动摇不得；改革开放要敢于试验；关键是发展经济；发展才是硬道理。这些谈话进一步解放了人们的思想，推动改革开放和社会主义现代化建设进入新阶段；1990年，台湾成立海峡交流基金会，次年大陆成立海峡两岸关系协会。1992年，两会就“海峡两

岸均坚持一个中国原则”达成共识，即“九二共识”。标志着海峡两岸关系的发展迈出了历史性的重要一步。A项正确。“九二共识”不是推动改革开放和社会主义现代化建设进入新阶段，排除B项；香港回归是1997年、澳门回归祖国是1999年，与题干时间1992年不符，排除C和D项。故选A项。

15. 2022年1月，故宫博物院举办了“钟鸣盛世——紫禁城和避暑山庄藏钟表联展”，集中展示了清代宫廷的钟表藏品。以下是两个制造于法国的钟表藏品，它们应制造于（ ）



火车头式表



轮船式风雨表

- A. 手工工场产生阶段
B. 新航路的开辟时期
C. 文艺复兴兴起阶段
D. 工业革命开展以后

【答案】D

【解析】

【详解】图示是指火车机车和轮船模型，第一次工业革命时期，史蒂芬孙发明蒸汽机车，富尔顿发明汽船，D项正确；火车和汽船不是手工工场产生阶段、新航路的开辟时期以及文艺复兴兴起阶段发明的，排除A、B和C项。故选D项。

16. 恩格斯曾评价一部著作是“全部社会主义文献中传播最广和最具有国际性的著作，是从西伯利亚到加利福尼亚的千百万工人公认的共同纲领”。这部著作应是（ ）

- A. 《共产党宣言》 B. 《物种起源》 C. 《战争与和平》 D. 《人间喜剧》

【答案】A

【解析】

【详解】根据所学可知，1848年，《共产党宣言》发表，这是国际共产主义运动的纲领性文件，是全部社会主义文献中传播最广和最具有国际性的著作，等到从西伯利亚到加利福尼亚的千百万工人公认，A项正确；《物种起源》是生物学著作，《战争与和平》、《人间喜剧》是文学作品，排除BCD三项。故选A项。

17. 以下内容是一位历史人物的部分经历。对此解读正确的是（ ）

时间	1783年	1795年	1807年	1819年
经历	出生于加拉加斯城	在欧洲求学期间，深受启蒙运动思想影响，立志解放自己祖国	开始进行反对西班牙殖民统治的斗争	率领队伍翻越安第斯山，打败西班牙军队。在解放了哥伦比亚、委内瑞拉和厄瓜多尔等地后，成立了“大哥伦比亚共和国”



- A. 拿破仑主持制定了《法国民法典》
C. 章西女王在印度民族大起义中牺牲

- B. 玻利瓦尔成为了南美“解放者”
D. 彼得一世改革开启俄国近代化进程

【答案】B

【解析】

【详解】19世纪初，受美国独立战争和法国大革命的影响，拉丁美洲地区掀起了独立运动。被称为南美的“解放者”是玻利瓦尔，表格中描述的正是玻利瓦尔，B项正确；拿破仑主持制定了《法国民法典》是1804年，排除A项；章西女王领导在印度民族大起义是亚洲民族解放运动，排除C项；彼得一世改革是18世纪初，排除D项。故应B项。

18. 何顺果教授在《世界史——以文明演进为线索》一书中指出，到19世纪末，日本好比一艘从东亚驶出的世界级航船，已初露桅杆了。他所指的应是日本（ ）

- A. 进行大化改新，成为中央集权制的封建国家
B. 实行明治维新，走上了发展资本主义的道路
C. 策划九一八事变，发动蓄谋已久的侵华战争
D. 制造卢沟桥事变，悍然发动了全面侵华战争

【答案】B

【解析】

【详解】19世纪后半期，日本为了摆脱民族危机，进行了以天皇为中心的明治维新改革，通过改革走上了发展资本主义的道路，开始对外实行扩张，B项正确；大化改新是公元7世纪，排除A项；九一八事变和卢沟桥事变都是20世纪日本发动的事变，排除C和D项。故选B项。

19. 20世纪40年代前半期，美苏逐渐结成盟友，相互支援。后半期，美苏却逐渐转变成对手。相关史实应是（ ）

- A. 萨拉热窝事件的发生，《九国公约》的签订
B. 苏联模式的形成，罗斯福新政的实施
C. 《联合国宣言》签署，杜鲁门主义的出台
D. 欧洲共同体成立，世界贸易组织成立

【答案】C

【解析】

【详解】20世纪40年代前半期，美苏逐渐结成盟友，相互支援是指第二次世界大战时期签署《联合国宣言》，组成世界反法西斯联盟。“后半期，美苏却逐渐转变成对手”是指美苏冷战形成。杜鲁门主义出台标志着冷战开始，C项正确；萨拉热窝事件的发生是一战导火线，排除A项；罗斯福新政的实施是20世纪30年代，排除B项；欧共体成立是1967年，排除D项。故选C项。

20. 历史学家汤因比曾指出，“如果滥用日益增长的技术力量，人类将置大地母亲于死地；如果克服了那导致自我毁灭的放肆的贪欲，人类则能够使她重返青春”。他意在唤起人们（ ）

- A. 关注生态环境的问题
B. 重视妇女地位的提高
C. 建立起社会保障制度
D. 进行第三次科技革命

【答案】A

【解析】

【详解】“如果滥用日益增长的技术力量，人类将置大地母亲于死地；如果克服了那导致自我毁灭的放肆的贪欲，人类则能够使她重返青春”可知作者担心人类如果不合理应用科技，会导致严重的生态灾难，造成自然环境遭到严

重破坏。由此可见作者意在唤起人们关注生态环境的问题，A项正确；题干的主题是人与自然的关系，没有涉及妇女地位或社会保障，排除BC项；题干不是强调人们应进行第三次科技革命，而是呼吁在科技发展的形势下要注意保护自然环境，排除D项。故选A项。

第二部分 材料分析题（共40分）

21. 向书本学习，是丰富知识、增长才干的重要途径。

材料一 汉代画像石（砖）中著名的读书图

 <p>讲经画像砖（拓片）</p>	 <p>孔子见老子画像石（拓片）</p>	 <p>儒生捧筒阅读画像石（拓片）</p>
<p>画像左侧的经师坐于榻上。弟子六人设席跪坐，头戴进贤冠，身着儒服，手中各执筒牍。反映了东汉时讲经授课的场面。</p>	<p>画像右侧有二人躬身相对，左为孔子，右为老子。孔子身后众弟子捧筒而立。反映了孔子携弟子向老子求教的场景。</p>	<p>上层画像右侧众儒生或坐或立，捧筒而读。反映出众儒生手不释卷，刻苦求学的场景。</p>

——图文整理自兰钰崙等《汉代画像石（砖）中的读书图》


(1) 依据材料一，写出汉代画像石（砖）读书图反映出的社会主流思想。结合所学，分析这一主流思想的成因。

材料二 1917年12月，北京大学校长蔡元培在今东城区发起创办了一所新型的中小学校——孔德学校。学校取名自法国著名哲学家奥古斯特·孔德，“取他注重科学的精神”作为教育宗旨。为了培养学生的科学精神，孔德学校自编了生物等自然科学课本。而且，孔德学校的课本都以白话文编排，这在当时开了风气之先。钱玄同在《新青年》6卷6号中提到，去年蔡先生在北京办了个孔德学校，由我们几个人编的白话文课本，学生要容易领会得多了。



孔德学校自编的生物课本

(2) 依据材料二，概括孔德学校编排课本的做法。结合所学，说明这些做法与新文化运动的关系。



材料三 20世纪50年代被翻译到中国的外国文学作品中，苏联文学作品数量惊人。从1949年10月至1958年12月，中国翻译出版苏联文学作品达3526种（不计报刊上所载的作品），印数达8200万册以上，它们分别约占同时期全部外国文学作品翻译种数的三分之二和印数的四分之三。

——摘编自陈建华《论50年代初期的中苏文学关系》

(3) 依据材料三，概括20世纪50年代中国翻译外国文学作品的特点。结合所学，说明这一特点产生的历史背景。

材料四 2016年4月，习近平总书记在知识分子、劳动模范、青年代表座谈会上指出：“人生的黄金时期在青年。青年时期学识基础厚实不厚实，影响甚至决定自己的一生。广大青年要如饥似渴、孜孜不倦学习，既多读有字之书，也多读无字之书，注重学习人生经验和社会知识。”

(4) 结合材料四与自身实际，谈谈对“既多读有字之书，也多读无字之书”的认识。

【答案】(1) 儒家思想。西汉汉武帝时期为了以思想上的统一巩固政治上的统一，采纳董仲舒的建议，“罢黜百家，独尊儒术”，把儒家思想立为封建社会的正统思想

(2) 以白话文自编了自然科学课本。因果关系（新文化运动提倡民主与科学，提倡白话文取代文言文）。

(3) 苏联文学作品为主。新中国建国初期采取“一边倒”的外交方针，坚定地站在苏联为首的社会主义阵营一边

(4) 青年成长必然经历一个从学校走入社会的过程。广大青年的主要任务是努力学好科学文化知识，打下扎实的知识基础，这是读有字之书，但与此同时，也要多读无字之书，通过各类实践和实习，逐步积累人生经验和社会知识。

【解析】

【详解】(1) 依据题干中的材料一中汉代画像石中“东汉讲经授课的场面”“孔子携弟子向老子求教的场景”“儒生刻苦求学的场景”，可知反映出的社会主流思想是儒家思想。结合所学，可知这一主流思想的成因是西汉汉武帝时期为了以思想上的统一巩固政治上的统一，采纳董仲舒的建议，“罢黜百家，独尊儒术”，把儒家思想立为封建社会的正统思想

(2) 依据材料二“为了培养学生的科学精神，孔德学校自编了生物等自然科学课本。而且，孔德学校的课本都以白话文编排，这在当时开了风气之先”，概括孔德学校编排课本的做法是以白话文自编自然科学课本。结合所学可知这些做法与新文化运动之间是一种因果关系，因为新文化运动提倡民主与科学，提倡白话文取代文言文。

(3) 依据材料三“20世纪50年代被翻译到中国的外国文学作品中，苏联文学作品数量惊人……它们分别约占同时期全部外国文学作品翻译种数的三分之二和印数的四分之三”可知，20世纪50年代中国翻译外国文学作品的特点是苏联文学作品为主。结合所学，说明这一特点产生的历史背景是新中国建国初期采取“一边倒”的外交方针，坚定地站在苏联为首的社会主义阵营一边。

(4) 依据材料四“广大青年要如饥似渴、孜孜不倦学习，既多读有字之书，也多读无字之书，注重学习人生经验和社会知识”与自身实际，青年的成长必然经历一个从学校走入社会的过程；广大青年的主要任务是努力学好科学文化知识，打下扎实的知识基础，这是读有字之书，但与此同时，也要多读无字之书，通过各类实践和实习，逐步积累人生经验和社会知识。

22. 中华民族共同体的形成是中国历史发展的必然结果。

材料一 ①在我国各民族间，相互借用词汇的现象是很普遍的。这是生活的需要决定的，是由于经济文化交流的需要决定的，尤其是由于我国各少数民族小聚居、大分散这一民族分布情况所决定的。如维吾尔族借用的汉语词



还有：韭菜、花椒、凉面、亩、斤、两……，以及共产党、解放军等大量的政治词汇。新疆及西北的汉族也借用了许多维吾尔族语词汇，如馕（维吾尔族烤饼）、皮亚孜（洋葱）等等。

——摘编自费孝通主编《中华民族多元一体格局》

(1) 依据材料一，写出产生①处历史现象的因素。结合所学，写出魏晋南北朝时期各民族在文化上相互借鉴的表现。

材料二

		
①唐蕃会盟碑	②西夏货币	③金奔巴瓶

(2) 从材料二中找出能说明以下主题的文物。(写序号，多选、错选不得分)

中央政权对边疆地方的管辖：_____

民族政权间的和平相处：_____

周边民族仿效中原制度：_____

材料三

民族自治地方经济发展概况		
	农业总产值 (亿元)	工业总产值 (亿元)
1952年	46.5	11.4
1978年	155.6	212.1
2011年	12 140	50 976


民族区域自治制度是我国一项基本政治制度。民族区域自治制度的实行，对于中国在任何复杂的国际国内环境下，始终保持国家完整统一、促进各民族团结互助和发展进步，具有重大而长远的意义。

……

1999年，中央作出实施西部大开发战略的决定，支持中西部地区和少数民族地区加快发展。2000年，西部大开发战略的实施全面启动。

——摘编自《中国共产党简史》

(3) 依据材料三，指出民族自治地方经济发展的趋势。并概括这一趋势出现的因素。



【答案】(1) 生活的需要；经济文化交流的需要；我国各少数民族小聚居、大分散这一民族分布情况。魏晋南北朝时期少数民族学习汉族的农业技艺，从事农业生产，成为农业居民；而汉族人民学习少数民族的畜牧经验，学习和接受他们的食物、服装、用具等，融入到汉族的生活中。

(2) ①.③ ②.① ③.②

(3) 民族自治地方经济发展迅速。民族区域自治制度的实行；党和政府因地制宜，在少数民族地区进行民主改革和社会主义改造；采取诸多优惠政策，派技术人员等加强少数民族地区经济建设；进行西部大开发战略等

【解析】

【详解】(1) ①处历史现象是指在我国各民族间，相互借用词汇的现象，据材料一“这是生活的需要决定的”“是由于经济文化交流的需要决定的”“尤其是由于我国各少数民族小聚居、大分散这一民族分布情况所决定的”得出因素是生活的需要；经济文化交流的需要；我国各少数民族小聚居、大分散这一民族分布情况。结合所学知识，魏晋南北朝时期各民族在文化上相互借鉴的表现有：少数民族学习汉族的农业技艺，从事农业生产，成为农业居民；而汉族人民学习少数民族的畜牧经验，学习和接受他们的食物、服装、用具等，融入到汉族的生活中。

(2) 依据所学知识，唐蕃会盟碑表明唐朝和吐蕃会盟，成为汉族与藏族人民团结、友好的历史见证，体现了民族政权间的和平相处；西夏货币表明党项族建立的西夏政权仿效中国制度文化，如仿照汉字创制了西夏文字，仿照中原货币创制了西夏的钱币制度；金奔巴瓶表明清朝时期加强对西藏地区管辖。因此中央政权对边疆地方的管辖③；民族政权间的和平相处①；周边民族仿效中原制度②。

(3) 第一问依据材料三中民族自治地方生产总值示意图可知，民族自治地方经济发展的趋势是经济发展迅速。第二问依据材料三“民族区域自治制度的实行，对于中国在任何复杂的国际国内环境下，始终保持国家完整统一、促进各民族团结互助和发展进步，具有重大而长远的意义。……”得出民族区域自治制度的实行，依据材料三“1999年，中央作出实施西部大开发战略的决定，支持中西部地区和少数民族地区加快发展”得出进行西部大开发战略，再结合所学知识，得出党和政府因地制宜，在少数民族地区进行民主改革和社会主义改造，采取诸多优惠政策，派技术人员等加强少数民族地区经济建设等。

23. 演说传递着历史的声音。

材料一 黑奴占全国总人口的八分之一，但他们并不是平均分散于全国各地，而是集中于南方。这些黑奴本身就构成（对种植园主）一种特殊强大的利益。大家明白，这项利益也就是战争的肇因。为了达到加强、继续、扩大这项利益的目的，叛乱分子不惜通过战争来分裂联邦，而政府当即声明要限制战争范围的扩大。

——1865年3月4日，林肯总统第二次就职演说

(1) 结合所学，写出材料一中这场“战争”的名称，并写出其在美国历史发展中的作用。

材料二 这个革命的意义首先在于我们将拥有一个苏维埃政府，一个绝无资产阶级参加的我们自己的政权机关。被压迫的群众将亲自建立政权。旧的国家机构将被彻底打碎，而新的管理机构即苏维埃组织将建立起来。俄国历史的新时代从此开始了。

——1917年11月7日，列宁在彼得格勒工农兵代表苏维埃会议上的讲话

(2) 结合所学，写出材料二中“这个革命”的名称，并谈谈对“俄国历史的新时代从此开始了”的理解。

材料三 毛泽东在1938年五六月间作了长篇讲演，他指出：敌强我弱，中国不能迅速战胜日本。但是，日本的帝国主义侵略战争是退步的、野蛮的，失道寡助；中国的反侵略战争是进步的、正义的，得道多助。日本是小国，经不起长期战争；中国是大国，能够支持长期战争。因此，中国既不能速胜，也不会亡国。抗日战争是持久战，战争的伟力之最深厚的根源，存在于民众之中。实行人民战争的路线，最后的胜利一定属于中国。



1938年5月26日，毛泽东在延安中国人民抗日军政大学作报告

(3) 依据材料三，概括毛泽东的主要观点。结合所学，写出“最后的胜利”的具体史实。

材料四

演说者	演说时间	演说地点或场所	演说内容摘要
周恩来总理	1955年 4月	印度尼西亚万隆召开的第一次亚非会议	“中国代表团是来求同而不是来立异的。”“应该从怎样解除殖民主义痛苦和灾难中，找出我们各国的共同基础。”
埃及总统纳赛尔	1956年 7月	埃及亚历山大城	“苏伊士运河是我们的！……将苏伊士运河收归埃及国有，由埃及管理！”
巴拿马首脑托里霍斯	1973年 3月	联合国安理会巴拿马会议	希望“全世界了解巴拿马永远不是美国的殖民地”，呼吁世界各国承认巴拿马对巴拿马运河区的领土主权。

(4) 依据材料四并结合所学，写出表格中的演说反映出的共同主题。

【答案】 (1) 名称：美国南北战争。作用：美国南北战争，维护了国家统一，废除了奴隶制度，清除了资本主义发展的最大障碍，为以后经济的迅速发展创造了条件。

(2) 名称：十月革命。理解：十月革命是人类历史上第一次胜利的社会主义革命，建立了第一个无产阶级专政的国家，推动了国际无产阶级革命运动，鼓舞了殖民地半殖民地人民的解放斗争。

(3) 主要观点：论持久战。史实：1945年，日本天皇被迫宣布无条件投降，9月2日日本政府正式签署投降书，中国抗日战争取得了最后的胜利。中国人民抗日战争是近代以来中国反抗外敌入侵第一次取得完全胜利的民族解放战争。中国人民抗日战争的胜利，成为中华民族走向复兴的历史转折点，也对世界文明进步具有重大而深远的意义。它对世界各国人民夺取反法西斯战争的胜利、维护世界和平的伟大事业产生了巨大影响，显著提高了中国的国际地位和国际影响。

(4) 摆脱殖民统治，追求独立自主。

【解析】

【小问1详解】

名称：根据材料一“黑奴占全国总人口的八分之一，但他们并不是平均分散于全国各地，而是集中于南方”可得出是美国南北战争。作用：根据所学知识可得出美国南北战争，维护了国家统一，废除了奴隶制度，清除了资本主义发展的最大障碍，为以后经济的迅速发展创造了条件。



【小问 2 详解】

名称：根据材料二“旧的国家机构将被彻底打碎，而新的管理机构即苏维埃组织将建立起来”可得出是十月革命。理解：根据材料二“这个革命的意义首先在于我们将拥有一个苏维埃政府，一个绝无资产阶级参加的我们自己的政权机关”可得出十月革命是人类历史上第一次胜利的社会主义革命，建立了第一个无产阶级专政的国家，推动了国际无产阶级革命运动，鼓舞了殖民地半殖民地人民的解放斗争。

【小问 3 详解】

主要观点：根据材料三“抗日战争是持久战，战争的伟力之最深厚的根源，存在于民众之中”可得出主要观点是论持久战。史实：根据所学知识可得出 1945 年，日本天皇被迫宣布无条件投降，9 月 2 日日本政府正式签署投降书，中国抗日战争取得了最后的胜利。中国人民抗日战争是近代以来中国反抗外敌入侵第一次取得完全胜利的民族解放战争。中国人民抗日战争的胜利，成为中华民族走向复兴的历史转折点，也对世界文明进步具有重大而深远的意义。它对世界各国人民夺取反法西斯战争的胜利、维护世界和平的伟大事业产生了巨大影响，显著提高了中国的国际地位和国际影响。

【小问 4 详解】

根据材料四“周恩来在万隆会议上发言：“应该从怎样解除殖民主义痛苦和灾难中，找出我们各国的共同基础。”、“埃及总统纳赛尔发言：将苏伊士运河收归埃及国有，由埃及管理”、“巴拿马首脑托里霍斯发言：呼吁世界各国承认巴拿马对巴拿马运河区的领土主权”可得出他们的共同点都是希望摆脱殖民统治，追求国家独立自主。

24. 从古至今，人类一直在“问天”之路上探索。

材料一 北京古观象台是中国明清两代的皇家天文台，发挥着“观象授时”的重要作用。

<p>明朝于 1442 年在北京建立观星台，设立钦天监进行管理。观星台顶放置着复制前朝的浑仪、浑象、简仪三件天文仪器。大学士徐光启聘请西方传教士，采用西法编撰《崇祯历书》时，多次赴观星台测验天象。</p>	<p>清朝建立后，将观星台更名为观象台，隶属于钦天监。钦天监在整理《崇祯历书》基础上颁行《时宪历》。清朝聘请比利时传教士南怀仁，按照西方天文测量制度监制了六架大型铜制天文仪器，置于观象台。</p>
--	--

(1) 依据材料一，写出明清两朝在“观象授时”上的共同做法。

材料二 1903 年 12 月 17 日，美国莱特兄弟成功地进行了飞机试飞试验，为 20 世纪人类的航空事业发展揭开了新的一页。飞机的发明引发了一系列航空技术的飞速进步，从而极大地缩短了人类旅行、运输的时间，与通信的进步相结合使偌大的一个地球缩成一个“地球村”。它也为抗灾救灾提供了便利的交通工具。飞机制造涉及一系列高新技术，因此，航空业的发达程度已成为一国现代化的重要标志。

——摘编自姜振寰《科学技术史》

(2) 结合学，写出莱特兄弟飞机试飞试验的背景。依据材料二，概括飞机的发明产生的影响。

材料三 2003 年以来中国航天大事记（部分）

①	2003 年 10 月	中国第一艘载人航天飞船“神舟五号”发射成功，我国成为世界上第三个独立掌握载人航天技术的国家
---	-------------	---

北京中考
② 2007年10

我国首颗绕月人造卫星“嫦娥一号”发射成功，中国开启探月时代

③

2012年12月

中国北斗卫星导航系统正式开启区域服务，成为世界上第三个成熟的卫星导航系统

④

2015年12月

我国成功将“悟空”号暗物质粒子探测卫星送入太空

⑤

2016年11月

我国首枚大型运载火箭长征五号（俗称“胖五”）发射成功

⑥

2020年7月

火星探测器“天问一号”发射成功，中国迈出了行星探测的第一步

⑦

2021年6月

中国空间站阶段首次载人飞行任务取得圆满成功

⑧

2021年10月

我国首颗太阳探测科学技术试验卫星“羲和号”成功发射，我国正式步入“探日”时代

(3) 依据材料三，概括中国航天成就的特点。

(4) 如果在中国空间站的“天宫课堂”开设历史课，讲授新中国航天英模的故事，请你结合所学，帮助推荐一位新中国航天英模并说明理由。

【答案】 (1) 设立专门的天文观测机构及官员；聘请西方传教士，参考西学

(2) 第二次工业革命开展，内燃机的发明推动了交通工具的革新。引发了一系列航空技术的飞速进步，极大地缩短了人类旅行、运输的时间；推动世界各地联系的加强；为抗灾救灾提供了便利的交通工具；推动了现代化


(3) 成果丰硕；独立自主研制；跻身世界先进行列

(4) 杨利伟。2003年，杨利伟搭乘着我国首架载人航天飞船“神舟五号”进入太空。历时21小时23分，并于次日成功降落返回，航天员杨利伟顺利完成了我国第一次载人航天任务，成为了“中国航天第一人”。

【解析】

【详解】 (1) 依据材料一，写出明清两朝在“观象授时”上的共同做法，据“明朝于1442年在北京建立观星台，设立钦天监进行管理”“清朝建立后，将观星台更名为观象台，隶属于钦天监”得出设立专门的天文观测机构及官员；据“大学士徐光启聘请西方传教士，采用西法编撰《崇祯历书》时，多次赴观星台测验天象”“清朝聘请比利时传教士南怀仁，按照西方天文测量制度监制了六架大型铜制天文仪器，置于观象台”得出聘请西方传教士，参考西学。

(2) 依据材料二“1903年12月17日，美国莱特兄弟成功地进行了飞机试飞试验”并结合所学知识，可知莱特兄弟飞机试飞试验的背景是第二次工业革命开展，内燃机的发明推动了交通工具的革新。依据材料二概括飞机的发明产生的影响，据“飞机的发明引发了一系列航空技术的飞速进步，从而极大地缩短了人类旅行、运输的时间”得出引发了一系列航空技术的飞速进步，极大地缩短了人类旅行、运输的时间；据“与通信的进步相结合使偌大的一个地球缩成一个‘地球村’”得出推动世界各地联系的加强；据“它也为抗灾救灾提供了便利的交通工具”得出为抗灾救灾提供了便利的交通工具；据“飞机制造涉及一系列高新技术，因此，航空业的发达程度已成为一国现代化的重要标志”得出推动了现代化。



3. 依据材料三概括中国航天成就的特点，据表格中“神舟五号”“嫦娥一号”“北斗卫星导航系统”“天问一号”等可知这一时期中国航天成就成果丰硕；据表格中“我国成为世界上第三个独立掌握载人航天技术的国家”“中国开启探月时代”“成为世界上第三个成熟的卫星导航系统”“中国迈出了行星探测的第一步”等可得出独立自主研制并逐步跻身于世界先进行列。

(4) 开放性问题。可选择一位新中国航天英模并说明理由，如杨利伟：2003年，杨利伟搭乘着我国首架载人航天飞船“神舟五号”进入太空。历时 21 小时 23 分，并于次日成功降落返回，航天员杨利伟顺利完成了我国第一次载人航天任务，成为了“中国航天第一人”。如翟志刚：2008年，翟志刚搭乘神舟七号飞入太空，并圆满完成空间出舱任务，成为中国太空漫步第一人。

北京中考在线
BJ_zkao



北京中考在线
微信号：BJ_zkao



北京中考在线

北京中考在线
BJ_zkao



北京中考在线
微信号：BJ_zkao



北京中考在线