

# 历史试卷

2022. 05

考生 须知	<ol style="list-style-type: none"><li>1. 本试卷共8页，共两部分，共24题，满分70分。考试时间70分钟。</li><li>2. 在试卷和答题卡上认真填写学校名称、姓名和考试号。</li><li>3. 试题答案一律填涂或书写在答题卡上，在试卷上作答无效。</li><li>4. 在答题卡上，选择题用2B铅笔作答，其它试题用黑色字迹签字笔作答。</li><li>5. 考试结束，将本试卷和答题卡一并交回。</li></ol>
----------	---

## 第一部分

本部分共 20 题，每题 1.5 分，共 30 分。在每题列出的四个选项中，选出最符合题目要求的一项。

1. 位于河南东南部的舞阳贾湖遗址中，发现了精致的石器、陶器、炭化稻粒和家猪骨骼。这类考古发现还出现在  
A. 元谋人遗址  
B. 北京人遗址  
C. 山顶洞人遗址  
D. 河姆渡遗址
2. 夏、商、西周时期是中国王朝产生和发展的重要阶段，出现了青铜器、甲骨文和分封制。这说明  
A. 夏商周政权更替  
B. 高度发达的文明出现  
C. 青铜器工艺高超  
D. 甲骨文记载内容丰富
3. 春秋战国时期，学术思想非常活跃，各种学说蓬勃兴起。主张“仁者爱人”“为政以德”的学派是  
A. 道家  
B. 儒家  
C. 法家  
D. 墨家
4. 以下食物通过丝绸之路传入中原，最初都以“胡”字命名。与这些食物能够传入中原相关的历史事件是



胡瓜（今黄瓜）



胡豆（今蚕豆）



胡桃（今核桃）

- A. 商鞅变法  
B. 张骞通西域  
C. 鉴真东渡  
D. 郑和下西洋
5. 秦汉时期，黄河流域是全国经济重心，但到魏晋南北朝时期，原本地广人稀、生产落后的长江中下游地区显著发展。这说明魏晋南北朝时期  
A. 江南地区得到开发  
B. 北方民族大交融  
C. 经济重心南移完成  
D. 商品经济的发展



6. 某博物馆的解说词中写道：“（隋炀帝时期开凿的）①沟通南方与中原，促进不同区域的文化交流，带来经济的繁荣……泽被后世”。材料中①处应为
- A. 都江堰                  B. 灵渠                  C. 长城                  D. 大运河

7. 有学者认为，宋朝是中国历史的一个重要转折时期，传统的科学技术呈现出前所未有的巅峰状态。以下能说明这一观点的是

- ①蔡伦改进造纸术                                  ②活字印刷术的发明  
③指南针应用于航海                              ④火药广泛应用于军事


- A. ①②③                  B. ①②④                  C. ②③④                  D. ①③④

8. 某同学梳理中国古代某一地区相关史实（如下表）。表中①处对应的史实是

三国时期	隋朝	元朝	清朝
孙权派卫温到达夷洲	隋炀帝派人三赴流求	设置澎湖巡检司	①

- A. 设置西域都护                                  B. 设立宣政院  
C. 戚继光抗倭                                  D. 设置台湾府

9. 右图漫画选自《中国近代漫画史迹寻踪：外交风云》，该漫画反映某一条约签订后，清政府完全成为帝国主义统治中国的傀儡和工具。这一条约是



- A.《南京条约》                                  B.《北京条约》  
C.《马关条约》                                  D.《辛丑条约》 《今日之新傀儡》（漫画）

10. 1919年召开的巴黎和会上，美英法三国决定：“德国前在胶州及山东所有各项权利，一概放弃，交于日本”。以上材料可用于研究

- A. 五四运动的背景                              B. 新文化运动的原因  
C. 辛亥革命的影响                              D. 洋务运动的影响

11. 坚持中国道路是中国共产党百年奋斗历程的历史经验之一。20世纪20年代，从进攻大城市转向农村进军，是中国革命道路具有决定意义的新起点。这一新起点是

- A. 中共一大的召开                              B. 红军长征的开始  
C. 南昌起义的爆发                              D. 井冈山革命根据地创建

12. 抗日战争时期，中国共产党推动建立并维护抗日民族统一战线，提出并实施持久战的战略总方针和一整套人民战争的战略战术，开辟广大的敌后战场和抗日根据地。对以上材料理解正确的是

- A. 中国的国际地位得到提高                  B. 中国共产党是全民族抗战的中流砥柱  
C. 中国与反法西斯国家结盟                  D. 中国共产党领导人民彻底实现民族独立

13. 20世纪70年代，中国外交开创了新局面。下列属于这一时期外交成就的是

- A. 提出和平共处五项原则                  B. 参加万隆会议  
C. 恢复在联合国合法席位                  D. 开展全方位外交



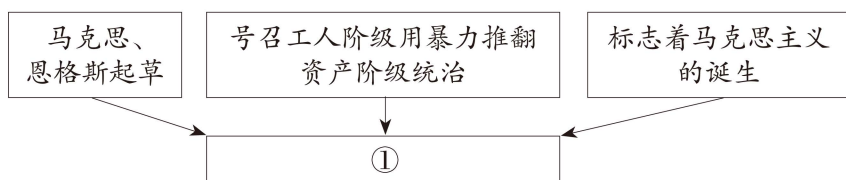
14. 以下是一位历史人物的部分经历。对此解读正确的是

1799 年	1804 年	1804 ~ 1815 年	1815 年
发动政变，组成新政府	颁布《民法典》	多次打败反法联盟	法兰西第一帝国覆灭

- A. 拿破仑巩固大革命成果  
B. 大革命摧毁欧洲君主专制  
C. 《民法典》维护共和政体  
D. 华盛顿领导民族解放战争
15. 19 世纪中期，为摆脱沦为殖民地的危险，日本实行一系列改革，走上了发展资本主义的道路。这一系列改革被称为

- A. 彼得一世改革  
B. 亚历山大二世改革  
C. 明治维新  
D. 卡德纳斯改革

16. 把握历史事物的要素是学习历史的重要方法之一。以下示意图中①处应为



- A. 《共产党宣言》  
B. 《独立宣言》  
C. 《人权宣言》  
D. 《权利法案》
17. 右侧是一位德国士兵 1914 年日记的部分内容。这反映出
- 8 月 15 日  
自从萨拉热窝的那次暗杀发生以来……谁能相信这样的事情也真会发生呢？  
与英国开战？还有什么别的强权会如此尽力阻挡德国赢得她在“太阳中的位置”？
- A. 第二次工业革命的原因  
B. 第一次世界大战的进程  
C. 第二次世界大战的影响  
D. 俄国十月革命的结果

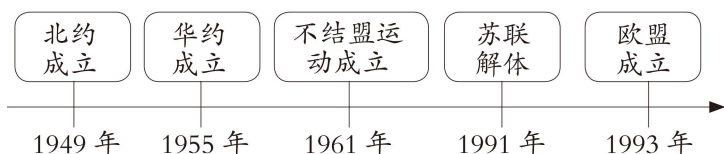
18. 20 世纪二三十年代，为了摆脱经济危机，德国、意大利和日本走上了侵略扩张道路。美国采取的应对措施是

- A. 新经济政策  
B. 罗斯福新政  
C. 斯大林模式  
D. 马歇尔计划

19. 第二次世界大战后，亚非拉民族独立浪潮改变着世界的面貌，例如非洲国家通过民族独立运动，摆脱了殖民主义的枷锁。同一时期类似的历史事件还有

- A. 印度民族大起义  
B. 印度非暴力不合作运动  
C. 拉丁美洲独立运动  
D. 巴拿马收回运河区主权

20. 以下示意图反映出国际政治格局的发展趋势是



- A. 凡尔赛—华盛顿体系形成  
B. 两极格局的形成  
C. 两极格局形成到多极化趋势发展  
D. 经济全球化出现波折



## 第二部分

本部分共 4 题，共 40 分。


21. (10 分) 农村、农业和农民是国家发展的重中之重。

材料一 1651 年（顺治八年），政府掌握的土地（耕地）只有 200 万顷；1685 年（康熙二十四年）增至 740 多万顷；1812 年（嘉庆十七年）已达 791 万余顷。由于注意了精耕细作，农田的单位面积产量也有显著提高。……江南地区开始推广双季稻，使单位面积产量进一步提高。此外，原产美洲的高产作物如番薯引入中国后，到清代由福建等沿海地区很快推广到河南、山东、河北、陕西、贵州等省。经济作物的种植也有了进一步发展，棉花的种植几乎遍布全国各地。


——齐涛《中国通史教程》古代卷

(1) 依据材料一，概括清朝前期农业发展的表现。(4 分)

材料二 18 ~ 19 世纪西欧农业生产的情景



18 世纪的耕地景象



蒸汽机犁地演示（约 1851 年）

(2) 依据材料二，指出农业生产方式有何不同。(2 分) 结合所学，分析农业生产方式变化的原因。(1 分)

材料三 1978 ~ 2000 年农村居民人均收支情况 (单位: 元)

年份	农民人均纯收入	农村家庭人均消费支出
1978	133.6	116.1
1992	784.0	659.0
2000	2253.4	1670.1

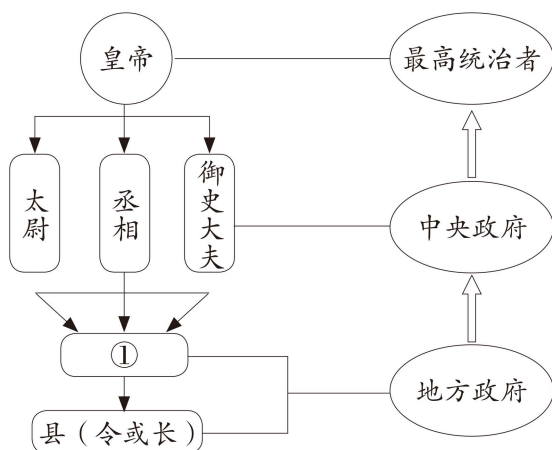
——陈锡文等《中国农村改革 40 年》

(3) 依据材料三，概括数据反映的现象。(1 分) 结合所学，分析上述现象出现的原因。(2 分)



22.(11分) 政治制度是国家治理的组成部分。

材料一 秦朝政治建制示意图



(1) 将示意图①处补充完整，(1分) 并概括秦朝政治制度的特点。(2分)

材料二 美国 1787 年宪法规定：国会由参议院和众议院组成，参议员由各州议会选出，每州两名，任期六年，每两年改选三分之一；众议员任期二年，按各州人口比例选举产生，但黑人只能按人口的五分之三计算，未被课税之印第安人不算。总统是国家元首、政府首脑和武装部队总司令，任期四年。总统由选民间接选举产生，即先由各州议会选出选举人，然后再由选举人选举总统。最高法院大法官由总统经参议院同意后任命，除非渎职，任职终身。

(2) 依据材料二，从积极和局限的角度，谈谈对 1787 年宪法的看法。(2分)

材料三

第二条 中华民国之主权属于国民全体。

第五条 中华民国人民一律平等，无种族、阶级、宗教之区别。

第十二条 人民有选举及被选举之权。

第十九条 参议院之职权……议决一切法律案。

第三十条 临时大总统代表临时政府，总揽政务，公布法律。

第五十一条 法官独立审判不受上级官厅之干涉。

——《中华民国临时约法》(1912年)

(3) 依据材料三，概括《中华民国临时约法》的主要内容。(2分) 结合时代背景，谈谈其历史进步性。(2分)

#### 材料四




名称	内容（部分）
1954 年 宪法	<p>第一条 中华人民共和国是工人阶级领导的、以工农联盟为基础的人民民主国家。</p> <p>第二条 中华人民共和国的一切权力属于人民。人民行使权力的机关是全国人民代表大会和地方各级人民代表大会。</p>
1982 年 宪法	<p>第一条 中华人民共和国是工人阶级领导的、以工农联盟为基础的人民民主专政的社会主义国家。</p> <p>第二条 中华人民共和国的一切权力属于人民。人民行使权力的机关是全国人民代表大会和地方各级人民代表大会。</p> <p>第十一条 在法律规定范围内的城乡劳动者个体经济，是社会主义公有制经济的补充。</p> <p>第十六条 国营企业在服从国家的统一领导和全面完成国家计划的前提下，在法律规定的范围内，有经营管理的自主权。</p>

(4) 结合材料四，从继承和发展的角度，谈谈两部宪法的关系。(2分)



23. (11分) 体育是社会发展与人类进步的重要标志。

材料一 以下是与中国古代体育相关的文物

		
①半坡遗址石球，表面光滑，学者推测其功能除了狩猎，也是墓主人的体育类玩具	②《塞宴四事图》(局部)，绘制了乾隆在围猎后举行摔跤等体育项目，并与蒙古各部首领相聚欣赏、增进感情	③马球仕女俑，展现了身穿胡服的唐朝女子，正在参与一种从波斯传入的马球运动

(1) 从材料一中找出能说明以下主题的文物。(3分。写序号，多选、错选不得分)

见证中国境内文明的起源：\_\_\_\_\_

见证繁荣与开放的时代：\_\_\_\_\_

见证清朝统一多民族国家的巩固与发展：\_\_\_\_\_

材料二 15 世纪，艺术作品开始歌颂人体的均衡发展和健康美，如达·芬奇从解剖学角度探讨人体的均衡和比例，还从力学角度研究人体的运动。人文主义者发现了古希腊体育的丰富遗产，如雅典的体操学校、泛希腊运动会、“健全的精神寓于健全的身体”的体育观念，与市民、资产阶级的生活情趣相结合，促进了现代体育思想的萌生。在新思想的影响下，（意大利）帕多瓦大学教授提出对青少年的通才教育，建议依据个人特点恰当地选择运动，培养身心全面发展的人。

——摘编自《体育史》

(2) 依据材料二，概括 15 世纪欧洲体育发展的表现。(2 分) 结合所学，指出促进其发展的因素。(2 分)

材料三 中国近代体育的相关文献（部分）

- 1890 ● 清政府颁布《奏定学堂章程》，确立现代学制基本框架，规定体操为各级各类学堂的必修科目
- 1896 ● 梁启超主编的《时务报》，第一次将西方称呼中国所用“东方病夫”一词翻译成中文，用以鞭策国人自省
- 1917 ● 《新青年》刊登毛泽东的文章《体育之研究》，把个人锻炼和国家民族兴衰联系起来





(3) 从材料三中，任选两项文献，说出其出现的背景。(2 分)

材料四 2016 年，中共中央、国务院印发《“健康中国 2030”规划纲要》，明确指出，实现国民健康长寿，是国家富强、民族振兴的重要标志。截至 2019 年底，我国人均体育场地面积达到 2.08 平方米；截至 2020 年底，全国累计拥有社会体育指导员 260 万人。“农民体育健身工程”已基本实现行政村全覆盖，城市社区“15 分钟健身圈”建设成绩斐然。全国经常参与体育锻炼的总人数近 4 亿，城乡居民达到《国民体质测定标准》合格以上的近九成。

(4) 依据材料四，指出当代中国体育发展取得的成就。(2 分)

24. (8分) 交通发展与社会进步密切相关。

材料一 宋代海路交通

	<p>舟师（船上的技术人员）识地理，夜则观星，昼则观日，阴晦（阴天）则观指南针</p>	
<p>①“南海I号”宋代远洋贸易沉船，残长22.95米，水密隔舱设计，装载多种货物，瓷器为大宗</p>	<p>②北宋朱彧《萍洲可谈》记载</p>	<p>③泉州海上丝绸之路艺术公园雕塑，展现了宋代泉州作为世界大港口的辉煌</p>

(1) 从材料一中选出研究宋代海路交通最可信的两则材料。(2分。写序号，多选、错选不得分) 依据最可信的材料，概述宋代海路交通发展的表现。(2分)

材料二 《哥伦布航海日记》是欧洲第一部记述新大陆以及欧洲人在新大陆活动的作品，一经问世，大受欢迎。其中记录了哥伦布一行首次西航的经历，包括帆船构造，航行风向、里程，及途中见闻。例如：

十月十一日：凌晨两点，发现了陆地……登陆后看见岛上树木葱茏，水源充足……他（哥伦布），当着众人的面，以其主人国王和王后的名义占领了这个岛屿。

——摘编自《哥伦布航海日记》

(2) 依据材料二，从当时和现今两个角度分析《哥伦布航海日记》的价值。(2分)

材料三 丰台火车站建于1895年，是北京最早的火车站，由清政府向英国借款修建。民国时期，它是京张铁路、京汉铁路及京奉铁路的连接站。新中国成立后，丰台站成了华北地区的重要交通枢纽。1956年建成的丰台西站分流了丰台站的部分任务，但丰台火车站的地位仍然举足轻重。2022年，改建后的丰台火车站即将开通。新丰台站是我国首座采用高速、普速重叠的双层高架车场的大型客运站，设有充分利用自然光照明的中央光庭，车站屋顶铺设太阳能发电板，为站内照明、取暖、制冷等设备提供能源。

(3) 结合材料三，谈谈对丰台火车站发展变迁的认识。(2分)

