

2022 北京门头沟初三一模

历史

2022.4

考生须知	<p>1.本试卷共 12 页，分为两部分，第一部分选择题，20 个小题，共 30 分；第二部分非考选择题，4 道题，共 40 分。</p> <p>2.请将条形码粘贴在答题卡相应位置处。</p> <p>3.试卷所有答案必须填涂或书写在答题卡上，在试卷上作答无效。请使用 2B 铅笔填涂，用黑色字迹签字笔或钢笔作答。</p> <p>4.考试时间 70 分钟，试卷满分 70 分。</p>
------	---

第一部分 选择题

本部分共 20 题，每题 1.5 分，共 30 分。在每题列出的四个选项中，选出最符合题目要求的一项。

1. 考古发现是了解人类社会发展的主要证据。在门头沟东胡林遗址出土的炭化粟和黍（如下图），说明东胡林人



- A. 已经种植农业作物
B. 以采集狩猎为生
C. 开始制造使用工具
D. 会利用保存火种

2. 每年农历六月二十四日和六月二十六日，人们纷纷来到二王庙，举行祭祀活动和开水（岁修完工后放水）典礼，纪念使长期苦于水旱灾害的川西平原成为富庶的“天府之国”的李冰父子，因为他们修建了

- A. 灵渠
B. 大运河
C. 通惠河
D. 都江堰

3. “孝公用商鞅之法，移风易俗，民以殷盛，国以富强，百姓乐用，诸侯亲服，获楚、魏之师，举地千里，至今治强。”这段材料指的是商鞅变法的

- A. 背景
B. 目的
C. 过程
D. 影响

4. 2022 年初，央视播放的五集反腐纪录片《零容忍》刷屏，引发热议，早在秦朝，秦始皇为加强对官员的监察，设置了

- A. 丞相
B. 太尉
C. 御史大夫
D. 县令

5. 集邮兴趣小组的同学搜集到一组邮票进行展示交流，他们交流的主题应该是



- A. 绘画水平高超
B. 医学领先世界
C. 手工技艺精湛
D. 都市生活繁荣

6. 下表是对中国古代历史人物的梳理，其中①处的人物是

类别	中国古代人物
第一类	张骞 鉴真 玄奘
第二类	张仲景 华佗①
第三类	李白 苏轼 关汉卿

- A. 董仲舒 B. 李时珍 C. 祖冲之 D. 戚继光

7. 某学习小组开展题为“中国古代民族关系史”的研究，下列符合这一研究要求的是

- ①文成公主入藏②宣政院③郑和下西洋④驻藏大臣

- A. ①②③ B. ①②④ C. ①③④ D. ②③④

8. 陈旭麓在《近代中国社会的新陈代谢》中写道：“鸦片战争是中西之间的武力较量 and 竞争……，展现在中国人眼前的第一个形象就是坚船的迅速，利炮的声势。”面对西方来势汹汹的坚船利炮，洋务运动中洋务派创办了一批近代军事工业，下列可以体现洋务派追求“自强”目标的是

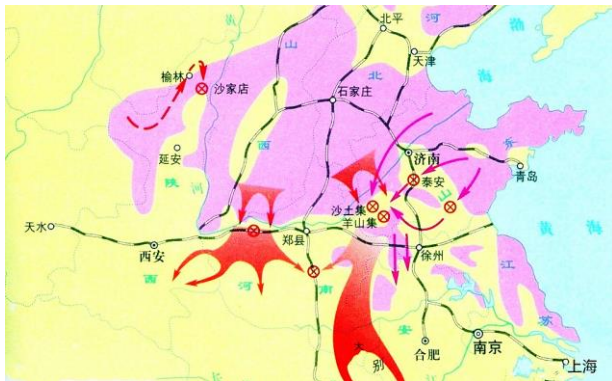
- A. 轮船招商局 B. 汉阳铁厂 C. 湖北织布局 D. 江南机器制造总局

9. 中国历史上不乏爱国主义。然而，只有五四精神才第一次把爱国、进步、民主、科学紧密地联系在一起。以下反映五四精神的口号是

- ①打倒列强除军阀②外争主权，内除国贼③取消二十一条④誓死力争，还我青岛

- A. ①②③ B. ②③④ C. ①②④ D. ①③④

10. 通过对历史地图研究能够获得更多历史信息，深刻理解历史事件。依据下图内容，判断该历史地图的名称是



- A. 卢沟桥事变形势图 B. 北伐战争形势示意图
C. 二次革命进军路线示意图 D. 刘邓大军挺进大别山示意图

11. 下列图片反映的历史事件，结束了国民党在大陆的统治的是



五四运动



人民解放军占领南京总统府



南昌起义



重庆谈判

A.

B.

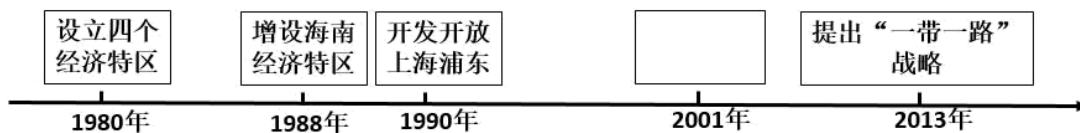
C.

D.

12. 下列哪一项不属于中国在 20 世纪 70 年代取得的外交成就

- A. 中日建交
- B. 中美两国正式建立外交关系
- C. 提出和平共处五项原则
- D. 中国恢复在联合国的合法席位

13. 在“对外开放进程”年代尺空白处应填写



- A. 加入世界贸易组织
- B. 实施西部大开发战略
- C. 成立环渤海经济区
- D. 建立中国—东盟自由贸易区

14. 论从史出，史论结合是学习历史的基本原则。以下内容符合这一原则的是

- A. 鸦片战争——中国完全沦为半殖民地半封建社会
- B. 中国共产党的诞生——中国革命的面貌焕然一新
- C. 一五计划的完成——中国社会主义基本制度建立
- D. 香港、澳门回归——标志着祖国统一大业彻底完成

15. 文艺复兴揭开了近代欧洲历史的序幕。下列关于文艺复兴的说法有误的是

- A. 促进资本主义的发展
- B. 鼓励人们追求幸福生活
- C. 肯定人的价值和尊严
- D. 是古希腊、罗马文化的复兴

16. 房龙在《人类的故事》中写道：议会起草了一份更激进的《权利法案》，……于是，1689 年，英国获得了欧洲其他任何国家都没有的自由。《权利法案》的颁布，标志英国确立的资产阶级政体是

- A. 联邦制
- B. 君主立宪制
- C. 君主专制
- D. 民主共和制

17. 1936 年，毛泽东与美国记者斯诺谈话时说：正是《____》这部马克思主义著作，使我树立起对马克思主义的信仰。我接受了马克思主义，认为它是对历史的正确解释，以后，就一直没有动摇过。这部著作指的是

- A. 《共产党宣言》
- B. 《独立宣言》
- C. 《论联合政府》
- D. 《人民宪章》

18. 李明正在准备手抄报的资料，其内容涉及“德国闪击波兰”“斯大林格勒战役”、“诺曼底登陆”、“日本偷袭珍珠港”，他手抄报的题目最有可能是



- A. 第一次世界大战
- B. 东西方冷战格局的结束
- C. 第二次世界大战
- D. 西方大国称霸世界的企图

19. 对下面表格信息解读正确的是

时间	事件
1955年	万隆会议的召开
1960年	非洲独立年
1999年底	巴拿马收回运河全部主权

- A. 社会主义国家的扩展
- B. 拉美人民捍卫主权
- C. 亚非拉国家的新发展
- D. 资本主义制度的发展

20. 下侧漫画反映的历史事件是



We tried everything but explosive.
(我们采取了除战争以外的一切手段)

- A. 冷战
- B. 多极化趋势
- C. 欧共同体形成
- D. 北约与华约对峙



第二部分 非选择题

21. 农业、农村、农民的三农问题，是关系国计民生的重大问题。

材料一

	<p>②北魏贾思勰《齐民要术·序》记载：“今采摭经传，爰及歌谣；询之老成，验之行事；直自耕农，终于醯醢。资生之业，靡不毕书，号曰《齐民要术》。凡九十二篇，分为十卷，卷首皆有目录。”</p>
<p>①春秋战国时期的铁制农具</p>	

③唐代杜佑《通典》记载：“（开元十三年）米斗至十三文，青齐谷斗至五文。自后天下无贵物，两京米斗不至二十文，面三十二文，绢一匹二百一十文。”



④东汉画像砖《牛耕图》



(1) 将材料一中的内容按实物史料和文献史料进行分类（填序号即可）

实物史料：_____ 文献史料：_____

材料二 贞观十六年，太宗以天下粟价率计斗值五钱，其尤贱处，计斗值三钱，因谓侍臣曰：“国以民为本，人以食为命。若禾黍不登（没有丰收），则兆庶非国家所有。既属丰稔（rěn）若斯，朕为亿兆人父母，唯欲躬务俭约，必不辄为奢侈。”

——吴兢《贞观政要》

(2) 依据材料二并结合所学，说出在这位皇帝统治时期出现了哪一盛世景象？为达成这一治世局面，他采取了哪些有利于人民的措施？

材料三 这样，亚历山大二世通过把农民“抢得精光”的办法，换取地主对农民人身自由的法律认可，同时给资本主义经济发展提供劳动力，从而在维护地主阶级利益，满足资产阶级发财欲望的基础上，巩固和扩大沙皇专制统治的社会基础。

——摘自夏金霖《俄国农奴制废除中的对立与斗争》

(3) 依据材料三，概括俄国废除农奴制改革的影响

材料四 1933年的农业调整政策在罗斯福的第一个任期内也确实起到了减少产量、提高农产品价格和农民收入的作用。如，“在1933年的7月18日小麦急剧地减产了，其他作物也同它一样地减产。”“1935年，美国农民的农业净收入已较1932年增加了1.6倍，相当于危机前的1929年的85.8%；同期，农民的实际购买力水平已经由1932年的高点低至3.3%。”总的农场收入上升了50%，农作物的价格升高了并且农村的债务也迅猛减少了。

——摘自刘姗《试论1933年罗斯福新政中〈农业调整法案〉的不利影响》

(4) 依据材料四并结合所学，说出美国颁布《农业调整法》背景及调整农业政策的特点。

材料五 1978年以来中国农业发展大事记(部分)

时间	大事
1978年	党的十一届三中全会通过的《中共中央关于加快农业发展若干问题的决定（草案）》明确指出，要“加强劳动组织，建立严格的生产责任制”。
1982年到1986年	中央连续出台了5个“一号文件”，家庭联产承包责任制被正式确立为我国农村的基本经营制度。
2004年	《中共中央国务院关于促进农民增收增加收入若干政策的意见》作为中央一号文件正式公布。时隔18年之后中央一号文件重新回归“三农”的主题。

2019年	农村居民人均可支配收入突破1.6万元，提前一年比2010年翻一番，增速连续10年高于城镇居民，城乡居民收入差距持续缩小，由2015年的2.73:1缩小到2019年的2.64:1。
2004年到2020年	中国粮食总产区历史性的十七连丰，连续六年稳定在1.3万亿斤以上。
2021年	现行标准下的9899万农村人口全部脱贫，832个贫困县全部摘帽，12.8万个贫困村全部出列，区域性整体贫困得到解决，完成了消除绝对贫困的艰巨任务。
2022年	《中共中央国务院关于做好2022年全面推进乡村振兴重点工作的意见》发布，明确了两条底线任务:保障国家粮食安全和不发生规模性返贫。(注:国家粮食安全是指所有人在任何时候都能在物质、社会和经济上获得充足、安全和富有营养的粮食，以满足其积极和健康生活的膳食需求和食物偏好。)

(5) 依据材料五，概括1978年以来我国农业取得的成就，就保障国家粮食安全这一问题谈谈你的看法？

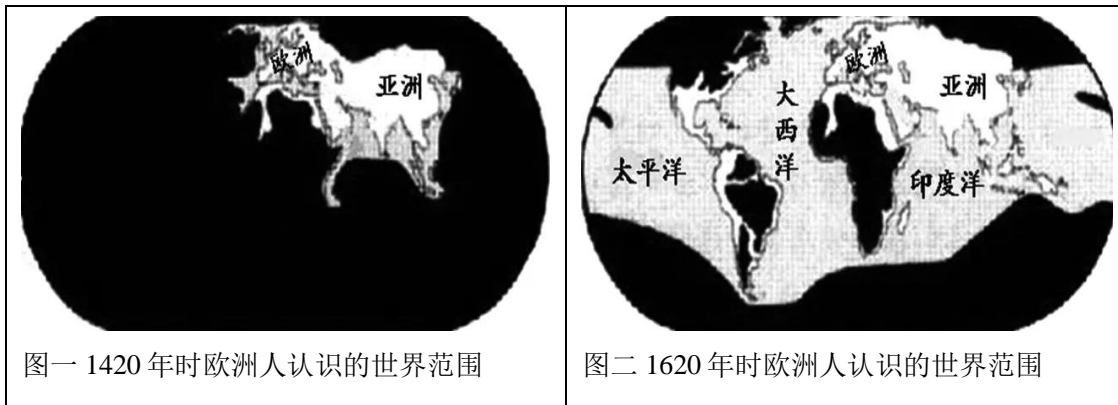
23 交流·冲突·合作

材料一 亚历山大的东征，罗马帝国的扩张，阿拉伯帝国的征服……无疑是古代史上突破相互孤立隔绝的重大事件。但横贯亚欧大陆丝绸古道上的商队来往，联系太平洋西海岸、印度洋、地中海……诸海航路的船只航行，对传播生产技术、文化知识于古代世界各地也许是更为重要的。

——摘自吴于廑、齐世荣《世界史·古代史编·总序》

(1) 依据材料一并结合所学，指出古代史上突破世界各地相互孤立隔绝的主要方式？材料一认为古代世界各地的文化交流主要通过哪种方式进行？

材料二



(2) 材料二中，图一到图二的变化与哪一历史事件有关？说说这一历史事件对世界历史产生的影响。

材料三

	第一次世界大战	第二次世界大战
根本原因	①	
参战国(个)	30多	60多
卷入人口(亿)	15	20

参战人员（亿）	0.7	1.1
伤亡人员（亿）	0.3	1.9
直接经济损失	1805	4000
战后格局	②	雅尔塔体系



(3) 将表格①②处补充完整。依据材料三，分析战争给人类带来的影响？

材料四 “人类命运共同体”是中国领导人对走和平发展道路、奉行合作共赢的开放战略、恪守维护世界和平、促进共同发展外交宗旨的承诺，包括共同、综合、合作、可持续的安全观，公平、开放、包容、共赢的发展观，和而不同、兼收并蓄的文明交流，以及尊重自然、环境友好的生态文明。根据中共十九大报告，人类命运共同体的宗旨是“建立持久和平、普遍安全、共同繁荣、开放包容、清洁美丽的世界”。

——摘自李东燕《人类命运共同体》

(4) 依据材料四，概括“人类命运共同体”的核心观点。

25. 教育传承着文明，每一个优秀民族都会重视教育事业的发展。

材料一 依据司马迁的说法，孔子一生弟子众多，身通六艺者有七十余人。授徒讲学当然促进了知识和思想的传播，师徒的关系也自然地造就出一个关系紧密的团体，从而推动了作为一个学派的儒家的形成。

——摘自袁行霈主编的《中华文明史》

(1) 依据材料并结合所学，说出孔子在教育方面的贡献，儒家学派的核心思想是什么？

材料二 从隋唐至明清，科举既成了教育的手段，也成为教育的目的。作为整个教育的重心，科举的影响无所不在，为求“中举及第”的科举本身就是一种应试教育。……这种应试教育的最大弊病是士人都自动地挤到一条狭窄的成才之路上，这在一定程度。上压抑了个性的发展，束缚了人们的聪明才智。另一方面，科举不考体能，许多人考过了秀才，中了举人，已是疾病缠身，英年早逝，何谓报国卫家？科举重八股制艺、楷法试贴，士人便追求八股精通、楷法圆美。至于其他学问，统统弃之不顾。这种知识偏狭、学非所用的弊病越到后来越是暴露无遗，尤其是在列强环伺，民族危机的情况下，这种科举教育更是难以适应时代的需要，因而不得不加以改革，在改革还来不及跟上社会急速变迁之需时，则未能摆脱被废止的命运。

——摘编自纪秀琴《试析中国古代科举制度对学校教育的影响》

(2) 依据材料二，指出科举教育的目的是什么？分析科举制被废除的原因？

材料三 1900年日本拥有大学、高等学校9所。1878-1900年共培养35200名大学毕业生，基本上满足了日本近代经济发展和社会管理对高级专业人才的需求。此外，日本认真学习西方的实业技术教育制度，注重中等技术专业人才的培养，到1900年中等实业技术学校已有290所，为正在进行工业革命的日本工厂、企业输送了数以万计的熟练、敬业的技术员和技工。明治时期的教育成果不断转化为生产力，推动了日本资本主义现代化的各项事业迅速发展。

——摘编自马克垚主编的《世界文明史》

1968年是德国高等教育的一个重要转折点。德国政府开始进行高等教育改革，积极引导普通高等教育与高等职业教育在“双轨”上共同生长，在保持具有高学术水平大学的同时，也重点扶持以实践为主要特色的高等专科学校和职业学院。

德国教育并行中依然重视职业教育，理论与实践相结合的“双元制”职业教育在德国的教育体系中占据着重要的地位。当今，德国经济依靠高等教育与职业教育“两条腿”稳步前行。

——摘编自姜炎《德国二战后经济发展与高等教育制度》

(3) 依据材料三，指出日本与德国在近现代教育上的共同点。从中可以获得什么启示？

材料四新中国成立 70 周年教育的变化

【建国初期】学龄儿童入学率 20%左右,全国 80%以上人口是文盲。

[2018 年] 九年义务教育巩固率达 94.2% 普通本专科在校学生 2831 万人，高等教育毛入学率已达到 48.1%，高于中高收入国家平均水平;中等职业教育学校达到 10340 所。

(4) 依据材料四，指出从建国初期到 2018 年我国教育水平的变化？并分析其原因。

27. 胡同，街也。北京胡同作为纵贯古今的建筑标志，承担着不可替代的重要功能。

材料一 当权者的决策对胡同的诞生、发展、衰退及至消亡都起到至关重要的作用。最初，忽必烈为了显示大一统国家首都的气派和尊贵，营建了气势宏伟的都城，宽约 9 米两侧为四合院的笔直的胡同也就随之诞生了。明清时期，统治者对胡同两侧的四合院从制度、规模、色彩各方面均作了严格规定（北京胡同在清代开始了清晰的行政管辖职责，开始严格规划城区胡同）。同时，人口数量大幅增长，作为居民赖以生存的居住条件，北京胡同建筑数量明显增加。大栅栏一带的店铺、酒楼等应有尽有，胡同临街的四合院都被改造成了店铺和商号。

——摘编自李坤《近现代北京胡同的历史变迁及其文化价值》

(1) 说出胡同诞生的朝代。概括明清时期胡同的变化并分析原因。

材料二 以下是与近代历史相关的数条胡同

序号	胡同名称	位置
①	北沟沿胡同	位于东城区东北部，胡同内 23 号院为梁启超故居
②	东交民巷	西起天安门广场东路，东至崇文门内大街
③	箭杆胡同	位于北京市东城区西南部，胡同内 20 号院为陈独秀故居
④	手帕胡同（佟麟阁路）	位于北京市西城区宣武门内地区，1945 年为纪念抗日将领佟（佟麟阁路）麟阁改为现名。



(2) 从材料二中选择一条胡同，说明它的历史文化价值。仿照示例完成，不得选用示例中的胡同。

示例：

胡同名称：④手帕胡同

历史文化价值：佟麟阁是在 1937 年“七七事变”爆发后牺牲在北平的国民党高级将领。“七七事变”的爆发标志着全民族抗战的开始。

材料三 新中国成立后北京市东城区花市一带主要手工业发展情况一览表（部分）

行业	作坊	位置	发展情况
牙雕	1954 年共有象牙雕刻作坊 21 户	花市上下唐刀胡同、上下堂子胡同等	1958 年，两个象牙生产合作社、骨刻社和公私合营的唐敬业象牙厂合并成立北京象牙雕刻厂

挑补 绣花	1955年，共有挑 补绣花业31户	花市一带	1958年成立东花市机绣厂和龙潭刺绣厂
----------	----------------------	------	---------------------

——摘编自郭明晖《北京花市手工艺文化历史变迁研究》

(3) 说出表格中的手工业发展变化的历史背景和意义。

材料四 南锣鼓巷的开发，采取以旅游和文化活动为主导的方式是合适而有益的。中心的商业设施为开发活动提供了服务，开发为商业服务提供了资金回报。但要警惕在发展中可能出现的两种危险：一是所得利益作用不到文化遗产四合院的保护中；一是商业的过度发展超过了开发的阈值，对四合院和传统街景的保护形成破坏。如果这种态势得不到有效地控制，那么后果将是十分严重的，即便这样的开发从商业的角度上来讲是非常成功的，但在已经被定位为文化遗产保护区的南锣鼓巷，只要保护的目的是没有达到，就是违背了“保护”的宗旨。

——摘编自周浩明《南锣鼓巷的过去、现在与未来》

(4) 结合南锣鼓巷的开发，请你为北京胡同的发展提出具体、可行的建议。



参考答案

1. 【答案】D

【解析】

【详解】在门头沟东胡林遗址出土的炭化粟和黍，可以说明东湖林人已经开始使用火，D项正确；这些碳化的粮食有可能是采集而来，而不一定是种植而来的，排除A项；根据这些炭化的作物无法说明东湖林人以狩猎为生和开始制造使用工具，排除BC项。故选D项。

2. 【答案】D

【解析】

【详解】春秋战国的经济有重大发展。冶铁技术出现，铁制农具广泛使用，牛耕也得到推广。各国纷纷兴建水利灌溉工程，如都江堰、郑国渠，大大提高了农业生产率。其中公元前256年，秦国蜀郡郡守李冰主持，在成都附近的岷江上修建了都江堰。D项正确；A项是秦始皇开通的，B项是隋朝开通的，C项是元朝开通的，排除ABC项。故选D项。

3. 【答案】D

【解析】

【详解】根据“民以殷盛，国以富强，百姓乐用，……举地千里，至今治强”可得出材料强调的是商鞅变法使秦国走向强大，属于影响，D项正确；排除ABC项。故选D项。

4. 【答案】C

【解析】

【详解】根据所学可知秦始皇为加强中央集权，在中央设立御史大夫，负责监察百官，C项正确；丞相负责行政，排除A项；太尉负责军事，排除B项；县令是地方行政长官，排除D项。故选C项。

5. 【答案】C

【解析】

【详解】根据材料“四羊方尊”、“长信宫灯”、“唐三彩”、“扁壶”可知表述的是古代精湛的手工业技艺，C项正确；材料主旨强调的是手工业技艺，没有涉及绘画、医学、都市生活的繁荣，排除A、B、D三项。故选C项。

6. 【答案】B

【解析】

【详解】根据所学知识，张仲景、华佗属于医学界人物，李时珍是明朝医药学家，B项正确；董仲舒是思想家，排除A项；祖冲之属于科学家，排除C项；戚继光属于民族英雄，排除D项。故选B项。

7. 【答案】B

【解析】

【详解】根据所学知识可知，文成公主入藏、宣政院、驻藏大臣分别反映了唐朝、元朝、清朝时期汉藏之间的友好关系，B项正确；郑和下西洋是明朝对外交往的史实，排除ACD项。故选B项。

8. 【答案】D

【解析】



【详解】根据所学，从19世纪60年代起，洋务派以自强为口号，发展近代军事工业，先后创办了安庆内军械所、江南制造总局、福州船政局等一批近代军事工业。D项正确；从19世纪70年代起，洋务派提出“求富”的主张，开办一些近代民用企业，比如轮船招商局、开平煤矿、汉阳铁厂、湖北织布局等。排除ABC项。故选D项。

9. 【答案】B

【解析】

【详解】根据所学可知，1919年，五四运动爆发，它主张“外争主权、内除国贼——取消二十一条——誓死力争、还我青岛”等口号，体现了爱国的特征，B项正确；打倒列强除军阀是北伐战争的口号，排除ACD三项。故选B项。

10. 【答案】D

【解析】

【详解】从地图中的“西北解放军”解放军主力“可得出这是解放战争时期的内容，根据行军路线可得出是刘邓大军挺进大别山示意图，1947年夏，刘伯承、邓小平率领晋冀鲁豫解放军主力，强渡黄河，千里挺进大别山，直接威胁南京、武汉，揭开了人民解放军战略进攻的序幕，D项正确；卢沟桥事变在北京，排除A项；北伐是由南向北，排除B项；袁世凯为了建立独裁统治，一再破坏责任内阁制。1913年春，宋教仁遇刺身亡；袁世凯武力镇压国民党。孙中山和黄兴等号召南方各省起来反袁，发动“二次革命”。这场革命是以孙中山为首的资产阶级革命派，为反对袁世凯的独裁专制和军事进攻，保卫民主共和的一次武装斗争，是辛亥革命的继续，所以称之为二次革命。排除C项。故选D项。



11. 【答案】B

【解析】

【详解】根据所学，1949年4月23日南京解放，标志着南京国民政府 覆灭。B项正确；五四运动是新民主主义革命的开端，排除A项；南昌起义打响了武装反抗国民党反动派的第一枪，排除C项；重庆谈判是在解放战争爆发前，排除D项。故选B项。

12. 【答案】C

【解析】

【详解】根据所学，提出和平共处五项原则是1953年，A项错误，符合题意；ABD项是1972年、1979年、1971年，ABD项正确，不符合题意。故选C项。

13. 【答案】A

【解析】

【详解】根据所学知识，2001年12月，经过长达15年的谈判，中国成为世界贸易组织的一员。中国加入世界贸易组织，为我国参与经济全球化开辟了新途径，为国民经济和社会发展开辟了新空间，A项正确；1999年9月，中央召开十五届四中全会，正式决定实施西部大开发战略，排除B项；1986年5月26日，中国环渤海经济区成立，排除C项；2010年1月1日正式建立中国—东盟自由贸易区，排除D项。故选A项。

14. 【答案】B

【解析】

【详解】1921年7月23日。中共一大在上海召开，之后转移到浙江嘉兴南湖游船上。提出党的奋斗目标是推翻资产阶级政权，建立无产阶级专政的政权，以达到最终消灭阶级，实现共产主义；主要任务是组织和领导工人运动。选举出党的领导机构中央局，选举陈独秀为书记。中共一大，宣告中国共产党诞生了。中国共产党的成立是中华民

族发展史上开天辟地的大事，自从有了中国共产党，中国革命的面貌焕然一新。中国人民踏上了争取民族独立、人民解放的光荣道路，开启了实现国家富强、人民富裕的壮丽征程。B项正确；A项是《辛丑条约》的签订，排除A项；C项是三大改造，排除C项；香港、澳门回归只是祖国统一大业迈出的重要一步，排除D项。故选B项。

15. 【答案】D

【解析】

【详解】根据材料“文艺复兴揭开了近代欧洲历史的序幕”并结合所学可知，文艺复兴不是单纯地复兴古希腊、罗马文化，而是借复兴之名，宣传资产阶级思想文化的运动，D项符合题意；文艺复兴促进了资本主义的发展，肯定人的价值和尊严，鼓励人们追求幸福生活，A、B、C三项表述正确，不符合题意，排除。故选D项。

16. 【答案】B

【解析】

【详解】根据所学，1689年《权利法案》的颁布，限制了王权，使英国逐步确立起君主立宪制，B项正确；ACD项不是《权利法案》的内容，排除ACD项。故选B项。

17. 【答案】A

【解析】

【详解】根据所学可知，1848年，《共产党宣言》发表，马克思主义诞生，在新文化运动后期，毛泽东读到它，使他树立起对马克思主义的信仰，于是他接受了马克思主义，认为它是对历史的正确解释，以后，就一直没有动摇过，A项正确；《独立宣言》《人民宪章》均是资产阶级文献，《论联合政府》是毛泽东写了新民主主义文献，排除BCD三项。故选A项。

18. 【答案】C

【解析】

【详解】根据材料“德国闪击波兰”、“斯大林格勒战役”、“诺曼底登陆”、“日本偷袭珍珠港”，结合所学知识可知，“德国闪击波兰”标志着二战全面爆发，“斯大林格勒战役”是二战的转折点之一，“诺曼底登陆”开辟了欧洲第二战场，“日本偷袭珍珠港”使二战达到最大规模。由此可见，这些内容都是反映了第二次世界大战。C项正确；材料与第一次世界大战无关，排除A项；苏联解体标志着东西方冷战格局的结束，排除B项；“斯大林格勒战役”、“诺曼底登陆”反映的是世界人民反法西斯，排除D项。故选C项。

19. 【答案】C

【解析】

【详解】根据“万隆会议的召开”“非洲独立年”“巴拿马收回运河全部主权”可得出亚非拉国家纷纷争取民族独立以及捍卫民族独立的成果，反映出亚非拉国家的新发展，C项正确；材料反映的不是社会主义国家的建立，不能反映社会主义国家的扩展，排除A项；材料中还有亚洲地区，排除B项；材料没有体现资本主义国家的发展，排除D项。故选C项。

20. 【答案】A

【解析】

【详解】冷战是指除了诉诸武力之外的一切敌对行动。图片中“美苏之间隔了一道铁幕，我们采取除战争之外的一切手段”说明漫画的主旨是冷战，A项正确；多极化趋势与漫画中冷战信息不符合，排除B项；欧共体形成与西欧国家有关，漫画中没有体现出西欧国家信息，排除C项；北约与华约在材料中没有体现，排除D项。故选A项。

21. 【答案】(1) ①. ①④ ②. ②③

(2) 贞观之治：制定法律，减省刑罚；增加科举考试科目，鼓励士人报考等。

(3) 改革废除了农奴制，促使社会的各个方面出现了新的气象，推动俄国走上了发展资本主义的道路。

(4) 背景：经济危机的爆发；农业生产遭到巨大破坏；特点：国家干预；

(5) 成就：农业总产值增长；农民收入增加；人民生活水平提高；看法：我国重视粮食安全工作，铸牢粮食安全底线。粮食安全是国家安全体系的重要内容；保障国家粮食安全是国家生存与发展的重要保障；是人民幸福安康的前提；是实现国家利益最根本的保障；有利于巩固脱贫攻坚成果，推进乡村振兴战略；有利于满足人民日益增长的美好生活需要；如果没有粮食安全做保障，国家总体安全必然缺乏有力支撑等。

【解析】

【小问 1 详解】

根据所学，出土的文物都是实物史料，史书记载都是文献史料。因此①④是实物，②③是文献。

【小问 2 详解】

根据所学可得出，唐太宗统治期间，政治比较清明，经济得到进一步发展，国力增强，文教昌盛的盛世局面，被称为“贞观之治”。根据所学可得出唐太宗吸取隋朝速亡的历史教训，勤于政事，虚心纳谏，从善如流。大臣魏征敢于直言，前后进谏 200 多次。广纳贤才，知人善任。著名宰相房玄龄、杜如晦。用人唯贤是出现“贞观之治”的重要原因。进一步完善三省六部制，明确中央机构的职权及决策程序；制定法律，减省刑罚；增加科举考试科目，鼓励士人报考，进士科逐渐成为最重要的科目；严格考查各级官吏的政绩。经济上，减轻人民的劳役负担，鼓励发展农业生产。军事上，先后击败东、西突厥，加强了对西域的统治。

【小问 3 详解】

1861 年俄国农奴制改革是俄国历史上的一个重要转折点。改革废除了农奴制，促使社会的各个方面出现了新的气象，推动俄国走上了发展资本主义的道路。

【小问 4 详解】

背景：根据“1933 年的农业调整政策在罗斯福……”可得出是经济危机的爆发；农业生产遭到巨大破坏；特点：根据罗斯福新政的特点可得出是国家干预；

【小问 5 详解】

成就：根据所学可得出农业总产值增长；根据“农村居民人均可支配收入突破 1.6 万元，提前一年比 2010 年翻一番”得出农民收入增加；根据“现行标准下 9899 万农村人口全部脱贫，832 个贫困县全部摘帽，12.8 万个贫困村全部出列，区域性整体贫困得到解决，完成了消除绝对贫困的艰巨任务。”得出人民生活水平提高；看法：综合材料和所学，可从我国重视粮食安全工作，铸牢粮食安全底线。粮食安全是国家安全体系的重要内容；保障国家粮食安全是国家生存与发展的重要保障；是人民幸福安康的前提；是实现国家利益最根本的保障；有利于巩固脱贫攻坚成果，推进乡村振兴战略；有利于满足人民日益增长的美好生活需要；如果没有粮食安全做保障，国家总体安全必然缺乏有力支撑等方面概括。

23. 【答案】(1) 战争（暴力冲突）；和平方式

(2) 新航路开辟；世界开始连为一个整体，世界的观念也从此逐步确立起来，人类社会从此进入了一个新的时代。

(3) 补充：①帝国主义国家间经济政治发展不平衡；②凡尔赛—华盛顿体系；影响：战争是残酷的，给人类带来巨大的灾难，给人民的生命和财产带来重大损失。

(4) 建设持久和平、普遍安全、共同繁荣、开放包容、清洁美丽的世界

【解析】

【小问 1 详解】

根据材料一“亚历山大的东征，罗马帝国的扩张，阿拉伯帝国的征服……无疑是古代史上突破相互孤立隔绝的重大事件”结合所学可知突破世界各地相互孤立隔绝的主要方式是战争；根据材料一“但横贯亚欧大陆丝绸古道上的商队来往，联系太平洋西海岸、印度洋、地中海……诸海航路的船只航行，对传播生产技术、文化知识于古代世界各地也许是更为重要的”可知认为古代世界各地的文化交流主要通过和平方式进行。

【小问 2 详解】

材料二中，从图一 1420 年时欧洲人认为只有亚洲和欧洲，图二中 1620 年认识到世界有亚洲、非洲、欧洲、美洲组成，而这些变化都是与新航路开辟有关。根据所学可从世界开始连为一个整体，世界的观念也从此逐步确立起来，人类社会从此进入了一个新的时代，来回答新航路开辟对世界历史产生的影响

【小问 3 详解】

补充：根据材料结合所学可知第一次、第二次世界大战的根本原因是帝国主义国家间经济政治发展不平衡；一战后通过巴黎和会和华盛顿会议，建成了凡尔赛—华盛顿体系，根据分析将①②处补充完整。影响：根据材料“参战国、卷入人口、伤亡人员、直接经济损失”等比较项，结合所学可从战争是残酷的，给人类带来巨大的灾难，给参战国人民的生命和财产带来重大损失，等方面来回答战争给人类带来的影响。

【小问 4 详解】

根据材料“根据中共十九大报告，人类命运共同体的宗旨是‘建立持久和平、普遍安全、共同繁荣、开放包容、清洁美丽的世界’”可知“人类命运共同体”的核心观点是建设持久和平、普遍安全、共同繁荣、开放包容、清洁美丽的世界。

25. 【答案】（1）贡献：创立私学；提出有教无类、因材施教主张；核心：“仁”。

（2）选拔人才，维护封建统治；原因：八股取士禁锢了士人的思想，阻碍了社会的进步；清末新政的开展；科举制无法培养、选拔新式人才，不符时代发展的要求。

（3）共同点：都重视高等教育的发展；都发展职业教育，培养专业化人才；教育发展都推动了经济发展；启示：教育发展是科技进步的基础；人才的培养需要教育的发展等。

（4）变化：普及了义务教育，高等教育不断发展；原因：党和政府的领导与重视；改革开放促进了国家经济的发展；科教兴国战略的实施等。

【解析】

【小问 1 详解】

贡献：根据所学可得出孔子创办私学；主张“有教无类”；总结出许多教育规律，提出一系列教学原则和方法等。核心：结合所学，儒家的核心主张是“仁”。

【小问 2 详解】

根据所学可得出，科举制是为了选拔人才，维护封建统治；原因：根据“这种应试教育的最大弊病是士人都自动地挤到一条狭窄的成才之路上，这在一定程度上压抑了个性的发展，束缚了人们的聪明才智。”得出八股取士禁锢了士人的思想，阻碍了社会的进步；根据所学可得出清末新政的开展；根据“尤其是在列强环伺，民族危机的情况下，这种科举教育更是难以适应时代的需要”得出科举制无法培养、选拔新式人才，不符时代发展的要求。

【小问 3 详解】



共同点：根据“1900年日本拥有大学、高等学校9所”“1968年是德国高等教育的一个重要转折点。”可得出都重视高等教育的发展；根据“此外，日本认真学习西方的实业技术教育制度”“德国政府开始进行高等教育改革，积极引导普通高等教育与高等职业教育”可得出都发展职业教育，培养专业化人才；根据“明治时期的教育成果不断转化为生产力”“当今，德国经济依靠高等教育与职业教育‘两条腿’稳步前行。”可得出教育发展都推动了经济发展；启示：结合材料和所学可得出教育发展是科技进步的基础；人才的培养需要教育的发展等。

【小问4详解】

变化：根据“九年义务教育巩固率达94.2%普通本专科在校学生2831万人，高等教育毛入学率已达到48.1%，高于中高收入国家平均水平；中等职业教育学校达到10340所。可得出普及了义务教育，高等教育不断发展；原因：结合的所学，可从党和政府的领导与重视；改革开放促进了国家经济的发展；科教兴国战略的实施等方面概括。

27. 【答案】（1）朝代：元朝；变化：管理制度化，数量不断增加；原因：君主专制的加强，人口数量的增加，商品经济的发展。

（2）胡同名称：东交民巷。

历史文化价值：1900年，八国联军侵华战争，中国战败。1901年，被迫签订《辛丑条约》规定在北京东交民巷划定使馆区，不允许中国人居住，列强可驻兵。这一条约促使清政府沦为列强统治中国的工具，中国彻底沦为半殖民地半封建社会，中华民族的危机进一步加深。

（3）历史背景：三大改造中手工业加入合作社，资本主义工商业实行公私合营；大跃进和人民公社化运动的开展。意义：三大改造的完成，实现了把生产资料私有制向社会主义公有制的转变，社会主义基本制度在我国建立起来，我国从此进入社会主义初级阶段。

（4）建议：从实际出发，充分考虑南锣鼓巷景区的承载能力，采取措施保护街区风貌和设施；坚持全面发展的观点，处理好保护历史文化景观和商业开发之间的关系，让游客重拾北京胡同文化的记忆。

【解析】

【小问1详解】

忽必烈是元朝建立者。依据材料一“，忽必烈为了显示大一统国家首都的气派和尊贵，营建了气势宏伟的都城，宽约9米两侧为四合院的笔直的胡同也就随之诞生了。”可得出胡同诞生的朝代是元朝；变化：依据材料“明清时期，统治者对胡同两侧的四合院从制度、规模、色彩各方面均作了严格规定”说明统治者管理规范；依据“北京胡同建筑数量明显增加。”可得出数量不断增加；原因：依据材料“明清时期”可知君主专制加强；依据材料“人口数量大幅增长，作为居民赖以生存的居住条件，北京胡同建筑数量明显增加”可得出人口数量的不断增加；依据材料“大栅栏一带的店铺、酒楼等应有尽有，胡同临街的四合院都被改造成了店铺和商号。”说明商品经济的繁荣。

【小问2详解】

依据材料二可从东交民巷说明。历史文化价值依据所学可知，1900年，八国联军侵华战争，中国战败。1901年，被迫签订《辛丑条约》规定在北京东交民巷划定使馆区，不允许中国人居住，列强可驻兵。这一条约促使清政府沦为列强统治中国的工具，中国彻底沦为半殖民地半封建社会，中华民族的危机进一步加深。

【小问3详解】

依据材料表格“1958年，两个象牙生产合作社、骨刻社和公私合营的唐敬业象牙厂合并成立北京象牙雕刻厂”可知是1953-1956年的三大改造完成之后，人民公社化运动的实行；意义依据所学可知，三大改造的完成，实现了把生产资料私有制向社会主义公有制的转变，社会主义基本制度在我国建立起来，我国从此进入社会主义初级阶段。

【小问4详解】



依据材料“一是所得利益作用不到文化遗产四合院的保护中；一是商业的过度发展超过了开发的阈值，对四合院和传统街景的保护形成破坏”和所学从实际出发和全民发展观点提出建议，比如从实际出发，充分考虑南锣鼓巷景区的承载能力，采取措施保护街区风貌和设施；坚持全面发展的观点，处理好保护历史文化景观和商业开发之间的关系，让游客重拾北京胡同文化的记忆。

北京中考在线
微信号：BJ_zkao



北京中考在线
微信号：BJ_zkao



北京中考在线
微信号：BJ_zkao



北京中考在线
微信号：BJ_zkao

