



东城区 2019—2020 学年度第一学期期末统一检测

初二地理

2020.1

本试卷共 12 页，共 70 分，考试时长 60 分钟。考生务必将答案写在答题卡上，在试卷上作答无效。考试结束后，将本试卷和答题卡一并交回。

第一部分 选择题（共 25 分）

本部分共 25 小题，每小题 1 分，共 25 分。在每小题列出的四个选项中选出最符合要求的一项。

克利伯环球帆船赛是全球最具影响力和挑战性的业余航海赛事。图 1 为 07—08 赛季青岛站参观券，印有本赛季全部比赛站。读图，完成 1~3 题。



图 1

1. 帆船赛比赛站

- A. 各大洋沿岸均有
- B. 印度洋沿岸最多
- C. 大洋洲最多
- D. 大西洋沿岸最多

2. 图中

- A. 北冰洋被亚、欧、北美三个大洲包围
- B. 没有出现的大洲是南美洲
- C. 地球上陆地面积与海洋面积相当
- D. 四大洋之间没有相互连通

3. 下列说法正确的是

- A. 青岛位于太平洋东岸
- B. 参观券所示时间正值我国冬季
- C. 风平浪静最利于帆船比赛
- D. 公众开放日不利于帆船赛事的推广

30° N 是一条神奇的纬线，尼罗河、幼发拉底河、长江、密西西比河均在这纬度附近入海，世界最高峰也分布在该纬线附近。读图 2，完成 4~7 题。

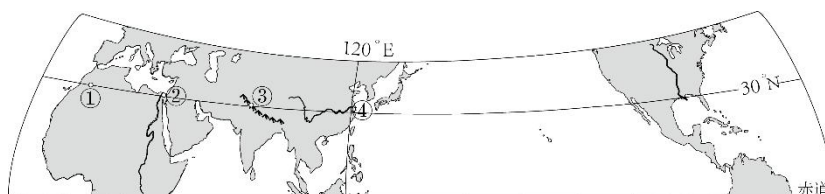


图 2

4. 自非洲向东，30° N 纬线依次穿过
- A. 印度洋、大洋洲、太平洋、北美洲
 - B. 大西洋、欧洲、亚洲、太平洋
 - C. 欧洲、亚洲、印度洋、太平洋
 - D. 亚洲、太平洋、北美洲、大西洋
5. 图中③处山脉
- A. 是阿尔卑斯山脉
 - B. 呈南北走向
 - C. 为长江的发源地
 - D. 主峰是珠穆朗玛峰



6. 图中①处附近最有可能出现的是



A



B



C



D

7. 30°N , 90°W 附近入海的河流流向大致是

A. 自西向东流

B. 自北向南流

C. 自南向北流

D. 自低纬向高纬流

读图 3, 完成 8、9 题。



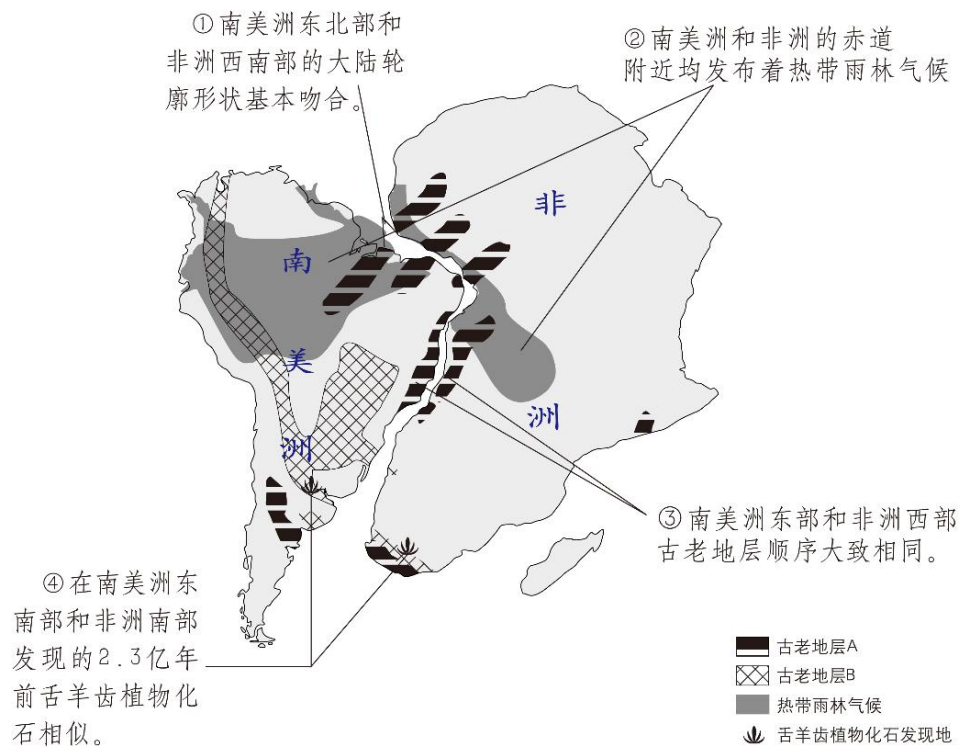


图 3

8. 下列能够证明大陆漂移的是

- A. ①③④ B. ①②③ C. ②③④ D. ①②④

9. 现在非洲和南美洲之间隔着广阔的大洋，其原因是

- A. 海平面上升 B. 海底地震 C. 板块分离 D. 板块碰撞



当地时间12月9日下午，澳大利亚东南方向的新西兰怀特岛，火山突然喷发并造成人员伤亡。

读图4，完成10、11题。

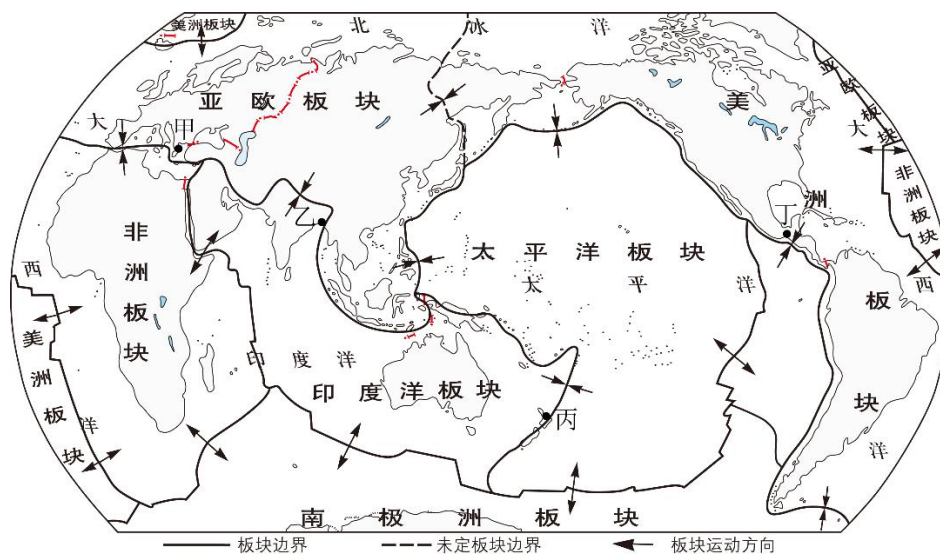


图4

10. 图中位于新西兰附近的地点是

- A. 甲 B. 乙 C. 丙 D. 丁

11. 新西兰位于

- A. 地中海—喜马拉雅地震带 B. 太平洋板块和印度洋板块交界处
C. 印度洋板块与亚欧板块交界处 D. 板块的内部，地壳运动活跃

图5为北美洲年平均降水量图。读图，完成12~14题。



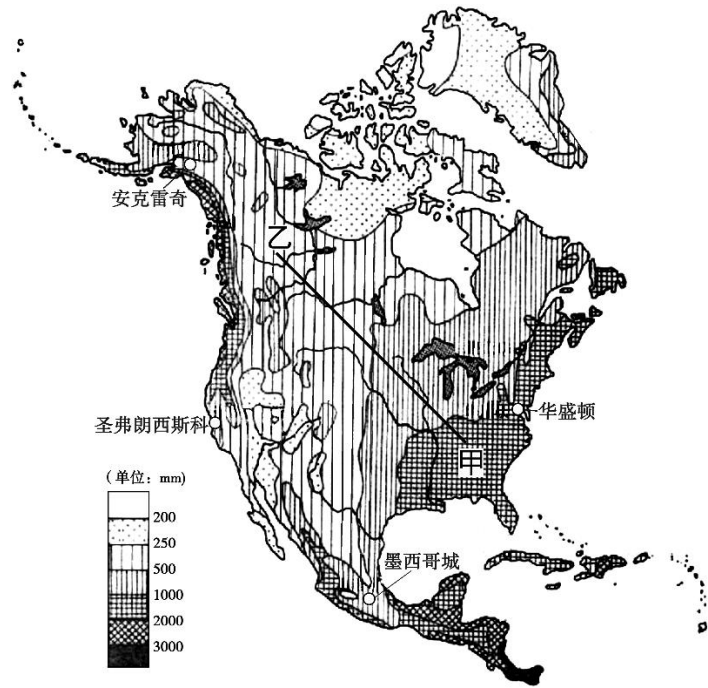


图 5

12. 图中甲→乙一线降水分布规律是

- A. 自东南向西北递减
- B. 自西北向东南递减
- C. 自东南向西北先增加后减小
- D. 自西北向东南先增加后减小

13. 下列城市中，降水量最多的是

- A. 华盛顿
- B. 圣弗朗西斯科
- C. 墨西哥城
- D. 安克雷奇

14. 该大洲与南部大洲的分界线是

- A. 苏伊士运河
- B. 白令海峡
- C. 土耳其海峡
- D. 巴拿马运河

图 6 为南半球年平均气温分布图。读图，完成 15、16 题。

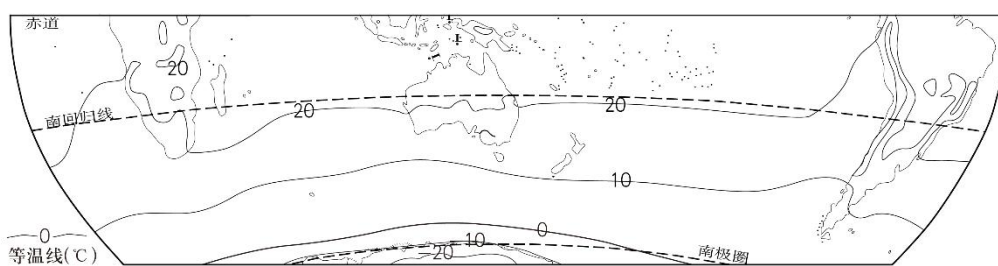


图 6

15. 图中

- A. 南回归线经过的大陆两侧气温相同
- B. 南极圈以南地区气温均低于-10℃
- C. 南温带与南寒带相比，等温线更稀疏
- D. 南半球气温由低纬向高纬逐渐升高

16. 南半球等温线较平直，主要影响因素为

- A. 纬度位置
- B. 海陆分布
- C. 地形
- D. 人类活动

世界人口分布不均，但却有规律可循。图 7 为世界人口各纬度所占比重图。读图和表 1，完成 17~19 题。

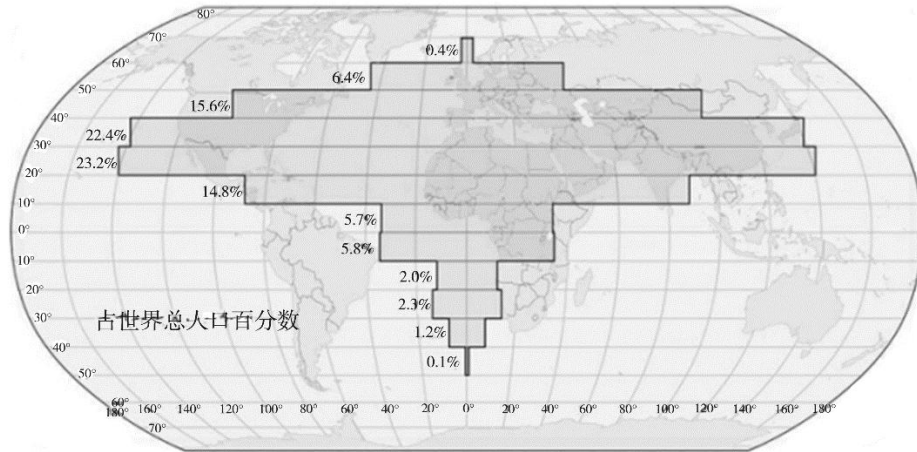


图 7

表 1 世界人口垂直分布

海拔（米）	0~200	200~500	500~1000	1000~1500	1500~2000	2000~2500
占世界人口比例（%）	56.5	24.0	11.6	4.4	2.3	1.2

17. 从表 1 中可知，世界人口分布最多的地形类型是

- A. 丘陵
- B. 平原
- C. 高原
- D. 山地

18. 图 7 中显示



- A. 世界上约 95%的人口分布在北半球 B. 北纬 30° ~40° 地区人口密度最大
C. 北纬 20° ~30° 地区人口数量最多 D. 南半球几乎无人居住



19. 高纬度地区人口数量少的主要影响因素是

- A. 气候 B. 河流 C. 地形 D. 植被

2019年5月15日,亚洲文明对话大会在中国北京开幕。大会标志图形部分主体形态由牡丹花衍生而来,按照亚洲地理位置的分区将标志设计成互动的花瓣状图形,并将抽象的人的形态融入其中,形成了人与人之间手牵手连接沟通的视觉效果,象征亚洲不同文明之间的交流对话,亚洲人民携手共建命运共同体。读图文资料,完成20、21题。



20. 大会标志的花瓣状图形,代表亚洲有

图 8

- A. 6种联合国工作语言 B. 6个民族
C. 6个地理分区 D. 6种气候类型

21. 亚洲文明大会的召开

- A. 缩小了自然环境的差异 B. 利于形成文化的一致性
C. 促进了亚洲地区间经济合作 D. 隔断了与其它大洲联系

为应对全球气候变暖,2015年12月12日,在巴黎气候变化大会上通过了《巴黎协定》。完成22、23题。

22. 关于全球气候变暖的说法,正确的是


- ①水污染导致全球二氧化碳猛增 ②燃烧矿物燃料放出大量二氧化碳
③植被破坏导致吸收的二氧化碳减少 ④使用太阳能释放出大量二氧化碳

- A. ①② B. ②④ C. ②③ D. ③④


23. 全球气候变暖产生的主要危害是

- A. 海洋污染加剧，鱼类大量死亡 B. 地震、火山爆发发生的频率上升
- C. 紫外线辐射增强危及人类健康 D. 冰川融化，海平面上升，淹没沿海低地

自然环境影响人们的生产、生活方式。南亚恒河三角洲的孟加拉人，以捕鱼为生，交通工具是船；西亚沙特阿拉伯的贝都因人，居住帐篷，身着宽大白袍，过着游牧生活；北亚西伯利亚的雅库特人，居住木屋，身着毛皮服装，运输工具是狗拉雪橇；东南亚印度尼西亚加里曼丹岛的达雅克人，聚居在长屋内，有的长屋长达 200 米。图 9 是不同地区住房、服饰等景观图。读图，完成 24、25 题。



甲



乙



丙



丁

图 9

24. 当地居民生产生活方式与图片对应正确的是

- A. 甲—孟加拉人 B. 乙—贝都因人
- C. 丙—达雅克人 D. 丙—雅库特人

25. 影响雅库特人传统生活方式的主要自然原因是

- ①森林资源丰富，居住木屋 ②气候寒冷，身着毛皮服装



③降雨较多，运输工具是狗拉雪橇

④动物种类多，以狩猎为生

A. ①③

B. ②④

C. ①②

D. ③④

第二部分 非选择题(共 45 分)

26. (11 分) “一带一路”合作倡议惠及东南亚国家。读图 10，回答下列问题。

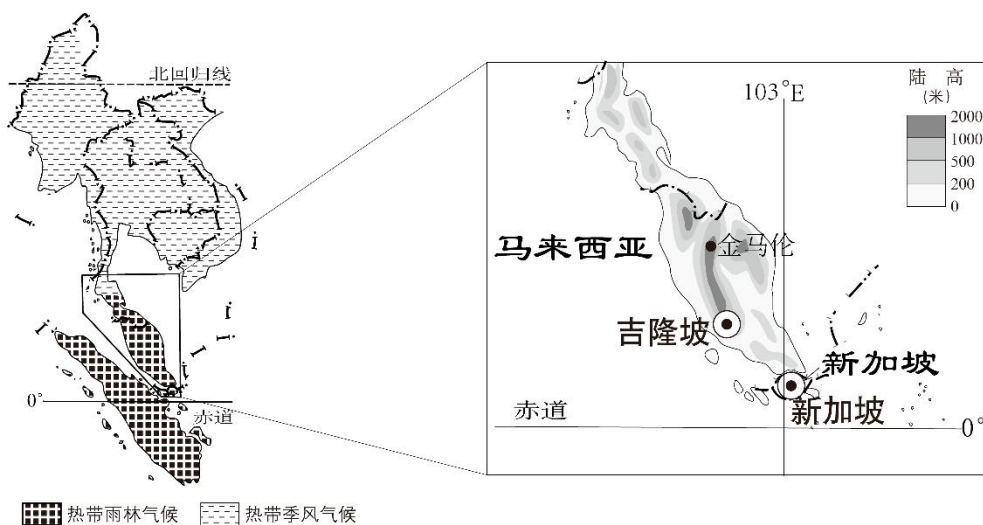


图 10

(1) 2019 年 11 月，中国已完成对马来西亚等 4 个国家地震台网中心系统的援建项目，这里将建成世界上先进的由地震引发的海啸监测预警系统。马来西亚优先引进中国地震台网中心系统是因为该国多发_____等自然灾害，这主要与该地区地壳运动活跃，位于_____交界处相关。(2 分)

(2) 马来西亚大部分地区位于_____带，气候类型以_____气候为主，该气候类型的特征是_____。(3 分)

金马伦为马来西亚著名的避暑胜地。

(3) 金马伦成为避暑胜地的主要自然原因是_____。(两项选择) (2 分)

A. 降水充沛，热量充足

B. 海拔较高，气温适宜

C. 森林茂密，风景优美

D. 开发较早，设施完善



表 2 金马伦主要气候资料

月份	1	2	3	4	5	6	7	8	9	10	11	12
气温 (°C)	18.0	18.5	19.1	19.6	19.7	19.0	18.8	18.7	18.6	18.6	18.5	18.0
降水量 (mm)	95.3	144.9	220.6	257.5	273.5	174.4	173.2	229.5	278.4	373.0	316.8	209.8

(4) 根据金马伦气候资料，补充填绘其气温曲线和降水量柱状图。(2分)

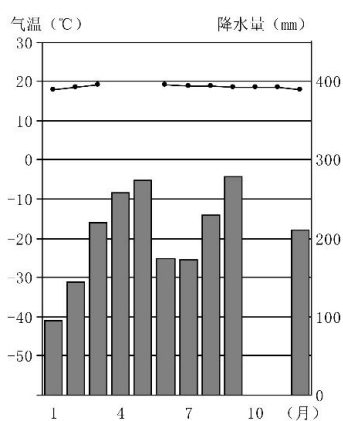


图 11

马来西亚是个多民族、多元文化国家，穆斯林约占全国总人口的 53%，官方语言为马来语。在历史发展的过程中，受英国殖民统治的影响非常深刻。

(5) 马来西亚主要信仰三大宗教中的_____教。除马来语外，该国使用较为广泛的语言还有_____。(2分)

27. (11分)第七届世界军人运动会于 2019 年 10 月 18 日至 27 日在中国武汉举行。读图 12，回答下列问题。



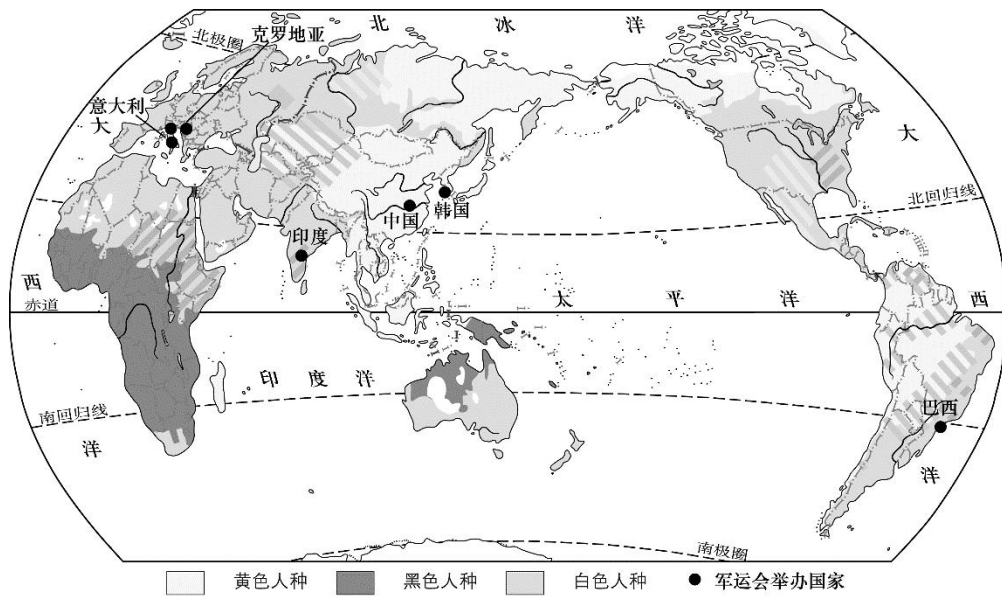


图 12

(1) 在举办过军运会的国家中，属于发达国家的是_____它与巴西的合作属于_____（南南合作/南北对话）。既举办过军运会，又属于联合国常任理事国的是_____。（3分）

自印度海得拉巴积极申办并成功举行第四届国际军事体育运动会后，该赛事才迎来快速发展的新时期。



图 13

(2) 与央视记者梁永春合影的印度士兵属于人种，该人种主要分布在_____。（选择填空）（2分）

- A. 非洲北部 B. 非洲南部 C. 亚洲东部 D. 北美洲北部



表3 军运会举办国人口资料（2019年）

国家	人口数量（万人）	增长率（%）	人口密度
中国	13953.8	0.39	139.6
印度	13540.5	1.11	411.87
韩国	511.6	0.36	510.57
巴西	2108.6	0.75	24.76
意大利	592.9	0	196.76
克罗地亚	41.6	0	73.59

（资料来源：联合国及各国统计局）

（3）举办国家中，人口密度最大的是_____；自然增长率最高的是_____；人口增长绝对数量最多的是_____；人口数量最多的是_____。（4分）

（4）指出军运会举办国印度现阶段面临的主要人口问题（至少答出两点）。（2分）



28. (12分)读图14、图15,回答下列问题。

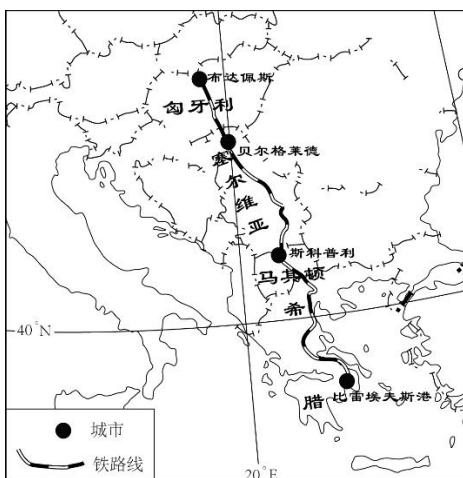


图 14

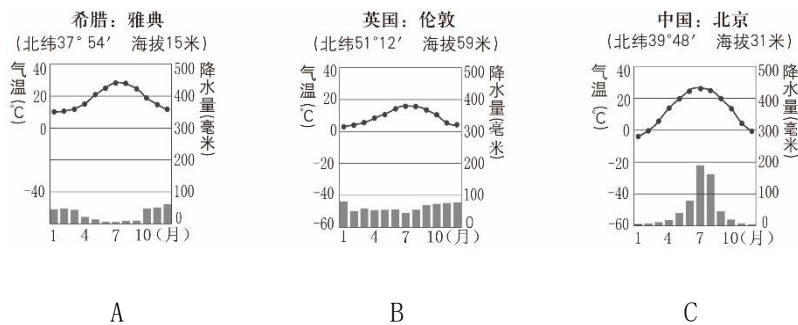


图 15

(1) A、B、C 三种气候类型中, 气温年较差最大的是_____ ; 气温全年较温和的是_____ ; 降水集中在冬季的是_____ ; 降水量全年较均匀的是_____。(填字母)(4分)

风信子名字来源于希腊神话人物, 原产于欧洲南部地中海沿岸等地, 现今世界各地都有栽培。风信子喜冬季温暖湿润、夏季凉爽稍干燥的环境, 具有秋冬生长, 早春开花, 夏季落叶休眠的生理特性。



图 16

(2) 风信子夏季休眠的主要原因是地中海沿岸_____。(选择填空)(1分)



- A. 夏季高温，蒸发强烈，降水充足
- B. 夏季高温，蒸发强烈，降水少
- C. 夏季凉爽多雨
- D. 夏季凉爽少雨

我国对风信子的需求量逐年增加。在春节期间，北京市民会在家中水培风信子，增加节日气氛。室内水培能较好解决其生长的不利条件。

(3) 试从室内、水培两个方面，任选其一简析其原因。(3分)

中国国家主席习近平 2019 年 11 月访问希腊期间，专程前往中远集团比雷埃夫斯港项目参观。该港口二十一世纪初严重亏损，中远海运接管以来，已成为地中海地区最大港口，为当地 1 万多人提供了就业机会。

中远海运集团自 2014 年开通“中欧陆海快线”，通过这条路线，从海上运来的远东地区货物在港口靠岸后，再通过铁路运送到欧洲内陆国家，时间比其他传统路线大大缩短。促进了中国与希腊及周边地区的贸易往来，带动了更多周边国家的发展。

(4) “中欧陆海快线”包含的主要交通运输方式有。(双项选择)(2分)

- A. 航空运输
- B. 管道运输
- C. 铁路运输
- D. 海洋运输

(5) 比雷埃夫斯港项目为希腊及周边地区带来的有利影响有。(双项选择)(2分)

- A. 增加就业机会
- B. 促进贸易往来
- C. 希腊对外贸易完全依赖“中欧陆海快线”

D. 与其他传统路线相比时间延长



29. (11分) 读图17, 回答下列问题。

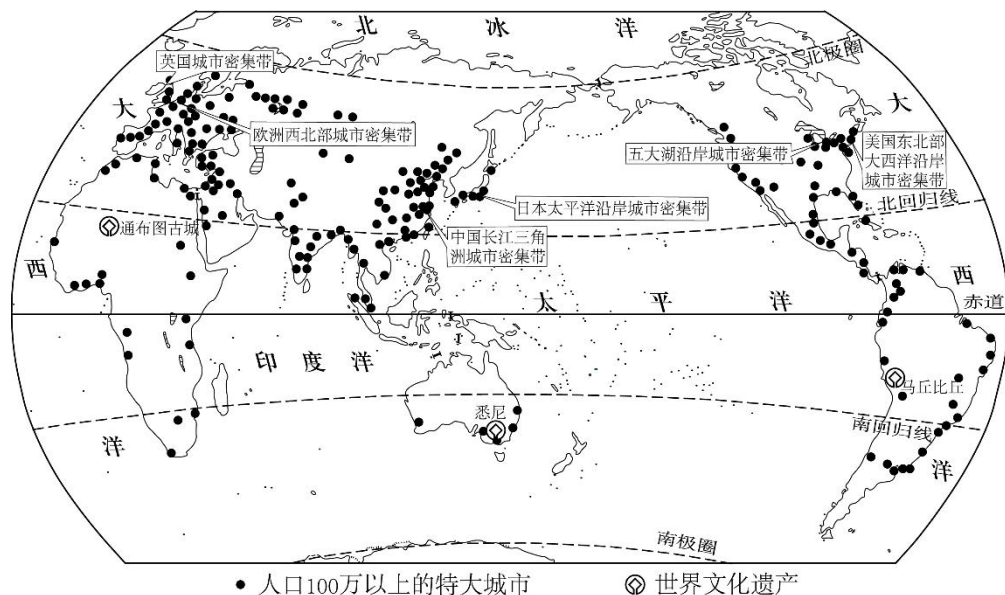


图 17

- (1) 图中表示城市的等级为: 人口超过_____万的特大城市。(1分)
- (2) 图中英国城市密集带, 位于_____洲的部地区, 濒临_____洋。(3分)
- (3) 从纬度位置上看, 世界的特大城市和城市密集带主要分布在_____。(选择填空) (1分)
- A. 北半球高纬度地区
 - B. 北半球中低纬度地区
 - C. 南半球高纬度地区
 - D. 南半球中高纬度地区
- (4) 南回归线以南的世界特大城市和城市密集带主要分布在靠近_____ (沿海/内陆) 地区。(1分)
- (5) 下列景观图片能够反映图 17 中主要聚落特征的是_____。(选择填空) (1分)



A



B



C



D

通布图古城是世界文化遗产，被誉为“梦幻之都”。因当地气候干燥少雨，建筑主要用泥土修建。由于来自北方的风沙侵蚀以及越来越多的游客参观，面临着被损毁的危险。

(6) 下列措施有利于保护古城的是。(双项选择)(2分)

- A. 整修古建筑
- B. 限制游客人数
- C. 古城内修建酒店
- D. 大量使用当地木材修葺

城市人口众多，建筑物密集，生产和生活中排放的热量难以散发，使得市区的气温明显高于郊区，局部气候恶化。

(7) 下列措施中能改善城市局部气候的有_____。(双项选择)(2分)

- A. 增加绿地面积
- B. 保护地面水系
- C. 扩宽城市道路
- D. 加强 PM2.5 的监测