




延庆区 2019-2020 学年第一学期期末考试

初一地理试卷

一、单项选择题（共 40 小题，每小题 1 分，共 40 分。请将答案填到答题纸上）

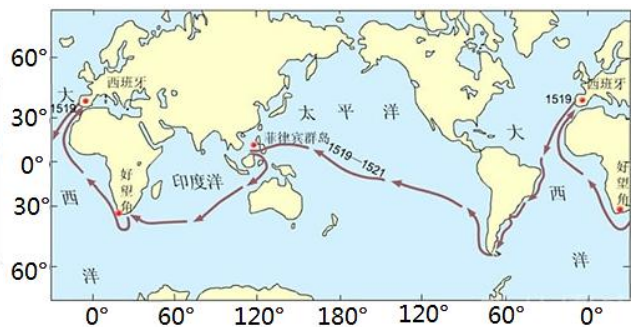
人类认识地球形状经历了漫长的过程，下面是人类认识地球形状不同阶段的示意图片，读图完成下面小题。



①天圆地方



②月食现象



③麦哲伦环球探险

1. 人类认识地球形状的过程依次是（ ）
A. ③②① B. ②①③ C. ①②③ D. ①③②
2. 麦哲伦率船队环球航行证明了地球的形状是（ ）
A. 球体 B. 椭圆形 C. 圆形 D. 规则球体
3. 地球在自转的同时，还按照一定的轨道围绕太阳公转。随着地球的公转，太阳直射点在南北回归线之间移动，于是有了春、夏、秋、冬四季变化。每年元旦是在（ ）节气过后
A. 春分 B. 夏至 C. 秋分 D. 冬至

地球仪是地球的模型。地球仪上绘有许多大小不等的圆圈和连接南北两极点的多条弧线，分别是纬线和经线。依据经纬线知识完成下面小题。

4. 地球仪上最大的纬线圈是（ ）
A. 赤道 B. 北极圈 C. 南极圈 D. 回归线
5. 在地球仪上，东经度用____符号表示（ ）
A. W B. E C. N D. S
6. 自西向东不断增加的经度是（ ）

- A. 北纬度数 B. 南纬度数 C. 东经度 D. 西经度

7. 延庆位于北纬 40 度附近，从纬度上看延庆位于（ ）

- A. 高纬度 B. 中纬度 C. 低纬度 D. 纬度划分的界限上

2019 年 2 月 11 日非洲联盟（非盟）第 32 届首脑会议 10 日在位于埃塞俄比亚首都亚的斯亚贝巴的非盟总部开幕，会议重点讨论难民等问题。

小明想了解各个成员国的位置，他选用了“世界地形图”。

家住延庆的玲玲，想知道怎样乘坐公交前往国家博物馆看相关展出，她选用了“天津市交通图”。

小军去太原市探访同学，他选用了“河北省政区图”。

兰兰到了“北京动物园”，想去看熊猫，她选用了“北京动物园导游图”。

读以上资料，完成下面小题：

8. 地图选用正确的是（ ）

- A. 小明 B. 玲玲 C. 小军 D. 兰兰

9. 若材料中四幅地图的图幅大小相等，则（ ）

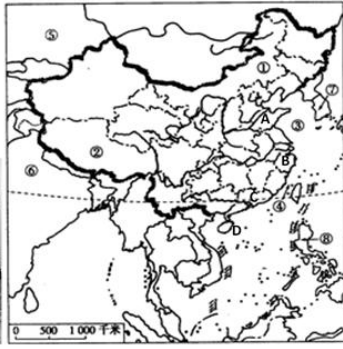
- A. 世界地形图，比例尺最小，表示范围最大，表示地理事物最简略
B. 天津市交通图，比例尺最小，表示范围最小，表示地理事物最简略
C. 河北省政区图，比例尺最大，表示范围最小，表示地理事物最详细
D. 北京动物园导游图，比例尺最大，表示范围最大，表示地理事物最详细

10. 以下图例是玲玲从“天津市交通图”上描画下来的，她识别错误的是（ ）

- A.  铁路 B.  地区界
C.  河、湖 D.  运河

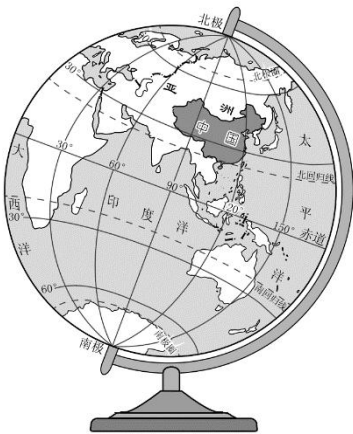
资料：2019 年 12 月 17 日我国第一艘国产航空母舰“山东舰”在海南三亚某军港交付海军。中共中央总书记、国家主席、中央军委主席习近平出席交接入列仪式。读图，完成下面小题：





11. 读图可见，我国第一艘航空母舰命名的省份的是（ ）
- A. A B. B C. C D. D
12. 此次交接仪式所在的省区，简称及濒临的海洋分别为（ ）
- A. 鲁、黄海 B. 粤、南海 C. 桂、东海 D. 琼、南海

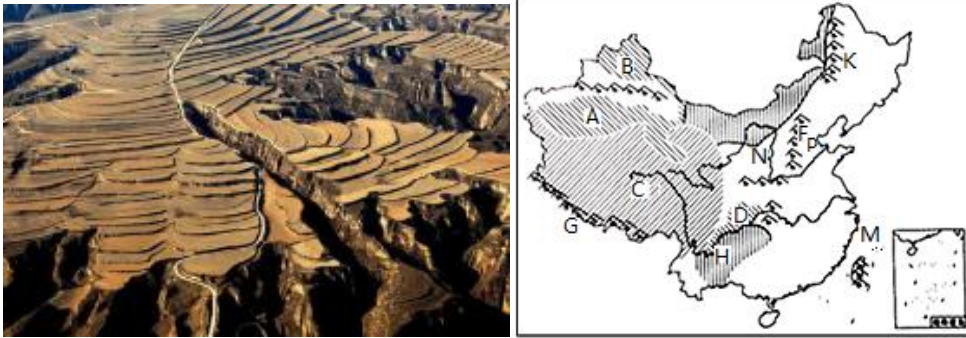
读中国在地球上的位置，完成下面小题。



13. 从半球位置看，我国位于
- A. 南半球、西半球 B. 北半球、东半球
- C. 南半球、东半球 D. 北半球、西半球
14. 从海陆位置看，我国位于
- A. 亚洲的西部、东临太平洋 B. 亚洲的东部、西临太平洋
- C. 亚洲的东部、东临太平洋 D. 亚洲的西部、西临太平洋
15. 关于我国位置特点的叙述，不正确的是
- A. 大部分国土位于北温带 B. 小部分国土位于热带
- C. 海陆兼备，地理位置优越 D. 各地自然环境差异较小



下图是我国某地形区的景观图片，下图是我国地势阶梯图，读图完成下面小题。




16. 左图中所示景观，可能出现在右图中的（ ）

- A. K 地 B. C 地 C. N 地 D. P 地

17. 左图中地表景观的形成，主要是由于（ ）

- A. 农民修筑梯田 B. 长期流水侵蚀
C. 大面积开采露天煤矿 D. 大量取土烧砖盖房

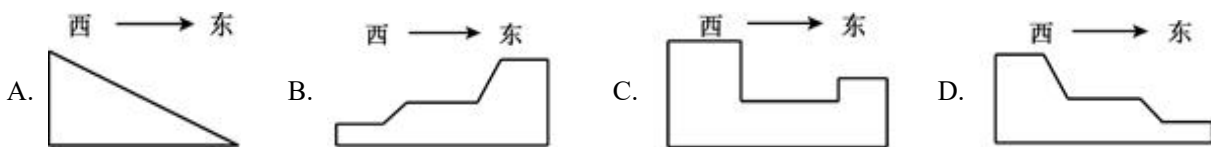
18. 该地区的传统民居是下面图中的（ ）



19. 若你前往该地区旅游，可能看到的最具地域特色的景观是（ ）



20. 诗句“百川东到海，何时复西归”能够反映出我国的地势特征。下图的四幅图中，与我国地势特征最接近的是（ ）



我国的地形复杂多样，山区面积广大，尤其是纵横交错的山脉，构成了地形的骨架，高原、平原、盆地和丘陵镶嵌其间，形成了不同的地形区。读图完成下面小题。



21. 图中的地形区类型以盆地为主的是 ()

- A. ① B. ② C. ③ D. ④

22. 图中有“黑土地”之称的是 ()


- A. ① B. ② C. ③ D. ④

2019年11月18日,受北方强冷空气影响,我国中东部地区最低气温将降至零下4度左右,伴有4~6级的大风。运用相关知识完成下面小题。

23. “未来两天内将有强冷空气影响本市,气温下降12~16°C,提醒市民注意增添衣服,预防感冒”,这说明天气与什么密切相关 ()

- A. 农业生产 B. 交通 C. 人们生活 D. 旅游

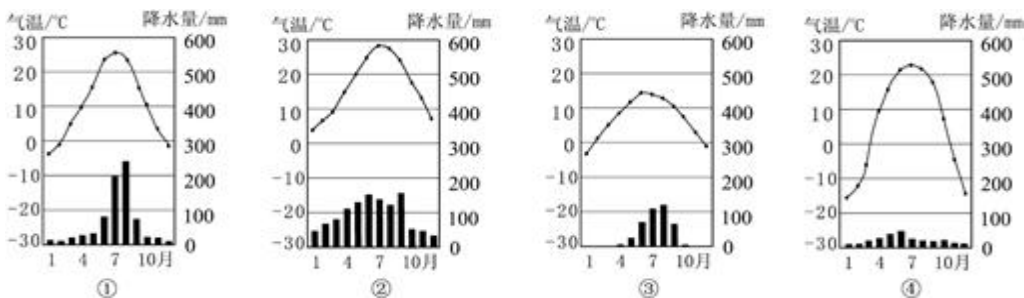
24. 下列天气符号所示天气,每年夏秋季节,对我国东南沿海地区影响较大的台风天气是 ()

- A.  B.  C.  D. 

25. 为了减少雾霾天气,我们倡导的行为是 ()

- A.  B.  C.  D. 

下图为“我国四地的气温曲线和降水量柱状图”。读图,完成下面小题。



26. 关于图中①~④四地气候特点的描述,正确的是 ()

38. 旅行者所在的位置位于 ()

- A. 低纬度地区 B. 中纬度地区 C. 高纬度地区 D. 极地地区

39. 常用图例中, ▲2303 分别表示的是 ()

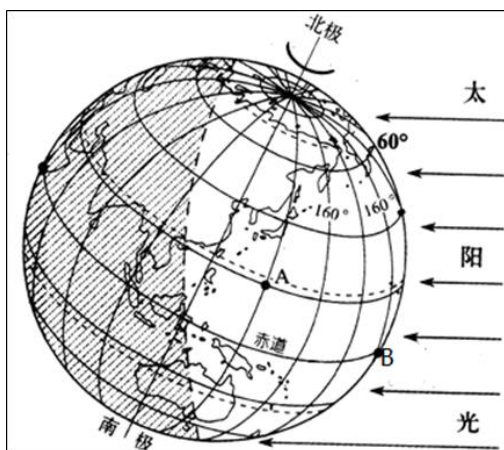
- A. 山地及高度 B. 山峰及海拔
C. 火山及面积 D. 石林及长度

40. M 点的海拔是 1500m, N 点的海拔是 500m, 则 M,N 两点的相对高度是 ()

- A. 1500m B. 1000m C. 2000m D. 2500m

二、综合题: (共 5 题, 60 分。请将正确答案写在答题纸上)

41. 读图完成下列要求。



(1) 在图中地轴上方的弧线上标出地球自转方向, 描画出赤道。_____

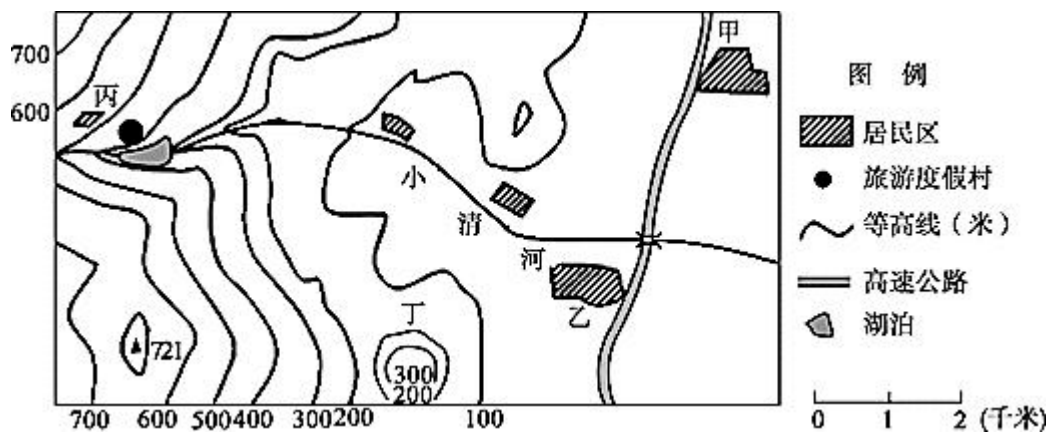
(2) 图中北极点和北极圈内是_____ (白昼还是黑夜)。是北半球的_____ 季节)。也是北半球气温最_____(高; 低)的季节; 我们即将放_____假, 可以利用这个假期的时间去南极科考吗? _____, 原因是_____

(3) 写出图中 A 点的坐标_____ ; _____。A 点位于_____ (白昼还是黑夜)

(4) B 点位于 A 点的_____方向。

42. 读“某地区等高线地形图”, 完成下列各题。





(1) 将图中甲、丙、丁与所在地区的地形类型连线。

- | | |
|---|----|
| 甲 | 丘陵 |
| 丙 | 山地 |
| 丁 | 平原 |

(2) 从甲图中可以看出，连接甲、乙两地的是一条_____。

(3) 旅游度假村所在的地形部位为_____（单项选择）。

- A.山顶 B.山脊 C.山谷 D.陡崖

(4) 丙地的海拔高度约在_____米至_____米之间。

(5) 在右图中用箭头标出小清河的流向。 _____

43. 2019年3月18日，某同学参加了“天安门广场升旗仪式”和“走进中国国家博物馆”的社会大课堂实践活动。下图为天安门地区平面图。读图回答下列问题。



(1) 由图可知，中国国家博物馆位于天安门的_____方向。如果人的步行速度为60米/分钟，同学们下车后需要约_____分钟到达博物馆入口。

(2) 下图为展厅中一件绘有“杏林春燕”图案的瓷器。据图推测_____（双选）

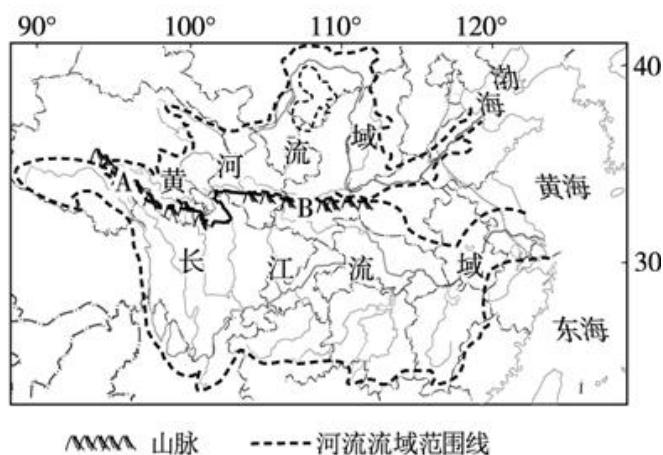


- A. 杏花开放正值夏至前后
- B. 杏花开放正值北京春暖花开时
- C. 每年3月18日天气晴朗
- D. 燕子是从南方迁徙而来的

国家博物馆对公共区域的灯光设置“阴天”、“开幕式”等不同模式，对170个空调机组进行变频改造。全馆所有卫生间水龙头安装节水限流器，出水量比加装前节约30%。

(3) 结合材料，说出国家博物馆上述做法的主要作用。_____

44. 下图为我国“长江、黄河流域图”。读图，回答下列问题。



- (1) 长江流域与黄河流域毗邻，其分水岭为A-巴颜喀拉山脉和B-_____山脉。
- (2) B山脉是我国重要地理界限山脉，同时，还是我国1月平均气温_____°C等温线通过地方和中国_____毫米年等降水量线经过的山脉。
- (3) 长江与黄河都属于_____（外流河/内流河），分别注入_____海和_____海。相比之下，_____流域面积广。
- (4) 两条河流中，被誉为“黄金水道”的是_____，其价值主要体现在_____、_____、灌溉等方面。
- (5) 以下两句歌词，颂唱黄河的是_____。（选择填空）



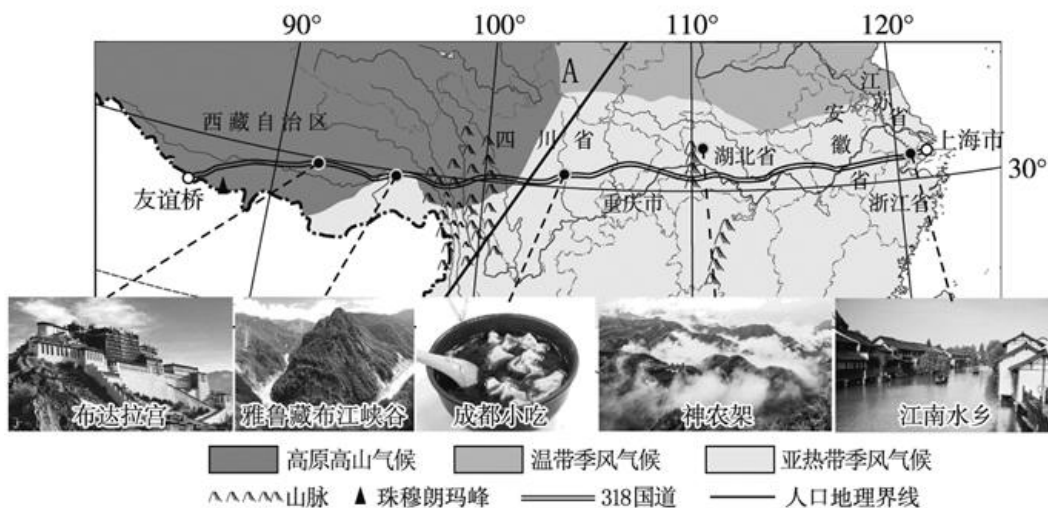
①金涛澎湃掀起万丈狂澜；浊流宛转结成九曲连环

②你从雪山走来，春潮是你的丰采；你向东海奔去，惊涛是你的气概

(6) 两条河流中，形成“地上河”的是_____，因为其中游流经_____高原，大量泥沙汇入。进入下游地区，河水流速_____，泥沙_____，河床逐渐抬高形成的。治理黄河的关键是治沙，中游地区宜大力_____（植树种草或开垦耕地），减少水土流失。

45. 从上海到西藏友谊桥长达 5000 多公里的 318 国道，是一条美景高度集中的景观长廊，被誉为“中国景观大道”。

下图为 318 国道示意图。读图，回答下列问题。



(1) 318 国道是我国连接了最多省份的公路。它东起上海市，向西经江苏省、_____、_____、_____等_____个省级行政区。

(2) 318 国道沿线自然景观类型齐全、多样。可以从以下角度分析：

地形角度：它东起于海平面，向西经过被称为“地球之巅”的_____（山峰）附近，从我国地势的第_____级阶梯到第_____级阶梯，沿线地势落差巨大；从长江中下游平原到_____盆地再到_____高原，地形种类丰富。

气候角度：其与_____纬线大致平行，跨越了我国_____气候区和_____气候区。从高温到高寒，从_____到干旱，温度、湿度差异显著。

(3) 318 国道还是一条人文巡礼之路。其沿线人口密度变化大，A 线以东为人口_____（稠密/稀疏），A 点以西则人口_____（稠密/稀疏）。它还经过了我国少数民族聚居区，在游览山河美景的同时，我们还能感受到_____族等少数民族的特色风俗。

(4) 318 国道，钟自然之大美，显人文之深奥。结合所学谈谈，若沿 318 国道去旅行，能看到、感受到哪些美丽风景、特色风俗。_____



参考答案

一、单项选择题（共 40 小题，每小题 1 分，共 40 分。请将答案填到答题纸上）

【答案】1. C 2. A

【解析】

【分析】

地球是一个巨大的球体。今天，人们通过从宇宙空间发回的地球卫星照片，就能看清地球的真实形状。但是，在此之前，由于科学技术条件的限制，人们无法看到地球的全貌。对地球形状的认识，经历了漫长而艰难的探索过程。

【1 题详解】

由于受观测条件和科学技术的限制，人类对地球的认识经过了漫长的过程，从天圆地方→天如斗笠，地如覆盘→人类对月食现象的观测→麦哲伦环球航行→地球的卫星照片，后来证实了地球是一个两极部位稍扁的不规则球体。故选：C。

【2 题详解】

1519 年 9 月，航海家麦哲伦率领一支 200 多人的探险船队，分乘 5 艘帆船从西班牙出发，向西南穿越大西洋，绕过南美大陆南端的海峡，进入太平洋。向西穿过印度洋，绕过非洲南端的好望角，终于在 1522 年 9 月回到原出发地西班牙。麦哲伦船队首次完成了绕地球一周的航行，证明了地球是一个球体。故选：A。

【点睛】本题考查地球形状的认识过程及球形证据。

3. 【答案】D

【解析】

【详解】地球围绕太阳进行公转，周期是一年，随着地球的公转，太阳直射点在南北回归线之间移动，于是有了春、夏、秋、冬四季变化，每年元旦（1 月 1 日）是在冬至日（12 月 22 日前后）之后，D 正确。故选 D。

【答案】4. A 5. B 6. C 7. B

【解析】

【分析】

【4 题详解】

在地球仪上，赤道是最大的纬线圈，从赤道向南、向北纬线的长度逐渐缩短，故 A 符合题意。故选 A。

【5 题详解】

本初子午线是东西经度的分界线，本初子午线以东为东经度，后面的字母用 E 表示，本初子午线以西为西经度，后面的字母用 W 表示。赤道是南北纬度的分界线，赤道以北为北纬度，后面的字母用 N 表示，赤道以南为南纬度，后面的字母用 S 表示，故 B 符合题意。故选 B。

【6 题详解】

度数向北不断增加的是北纬度，度数向南不断增加的是南纬度；度数向东不断增加的是东经度，度数向西不断增加的是西经度，故 C 符合题意，ABD 不符合题意。故选 C。

【7 题详解】

纬度 0—30°为低纬度，30°-60°为中纬度，60°-90°为高纬度，根据题意，延庆位于北纬 40 度附近，故延庆位于中纬度，故 B 符合题意。故选 B。

【点睛】 本题需要了解纬线的长度变化特点，经纬度的符号表示，经纬度的变化规律以及高中低纬度的划分。

【答案】 8. D 9. A 10. B

【解析】

【8 题详解】

小明想了解各个成员国的位置，他应选用“世界政区图”，A 错误。家住延庆的玲玲，想知道怎样乘坐公交前往国家博物馆看相关展出，她应选用“北京市交通图”，B 错误。小军去太原市探访同学，他应选用“山西省政区图”，C 错误。兰兰到了“北京动物园”，想去看熊猫，她选用了“北京动物园导游图”，D 正确。故选 D。

【9 题详解】

在图幅相同的条件下，比例尺越大，表示的范围越小，内容越详细；比例尺越小，表示的范围越大，内容越简略；四幅地图中世界地形图，比例尺最小，表示范围最大，表示地理事物最简略；北京动物园导游图，比例尺最大，表示范围最小，表示地理事物最详细，A 正确。故选 A。

【10 题详解】

读图可知，A 图例表示铁路；B 图例并不表示地区界；C 图例表示河、湖；D 图例表示运河，B 错误。故选 B。

【点睛】 本题主要考查地图的选择和运用。

【答案】 11. A 12. D

【解析】



【分析】

【11 题详解】

根据资料，我国第一艘国产航空母舰是“山东舰”。读图，A 是山东省，B 是浙江省，C 是广东省，D 是海南省，故 A 符合题意。故选 A。

【12 题详解】

根据材料，此次交接仪式在海南三亚交接，海南省的简称是琼，濒临南海。故 D 符合题意。故选 D。

【点睛】本题需要识记我国的省级行政区的位置、名称、简称和我国濒临的海洋。

【答案】13. B 14. C 15. D

【解析】

【13 题详解】

读图可知：我国位于亚欧大陆的东部，太平洋的西岸，位于北半球和东半球，故 B 符合题意。

【14 题详解】

读图可知：从海陆位置看，我国位于亚欧大陆东部，太平洋的西岸；从南北半球看，我国位于北半球；我国领土南北跨度大，北到 53°N，南到 4°N 附近，故选 C。

【15 题详解】

读图可知：我国是一个海陆兼备的国家，于亚欧大陆的东部，太平洋的西岸，我国领土南北跨度大，北到 53°N，南到 4°N 附近，大部分位于北温带，小部分位于热带，各地自然环境差异大，故 D 符合题意。

【点睛】本题考查的是我国优越的地理位置，结合课本理解记忆即可。

【答案】16. C 17. B 18. B 19. A

【解析】

【分析】

【16 题详解】

左图是黄土高原千沟万壑的地表形态。右图中的 K 是东北平原，C 是青藏高原，N 是黄土高原，P 是华北平原，故 C 符合题意。故选 C。

【17 题详解】



农民修筑梯田，有利于防治水土流失，故 A 不符合题意。黄土高原地表千沟万壑，支离破碎，造成这种状况的主要原因就是这里长期的流水侵蚀，故 B 符合题意。大面积开采露天煤矿，大量取土烧砖盖房也会对地表造成破坏，但不是图中地表景观形成的主要原因，故 CD 不符合题意。故选 B。

【18 题详解】

小桥流水在我国的南方地区比较常见。窑洞是黄土高原特有的传统民居。蒙古包是我国内蒙古牧区的传统民居。晾房在新疆地区比较常见。故 B 符合题意。故选 B。

【19 题详解】

安塞腰鼓是黄土高原地区具有地域特色的景观。泼水节是傣族传统的节日。那达慕大会是蒙古族的传统节日。赛龙舟是我国南方地区的传统运动项目。故 A 符合题意。故选 A。

【点睛】 本题需要了解黄土高原地区的地貌特征以及形成的原因，了解黄土高原地区的传统民居及富有地方特色的黄土风情。

20. **【答案】** D

【解析】

【分析】

【详解】 诗句“百川东到海，何时复西归”反映出我国地势特点是西高东低，呈三级阶梯状分布，与图中 D 表示的剖面图相符，故选 D。

【点睛】

【答案】 21. A 22. B

【解析】

【分析】

【21 题详解】

由图可知，图中①处天山南北两侧都是盆地，②是我国最大的平原-东北平原，③处是秦岭以北的黄土高原，④是我国海拔最高的青藏高原，故选 A。

【22 题详解】

以上四个地形区中，②是我国最大的平原-东北平原，这里纬度高、气温低、水分蒸发少，土壤中的有机质多，是肥沃的黑土地，故选 B。

【点睛】 本题考查我国地形有关知识。





【答案】23. C 24. B 25. C

【解析】

【分析】

【23 题详解】

天气与人们的生产、生活密切相关，如题目“未来两天内将有强冷空气影响本市，气温下降 $12\sim 16^{\circ}\text{C}$ ，提醒市民注意增添衣服，预防感冒”说明了天气与人们生活密切相关，与农业生产、交通和旅游无关，故选 C。

【24 题详解】

每年的夏秋季节，由于热带海域的热带气旋发展到台风，影响我国东南沿海，给这些地区带来狂风暴雨、大风等气象灾害，以上四个天气符号中，A 表示的是小雪天气，B 表示的是台风天气，C 表示的是沙尘天气，D 表示的是雷阵雨天气，故选 B。

【25 题详解】

为了减少雾霾天气的发生，我们提倡人们要低碳生活，图中四种行为中，只有 C 骑自行车属于低碳出行的生活方式，其他三种会加剧雾霾天气的发生，故选 C。

【点睛】本题考查天气与空气质量有关知识。

【答案】26. A 27. C

【解析】

【分析】

【26 题详解】

由图可知，①地和②都是夏季高温多雨的季风气候，③地是夏季温凉多雨的高原山地气候，④地是终年少雨、冬冷夏热的温带大陆性气候，故选 A。

【27 题详解】

由图可知，图中①表示的夏季高温多雨、冬季寒冷干燥的温带季风气候，主要分布在亚欧大陆中纬度的东岸，故选 C。

【点睛】本题考查我国四地气候类型有关知识。

【答案】28. B 29. C 30. C

【解析】

【28 题详解】

日温差是由当天最高气温减去最低气温，由表可知，温差最大的一天是周四，温差是 12 摄氏度，故选 B。

【29 题详解】

天气符号是人们认识天气的重要载体，图中所示的天气符号“☀”表示的是晴朗天气，故选 C。

【30 题详解】

关于图中天气预报的说法，周二雪后初晴，但还有雾霾天气，不宜进行室外活动；周三空气清新，适宜骑自行车上学；周五雾霾，各校停止室外体育活动；周日气温低，且此季节是冬季，不适宜到香山看红叶了，故选 C。

31. **【答案】** A

【解析】

【分析】

【详解】 2022 年延庆是举办地之一，因为该地属于温带季风气候，冬季寒冷干燥，降雪量大，气温低，冰雪不易化，适合进行冰雪运动，与其他三项叙述无关，故选 A。

【点睛】

32. **【答案】** D

【解析】

【详解】 长沙位于亚热带，属亚热带季风气候，相对其他三个城市降水较多，“共享雨伞”使用频率最高。故选 D。

【点睛】 本题考查南方地区的气候。

33. **【答案】** C

【解析】

【详解】 北京是全国的政治、文化和国际交往中心，已成为全球人口最密集的城市之一，在城市发展中面临一系列问题，如：城市人口迅猛增长、雾霾天气加剧、水资源匮乏、交通拥挤、住房紧张等，C 正确。故选 C。

34. **【答案】** B

【解析】

【详解】 读图可知，该图为河流的水系图，指的是流域内具有同一归宿的水体所构成的水网系统，B 正确。故选 B。

【答案】 35. A 36. D

【解析】





【分析】

【35 题详解】

读图，a 是山峰，b 是山脊，c 是鞍部，d 是山谷，故 A 正确。故选 A。

【36 题详解】

读图，晓阳同学绘制的山体示意图，两座山峰之间有鞍部和山谷。A 图只有一座山峰，故 A 错误。B 图只能看到一座山峰，故 B 错误。C 图有陡崖，故 C 错误，D 图既有两座山峰，在两座山峰之间又可以看到鞍部和山谷，故 D 正确。故选 D。

【点睛】本题需要正确识别山体的各个部位，并通过等高线的特征正确识别山峰、山脊、山谷和陡崖等常见的地形部位。

【答案】37. C 38. B

【解析】

【37 题详解】

山地海拔较高，一般在 500 米以上，坡度陡峻，沟谷较深；读题干可知，旅行者到达地海拔高度为 2862 米，所处的地形类型可能为山地，C 正确。故选 C。

【38 题详解】

按纬度划分， 0° — 30° 为低纬度， 30° — 60° 为中纬度， 60° — 90° 为高纬度；极地地区位于极圈以内；已知该地为（ 40°N 、 106°W ）属于中纬度地区，B 正确。故选 B。

【点睛】本题主要考查地形类型及纬度位置的判断。

39. 【答案】B

【解析】

【分析】

【详解】地图包括方向、比例尺、图例和注记三个必不可少的要素，▲表示的是山峰，2303 表示的是山峰海拔的注记，故选 B。

【点睛】

40. 【答案】B

【解析】

【分析】

【详解】相对高度是指一个地点高处另一个地点的垂直高度，故 MN 之间的相对高度是 $1500 - 500 = 1000$ 米，故选 B。

【点睛】本题考查的是相对高度的计算。

二、综合题：（共 5 题，60 分。请将正确答案写在答题纸上）

41. 【答案】 (1). 按照要求作出即可 (2). 白昼 (3). 夏季 (4). 高 (5). 暑 (6). 否 (7). 正值
南极最冷季/从太阳直射位置的角度答题（意思相近均可） (8). 20°N / 北纬 20° (9). 140°E /东经 120°
(10). 白昼 (11). 东南

【解析】

【分析】

地球在自转的同时还在绕着太阳不断地公转，自转和公转的方向都是自西向东，自转和公转产生的地理现象不同，自转会产生昼夜交替现象，公转会产生昼夜长短变化、四季变化以及五带的划分。

【详解】（1）地球自转的方向是自西向东，赤道是位于地球的最中间，是南北纬和南北半球的分界线。

（2）由图可知，图中北极点和北极圈内是白昼，是北半球的夏季。太阳直射北回归线附近，也是北半球气温最高的季节：我们即将放暑假；不可以利用这个假期的时间去南极科考，原因是此时是南半球的冬季，南极地区气候严寒，有极夜现象，不利于考察。

（3）在经纬网地图上，经线指示南北方向，纬线指示东西方向。经度的判断方法：若经度数越往东越大是东经，用“E”表示，越往西越大是西经，用“W”表示。纬度的判断方法：如纬度数越往北越大是北纬，用“N”表示，越往南越大是南纬，用“S”表示。由图可知，相邻两条纬线、经线之间都是相差 20° ，图中 A 点的坐标是 20°N ， 140°E ；A 点位于白昼。

（4）在经纬网上，经线表示南北方向，纬线表示东西方向，由图可知，B 点位于 A 点的东南方向。

42. 【答案】 (1). 甲--平原 (2). 丙--山地 (3). 丁--丘陵 (4). 高速公路 (5). C (6). 500 (7).
600 (8). 按照要求作出即可

【解析】

【分析】

地球表面有高山，有低地，地表的高低起伏常用等高线来表示。通过等高线的特征可以识别山峰、山脊、山谷和陡崖等常见的地形部位。

【详解】（1）读图，甲处等高线稀疏，平均海拔在 100 米以下为平原。丙处等高线密集，地形比较崎岖，且平均海拔在 600 米以上为山地。丁处等高线比较密集，地势起伏较大，但是平均海拔在 500 米以下，为丘陵。

（2）根据图例，甲、乙两地之间，是有一条高速公路连接。



(3) 读图，旅游度假村附近等高线弯曲部分向高处凸出，由此可以看出该度假村所在的地形部位为山谷。

(4) 读图，丙地两边的等高线分别是 500 米和 600 米，由此可以看出，丙地的海拔高度在 500 米-600 米之间。

(5) 读图，小清河西侧为山地地形，海拔高，东侧为平原地形，海拔低，因此小清河的流向大致是由西向东流。

【点睛】

43. **【答案】** (1). 东南 (2). 7~8 分钟(范围内均可)(最准确的是 7.5) (3). BD (4). 节水、节电 (节约资源/利用高科技.....等合理即可)

【解析】

【分析】

地图上的定向法有三种:一般为一般定向法,指向标定向法和经纬网定向法。不同的温度带有不同的果树。节约资源和高科技在许多领域被广泛应用。

【详解】 (1) 根据一般定向法“上北下南,左西右东”,判断出中国国家博物馆位于天安门的东南方向。旅途中的比例尺图上 1cm 代表实际距离 150 米,可以计算出同学们下车地点到博物馆的距离大约为 420 米-480 米之间,根据人的步行速度为 60 米/每分钟,由此可以计算出。同学们下车后我打博物馆的时间大约七八分钟左右。

(2) 北京位于暖温带,果树的开花时间“桃三杏四”,杏花一般在 4 月开放,4 月为北京的春季,此时正值北京春暖花开,燕子从南方迁徙而来。

(3) 根据材料,“国家博物馆对公共区域的灯光设置“阴天”、“开幕式”等不同模式,对 170 个空调机组进行变频改造。”可以就看出应用了高科技;“全馆所有卫生间水龙头安装节水限流器,出水量比加装前节约 30%”可以看出节约资源。

【点睛】

44. **【答案】** (1). 秦岭 (2). 0 (3). 800 (4). 外流河 (5). 东 (6). 渤 (7). 长江 (8). 长江 (9). 航运 (10). 发电/供水等(合理即可) (11). ① (12). 黄河 (13). 黄土 (14). 变缓/变慢 (15). 沉积/淤积 (16). 植树种草

【解析】

【分析】

根据长江源自唐古拉山,干流先后流经青海、西藏等 11 个省区,最终注入东海,全长 6300 千米,是我国第一长河。黄河源自巴颜喀拉山,流经青海、四川等 9 省区,注入渤海,进行分析解答。

【详解】 (1) 长江流域与黄河流域毗邻,其分水岭为 A-巴颜喀拉山脉和 B-秦岭山脉。



(2) B 秦岭山脉是我国重要地理界限山脉，同时，还是我国 1 月平均气温 0°C 等温线通过地方和中国 800 毫米年等降水量线经过的山脉。

(3) 长江与黄河都属于外流河，长江注入东海，黄河注入渤海。相比之下，长江是我国第一大河，流量更大，流域面积更广。

(4) 两条河流中，被誉为“黄金水道”的是长江，江阔水深，水流平稳，利于航运；其价值主要体现航运、发电、灌溉等方面。

(5) 以下两句歌词，颂唱黄河的是①金涛澎湃掀起万丈狂澜；浊流宛转结成九曲连环，描述了黄河含沙量大，蜿蜒曲折；②你从雪山走来，春潮是你的丰采；你向东海奔去，惊涛是你的气概，描述的是长江发源于雪山，注入东海。

(6) 两条河流中，形成“地上河”的是黄河，因为其中游流经水土流失严重的黄土高原，大量泥沙汇入。进入下游地区，流经平原，河水流速减缓，泥沙淤积，河床逐渐抬高形成的。治理黄河的关键是治沙，中游地区宜大力植树种草，减少水土流失。

45. 【答案】 (1). 浙江省 (2). 安徽省 (3). 湖北省 (重庆市、四川省、西藏自治区任选三个，顺序可互换) (4). 8 (5). 珠穆朗玛峰 (6). 三 (7). 一 (8). 四川 (9). 青藏 (10). 30°N (11). 亚热带季风 (12). 高原高山 (13). 湿润 (14). 稠密 (15). 稀疏 (16). 藏族(彝族、羌族等) (17). 结合实际，合理即可 (例如：江南水乡风景、安徽徽派建筑、品尝湖北热干面、雪域高原景观、藏族民俗风情等，写三点)

【解析】

【详解】 (1) 318 国道是经过了我国省区最多的公路，东起上海市，沿途经过了安徽、湖北、四川共八个省区。

(2) 318 国道东起东部沿海，西至青藏高原，从第三阶梯跨越到第一阶梯，沿线落差大；在地形上，从长江中下游平原到四川盆地，再到青藏高原，地形复杂多样；318 国道大致与 30°N 平行，沿途经过了亚热带季风气候区和高原山地气候区，从高温到高寒，从湿润到干旱，气候差异大。

(3) A 线以东为人口稠密区，A 点以西人口分布稀疏；经过了我国少数民族聚居区，在游览山河美景的同时，我们还能感受到藏族等民族的特色民俗。

(4) 318 国道沿线可以体验到江南水乡特色，安徽徽派建筑、雪域高原景观和藏族民俗风情等。

【点睛】 本题考查 318 国道有关知识，要知道沿线的自然环境特征及社会经济特征。

