



昌平区 2018 - 2019 学年第二学期初三年级二模考试

历史试卷

2019. 5

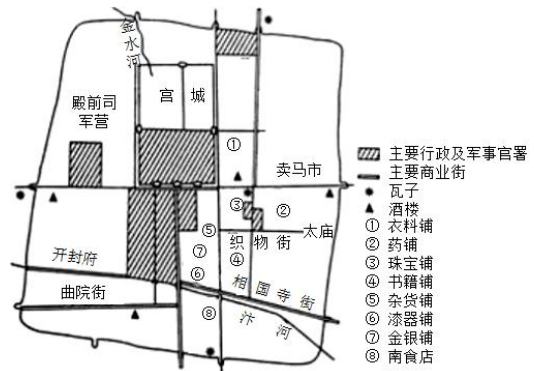
考 生 须 知	<p>1. 本试卷 10 页，二道大题，34 个小题，满分 90 分。考试时间 90 分钟。</p> <p>2. 请在试卷上准确填写学校名称、姓名和考试编号。</p> <p>3. 试题答案一律填涂或书写在答题卡上，在试卷上作答无效。</p> <p>4. 在答题卡上，选择题、作图题用 2B 铅笔作答，其他试题用黑色字迹签字笔作答。</p> <p>5. 考试结束后，请交回答题卡、试卷。</p>
----------------------------	--

一、单项选择题（每小题 1.5 分，共 45 分）

- 华夏族是中华民族的主干部分，它形成的基础是
 - 炎帝和蚩尤的部落联盟
 - 黄帝和炎帝的部落联盟
 - 尧和舜的部落联盟
 - 舜和禹的部落联盟
- 《墨子》中有关于“圆”“直线”“正方形”的定义，对杠杆原理、声音传播、小孔成像等也有论述。这反映出《墨子》
 - 汇集了诸子百家的思想精华
 - 形成了非常完整的科学体系
 - 包含了劳动人民的智慧结晶
 - 体现了士大夫阶层的意志
- 研究秦的历史可以选用的史料包括
 - ①秦始皇陵兵马俑
 - ②小说《寻秦记》
 - ③《史记》
 - ④电视剧《大秦帝国》
 - A. ①②
 - B. ①③
 - C. ②③
 - D. ②④
- 下列表格中记述的历史事件发生于

年号	时间	大事记录
建元元年	公元前 140 年	董仲舒献“天人三策”
建元三年	公元前 138 年	张骞出使西域
建元五年	公元前 136 年	置五经博士

- A. 汉高祖时期
 - B. 汉武帝时期
 - C. 汉光武帝时期
 - D. 汉献帝时期
- 东汉末年以后，迁居中原的北方少数民族，经过与汉族的通婚杂居、相互学习、生产互补，至北朝末年，在语言、服饰、风俗习惯和民族心理等方面基本汉化。汉族吸收了胡服、胡食、胡乐等少数民族文化的优秀部分，胡汉差异逐渐消失。以上材料反映这一时期的特征是
 - 政权并立
 - 商业繁荣
 - 民族交融
 - 战争频繁
 - 右图所示北宋东京布局图，据此图得出的结论是
 - 瓦子是娱乐兼营商业的场所
 - 节日饮食文化丰富多样
 - 店铺临街而设，打破空间限制
 - 宋朝实行重文轻武的政策



7. 南宋初年中原人民大量南迁，南方地区小麦价格暴涨，农民获得收益，小麦在南方大规模种植，南稻北麦的粮食作物分布格局被打破。材料反映了

- A. 南迁的中原人民对面食的需求推动小麦种植
- B. 《农政全书》的出版推广了先进的种植技术
- C. 农业耕作技术的发展为小麦种植提供了条件
- D. 铁制农具开始从北方引入，促进耕种效率提高

8. 一位同学对某一地区进行专题学习，右侧横线处应填入

- A. 中书省
- B. 宣政院
- C. 理藩院
- D. 国子监

唐朝：文成公主入藏
 元朝：设置_____
 清朝：册封宗教首领，设置驻藏大臣

9. 明中叶以来，松江府（今上海一带）所辖市镇数量如右表所示。据此表可以得出

时间	市镇数量
1500年以前	59
1551—1722年	113
1723—1861年	167
1862—1911年	369

- A. 明清时期松江地区工商业发展较快
- B. 近代以来市镇增多与开放通商口岸有关
- C. 清政府与民国政府都重视商业发展
- D. 市镇数量增长体现出商人地位上升

10. 条约签订后第三天，台北市民鸣锣罢市，至台湾巡抚衙门，“愿人人战死而失台，决不愿拱手而让台”。此条约是

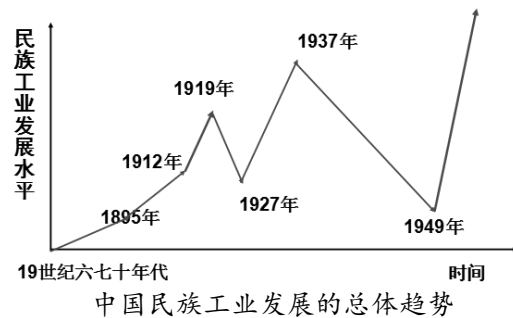
- A. 《南京条约》
- B. 《北京条约》
- C. 《马关条约》
- D. 《辛丑条约》

11. 《天演论》由严复翻译自英国生物学家赫胥黎《进化论与伦理学及其他》。原著认为不能将自然的进化论与人类社会的伦理学混为一谈，但严复翻译时，提出自然界进化规律同样适用于人类社会。严复改变原著的观点是为了

- A. 纠正生物进化论的错误
- B. 号召国人推翻清王朝
- C. 传播“师夷长技以制夷”思想
- D. 促进国人救亡意识的觉醒

12. 观察右图，能够得出的结论是

- A. 鸦片战争后，中国民族工业开始起步
- B. 甲午战争战败后，民族工业陷入低迷
- C. 一战期间，民族工业出现“短暂春天”
- D. 日军侵华期间，民族工业缓慢发展



13. 1920年，先进知识分子主张对社会进行“根本改造”，走进工厂，深入工人群众。这表明当时

- A. 民主与科学观念广泛传播
- B. 实业救国运动如火如荼
- C. 马克思主义影响日益增强
- D. 批判封建礼教成为社会共识

14. 国民革命失败后，毛泽东成功探索出一条中国革命的独特道路。对这一探索历程排序正确的是

- A. 秋收起义→中共七大→“工农武装割据”
- B. 中共七大→“工农武装割据”→秋收起义
- C. 秋收起义→“工农武装割据”→中共七大
- D. “工农武装割据”→秋收起义→中共七大



15. 中国军队在第三次长沙会战中给日本侵略者以沉重打击，美国总统罗斯福称：“盟军的胜利，全赖华军长沙大捷”。这说明

- A. 中国抗战为世界反法西斯战争的胜利作出重要贡献
- B. 大量爱好和平的国际力量支援了抗日战争
- C. 全民族抗战是抗日战争胜利的根本原因
- D. 第二次国共合作为抗战胜利奠定了基础

16. 以下史实能够证明的结论是

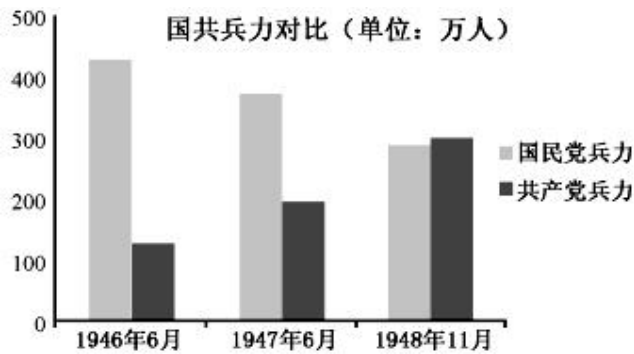
时间	史实
1931年	九一八事变后，中国共产党领导东北抗战。
1936年	西安事变后，中国共产党促成国共两党再度合作，团结抗战。
1937年	全面抗战爆发后，中国共产党建立敌后抗日根据地，展开游击战争。
1938年	毛泽东撰写《论持久战》，指明中国取得反侵略战争胜利的途径和方法。

- A. 中国共产党在抗日战争中发挥了中流砥柱的作用
- B. 敌后抗日根据地是抗日战争中的主要战场
- C. 中国共产党在抗日战争中起到了主力军的作用
- D. 正面战场的抗战在中国共产党领导下取得了胜利

17. 1945年8月，某媒体写道：“他（毛泽东）与蒋主席有十九年的阔别，经长期内战，八年抗战，多少离合悲欢，今于国家大胜利之日，一旦重行握手，真是一幕空前的大团圆！”被该媒体寄予厚望的毛蒋会面是

- A. 中共七大
- B. 遵义会议
- C. 重庆谈判
- D. 庐山会议

18. 下图是解放战争时期国共两党兵力对比图。由此可知人民军队兵力总数占据优势始于



- A. 全面内战爆发时
- B. 战略反攻开始时
- C. 三大战役进行时
- D. 渡江战役开始时

19. 抗美援朝开始一年后，苏联提议，五大国（苏联、法国、英国、美国、中华人民共和国）缔结和平公约，中华人民共和国政府也表示，如今国际上任何重大问题，如果没有苏联和中华人民共和国参加都无法解决。随后，美国同意和谈。这表明

- A. 抗美援朝极大地提高了中国的国际地位
- B. 两大阵营的冷战对峙局面结束
- C. 上述五大国在联合国中开始发挥决定作用
- D. 五大国缔结和约，实现了朝鲜半岛的统一

20. 邓小平指出：“处理国与国之间的关系，和平共处五项原则是最好的方式。”这是因为和平共处五项原则

- A. 体现了国与国之间平等的理念
- B. 开创了中苏两国友好的局面
- C. 消除了国与国之间的矛盾分歧
- D. 推动了上海合作组织的建立

21. 改革开放之后，我国取得的科技成就是

- A. 首颗人造卫星发射成功
- B. 第一颗原子弹爆炸成功
- C. 籼型杂交水稻培育成功
- D. 载人航天飞船发射成功

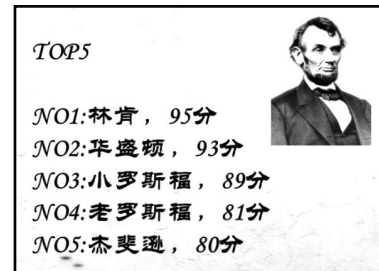


22. 小说《鲁滨逊漂流记》中的主人公鲁滨逊出生于英国一个生活优裕的商人家庭，渴望航海冒险。他在巴西开办了种植园，看到当地缺少劳动力，转而去非洲贩卖黑奴。与这一情节有关的史实是
- A. 大西洋三角贸易
B. 英国资产阶级革命
C. 拉丁美洲独立运动
D. 非暴力不合作运动

23. 右图是美国政治学会《2018年历任美国总统评比结果》。

林肯当选为美国史上最受欢迎总统是因为

- A. 推翻英国殖民统治，争取美国独立
B. 维护国家统一，废除黑人奴隶制度
C. 推行新政，挽救美国经济危机
D. 复兴欧洲经济，使美国成为世界霸主



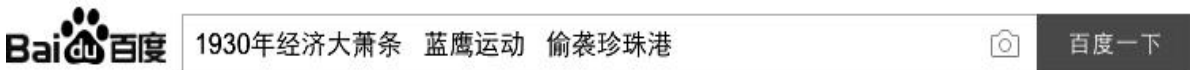
24. 近代的机器与其说是需要的结果，不如说是被迫无奈时有意的发明产物。因为棉布紧俏发明了新式纺纱机和织布机，因为机械动力不足而改良了蒸汽机。这表明，工业革命时期的技术革新

- A. 源于人们生活中的无意发现
B. 着力解决生产中的迫切问题
C. 推动垄断组织的产生与发展
D. 体现科学与技术的密切结合

25. 英国工党秘书布克斯顿曾于1920年6月访问俄国，他在关于俄国农民态度的报告中写道：“他们在土地问题上很感激苏维埃政府，但是他们十分抱怨生活必需品的缺乏，抱怨强制性捐献。”布克斯顿的描写表现了俄国农民不满

- A. 农奴制改革
B. 战时共产主义政策
C. 新经济政策
D. 一五计划

26. 某同学在百度上输入了如下关键词，他想研究的历史人物是



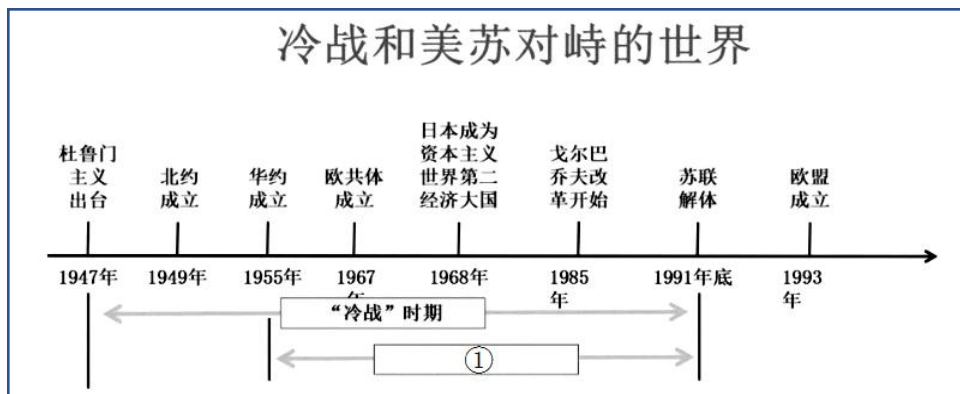
- A. 戴高乐
B. 丘吉尔
C. 斯大林
D. 罗斯福

27. 下列表格中①②③处应填写的内容是

战争	战役名称	战役影响	战后出现的国际组织
第一次世界大战	凡尔登战役	第一次世界大战的重要转折	①
第二次世界大战	斯大林格勒战役	②	联合国
	③	开辟了欧洲第二战场	

- A. ①欧洲联盟
②太平洋战场拉开序幕
③莫斯科战役
B. ①欧洲联盟
②第二次世界大战的转折点
③诺曼底登陆
C. ①国际联盟
②第二次世界大战的转折点
③诺曼底登陆
D. ①国际联盟
②太平洋战争拉开序幕
③莫斯科战役

28. 以下学习卡片中 处应填写



- A. 多极格局
B. 两极格局
C. “一超多强”格局
D. 单极格局



29. 2019年4月1日上午，日本内阁在召开专家座谈会，并且听取参众两院正副议长的意见之后，召开临时内阁会议作出关于新年号的最终决定，再向天皇、皇太子报告，最后由内阁长官于首相官邸公布新年号为“令和”。据此可知

- A. 日本是封建君主专制国家 B. 日本是资本主义君主立宪国家
C. 日本首相掌握国家最高权力 D. 新年号由日本天皇决定

30. 下列人物在近代科学方面有突出成就是

- A. 但丁 B. 牛顿 C. 巴尔扎克 D. 贝多芬

二、非选择题（共45分）

31. （11分）某学校组织以“青铜·华夏文明之光”为主题的游学活动。

活动一 【参观学习 追本溯源】 同学们在参观国家博物馆青铜文化展厅时记录了以下内容



同学甲		玉援青铜内戈：出土于河南安阳殷墟妇好墓。
同学乙		蔡侯申尊：春秋蔡昭侯时期，器内壁铸铭文记述了蔡、吴两国通婚的史实。
同学丙		青铜方鼎：商后期，在商代墓葬中成对出土。
同学丁		青铜编铙：商后期，这类青铜器以战国曾侯乙编钟最为著名。

（1）以上四位同学收集的青铜器资料，从用途上分类分别属于哪一类别？（选择对应正确的字母填入括号内）（4分）

- A. 酒器 B. 食器 C. 兵器 D. 乐器
同学甲：（ ） 同学乙：（ ） 同学丙：（ ） 同学丁：（ ）




活动二 【收集整理 回归课堂】 同学们在分组收集夏商周三代青铜文明成果时制作了如下学习卡片

<p>实物史料</p>	 <p>利簋</p>	 <p>利簋腹内铭文</p>
<p>铭文解释</p>	<p>腹内铭文 4 行 33 字如下： 武王征商，唯甲子朝，岁鼎，克昏夙有商，辛未，王在阑师，赐有事利金，用作檀公宝尊彝。</p>	
<p>史学研究</p>	<p>由于缺乏实物资料，关于牧野之战的具体日期，史学界多有纷争。利簋的发现，除澄清了以往关于武王伐纣具体日期的疑惑，还证实了《尚书·牧誓》、《逸周书·世俘》等文献的记载。</p>	

(2) 依据活动二，概括利簋的史学价值。(2分)

活动三 【古今纵横 论证感悟】 同学们在国家博物馆看到了以下文物

	<p>虎釜(yíng)为西周晚期文物，主要用于祭祀。1860年被英国军官利·埃文斯从圆明园劫掠获得，此后一直由其家族收藏。直到2018年3月底，英国坎特伯雷拍卖行网站出现了它的拍卖信息，青铜虎釜最终以41万英镑的价格在英国成交。4月底，青铜虎釜境外买家表示愿将文物捐赠给中国国家文物局。</p> <p>文物流失只在一时之间，文物的追索却步履维艰。国家文物局数据显示，近年来，我国已逐步建立综合使用外交斡旋、协商谈判、执法合作、司法诉讼等方式的流失文物追索返还工作模式，并成功促成了30多批次近4000件套流失文物回归祖国。圆明园鼠首兔首、秦公晋侯青铜器、大堡子山金饰片等重要文物已先后入藏国家博物馆、上海博物馆、甘肃省博物馆等。</p>
---	--

(3) 依据活动三，并结合所学回答，虎釜是在中国近代哪次战争中被英国军官从圆明园劫掠的。说出我国追索流失文物采取的主要方式。(3分)

(4) 追索流失文物需要每一个中国人的参与，请你为宣传追索流失文物设计一项活动方案。
要求：紧扣主题，活动方案切实可行；说出具体的做法。(2分)



32. (12分) 九年级某班同学以“中国需要世界，世界需要中国”为主题进行专题活动。

【左图右史】

<p>图 1</p>	<p>A. 大食商贾留居长安者或四十余年，皆有妻子、买田宅，举质取利，安居不思归。</p> <p>B. 至桓帝延熹九年，大秦王安敦遣使自日南徼外献象牙、犀角，始乃一通焉。</p>
<p>图 2</p>	<p>C. 公元前 48 年，凯撒大帝在祝捷会上曾身穿丝绸服装，后来中国丝绸风靡整个罗马帝国，贵族竞相效仿。</p> <p>D. 贞观十四年，形成十部乐，即燕乐、清高乐、西凉乐、天竺乐、高丽乐、龟兹乐、安国乐、疏勒乐、康国乐、高昌乐。</p>

(1) 以上文字材料适合与图 1 互证的有 (写字母)；
适合与图 2 互证的有 (写字母)。(4分)

(2) 说出图 2 中与唐朝交往的①②国家是、。分别说出这两个国家与唐朝交往的具体史实及影响。(6分)

【史论结合】



2015 年 8 月 20 日出版的美国《时代》周刊中写道：“中国的强劲增长势头打破了原先的世界格局……所以，欢迎来到‘中国时代’。”

① 2019 年德国汉诺威工业博览会（工博会）3 月 31 日晚拉开帷幕。本届汉诺威工博会以“融合的工业——工业智能”为主题，重点关注“工业 4.0”、智能工厂、第五代移动通信技术（5G）、人机协作、能源智能网络等，共吸引来自全球 75 个国家和地区的 6500 家参展商，其中，中国展商数量超过 1300 家，仅次于东道主德国，中国“智造”正向国际先进水平迈进。



②	2019年3月25日习近平在与法国总统马克龙会谈时提出：(双方)要加快科技创新、农业、金融、养老服务新兴领域合作步伐。要为双边贸易与投资提供更多支持和便利。中国将继续大幅放宽市场准入，优化营商环境，加强知识产权保护，打造高水平对外开放新格局。
③	中国已经成立中俄、中美、中法、中英、中欧盟、中印尼、中南非、中德八大中外人文交流机制，与188个国家和地区建立了教育合作与交流关系，与46个重要国际组织开展教育合作与交流。孔子学院在中外文化交流中发挥了重要作用。目前，中国已在全球149个国家(地区)建立530所孔子学院和1113个孔子课堂，现有中外专兼职教师4.62万人，累计培养各类学员900多万人。

(3) 根据下列表格中的史实，选取其中一条谈谈你对“中国时代”的理解。(2分)

33. (10分) 婚照是一个时代流行文化的印记。

材料一

中国传统婚姻遵循父母之命原则。一方面儒家伦理道德重视婚姻对祖先祭祀和宗族延续的作用，强调卑幼要遵从尊长安排，否则“父母国人皆贱之”。另一方面，迟至明清时期，已有专门法条规定男女成婚要听从父母之命。

——雷家琮《中国传统婚姻遵循父母之命原则》



(1) 有人说，百年前的中国男女没有婚姻自由。依据材料一说出原因。(2分)

材料二

“我们是年轻人，我们要将自己的幸福夺回来”是当时(20世纪20年代)新派青年人的追求。在一些非大城市的地方，新派青年人……摆脱了家族对婚姻的束缚，自主举办了婚礼。

——黄强《衣仪百年——近百年中国服饰风尚之变迁》



(2) 依据材料二，说出20世纪20年代年轻人的婚姻价值观产生的变化。结合具体史实，分析产生这种变化的原因。(3分)

材料三

(新中国成立时)新人的服饰也很简朴，许多人结婚并没有什么结婚照，有的也是很普通的，通常情况也就是去照相馆拍一张合影而已。……这不是经久不衰，而是无奈之举。

——黄强《衣仪百年——近百年中国服饰风尚之变迁》



(3) 结合所学，说出材料三中“无奈之举”的原因。(1分)



材料四

(20世纪80年代)人们物质生活不断丰富,婚礼也随之悄然发生了许多变化。婚纱摄影得到了重新认识……作为结婚的一项重要内容来安排。新娘能化妆,拍上着色的结婚照,被认为是开放和时尚之举。

——黄强《衣仪百年——近百年中国服饰风尚之变迁》



(4) 20世纪80年代人们对婚照的态度发生了什么变化?结合时代背景,说出发生这种变化的原因。(2分)

材料五 如今,婚照不仅是一种仪式感的婚姻记录,它更包含了当下年轻人对婚姻的态度与对未来生活的期许。婚照,是每一个家庭的见证,也是每一个时代的潮流缩影。

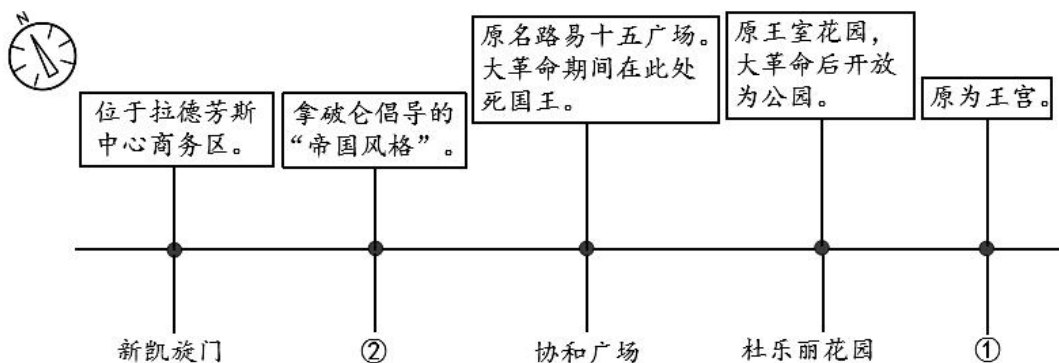
——人民网2018年10月5日

(5) 依据材料一至材料五,谈谈你对婚照“是每一个时代的潮流缩影”的理解。(2分)

34. (12分) 中轴线是城市的记忆。

【路线规划】

材料一 巴黎的历史轴是一条从市中心向西的直线,由文物古迹、建筑、街道组成。这条轴线的东端始于卢浮宫,经过杜乐丽花园、协和广场,到达凯旋门。20世纪60年代以后,轴线继续向西延伸到拉德芳斯商务区的新凯旋门。因此,也被称为凯旋之道。



(1) 依据材料一和上图,将图中①②的地点名称填写在相应位置。(2分)

【文献研究】

材料二 弗朗索瓦在1515年登上王位。他的两位前任,查理八世和路易十二花费了极大的精力企图用武力征服意大利,然而却丝毫没有看到这片土地所发出来的智慧之光。这两位君主只是在简单模仿几个世纪以来法国国王们一直在做的事情:扩展土地,加强王权。不过他们的成绩为法国即将卷起的文艺复兴之风奠定了坚实的基础,在查理八世与路易十二在意大利接连不断地攻城掠地时期,源于意大利的这些新思想传播到了法国。弗朗索瓦一世正是在这个特殊历史时期接受的教育,这使得他比之前的任何国王都更向人文主义靠近。到他即位时,文艺复兴的影响就真的在法国生根了。弗朗索瓦一世极力支持这种新变化,他成了一些艺术品的最大主顾。今天在卢浮宫里,人们见到的法国王室的收藏,实际上是从弗朗索瓦一世时代才开始的。

(2) 依据材料二,对以下表述做出判断。直接从材料得出的,在括号内划“√”;违背材料所表达意



思的，在括号内划“×”；材料没有涉及的，在括号内划“○”。（5分）

- ①查理八世和路易十二醉心于文艺复兴之风带来的新思想。（ ）
- ②法国是文艺复兴运动的发源地。（ ）
- ③文艺复兴的思想因为法国对意大利的武力征服而传播到法国。（ ）
- ④弗朗索瓦一世邀请许多艺术家来到法国进行创作。（ ）
- ⑤今天在卢浮宫可以看到文艺复兴时期的艺术品。（ ）

【历史追思】

材料三 由于革命思想已经蔓延到军队，保卫凡尔赛宫的任务只好由 138 名瑞士雇佣兵担任。在危机时刻，他们誓死保卫国王，而这位仁慈的君主因为对手是巴黎市民，竟命令士兵不要对人民开枪。……可是，历史是无情的，它不会因为一个国王的仁慈而改变它的惯性。

 统治多个世纪的绝对君主制与封建制度在法国走到了尽头……代表新兴资产阶级的巴黎市民在处决他时报以欢声雷动，同时庆祝共和国的诞生。

 在人类文明史上，法国大革命开创了历史的新纪元，国王也因此成为了祭品，他的人生注定是一场悲剧。正如法国资产阶级革命家罗伯斯比尔所说——国王必须死，因为共和必须生。

——摘自《佣兵的传奇》

（3）材料三中的国王是谁？依据材料三并结合所学，分析“国王必须死，因为共和必须生”的原因。（3分）

材料四 （新凯旋门的设计师表示）作品是一个 20 世纪的凯旋门：具有人类与人道主义理想的纪念碑，而不是歌颂军事的胜利。

——《巴黎——浪漫城市》

（4）结合当今时代的主题，谈谈你对材料四的理解。（2分）

