

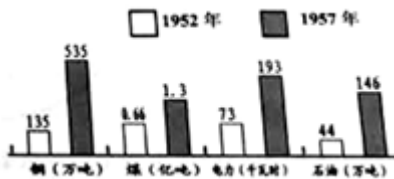
# 2022 北京房山初二（下）期中

## 历史



### 一、单选题（本大题共 25 小题，共 50 分）

1. 1949 年 9 月，在中国人民政治协商会议第一届全体会议上，毛泽东说：“占人类总数四分之一的中国人从此站起来了。”“中国人从此站起来”是指中国实现了（ ）
- A. 全境解放                      B. 社会主义                      C. 国家富强                      D. 民族独立
2. 一定时期的报纸反映了一定时期的社会面貌，有些词会频繁见诸于报端，抓住这些关键词有助于把握当时的历史面貌。与“开国大典”、“抗美援朝”、“土地改革”三个关键词直接相关的主题是（ ）
- A. 中国社会主义制度建立                      B. 中华人民共和国成立和巩固
- C. 中国特色社会主义道路                      D. 新民主主义革命
3. “一五”计划中，国家对轻工业和重工业的投资比例为 1：7：9。由此可见，“一五”计划的基本任务是（ ）
- A. 优先发展轻工业                      B. 轻重工业均衡发展
- C. 优先发展重工业                      D. 农轻重三业均衡发展
4. 如图为建国初期我国主要工业产品产量变化柱状图。其中数据变化的主要原因是（ ）



- A. 土地改革的完成                      B. 抗美援朝的推动                      C. 三大改造的进行                      D. 一五计划的实施
5. “企业的私有制向社会主义所有制转变，这在世界上早就出现过，但采用这样一种和平过渡的方法，使全国工商界都兴高采烈来接受这种改变，则是史无前例的。”实现了“和平过渡”，被称为“中国社会主义改造的创举”的是（ ）
- A. 实行股份制                      B. 廉价收购                      C. 赎买政策                      D. 无偿没收
6. 历史和现实都告诉我们，只有社会主义才能救中国，只有中国特色社会主义才能发展中国，这是人民的选择、历史的结论。我国初步建立起社会主义基本制度的标志是（ ）
- A. 中华人民共和国成立                      B. 土地改革完成
- C. “一五计划”完成                      D. 三大改造的基本完成
7. 如图所示为某同学的历史笔记，主题应是（ ）

- 1. 新中国工业化的起步
- 2. 人民代表大会制度的确立
- 3. 三大改造

- A. 社会主义制度的建立                      B. 民主政治制度的完善
- C. 社会主义经济建设成就                      D. 中国特色社会主义道路



8. 1956年，中国共产党对我国建设社会主义道路进行的一次成功探索是（ ）
- A. 开展土地改革  
B. 召开八大并制定正确的方针  
C. 发动“大跃进”运动  
D. 发动人民公社化运动

9. 作家莫言获诺贝尔奖的小说《蛙》有以下描写：“1962年秋季，高密东北三万亩地瓜获得了空前的大丰收。跟我们闹了三年别扭、几乎是颗粒无收的土地，又恢复了它宽厚仁慈、慷慨奉献的本性。那年的地瓜，平均亩产超过了万斤。”出现此现象的原因是（ ）

- A. 土地改革使农民成为土地的主人  
B. 农业社会主义改造调动了农民的生产积极性  
C. 在跃进运动使粮食产量极大提高  
D. 党和政府全面调整国民经济，恢复发展生产

10. 宣传画往往带有深刻的时代烙印。如图的宣传画最有可能出现在（ ）



- A. 三大改造时期  
B. “大跃进”时期  
C. 第一个五年计划时期  
D. “文化大革命”时期

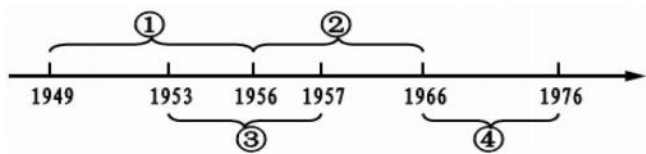
11. 他甘做无名英雄，兢兢业业，呕心沥血，为兰考治沙而呕心沥血，被誉为“党的好干部”的英雄模范人物是（ ）



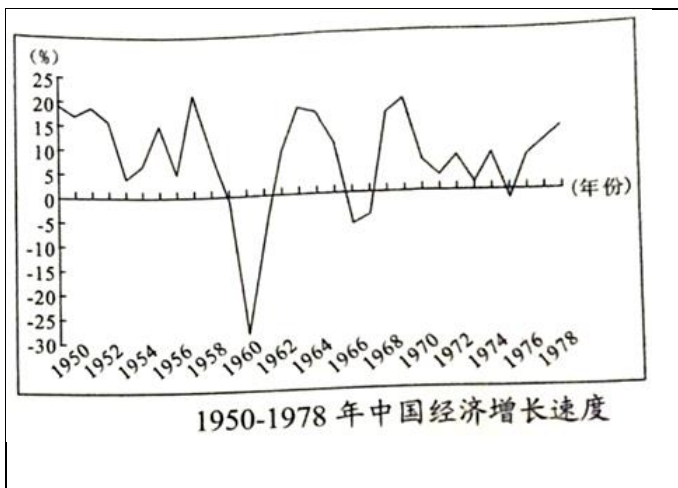
12. “文化大革命”时期，中国人民在中国共产党的领导下，艰苦奋斗，克服重重困难，仍取得了一些科技成就。以下建设成就属于该时期的是（ ）

- A. 川藏、青藏、新藏公路相继通车  
B. 建成武汉、包头两大钢铁基地  
C. 成功发射了第一颗人造地球卫星  
D. 完成了人工合成结晶牛胰岛素

13. 下列时间轴反映了新中国成立后的一段历史，其中表述正确的是（ ）



- A. ①段出现“大跃进”等“左”的错误
  - B. ②段是社会主义建设和探索时期
  - C. ③段国家进行了土地改革
  - D. ④段我国进入社会主义现代化建设新时期
14. 如图，1950-1978年中国经济增长的总体趋势是（ ）



- A. 快速上升
  - B. 曲折发展
  - C. 缓降缓起
  - D. 持续下滑
15. 徐小明同学的爸爸收藏了刊登右图所示文章的一份报纸，下列作为收藏理由的是该文章的发表（ ）



- A. 标志着“四人帮”被粉碎
  - B. 提出了“两个凡是”的方针
  - C. 标志着中国思想理论界开始了关于真理标准问题的讨论
  - D. 平反冤假错案的工作在全国全面展开
16. 社会主义建设的初步探索时期，我国仍取得了巨大成就。下列各项中对这一时期取得成就的原因分析正确的是（ ）
- ①中国共产党的坚强领导
  - ②“鼓足干劲、力争上游、多快好省地建设社会主义”总路线的正确指引
  - ③以王进喜、焦裕禄、雷锋等为代表的英雄模范人物的无私奉献



④中国人民的艰苦奋斗和高昂的建设热情

- A. ①②③                      B. ①③④                      C. ①②④                      D. ②③④

17. 中共十一届三中全会是中华人民共和国成立以来党的历史上具有深远意义的伟大转折。其“转”体现在（    ）

- A. 从旧民主主义革命转向新民主主义革命  
B. 党的工作中心从城市转向农村  
C. 把党的工作重心转移到经济建设上来  
D. 挽救了党，挽救了中国革命

18. 为了全面总结建国 32 年以来历史经验，并对一些重大历史问题作出结论，以分清是非，统一思想的会议是（    ）

- A. 中共十一届三中全会                      B. 中共十一届六中全会  
C. 中共十二届三中全会                      D. 中共十四届三中全会

19. 1984 年 3 月 24 日，福建省 55 位厂长经理在《福建日报》上发出“请给我们松绑”的呼吁。随后，《人民日报》转载了这封呼吁信，将“松绑”风吹响全国。这里的“松绑”主要是指（    ）

- A. 扩大企业经营自主权                      B. 承认企业所有权和经营权完全分开  
C. 允许企业实行公私合营                      D. 确立社会主义市场经济体制

20. 1993 年 4 月 1 日起，按照国务院《关于加快粮食流通体制改革的通知》精神，取消了粮票和油票，实行粮油商品敞开供应。从此，伴随城镇居民近 40 年里程的粮票、油票等各种票证就此谢幕，象征着阳光新时期的来临。这个来临的新时期是（    ）

- A. 向社会主义过渡时期                      B. 社会主义道路探索时期  
C. 社会主义计划经济时期                      D. 社会主义市场经济时期

邓小平是我国改革开放和社会主义现代化建设的总设计师，此论断的主要依据有（    ）

- ①创立了邓小平理论  
②提出了“三个代表”重要思想  
③成功开创了中国特色社会主义  
④解决姓“资”姓“社”争论问题

- A. ①③④                      B. ①②③                      C. ①②④                      D. ②③④

21. 2013 年，习近平在十二届全国人大一次会议上，阐述了中国梦的宏伟蓝图，实现“中国梦”的三个必备条件是（    ）

- ①走中国道路  
②构建人类命运共同体  
③弘扬中国精神  
④凝聚中国力量

- A. ①②③                      B. ①②④                      C. ①③④                      D. ②③④

22. 如图是十八大以来我国取得的部分重大科技成果，这一系列重大成果，主要体现了新发展理念中的（    ）




国产大型客机C919



暗物质粒子探测卫星“悟空号”



中国“天眼”



量子科学试验卫星“墨子号”



十八大以来我国取得的部分重大科技成果

- A. 绿色                      B. 创新                      C. 协调                      D. 开放

23. 词汇出现频率的高低反映国家政治、经济、文化主题的变化。以下为 1978~2019 年中国各大报刊出现的高频率词汇，其中最有可能属于 2012~2019 年的是（     ）

- A. 解放思想    改革开放    一国两制  
 B. 社会主义市场经济    211 大学    三个代表  
 C. 和谐社会    八荣八耻    科学发展观  
 D. 中国梦    一带一路    两个一百年

24. 回归梦、入世梦、奥运梦、改革开放以来，中华民族圆了一个又一个梦，我们能够梦想成真的原因是（     ）

- A. 中国教育快速发展                                      B. 中国科技发展成就突出  
 C. 中国外交成果显著                                      D. 中国综合国力增强

二、材料解析题（本大题共 4 小题，共 50 分）

25. 2022 年 3 月 4 日和 5 日，“两会”开幕。“两会”是践行民主法治的重要场所，见证了新中国民主法治的探索发展历程。

【民主法治的确立】

材料一“45”是指当时的与会代表来自 45 个单位，涵盖了党派代表单位、区域代表单位、军队代表单位、团体代表单位、特别邀请人士等各行业各领域的代表。“56%”是指 662 名代表中，正式代表共 510 人，候补代表 77 人，特别邀请人士 75 人，党外人士约占总人数的 56%。

——摘编自《中国人民政治协商会议第一届全体会议代表名单》

材料二究竟是一个党好，还是几个党好？现在看来，恐怕是几个党好。不但过去如此，而且将来也可以如此，就是长期共存，互相监督。

——毛泽东《论十大关系》（1956 年 4 月 25 日）

(1) 请依据材料一，概括中国人民政治协商会议第一届全体会议的特点。综合材料一、二并结合所学，说出第一届政治协商会议召开的意义。

材料三



中华人民共和国的一切权力属于人民。人民行使权力的机关是全国人民代表大会和地方各级人民代表大会。……中华人民共和国全国人民代表大会是最高国家权力机关。

——《中华人民共和国宪法》(1954 年)





(2) 说出《中华人民共和国宪法》是在哪次会议上制定的。依据材料三并结合所学，谈谈你对人民代表大会制度的认识。

**【民主法治的重构与发展】**

材料四为了保障人民民主，必须加强法制。现在的问题是法律很不完备，很多法律还没有制定出来。往往把领导人说的话当做“法”，不赞成领导人说的话就叫做“违法”，领导人的话改变了，“法”也就跟着改变。

——摘编自《解放思想，实事求是，团结一致向前看》

(3) 请依据材料四并结合所学，分析“现在的问题”出现的背景。

材料五十一届三中全会以来中共中央对民主法治的推进



(4) 请依据材料五，分析我国民主法治发展的特点。

**【民主法治的成熟】**

材料六全国共建立青少年法治教育基地 3 万多个，96.5% 以上的中小学配备了法治辅导员。全国共举办法治宣传广播栏目 5200 多个、电视栏目 3800 多个、报刊栏目 6000 多个，形成了一批普法宣传品牌栏目。全国普法办开通“中国普法”官方微博、微信和客户端，各地各部门创办普法网站 3700 多个，普法官方微博、微信 2600 多个。

——黄丽云：《普法宣传工作论纲》，中国司法 2019 年 03 期

(5) 依据材料六，概括目前法治社会的特点。

26. 中华民族伟大复兴之路

**【立国之路】**

材料一 70 年前的今天，……中国人民从此站起来了。这一伟大事件，彻底改变了近代以后 100 多年中国积贫积弱、受人欺凌的悲惨命运，中华民族走上了实现伟大复兴的壮阔道路。

——习近平在庆祝中华人民共和国成立 70 周年大会上的讲话

(1) 依据材料一并结合所学，分析新中国成立的历史意义。

材料二



黄继光



邱少云

志愿军将士面对强大而凶狠的作战对手，身处恶劣而残酷的战场环境，抛头颅、洒热血，以“钢少气多”力克“钢多气少”。他们说我们身后就是祖国，为了祖国人民的和平，我们不能后退一步！他们冒着枪林弹雨勇敢冲锋，顶着狂轰滥炸坚守阵地。以身躯作人梯、抱起炸药包、手握爆破筒冲入敌群，忍饥受冻绝不退缩。敢于“空中拼刺刀”。他们中涌现出 30 多万英雄功臣和近 6000 个功臣集体，他们用生命谱写了惊天地、泣鬼神的雄壮史诗，被祖国人民称为“最可爱的人”。

—摘编自《中国共产党简史》

(2) 依据材料二分析中国人民志愿军为什么被称为“最可爱的人”。

材料三

<p>打得一拳开，免得百拳来。我们抗美援朝，就是保家卫国。</p> <p>——毛泽东于 1950 年 10 月与周世钊谈话中提出来的著名论断</p>	<p>西方侵略者几百年来只要在东方一个海岸上架起几尊大炮就可以霸占一个国家的时代是一去不复返了。</p> <p>——彭德怀《关于中国人民志愿军抗美援朝工作的报告》</p>
--	---

(3) 依据材料三并结合所学，谈谈抗美援朝战争胜利的影响。

【转折之路】

材料四“它是一个光辉的起点，它标志着中国共产党从严重的挫折中重新奋起，带领中国人民在新的历史条件下开始了新的伟大革命……社会主义中国将在这场新的革命中告别贫穷和落后，走向繁荣和进步”。——费正清《剑桥中华人民共和国史》

(4) 材料四中的“光辉的起点”指的是党的哪一重大会议？“新的伟大革命”指的是在此次会议上做出的什么伟大决策？

【复兴之路】

材料五



(5) 请将时间轴补充完整。① \_\_\_\_\_ ② \_\_\_\_\_。

(6) 实现中华民族伟大复兴的中国梦，是民族梦，也是每个中国人的梦。作为新时代中学生，你能为中国梦的实现作出哪些努力？

27. 农业·农村·农民

材料一



①农民领取联产承包责任制合同书



②土地改革农民丈量土地



③农民申请加入农业生产合作社

(1) 将上述图片反映的历史史实按照时序排列。

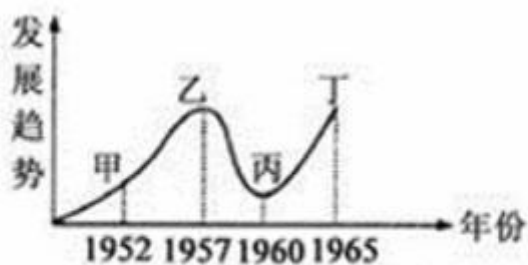
材料二



### 《中华人民共和国土地改革法》受到广大农民的热烈拥护

(2) 1950年中央人民政府颁布了《中华人民共和国土地改革法》，该法实施的历史意义是什么？

材料三



### 新中国在 20 世纪五六十年代的农业发展趋势示意图

(3) 观察《新中国在 20 世纪五六十年代的农业发展趋势示意图》，其中引起乙到丙段发展变化的主要原因是什么？

材料四

	<p>1978年，小岗村生产队18户农民私下立了一份将田地包干到户的契约。他们艰苦地干了一年，还了贷款，生活有了改善，自农业合作化以来第一次向国家交了公粮。</p> <p>这一做法，在中央的支持下和倡导下，成为全国推广的农业生产制度。</p> <p>——摘编自八年级下册历史教材38页“相关史事”</p>
--	--

1978年，小岗村农民按下红手印的“大包干”契约

(4) 依据材料四并结合所学，说出“全国推广的农业生产制度”的名称及其作用。

材料五 1978~2017年中国农业总产值和农村居民人均可支配收入表





年份	农业总产值（亿元）	农村居民人均可支配收入（元）
1978	1397	133.6
1990	7662.1	686.3
2000	24915.8	2253.4
2017	109331.7	13432.4

(5) 依据材料五，概括 1978~2017 年中国农村的变化。综合以上材料并结合所学，谈谈影响中国农村、农业、农民发展的重要因素是什么？

## 28. 对外开放谱新篇

材料一目前，我国实行经济开放政策，争取利用国际上的资金和先进技术，来帮助我们发展经济。这一政策已开始有些效果。但是，从发达国家取得资金和先进技术不是容易的事情……必须在自力更生的基础上争取外援，主要依靠自己的艰苦奋斗。

——邓小平《我国经济建设的历史经验》（1982 年）

(1) 依据材料一，概括邓小平的对外开放思想。

材料二 1980 年 8 月 26 日，第五届全国人大常委会第十五次会议批准设置经济特区，并通过《广东省经济特区暂行条例》。……1992 年，党的十四大确立了社会主义市场经济体制的改革目标，经济特区优惠政策时代逐渐谢幕，深圳由“探路者”回归为普通奔跑者。但深圳没有放慢自己的脚步，而是从“单项改革”迈向“综合改革”的深水区。……2019 年 8 月，中共中央、国务院下发《关于支持深圳建设中国特色社会主义先行示范区的意见》，这意味着深圳要作为国家“战略代表队”在全球城市竞争中率先冲刺。深圳逐条对照意见制定行动方案，明确了 2019-2025 年建设先行示范区的 127 项具体任务，开启全方位先行示范、走向未来“无人区”的新征程。

——新华社新媒体《从改革开放“探路者”到新时代“示范区”深圳特区 40 年巨变折射中国道路优越性》，2020 年 8 月 25

(2) 依据材料二，结合所学知识，概括深圳在不同时期“先行示范”的时代背景并总结其成功经验。

材料三



中国对外开放格局的形成示意图



(3) 依据材料三，概括对外开放的格局及其特点。

材料四

<p>中国加入世贸组织 20 年间，中国经济总量从世界第 6 位上升到第 2 位。中国成为东盟、欧盟、日本、印度等 120 多个国家和地区的最大贸易伙伴。中国 GDP 全球占比从 2001 年 4% 发展到 2020 年 17%。中国对世界经济增长的贡献率超过 30%。加入世界贸易组织 20 年取得的巨大成就，是我们主动抓住经济全球化发展机遇、全面扩大对外开放、深度融入世界经济的发展成果。</p> <p>——摘编自《光明日报》等</p>	<p>随着更多的外国产品和服务进入我国市场，我国的企业将面临更激烈的竞争，特别是那些成本高、技术水平低和管理落后的企业，将面临更加严峻的挑战。民族产业将面临巨大挑战，如果不及时转变发展方式，提高效率和创新能力，就会被市场淘汰。</p> <p>——胡艾迪《中国加入 WTO 利弊分析》</p>
--	---

(4) 依据材料四并结合所学，谈谈中国加入世贸组织的影响。

# 参考答案



## 1. 【答案】D

【解析】1949年10月1日，新中国的成立开辟了中国历史的新纪元，从此，中国结束了一百多年来被侵略被奴役的屈辱历史，真正成为独立自主的国家，中国人民站起来了，成为国家的主人。“中国人从此站起来”是指中国实现了民族独立。

本题考查新中国的成立，应把握新中国成立的有关知识。

## 2. 【答案】B

【解析】结合所学知识可知，1949年10月1日下午，北京30万军民齐集天安门广场，隆重举行开国大典。毛泽东向全世界庄严宣告：中华人民共和国中央人民政府今天成立了！新中国成立后，为巩固新生的政权，中国共产党进行了西藏和平解放、抗美援朝、土地改革。1951年，西藏和平解放，标志着中国大陆获得了完全统一；1950年-1952年，中央人民政府颁布《中华人民共和国土地改革法》，土地改革使农民成为土地的主人，在政治、经济上翻了身，解放了农村生产力，促进了农村经济的恢复和发展，巩固了新生的人民政权。1950年至1953年的抗美援朝，维护了亚洲和世界和平，为新中国赢得了相对稳定的和平环境，巩固了新生的人民政权。B符合题意。

故选：B。

本题主要考查了新中国的成立以及新生人民政权的巩固史实，掌握相关基础知识。

本题主要考查了新中国的成立以及新生人民政权的巩固史实，注意基础知识的识记与理解。

## 3. 【答案】C

【解析】由题干中所给出的农业、轻工业和重工业的投资比可知重工业所占有的比重最大，由此可知“一五”计划的基本任务是优先发展重工业。

故选：C。

本题考查的一五计划，题目中给出的是轻重工业的比重，很容易看出国家重点扶植的是重工业的发展。

一五计划的内容和任务、影响是考查的重点内容之一，应该准确把握住该知识点。

## 4. 【答案】D

【解析】本题考查的是一五计划的相关知识，1957年一五计划的完成，标志着我国开始改变了工业落后的面貌，向社会主义工业化迈进。所以出现了材料二中1952年到1957年工业产品产量变化。一五计划时期我国在汽车工业和飞机制造工业方面的成就有，1956年，长春一汽生产出第一辆汽车；中国第一个飞机制造厂试制成功第一架喷气式飞机。

本题考查一五计划；1953年-1957年，为了有计划的进行社会主义建设，党和政府实施了第一个五年计划。基本任务是集中主要力量发展重工业。

本题考查学生对基础知识的识记能力，需要准确识记一五计划的内容。

## 5. 【答案】C



【解析】我国对资本主义工商业的社会主义改造采取的主要方式是实行公私合营，在改造过程中，对资本家占有的生产资料，实行赎买政策。这种改造政策，实现了和平过渡，是中国社会主义改造的创举。

故选：C。

本题考查三大改造。

掌握三大改造的相关知识。

#### 6. 【答案】D

【解析】1953-1956年进行的三大改造，基本上完成了对农业、手工业和资本主义工商业的社会主义改造，实现了把生产资料私有制转为社会主义公有制的任务，我国初步建立起社会主义的基本制度，从此，进入社会主义初级阶段。

故选：D。

本题主要考查三大改造完成的意义。1953-1956年进行的三大改造，基本上完成了对农业、手工业和资本主义工商业的社会主义改造。

本题主要考查解读题干信息和对历史史实的分析和准确识记能力。注意掌握三大改造完成的意义。

#### 7. 【答案】A

【解析】新中国工业化的起步指的是一五计划；人民代表大会制度的确立是一届人大的召开，一届人大的召开制定了我国第一部社会主义类型的宪法；三大改造的完成，确立了中国社会主义制度。一五计划、一届人大召开、三大改造的主题是社会主义制度的确立。A符合题意。

故选：A。

本题考查三大改造、第一届全国人民代表大会和新中国第一部宪法、一五计划，掌握相关的基础知识。

本题考查三大改造、第一届全国人民代表大会和新中国第一部宪法、一五计划，考查学生的理解和分析能力，解题关键是掌握基础知识。

#### 8. 【答案】B

【解析】据课本所学我们知道，1950年，中共中央颁布《中华人民共和国土地改革法》进行土地改革。“大跃进”和“人民公社化运动”都是在1958年中共八大二次会议之后开始的。只有中共八大是在1956年召开的，与题目时间相符。

故选：B。

本题主要考查对重要历史事件的时间的记忆。

平常注重对基础知识的记忆。

#### 9. 【答案】D

【解析】在探索社会主义经济建设的过程中，出现了如大跃进、人民公社化运动之类的失误，给国家造成了严重的困难。为此国家在1961年党和政府迅速调整国民经济，恢复发展生产，并取得明显成效。

本题主要考查国民经济的调整所取得成效。

了解调整国民经济取得的成效以及辨别大跃进和人民公社化运动的失误造成的损失。



#### 10.【答案】B

【解析】由材料图片可知是大跃进时浮夸风的盛行。1958年进行的大跃进运动，违背了经济发展的客观规律，出现了高指标、瞎指挥、浮夸风和共产风的“左”倾错误。

故选：B。

本题考查大跃进。1958年进行的大跃进运动，违背了经济发展的客观规律，出现了高指标、瞎指挥、浮夸风和共产风的“左”倾错误。

本题考查学生识图读图能力。结合课本基础知识即可得出答案。

#### 11.【答案】C

【解析】被誉为“党的好干部”的是焦裕禄。焦裕禄在任中共河南省兰考县县委书记时，兰考县遭受内涝、风沙、盐碱三害，粮食产量降到历史最低水平。他带领全县干部和群众，同自然灾害进行顽强斗争，使兰考贫困面貌大为改观，他身患癌症，仍然坚持工作，直到生命最后，人民称颂他是“党的好干部”。故C符合题意。

故选：C。

本题考查了焦裕禄的知识。探索建设社会主义时期涌现出的模范人物主要有“两弹元勋”邓稼先；“铁人”王进喜；“党的好干部”焦裕禄等，他们身上都具有艰苦创业和全心全意为人民服务的精神。

本题考查学生对基础知识的识记能力，需要准确识记模范人物焦裕禄的事迹。

#### 12.【答案】C

【解析】“文化大革命”的起止时间是1966-1976年。1970年，我国用长征号运载火箭，成功地发射了第一颗人造地球卫星——东方红一号，成为世界上第五个能独立发射人造地球卫星的国家。

故选：C。

本题考查文化大革命，掌握相关的基础知识。

本题考查文化大革命，考查学生的理解和分析能力，解题关键是掌握基础知识。

#### 13.【答案】B

【解析】“大跃进”发生在1958年，排除A；1956-1966年是社会主义建设和探索时期；土地改革发生在1950-1952年，排除C；1978年召开的十一届三中全会标志着我国进入社会主义现代化建设新时期，排除D。

故选：B。

本题考查大跃进和人民公社化运动，掌握相关的基础知识。

本题考查大跃进和人民公社化运动，考查学生的理解和分析能力，解题关键是掌握基础知识。

#### 14.【答案】B

【解析】据图片并结合所学知识可知，1956年三大改造的完成，标志着我国社会主义制度的基本确立；中共八大正确分析了当时社会的主要矛盾，明确了主要任务，为社会主义建设指明了方向；但实践中。在社会主义建设总路线指引下，出现了“大跃进”和人民公社化运动。严重挫伤了人民群众的建设热情；文化大革命是社会主义建设中的严重失误，民主和法治遭到严重破坏；1978年改革开放以后，在农村实行家庭联产承包责任制，在城市进行国有企业





的改革，同时实行对外开放政策。综合国力不断提高；1950-1978年中国经济增长的总体趋势是曲折发展，B符合题意。

本题考查社会主义探索建设经济发展状况。关键是解读图片，把握相关历史知识。

解答本题要把握社会主义探索建设经济发展状况的相关内容，运用所学，分析题目的要求，即可作答。

#### 15. 【答案】C

【解析】1978年，思想理论界展开了一场真理标准问题的大讨论。这是一场深刻的思想解放运动。它使人们认识到，只有实践才是检验真理的唯一标准。故《实践是检验标准的唯一标准》的发表标志着中国思想理论界开始了关于真理标准问题的讨论。1976年10月，华国锋、叶剑英等代表中央采取断然措施，将“四人帮”隔离审查，一举粉碎江青反革命集团，标志着“四人帮”被粉碎，“文化大革命”的结束。排除A；经过十年“文化大革命”的动乱，积累下许多严重的政治问题和社会问题。粉碎“四人帮”以后，人们要求对“文化大革命”中的冤假错案进行平反，要求纠正“文化大革命”的错误。1977年2月7日，《人民日报》、《红旗》杂志和《解放军报》发表社论，公开提出“凡是毛主席作出的决策，我们都坚决维护，凡是毛主席的指示，我们都始终不渝地遵循”的方针。这一方针后来被称为“两个凡是”，它的推行引起普遍不满。排除B；十一届三中全会以后，伴随着思想解放的巨大潮流，平反冤假错案的工作在全国全面展开。排除D。

故选：C。

本题考查关于真理标准问题的大讨论，掌握相关的基础知识。

本题考查关于真理标准问题的大讨论，考查学生的理解和分析能力，解题关键是掌握基础知识。

#### 16. 【答案】B

【解析】社会主义建设的初步探索时期，我国取得成就的原因有中国共产党的坚强领导，以王进喜、焦裕禄、雷锋等为代表的英雄模范人物的无私奉献，中国人民的艰苦奋斗和高昂的建设热情。②社会主义建设总路线引发了大跃进和人民公社化运动，不是这一时期取得成就的原因。

故选：B。

本题考查我国社会主义建设的相关知识，掌握相关基础知识。

本题考查学生的识记能力，掌握我国社会主义建设的相关知识。

#### 17. 【答案】C

【解析】根据所学知，1978年召开的十一届三中全会，作出把党和国家的工作重心由以阶级斗争为纲转移到经济建设上来，实行改革开放的伟大决策，十一届三中全会成为实行改革开放和开辟中国特色社会主义道路的起点，是新中国历史上的重大转折，我国的改革开放从此拉开序幕。C符合题意；ABD与题意不符。

故选：C。

本题主要考查十一届三中全会，要求学生结合十一届三中全会的内容和影响来分析。

党的历史上的重要会议是考查的重点，应准确记忆十一届三中全会的内容及意义。

#### 18. 【答案】B



【解析】为了全面总结建国 32 年以来历史经验，并对一些重大历史问题作出结论，以分清是非，统一思想，1981 年，中共十一届六中全会召开，通过了《中国共产党中央委员会关于建国以来党的若干历史问题的决议》，标志着中国共产党在指导思想上的拨乱反正胜利完成。

故选：B。

本题考查中共十一届六中全会，掌握相关的基础知识。

本题考查中共十一届六中全会，考查学生的理解和分析能力，解题关键是掌握基础知识。

#### 19. 【答案】A

【解析】在计划经济体制下，政企职责不分，企业的经营权集中在政府手里，企业没有自主权；企业吃国家的大锅饭，职工吃企业的大锅饭，各方面积极性不高，企业没有活力，改革以后，实行政企分开，企业有了经营自主权；实行经营承包责任制，克服了长期以来吃“大锅饭”的弊病。这就大大调动了企业、职工的积极性，增强了企业的活力。因此“松绑”就是迫切要求扩大企业自主权。

故选：A。

本题主要考查国企改革。

本题旨在考查综合运用所学知识进行判断分析的能力。注意掌握我国的国企改革。

#### 20. 【答案】D

【解析】本题主要考查学生调动和运用知识的能力。从材料的描述中可以看出，票证是计划经济时代的产物，在中国使用了近 40 年的票证从 1993 年起将被取消，说明中国将由计划经济向社会主义市场经济转变，故这里的“新时代”是指社会主义市场经济。所以答案选 D。

故选：D。

本题以取消粮票和油票，实行粮油商品敞开供应为切入点，考查的是社会主义市场经济的相关知识点。

本题考查学生对历史史实的准确识记和理解能力。注意掌握社会主义市场经济的确立。

#### 21. 【答案】A

【解析】提出了“三个代表”重要思想的是江泽民，不是邓小平，排除含有②的选项。

故选：A。

本题考查邓小平理论，掌握相关的基础知识。

本题考查邓小平理论，考查学生的理解和分析能力，解题关键是掌握基础知识。

#### 22. 【答案】C

【解析】2013 年，习近平在十二届全国人大一次会议上当选为国家主席。在会上，他深刻阐述了中国梦的宏伟蓝图，强调中国梦就是要实现国家富强、民族振兴、人民幸福；实现中国梦，必须走中国道路、弘扬中国精神、凝聚中国力量；中国梦归根到底是人民的梦，必须紧紧依靠人民来实现，必须不断为人民造福。

故选：C。

本题考查中国梦，掌握相关的基础知识。

本题考查中国梦，考查学生的理解和分析能力，解题关键是掌握基础知识。



23. 【答案】B

【解析】2015年10月，中共十八届五中全会在北京举行。全会审议通过了《中共中央关于制定国民经济和社会发展第十三个五年规划的建议》，提出要牢固树立创新、协调、绿色、开放、共享的发展理念，着力提高发展质量和效益，形成平衡发展结构，改善生态环境，实现合作共赢，增进人民福祉。创新、协调、绿色、开放、共享的五大发展理念，针对的是我国发展中的突出矛盾，回答的是中国当前最为紧迫的现实问题，关系我国发展全局和未来前景。党的十八大以来，国家建设不断取得丰硕成果，天眼探空、悟空探秘、墨子传信……这一系列重大成果，主要体现了新发展理念中的创新。B符合题意；ACD与题意不符。

故选：B。

本题考查中国特色社会主义理论体系。中国特色社会主义理论体系，在新的时代条件下系统回答了什么是社会主义、怎样建设社会主义，建设什么样的党、怎样建设党，实现什么样的发展、怎样发展等重大理论实际问题。

解答此题要熟记中国特色社会主义理论体系的内容，排除干扰项。

24. 【答案】D

【解析】根据所学知识可知，2013年，习近平总书记在十二届全国人大一次会议上提出中国梦，提出了“一带一路”建设和“两个一百年”的奋斗目标。故D符合题意。1978年，我国开始实行改革开放，故排除A；1992年，我国提出了建立社会主义市场经济体制，故排除B；2007年，我国提出了科学发展观，故排除C。

故选D。

25. 【答案】D

【解析】根据题干“回归梦、入世梦、奥运梦、改革开放以来，中华民族圆了一个又一个梦”，可知中国能够圆梦的原因是综合国力的提高，改革开放后中国经济飞速发展，在政治、经济、科技领域取得一系列令人瞩目的成就，这些都是以综合国力为后盾，D符合题意，A、B、C排除。

故选：D。

本题主要考查改革开放，改革开放促进中国经济的腾飞。

本题主要考查学生对改革开放的掌握情况，进而考查学生分析归纳问题的能力。

26. 【答案】【小题1】特点：参会代表的广泛性。意义：初步建立了中国共产党领导的多党合作和政治协商制度。

【小题2】第一届全国人民代表大会；人民代表大会制度是我国根本政治制度，奠定了我国民主政治的基础。

【小题3】背景：“文革”时期民主法制遭到破坏。

【小题4】越来越重视人民当家作主的主体地位，民主特点突出。

【小题5】特点：普法宣传形式多样，宣传力度大；注重对青少年的法治培养。

【解析】本题以文字图表材料为背景依托，主要考查了中国人民政治协商会议以及意义、第一届全国人民代表大会、对人民代表大会制度的认识、我国民主发展发展的特点、目前法治社会的特点等知识。

本题主要考查学生识记和分析历史知识的能力。理解并识记中国人民政治协商会议以及意义、第一届全国人民代表大会、对人民代表大会制度的认识、我国民主发展发展的特点、目前法治社会的特点等知识。



27.【答案】【小题 1】邓小平理论

【小题 2】中共十九大

【小题 3】

【小题 4】

【小题 5】

【小题 6】

【解析】（1）依据材料一“这一伟大事件，彻底改变了近代以后 100 多年中国积贫积弱、受人欺凌的悲惨命运，中华民族走上了实现伟大复兴的壮阔道路。”及结合所学知识可知，中华人民共和国的成立，开辟了中国历史的新纪元；中国人民经过一百多年的英勇斗争，终于推翻了帝国主义、封建主义和官僚资本主义的统治；中国真正成为独立自主的国家，占人类总数四分之一的中国人从此站起来了；新中国的成立，壮大了世界和平民主和社会主义的力量。

（2）1950 年至 1953 年的抗美援朝战争中，涌现出了无数可歌可泣的志愿军英雄功臣，如赴汤蹈火、无所畏惧的黄继光；视纪律重于生命的邱少云。他们为今天留下的宝贵精神财富是爱国主义、国际主义和革命英雄主义的精神。因为他们具有国际主义、爱国主义、革命英雄主义精神。

（3）抗美援朝战争的胜利，巩固了新生的人民民主政权，为中国的经济建设赢得了一个和平环境，提高了新中国的国际地位和国际威望。证明西方侵略者靠武力征服中国的时代过去了，鼓舞了战争殖民地半殖民地人民为保卫祖国而抵抗帝国主义者的决心和信心。

（4）根据“它是一个光辉的起点，它标志着中国共产党从严重的挫折中重新奋起，带领中国人民在新的历史条件下开始了新的伟大革命……社会主义中国将在这场新的革命中告别贫穷和落后，走向繁荣和进步。”结合所学知识可知，材料四中的“光辉的起点”指的是党的十一届三中全会。“新的伟大革命”指的是在此次会议上做出的改革开放伟大决策。

（5）1997 年 9 月召开的中共十五大，江泽民作了《高举邓小平理论伟大旗帜，把建设有中国特色社会主义事业全面推向 21 世纪》的报告，大会把邓小平理论写进党章，确立为党的指导思想。在中共十九大上，习近平新时代中国特色社会主义思想被确立为中国共产党必须长期坚持的指导思想。

（6）本题为开放性题目，言之有理即可，如努力学习，增长才干，为中国梦的实现作出自己的贡献。

故答案为：

（1）中华人民共和国的成立，开辟了中国历史的新纪元；中国人民经过一百多年的英勇斗争，终于推翻了帝国主义、封建主义和官僚资本主义的统治；中国真正成为独立自主的国家，占人类总数四分之一的中国人从此站起来了；新中国的成立，壮大了世界和平民主和社会主义的力量。（任答出三点即可）

（2）因为他们具有国际主义、爱国主义、革命英雄主义精神。

（3）抗美援朝战争的胜利，为我国的经济建设赢得一个相对稳定的和平环境，大大提高了我国的国际地位。

（4）十一届三中全会；改革开放。

（5）邓小平理论；中共十九大。

（6）努力学习，增长才干，为中国梦的实现作出自己的贡献。

本题考查新中国的成立巩固和建设的过程及意义。掌握相关基础知识。

掌握新中国的成立巩固和建设的过程及意义。



28.【答案】【小题1】②③①。

【小题2】《中华人民共和国土地改革法》的颁布，拉开了新中国的土地改革帷幕。它调动了农民生产积极性，促进了生产的恢复和发展，成为指导新解放区土地改革的基本法律依据。

【小题3】“大跃进”和人民公社化运动的开展，挫伤了农民生产的积极性，使国民经济遭遇了挫折。

【小题4】家庭联产承包责任制。作用：大大提高了农民的生产积极性，解放了农村生产力，促进了农业生产，提高了粮食的产量，提高了农民的生活水平。

【小题5】因素：①国家政策的调整；②农村的经济政策。③农民的生产积极性。④基层组织的凝聚力和带动力。

【解析】本题以五则文字图片材料为背景依托，主要考查了土地改革、农业合作化运动、家庭联产承包责任制、“大跃进”和人民公社化运动、1978~2017年中国农村的变化、影响中国农村、农业、农民发展的重要因素等知识，掌握相关基础知识。

本题主要考查学生识记和分析历史知识的能力。理解并识记土地改革、农业合作化运动、家庭联产承包责任制、“大跃进”和人民公社化运动、1978~2017年中国农村的变化、影响中国农村、农业、农民发展的重要因素等知识。

29.【答案】【小题1】在自力更生的基础上引进资金和先进技术，发展经济。

【小题2】第一时期是十一届三中全会后；我国开始进行改革开放，城市经济改革开始；第二时期是邓小平南方谈话后；十四大决定进行社会主义经济体制改革；第三时期是十九大后中国进入中国特色社会主义新时代；经验是首批设置第一个经济特区深圳，首先进行社会主义经济体制改革，深圳首先进行中国特色社会主义先行示范区建设；

【小题3】“经济特区—沿海开放城市—沿海经济开放区—内地”；全方位、多层次、宽领域。

【小题4】积极影响：加入世界贸易组织，使中国能够扩大对外开放，在更大范围、更广领域、更高层次上参与国际经济技术合作与竞争，标志着中国的对外开放进入了新的阶段。使中国可以通过运用世界贸易组织规则应对国际贸易中的不公正待遇，维护国家和企业的合法权益；消极影响：国际市场的竞争将更加深入地与国内市场的竞争结合在一起，面临的经济风险也会显著增加。

【解析】本题考查对外开放和经济特区的建立等相关史实，掌握相关的基础知识。

本题考查学生的识记能力以及分析问题的能力，理解并识记对外开放和经济特区的建立等相关史实。