



考生须知

1. 本试卷共 10 页。共 34 道题，满分 80 分。考试时间 90 分钟。
2. 在试卷和答题卡上准确填写学校名称、姓名和准考证号。
3. 试题答案一律填涂或书写在答题卡上，在试卷上作答无效。
4. 在答题卡上，选择题、画图题用 2B 铅笔作答，其他试题用黑色字迹签字笔作答。
5. 考试结束，将本试卷、答题卡一并交回。

一、单项选择题（共 30 小题，每小题 1 分，共 30 分）请将试题答案填写在答题纸上。

图 1 为“不同纬度人口所占比例示意图”，图 2 为“世界海陆分布随纬度的变化示意图”。读图,完成 1-2 题。

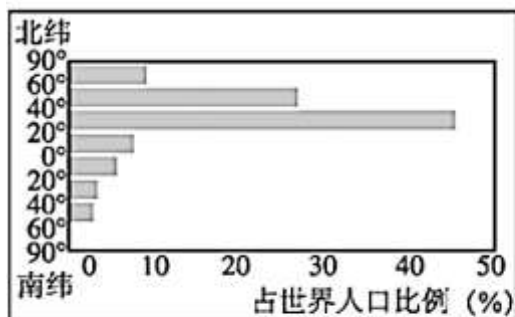


图 1

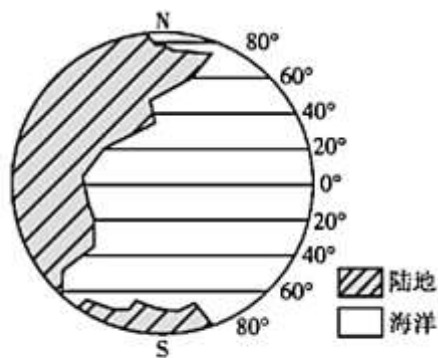


图 2

1. 读图 1，关于世界人口数量分布规律正确的是

- A. 北半球少,南半球多
- B. 北极地区比南极地区少
- C. 北半球随纬度增高而减少
- D. 南半球随纬度增高而减少

2. 读图 1、图 2，有关世界人口分布的叙述正确的是

- A. 气温越高的地区人口越稠密
- B. 人口密度与陆地面积成正比
- C. 内陆地区人口稠密
- D. 北纬 40°附近人口较稠密

据英国《卫报》报道，2016 年发生的 7.8 级凯库拉大地震，不仅使新西兰一些地区的地表上升了 8 米，而且把新西兰的南岛向北岛拉进了 5 米，研究人员称，南岛向北岛移动的趋势还将持续数年。读图 3、图 4 回答 3-5 题。

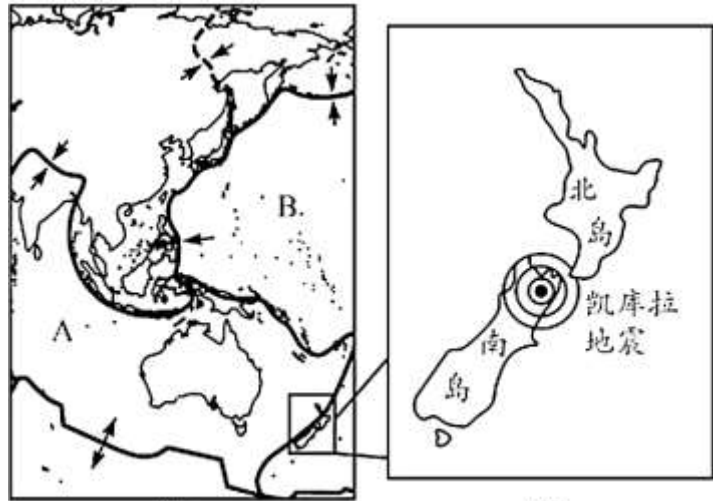


图3

图4

3.新西兰一些地区地面上升和南岛和北岛距离拉近，主要是由于：

- A. 人类活动
- B. 海平面上升
- C. 板块运动
- D. 地球自转

4.图中字母 A、B 代表的板块分别是：

- A. 亚欧板块和非洲板块
- B. 印度洋板块和太平洋板块
- C. 澳大利亚板块和太平洋板块
- D. 美洲板块和印度洋板块

5.从图 3 可见,板块之间的运动形式有

- A. 都由相向运动构成
- B. 都由相背运动组成
- C. 相向运动挤压形成高大山地
- D. 相背运动张裂形成高大山地

当地时间 2019 年 11 月 12 日晚，国家主席习近平乘专机抵达巴西的首都巴西利亚，出席金砖国家领导人第十一次会晤。读图 5、图 6，完成 6-11 题：

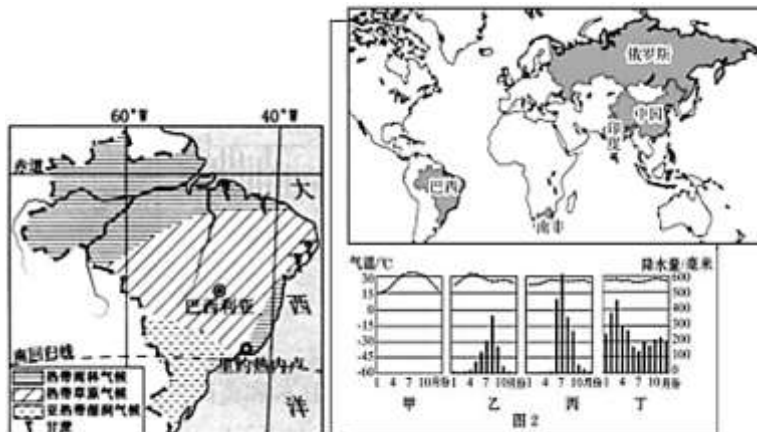


图5

图6

6.习近平总书记出访巴西,读图可知,巴西位于下列哪个大洲

- A. 亚洲 B. 非洲 C. 欧洲 D. 南美洲

7.读巴西气候类型图,巴西利亚属于的气候是

- A. 热带雨林气候 B. 热带草原气候 C. 亚热带湿润气候 D. 温带大陆性气候

8.读气温曲线图,和巴西利亚气候类型对应的是

- A. 甲 B. 乙 C. 丙 D. 丁

9.符合巴西利亚气候特征的是

- A.全年高温多雨 B.全年高温,降水有明显的旱、雨季之分
C.全年寒冷干燥 D.全年高温,降水有明显的干、湿季之分

10.“金砖五国”中地跨亚欧大陆的国家是

- A. 中国 B. 印度 C. 南非 D. 俄罗斯

11.“金砖五国”中,属于非洲的国家是

- A. 中国 B. 南非 C. 巴西 D. 俄罗斯

图7为“聚落景观图”。读图,完成12-13题。



图7

12.属于乡村景观,且以种植业生产方式为主的是

- A.甲 B.乙 C.丙 D.丁

13.城市与乡村的本质区别是

- A.生产与生活方式不同
B.交通线数量、分布不同
C.建筑物高度、密度不同
D.人口数量、服饰不同

14.聚落的形成与环境关系密切,有利于聚落形成与发展的是

- ①优越的位置 ②平坦的地形 ③高山、峡谷 ④气候湿热 ⑤靠近河流
A.①③④ B.②③⑤ C.③④⑤ D.①②⑤

读图8“世界年平均气温分布图”,完成15-19题。



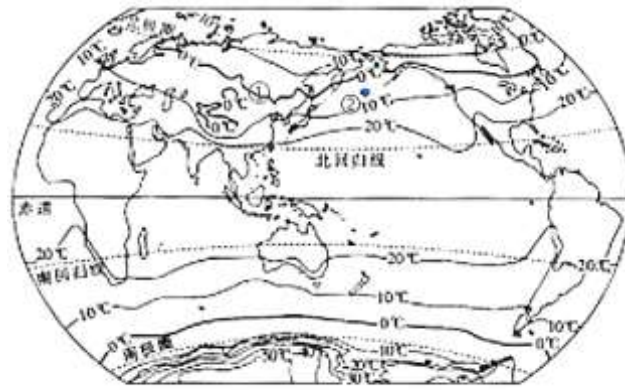


图8

15.关于气候的两大要素包括

- A. 风和雨 B. 干和湿 C. 冷和热 D. 气温和降水

16.从图8可见，①与②气温不同，形成的主要原因是

- A. 纬度位置对气温的影响
 B. 海陆位置对气温的影响
 C. 地形对气温的影响
 D. 以上三个因素综合对气温的影响

17.图中①的气温值是：

- A. -2°C B. 2°C C. 12°C D. -12°C

18.②地的最大数值为

- A. 9.9°C B. 6°C C. -4°C D. 12°C

19.世界最寒冷的地方是

- A. 亚洲 B. 北美洲 C. 南美洲 D. 南极洲

图9是“从亚洲到欧洲传统民居的墙壁厚度变化示意图”，完成20-22题。

20.图9可见的大洲有

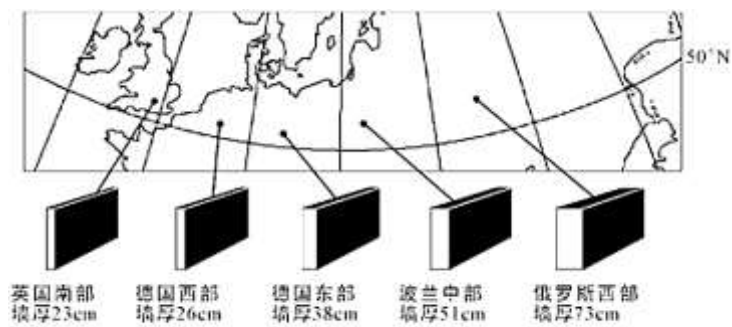


图9

- A. 亚洲、欧洲 B. 亚洲、非洲 C. 非洲、欧洲 D. 欧洲、美洲

21.图中引起墙体厚度变化的趋势是

- A. 沿纬线变换 B. 沿纬度变化 C. 沿经线变化 D. 以上三个答案都对

22. 图中反映了影响气候的主要因素是

- A. 纬度位置 B. 风俗习惯 C. 海陆位置 D. 地形

读图 10 发达国家和发展中国家产业结构，回答 23-24 题。

美国等发达国家服务业增加值占国内生产总值的比重为 70%，中低收入国家一般也在 43%，我国第三产业增加值占国内生产总值的比例均值为 43.5%。



图 10

23. 下列关于发达国家和发展中国家产业结构的叙述，正确的是

- A. 发达国家第三产业发达，占比达 50% 以上
 B. 发展中国家第三产业发达，占比达 50% 以上
 C. 发达国家第一产业落后，农业现代化水平低
 D. 发展中国家第一产业比例大，农业现代化水平高

24. 下列国家中第三产业发达的是

- A. 中国 B. 美国 C. 巴西 D. 印度

读图 11 亚洲地形图，完成 25-28 题

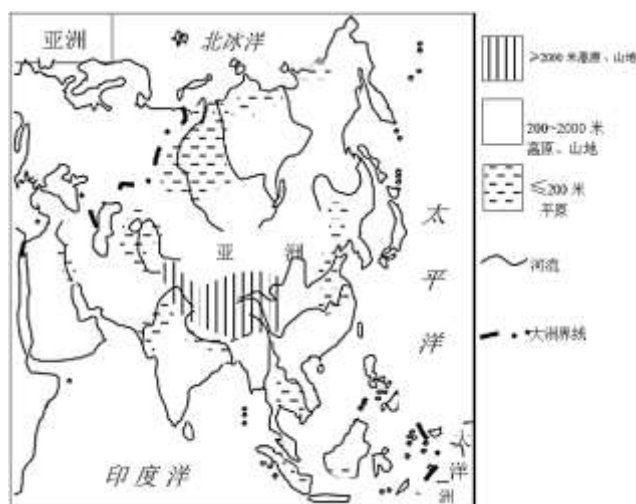


图 11

25. 亚洲

- A. 东南部河流都注入太平洋
 B. 中、东部地区多内流河和内流湖



C.南部地区受降水影响, 河流雨季径流量大

D.东部河流冬季都会结冰

26.根据河流流向, 说明亚洲地势

A.东西高, 中部低 B.东高西低, 纵列分布

C.南北高, 东南地 D.中部高, 四周低

27.亚洲自然地理环境复杂多样, 是因为

①经纬度跨度大 ②四面临海 ③地形类型多样, 地势起伏大 ④全部位于北半球

A.①② B.③④ C. ①③ D.①④

28.依据图 11 地形分布特点推断, 亚洲的气候:

A.亚洲气候类型单一

B.亚洲的高原、高山气候类型分布在中部

C.亚洲的高原、高山气候类型分布在四周

D.亚洲气候干旱, 河流径流量小

2019 年 12 月 4 月, 剑桥大学与瑞士联邦森林、雪和景观研究 A 所最近的一项研究表明, 气候变暖可导致树木生长加速, 但这并不一定意味着碳储量会增加, 全球变暖实际上正在减少森林中储存的碳量。据此完成 29-30 题。

29.下列关于全球气候变暖成因的说法, 错误的是

A. 燃烧矿物燃料放出大量二氧化碳

B 使用太阳能、风能等新能源可以减少二氧化碳的排放量

C. 植物被破坏导致吸收的二氧化碳减少

D. 水污染导致二氧化碳猛增

30.全球气候变暖产生的主要危害是

A. 紫外线辐射增强, 进而危及人类健康

B 地震、火山发生的频率上升

C. 海洋污染加剧

D. 冰川融化, 海平面上升, 沿海低地被淹

二、综合题 (共 50 分)

31.中央电视台摄制的电视纪录片《同饮一江水》, 主要记录了湄公河沿岸国家人民的生活情景。据此回答下列各题。(本题共 12 分)



图12

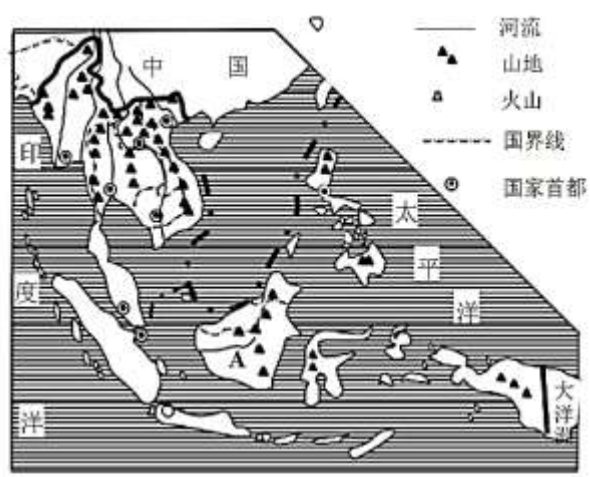


图13

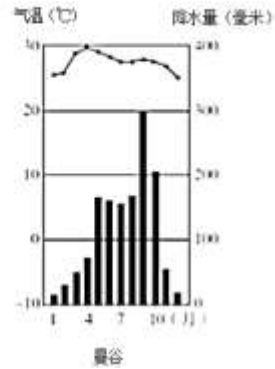


图14



(1) 读图12、图13,湄公河和其他许多河流奔流在中国南部的_____之中,向_____流入海洋,构成了该地区壮丽的地表景观。这里的地势特征是_____。

(2) 从地形的角度看,小明认为湄公河在柬埔寨境内适合航运。你认为这种判断是否正确_____,请说明理由_____。

(3) 从海陆位置看,A国是位于_____ (大洲)东南部的群岛国家,临太平洋和_____,与_____ (大洲)相望,地处两大洲和两大洋的交通“十字路口”上。

(4) 读图14曼谷气温曲线和降水量柱状图,全年气温_____。降水_____。河流流量与降水有一定的关系。根据图中降水量的变化,推测湄公河流量的年变化规律大致是_____。河流1月_____ (结冰;不结冰)。

32.(本题共15分)

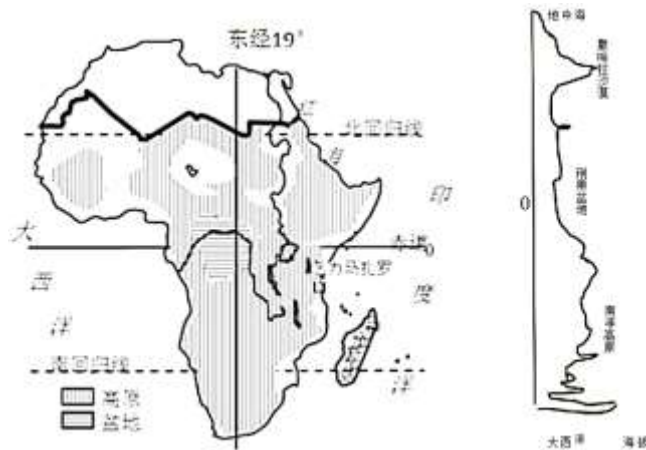


图15

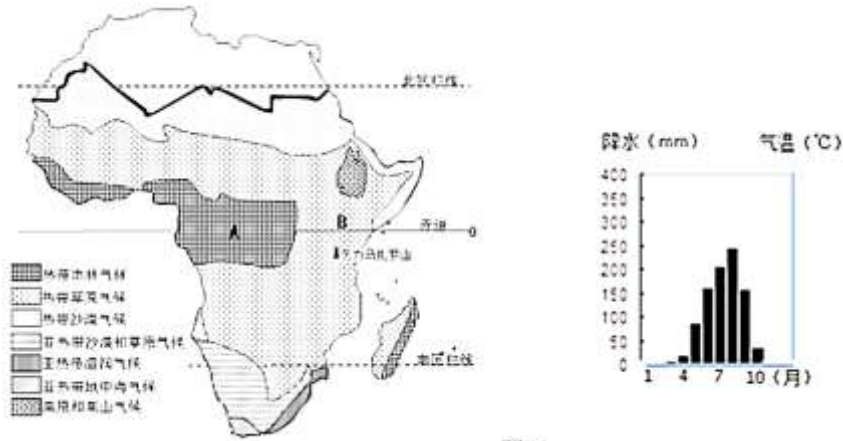


图 16

- (1) 图 15 中沿东经 19°的剖面图，自北向南穿越的纬线有_____；_____；_____。赤道处地势_____，地势高的在_____方向。
- (2) 图 15 中尼罗河的流向大致是_____，注入_____。
- (3) 非洲的地形类型以_____和_____为主，因此海拔较高。
- (4) 读图 16 可见非洲赤道穿过的气候类型有_____；_____。非洲分布最广泛的气候类型是_____。非洲气候类型分布特点是_____。
- (5) 读图 16 的降水量柱状图，说出降水的特点_____，分布在图中哪里_____（A；B）。

33. (本题 14 分)

2019 年 3 月，雪龙号完成了第 35 次南极科考任务，中国正在南极难言岛（恩格斯堡岛）建立第五个科考站。读图 17 完成各题。

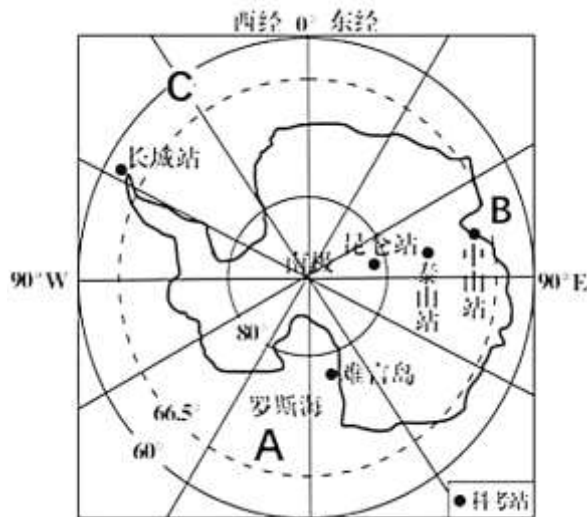
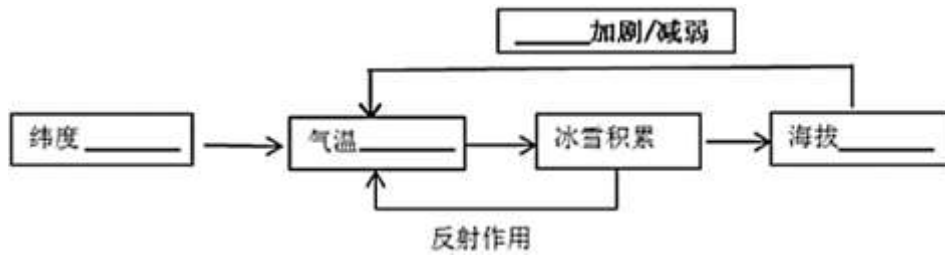


图 17

- (1) 南极地区周围以_____（海洋；陆地）为主。其中周围 A 是_____洋 B 是_____洋 C 的经度是_____。
- (2) 图中我国在南极建立的科考站纬度最高是_____位于温带的是_____新建的科考站在中山站的方_____。

(3) 我国科考队去南极科考的时间，一般都选在我国的_____季。因为_____。在科考站我们可能会遇见“南极小主人”_____（小动物）。

(4) 南极的自然环境(填写在横线上):



34. (本题 9 分)

习近平总书记在 2019 年先后七次出访，出席四场国际峰会和圣彼得堡国际经济论坛。论国际大事，共商人类未来，为打造人类命运共同体作出中国贡献。图 18 是习近平总书记出访国家和人种分布图。读图 18 完成下列各小题。

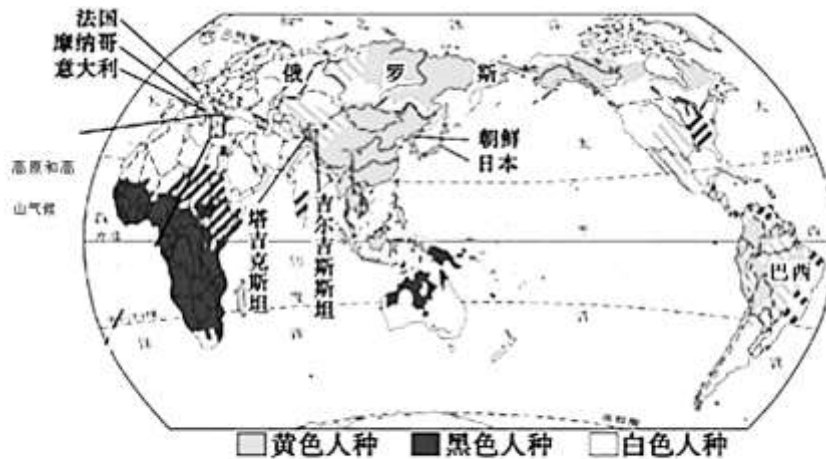


图 18

(1) 图中注名的国家为习主席出访的国家，说法正确的是 ()

- A. 出访国家均位于北半球
- B. 出访国家主要位于亚洲和欧洲
- C. 出访国家主要是黄色人种分布区
- D. 出访国家均使用英语

(2) 位置不同，产生的影响不同，读图 18，完成表格。

	巴西	日本	吉尔吉斯斯坦
所临大洋	①	东临太平洋	/
海陆位置特点	海陆兼备	②	
产生的影响	陆地资源和海洋资源丰富	③	⑤

(3) 习近平总书记访问法国，与法国总统就核能、航空航天以及科技、创新、农业、金融等方面加强合作，法国临_____洋,法国的人种以_____人种为主。中法合作属于_____（南南合作/南北对话）。



2021 北京延庆初二（上）期末地理



参考答案

一、选择题（每小题 1 分，共 40 分）

1	2	3	4	5	6	7	8	9	10
D	D	C	B	C	D	B	B	D	D
11	12	13	14	15	16	17	18	19	20
B	C	A	D	D	B	A	A	D	A
21	22	23	24	25	26	27	28	29	30
A	C	A	B	C	D	C	B	D	D

二、综合题（共 60 分）

31. (12 分)

(1) 中南半岛 南 北高南低 (共 3 分)

(2) 正确 柬埔寨位于湄公河的下游，流经平原(或地形平坦),水流缓慢(其他说法言之有理也可)
(共 2 分)

(3) 亚洲 印度洋 大洋洲 (共 3 分)

(4) 高 较多(或降水季有旱季和雨季之分)

河流径流变化大 不结冰 (共 4 分)

32. (15 分)

(1) 北回归线 赤道 南回归线

较低 南、北 (共 5 分)

(2) 自南向北 地中海 (共 2 分)

(3) 高原 盆地 (共 2 分)

(4) 热带雨林气候 热带草原气候 热带草原气候

以赤道为中心，呈南北对称分布 (共 4 分)

(5) 一年分为干湿两季（或降水季节分配不均匀） B (共 2 分)

33. (14 分)

(1) 海洋 太平洋 印度洋 30°W (共 4 分)

(2) 昆仑站 长城站 东南方 (共 3 分)

(3) 冬季 南北半球季节相反 企鹅 (共 3 分)

(4) 高 低 加剧 高 (共4分)

34. (9分)

(1) B (共1分)

(2) ①大西洋 ②岛国(四面环海)

③对外交通便利/海洋资源丰富/渔业发达/气候受海洋影响大/降水多(合理即可)

④内陆国(深处内陆)

⑤陆地资源丰富气候干燥/降水少/交通方式以陆运为主(合理即可) (共5分)

(3) 大西洋 白种人 南北对话 (共3分)



北京中考在线
微信号: BJ_zkao



北京中考在线
微信号: BJ_zkao



北京中考在线
微信号: BJ_zkao