



## 历史

2022.07

考 生 须 知	1.本试卷共 8 页,满分 70 分。考试时间 70 分钟。 2.在试卷和答题卡上准确填写学校、班级、姓名和教育 ID 号。 3.试题答案一律填涂或书写在答题卡上,在试卷上作答无效。 4.在答题卡上,选择题用 2B 铅笔作答,其他试题用黑色字迹签字笔作答。 5.考试结束,将本试卷和答题卡一并交回。
------------------	---

## 第一部分

本部分共 20 题,每题 1.5 分,共 30 分。在每题列出的四个选项中,选出最符合题目要求的一项。

1.对以下材料理解正确的是

- ①维新派在北京组织强学会,在上海创办《时务报》  
②戊戌变法虽然失败了,但在思想文化方面产生了广泛而持久的影响
- A.①属于历史结论            B.①说明戊戌变法废除了旧制度  
C.②属于历史史实            D.②肯定了戊戌变法的历史作用

2.北京北池子大街箭杆胡同 20 号,曾是《新青年》编辑部的办公地。当年这里曾聚集了一批中国先进知识分子,他们大力提倡

- A.自强求富            B.扶清灭洋            C.三民主义            D.民主科学

3.右图为漫画《下雪山的喜悦》,描绘的是红军战士翻越夹金山后的喜悦心情。该漫画反映的历史事件是

- A.南昌起义  
B.井冈山会师  
C.红军长征  
D.西安事变



4.中国共产党是抗日战争的中流砥柱。以下史实能证明这一结论的是

- ①促成国共两党再度合作,团结抗战            ②发表《论持久战》,阐明抗战的战略总方针  
③中国与反法西斯国家结盟,共同作战            ④建立敌后抗日根据地,开展游击战争
- A.①②③            B.①②④            C.①③④            D.②③④



5.1948 年 9 月开始,人民解放军先后解放了东北全境、长江中下游以北广大地区和华北全境。取得以上胜利的是

- A.平型关大捷            B.台儿庄战役            C.挺进大别山            D.三大战役

6.1949 年 9 月,某次会议决定:以《义勇军进行曲》为代国歌;以五星红旗为国旗;在北京天安门广场建立人民英雄纪念碑。这次会议是

- A.中国共产党第七次全国代表大会

- B.中国人民政治协商会议第一届全体会议
- C.第一届全国人民代表大会
- D.中国共产党第八次全国代表大会



7.歌曲《歌唱祖国》中唱到:“英雄的人民站起来了,我们团结友爱、坚强如钢,五星红旗迎风飘扬,胜利歌声多么响亮,歌唱我们亲爱的祖国……”歌词中的“英雄的人民站起来了”始于

- A.全国工人运动的高涨
- B.北伐战争取得胜利
- C.抗日战争的最终胜利
- D.中华人民共和国成立

8.影视作品往往以艺术的手法表现历史事件或历史人物。下列影视作品反映的历史事件按时间顺序排列正确的是

- ①《上甘岭》 ②《七七事变》 ③《重庆谈判》 ④《百团大战》
- A.①②③④      B.②④③①      C.①②④③      D.②①③④

9.石景山钢铁厂,后改称首都钢铁公司,是新中国成立后北京第一家国有钢铁企业,现在已改造成首钢园区。下列可用于研究建国后钢铁厂发展历程的史料有

- ①日本侵占下的石景山制铁所(首钢前身)照片
- ②首钢园区保留的原厂房和机器
- ③20世纪50年代钢铁厂工人上技术课的记录表
- ④工业题材的电视剧《山海蓝图》

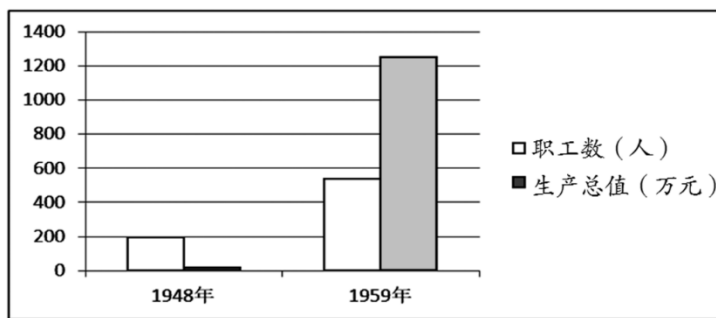
- A.①②      B.①③      C.②③      D.②④



10.1954年《中华人民共和国宪法》公布前,曾有1.5亿人参与讨论,提出118万条修改和补充意见。这充分说明《中华人民共和国宪法》

- A.体现了人民的意志
- B.正确分析了国内主要矛盾
- C.推进了西部大开发
- D.标志祖国大陆获得了统一

11.右图是《同仁堂职工人数、生产总值统计表》。表中现象出现的原因是



- A.近代民族工业曲折发展
- B.废除封建土地所有制
- C.公私合营推动企业发展
- D.股份制改革增强企业活力

12.中共十九大报告指出:“我国社会主要矛盾的变化,没有改变我们对我国社会主义所处历史阶段的判断,我国仍处于并将长期处于社会主义初级阶段的基本国情没有变。”社会主义初级阶段开始于

- A.西藏的和平解放
- B.工业落后面貌的彻底改变
- C.三大改造基本完成
- D.民族区域自治制度的实施

13.1979年,中央批准在广东实行特殊政策和灵活措施以及创办贸易合作区。其直接结果是

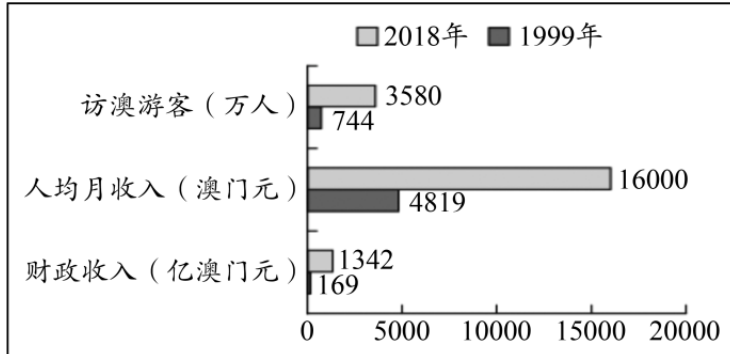
- A.开展真理标准问题的大讨论
- B.设立经济特区
- C.建立社会主义市场经济体制
- D.香港回归祖国



14.城市经济体制改革后,中国企业出现的新变化有

- ①政府负责企业经营权                      ②以按劳分配为主的多种分配方式并存  
 ③多种所有制经济共同发展                ④职工的经济收入与企业经营效益挂钩  
 A.①②③                      B.①②④                      C.①③④                      D.②③④

15.下图所示为“澳门回归 20 年经济和民生变化图”。图中所示的变化能用来说明



- A.“一国两制”维护澳门繁荣稳定                      B.中葡两国举行澳门政权交接仪式  
 C.中国恢复对澳门行使主权                      D.澳门特别行政区政府建立

16.实现海峡两岸和平统一的前提是

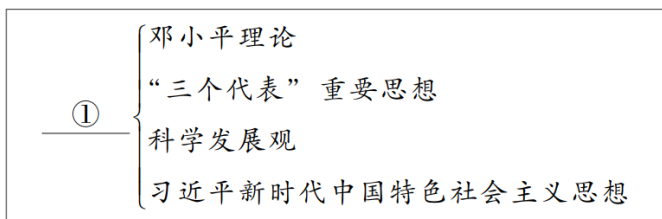
- A.坚持一个中国的原则                      B.传承中华优秀传统文化  
 C.坚持可持续发展战略                      D.要牢固树立新发展理念

17.一位同学分类梳理新中国成立以来的建设成就。其中①处应为

- A.长春第一汽车制造厂  
 B.东方红一号人造地球卫星  
 C.籼型杂交水稻  
 D.青蒿素的发现

第一类：青藏公路、宝成铁路、港珠澳大桥  
 第二类：长剑巡航导弹、战略核潜艇、辽宁号航空母舰  
 第三类：①、嫦娥五号探测器、长征五号B运载火箭

18.以下示意图中①处应填写



- A.中国特色社会主义理论体系                      B.人民代表大会制度  
 C.中国共产党领导的多党合作和政治协商制度                      D.社会主义制度

19.2020 年,全国 832 个县全部脱贫,12.8 万个贫困村全部出列,近 1 亿贫困人口实现脱贫,其中 28 个人口较少民族全部整族脱贫。这说明中国共产党

- ①坚持各民族共同繁荣发展                      ②集中力量发展重工业  
 ③实行科教兴国战略                      ④强调“以人民为中心”  
 A.①②                      B.②③                      C.①④                      D.②④

20.以下示意图反映出

连通了北京至各大行政区的电信干线,国内长途通信网初具规模

初步建成了以北京为中心、辐射全国大城市的通信网络

全国电话用户总数达8349.8万户,是1978年的20倍

全国开通5G基站129.1万个,全球占比约70%,5G终端连接数达4.71亿户,全球占比约80%

1949~1952年

1953~1957年

1997年底

2021年10月

- A.电信事业发展迅速  
C.服饰变得丰富多彩

- B.饮食讲究营养均衡科学  
D.城乡居民收入不断增加

第二部分



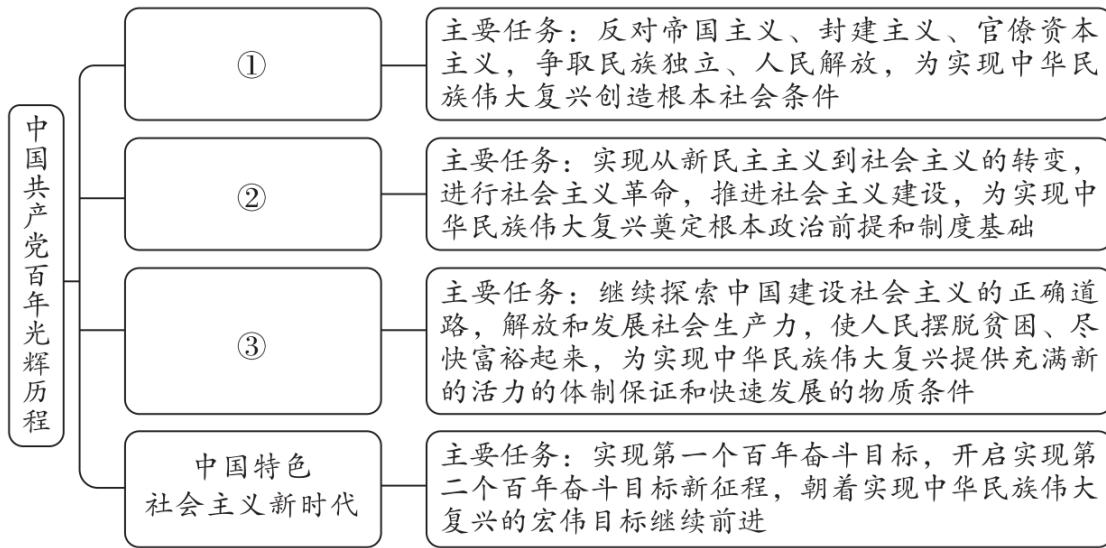
本部分共4题,共40分。

21.(12分)中国共产党百年征程

①	②	③
娄山关前鏖战急,遵义城头赤帜竖。 舵手一易齐浆橹,革命从此上新途。 ——伍修权(1935年)	四十年前会上逢,南湖泛舟语从容。 济南名士知多少,君与恩铭不老松。 ——董必武(1961年)	二十年来穷变富,天翻地覆史前无。 三中全会乾坤转,十亿炎黄醉醞醑。 ——诗人许允禄(1998年)

(1)从材料一中任选两首诗词说出相关会议名称及其意义。(4分)

材料二 中国共产党领导人民艰苦奋斗,创造了辉煌成就。

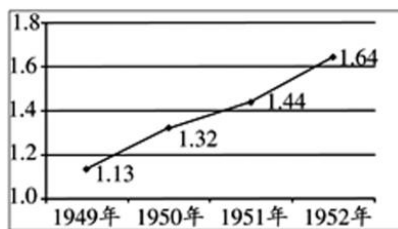


——据《中共中央关于党的百年奋斗重大成就和历史经验的决议》整理

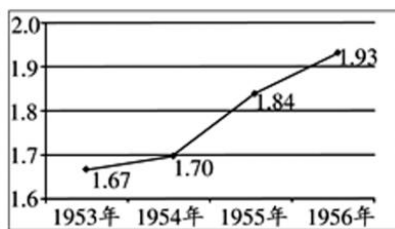
(2)将以下内容填入材料二中的相应位置。(3分。写字母,多选、错选不得分)

- A.社会主义革命和建设时期    B.新民主主义革命时期    C.改革开放和社会主义现代化建设新时期

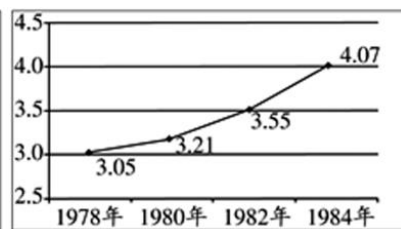
材料三 中华人民共和国不同时期粮食产量变化(单位:亿吨)



图一



图二



图三

——整理自陈海秋《建国以来农村土地制度的历史变迁》

(3)依据材料三,概括图表反映的共同现象。(1分)任选两张,分别说出与其相关的农业政策。(2分)

材料四 一百年前,中华民族呈现在世界面前的是一派衰败凋零的景象。今天,中华民族向世界展现的是一派欣欣向荣的气象,正以不可阻挡的步伐迈向伟大复兴。

——习近平在庆祝中国共产党成立100周年大会上的讲话

(4)综合以上材料,谈谈对中国共产党百年奋斗历程的认识。(2分)

22.(8分)外交是处理国与国之间关系的政治活动。材料一

文献 1	文献 2
凡革命以前所有满政府与各国缔结之条约,民国均认为有效,于条约期满而止。革命以前,满政府所借之外债及所承认之赔款,民国亦承认偿还之责。不变更其条件。凡革命以前满政府所让与其各国家,或各国个人种种之权利,民国政府亦照旧尊重之。 ——摘自南京临时政府《告各友邦书》(1912年1月2日)	第五十四条 中华人民共和国外交政策的原则,为保障本国独立、自由和领土主权的完整,拥护国际的持久和平和各国人民间的友好合作,反对帝国主义的侵略政策和战争政策。 第五十五条 对于国民党政府与外国政府所订立的各项条约和协定,中华人民共和国中央人民政府应加以审查,按其内容,分别予以承认,或废除,或修改,或重订。 ——摘自《中国人民政治协商会议共同纲领》(1949年9月29日)


(1)依据材料一,比较《告各友邦书》与《中国人民政治协商会议共同纲领》在外交政策上的不同点。(2分)

材料二 经过这一时期(新中国成立到五十年代末期)外交工作,新中国在国际上已经站稳了脚跟。到1956年,同中国建交的国家已有25个,为中国外交的进一步发展奠定了坚实的基础。

——摘编自唐家璇《新中国外交的光辉历程》

(2)20世纪50年代,国际政治舞台上开始有了“中国的声音”。依据材料二并结合所学,用史实说明这一结论。(2分)

材料三 新中国成立以来参与国际事务大事记(部分)

1952年	加入红十字国际委员会	
1971年	第26届联合国大会通过决议: ①	
1972年	加入世界气象组织	
1984年	加入国际原子能机构	
1991年	加入亚太经济合作组织	
2001年	加入处理世界贸易问题的 ②	
2014年	成立亚洲基础设施投资银行	
2017年	举办“一带一路”国际合作高峰论坛	

(3)将材料三中①②处补充完整。(2分)依据材料三并结合所学,说出中国积极参与国际组织所带来的影响。(2分)

23.(9分)江山代有才人出,各领风骚数百年。

材料一 以下是某同学整理的一位历史人物的主要活动(部分)

时间	1914年	1918年	1919年	1920年	1924年
主要活动	组织神州学会,进行反袁活动	发表《布尔什维主义的胜利》	发表《我的马克思主义观》	组建北京共产主义小组	出席中国国民党一大,推动国共合作

(1)依据材料一,写出这位历史人物的名字,(1分)并推断其活动的影响。(2分)

材料二



黄继光



王进喜



邓稼先



杨利伟

(2)从材料二中任选一位英模人物,仿照示例,撰写解说词。(2分。不得选用示例中的人物)

示例:黄继光,抗美援朝战争中的战斗英雄,用自己的胸膛堵住敌人的机枪射口。铸就了爱国主义、革命英雄主义的抗美援朝精神。

材料三 邓小平的著名论断(部分)



- ◇ 要提倡、要教育所有的干部独立思考,不合理的东西可以大胆改革。
- ◇ 我认为要允许一部分地区、一部分企业、一部分工人农民,由于辛勤努力成绩大而收入先多一些,生活先好起来。一部分人生活先好起来,就必然产生极大的示范的力量,影响左邻右舍,带动其他地区、其他单位的人们向他们学习。
- ◇ 不管白猫黑猫,会捉老鼠就是好猫。
- ◇ 我们改革开放的成功,不是靠本本,而是靠实践,靠实事求是。

(3)依据材料三,指出邓小平在改革开放中的作用。(2分)

材料四 新时代中国青年要继续发扬五四精神,以实现中华民族伟大复兴为己任,不辜负党的期望、人民的期望、民族重托,不辜负我们这个伟大时代。

——习近平在纪念五四运动100周年大会上的讲话

(4)结合五四运动史实和自身实际,谈谈如何弘扬五四精神。(2分)

24.(11分)长江流域的城市见证时代的变迁与发展。材料一 武汉大事记(部分)

①	1893年,洋务派创办的汉阳铁厂基本完工,全厂包括生铁厂等6个大厂和打铁厂等4个小厂
②	1911年10月10日晚,武昌全城被起义军占领,随后,汉阳、汉口的新军起义响应,革命在武汉三镇取得胜利

③	1937年,新四军军部在武汉成立,新四军迅速组建并开赴抗日前线
④	1938年,日军先后集结40多万兵力进攻武汉,武汉会战爆发。本次会战历时4个多月,中国军队英勇作战,大大消耗了日军的有生力量
⑤	武汉长江大桥是我国第一个五年计划的重点工程项目,1957年10月正式通车,实现了“一桥飞架南北,天堑变通途”的美好愿望
⑥	1958年,武汉钢铁公司建成投产,它是新中国成立后兴建的第一个特大型钢铁联合企业,其生产水平、技术水平堪称世界一流

(1)从以下主题1、2、3中任选一个,并选取两个相关的历史事件,分别说明历史事件与主题的关系。(4分。仿照示例,不得选用示例中的主题和材料)

主题1:民族抗争;主题2:近代化探索;主题3:新中国工业化的起步

示例:

主题	历史事件	关系说明
民族抗争	③	新四军成为与八路军遥相呼应的抗日劲旅,为抗战胜利做出巨大贡献
	④	武汉会战彻底打破日本企图迅速灭亡中国的既定战略,体现了中华民族在外来侵略面前伟大的抗争精神

材料二 近代历史上的南通(部分)

1899年	● 张謇创办的大生纱厂正式建成投产,这是中国第一家民营纺纱企业。采用西方先进的机器进行生产。20世纪初,南通初步形成了以大生纱厂为核心的近代工业体系
1902年	● 通州私立师范学校成立,这是中国第一所民办师范学校。旨在培养不同层次的师资人才,以适应地方教育发展的需要。培养了于忱、顾怡生等教育及政界名流
1916年	● 军山气象台竣工,这是国人自建的第一座气象台。它不仅能够准确预报天气,还能开展气象与农业关系的研究,同时积极举办测候训练班,培养测候人才

(2)依据材料二,概括南通在近代历史发展中的作用。(2分)

材料三 上海浦东新区位于中国海岸的中点与长江入海口的交汇处。……紧靠20世纪三四十年代已是亚洲最著名的国际金融、贸易中心的上海老市区,背倚自古就是各类资源与人才富集的长江三角洲及流域腹地。……1993~2019年,浦东外贸进出口总额从26亿美元提高到20514.73亿元,按美元折算增长近120倍。……地区生产总值增速占全市比重从1990年的8%上升到2019年的33%。

——钱智等《浦东开发开放三十周年评估与建议》

(3)依据材料三,指出浦东出现的变化,(1分)并结合所学,分析浦东出现变化的原因。(2分)

材料四



城墙八音盒,为南京城墙文创作品。以中华门外景为设计元素,实木雕刻工艺与机械构造相结合,表现出南京古城墙的动静之美

南京的历史文化资源保护工作突破“文物”范畴,从保护文物拓展到环境风貌、城市格局、建筑风格、文物古迹、传统村落等领域。……陆续颁布实施了《南京市历史文化名城保护条例》《重要近现代建筑和风貌区保护条例》等地方法规及政策文件。

——官卫华等《改革开放 40 年来南京城乡规划发展的演进》

(4)结合材料四,谈谈你对南京古城保护做法的认识。(2分)



# 参考答案

## 第一部分（每题 1.5 分，共 30 分）

题号	1	2	3	4	5	6	7	8	9	10
答案	D	D	C	B	D	B	D	B	C	A
题号	11	12	13	14	15	16	17	18	19	20
答案	C	C	B	D	A	A	B	A	C	A

## 第二部分（共40分）

### 21.（共12分）

（1）两个会议名称（2分）意义（2分）。

①遵义会议。开始确立以毛泽东为主要代表的正确路线在中共中央的领导地位；挽救了党，挽救了红军，挽救了中国革命，是中国共产党历史上一个生死攸关的转折点；是中国共产党从幼年走向成熟的标志。

②中国共产党第一次全国代表大会。标志着中国共产党诞生，是中国历史上开天辟地的大事，使中国革命面貌焕然一新。

③中共十一届三中全会。是新中国成立以来党的历史上具有深远意义的伟大转折，开启了改革开放和社会主义现代化的伟大征程。实际上形成了以邓小平为核心的党的第二代中央领导集体。

（2）① B ② A ③ C（3分，每空1分）

（3）共同现象：粮食产量提高。（1分）

图一：实施土地改革；图二：开展农业合作化；图三：实行家庭联产承包责任制。（2分，任选其二即可）

（4）示例：中国共产党建立以来的一百年，是为中国人民谋幸福、为中华民族谋复兴的一百年。（2分，言之有理即可）

### 22.（共8分）

（1）尊重列强权益，承认不平等条约；坚持独立自主，反对帝国主义，废除不平等条约。（2分）

（2）和平共处五项原则的提出；亚非会议（或万隆会议），提出求同存异方针。（2分，任意两点即可）

（3）①中国恢复在联合国的合法席位 ②世界贸易组织（2分）

影响：中国国际地位不断提高，成为维护和促进世界和平、稳定与发展的坚定力量，在国际事务中发挥着日益重要的作用。（2分，任意两点即可）

### 23.（共9分）

（1）李大钊（1分），宣传民主、科学精神；推动了马克思主义在中国的广泛传播，为中国共产党的创建准备了思想条件；为中国共产党的创建做了组织上的准备；推动国共合作，推动大革命的胜利开展。（2分，任意两点即可）

（2）解说词包括人物的主要事迹和体现的时代精神。（2分）

王进喜：社会主义建设时期的英雄模范人物，建设大庆油田，体现出艰苦创业的“铁人”精神。

邓稼先：一生从事原子弹研究，成功地设计原子弹和氢弹，铸就了无私奉献、艰苦奋斗的“两弹一星”精神。

杨利伟：乘坐神舟五号飞船升入太空，并成功返回地面，体现了特别能吃苦、特别能战斗、特别能攻关、特别能奉献的航天精神。

（3）邓小平是我国改革开放的总设计师、领路人、开拓者。（2分）

（4）言之成理即可。（2分）

### 24.（共11分）

（1）两个历史事件（2分）及关系说明（2分）。

主题	历史事件	关系说明
近代化探索	①	汉阳铁厂是洋务派创办的近代民用企业代表之一，推动了中国近代化的发展

	②	武昌起义是辛亥革命“首义”。推翻了清王朝的统治，终结了中国两千多年君主专制制度，建立资产阶级共和国，推动了政治近代化进程。
--	---	---

主题	历史事件	关系说明
新中国工业化的起步	⑤	武汉长江大桥是我国第一个五年计划的重点工程项目，是交通运输业的重要代表，对社会主义工业化的发展有重要的促进作用
	⑥	武汉钢铁公司是一五计划期间重工业领域的重点项目，推动了中国工业的发展

(2) 推动中国民族工业的发展；推动中国近代教育的发展；推动中国气象事业的发展。(2分)

(3) 变化：经济迅速发展。(1分)

原因：地理位置优越；深厚的贸易基础、人才优势；改革开放的推进（浦东开发区的建立或浦东的开发开放）；中共十四大社会主义市场经济体制的提出。(2分)

(4) 认识：进行多层次保护；建立相应工作制度和运行规则；以法治促保护；开发文创作品，宣传古城文化等。(2分，言之成理即可)