



平谷区 2018—2019 学年度第一学期期末质量监控试卷

初三历史

2019.1

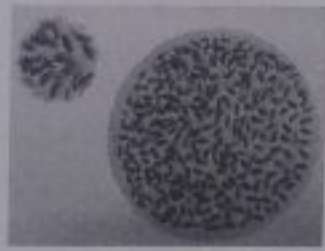
注意
事项

1. 本试卷共 12 页,包括两部分,35 道小题,满分 90 分。考试时间 90 分钟。
2. 在试卷和答题卡上准确填写学校名称、班级、姓名和考号。
3. 试题答案一律填涂或书写在答题卡上,在试卷上作答无效。
4. 在答题卡上,选择题用 2B 铅笔作答,其他试题用黑色字迹签字笔作答。
5. 考试结束,请将答题卡交回。

第一部分 选择题(共 45 分)

一、单项选择(共 45 分,每小题 1.5 分,请将正确选项填涂在机读卡上)

1. 以下图片反映了半坡原始居民和河姆渡原始居民的生活面貌。据此,可以判断



- ①半坡人和河姆渡人过着定居的生活
- ②中国拥有灿烂的原始农耕文明
- ③半坡人和河姆渡人的生活比北京人进步得多
- ④半坡人和河姆渡人是由北京人进化而来

A. ①②④ B. ①③④ C. ②③④ D. ①②③

2. 下面一组图片反映的是不同时期的遗址发掘出土的文物,其中能够见证我国有文字记载历史开始的是



A



B



C



D

3. 刘某同学在百度搜索引擎里输入“公元前 209 年”“大泽乡”等字眼,那么出现的页面中涉及到的人物最有可能的是

- A. 商鞅、秦孝公
- B. 陈胜、吴广
- C. 刘邦、项羽
- D. 李斯、蒙恬



4. 据右侧“笔记卡片”判断,这页笔记记录的主题是

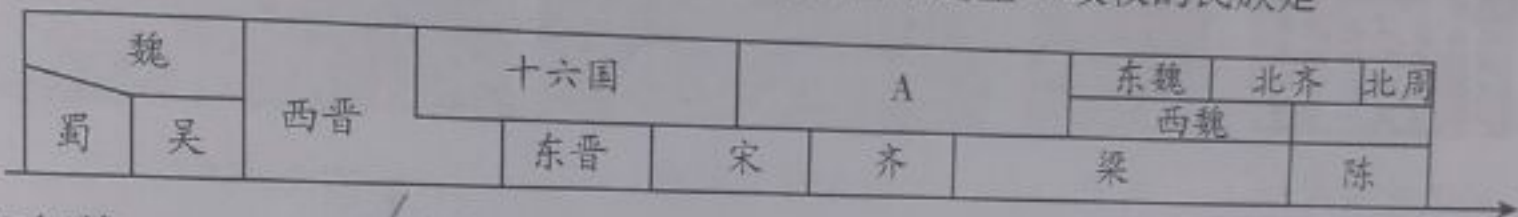
- A. 秦始皇建立中央集权制度
- B. 汉武帝巩固大一统
- C. 唐玄宗开创开元盛世
- D. 宋太祖强化中央集权

政治上:颁布“推恩令”
 经济上:盐铁专卖和统一铸五铢钱
 思想上:“罢黜百家,独尊儒术”

5. 第一手史料指接近或直接在历史事件发生时所产生的和记录的原始资料,以下用于研究三国历史的第一手史料是

- A. 历史剧《三国》
- B. 罗贯中《三国演义》
- C. 司马光《资治通鉴》
- D. 诸葛亮《出师表》

6. 下图为我国古代朝代更替示意图的某一片断。图中建立 A 政权的民族是



- A. 匈奴族
- B. 鲜卑族
- C. 氐族
- D. 女真族

7. 右图中的历史人物被后人称为“书圣”,他集书法之大成,自成一家,影响深远,该图中的作品反映了他所使用的哪种书法字体?

- A. 篆书
- B. 隶书
- C. 楷书
- D. 行书



王羲之和《兰亭序》(摹本·局部)

8. 识图析图是学习和研究历史的一种重要方法。下面是中国古代某著名的工程示意图,根据示意图上的有效信息判断,该工程为

- A. 隋朝大运河
- B. 秦朝的灵渠
- C. 战国时期的都江堰
- D. 元朝运河



9. 学会归纳历史发展的阶段特征是历史学习方法之一,下列对中国古代历史发展的基本阶段及其特征的归纳表述,正确的是

- A. 秦汉时期:中华文明的起源
- B. 隋唐时期:繁荣与开放的社会
- C. 宋元时期:统一的多民族国家的巩固和发展
- D. 明清时期:政权分立与民族融合



10. 诗歌在一定程度上反映了社会生活,下列诗歌中能反映唐玄宗统治前期盛世景象的是
- A. “海内存知己,天涯若比邻”
- B. “大江东去,浪淘尽,千古风流人物”
- C. “忆昔开元全盛日,小邑犹藏万家室”
- D. “生当作人杰,死亦为鬼雄”

11. 某同学选用如下图片进行研究性学习。他确立的研究主题应是



宋代针铺商标



交子



清明上河图



南宋海船

A. 宋代商业繁荣

B. 民族政权并立

C. 元朝国家统一

D. 大都闻名世界

12. 下表是学者对北宋科举取士的情况统计,这说明

录取类型	年均录取人数
文士	北宋平均每年录取文士的人数是唐代的5倍多、元代的30倍、明代的4倍、清代的3.5倍。但论全国人口,北宋是远不及明清时期的。
武士	北宋一朝,武举共取士868人,年均仅仅5人。其总数不及宋真宗景德二年文士录取人数的三分之一。

A. 北宋削弱了相权、加强了皇权

B. 宋与辽和西夏议和成功

C. 北宋时期科学技术达到了顶峰

D. 北宋实行重文轻武政策

13. “澶渊之盟”规定宋辽双方“宋每年给辽岁币;双方约为兄弟之国;双方于边境设置榷场,开展互市贸易”,结合所学判断,下列说法正确的有

①辽宋双方基本遵守了诺言,维持了近百年的和平

②北宋收回了幽云十六州,实现了国家的统一

③辽宋皇帝从此一直互称“兄弟”,体现地位平等

④“澶渊之盟”的签订客观上有利于经济的发展

A. ①②

B. ②③

C. ①④

D. ③④

14. 元朝的疆域“北逾阴山,西及流沙,东尽辽东,南越海表”“汉唐极盛之际不及焉”。元世祖忽必烈为了有效地统治全国,建立了

A. 分封制

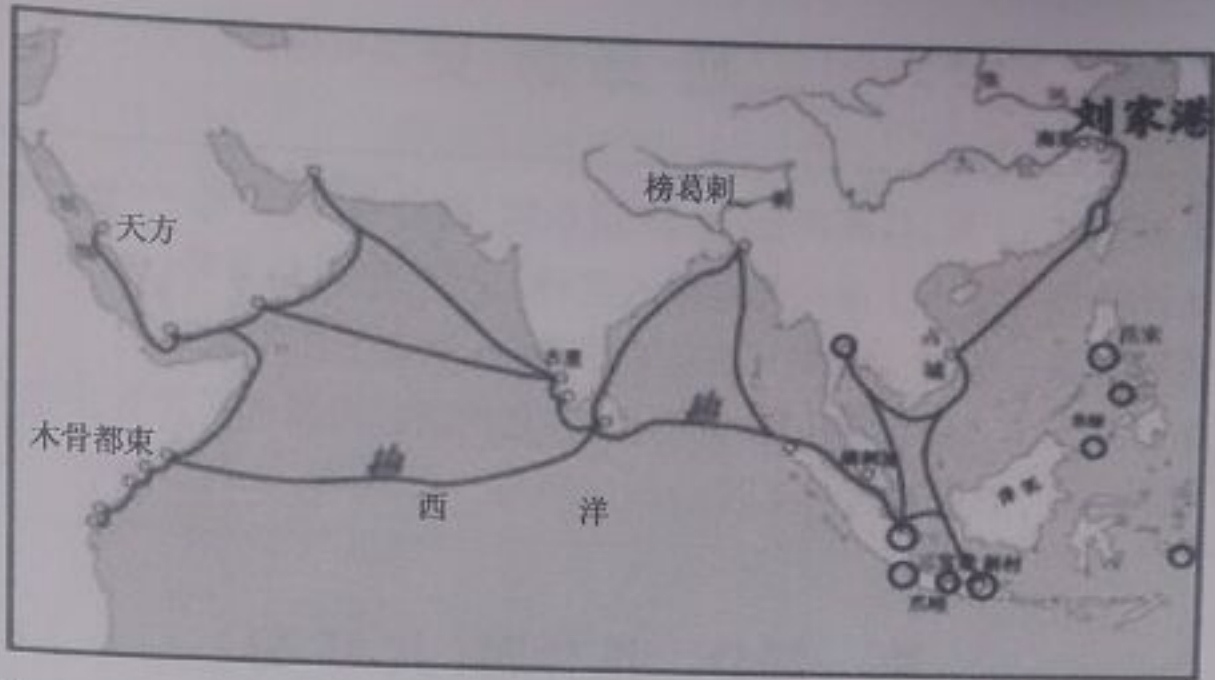
B. 郡县制

C. 行省制

D. 军机处



15. 认知和探究历史地图,从中提取有效信息是学习和研究历史的重要方法,下图反映的史实是



- A. 玄奘西行
 - B. 哥伦布发现新大陆
 - C. 鉴真东渡
 - D. 郑和下西洋
16. 方寸之间,见证历史。1987年列入世界文化遗产名录,是世界上现存最大、最完整的宫殿建筑群的是



- A
 - B
 - C
 - D
17. 下面是我国古代不同领域著作的杰出代表,按其出现的先后顺序排列,正确的是
 ①《天工开物》 ②《齐民要术》 ③《史记》 ④《伤寒杂病论》
 A. ③④①② B. ①②③④ C. ④③②① D. ③④②①

18. 随着商业的发展,为了增强竞争力,清朝时期,各地域商人结成商帮,投身于商贸活动。其中最著名的是
- A. 晋商 徽商
 - B. 晋商 闽商
 - C. 川商 粤商
 - D. 川商 徽商

19. 下图中反映古代印度文明成果的是





20. 把思考转向认识人类本身的古代希腊哲学家是

- A. 德谟克利特
- B. 苏格拉底
- C. 柏拉图
- D. 亚里士多德

21. 某校准备邀请某学者做讲座,右侧图文框中的内容来自该校同学制作的宣传海报。下列选项中适合出现在海报“内容”一栏的是

学术讲座

时间: 2018年1月20日

主题: 古代希腊的成就

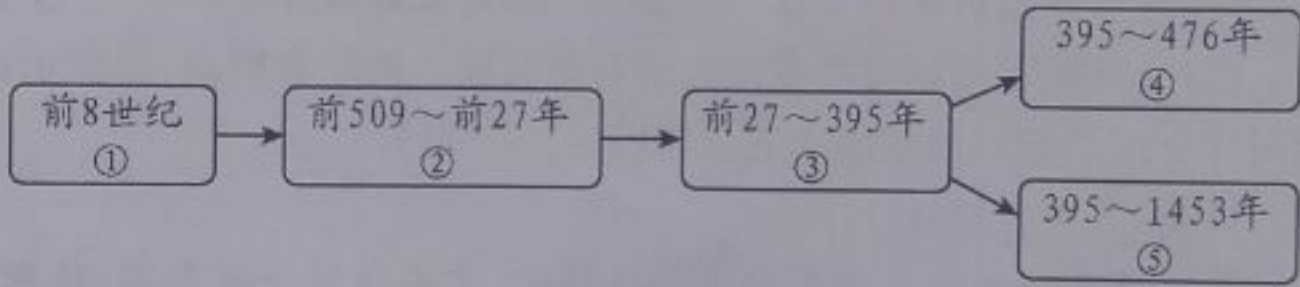
内容:

- A. 赏析《天方夜谭》
- B. 分析雅典民主政治
- C. 释读楔形文字
- D. 解读《汉谟拉比法典》

22. “亚历山大在所征服地区兴建了许多城堡,有些逐渐发展成经济文化中心,使希腊文化传播到东方,一种混合着希腊和东方因素的文明诞生。”以上材料说明亚历山大帝国的征服

- A. 促进了东西方文化交流
- B. 促使希腊文明走向衰落
- C. 促使东方文明走向衰落
- D. 促使东西方文化被毁灭

23. 下面是古代罗马发展演变的线索示意图,其中③处应填写的是



- A. 罗马共和国
- B. 罗马帝国
- C. 西罗马帝国
- D. 拜占庭帝国

24. 12世纪初,伦敦市民每年向王室缴纳300镑税金,以此获得国王对市民自选市长和市政官的许可。材料反映出中世纪欧洲

- A. 封君封臣制度逐步形成
- B. 国家税收主要来源于城市
- C. 城市获得了部分自治权
- D. 市民以暴力方式反抗贵族

25. 公元7世纪,日本以中国隋唐为师进行改革。这项改革是

- A. 农奴制改革
- B. 明治维新
- C. 查理·马特改革
- D. 大化改新

26. 下列表格中,历史现象与原因的对应关系正确的是

	历史现象	原因
A	公元前5世纪后半期,雅典一度达到全盛	查理·马特改革
B	632年,阿拉伯半岛基本统一,统一的阿拉伯国家建立	穆罕默德创立伊斯兰教
C	阿拉伯数字传遍了全世界	《马可·波罗行纪》
D	1453年,君士坦丁堡陷落,拜占庭帝国灭亡	亚历山大大帝东征



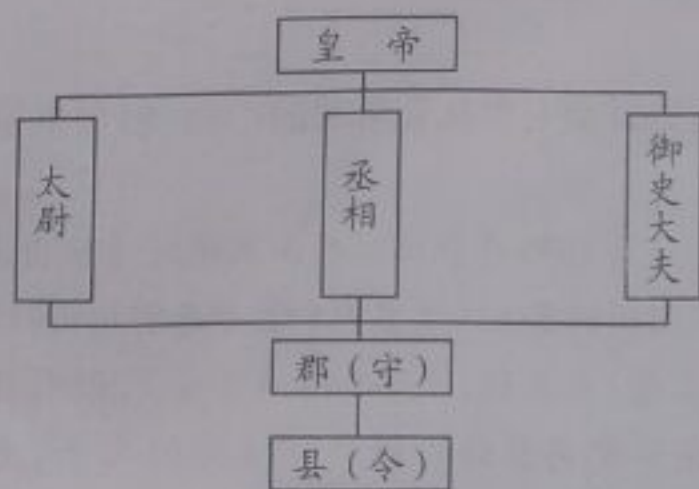
27. 下列法律制度与国家搭配正确的是
- A. 《汉谟拉比法典》——古代印度
 - B. 《十二铜表法》——古代希腊
 - C. 《查士丁尼法典》——拜占庭帝国
 - D. 1791 年宪法——美国
28. 新航路开辟后,欧洲人开始了长达几百年的血与火的殖民扩张,给亚非拉人民带来了深重的灾难,首先走上殖民扩张和殖民掠夺的国家是
- A. 葡萄牙和西班牙
 - B. 英国和法国
 - C. 西班牙和英国
 - D. 葡萄牙和意大利
29. 抓关键词是历史学习的方法之一。与“17 世纪 80 年代”“社会上层政变”“不流血”等关键词相吻合的历史事件是
- A. 英国“光荣革命”
 - B. 美国独立战争
 - C. 日本明治维新
 - D. 俄国农奴制改革
30. 历史结论离不开对史实的正确解读,下列各项史实与结论对应关系不正确的是
- A. 商鞅变法——秦国国富兵强
 - B. 长期关闭的议会重新开会——英国资产阶级革命由此开始
 - C. 萨拉托加大捷——美国独立战争结束
 - D. 闭关锁国政策——中国开始落后于世界发展潮流

第二部分 非选择题(共 45 分)

31. 人类文明包括政治、经济、思想文化等诸多方面成果。请阅读材料,回答下列问题。(12 分)

【政治方面】

材料一



- (1) 材料一反映的是哪一朝代的政治制度? 其中负责辅佐皇帝掌管行政的大臣是什么?(2 分)



材料二 罢丞相不设,析中书省政归六部,以尚书任天下事,侍郎贰(副)之,而殿阁大学士只备顾问。帝方自操威柄,学士鲜所参决。 ——《职官志》

(2)与材料一相比,材料二最主要的变化是什么?由此判断材料二反映的是哪一朝代的历史?(2分)

【经济方面】

材料三 宋金对峙时期,北方人民大量南迁,形成第三次移民浪潮,大约有500万北方移民迁入并定居于江南地区,为江南农业集约化经营奠定了基础。另一方面,南宋政府为了维持与北方政权的对峙局面,必须大力发展农业生产,劝农政策成为当务之急。当时大批农书、劝农文陆续刊印……绝非偶然。在这种情况下,“苏湖熟,天下足”的形成,便不足为奇了。 ——樊树志《晚明大变局》

(3)材料三中“苏湖熟,天下足”反映出什么经济现象?依据材料三,结合所学概括形成这一现象的原因。(4分)

【思想文化方面】

材料四 从孔子那里我读到一颗爱心;在孟子那里我读到一股正气;从墨子那里我读到一腔热血;在韩非那里我读到一双冷眼。 ——易中天

(4)下列哪些内容可以作为易中天先生得出上面结论的证据,将字母填写在答题卡指定位置。(4分)

- A. 故治民无常,唯法为治。法与时转则治,治与世宜则有功。
- B. “兴天下之利,除天下之害”实现人与人之间“兼相爱”
- C. 威武不能屈,富贵不能淫,贫贱不能移。
- D. 仁者爱人

- ①孔子那里我读到一颗爱心 ()
- ②孟子那里我读到一股正气 ()
- ③墨子那里我读到一腔热血 ()
- ④韩非那里我读到一双冷眼 ()

32. (7分)文物是一定历史时期人类社会活动的产物,包含丰富的历史信息,是后人了解历史的重要途径。

材料一 克罍(lei)是1986年在北京房山琉璃河遗址出土的西周早期青铜器,是当时装酒用的器具。其盖内和器壁内有相同铭文43字。

43字的铭文内容是:周王说:太保(指周召公),你用盟誓和清酒来供你的君王。我非常满意你的供享,命(你的儿子)克做燕地的君侯,管理和使用羌等六族。克到达燕地,接收了土地和管理机构,为了纪念此事做了这件宝贵的器物。





(1) 以下表述是从上面材料中得出的,请在相应的括号内划“√”;违背了以上材料所表达的意思,请在括号内划“×”;是以上材料没有涉及的请在括号内划“○”。(5分)

- ①北京房山是西周时期燕国的统治范围。 ()
- ②青铜器是专门用来装酒用的器具。 ()
- ③被分封的诸侯有朝贡的义务。 ()
- ④青铜器的制作过程十分复杂。 ()
- ⑤西周实行分封制。 ()

材料二



①清政府驻藏大臣衙门旧址 ②首次册封五世班禅金印 ③金奔巴瓶

(2) 以上图片,反映了清朝对西藏地区的有效管辖。请结合所学,根据示例,选择其中一幅图片介绍清朝对西藏地区的管辖措施。(2分)

示例:③金奔巴瓶

西藏地方达赖与班禅等大活佛的转世,需要通过金瓶掣签,依照宗教仪规和历史定制,最后报请朝廷批准。有效地加强了对西藏的管辖。

33. (6分) 观察、分析图文资料,回答下列问题。

材料一

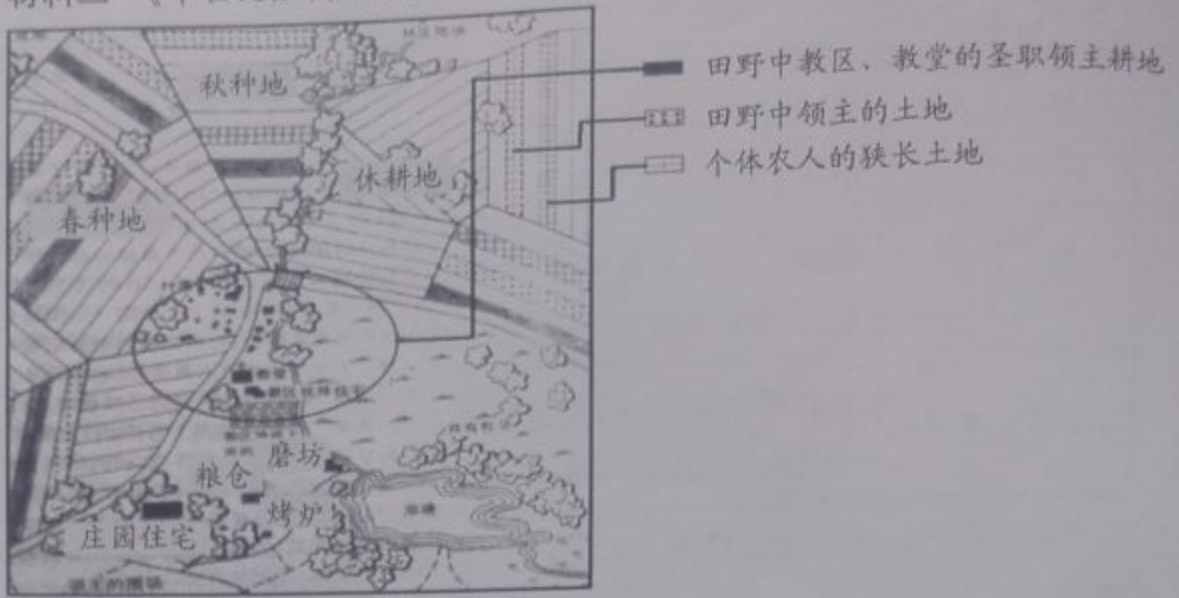
欧洲封建制中封臣对国王的效忠



(1) 仔细观察《欧洲封建制中封臣对国王的效忠》一图的细节,你能看出哪些地方体现出封臣对国王的义务?(2分)



材料二 《中世纪庄园略图》



(2) 依据材料二和所学知识,说一说与西欧封建等级制度相对应的经济制度是什么?这一经济制度有何特点?(2分)

材料三

第三单元	中世纪的欧洲
第7课	法兰克王国
第8课	西欧封建制度
第9课	中世纪的城市
第10课	中世纪的大学
第11课	拜占庭帝国

(3) 从14世纪起,西欧各国在政治、经济和文化方面萌发了新的生机,近代西方文明的曙光开始显现,依据材料中单元目录说出孕育近代资本主义的因素有哪些?(至少说出两个)(2分)

34. (10分) 14至17世纪早期,欧洲正处在封建社会解体和资本主义兴起阶段。阅读材料并回答问题:

材料一





微信扫一扫，快速关注

(1)16 世纪西欧印刷工人分工合作,这是怎样一种生产方式? 它给西欧带来了怎样的新变化?(2 分)

材料二 在中世纪,人类意识的两个方面——内心自省和外界观察都一样——一直处在—层共同的纱幕之下,处于睡眠或半醒状态。这层纱幕是由信仰、幻想和幼稚的偏见织成的,透过它向外看,世界和历史都罩了一层奇怪的色彩……在意大利,这层纱幕最先烟消云散。这一时期,人们取得了文学、艺术等方面的巨大成就。

(2)材料二中的“这层纱幕”最先在意大利“烟消云散”是因为什么事件? 请举出这一时期的文学成就一例。“这层纱幕烟消云散”后对欧洲社会发展起到了什么作用。(3 分)

材料三 我在 1492 年发现印度大陆以及大批岛屿……在此之后,我回到长勒提尔,见王上,而王上依据我的陈述,命令我进行第二次航行以求新的发现,并在我所发现的土地上建立殖民地。——哥伦布日记

(3)联系现实,请你指出材料三中哥伦布关于地理位置叙述的一处错误,并加以改正。并从材料二中找出反映哥伦布航海活动的目的。(2 分)

材料四 世界各大洲的人口占世界总人口的比率变化(%)

年份	欧洲	非洲	美洲	世界总人口
1650 年	18.3	18.3	2.4	5.45 亿
1750 年	19.2	13.1	1.6	7.28 亿
1850 年	22.7	8.1	5.1	11.71 亿
1900 年	24.9	7.4	9.0	16.08 亿

——依据《全球通史》《中国农业的发展》编制

材料五 1763 年以前的那一时期中,欧洲诸强国仅在亚洲和非洲拥有少数立足点,它们主要的占有地是南北美洲。1763 年之后,它们从政治上控制了亚洲的大部分地区和几乎整个非洲。不过,在南北美洲和英国的自治领,它们所能做到的比这要多得多。趁着当地人口比较稀少,成百万的欧洲人移居这里,并填补了那些相对空旷的地区……虽然向美洲种植园提供的奴隶约在 1200 万至 2000 万人之间,但非洲损失的人口据估计却是这人数的 4 倍。——摘编自斯塔夫里阿诺斯《全球通史》

(4)根据材料四,指出非洲人口占世界人口比重变化的基本趋势。依据材料五并结合所学知识分别分析其原因。(2 分)

(5)上述材料及问题探究的主题是什么?(1 分)



35. (10分) 17、18世纪, 欧美各国相继发生了资产阶级革命, 宣告了新时代的到来。

【概览】

(1) 请把下列历史事件与相对应的文献名称正确连线。(4分)

英国资产阶级革命

颁布《法典》

美国独立战争

通过《权利法案》

法国大革命

发表《独立宣言》

拿破仑帝国

颁布《人权宣言》

【聚焦】

整理图片



图1 签署《独立宣言》



图2 处死查理一世



图3 攻占巴士底狱



图4 拿破仑加冕

(2) 根据欧美资产阶级革命的发展历程, 对上述图片资料进行排序。(只填序号)(4分)

_____、_____、_____、_____。



微信扫一扫，快速关注

【比较】

历史事件	历史意义
英国资产阶级革命	推翻封建君主专制，创造并确立了君主立宪制，确立资产阶级统治，为资本主义发展扫清道路。
北美独立战争	推翻了英国殖民统治，美国由此诞生，确立了三权分立的资产阶级政治体制，为美国资本主义发展和国家富强开辟了道路。
法国大革命	推翻了封建秩序，为资本主义发展扫清道路。法国革命成果，远播全球，成为近代世界一份重要历史遗产。

(3) 英、法、美资产阶级革命都促进了本国的发展，影响深远。其相同点是：(2分)

政治上：_____。

经济上：_____。

思想上：传播了资产阶级自由民主的思想。