

# 通州区 2021 届初三三年级一模考试



## 历史试卷

### 第一部分 选择题（共 30 分）

本部分共 20 小题，每小题 1.5 分，共 30 分。在每小题列出的四个选项中，选出最符合题目要求的一项。

1.2020 年，在首都博物馆举办的“穿越——浙江历史文化展”的序言中写道：“这些文化在世界稻作起源的历史上书写了重要的一笔。”与该文化相关的遗址是


- A. 北京人遗址
- B. 河姆渡遗址
- C. 半坡遗址
- D. 二里头遗址

2.春秋战国时期，学术思想领域出现了“百家争鸣”的新气象，下表内容说明

法家	实行“法治”，加强中央集权	秦朝严刑峻法，建立君主专制中央集权制度
道家	“顺其自然，无为而治”	汉初奉行“无为而治”
儒家	“为政以德”“君舟民水”	唐太宗推行“以民为本”

- A. 诸子百家的政治主张为后世统治者所吸纳
- B. 儒家学说成为后世大一统政权的精神支柱
- C. 百家争鸣为中华民族的起源奠定思想基础
- D. 各家学派的思想全都受到各朝统治者欢迎

3.右图为新疆出土的《三国志·吴书·孙权传》写本残卷（部分）。这一发现可用于研究



- A. 秦汉政权的巩固
- B. 丝绸之路的开通
- C. 东汉兴衰的原因
- D. 鉴真东渡的影响

4.南朝时，《四部目录》著录的书有 64582 卷,与汉朝《汉书·艺文志》著录的图书相较,时过 338 年之后,书籍卷数增加 4.3 倍。促使这种现象出现的科技因素是

- A. 甲骨文的出现
- B. 造纸术的改进

- C.印刷术的发明                      D.指南针的发明

5.三国两晋南北朝时期，胡饼深受南北方人们喜爱，王羲之曾“坦腹东床吃胡饼”，晋朝王长文“于成都市中蹲踞吃胡饼”。这反映出这一时期

- A.商业贸易发展                      B.江南经济开发  
C.民族交融加强                      D.对外交流频繁

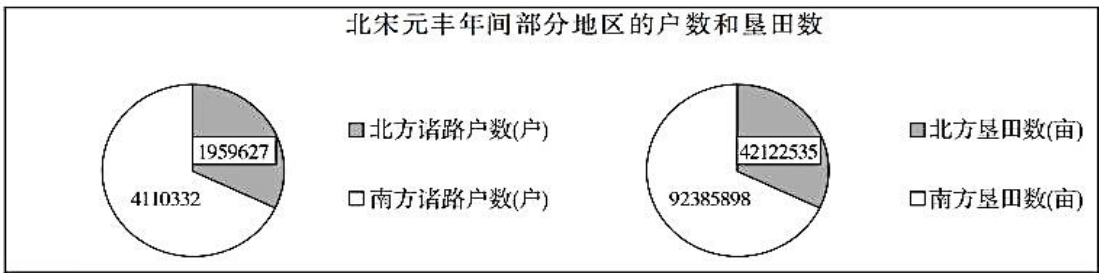
6.下表是一位同学整理的各时期重要历史事件的学习笔记，①②处应填



时期	重要历史事件
三国两晋南北朝	江南地区开发、北魏孝文帝改革
①	大运河、科举制
唐朝	②、开元盛世

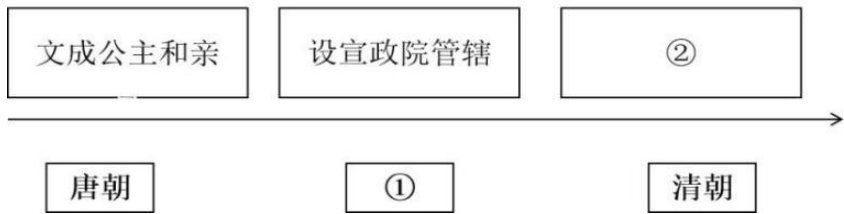
- A.汉朝、文景之治                      B.汉朝、贞观之治  
C.隋朝、文景之治                      D.隋朝、贞观之治

7.观察下图，该图可用于研究中国古代



- A. 南北文化交流                      B. 经济重心南移  
C. 商品经济发展                      D. 耕地面积增加

8.下面示意图是按照某一历史小专题制作，其中①②处应填的是



- A.宋朝 设西域都护                      B.元朝 设立军机处  
C.元朝 设驻藏大臣                      D.明朝 设伊犁将军

9.周恩来曾说：“战后结《辛丑条约》，赔款四百五十兆，各国都分沾无遗！”这里的战后是指

- A. 第一次鸦片战争后                      B. 第二次鸦片战争后  
C. 中日甲午海战后                      D. 八国联军侵华后

10. 历史遗迹承载了许多历史信息。下列遗迹与辛亥革命相关的是



- A. 三元里抗英旧址    B. 瑞金临时中央政府    C. 黄花岗七十二烈士墓    D. 西安事变谈判地

11. 右侧漫画由漫画家蔡若虹创作，于 1937 年 9 月 20 日 发表，大体内容是：把中国军民比作汹涌咆哮的“巨浪”，吞没着像野牛般在水中垂死挣扎的日寇。对此漫画解读正确的是

- A. 九一八事变后中国人民开始抗战  
 B. 七七事变后全民族抗战局面形成  
 C. 百团大战后全国军民抗战热情高涨  
 D. 日本投降后中国取得抗战最终胜利



12. 在 50 年前的纽约，当时会议大厅爆发经久不息的掌声，57 个国家的代表轮番登台向中国表示祝贺。从那个历史性时刻起，世界和平与发展事业增加了一支值得信赖和依靠的中坚力量，那就是中华人民共和国。这反映了中国

- A. 提出和平共处五项原则    B. 加强与亚非国家的合作  
 C. 提出“求同存异”的方针    D. 恢复在联合国合法席位

13. 下表反映出我国（    ）

1970 年	成功发射第一颗人造地球卫星——东方红一号
1999 年	神舟一号无人飞船成功完成载人航天工程飞行试验
2007 年	嫦娥一号卫星首次绕月探测成功
2020 年	我国首次火星探测任务“天问一号”探测器成功升空

- A. 科技研究水平提升    B. 打破核大国的垄断  
 C. 交通设施不断完善    D. 人民生活方式变化



14. 对以下材料理解正确的是

①14、15 世纪，欧洲涌现出了许多宣传人文主义思想的文学家、思想家和艺术家。  
 ②文艺复兴是资本主义经济发展在精神文化领域的反映，推动了资本主义经济和政治的发展。

- A. ①属于历史结论    B. ①说明文艺复兴是一场复古运动  
 C. ②属于历史史实    D. ②肯定了文艺复兴的作用

15. 英国处死了一个国王，驱逐了一个国王，又迎来了一个新的君主，从表面上看，君主被保留下来，但君主是从议会手中接过王冠的，要服从议会的法律。这说明英国资产阶级革命后确立了

- A.民主集中制                      B.民主共和制
- C.联邦共和制                    D.君主立宪制

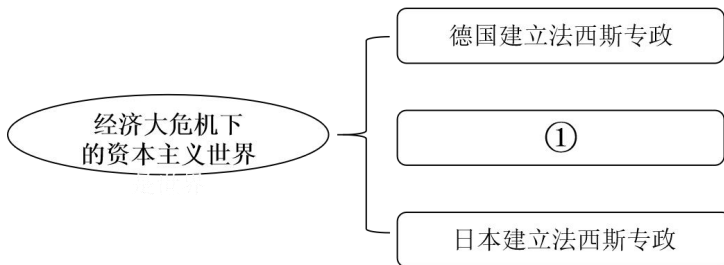
16. 1900 年以后，电炉、电冰箱、洗衣机、吸尘器等已经普遍使用，妇女们真正有了空闲的时间，可以参加一些娱乐活动和社会活动，女性的生活质量得到了很大提高，与这一现象直接相关的是

- A.第一次工业革命                      B. 马克思主义诞生
- C.第一次世界大战                    D. 第二次工业革命

17.列宁说：“你们怀着美好的共产主义理想，但是你们想从这一层一下子跳到顶层去，可是，我们说——不行，小心一点，一步一步地干吧。”“后退一步是为了前进两步”。“后退一步”是指 1921 年苏俄实行的

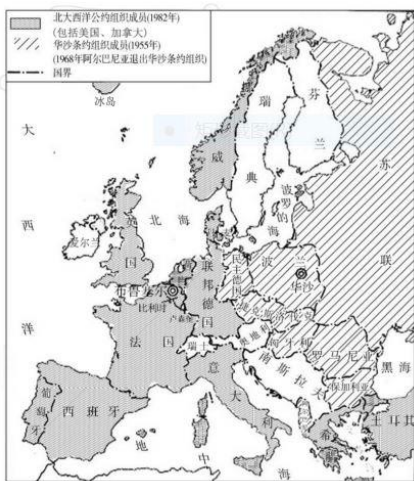
- A.“战时共产主义”政策                      B.新经济政策
- C. 农业集体化政策                          D.农奴制改革

18.下侧思维导图①处应填



- A.俄国爆发了十月革命                      B.美国实行罗斯福新政
- C.苏联实施“一五计划”                    D.英美盟军诺曼底登陆

19. 下图反映的是



- A.全面冷战对峙的形势                      B.欧洲开始走向联合
- C.日本经济的迅速崛起                    D.社会主义力量壮大



20.联合国是人类构建世界和平的成果，在维护国际和平与安全方面发挥了积极作用。以史实可以说明这一观点有

- ①向冲突地区派出军事人员                      ②调整解决破坏和平的国际争端

③制定和规范多边贸易协定 ④降低贸易关税，打破贸易壁垒

A.①② B.①④ C.②③ D.②④



第二部分 材料分析题（共 40 分）

31. （12 分）粮食问题关乎人类生存和发展

材料一

- ①汉文帝和汉景帝时期，注重农业生产，轻徭薄赋，积累了大量的钱粮。
- ②北宋时期，从越南传入的“占城稻”，在东南地区推广，水稻的产量大大提高。
- ③明代，原产于南美洲的玉米、甘薯等高产作物引入中国，到清代得到大面积推广。
- ④明朝徐光启所著的《农政全书》全面总结了我国古代农业生产的先进经验。
- ⑤唐玄宗在位前期，重视农业，兴修水利，保障农业生产的发展。
- ⑥北魏贾思勰著的《齐民要术》介绍大量农业生产技术，指导了农民的生产实践。

（1）将材料一的史实说明以下观点。（3 分。填序号，每空多选、少选、错选均不得分）

新作物的传入促使粮食产量提高：\_\_\_\_\_

农学著作作为粮食种植提供了经验：\_\_\_\_\_

统治者为粮食生产提供政策保障：\_\_\_\_\_

材料二 15 世纪以后，世界上许多植物被带回欧洲，经过培育改良，最终成为欧洲人的食物原料，如土豆和玉米作为充饥食物逐渐被广大农民所接受，变种小麦取代了传统小麦，大大提高了产量，逐渐取代黑麦、大麦、燕麦在主食中的主体地位。

——摘编自朱基富《新航路开辟：欧洲饮食文化的新篇章》

（2）依据材料二，概括 15 世纪以后欧洲粮食结构的变化，并结合所学分析其原因。（3 分）

材料三 1650-1860 年英国小麦的亩产量（单位：蒲式耳）（蒲式耳为计量单位）

时间	亩产量	亩产量
1650-1733 年	18.9	17.6
1768-1771 年	23.7	21.5
1794-1810 年	26.4	23.6
1860 年	28	25

（3）依据材料三，写出 17-19 世纪英国粮食亩产量的发展趋势并结合所学分析及历史背景。（2 分）



材料四

时间	人均占有量（公斤/人）	粮食总产量（万吨）
1976 年	305.5	28631
1978 年	316.61	30477
1984 年	390.3	40731
2009 年	397.7	53082
2019 年	474.16	66384

改革开放初期国民经济的恢复性发展，使农田基本建设和机械化的广泛推广有了自由的政策空间，科学种田技术和农业机械化成就在全国传播开来，各种高产优良品种育成并推广，使得整个中国农业经济的综合生产能力得到显著提高。

——摘编自江小容《改革开放以来农村经济发展历程研究》

（4）依据材料四，概括 1978 年以来中国粮食人均占有量的变化，结合所学分析出现这种变化的原因。（3 分）

材料五 近年来，“杂交水稻之父”袁隆平及其团队就致力于“耐盐碱水稻”品种培育。我国有 15 亿亩盐碱地，约有 3 亿亩具备改造为农田的潜力，通过推广种植海水稻可让亿亩荒滩变粮仓。袁隆平院士认为，如果中国能发展 1 亿亩盐碱地种植水稻，亩产达 300 公斤，可增加总产 300 亿公斤。这样一来，即便是遇到洪涝、地震，甚至是突发性疾病，我们也不用担心没有粮食吃。而且他表示，愿意帮助其他发展中国家来发展杂交水稻，以解决粮食短缺的问题。

（5）依据材料五并结合所学，谈一谈你对解决世界粮食短缺问题的认识。（1 分）

32. （11 分）习近平总书记指出，一个有希望的民族不能没有英雄，一个有前途的国家不能没有先锋。

材料一 1937 年 6 月，国民政府中央文化事业计划委员会首次表彰民族英雄。特申明：“以我国历史久远，代有特起人物，故列表而出之，藉作人群楷模，增强民族自信力”，包括 ①秦始皇、②张骞、③郑和、④戚继光、⑤郑成功等 40 人。

（1）把材料一中的历史人物与下历史功绩相对应。（填写序号，4 分）

增进中国与亚非国家和地区的相互了解和友好往来：




领导反侵略的抗倭斗争，维护了中国东南沿海安宁：

建立起我国历史上第一个统一的多民族的封建国家：

使被荷兰殖民者占据 38 年的台湾重新回到祖国的怀抱：



材料二

人物	国别	主要事迹（摘录）
 华盛顿	①	◎1775年，在第二届大陆会议上主张武力反抗英军殖民统治，被委任为大陆军总司令； ◎1787年，主持召开制宪会议，最终制定出美国宪法。
 玻利瓦尔	委内瑞拉	◎1819年，他率领军打败西班牙殖民者，解放了南美多地，被誉为“南美的解放者”； ◎成立具有资产阶级性质的“大哥伦比亚共和国”。
 ②	印度	◎1920年，号召人民开展非暴力不合作运动，对抗英国的殖民统治； ◎控制群众的斗争方式，保证资产阶级对运动的领导权。

(2) 依据材料二补充表格内容：①处应填\_\_\_\_\_，②处应填\_\_\_\_\_，并概括三位英雄事迹的共同点。(3分)

材料三 抗美援朝战争中，杨根思所在部队奉命坚守“1071高地”。当敌人第九次涌上来时，杨根思毅然抱起炸药包，与敌人同归于尽，誓死践行了“人在阵地在”的誓言。宋阿毛所在的部队负责在低至零下四十度的天气中坚守死鹰岭高地，牺牲前他留下绝笔诗：“我爱亲人和祖国，更爱我的荣誉，我是一名光荣的志愿军战士！冰雪啊！我决不屈服于你，哪怕是冻死，我也要高傲的耸立在我的阵地上。”

——摘编自王喜《抗美援朝精神的历史内涵与时代精神》

(3) 依据材料三并结合所学写出这两位志愿军英雄誓死坚守任务的目的，并写出他们身上的优秀品质。(2分)

材料四 新时代涌现出的英雄人物（部分）：

人物	荣誉称号	事迹
陈薇	人民英雄	自新冠疫情以来，从缩短核酸检测时间到研制新型疫苗，陈薇与团队所取得的一系列重要科研成果，为此番中国抗击疫情作出了重大贡献。
张桂梅	全国脱贫攻坚楷模	张桂梅创立全国唯一一所免费女高——华坪女子高级中学。建校至今已有1804名大山里的女孩从这里走进大学。

(4) 依据材料四并结合所学，任选一位英雄人物，为其撰写致敬词。(1分)

33. (8分) 红色革命城市是历史的记忆，见证着中国共产党奋斗的百年历程。

材料一





中共一大会址

“中国共产党的一大会址是我们党梦想起航的地方。我们党从这里诞生，从这里出征，从这里走向全国执政。这里是我们党的根脉。”

——习近平

(1) 依据材料一，写出图中一大会址所指城市的名称，并结合所学写出你对“中共一大会址是梦想起航的地方”的理解。(3分)

材料二

 <p>①南昌</p>	 <p>②井冈山</p>	 <p>③遵义</p>	 <p>④延安</p>
<p>1927年8月1日，周恩来等人率领党掌握和影响下的两万多军人，在南昌起义，迅速占领南昌城。根据中共中央的计划，起义军于8月3日陆续撤离南昌，南下广东。</p>	<p>1927年10月，毛泽东率领起义军到达井冈山，以毛泽东为书记的中共红四军前敌委员会明确地提出了“农村工作使第一步，城市工作是第二步”的思想。</p>	<p>1935年1月，中共中央在遵义召开了政治局扩大会议。会议全力纠正了博古等人在军事上和组织上的“左”倾错误，肯定了毛泽东的正确军事主张。</p>	<p>1945年4月，中国共产党在延安召开了第七次全国代表大会，总结了中国共产党领导新民主主义革命的经验，制定了党的政治路线，确立毛泽东思想为党的指导思想。</p>

(2) 依据材料二，请你从中任选一个城市（除示例外），写一份关于这个城市记忆的历史小档案，仿照示例。(3分)

示例：

**延安历史记忆小档案**

时间：1945年4月

重大事件：中共七大召开

历史意义：中共七大的召开为争取抗日战争的胜利和实现中国的光明前途准备了条件。



材料三 北平和平解放前，傅作义代表与解放军代表进行三次和谈。当年举行第三次北平和平解放和谈的平津战役指挥部旧址，位于北京市通州区宋庄镇宋庄村，如今已经修缮完毕。近年，通州区对该遗址按建筑原样复原，未来有望对外开放。


——《新京报》

(3) 依据材料三和所学知识，谈谈在北京应该如何传承红色革命文化。(2分)

34. (9分) 习近平总书记指出：“京津冀地缘相接、人缘相亲，地域一体、文化一脉，历史渊源深厚、交往半径相宜，完全能够相互融合、协同发展。”某学校社团以“京津冀一体化”为主题展开系列探究活动。(10分)

活动一：图文溯源——同学们以“古代燕赵、多元一体”为主题，参观首都博物馆。以下是同学们的参观记录。

①	截至 2020 年，北京输出到津冀的技术合同成交额累计超过 1200 亿元。
②	2020 年，京津冀地区 PM2.5 平均浓度为 44 微克/立方米，比 2014 年下降 51%。
③	2014 年以来京津冀三省市完成植树造林超过 3200 万亩
④	2021 年初，京津冀地区在 60 家定点医疗机构实现跨省异地就医。
⑤	2019 年，京津冀区域奇数市场成交额占全国技术市场成交额的近 1/3。
⑥	截至 2021 年初，43 项临床实验结果在京津冀 485 家医疗机构实现互认。

历史地图	文字材料
 <p style="text-align: center;">战国形势图</p>	<p>春秋战国时期，京津冀地区北有燕国、南有邢国、赵国，中部有中山国；在燕国的东边有商初建国的孤竹（在今河北卢龙、迁安一带），战国时被灭，燕国北边有东胡。在不断的争霸中，京津冀地域形成燕赵对峙的格局。燕国占领河北北部，包括今天的天津、北京；河北中南部为赵国的疆域；齐国占领河北东南部一小块。</p> <p>——首都博物馆《京津冀历史文化展》</p>

(1) 依据以上参观记录，在地图上找到燕国和赵国的位置①和②，并概括春秋战国时期的阶段特征。(4分)

活动二：遗址掠影——同学们以“近代燕赵、风气先开”为主题，走进历史遗址。以下是同学们的考察笔记。



遗址 照片			
	天津电报总局（旧址）	京师大学堂（旧址）	京张铁路（旧址）
文字 材料	1880年由李鸿章奏设于天津，这是中国自主建设的第一条长途公众电报线路，也是中国最早的营业性电报线。	1898年由清政府创办于北京，以“广育人才、讲求时务”为宗旨，是中国近代第一所国立大学。后改为北京大学。	1909年建成，起于北京经八达岭等地至河北张家口，以詹天佑为首的中国工程技术人员与工人，用自己的技术力量，独立自主建成了中国第一条铁路干线。

(2) 依据以上考察笔记并结合，写出以上三个遗址代表的历史事件出现的共同历史背景及其作用（2分）

活动三：资讯简报——同学们以“现代燕赵、协同发展”为主题，搜集资讯数据。以下是同学们的资讯摘要。

(3) 将活动三中的资讯数据按照协同发展领域进行主题归类（参考示例），并结合实际对京津冀一体化的发展提出可行性建议。（3分）

示例：

序号	协同发展类别
②	生态环境
③	

序号	协同发展类别
①	科技创新

序号	协同发展类别

