



学校\_\_\_\_\_姓名\_\_\_\_\_准考证号\_\_\_\_\_

- |                  |   |
|------------------|---|
| 考<br>生<br>须<br>知 | <p>1.本试卷共 8 页, 共两部分, 共 24 道题, 满分 70 分。考试时间 70 分钟。</p> <p>2.在试卷和答题卡上准确填写学校名称、姓名和准考证号。</p> <p>3.试题答案一律填涂或书写在答题卡上, 在试卷上作答无效。</p> <p>4.在答题卡上, 选择题用 2B 铅笔作答, 其他试题用黑色字迹签字笔作答。</p> <p>5.考试结束, 请将本试卷、答题卡和草稿纸一并交回。</p> |
|------------------|---|

### 第一部分

本部分共 20 题, 每题 1.5 分, 共 30 分。在每题列出的四个选项中, 选出最符合题目要求的一项。

1.秦国自商鞅变法开始, 实行“名田宅”制, 即国家依据民户的爵位授予田地和住宅。民众获取爵位最主要的途径是获得军功。秦国实行的“名田宅”制

- A.提高了军事实力    B.促进了民族交融    C.削弱了中央集权    D.保护了贵族特权

2.右图所示为东汉光武帝时期的简册。其记载的是张掖郡居延边塞官员粟君状告百姓寇恩, 称寇恩欠了他一头牛。居延县和下辖的乡通过调查审理, 最终裁定粟君诬告寇恩。



《候粟君所责寇恩事》汉简

此汉简可以用于研究

- ①汉朝的郡县制度                      ②汉朝与匈奴的战争  
③汉朝的法律制度                      ④东汉初期的吏治

- A. ①②③                      B. ①②④                      C. ②③④                      D. ①③④

3.汉代财政年度是“计断九月”, 收支结算时间以黄河流域主要粮食作物粟的成熟时间作为参考。唐代则是“岁终为断”, 收支结算须适应南方主要粮食作物水稻的成熟时节。这反映出

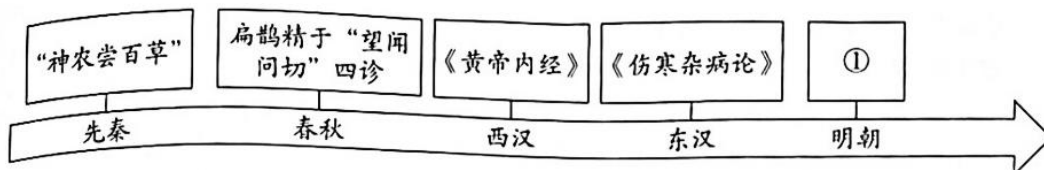
- A.江南经济的迅速发展                      B.南方军事实力强大超过北方  
C.政治中心转移到南方                      D.北方放弃种粟转而种植水稻

4.右侧为某同学学习某朝历史时制作的资料卡片, 他学习的朝代应为

- A.汉朝                      B.唐朝                      C.宋朝                      D.明朝

出现“苏湖熟, 天下足”的谚语  
出现世界上最早的纸币“交子”  
发明活字印刷术

5.以下示意图呈现了中国传统医学的发展历程。其中①处应为



- A.《齐民要术》                      B.《天工开物》                      C.《农政全书》                      D.《本草纲目》

6. 清朝将南海诸岛列入水师的巡查范围。康熙四十九年至五十一年（1710—1712年），广东水师副将吴升率水师巡视到西沙群岛一带。由此说明

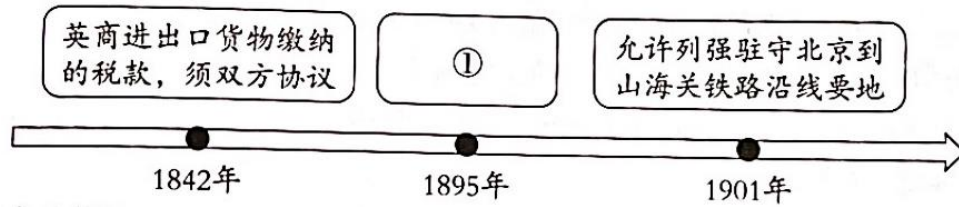
- A. 清朝的社会矛盾尖锐
- B. 东南亚诸国与清朝友好往来
- C. 清政府扶持海上贸易
- D. 清政府对南海诸岛行使主权

7. 下列连环画所反映的历史事件的共同点是

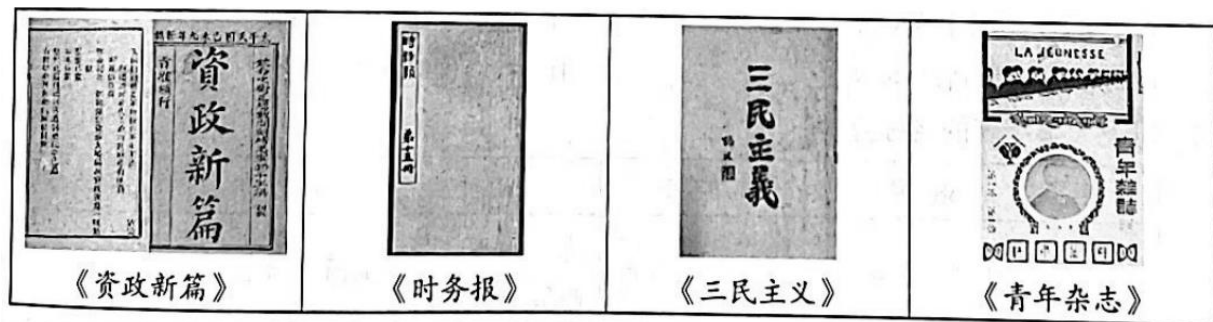


- A. 加强对外交往
- B. 加强边疆管理
- C. 强化君主专制
- D. 抗击外来侵略

8. 以下示意图反映了中国近代民族危机的不断加深，其中①处应为



- A. 割香港岛给英国
- B. 允许日本在中国开设工厂
- C. 改总理衙门为外务部
- D. 划定东交民巷为使馆界



9. 下图为某历史学习小组搜集的资料，他们研究的主题应为

- A. 西方科技的引进
- B. 君主立宪制的建立
- C. 救亡图存的探索
- D. 清政府改革的深入

10. 右图为 1935 年 5 月的《中国工农红军布告》，布告中写道：“中国工农红军，解放弱小民族；一切彝汉平民，都是兄弟骨肉。”“红军万里长征，所向势如破竹；今已来到川西，尊重彝人风俗。军纪十分严明，不动一丝一粟；粮食公平购买，价钱交付十足。”由布告可知

- ① 红军是军纪严明的军队
- ② 红军推行民族平等政策
- ③ 红军维护人民群众利益



④红军三大主力胜利会师

- A. ①②③                      B. ①②④                      C. ②③④                      D. ①③④

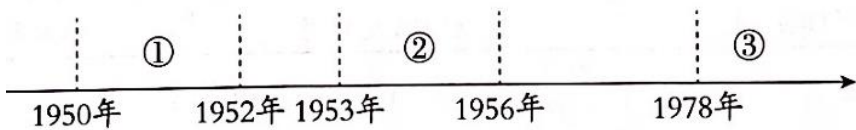


11. 下表中的史实反映了

- 张自忠将军和八路军副参谋长左权英勇抗战，血洒疆场
- 海外华侨和港澳同胞，捐款捐物，支援前线士兵作战
- 工人不分昼夜，加班生产，支援前线
- 马本斋组织回民义勇队，抗击日军入侵

- A. 全民族抗战                      B. 正面战场抗战                      C. 敌后战场抗战                      D. 抗战取得胜利

12. 某同学围绕“中国共产党在不同时期实行的土地政策”进行梳理，其中②应填写的是



- A. 打土豪，分田地”  
B. “地主减租减息、农民交租交息”  
C. 废除地主阶级封建剥削的土地所有制，实行农民的土地所有制  
D. 把分散的个体农民组织起来，引导他们参加农业生产合作社

13. 社会主义建设时期，各条战线上涌现出了大批英雄模范人物，例如雷锋、焦裕禄等。同一时期的英雄模范人物还有

- A. 黄继光                      B. 王进喜                      C. 莫言                      D. 杨利伟

14. 1821年英国创办爱丁堡工艺学校，近代职业教育兴起。学校教授机械制图、建筑等课程，学生主要为当地青年，上课时间以晚上为主。近代职业教育兴起的原因是

- A. 英国殖民霸权的确立                      B. 工业革命的发展需要  
C. 城市人口向农村流动                      D. 社会保障制度的建立

15. 以下大事年表的名称应是

时间	1688年	1787年	1792年	1861年	1868年
事件	英国“光荣革命”	美国宪法制定	法国成立法兰西第一共和国	俄国废除农奴制	日本明治维新

- A. 民主共和制的确立                      B. 资本主义制度的确立与扩展  
C. 殖民地人民的反抗                      D. 资本主义世界市场的形成

16. 1903年，一位德国大臣说：“皇上首要的和基本的思想就是粉碎英国的霸权，以有利于德国。”1911年，一位英国外交大臣说：“真正决定我国外交政策的，是海上霸权的问题。”以上材料可用于研究

- A. 第一次世界大战的背景                      B. 英国殖民霸权的确立  
C. 第一次世界大战的结果                      D. 德国法西斯政权建立



17.右侧是某同学拟定的《社会主义：从理论到实践》的论文提纲，其中①处应为

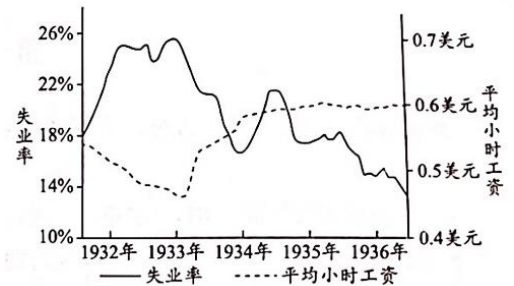
- A.《共产党宣言》
- B.第一国际
- C.巴黎公社
- D.十月革命

一、社会主义从空想到科学  
 (一) 科学社会主义的诞生  
 (二) 普法战争后的革命实践  
 二、第一个社会主义国家实践  
 (一) \_\_\_\_\_ ① \_\_\_\_\_  
 (二) 新经济政策与斯大林模式  
 三、中国社会主义现代化建设

18.右图为美国 1932—1936 年失业率和平均小时工资图表，下列各项能够解释 1935 年后数据变化原因的是

- A.工业革命的开展
- B.南北战争的爆发
- C.罗斯福新政的实施
- D.“新经济”的出现

美国1932—1936年失业率和平均小时工资



19.右侧地图呈现的国家格局，反映的具体时空是

- A.拿破仑时代的欧洲
- B.一战前的欧洲
- C.一战后的欧洲
- D.冷战结束后的欧洲



20.以下主题和史实对应正确的是

	主题	史实
A	工业革命时期的世界	美国内战、欧洲经济共同体成立
B	两次世界大战之间的世界	《凡尔赛条约》、不结盟运动
C	冷战时期的世界	三国同盟、杜鲁门主义
D	走向和平发展的世界	联合国的成立、经济全球化

## 第二部分

本部分共 4 题，共 40 分。

21. (8 分) 汉字的书写与传播

材料一



东汉画像石的书写者，书写材料为简牍，坐姿为跪坐，书写姿势是“握卷写”。

南北朝《北齐校书图卷》，书写者坐在胡床上，左手持纸卷，右手执笔，正在书写。

北宋《解盐图》，一盐官在高坐具上垂脚而坐，书写姿势为“伏纸写”。

(1) 依据材料一，指出从东汉到北宋书写的变化。(2分) 结合所学，说明变化的原因。(2分)

材料二 汉字不仅是中国灿烂文化的结晶，它还为周边国家所使用，如日本、朝鲜、越南等国在历史上曾长期使用汉字，日本利用汉字的偏旁部首创制了日文，现在仍夹用汉字。我国很多少数民族仿照汉字创造了本民族文字，如契丹文、女真文、西夏文等，且汉字被多个民族共同使用，成为大范围社会交际和文化沟通的桥梁。

——摘编自李滨英《中华汉字对周边少数民族创制文字的影响》

(2) 依据材料二，说说汉字传播的历史影响。(2分)

材料三 19世纪，西方人发明了打字机，极大提高了书写效率。为捍卫汉字的书写传播，林语堂曾不惜倾家荡产，设计制作中文打字机。20世纪中后期，王永民发明汉字输入法，提高了用西式键盘输入汉字的效率，使得汉字成为数字化时代的重要文字。今天，我们实现了在键盘上“敲字如飞”，但也因为长期使用电脑，许多人只能大致记住汉字的形状，提笔却无法正确写出具体部首和结构。

——摘编自刘瀛璐《书写：智能时代的田园牧歌》

(3) 综合上述材料，从科技创新与文化遗产的角度，谈谈你对汉字的认识。(2分)

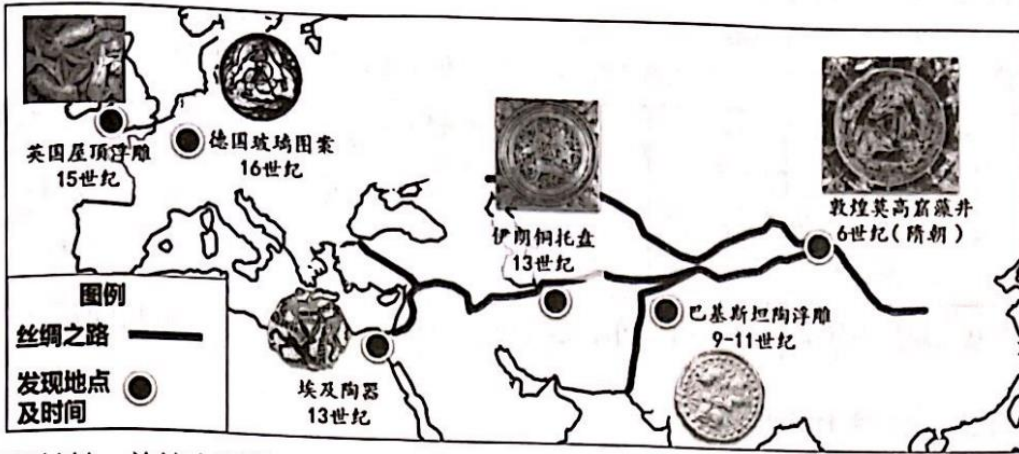
## 22. (10分) 丝绸之路·一带一路

材料一 隋唐时期的敦煌莫高窟中绘有一种特殊图案——三兔共耳(见右图)。

在中国传统文化中，兔子是多子多福的象征，“三”有吉祥如意。经过魏晋南北朝战争，隋朝统一后，人口相对退减，多子多福、生生不息成为普通民众朴素的期盼。

该图案在很多国家和地区也有出现。如以下示意图：





(1) 依据材料一并结合所学，说出隋唐时期敦煌出现“三兔共耳”图案的原因。(2分) 依据示意图，指出其传播的特点。(2分)

材料二 “西厢瓷因瓷器取材于元朝杂剧《西厢记》而得名。其最早出现于晚明，在清初逐渐发展兴盛。其人物刻画受到外籍宫廷画家绘画技法影响，五官和服饰刻画分明，较为写实，有的还添加有异域风情的纹样装饰。其表现形式有连环画、组合画以及图文结合等多种。明清时期，“西厢瓷”随着中国瓷器的外销而传入欧洲，成为欧洲瓷画模仿的范本。《西厢记》故事也随着瓷器的销售在欧洲传播开来。



——摘编自简圣宇、华雪《瓷器上的戏曲图示》

(2) 依据材料二，概括明清“西厢瓷”的特点。(2分) 分析“西厢瓷”畅销欧洲的影响。(2分)

材料三 2013年，习近平总书记着眼人类前途命运及中国和世界发展大势，提出建设“丝绸之路经济带”和“21世纪海上丝绸之路”的战略构想。十年来，倡议拉动近万亿美元规模投资，形成3000多个合作项目，为沿线国家和地区创造42万个工作岗位，使将近4000万人摆脱贫困。中老铁路、匈塞铁路等重点线路运营、建设进展顺利，一批农业、医疗、减贫等民生项目相继实施，给沿线国家民众带来实实在在的好处。

——2023年3月30日《经济日报》

(3) 依据材料三，谈谈你对中国“一带一路”实施效果的认识。(2分)

### 23. (10分) 亚非拉民族解放与发展

材料一 版画中的历史



(1) 依据材料一，指出早期殖民扩张的具体表现。(2分) 结合所学，分析其影响。(2分)

材料二 货币中的历史

货币不仅是经济生活的基本元素，也是国家的象征。许多国家会把对本国历史有突出贡献的人物肖像印在货币上。以下货币上的历史人物分别为玻利瓦尔、甘地和曼德拉。



(2) 从材料二中任选一个国家的货币，结合史实，说明此历史人物为本国所作的历史贡献。(2分)

材料三 照片中的历史

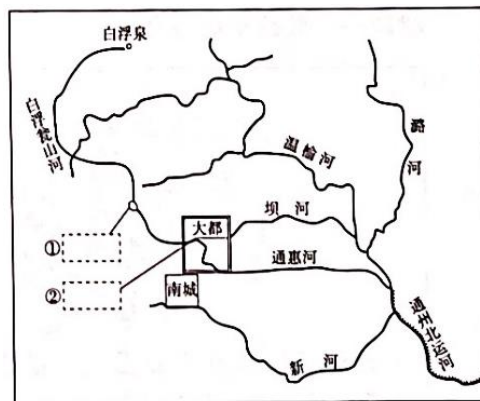
<p>1955年4月，来自亚洲、非洲的29个国家和地区的代表在印度尼西亚的万隆举行了第一次亚非会议。会议体现的亚非国家和地区团结合作、友好相处，共同反对帝国主义和殖民主义，争取和巩固民族独立，保卫世界和平的精神，被称为“万隆精神”。周恩来提出的“求同存异”原则获得与会代表一致赞同。</p>	<p>2015年4月，来自亚非102个国家和地区的代表相聚万隆，参加第三次亚非会议，纪念万隆会议召开60周年。会议围绕“加强南南合作，促进世界和平繁荣”主题进行研讨，重申了“万隆精神”，聚焦新形势下缩小南北差距，消除贫困和实现可持续发展。中国在关税待遇、技术培训、经济援助等方面，主动承担新时期推动亚非共同发展的历史责任。</p>

(3) 依据材料三并结合所学，比较两次亚非会议的异同点。(4分)

24. (12分) 三山五园地区承载丰富的历史文化。某学校开展了有关三山五园的历史项目学习。

【探究颐和园】

历史项目学习小组查找了昆明湖相关资料，并绘制了示意图：颐和园昆明湖在元代称瓮山泊。当时大都所需物资供应均要依赖运河由南向北运输，但大运河河北段只到达通州，为此元朝政府计划修建通惠河。由于通州地势低于大都，只能从大都引水通往通州。为解决此问题，1292年，郭守敬引白浮泉，经白浮瓮山河引水渠，最后汇入瓮山泊储存，然后流进大都城积水潭。经过郭守敬系统的修筑治理，瓮山泊成为供应大都城和通惠河的水库。



A

B

理，瓮山泊成为供应大都城和通惠河的水库。



(1) 将材料中划线部分的地点分别填写在地图中

①②处。(2分,在答题卡相应位置填写字母)分析瓮山泊对元大都发展的历史作用。(1分)

**【考察清华园车站】**

历史项目学习小组考察了清华园车站,整理出以下资料:

清华园车站大事年表

序号	时间	事件
①	1909年	由詹天佑主持修建的京张铁路建成通车。
②	1910年	京张铁路因运力加大,增设了五座车站,清华园车站是其中之一。
③	1922年	清华园车站等京绥铁路沿线60多个站点的1500余名车务工人,在京绥铁路工人共产党小组的领导下,进行罢工斗争。
④	1933年	“九一八事变”后,清华大学研制的防毒面具,经清华园车站发往绥远前线。
⑤	1935年	清华大学学生从清华园车站出发,参加中共地下党组织领导的“一二·九”运动。
⑥	1938年	共产党员宋亚男、宋亚夫、万一等用炸药袭击清华园车站,破坏铁路线,干扰日军运输。
⑦	1949年	清华园车站成为中共中央从西柏坡进入北平的首个落脚点。
⑧	1954年	由于清华大学东扩,京张铁路东移800米,并修建了新的清华园车站。
⑨	1960年	清华园老站改为货运站。
⑩	1980年	货运业务终止。
⑪	2021年	被列为北京市首批不可移动革命文物。
⑫	2023年	被列为北京市文物保护单位。

——摘编自石碧兰《百年清华园车站》等

(2) 参照示例,自拟一个与清华园车站相关的主题,并运用两则及以上资料,对主题进行说明。(5分)

示例:

主题:清华园车站的修建与京张铁路

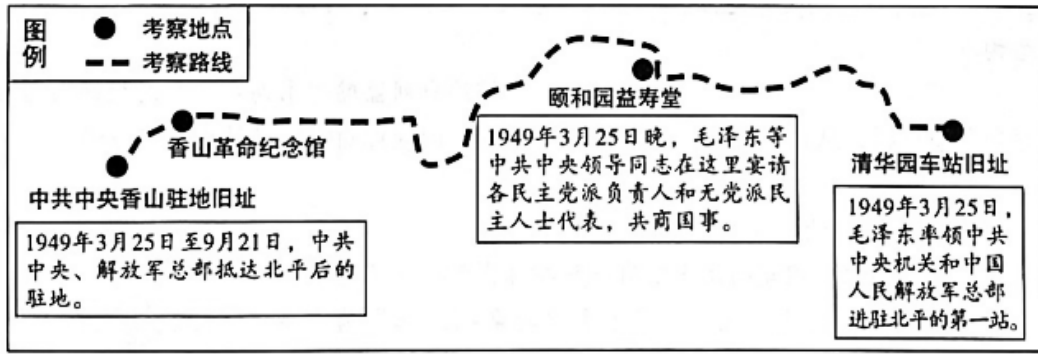
序号:①②

说明:清华园车站是京张铁路沿线的站点,它的修建提高了运输的效率,体现了中国近代交通的发展。

**【重走“进京赶考之路”】**

1949年3月23日,中共中央从西柏坡起程前往北平,毛泽东将这一天比喻为“进京赶考”的日子。历史项目学习小组通过查找相关资料,规划了考察路线,打算重走中国共产党的“进京赶考”之路。





(3) 依据考察路线并结合所学，说出“进京赶考”的时代背景。(2分)

(4) 2022年10月，习近平总书记在参加党的二十大广西代表团讨论时强调：“我们要坚定历史自信、增强历史主动，在新的赶考之路上向历史和人民交出新的优异答卷。”结合新中国七十多年的发展史实，谈谈你对中国共产党书写的优异“答卷”的认识。(2分)



# 参考答案



## 第一部分（共 30 分）

题号	1	2	3	4	5	6	7	8	9	10
答案	A	D	A	C	D	D	D	B	C	A
题号	11	12	13	14	15	16	17	18	19	20
答案	A	D	B	B	B	A	D	C	C	D

## 第二部分（共 40 分）

21. （8分）

（1）书写材料由简牍变为纸张；书写姿势由跪变为坐；书写姿势由“握卷写”变为“伏纸写”。（2分，任意2点即可）

原因：民族交融；纸张的普及。（2分，任意1点即可）

（2）推动了周边国家文字的创制；促进了少数民族文字的创新；促进了少数民族和周边国家文化的发展；促进了统一多民族的巩固。（2分，任意2点即可）

（3）答案示例：

科技创新有利于汉字的普及与传播；汉字是我国优秀的传统文化，可以开设书法课程，促进汉字的发扬光大。（2分。本题为开放性试题，言之有理即可）

22. （10分）

（1）原因：隋朝统一后，人口减少，三兔共耳有多子多福的美好寓意；敦煌位于丝绸之路，是中西文明交汇的中心；隋唐时期文化繁荣。（2分，任意2点即可）

特点：沿丝绸之路沿线传播；由东向西传播；传播的时间长，区域范围广，涉及亚洲、非洲、欧洲。（2分，任意2点即可）

（2）特点：受外来绘画技巧影响；表现形式多样。（2分）

影响：促进了欧洲制瓷业的发展；促进了中国文化在海外的传播；促进了中西方的经济文化交流。（2分）

（3）为沿线国家提供了就业岗位，推动了沿线国家基础设施的建设，提升了沿线国家人民的生活水平，说明“一带一路”策略彰显了中国的新发展给世界带来的新机遇，彰显了中国式现代化的世界意义。（2分。本题为开放性试题，言之有理即可）

23. （8分）

（1）表现：武力征服；强迫黑奴劳动。（2分）

影响：促进了资本主义的原始积累；造成了美洲的落后，给美洲人民带来了灾难；客观上有助于世界市场的发展。（2分，任意2点即可）

（2）委内瑞拉货币：玻利瓦尔领导了南美洲的独立运动，促进了南美洲民族解放运动的发展。（2分）

印度货币：甘地领导了印度的非暴力不合作运动，打击了英国的殖民统治，增强了印度人民的民族自尊心和自信心。（2分）

南非货币：曼德拉领导了南非人民争取种族平等的斗争，促进了南非种族隔离制度的废除。（2分）

（3）相同点：参加国家主要是亚非国家；倡导和平发展；中国起了重要作用。（2分）

不同点：第一次亚非会议面临的主要问题是争取和巩固民族独立，第三次亚非会议面临的新问题是缩小南北差距，消除贫困和实现可持续发展；在第三次亚非会议上中国承担着历史新责任，发挥着更重要的作用。（2分）

24. （12分）

（1）①：A（1分）②：B（1分）

作用：保证了对大都的物资供应。（1分）

（2）评分标准

赋分	具体表现
5-4	能够使用材料中两个及以上的序号提取主题，提取的主题恰当，能运用材料中的相关史实，说明其与主题的关系，做到史论结合，逻辑清晰。
3-2	能够使用材料中两个及以上的序号提取主题，提取的主题不恰当，能运用材料中的相关史实，说明其与主题的关系，逻辑较清晰。
1-0	没有提取出相关主题，没有结合材料，无法说明材料与主题的关系。

（3）解放战争即将胜利，准备筹建新中国。或：七届二中全会召开，党的工作重心由农村转向城市。（2分）

（4）答案示例：

中共十一届三中全会后，党和政府实行改革开放政策，在农村实行了家庭联产承包责任制，激发了农民的劳动热情，带来农村生产力的大解放，农业生产和农民收入均有很大提高。（2分）