



门头沟区 2019 年初三年级综合练习 (一)

历史试卷

2019. 4

考生须知

1. 本试卷共 12 页，分为两部分，第一部分选择题，30 个小题，共 45 分；第二部分非选择题，4 道题，共 45 分。
2. 请将条形码粘贴在答题卡相应位置处。
3. 试卷所有答案必须填涂或书写在答题卡上，在试卷上作答无效。请使用 2B 铅笔填涂，用黑色字迹签字笔或钢笔作答
4. 考试时间 90 分钟，试卷满分 90 分。

第一部分 选择题 (共 45 分)

下列各小题均有四个选项，其中只有一项是符合题意要求的。请将所选答案前的字母，按要求填涂在答题卡第 1~30 题的相应位置上。(每小题 1.5 分，不选、多选则该小题不得分。)

1. 下列人类遗址中，对研究我国北方原始农耕文化帮助最大的是
- A. 元谋人遗址 B. 北京人遗址 C. 半坡遗址 D. 河姆渡遗址

2. “东流不尽秦时水，润泽天府两千年”，这幅对联赞美的是我国的

- A. 都江堰 B. 长城 C. 大运河 D. 赵州桥

3. 右图所示战役的主要影响是

- A. 奠定了秦朝统一全国的基础
B. 奠定了曹操统一北方的基础
C. 奠定了三国鼎立局面的基础
D. 形成了南北朝分立对峙局面



4. 隋朝开始设置进士科，主要考核参选者对时事的看法，而唐朝重视考诗赋。这种变化直接导致了唐朝

- A. 经济的繁荣 B. 科技的发展 C. 市民文学的兴起 D. 诗歌创作的繁荣

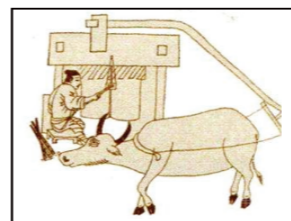
5. 宋朝儿童念的《神童诗》，一开头就是“天子重英豪，文章教尔曹；万般皆下品，唯有读书高”。当时民间还流行着这样的俗语“做人莫做军，做铁莫做针”。材料主要表明宋朝

- A. 等级森严 B. 商业繁荣 C. 重农抑商 D. 重文轻武

6. 下列历史事件与“戚继光抗倭”性质相同的

- A. 岳飞抗金 B. 郑成功收复台湾 C. 文天祥抗元 D. 李自成起义

7. 明朝中后期的一些科技巨著附有大量插图，以下插图最有可能出自



农作物加工图



陶瓷制作图



煤炭采掘图

- A. 《齐民要术》 B. 《天工开物》 C. 《本草纲目》 D. 《资治通鉴》

8. 以下四幅疆域图的变化体现的主题是



秦朝疆域图



西汉疆域图



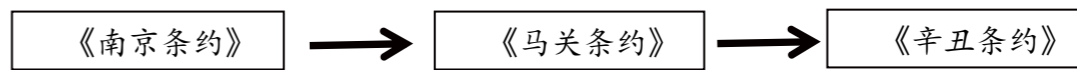
元朝疆域图



清朝疆域图

- A. 集权统治面临危机 B. 民族斗争成为民族关系的主流
C. 统一多民族国家的巩固与发展 D. 中外交往不断扩大

9. 对以下历史知识结构示意图解读正确的是



- A. 中国逐步走出半殖民地半封建社会的过程 B. 中国民族工业艰难曲折的发展过程
C. 中国新民主主义革命的发展历程 D. 中国逐步沦为半殖民地半封建社会的过程

10. 太平天国颁布的《天朝田亩制度》的内容

- A. 充分调动了农民的生产积极性 B. 反映了农民阶级的要求与愿望
C. 具有资本主义性质 D. 反映了新民主主义革命的发展历程

座位号:

考场号:

姓名:

班级:

学校:

线 封 密

11. 某历史文献这样记载：“失去辫子，人们一时难以适应这种变化，于是时兴起戴帽子。据说，当时名扬四海的盛锡福帽店日夜赶制帽子，仍然供不应求。”文献反映的社会现象源于

- A. 洋务运动后 B. 辛亥革命后 C. 五四运动后 D. 新中国建立后

12. 以下为 1913~1920 年中国民族工业发展情况表。出现表中数据变化的主要原因是

年份	厂家	资本	工人
1913 年	689 家	33 亿元	27 万多人
1920 年	1795 家	50 亿元	55 万多人

- A. 外商企业的资金和技术支持 B. 清政府放宽民间办厂的限制
C. 西方列强暂时放松经济侵略 D. 中国民族资本主义实力雄厚

13. 1918 年，李大钊在《新青年》上连续发表了《庶民的胜利》和《布尔什维主义的胜利》两篇论文。这体现新文化运动

- A. 高举民主和科学两面大旗 B. 积极倡导文学革命
C. 对传统文化存在绝对否定偏向 D. 开始宣传马克思主义

14. 某校历史小组收集了下列图片布置历史展板。这些图片所对应的历史事件的时间顺序是



- ①井冈山会师 ②百团大战 ③遵义会议 ④中共一大

- A. ④①③② B. ④①②③ C. ①②③④ D. ①③②④

15. 近代以来，中国人民反对外国侵略第一次取得完全胜利的战争是

- A. 鸦片战争 B. 北伐战争 C. 抗日战争 D. 解放战争

16. 学习历史地图有利于培养我们的时空意识。图 1 图 2 反映的史实及其影响是

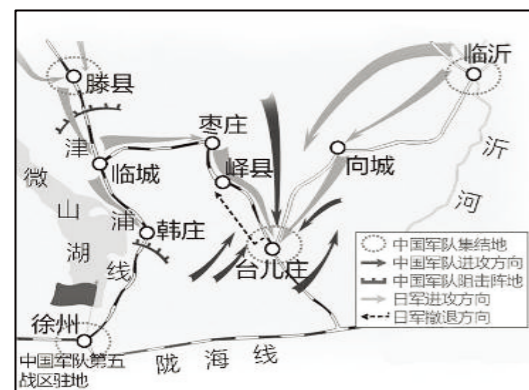


图 1

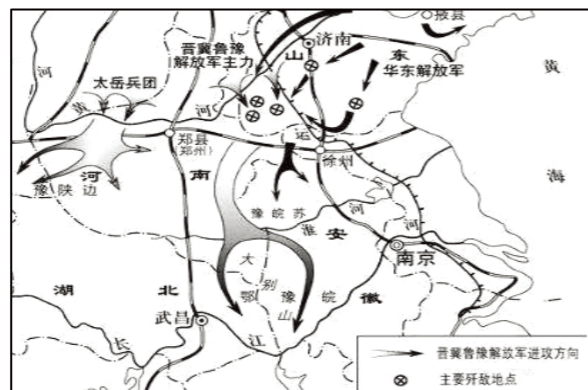


图 2

- A. 图 1 战役的指挥官是彭德怀；图 2 战役的胜利标志统治中国 22 年的国民党政府垮台
B. 图 1 战役是抗战以来正面战场的重大胜利；图 2 战役揭开了人民解放军战略反攻的序幕
C. 图 1 战役是抗战以来的第一次大捷；图 2 战役揭开了人民解放军战略决战的序幕
D. 图 1 战役是抗战中的最大规模战役；图 2 战役的胜利，振奋了人们争取抗战胜利的信心

17. 右图所示战役胜利的重要意义是

- A. 国民党主力基本被消灭
B. 奠定了解放长江以南各省的基础
C. 华北全境基本获得解放
D. 结束了国民党在大陆的黑暗统治



18. “两弹元勋”邓稼先、“党的好干部”焦裕禄、“铁人”王进喜，他们体现的时代精神是

- A. 解放思想，改革创新 B. 保家卫国，英雄主义
C. 艰苦创业，为人民服务 D. 解放中国，将革命进行到底

19. 1997 年，中国共产党第十五次全国代表大会明确指出，建设有中国特色社会主义理论的主要创立者是

- A. 邓小平 B. 江泽民 C. 胡锦涛 D. 习近平

20. 在中国共产党第十九次全国代表大会上，习近平总书记首次提出“新时代中国特色社会主义思想”。习近平新时代中国特色社会主义思想，代表着马克思主义中国化的最新成果。下列属于马克思主义中国化理论成果的是

- ①毛泽东思想 ②邓小平理论 ③科学发展观 ④生物进化论

- A. ①②③④ B. ①②③ C. ②③④ D. ①③④

21. 《早期殖民主义侵略史》中写道：“非洲到处在流血……过去住着人的村落现在变成了废墟，那些修建村落、耕种田地的人都到哪里去了呢？”导致这一现象出现的主要原因是

- A. 非洲国家普遍落后，外出打工 B. 印第安人全部死亡，美洲劳动力不足
C. 欧洲殖民者进行罪恶的奴隶贸易 D. 工业革命需要更多的自由劳动力

22. 某同学在学习中摘录了“1640 年、《权利法案》、克伦威尔”等关键词，他正在学习

- A. 英国资产阶级革命 B. 法国大革命
C. 美国独立战争 D. 启蒙运动

23. 《大国崛起》一书认为：“拿破仑战争是大革命的继续，拿破仑帝国是法国革命的最后阶段。”充分肯定了拿破仑

座位号：_____
考场号：_____
姓名：_____
班级：_____
学校：_____

- A. 击退了反法联盟多次进攻 B. 占领了欧洲大片领土
C. 巩固了资产阶级革命成果 D. 扫荡了欧洲封建势力

24. 雨果说“他”描绘了“我们的整个现在文明的走向”，恩格斯认为“他”的《人间喜剧》“汇集了法国社会的全部的历史”，这里的“他”指的是

- A. 牛顿 B. 贝多芬 C. 达尔文 D. 巴尔扎克

25. 第二次工业革命的特点，以下正确的结论有

- ①法国的科技成果突出 ②发明涉及的领域更加广泛
③科学研究同工业生产紧密结合 ④开始使用大机器生产

- A. ①② B. ②③ C. ③④ D. ①④

26. 19世纪六七十年代资产阶级统治的巩固与扩大，其具体表现不包括

- A. 法兰西第一共和国成立 B. 美国通过第二次资产阶级革命废除黑奴制度
C. 俄国1861年改革废除农奴制 D. 日本通过明治维新走上资本主义道路

27. 第一部较为完整而系统地阐述科学社会主义基本原理的伟大著作，开辟了国际工人运动和社会主义运动的新局面的是

- A. 《权利法案》 B. 《人权宣言》
C. 《人民宪章》 D. 《共产党宣言》

28. 1942年，美、英、苏、中等26个国家签署了《联合国宣言》，这标志着

- A. 第二次世界大战规模达到最大化 B. 国际反法西斯联盟建立
C. 法西斯轴心国开始瓦解 D. 雅尔塔体系形成

29. 下列是当今世界一些国际组织的徽标图案，中国加入的最大贸易组织的徽标是



30. 中国共产党十九大报告指出，世界面临的不稳定性不确定性突出，人类面临许多共同挑战。为此，中国应该

- ①同舟共济，推动经济全球化发展 ②采取先发展经济，后保护环境的模式 ③反对霸权主义，促进世界向多极化方向发展 ④发挥在联合国国际事务中的主导地位，维护世界和平

- A. ①②③ B. ②③④ C. ①③④ D. ①②③④

第二部分 非选择题 (共45分)

31. (14分) 中华民族为人类的文明与进步做出了巨大贡献。

【文化争鸣】

材料一 学派： ①道家 ②儒家
观点： ③事在四方，要（权力）在中央，圣人（君主）执要，四方来效（效劳）。
④若使天下兼相爱，爱人若爱其身，犹有不孝者乎？

学派	观点	古籍
示例：①	自然界是一个整体，人应该顺其自然。	《庄子·养生主》
法家		《韩非子·扬权》
	富贵不能淫，贫贱不能移，威武不能屈，此之谓大丈夫也。	《孟子·滕文公下》
墨家		《墨子·兼爱中》

(1) 依据材料一，补充表格所缺内容（填写序号）。（3分）

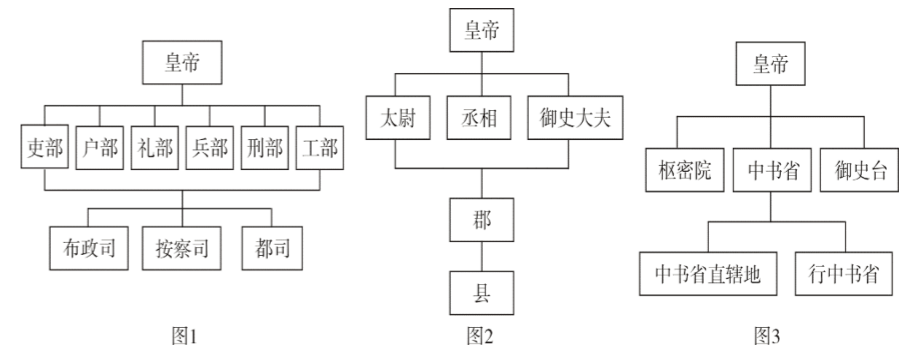
材料二

“要认真汲取中华优秀传统文化的思想精华和道德精髓……深入挖掘和阐发中华优秀传统文化讲仁爱、重民本、守诚信、崇正义、尚和合、求大同的时代价值，使中华优秀传统文化成为涵养社会主义核心价值观的重要源泉。”

——习近平在中共中央政治局第十三次集体学习时的讲话

(2) 依据材料二，说说中华优秀传统文化与社会主义核心价值观的关系。（1分）

【制度发展】



(3) 图1图2图3反映了中国古代王朝机构设置的主要情况，按其设置时间先后排序。（1分）

(4) 依据表格及所学，概述中国古代中央和地方权力演变的规律。（1分）

【科技领先】




材料三

“……这是预兆资产阶级社会到来的三大发明。……①把骑士阶层炸得粉碎……②打开

了世界市场并建立了殖民地……③却变为新教的工具，并且一般地说变为科学复兴的手段，变成创新精神发展的必要前提的最重要的推动力。”

——（德）卡尔·马克思

(5) 依据材料三，将与三大发明图片相对应的文字部分的序号写在表格中。（3分）

三 大 发 明			

【对外交往】

材料四 古代不同时期对外交往的路线图

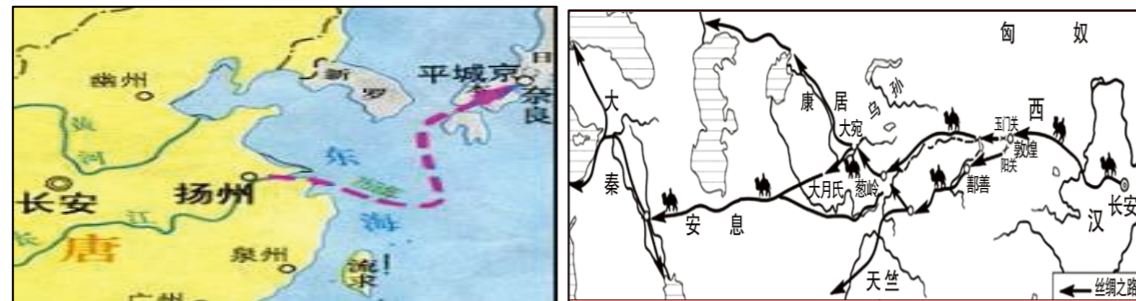


图 1

图 2

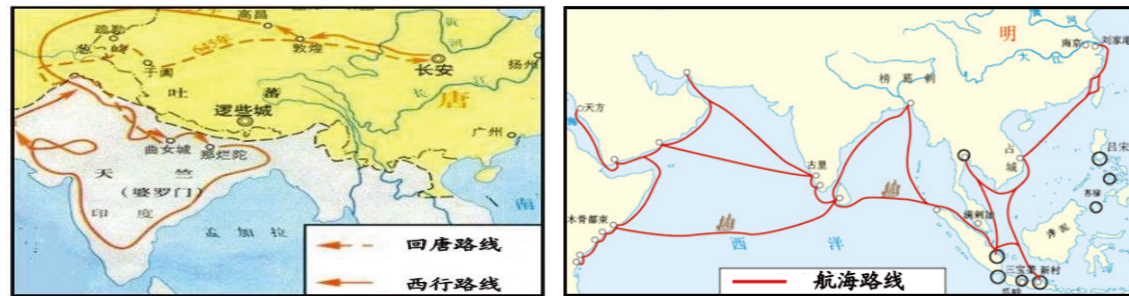


图 3

图 4

材料五 古代对外交往中杰出的历史人物



图 A

图 B

图 C

图 D

张骞拜别汉武帝出使西域图

日本唐招提寺鉴真像

玄奘负笈图

郑和下西洋

(6) 依据材料四和材料五，将相关联的对应项的序号填写完整。（3分）

示例：图 1——（图 B）；图 2——（ ）；图 3——（ ）；图 4——（ ）

(7) 从材料五中任选一位历史人物，写一段简介。（2分）

示例：图 B 中唐朝高僧鉴真凭借顽强的毅力六次东渡日本，在第六次终于成功。他在日本传授佛经，传播中国优秀文化，为中日文化交流作出了卓越的贡献。

32. (10分) 实现中华民族伟大复兴是中国人民为之奋斗的目标。

【中国近代探索之路】

材料一 年代尺示意图

①千年巨变 ②器物革新 ③百日维新 ④推翻帝制 ⑤登上舞台 ⑥开天辟地 ⑦民族胜利 ⑧获得新生



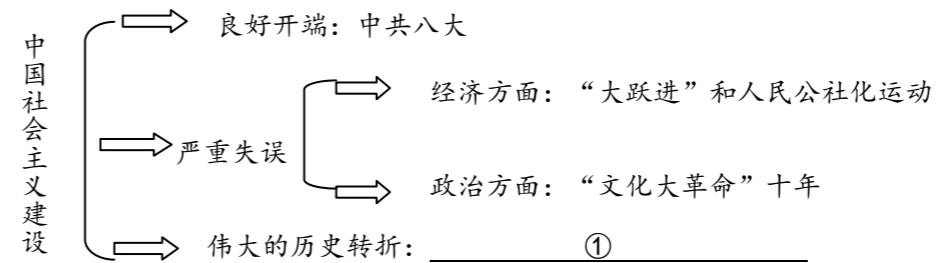
(1) 依据材料一的“年代尺示意图”提供的信息给以下内容进行归类。（2分）

近代向西方学习进行制度探索的是：_____（填序号）

发生在新民主主义革命时期的是：_____（填序号）

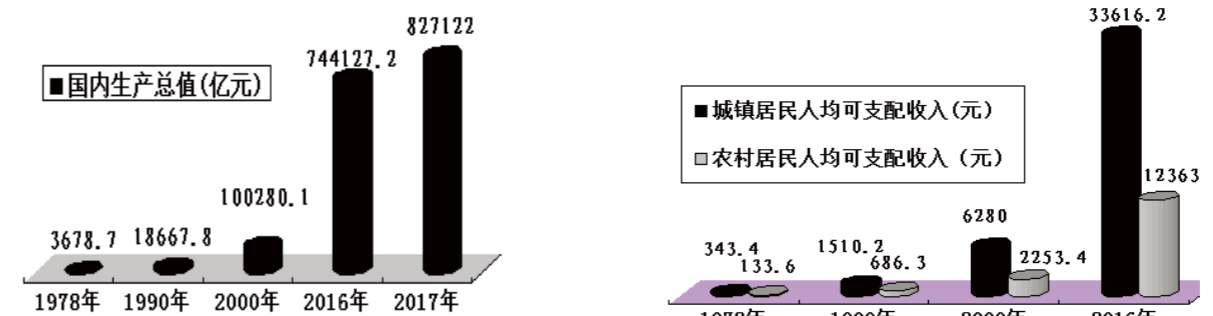
【社会主义建设之路】

材料二 知识结构示意图



(2) 依据材料二的“知识结构示意图”补充填写①的历史事件。（1分）

材料三 两组数据



国内生产总值变化图

城镇、农村居民人均可支配收入变化图

学校：_____ 班级：_____ 姓名：_____ 考场号：_____ 座位号：_____

座位号：_____
考场号：_____
姓名：_____
班级：_____
学校：_____

(3) 说出材料三中两组数据呈现的趋势。结合所学分析出现这种趋势的因素有哪些？(3分)

【中华民族复兴之路】

材料四 几组图片

 ① 出席第26届联大的中国代表团	 ② 屠呦呦在实验室工作	 ③ 意大利“中国文化年”	 ④ 南海海域海上阅兵
 ⑤ 2019 亚洲博鳌论坛新闻发布会	 ⑥ 法国举办孔子文化展	 ⑦ 歼-10 战机	 ⑧ 杨利伟乘坐“神舟五号”

(4) 请任选表格中一个主题，运用材料四中的几幅图片，说明图片与主题之间的关系(示例除外)。(4分)

主题	序号	说明
文化交流 (示例)	③	反映出了中国文化对世界的影响力不断扩大,体现出中华民族的文化自信。
	⑥	孔子文化在国外的传播,说明了中国文化对世界的影响力不断扩大。
外交成就		
科学技术		
国防建设		

33. (11分) 西方文明思想的发展与民主政治的进步,促进了世界的发展与进步。

【文明与沟通】

材料一

①在封建主义向资本主义演变的过程中,开创新制度的思想先驱对于传统文化大都有离异和回归两种倾向。资本主义发展最早的西欧是一种类型,那里的离异,主要表现为对中世纪千年黑暗的批判和背离;那里的回归,则主要表现为从希腊、罗马古代精神文明中寻求人文主义的力量源泉。

——摘自章开沅《离异与回归》

②15、16世纪是历史发展为世界历史的重大转折时期,世界开始连成一个整体……在西欧,社会经济发生了前所未有的根本变化。人类历史的前资本主义时期因这个变化而归于结束,资本主义开始以其新的生产力和生产关系出现在历史的地平线上。

——摘自吴于廑《世界史》总序

③在这次思想解放运动中……当时资产阶级的先进思想家为了向封建势力夺权,确立资本主义制度,必须砸开宗教蒙昧主义的枷锁,冲破封建专制主义的束缚,以启迪人们的觉悟,并为即将到来的革命做了舆论和意识形态方面的准备。

——摘编自《西方文化史》

④为什么世界历史应从1500年开始……回答是,1500年以前,人类基本上生活在彼此隔绝的地区中……直到1500年前后,各种族集团之间才第一次有了直接的交往。从那时起,它们才终于联系在一起。

——斯塔夫里阿诺斯《全球通史》

(1) 材料一中的①②③④四段材料是后人对历史上两次重大历史事件的不同论述,请把四段材料按照两个事件的性质进行归类(用序号表示),并说出其代表的重大历史事件的名称。(4分)

归类1: _____(填写序号); 事件1名称: _____。

归类2: _____(填写序号); 事件2名称: _____。

【和平与发展】

材料二 2017年,习近平在联合国总部发表题为《共同构建人类命运共同体》的演讲,他回首最近100多年的历史,谈到人类经历了血腥的热战、冰冷的冷战,尤其是遭受两次世界大战的劫难后,看到“那一代人最迫切的愿望,就是免于战争、缔造和平”以及“各方最殷切的诉求,就是扩大合作、共同发展”。

——摘编自李慧军《从“人类命运共同体”高度审视“家国情怀”》

(2) 依据材料二,指出两次世界大战后人类“最殷切的诉求”是什么?(1分)

材料三 19世纪中期,英国凭借机器的力量,成为“世界工厂”,逐步形成以英国为代表的欧洲主导世界的局面;后来居上的美国在20世纪大半时间主导全球;随着中国、俄罗斯、日本和欧盟等国家和国家联盟的实力不断增强,目前世界正处于“群雄竞起的时代”。

(3) 依据材料三及所学,“群雄竞起的时代”指当今世界处于什么样的政治发展趋势?(1分)

【改革与民生】

材料四 1933年,罗斯福就任美国总统,宣布实行新政。他采取一系列改革措施,大力加强国家对金融、农业、工业、社会救济、公共工程以及财政等方面的干预……1935年,美国国会通过了《社会保障法》,内容包括:养老金制度;失业保险制度;向残废、无谋生能力者提供救济。

——摘编自《世界历史教师教学用书》

(4) 依据材料四，说出罗斯福政府改革社会保障内容主要有哪些？（3分）

(5) 依据材料四及所学，概括罗斯福新政的特点。（2分）

34. (10分) 2016年，“长城文化带”的建设列入北京市“十三五”发展规划的重点项目。某中学在暑假组织了长城文化带的史迹考察活动。

【收集前期资料】

材料一 长城文化带即八达岭—居庸关—慕田峪—司马台—古北口—将军关长城一线及周边区域，辐射首都西、北部行政区，即平谷、怀柔、密云、延庆、昌平及门头沟区。

长城横贯中国，大约都在400毫米降水线附近，这正是农耕和游牧的自然分野。北京长城最早可追溯到战国时期，长城的修筑随着封建王朝后期京城地位的确立而变得尤其重要。北京地区自古就是我国中原文化与北部草原游牧文化的连接地带，最早在3000多年前的周王朝时期燕国就在这里营建了都城——蓟城，这是北京地区最早建立的城市，正是这时开始修筑长城。秦始皇统一中国后，在北京地区沿用燕、赵两国的旧长城，并与其它国家的长城连接起来。从古至今，其修筑延续二千多年，尤其是到了明朝更是对京师的外围防御格外重视，为保卫京城安全长城修筑的尤为坚固，从长城修筑的情况就可以明显发现比其他地区的更为精致。

——摘编自王哲《北京长城文化展示带构建研究》

(1) 依据材料一，对以下表述做出判断：直接从材料中得出的，在括号内划“√”；违背材料所表达意思的，在括号内划“×”；材料没有涉及的，在括号内划“○”。（4分）


- ① 长城是中原农耕文化与北部游牧文化的分界线 ()
- ② 北京地区的长城最早自秦朝开始修筑 ()
- ③ 明长城是北京地区保存最完整的长城 ()
- ④ 明朝长城北京段是万里长城的精华部分 ()



【确定考察路线】

表一 历史遗迹遗存分类表

历史遗迹遗存分类					
① 古文化遗址	② 古建筑及寺庙	③ 古墓葬	④ 石窟寺及石刻	⑤ 近现代重要史迹	⑥ 其他

表二 北京市各区长城周边历史遗迹遗存（部分）

所在区段	周边历史遗迹遗存	具体说明	分类
平谷区	 上宅遗址	距今约六千至八千年，是北京地区迄今发现最早的原始农业萌芽状态的新石器时代文化。	①

门头沟区	 潭柘寺	始建于西晋永嘉元年（公元307年），是佛教传入北京地区后修建最早的一座寺庙。	
昌平区	 十三陵	明十三陵建于1409~1645年，是中国乃至世界现存规模最大、帝后陵寝最多的一处皇陵建筑群。	③
延庆区	 京张铁路	京张铁路为詹天佑主持修建并负责的中国第一条铁路，1905年9月开工修建，于1909年建成。	⑤
密云区	 古北口战役阵亡将士墓	1933年，国民革命军十七军，防守北平城的东北大门古北口，与日本关东军展开了一场殊死搏杀，是长城抗战中最惨烈的一场战役。	

(2) 根据表一，补充表二“分类”所缺内容（填序号）。（2分）

(3) 依据表二内容，选择北京长城文化带其中的一个区段作为考查内容，并说明理由。（2分）

示例：我选择北京长城文化带密云区段。因为古北口战役是长城抗战的重要组成部分，反映了九·一八事变后抗日救亡运动的高涨。考察这个地区，亲历抗战遗址，激发爱国情怀。

【记录考察笔记】（部分）

考察对象： 八达岭长城
地点： 北京市延庆区军都山关沟古道北口
景点级别： AAAAA级
周边历史文物： 京张铁路青龙桥车站、木化石群
历史沿革： 建于明朝弘治十八年（1505年），共1300多里。史称天下九塞之一，是万里长城的精华。该段长城地势险峻，居高临下，是明代重要的军事关隘和首都北京的重要屏障。抗倭名将戚继光曾被调来北方，指挥长城防务。
我的感受： 1. 万里长城是我国乃至世界上最宏伟的古代建筑之一，是民族精神的象征
 2. 八达岭段长城景观宏伟、设施比较完善、文化历史内涵非常深厚。
待改进的问题： 1. 一部分来登长城的游客不了解长城的作用及由来，导游讲解的较为笼统。
 2. 景区门口的八达岭长城简介，未提及北京长城文化带。
 3. 景区一些路段的环境较差。存在乱扔废弃物的情况。

(4) 根据考察笔记中的内容及所学，结合自身实际，提出一条宣传北京长城文化带的可行性建议。（2分）（要求：符合学生身份，切实可行。）