



北京市西城区 2017—2018 学年度第一学期期末试卷

八年级地理

2018.1

试卷满分：100分 考试时间：60分钟

一、你能选对吗？（50分）

下列各小题均有四个选项，其中只有一项符合题意要求；每小题2分；请你将答案填写在下面的答题框中（使用机读卡的学校请填写在机读卡上）。

题号	1	2	3	4	5	6	7	8	9	10	11	12	13
答案													
题号	14	15	16	17	18	19	20	21	22	23	24	25	
答案													

读图1，完成1-3题。

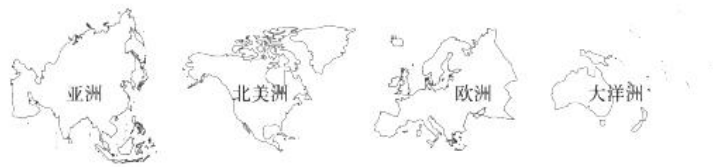


图1

- 图1中所示大洲处于同一个大陆的是
A. 亚洲、北美洲 B. 亚洲、欧洲 C. 北美洲、大洋洲 D. 欧洲、大洋洲
- 图1中所示大洲不与北冰洋相临的是
A. 亚洲 B. 北美洲 C. 欧洲 D. 大洋洲
- 亚洲和北美洲的分界线是
A. 乌拉尔山 B. 白令海峡 C. 台湾海峡 D. 巴拿马运河

2016年4月日本熊本县发生大地震后，中国网民创作出熊猫安慰熊本熊的温馨漫画（图2），体现出对日本地震灾情的关心。读图3“世界六大板块分布示意图”，完成4-6题。



图2

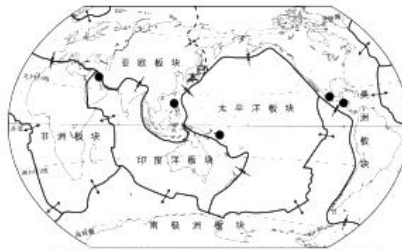


图3



4. 日本频发地震主要是由于其位于
- A. 印度洋板块与亚欧板块交界处 B. 太平洋板块与美洲板块交界处
C. 印度洋板块与美洲板块交界处 D. 太平洋板块与亚欧板块交界处
5. 2017年7.0级以上地震主要发生在
- ①板块碰撞边界 ②板块张裂边界 ③板块内部
④环太平洋地震带 ⑤地中海-喜马拉雅地震带
- A. ①②③ B. ②④⑤ C. ①④⑤ D. ①②④
6. 板块构造学说还可以用来解释
- A. 喜马拉雅山脉隆起 B. 世界气候分布特点
C. 各大洲大河的流向 D. 世界人口分布规律

读图4“世界人口纬度分布图”，完成7、8题。

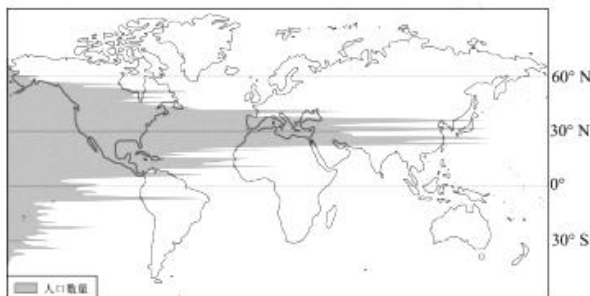


图4

7. 世界人口集中分布在
- A. 北半球中低纬 B. 北半球中高纬
C. 南半球中低纬 D. 南半球中高纬
8. 可以解释以上人口集中分布特点的有
- ①陆地面积较大 ②地形全部为平原 ③气温较为适中 ④降水量全球最多
- A. ①② B. ①③ C. ②④ D. ③④

一位网友在游记中写到：当地人建议最好11月到次年2月来这里，不然天气会太热，所以我特地安排利用新年假期来玩，但仍然常会感觉光照特别强，尤其午后气温很高，有时完全不想动。这里的主要旅游项目都与“沙”有关，象滑沙、驾驶越野车冲沙、沙漠太阳浴……旅行途中我深刻体验到了阿拉伯文化，街头有很多清真寺，如果你想要进去参观还需要换上免费发放的传统服装——长袍。据此，完成9~13题。

9. 下列气候特点的描述符合该地的是
- A. 终年高温多雨 B. 终年高温，分明显干湿季
C. 终年炎热干燥 D. 夏季高温少雨，冬季温和湿润
10. 当地的官方语言是
- A. 英语 B. 法语
C. 西班牙语 D. 阿拉伯语
11. 图5是网友换上长袍的照片，这种传统服装主要是为了适应当地
- ①气温高 ②光照强 ③风沙大 ④多暴雨 ⑤污染严重
- A. ①②③ B. ①②④
C. ②③⑤ D. ①④⑤



图5

12. 网友参观的宗教建筑，应该是



13. 网友在当地还可能看到的景象是

- A. 许多旅馆把床放在屋顶
- B. 传统民居以木结构为主
- C. 大面积种植水稻、甘蔗
- D. 传统交通主要依靠河流

人类活动会对环境产生一定的影响。读图 6，完成 14~16 题。

14. 图 6 揭示的环境问题是

- A. 雾霾
- B. 沙尘暴
- C. 臭氧层空洞
- D. 全球变暖

15. 引起该问题的主要人为原因是

- A. 狂风吹起大量沙尘
- B. 长期燃烧煤炭、石油和天然气
- C. 大量使用制冷剂
- D. 过度、无序开采矿产资源

16. 为缓解该问题，公众应参与的行动是

- A. 乘坐公共交通工具
- B. 采用节水措施
- C. 增加能源消费数量
- D. 外出自备购物袋



图 6

联合国确定“最不发达国家”主要用人均国民生产总值、制造业所占比重以及人口入学率、识字率等指标。非洲吉布提连续多年被列为“世界最不发达国家”。目前中国正在帮助当地建设港口、铁路等基础设施，2017 年 10 月 18 日中国援建的吉布提基础教育学校举行了隆重的开学典礼。据此，回答 17~20 题。

17. 确定某个国家“不发达”的指标主要有

- ① 国土面积
- ② 经济收入
- ③ 受教育水平
- ④ 资源状况
- ⑤ 产业结构

- A. ①②③
- B. ③④⑤
- C. ①②④
- D. ②③⑤

18. 除非洲外，世界上的发展中国家主要分布在

- A. 亚洲、北美洲
- B. 亚洲、南美洲
- C. 欧洲、大洋洲
- D. 北美洲、欧洲

19. 我国对吉布提的各项援建项目，体现了

- A. 南南合作
- B. 南北对话
- C. 教育扶贫
- D. 全球经济一体化

20. 我国也正在努力解决边远地区的贫困问题，主要措施有

- A. 等待国际社会援助
- B. 求助于发达国家
- C. 实施精准扶贫政策
- D. 向发达地区移民



二、你能答对吗？（50分）

26. 读图文资料，回答下列问题。（15分）

资料 2017年9月25日17时-28日17时，微信登录界面出现了罕见的“变脸”。

图9的“蓝色弹珠”是NASA在全世界范围公开的第一张完整的地球照片，图10是中国新一代静止轨道气象卫星“风云四号”观测到的卫星云图。



图9



图10

(1) 你认为图9中地球照片被称为“蓝色弹珠”的原因是_____。

图10中的卫星云图可以帮助气象部门预报_____（天气、气候）。

为了更清晰地看出照片中的陆地轮廓，老师将照片进行了处理，如图11、图12所示。



图11



图12

(2) 图11中可以看到的大洲有_____洲、_____洲、_____洲；微信团队选用该照片是希望将“人类起源”之意赋予启动页面，他们指的是图11中面积最大的_____洲，该洲中南部主要以_____人种为主。

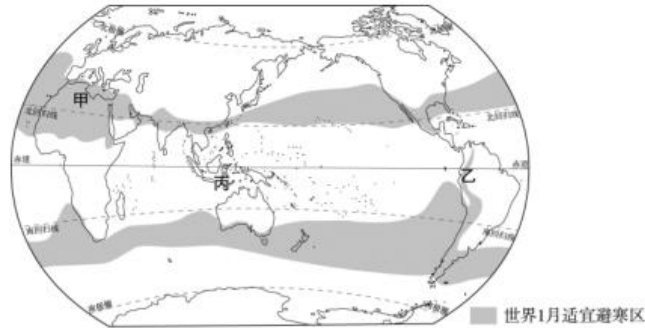
(3) 图12显示范围主要处于_____（东、西）半球，图中可以看到的大洋有_____洋、_____洋，其中甲国位于_____洲，乙国位于_____洲。

(4) “变脸”照片拍摄于2017年6月7日13时，此时甲国东部地区的气候特点是_____，乙国正处于一年中的_____（季节），这主要是由于两国所处_____位置不同造成。



27. 读图文资料，回答下列问题。(20分)

资料 到了天寒地冻的“冬三月”，人们需要“避寒，早卧晚起，必待日光”（《黄帝内经》），图13为“世界1月适宜避寒区（即1月均温10℃—22℃）范围示意图”。



(1) 世界1月适宜避寒区呈_____状分布，主要影响因素是_____。请描述避寒区在各大洲的分布_____。

(2) 从图13可以看出，终年高温的赤道附近地区仅有乙处山地气温适宜避寒，因为随海拔_____，气温会_____。

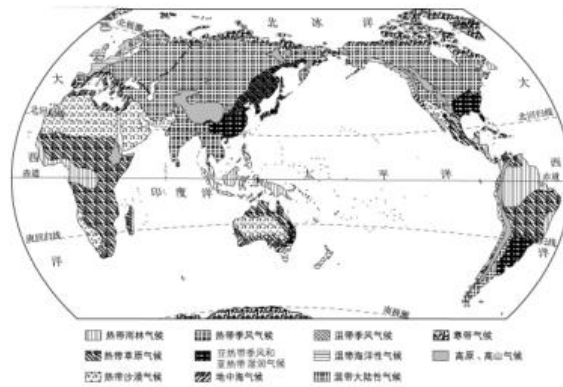


图14

(3) 结合图14“世界主要气候类型图”可知，1月适宜避寒区主要分布在热带_____气候，气候特征如图15中_____（选择填空）所示，热带_____气候，气候特征如图15中_____（选择填空）所示，亚热带_____气候，气候特征如图15中_____（选择填空）所示。



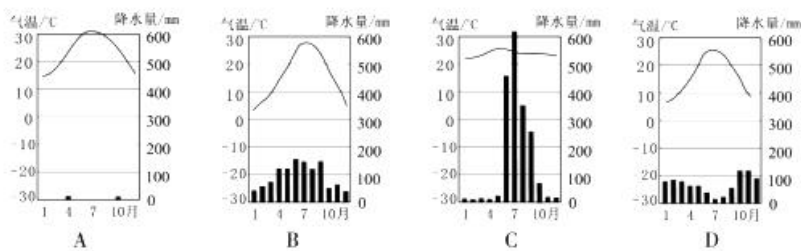


图 15

其中图 13 中甲地虽然适宜避寒区面积大，但没有发展成为国际著名避寒胜地，主要的气候原因是_____。

(4) 欧洲北部各国 1 月外出避寒人数众多，其原因是_____，他们在众多避寒地中往往会首选地中海沿岸，主要原因是_____。

(5) 1 月适宜避寒区在我国分布纬度较_____（低、高），主要集中在_____、_____、云南、广东等省，这种分布特点与冬季我国盛行寒冷的_____（风向）风有关。随着生活水平的提高，许多人选择到丙地过春节，请根据表 1 资料描述当地此时的气候特点_____。

表 1 丙地 1 月气候资料

气温 (°C)	月降水量 (mm)
27	313

28. 读图 16 “世界人口变化趋势图”和资料，回答下列问题。(15 分)

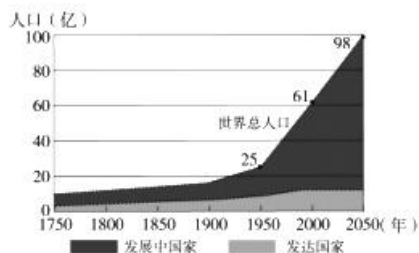


图 16

(1) 在 1950 年之前，世界人口增长速度相对_____；1950 年之后世界人口增长速度_____，在这一时段发展中国家和发达国家人口增长呈现出的不同特点是_____。

资料 2017 年 6 月联合国发布《世界人口展望》2017 年修订版报告，世界人口到 2050 年将达到 98 亿，预计世界人口增长的一半将会集中在 9 个国家：非洲的尼日利亚、刚果民主共和国、埃塞俄比亚、坦桑尼亚、乌干达，亚洲的印度、巴基斯坦、印度尼西亚，北美洲的美国。该报告预计到 2050 年，欧洲老龄人口将占该地区总人口数量的 35%。

(2) 资料显示,世界人口增长在不同地区存在着不均衡性,_____洲的人口增长最快,而_____洲的人口将会出现下降。

表2 德国和印度 2016 年基本统计数据

国家	面积 (万 km ²)	人口 (亿人)	出生率 (‰)	死亡率 (‰)	人均 GDP (美元)
德国	35.7	0.83	8	11	41936
印度	298	13.24	19	7	1709

(3) 通过学习我们知道,分析某地区人口密集程度时用_____ (指标),计算方法是_____,从表 2 可知两国人口均较_____ (稠密、稀疏)。分析某地区人口增长速度时用_____ (指标),计算方法是_____,从表 2 可知_____ (国)人口增长迅速。

(4) 从德国和印度两国中任选其一,指出该国最突出的人口问题及带来的影响,并提出相应的人口政策建议。



微信

北京中考在线
微信号: BJ_zkao北京中考在线
微信号: BJ_zkao

北京市西城区 2017—2018 学年度第一学期期末试卷

八年级地理试卷参考答案及评分标准 2018.1

一、你能选对吗？（每小题 2 分，共 50 分）

题号	1	2	3	4	5	6	7	8	9	10	11	12	13
答案	B	D	B	D	C	A	A	B	C	D	A	D	A
题号	14	15	16	17	18	19	20	21	22	23	24	25	
答案	D	B	A	D	B	A	C	C	D	C	B	C	

二、你能答对吗？（共 50 分）

26. 本题共 15 分。

(1) (2 分) 地球表面海洋面积大于陆地面积，呈现蓝色（或拍摄照片时太空船距离地球较远，地球的大小就像小孩子的玩耍的弹珠一样） 天气

(2) (5 分) 亚 非 南极 非 黑色

(3) (5 分) 东 太平 印度 亚 大洋

(4) (3 分) 高温多雨 冬季 半球

27. 本题共 20 分。

(1) (4 分) 带 纬度位置 非洲北部，亚洲南部，北美洲南部，南美洲西部、南部（任答出两个得 1 分，答出两个以上得 2 分）

(2) (2 分) 升高 降低

(3) (7 分) 沙漠 A 季风 C 地中海（或季风和湿润气候） D（或 B）降水少（或气候干旱）

(4) (2 分) 纬度高（或气温低） 距离近（或文化相近等）

(5) (5 分) 低 海南 台湾（此两空可替换：广西壮族自治区、福建） 西北 高温多雨

28. 本题共 15 分。

(1) (4 分) 较慢 较快 发展中国家人口增长数量多、速度快（或发达国家人口增长数量少、速度慢）

(2) (2 分) 非 欧

(3) (6 分) 人口密度 人口/面积 稠密 人口自然增长率 出生率—死亡率 印度

(4) (3 分)

德国 人口老龄化 劳动力不足 实施鼓励生育政策（或鼓励外来移民迁入，合理即可）

印度 人口增长过快 对资源和环境造成巨大压力 计划生育（合理即可）

