



2023 北京延庆初二一模

地 理

第一部分 2023.4

一、单项选择题（下列各题四个选项中只有一个选项符合题意。共 25 分，每小题 1 分）

林先生受邀参加一个会议，如图照片是他在前往目的地途中拍下的一个路牌。据此，完成 1~3 题。



- 1.从图中可以推断出该地（ ）
A.气候湿润 B.地广人稀 C.经济落后 D.通用俄语
- 2.若图中前方为正北方，则拍摄时间是当地的（ ）
A.上午 B.中午 C.早晨 D.下午
- 3.根据图中信息，判断该地所在的国家最可能是（ ）
A.泰国 B.卡塔尔 C.澳大利亚 D.日本

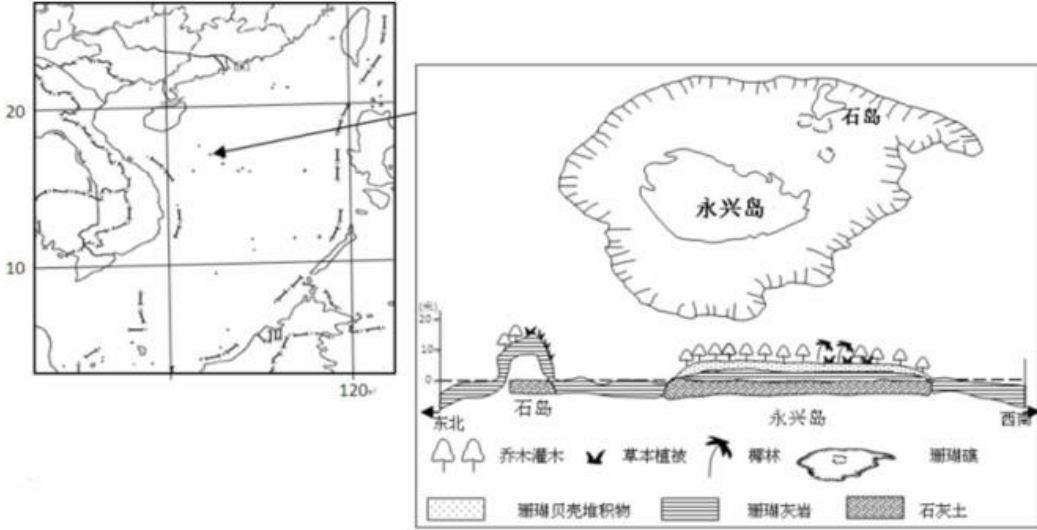
中新网 2 月 28 日电，国家统计局发布 2022 年国民经济和社会发展统计公报，2022 年末全国人口 141175 万人，比上年末减少 85 万人，其中城镇常住人口 92071 万人。全年出生人口 956 万人，出生率为 6.77%；死亡人口 1041 万人，死亡率为 7.37%；自然增长率为-0.60%。读资料，回答 4~6 题。

- 4.2022 年我国（ ）
A.人口总数快速增加 B.人口总数缓慢增加
C.人口总数不变 D.人口总数在减少
- 5.2022 年出生人数与死亡人数分别为（ ）
A.85 万；956 万 B.85 万；1041 万 C.956 万；1041 万 D.85 万；92071 万
- 6.2022 年我国人口负增长-0.60%，体现的人口问题是（ ）
A.劳动力人口比例大幅增加 B.劳动力人口比例大幅减少
C.人口老龄化加剧 D.有利于社会经济发展

《航拍中国》片头介绍：“你见过什么样的中国？是 960 万平方千米的辽阔，还是 300 万平方千米的澎湃？是四季轮回的天地，还是冰与火演奏的乐章？”据此完成 7、8 题。

- 7.“960 万平方千米的辽阔”“300 万平方千米的澎湃”说明了我国（ ）
A.邻国众多 B.海岸线曲折 C.岛屿众多 D.疆域辽阔
- 8.“四季轮回的天地”“冰与火演奏的乐章”道出了我国（ ）
A.东西距离长，时间差异大 B.大部分位于北温带，南北跨纬度广
C.大部分位于高纬度，终年严寒 D.跨寒、温、热三带，光热条件好

永兴岛面积 2.6 平方千米，它是海南省三沙市政府所在地。三沙市辖西沙、中沙、南沙群岛的岛礁和海域。读图，回答 9~11 题。



9. 永兴岛位于我国 ()
 A. 渤海 B. 黄海 C. 东海 D. 南海
10. 岛上有热带植物是 ()
 A. 杨树 B. 松树 C. 椰林 D. 珊瑚礁
11. 来永兴岛度假, 你可以享受 ()
 A. 斑斓的彩叶 B. 阵阵的松涛 C. 阳光、沙滩 D. 无垠的草原

京唐、京滨城际铁路于 2022 年 11 月 26 日开始全线运行试验。两条城际铁路线起自北京站, 终至河北唐山和天津滨海, 设计时速 250—350 公里/小时。如图为“京唐、京滨城际铁路示意图”。据此完成 12~14 题。

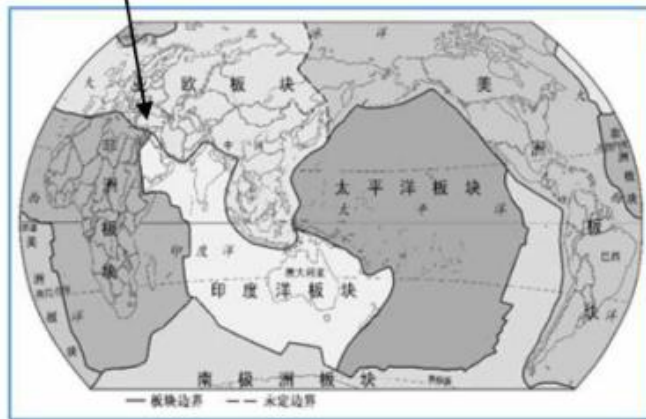
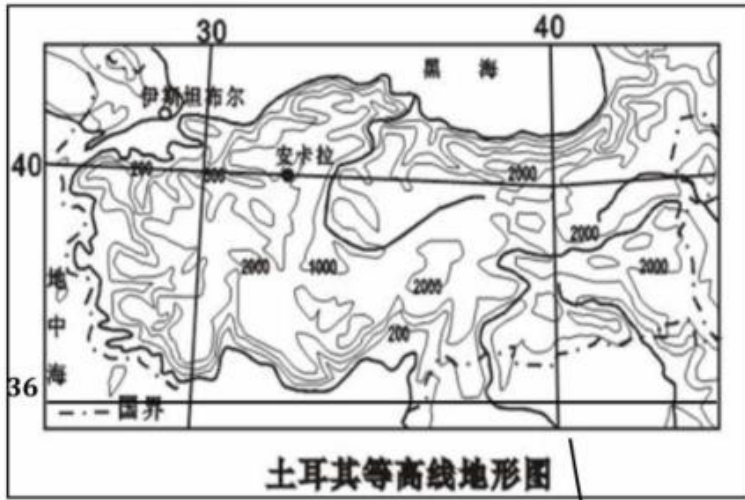


12. 京唐、京滨城际铁路正式开通后, 将有利于 ()
 ①促进沿线城市经济的发展 ②加快京津冀三省人员、物资的流动
 ③实现从门到门的运输要求 ④缓解京津冀三省的交通压力
 A. ①②③ B. ①②④ C. ②③④ D. ①②③④
13. 以下关于京唐城际铁路的叙述, 正确的是 ()
 A. 大致呈东北—西南走向 B. 加强了北京市内各城区之间的联系
 C. 连接了京、冀、津省级行政区 D. 途经城市人口均形成特大城市
14. 往返于北京和唐山的上班族, 与开车相比, 乘坐城际高铁 ()
 A. 受天气影响程度减小 B. 增加了通勤时间
 C. 乘坐舒适度减小 D. 可以自由选择出行时间

北京时间 2023 年 2 月 6 日 9 时 17 分, 土耳其发生 7.8 级地震, 震源深度 20 千米, 震中位于 37.15°



N, 36.95° E。读图，回答 15~17 题。



15.土耳其 ()

- A.跨亚洲和非洲 B.东临地中海 C.以高原为主 D.属南温带国家

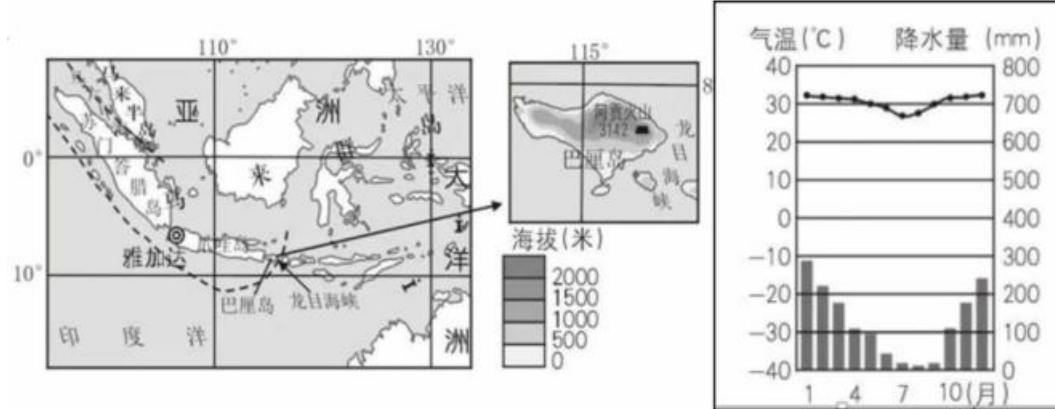
16.这次地震的震中位于 ()

- A.位于该国的西南部地区 B.靠近该国南国界
C.属于低纬度地区 D.是临海地区

17.土耳其发生此次地震的大致原因是 ()

- A.位于亚欧板块和非洲板块的张裂带上 B.位于亚欧板块和印度洋板块的张裂带上
C.位于非洲板块和印度洋板块的挤压带上 D.位于亚欧板块、印度洋板块和非洲板块的交界处

印度尼西亚是我国的海上邻国。图为印度尼西亚及周边区域和主要岛屿以及当地气候图等资料。读下图，回答 18~20 题。



18.巴厘岛纬度位置大致在_____附近，属于_____带 (五带)



- A.在 10° 附近，地处温带 B.北纬 10° 附近，地处温带
C.南纬 10° 附近，地处热带 D.在赤道附近，地处热带

19.中国游客去巴厘岛旅游最佳的月份是（ ）

- A.12月；1月 B.7月；8月 C.4月；5月 D.9月；10月

20.巴厘岛有美丽的海岛风光，再加上当地独特而古老的印度教等文化资源，使其成为著名的旅游胜地，下列哪张景观图来自巴厘岛（ ）



G20 峰会是一个国际经济合作论坛，由原八国集团（美国、英国、法国、德国、日本、意大利、加拿大和俄罗斯）以及其余十二个重要经济体（中国、印度、巴西、土耳其等）组成。2022 年 11 月 15 日至 16 日，二十国集团领导人第十七次峰会在印度尼西亚的巴厘岛举行，峰会主题为“共同复苏、强劲复苏”。阅读资料，回答 21、22 问题。

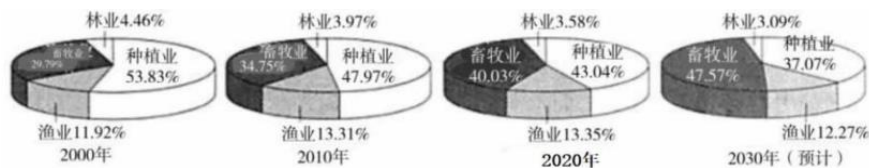
21.G20 峰会属于（ ）

- A.南北对话 B.南南合作 C.世贸组织 D.欧洲经济共同体

22.G20 峰会是世界关注焦点。我们想在地图上查找各成员国的位置，最好查阅（ ）

- A.世界气候图 B.世界城市图 C.世界地形图 D.世界政区图

农业是我们的衣食之源、生存之本。读中国农业结构变化统计图和《中国农业展望报告（2020—2029）》摘要（节选），完成 23~25 题。



《中国农业展望报告（2020—2029）》

未来 10 年稻谷产量将稳定在 2 亿吨以上，年均增长 0.6%，小麦总产量年均增长 0.13%，玉米产量年均增长 2.7%，绿色、生态、优质、安全的农产品生产和供给明显增加。14 亿中国人的饭碗牢牢端在自己手中。

23.读图，从 2000 年到 2030 年，我国农业结构中比例减少最多的是（ ）

- A.畜牧业 B.林业 C.渔业 D.种植业

24.在种植业中，我国稻谷、小麦、玉米三大粮食作物产量稳步增长，可能是因为（ ）

- A.人口数量持续下降 B.农业科学技术进步
C.耕地面积大幅增加 D.粮食需求越来越少

25.为确保粮食生产所需要的耕地资源，我们应该（ ）

- A.严格保护耕地 B.大力围湖造田 C.退耕还林还草 D.控制城市发展

二、综合题（共 4 道大题，45 分。请将正确答案答在答题纸上）

26.（11 分）卡塔尔世界杯揭幕战在 2022 年 11 月 21 日打响，决赛于当地时间 12 月 18 日晚 18 时在卢塞尔体育场进行，这将是世界杯历史上首次于冬季举行。图 9 是卡塔尔所在地区图，图 10 是卡塔尔气温曲线降水量柱状图，图 11 是卡塔尔世界杯吉祥物示意图，读图回答下列问题。

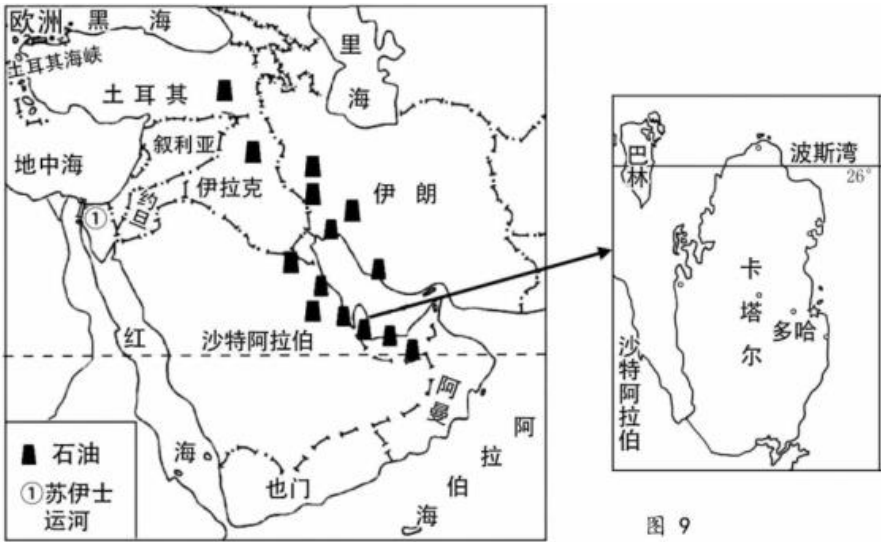


图 9

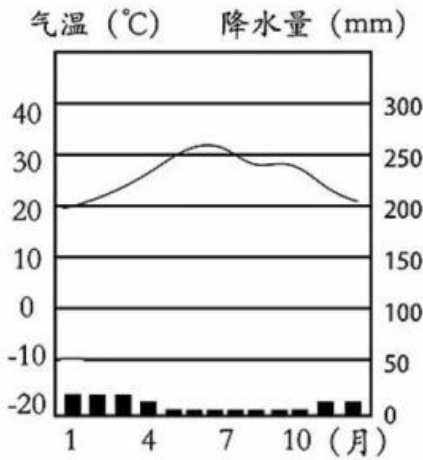
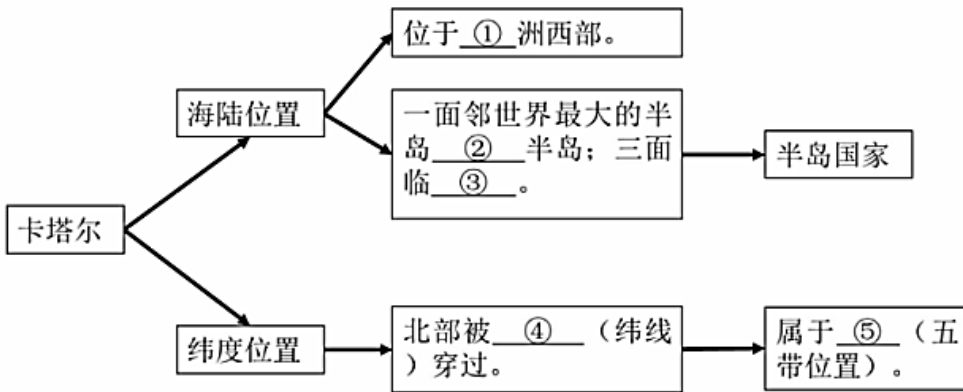


图 10



图 11

(1) 认识卡塔尔的位置



(2) 认识卡塔尔的气候

阅读图 10 可知，卡塔尔的气候特征是_____，属于_____（气候类型）；结合气候资料谈谈你对“这是世界杯历史上首次于冬季举行。”的理解。

(3) 认识卡塔尔的文化

图 11 中可以看到两种文字，一种是_____（使用人数最多/使用范围最广）的英语，一种是当地人通用的阿拉伯语。阅读图 10 可知，卡塔尔人民信奉_____（宗教）。

卡塔尔世界杯决赛场馆卢塞尔体育场，就由中国铁建国际集团承建。中国铁建汇聚了全球 20 多个国家 110 家企业，7000 多名建设者，历时 2118 天，打造出建筑面积 19.5 万平方米、可容纳 92000 余人的卢塞

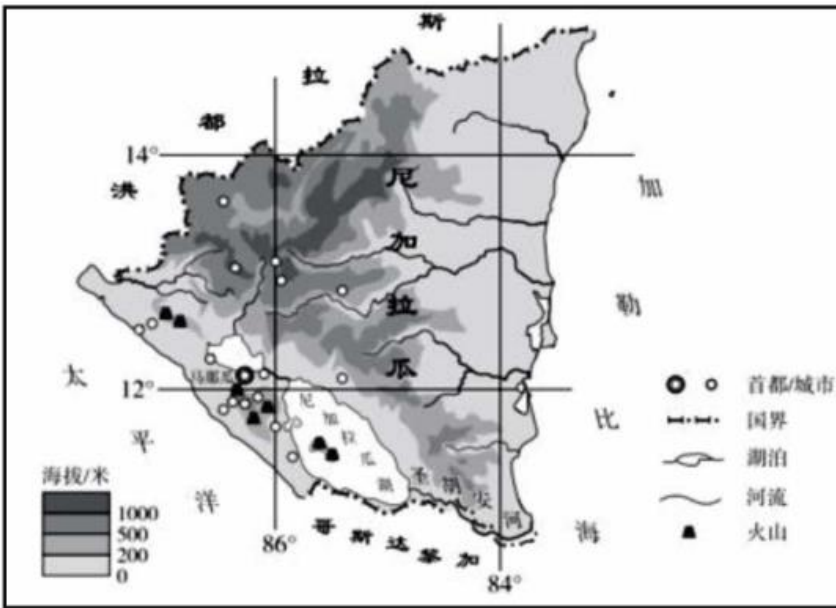


尔球场。

(4) 阅读上面材料, 可知我国和卡塔尔之间的国际经济合作形式包括_____。

- A. 工程承包
- B. 土地合作
- C. 经济援助
- D. 政策协调

27. (11分) 尼加拉瓜的尼加拉瓜湖曾是太平洋伸进中美洲大陆的一个海湾, 随着岁月流逝, 封闭成湖, 并由咸水湖逐渐变成淡水湖。读图, 回答下列问题:

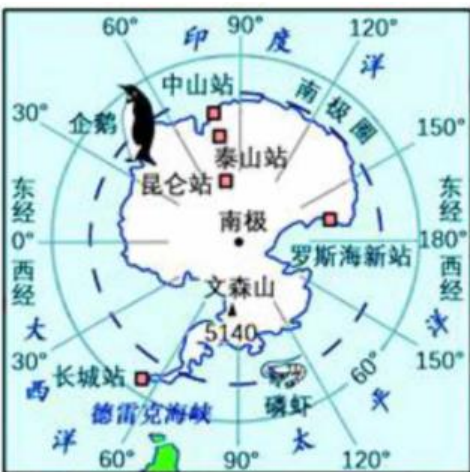


(1) 尼加拉瓜的河流主要分布在本国的_____ (方位)。尼加拉瓜地势_____ 高 _____ 低。因此河流流向是自_____ 向_____ 方向流动。

(2) 尼加拉瓜地处_____ 纬度, 属于五带中的_____ 带地区。是 (_____ ; _____) 半球的国家。

(3) 本地区太平洋沿岸多 _____, 地处地壳板块 _____ (稳定; 活跃) 地带。

28. (15分) 在多数人的印象中, 南极是个梦一般的存在。这个极致的冰雪世界仍然牵动着许多人的心。今天, 我们来揭开南极的面纱, 为大家做一个南极旅行的科普。



(1) 家住延庆的小孟同学要参加南极科考旅行, 大家帮他确定时间为_____ 月 (单项选择) 出发最合适。说明原因 _____。

- A. 11月
- B. 5月
- C. 7月
- D. 9月

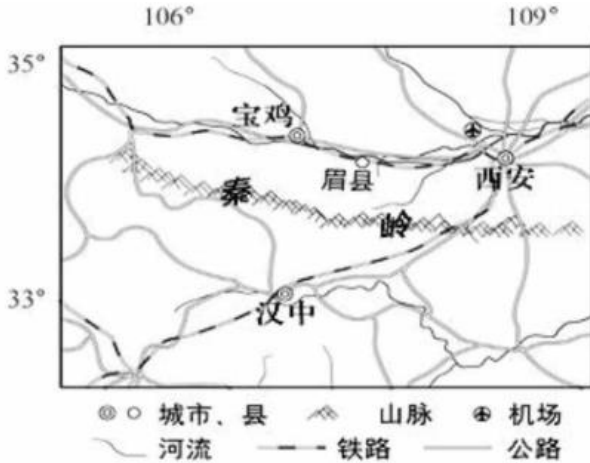
(2) 请给小孟同学挑选一下旅游装备: (5分) 连帽羽绒服、连衣裙、冲锋衣、防晒霜、护目镜、睡袋、驱蚊剂、银行卡、遮阳伞。(选5个正确的即可)



(3) 小孟如果去南极，可以先到我国距离其它大陆最近的_____考察站。在这里我们可以了解科考知识，看到大量热情的南极主人_____。登上南极大陆可以看到覆盖着厚厚的_____，让它像极了外星球。还可能在考察过程中遇见_____（多项选择）。

- A.蓝色的冰山 B.缺乏饮用水 C.受到熊攻击 D.患上雪盲症
 E.落入冰裂缝 F.极昼 G.酷寒 H.烈风
 I.海豹 J.极夜

29. (8分) 读下图，秦岭周边区域示意图和材料，完成下列问题。



猕猴桃

猕猴桃属于阔叶果树，喜光，喜湿怕旱，喜水怕涝。宜土壤深厚，湿润疏松，排水良好处栽种。原产地在湘西地区，它们的野生种类分布很广，北方的陕西、甘肃和河南，南方的两广和福建，西南的贵州、云南、四川以及长江中下游地区各省都有，尤以长江流域最多。

1977年—2000年汉中、西安平均气温统计资料

	1月	2月	3月	4月	5月	6月	7月	8月	9月	10月	11月	12月
西安	-0.1	2.9	8.1	14.7	19.8	24.8	26.6	25.3	19.9	18.9	6.9	1.3
汉中	2.4	4.3	9.2	15.2	19.6	23.3	25.2	25.0	20.1	14.8	8.7	8.6

(1) 冬季气温西安比汉中_____，两地中气温年较差大的是_____。汉中为秦岭以南，秦岭对冷空气有明显的阻挡作用，气温_____。

(2) 秦岭是我国重要的生态安全屏障，我国多条河流的发源地。近年来森林覆盖率逐年提高，河流径流量季节变化和年际变化减少，水位变化_____，河流含沙量_____。

(3) 陕西眉县被誉为“中国猕猴桃之乡”。其位于秦岭的_____坡，光照较弱，气温较低，蒸发量较小。气候阴凉湿润，位于山麓地带，土壤深厚，山地地形利于_____，靠近_____，灌溉便利。



参考答案

一、单项选择题（共 25 小题，每小题 1 分，共 25 分）

题号	1	2	3	4	5	6	7	8	9	10
答案	B	A	C	D	C	C	D	B	D	C
题号	11	12	13	14	15	16	17	18	19	20
答案	C	B	C	A	C	B	D	C	A	B
题号	21	22	23	24	25					
答案	A	D	D	B	A					

二、综合试题：（共 4 题，共 45 分）

26.（每空 1 分，共 11 分）

- (1) 亚 阿拉伯 海 26°N 北温带 (5 分)
- (2) 全年炎热干燥 热带沙漠气候 合理即可 (3 分)
- (3) 适用范围最广 伊斯兰 (2 分)
- (4) A (1 分)

27.（每空 1 分，共 11 分）

- (1) 东部 西 东 西 东 (5 分)
- (2) 低 热 北 西（位置可互换） (4 分)
- (3) 火山 活跃 (2 分)

28.（每空 1 分 共 15 分）

- (1) A 南北半球季节相反/南半球暖季 (2 分)
- (2) 连帽羽绒服 冲锋衣 防晒霜 护目镜 睡袋 (5 分)
- (3) 长城 企鹅 冰雪 ABDEFGHI（任意 5 个） (8 分)

29.（每空 1 分 共 8 分）

- (1) 低 西安 较高 (3 分)
- (2) 小 减小 (2 分)
- (3) 北 排水（河流/水源） (3 分)