

门头沟区 2019 年初三年级综合练习（一）

道德与法治 试卷



考生须知

1. 本试卷共 9 页，分为两部分，第一部分为选择题，20 道题，共 40 分；第二部分为非选择题，6 道题，共 50 分。
2. 请将条形码粘贴在答题卡相应位置处。
3. 试卷所有答案必须填涂或书写在答题卡上，在试卷上作答无效。请使用 2B 铅笔填涂，用黑色签字笔或钢笔作答。
4. 考试时间 90 分钟，试卷满分 90 分。

第一部分 选择题（共 40 分）

本部分共 20 小题，每小题 2 分，共 40 分。在每小题列出的四个选项中，选出最符合题目要求的一项。

1. 2018 年感动中国人物王继才，26 岁接受了位于我国黄海前哨的开山岛守岛任务，从此与妻子以海岛为家，与孤独相伴，在没水没电、植物都难以存活的孤岛上默默坚守 32 年，把青春年华全部献给了祖国的海防事业。对此，以下观点不正确的是



- A. 王继才夫妇践行了爱国、敬业的社会主义核心价值观
 - B. 王继才夫妇自觉履行了维护祖国安全的义务
 - C. 勇于承担责任能够赢得社会广泛认可
 - D. 实现人生价值不能追求个人利益
2. “坚持推动构建人类命运共同体”作为新时代坚持和发展中国特色社会主义的基本方略之一在写入党章后，十三届全国人大第一次会议通过宪法修正案，又将其写入宪法序言部分。我国坚持推动构建人类命运共同体是因为

- ①世界各国、各地区相互影响、相互依存，成为休戚与共的利益共同体
- ②我国作为世界强国，应该承担起维护世界和平与发展的职责
- ③国际社会必须合作，才能共同应对人类面临的诸多共同挑战，实现共同发展
- ④我国高举和平、合作和发展的旗帜，在国际社会中履行着一个大国的责任

A. ①②③

B. ①②④

C. ①③④

D. ②③④

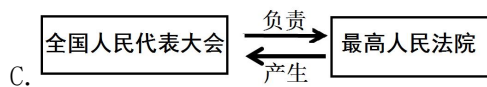
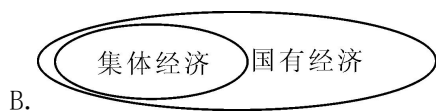
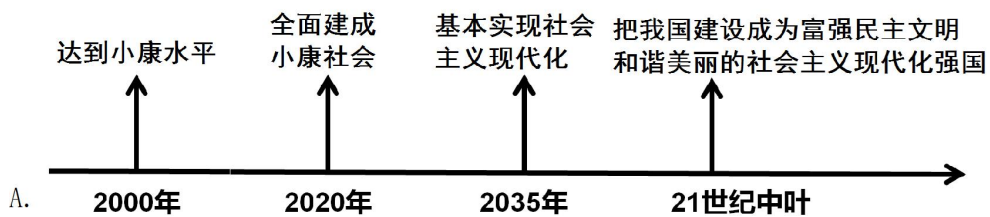
3. 我国宪法宣誓制度规定，凡经人大及其常委会选举或者决定任命的国家工作人员正式就职时需公开向宪法宣誓。这表明

- A. 宪法是制定普通法律的依据和基础
- B. 普通法律不得与宪法相抵触
- C. 宪法制定和修改的程序最为严格
- D. 宪法是一切组织或者个人的根本活动准则

4. 中华民族是礼仪之邦；自古就倡导“为人子，方少时，亲师友，习礼仪。”我们将“习礼仪”作为人生必修课是因为

- A. 习礼仪有助于提升个人的道德修养
- B. 习礼仪能够杜绝违法犯罪的发生
- C. 礼仪教育是伟大民族精神的核心内容
- D. 礼仪教育是我国文化建设的基础工程

5. 绘制图表、思维导图、示意图等可以理解所学观点、明晰概念之间的关系。下列图示正确的是



D. 党的基本路线 决定 基本国情

6. 2018年12月4日，我国迎来了第五个“国家宪法日”。随着宪法地位的进一步凸显，接下来可通过完善宪法监督，宪法解释等机制建设，让宪法真正的“火”起来，用起来。在我国，行使监督宪法实施职权的国家机关是

- A. 中央军事委员会
- B. 全国人民代表大会及其常务委员会
- C. 国务院
- D. 国家监察委员会



7. 在第 53 届苏州世乒赛女单决赛中，中国选手丁宁在 0:2 落后且右脚扭伤的情况下，“希望能战斗到最后”的强烈信念使她越战越勇，最终斩获冠军。这启示我们

- A. 人生难免有挫折，经历挫折就能成功
- B. 面对挫折要迎难而上，开拓进取
- C. 挫折给人带来损失和痛苦
- D. 不同的人面对挫折有不同的反应

8. 尊师是中华民族的传统美德。下列成语典故体现这一美德的是



A. 程门立雪



B. 闻鸡起舞



C. 负荆请罪



D. 卧薪尝胆

9. 在重庆沙坪坝区天陈路 58 号附近，有一个与众不同的报摊，它无人看守，需要购买报纸的市民，只需往摊位上敞开的纸盒里投钱，自行取报即可，两年多来从未差过钱。这向社会传递的正能量是

- A. 与人为善
- B. 诚实守信
- C. 宽以待人
- D. 见义忘利

10. 进入初中，同学们在学习上存在差异，下列对学习差异产生原因的分析中，恰当的是

- ①能否主动学习，做学习的管理者
- ②能否积极探索适合自己的学习方法
- ③能否买更多的学习资料，比别人花更多的时间学习
- ④能否科学制定学习计划，提高学习效率

A. ①②③

B. ①②④

C. ①③④

D. ②③④



11. 在国家规定的第一批媒体报道禁用词中，对有身体伤疾的人士不使用“残废人”“瞎子”“聋子”“傻子”“呆子”“弱智”等蔑称词语，而应使用“残疾人”“盲人”“聋人”“智力障碍者”等词语。这体现了尊重公民的

- A. 人格尊严权
- B. 姓名权
- C. 生命健康权
- D. 隐私权

12. 针对“自尊自信”话题的讨论，同学们有不同的观点，以下观点中你认同

- ①小鹏：人贵有自知之明，我的学习成绩不好，但我已找到原因，那就是我太笨了
- ②小袁：老师今天批评我是有原因的，我学习成绩差，体育再好也没用
- ③小彤：我不漂亮，但我很喜欢自己，因为我学习很勤奋，关心集体，乐于助人
- ④小宇：我目前没有特长，但我从现在起培养兴趣爱好还来得及，我觉得我们应该相信自己，

同时要增强自己的实力

- A. ①②
- B. ①④
- C. ②③
- D. ③④

13. 2017年《新疆人权事业的发展进步》白皮书指出：长期以来，中央始终高度重视新疆工作，采取切实有力举措，发展经济，改善民生，增进人民福祉，促进民族团结进步，保障各族人民基本权利。新疆的发展变化得益于

- ①民族区域自治制度
- ②中国共产党的正确领导
- ③“一国两制”的基本方针
- ④民族平等团结互助和谐的新型民族关系

- A. ①②③
- B. ①②④
- C. ①③④
- D. ②③④

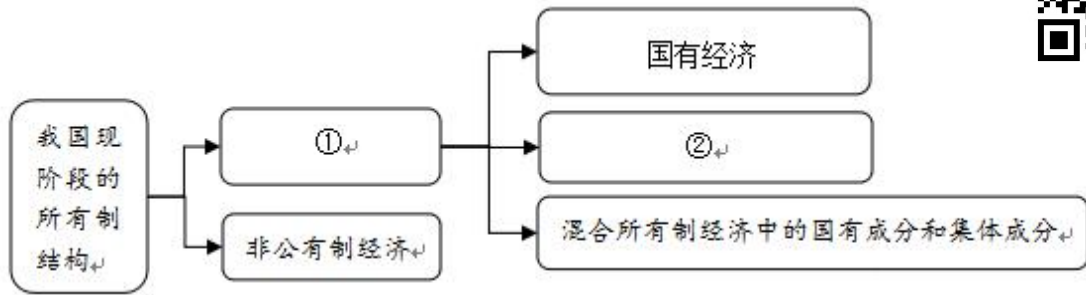
14. 针对下表中的“微行为”，最恰当的“微点评”是

序号	微行为	微点评
①	有序停放共享单车	遵守公共秩序
②	公共汽车上主动为孕妇让座	关爱他人
③	向有关部门反映学校周边黑网吧问题	尊重社会公德
④	男生帮上台表演的女生搬乐器	超出男女同学正常交往的尺度

- A. ①②
- B. ①③
- C. ②④
- D. ③④



15. 以下是小崔同学复习时做的思维导图，其中①和②依次应填的内容是



- A. 公有制经济 私营经济
- B. 集体经济 私营经济
- C. 公有制经济 集体经济
- D. 集体经济 个体经济

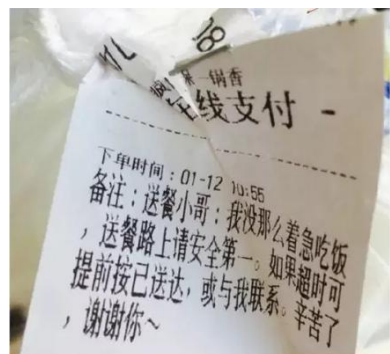
16. 2018年10月23日，被誉为“21世纪第八大奇迹”的港珠澳大桥正式开通。大桥在建设过程中面临着重大的技术难题，设计施工团队攻坚克难、自主研发了31项创新工法、31套海洋创新装备、13项创新软件、提交了454项专利申请，在多个领域填补了空白，造出了世界上最难、最长、最深的海底公路沉管隧道，形成了拥有自主知识产权的核心技术。港珠澳大桥建成通车，其背后的原因有

- ①科教兴国战略、人才强国战略、创新驱动发展战略的实施
- ②伟大的中华民族精神的激励
- ③改革开放使我国综合国力不断提升
- ④积极引进发达国家的先进技术

- A. ①②③
- B. ①②④
- C. ①③④
- D. ②③④

17. “送餐小哥：我没那么着急吃饭，送餐路上请安全第一。如果超时可提前按已送达，或与我联系。辛苦了，谢谢你……”某网友在朋友圈中晒出了一张外卖订单，网友们纷纷点赞。下列语句与上述材料所蕴含的道理一致的是

- ①对人守信，对事守诺
- ②换位思考，互相尊重
- ③理解他人，与人为善
- ④良言一句三冬暖，恶语伤人六月寒



- A. ①②③
- B. ①②④
- C. ①③④
- D. ②③④

18. 当前网络中流行的“抖音”“快手”“火山小视频”“网络直播”“微视”“V聊”……在丰富我们日常生活的同时，一些低俗的、不道德的甚至违法的行为时有发生。这启示我们在网络生活中应该

- ①提高辨别是非和抗拒不良诱惑的能力
- ②充分学习,广泛交友,有益无害
- ③遵守道德和法律的规定
- ④正确认识网络的两面性,发挥其积极作用

A. ①②③ B. ①②④ C. ①③④ D. ②③④

19. 针对私家车乱停乱放给人们的出行和生活带来不便的问题,有同学提出用小刀给违规停放车辆划上一道,以教训违规停放车辆的车主。对此问题,认识正确的是

- ①车辆乱停乱放是违背公德的表现
- ②这一惩罚建议是正义的,应该肯定
- ③做任何事情都要以不危害他人和社会的利益为前提
- ④做事不可任性,要有规则意识

A. ①②③ B. ①②④ C. ①③④ D. ②③④

20. 阅读下边的漫画《宅童》之后,你最想对“宅童”说的是



- ①封闭自己、脱离现实世界会使自己陷入孤立
- ②把自己“宅”在家里、闭锁自己的做法,会使自己的人际关系萎缩
- ③拒绝使用电脑网络,积极交往,才能形成良好的性格
- ④应该保持积极开放的心态,积极融入社会,接触更多的人

A. ①②③ B. ①②④ C. ①③④ D. ②③④

第二部分 非选择题（共 50 分）

21. (6分) 上学时间快到了, 小颖非常着急, 爸爸想开车送她上学, 可小颖坚决不同意, 因为爸爸喝了酒, 为此, 小颖与爸爸发生了十分激烈的争执。最后, 爸爸还是听取了小颖的建议, 放弃了开车送她上学的想法, 打了一辆出租车把小颖按时送到了学校。

资源链接 1: 新版《中华人民共和国道路交通安全法》第九十一条规定: 饮酒后驾驶机动车的, 处暂扣六个月机动车驾驶证, 并处一千元以上二千元以下罚款。

醉酒驾驶机动车的, 由公安机关交通管理部门约束至酒醒, 吊销机动车驾驶证, 依法追究刑事责任; 五年内不得重新取得机动车驾驶证。

饮酒后或者醉酒驾驶机动车发生重大交通事故, 构成犯罪的, 依法追究刑事责任, 并由公安机关交通管理部门吊销机动车驾驶证, 终生不得重新取得机动车驾驶证。

资源链接 2: 《中学生守则》规定: 按时到校, 不迟到, 不早退, 不旷课。

请运用所学知识, 借助资源链接, 任选小颖或爸爸的行为、想法予以评析。

22. (7分) 2018 年大年初一, 一张照片悄然刷爆安阳市民的朋友圈: 一位身高 1.8 米, 身穿白大褂的医生张飞跪在狭小的手术台前抢救一个出生后出现窒息的宝宝。网友们称这是 2018 年的“最美下跪”。



原来, 大年初一上午, 张飞医生得知一个新生儿出现窒息, 情况危急, 他迅速进入产房, 将孩子放在预热的保暖手术台上, 对其进行窒息复苏操作。照片中的“下跪”, 正是张飞在为孩子实施这项手术。

“当时, 他想都没想, 就双腿跪下来操作。”参与整个抢救过程的助产士申艳茹说。

经过全力抢救, 孩子终于复苏成功。在将孩子转运到新生儿科, 张飞才缓口气休息了一下, 很快又继续投入工作。

(1) 张飞医生的事迹向我们传递了哪些正能量? (2分)

(2) 请结合“最美下跪”, 谈谈你对生命价值的认识? (5分)

23. (9分) 在北京市门头沟区, 古村资源非常丰富, 门头沟区的古村落有 33 个, 占北京市古村落总量的 68%。爨底下村、灵水村、苇子水村、黄岭西村、马兰村、千军台村、琉璃渠村、三家店村、沿河城、碣石村等 10 个村为全国传统村落, 其中爨底下村、灵水村和琉璃渠村是中国历史文化名村, 爨底下村和三家店村还是市级文化保护区。



灵水村



琉璃渠村



爨底下村

近年来, 门头沟区政府也正在逐步对古村落进行保护和开发。如何挖掘并利用好古村的历史文化资源, 提升吸引力, 成为当下许多古村保护和开发中亟待正视的问题。

(1) 保护好历史文化名村等古村落有什么重要意义? (4分)

(2) 在爨底下村的开发中, 小娟同学认为应该给各四合院命名, 最好起“巴黎之春”“曼哈顿”“卢浮公馆”等洋名, 高雅又气派。请对小娟同学的观点进行点评。(5分)

24. (8分) 阅读材料, 回答问题。

2018年9月, 在永州开往深圳北的G6078次列车上, 乘客周某某上车后未按照车票上的座位号落座, 却执意坐在靠窗的别人的座位上。被占座位的乘客向乘务组工作人员投诉, 列车安全员与“霸座”乘客反复沟通, 她就是不肯坐回自己的位置。后经铁路公安介入, 对该“霸座”乘客周某某予以相应处罚(见右图)。

警情通报

2018年9月19日, 周某某(女, 32岁)乘坐G6078次列车强占他人座位且不听列车工作人员劝阻。我处经依法调查取证, 认定其行为构成“扰乱公共交通工具上的秩序”的违法治安管理行为, 根据《治安管理处罚法》第二十三条第一款第三项之规定, 对周某某处以罚款200元的行政处罚。

衡阳铁路公安处
2018年9月20日

(1) 周某某最终受到“处以罚款 200 元的行政处罚”说明了什么? (2分)

(2) 请运用所学知识, 从不同角度为解决此类“霸座”问题提出建议。(6分)

25. (8分) 三年的初中生活即将结束, 琳琳在日记中写道: “青春, 是生命旅途中一个崭新的起点, 在三年的初中学习生活中, 有许多值得回忆和反思的事情。”

回忆过去, 能让我们更好地面向未来。请认真阅读琳琳记录的两个记忆片段, 并回答问题。

片段一: 在班级中, 我和小谭是学习上的竞争对手, 又是好朋友。一次, 小谭因病耽误了半个月的功课, 我就经常利用课余时间帮助她补习功课, 因此, 小谭的学习成绩没有因生病而耽误。对此, 有的同学说我这样做有点“傻”, 但我并不这样认为。

片段二: 我从小事做起, 在家墩地、洗衣、刷碗; 常与父母谈心; 努力学习……获得了区级“最美孝心少年”荣誉称号。

(1) 请认真阅读片段一，说明琳琳这样做的理由。(4分)

(2) 请你为琳琳获得区级“最美孝心少年”荣誉称号写一段颁奖词。(4分)

26. (12分) 水是生命之源、生态之基。2016年12月，中共中央办公厅、国务院办公厅印发《关于全面推行河长制的意见》，各级党政主要领导负责的河长制在全国推行。到2018年6月底前，我国要在省、市、县、乡四级全面建立河长制。目前有的地方已在沿河村庄河道显著位置设立河长公示牌，标明河长职责、河湖概况、管护目标、监督电话等内容。许多河长还纷纷开通微信群、QQ群，接受社会监督。

河长制信息公示牌 门头沟

河湖概况：黑河沟又称门头沟，发源于官厅煤矿西部山区，由西南向东北流经西店、东店、宽街、北京矿物局门头沟煤矿等地，在西七棵树南折向东，汇入永定河，是门头沟新城境内流域面积最大的一条河流，全长10.45公里，流域面积21.58平方公里，其中门头路桥以上流域面积20.22平方公里。

管护目标：实现河湖周边无垃圾渣土、无违法排污、无新增违法建设、无水面漂浮物、无水体黑臭。

市级河长：张工（北京市市委常委、常务副市长）

监督电话：63590200

区级河长：张翠萍（门头沟区副区长）

监督电话：69846800（白天）；69803417、69843559（夜间）

镇（街）级河长：高增龙（城子街道党委书记）金涛（城子街道主任）

监督电话：69864484

村（社区）级河长：李淑芳（桥东社区支部书记）马德艳（桥东社区主任）

监督电话：18500690326、13241303243

河长职责：河长是河湖管理保护的第一责任人，负责开展门头沟突出问题综合整治。



(1) “全面推行河长制”是对哪项基本国策和战略的落实？有何重要意义？(4分)

(2) 为保护好流经我们家乡的母亲河——永定河，初中学生应有哪些实际行动？(3分)

在一次实践活动中，小陆同学发现有一家工厂偷偷地向永定河排放废水，造成河水污染。对于此事，小陆同学认为初中生年龄小，不该管，也管不了。

(3) 你是否同意小陆的观点，请阐明理由。(5分)

