

# 地理试卷

2018.6

学校 \_\_\_\_\_ 班级 \_\_\_\_\_ 姓名 \_\_\_\_\_ 考号 \_\_\_\_\_

<b>考生须知</b>	1. 本试卷共 14 页,共 90 分。考试时间 90 分钟。 2. 在试卷和答题卡上准确填写学校、班级、姓名和考号。 3. 试题答案一律填涂或书写在答题卡上,在试卷上作答无效。 4. 在答题卡上,选择题用 2B 铅笔作答,其他试题用黑色字迹签字笔作答。 5. 考试结束,将本试卷、答题卡一并交回。
-------------	---

## 第一部分 选择题(共 40 分)

本部分共 40 小题,每小题 1 分,共 40 分。在每小题列出的四个选项中,选出最符合题目要求的一项。

图 1 为历届国际地理奥林匹克竞赛举办城市分布图。读图,完成 1~3 题。

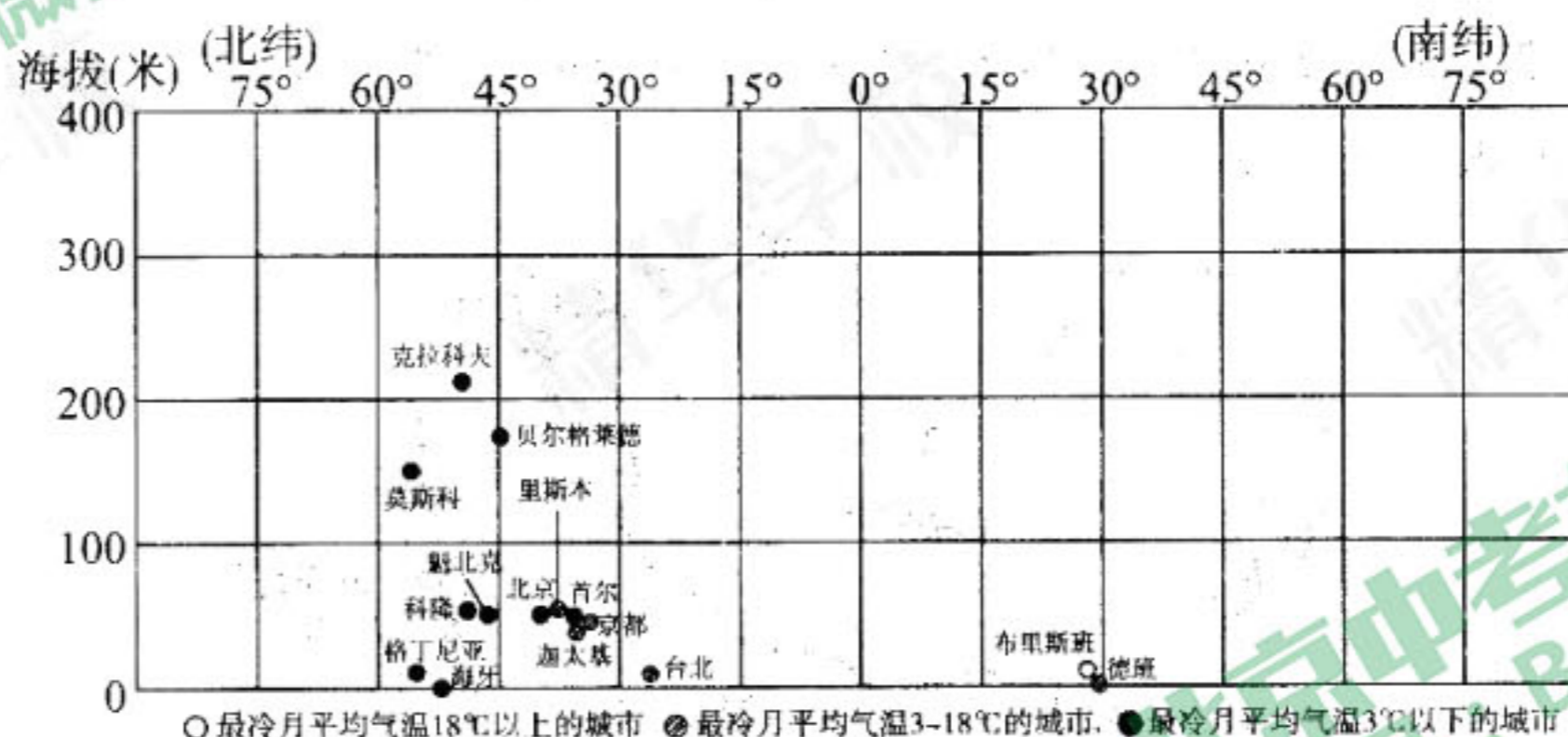


图 1

- 图中的横纵坐标(轴)表示的地理要素依次是
  - 热量带、地形
  - 经度、海拔
  - 气温、降水
  - 纬度、海拔
- 下列城市中同时符合“位于北半球、中纬度地区、海拔在 200 米以下”三个条件的是
  - 贝尔格莱德
  - 布里斯班
  - 克拉科夫
  - 德班
- 图中
  - 最冷月平均气温在 3°C~18°C 的城市数量最多
  - 位于高纬度的城市多分布在海拔相对较高的地区
  - 位于中低纬度、海拔在 200 米以下的城市最多
  - 最冷月平均气温在 3°C 以下的城市集中在高原地区



北京中轴线是指自元、明、清以来,城市建筑物东西对称布局的对称轴。它是世界古代城市建设史上罕见的奇迹,是世界上现存最长、最完整的古代城市中轴线,代表着东方文明古都规划建设最高成就。读图2,完成4~6题。

4. 北京古城的平面布局方正对称,主要得益于
- A. 平原广阔                      B. 雨热同期
- C. 河流众多                      D. 植被茂密
5. 中轴线上被列为世界遗产、现存最大的木结构宫殿建筑群是
- A. 故宫                              B. 天坛
- C. 十三陵                          D. 颐和园
6. 《北京城市总体规划(2016—2035)》提出要加强老城整体保护,保护中轴线传统风貌特色。这凸显出北京是
- A. 政治中心                      B. 文化中心                      C. 科技创新中心                      D. 国际交往中心

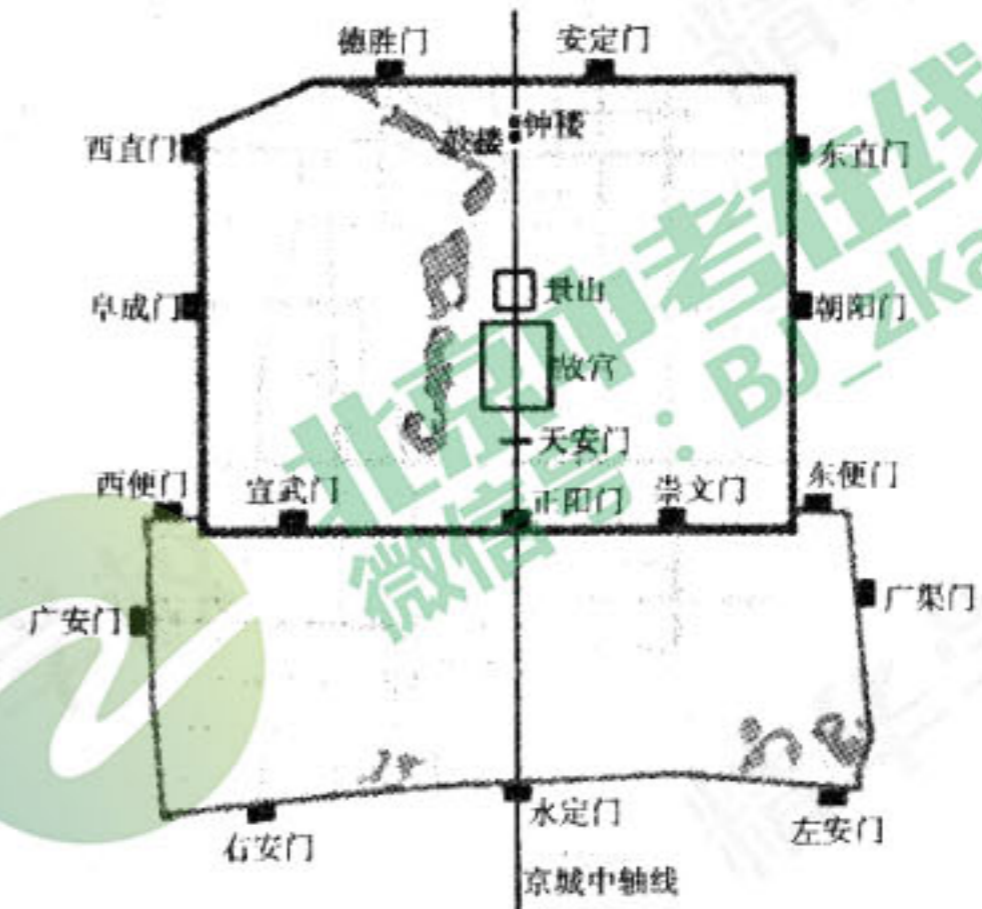


图2

中国新疆塔克拉玛干沙漠公路,是目前世界最长的贯穿流动沙漠区的高等级公路,连通了新疆资源勘探开发的主战场。读图3,完成7~10题。

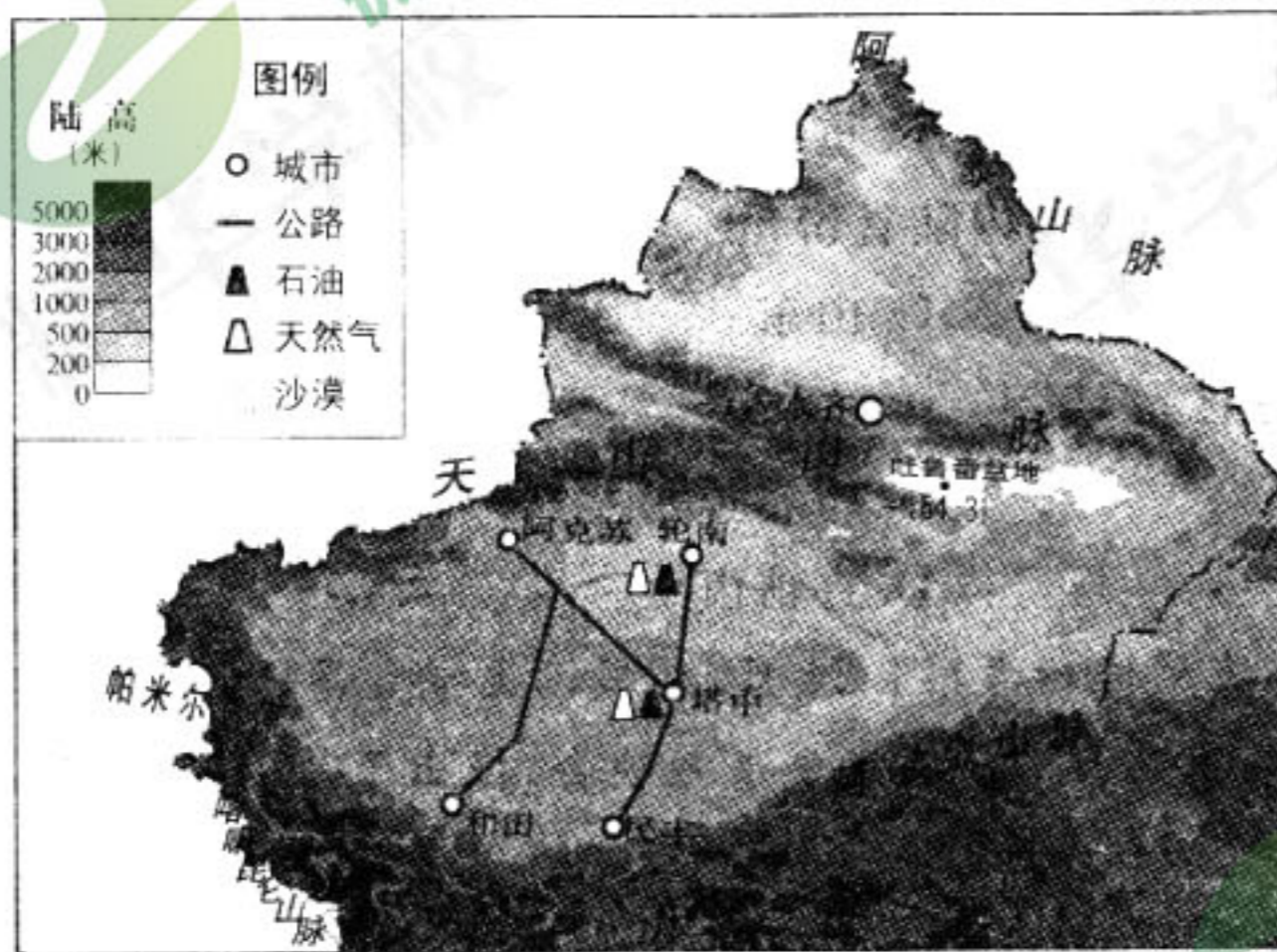



图3



7. 图中沙漠广布的原因是
- ① 纬度较低    ② 深居内陆    ③ 距海遥远    ④ 山脉阻挡水汽进入
- A. ①②③                      B. ①③④                      C. ①②④                      D. ②③④
8. 沙漠公路面临的最大威胁是
- A. 气候干旱,路面易塌陷                      B. 冻土深厚,路基易变形
- C. 流沙侵入,路面被掩埋                      D. 景色单一,易迷失方向
9. 塔克拉玛干沙漠公路的开通
- ① 提高了塔中地区油气资源开发的成本                      ② 缩短了轮南与塔中的运输距离
- ③ 促进了边疆稳定与民族团结                      ④ 成为油、气向外输出的主要方式
- A. ①②                              B. ②③                              C. ①④                              D. ③④





14. 与武汉相比,三峡水能资源丰富的原因是

- A. 河流水量大
- B. 阶梯交界处,落差大
- C. 河流流速慢
- D. 河流含沙量小

15. 习主席沿江考察过程中能看到的景观有

- A. 长江干流水位骤升
- B. 三江并流气势恢宏
- C. 洞庭湖上烟波浩渺
- D. 麦田翻滚绿波连片

16. 以下措施符合“共抓大保护,不搞大开发”理念的是

- ①迁走长江沿岸 1 公里范围内的化工厂
- ②多在长江干流上修建水电站
- ③沿岸生产生活污水达标排放
- ④退耕还林、还湿、还湖,植树造林

- A. ①②③
- B. ②③④
- C. ①②④
- D. ①③④

延安位于陕西省北部,曾经自然生态环境良好。近代以来,人们掠夺性地进行林草采伐和开荒种地,导致生态环境恶化。1999 年开始,延安市积极开展生态环境整治工作。至 2017 年底,森林覆盖率提高到 46.35%。延安还推进农村经济结构调整,大力发展苹果、草畜、棚栽等特色产品。延安市南部的洛川县以盛产苹果著称,是中国苹果外销的重要生产基地。读图 6,完成 17~19 题。

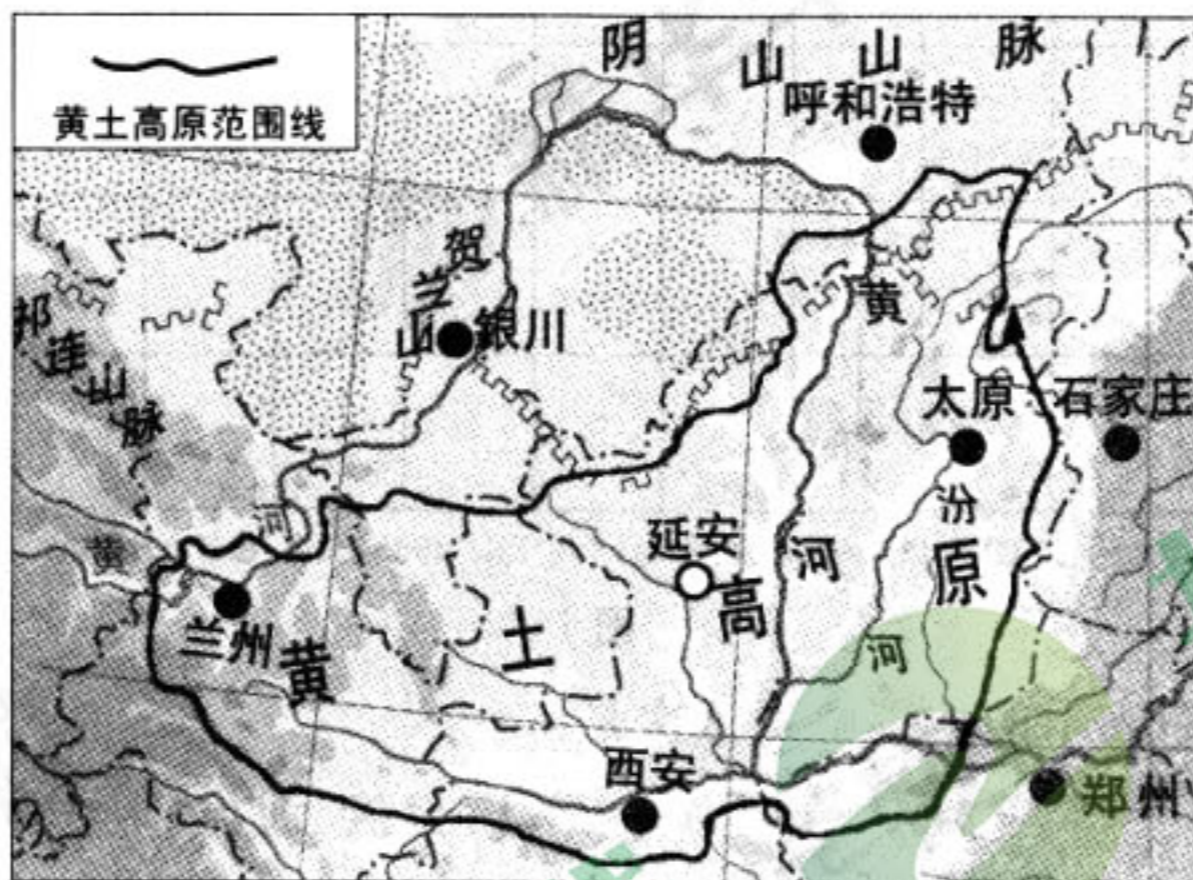


图 6

17. 洛川种植苹果有利的自然条件是

- A. 交通便利
- B. 光照少
- C. 市场广阔
- D. 昼夜温差大

18. 延安曾出现的生态环境问题是

- A. 土地沙漠化
- B. 旱涝灾害
- C. 水土流失
- D. 生物多样性减少

19. 为了整治生态环境,延安采取的措施有

- ①退耕还林
  - ②封山育林
  - ③扩大耕地面积
  - ④产业转型
- A. ①②③
  - B. ②③④
  - C. ①②④
  - D. ①③④



读图 7,完成 20~22 题。

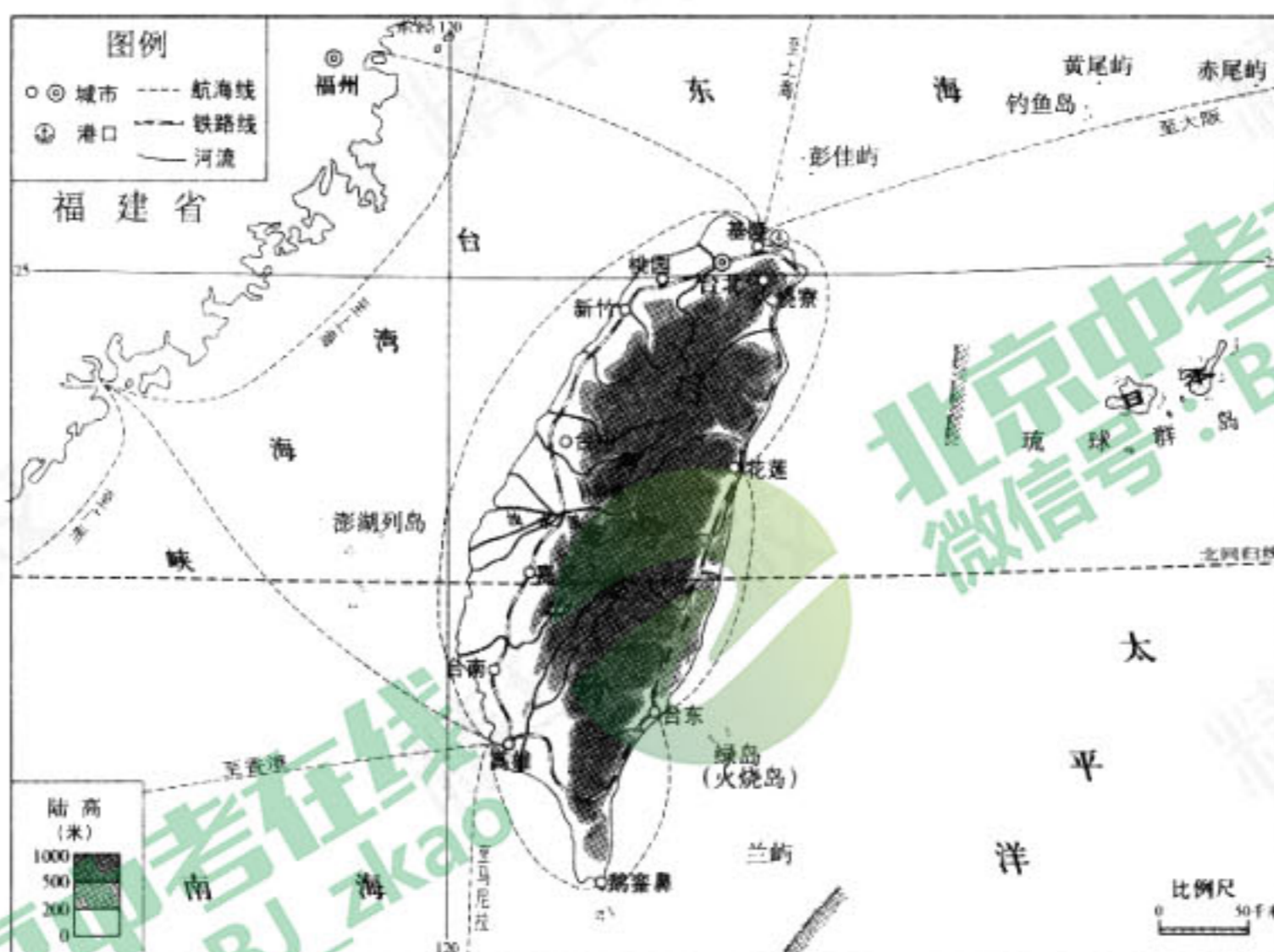


图 7

20. 最符合图 7 内容的图名是

- A. 台湾岛                      B. 台湾省                      C. 南部沿海地区                      D. 福建省

21. 图中

- A. 台北到福州的距离为 3500 千米  
B. 河流呈放射状向四周分流  
C. 平原主要分布在东部沿海  
D. 没有落叶阔叶林分布

22. 关于台湾的叙述,正确的是

- A. 城市集中分布在东南部                      B. 高山族人口占 98% 以上  
C. 铁路线呈环状分布                      D. 最大的贸易伙伴是美国

图 8 为我国重要经济作物集中产区分布示意图。读图,完成 23~25 题。



图 8



23. 图中所示,华北平原的重要经济作物有

- A. 棉花、甜菜
- B. 棉花、花生
- C. 花生、甘蔗
- D. 甜菜、油菜

24. 甜菜集中产区主要分布在

- A. 北方地区、西北地区
- B. 青藏地区、西北地区
- C. 南方地区、青藏地区
- D. 北方地区、南方地区

25. 青海省油菜花开的日期较我国同纬度地区晚,主要影响因素是

- A. 光照
- B. 降水
- C. 地形
- D. 土壤

日本动漫产业十分发达,许多猫的动漫形象家喻户晓。读图9,完成26~28题。



图9

26. 动漫产业属于

- A. 文化创意产业
- B. 农业
- C. 重工业
- D. 金融业

日本的水俣镇历史上曾出现过许多跳海的疯猫,是食用了工业废水污染的鱼所致。

27. 水俣镇位于

- A. 北海道岛
- B. 本州岛
- C. 四国岛
- D. 九州岛

28. 日本的主要工业地带分布在

- A. 日本海沿岸
- B. 太平洋沿岸
- C. 四国岛南部
- D. 北海道岛北部



自 20 世纪 70 年代起,巴西不断地推进生物能源的使用,汽车燃料主要以甘蔗为原料生产的生物乙醇为主,汽油只是辅助性燃料。目前,使用乙醇燃料的新能源汽车已达到汽车总产量的 94.4%。读图 10,完成 29~33 题。



图 10

29. 巴西甘蔗主要分布在  
 A. 平原地区                      B. 高原内部                      C. 沿海地区                      D. 河口地带
30. 巴西天然橡胶生长的有利条件有  
 ①人口稠密    ②地势平坦    ③热量充足    ④降水丰沛  
 A. ①②③                      B. ②③④                      C. ①②④                      D. ①③④
31. 生物乙醇燃料属于  
 A. 可再生资源                      B. 不可再生资源  
 C. 可在自然界中直接获取                      D. 取之不尽,用之不竭
32. 若在世界其它地区推广生物乙醇燃料,最有可能的区域是  
 A. 欧洲西部                      B. 北美  
 C. 西亚和北非                      D. 东南亚
33. 推广生物乙醇燃料的目的是  
 A. 改善环境质量                      B. 降低能耗  
 C. 增加外汇收入                      D. 提高劳动力素质

阅读表 1,回答 34、35 题。

表 1 德国产业结构变化

年代	1960	1970	1975	1980	1990	2005
产业结构比(%)						
第一产业	5.6	3.9	3.4	2.2	1.29	0.96
第二产业	53.5	57.6	47.2	44.8	33.2	30.43
第三产业	40.9	38.5	49.4	53	65.51	68.61

34. 关于表 1 叙述正确的是  
 A. 第一产业缓慢增长                      B. 第二产业缓慢增长  
 C. 第三产业持续增长                      D. 1980 年以后第三产业成为主导



德国发起的工业 4.0 计划被认为是以智能制造为主导的第四次工业革命。

35. 德国未来工业发展定位是

- A. 发展高新技术产业
- B. 发展轻工业
- C. 加大劳动力投入
- D. 开拓国内市场

图 11 为沿南纬 3° 线所作的剖面图。读图, 完成 36、37 题。



图 11

36. 图示地区位于

- A. 北美洲
- B. 大洋洲
- C. 非洲
- D. 欧洲


37. 图中③所在的地形区名称是

- A. 乞力马扎罗山
- B. 刚果盆地
- C. 埃塞俄比亚高原
- D. 东非高原

图 12 是我国某天文观测基地的等高线地形图。其右侧的照片是某天文爱好者在该地夜间采用连续多次曝光, 把不同时间的拍摄对象, 合成在一个画面里得到的影像。读图, 完成 38~40 题。



图 12



38. 图中的观测站点所处的地形部位是

- A. 山脊
- B. 山谷
- C. 陡崖
- D. 鞍部

39. 图中道路 a—b 段的走向是

- A. 南北
- B. 东西
- C. 西北—东南
- D. 东北—西南

40. 照片可以反映出

- A. 天圆地方
- B. 地球是球体
- C. 地球在自转
- D. 地球在公转





## 第二部分 非选择题(共 50 分)

41. 图 13 是 2018 年春晚四大分会场分布图, 依据图、表资料, 回答下列问题。(10 分)

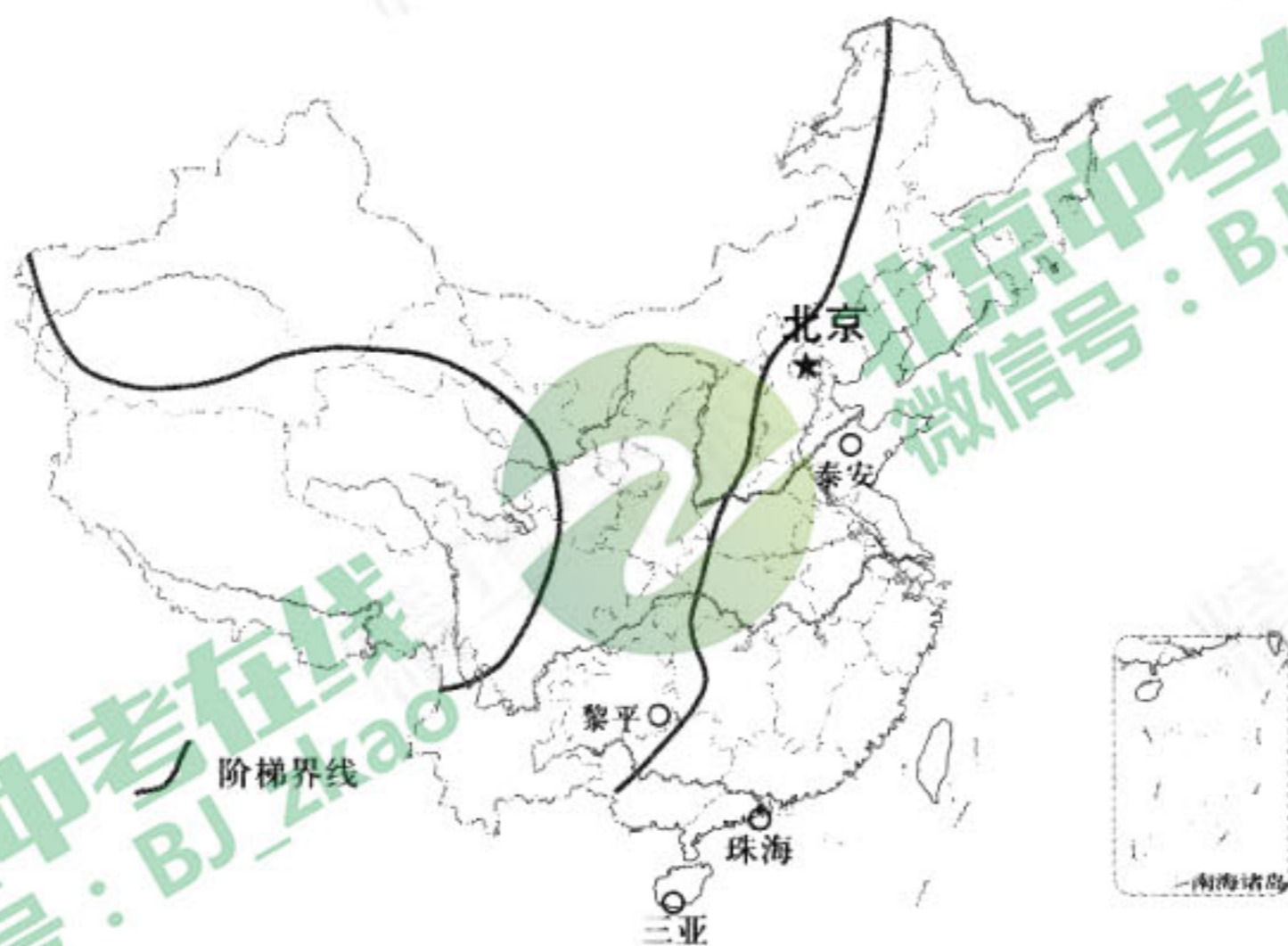



图 13

表 2 春晚分会场的入选理由

泰安	我国世界自然与文化双重遗产——泰山所在地, 寓意国泰民安
珠海	中国改革开放最早的前沿城市
三亚	以热带海滨风景为特色的国际旅游城市
黎平	以侗寨和侗族大歌最为闻名, 寓意民族一家亲

(1) 春晚四大分会场泰安、黎平、珠海、三亚与北京主会场共同演绎着新春大联欢。请将四大分会场所在地景观与其名称用线连接起来。



三亚

珠海

泰安

黎平

2018 年 4 月 11 日, 国务院发布《关于支持海南全面深化改革开放的指导意见》, 海南拟定建成为国际自由贸易试验区和自由贸易港。

(2) 三亚所在省区的简称是 \_\_\_\_\_, 作为该省重要港口, 关于其未来发展定位的叙述, 正确的是 \_\_\_\_\_。(选择填空)



- A. 我国东北亚航运中心  
B. 我国南北航线的枢纽  
C. 河海联运港  
D. 开通为跨国游轮母港

(3) 泰安以泰山闻名,许多文人墨客登临于此,留下脍炙人口的诗句。下列诗句中描写泰山的是\_\_\_\_\_。(选择填空)

- A. 日照香炉生紫烟,遥看瀑布挂前川  
B. 会当凌绝顶,一览众山小  
C. 两岸青山相对出,孤帆一片日边来  
D. 白日依山尽,黄河入海流

(4) 黎平侗寨属于\_\_\_\_\_聚落(聚落类型),以下叙述正确的是\_\_\_\_\_。(选择填空)

- A. 位于我国地势的第二级阶梯  
B. 地势平坦,农业以种植业为主  
C. 气候潮湿,当地人民爱吃面食  
D. 所在省区冬季寒潮灾害多发

(5) 珠海位于\_\_\_\_\_工业基地(工业基地名称),该地区主要以发展\_\_\_\_\_型经济为主。其发展的有利条件是\_\_\_\_\_。(选择填空)

- A. 矿产资源丰富  
B. 国内市场广阔  
C. 侨乡便于引进外资  
D. 工业发展历史悠久

42. 读南北回归线之间气候类型分布图(图 14),回答下列问题。(10 分)

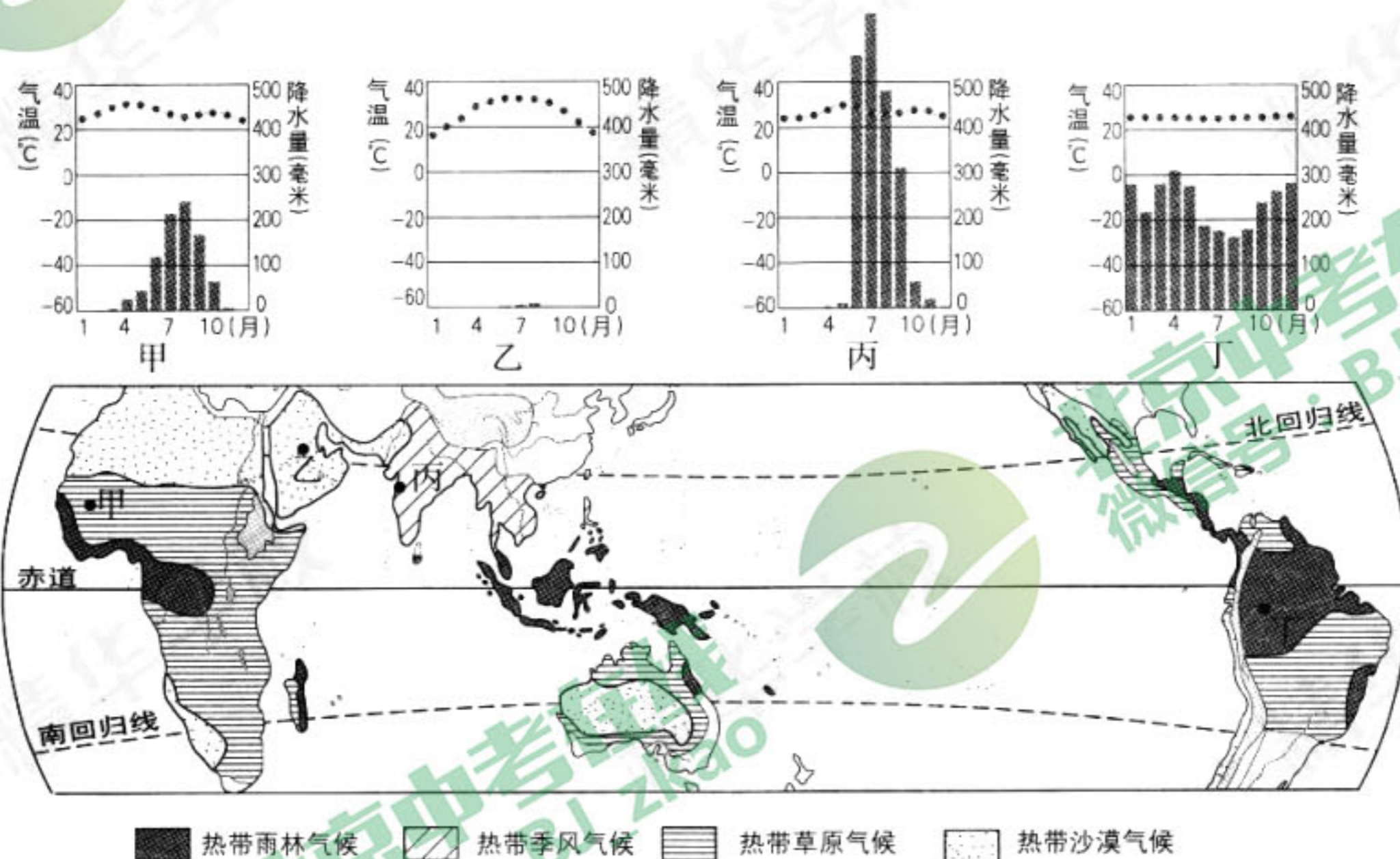


图 14

(1) 四地各月平均气温均在\_\_\_\_\_°C以上,气温的共同特征是\_\_\_\_\_,其影响的主要因素是\_\_\_\_\_。

(2) 与丙地相比,甲地的降水特点是\_\_\_\_\_。受自然地理环境的影响,丁地的主要植被类型为\_\_\_\_\_。(选择填空)

- A. 热带雨林  
B. 热带草原  
C. 热带荒漠  
D. 落叶阔叶林



(3)乙、丙两地中,人口较稠密的是\_\_\_\_\_,其自然原因是\_\_\_\_\_。(选择填空)

- A. 地势较高    B. 全年高温    C. 降水丰沛    D. 交通便利

(4)下列适应乙地自然环境的传统民居是\_\_\_\_\_。(选择填空)



A



B



C



D

(5)20世纪60~90年代,丁地植被破坏严重。近年来,当地政府积极采取措施对其进行保护,下列所采取的措施中,合理的有\_\_\_\_\_。(双项选择)

- A. 制定相关法律法规    B. 实施退耕还林  
C. 扩大木材出口量    D. 将东南沿海人口大量迁移到该地

43. 2017年5月31日,由中国承建的肯尼亚蒙内铁路正式开通。阅读材料和图15,回答下列问题。(8分)

蒙内铁路连接蒙巴萨和内罗毕,使两地往来时间缩短至4个多小时。蒙内铁路项目雇佣的当地工人比例高达92%,累计创造就业岗位4.2万多个。肯尼亚主要出口茶叶和园艺产品,进口机械等货物。截至2018年2月8日,蒙内铁路客运列车累计发送旅客约87万人次、货物30万吨。开行运粮专列57列,发送粮食1.3亿多千克,为缓解肯尼亚人民因干旱造成的粮食紧缺做出了贡献。

(1)肯尼亚属于\_\_\_\_\_ (发达/发展中)国家,中国与肯尼亚的交往属于\_\_\_\_\_ (国际合作类型)。

(2)说出蒙内铁路开通对肯尼亚发展带来的积极影响。(写出两点即可)

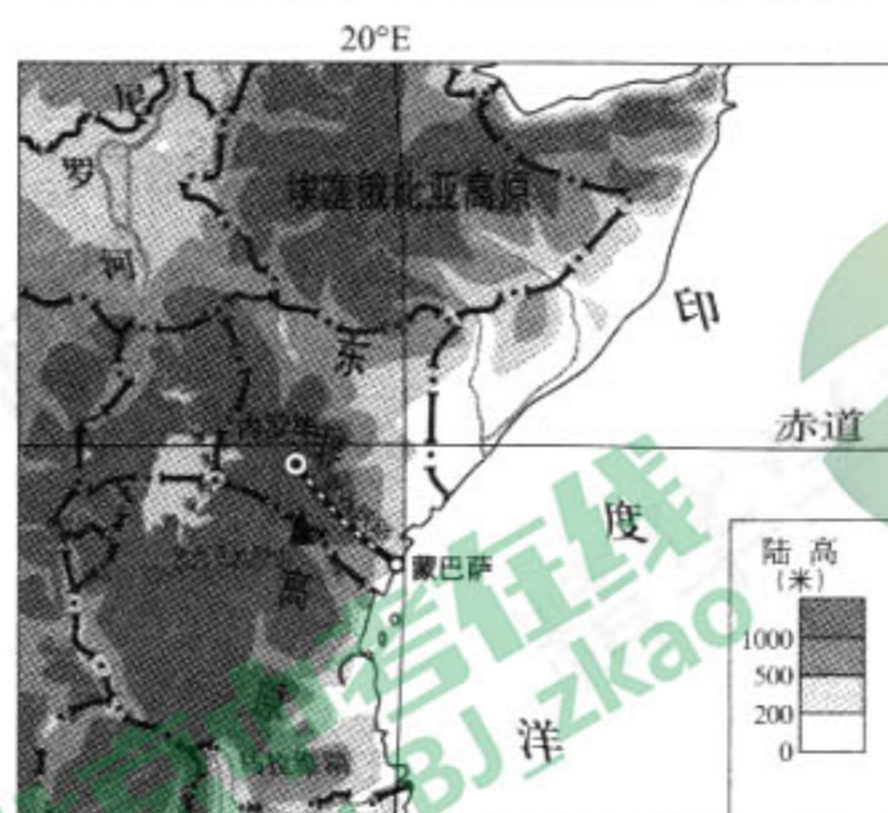


图15



(3)以下是2018年5月某中国游客乘蒙内列车沿途记录的见闻。

告别了蒙巴萨这座古老的港口城市,登上开往首都内罗毕的列车,我又开启了探索肯尼亚的新旅程。火车缓缓开动,一路向东北行去。海拔逐渐升高。列车行驶在东非大草原上。此时正值草原茂盛期。热情的乘务员为我们介绍沿途风景和肯尼亚的风土人情。她说,这里是人类发源地,黄色人种的故乡。列车穿过肯尼亚旅游胜



地——察沃国家公园,这里是非洲最大野生动物园之一。公园内常有狮子、犀牛、斑马、袋鼠出没。四个多小时的行程转瞬即逝,我对未来旅程充满期待。

挑出文中的三处错误(抄原文)。

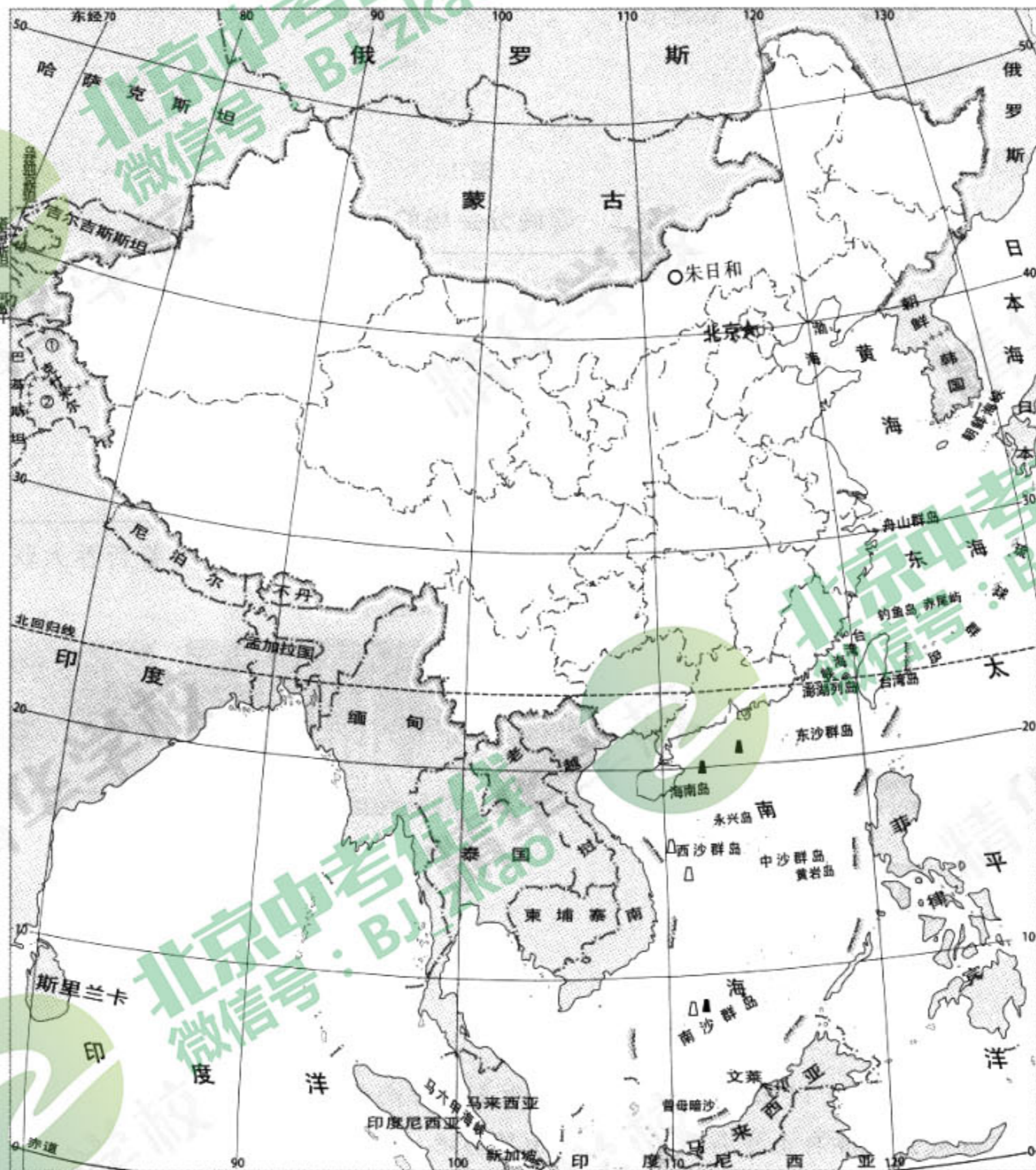
错误一: \_\_\_\_\_。

错误二: \_\_\_\_\_。

错误三: \_\_\_\_\_。

(4)据统计,世界各地的马拉松比赛中,冠军得主 85%来自肯尼亚。试从地理的角度说出理由。

44. 朱日和位于内蒙古自治区锡林郭勒盟,2017年7月30日,建军90周年阅兵在此举行。2018年4月,以航母和新型核潜艇为代表的新型海上作战力量在我国南海亮相。阅读材料和图16,回答下列问题。(10分)



①巴基斯坦实际控制区  
②印度实际控制区

图 16



(1) 以下诗句中,对朱日和所在区域自然环境最贴切的描述是\_\_\_\_\_。(选择填空)

- A. 稻花香里说丰年,听取蛙声一片
- B. 大漠孤烟直,长河落日圆
- C. 天苍苍,野茫茫,风吹草低见牛羊
- D. 旱地麦浪泛金黄,大地笼罩青纱帐

(2) 从朱日和训练基地到南海,经过了我国南北方的地理分界线\_\_\_\_\_一  
线,该地理界线的地理意义有\_\_\_\_\_ (至少写出两点)

南海是我国四大海区中自然资源最为丰富的海区,是亚欧海上物资运输的必经之地。

(3) 以下对南海的叙述,正确的是\_\_\_\_\_ (选择填空)

- A. 海洋资源十分丰富
- B. 岛屿少,位置重要
- C. 台风、地震灾害少
- D. 水质差,污染严重

为更好地伪装和保护官兵,人们设计出了迷彩服。我国陆军作战训练用的迷彩服以黄绿配色为主,海军作战训练用的迷彩服配色以蓝白色为主。

(4) 试从地理视角分析海、陆军迷彩服配色不同的原因。

(5) 结合图 16,从我国的经纬度位置、海陆位置或邻国位置中,任选其一加以评价。

45. 图 17 为某国部分地区图,图 18 为著名的油画《伏尔加河上的纤夫》。阅读图文资料,完成下列各题。(12 分)

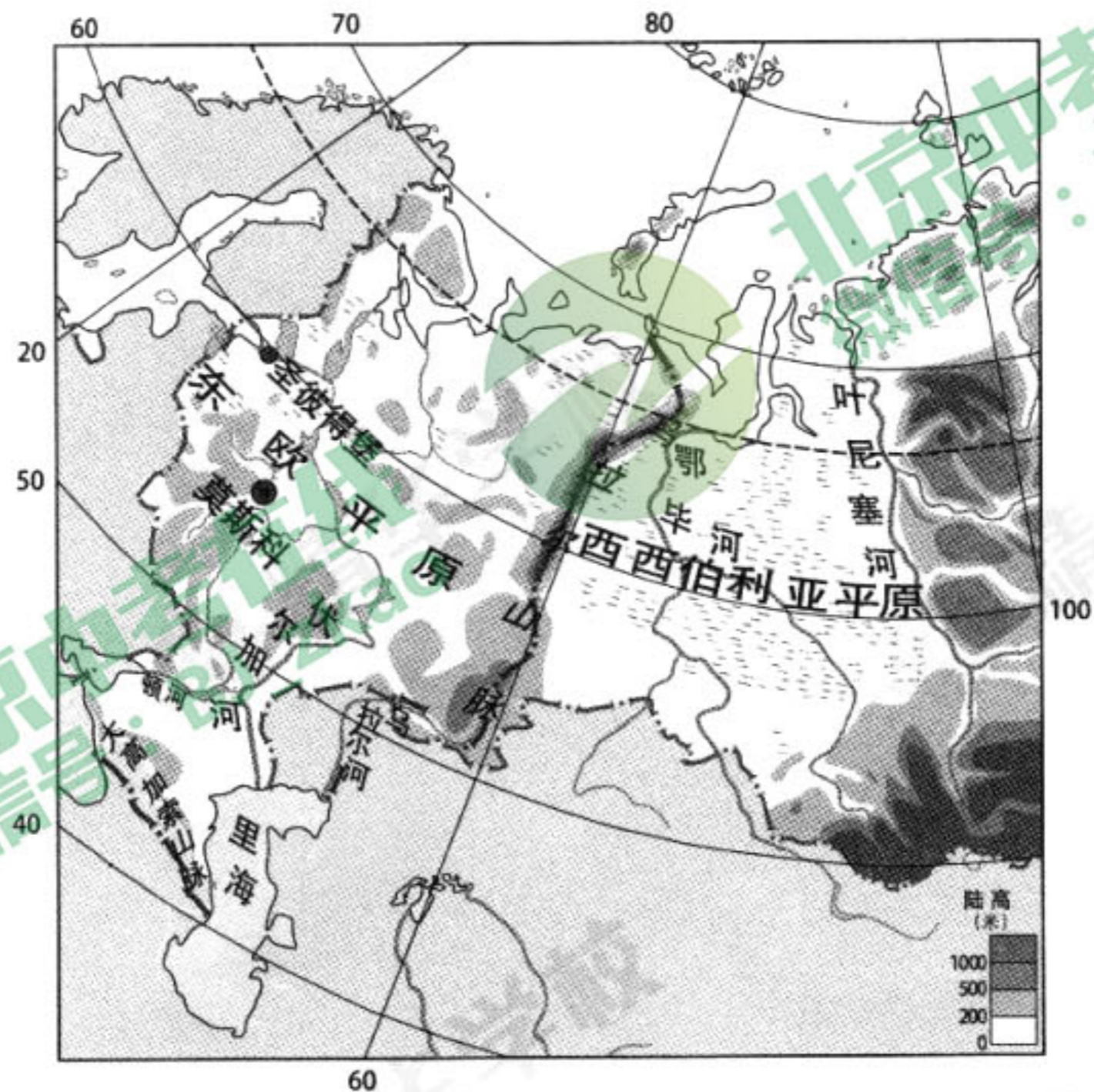


图 17





图 18

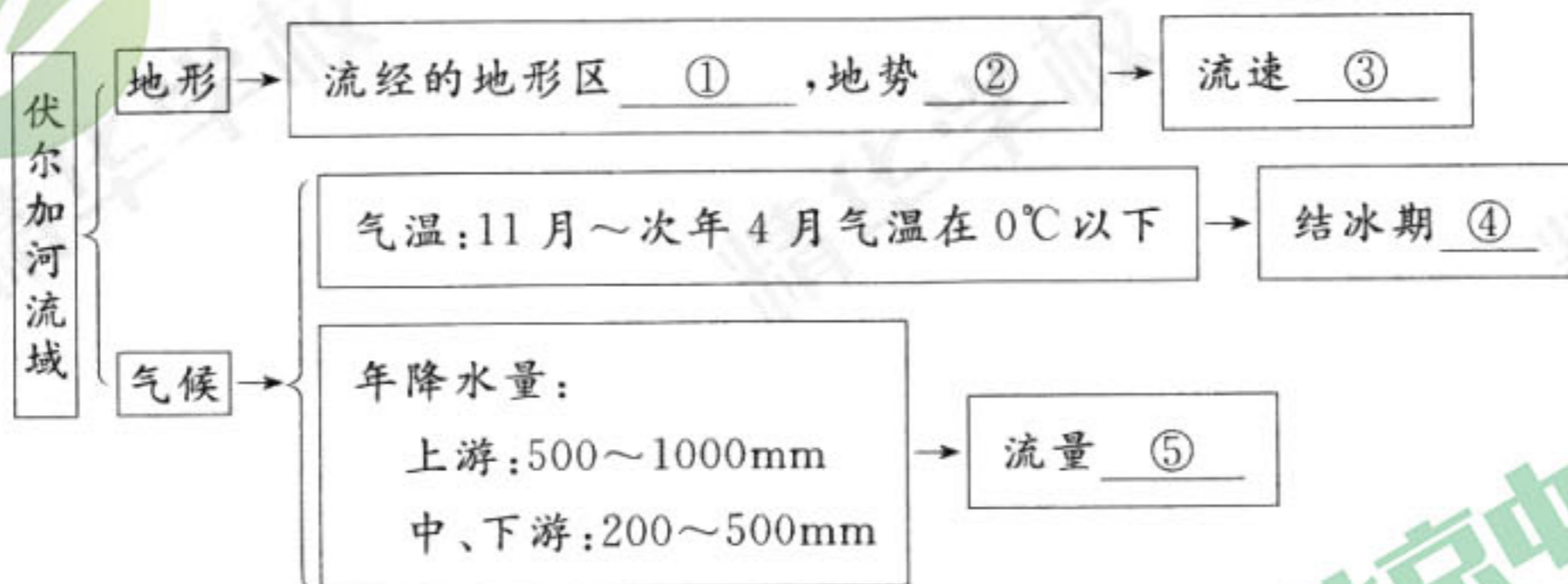
伏尔加河被某国人民称为母亲河,其流域是该国民族和文化的发祥地。

油画《伏尔加河上的纤夫》是列宾在 19 世纪 80 年代初创作的。画面上展示的是:在宽广的伏尔加河上,一条陈旧的缆绳把纤夫们连接在一起,他们哼着低沉的号子,默默地向前缓行。似乎可以听到压抑低沉的《伏尔加船夫曲》:“伏尔加河是母亲河,河水滔滔深又阔,……齐心合力把纤拉……拉完一把又一把。”

(1)把伏尔加河视为母亲河的国家是\_\_\_\_\_ ,其首都是\_\_\_\_\_ 。

(2)伏尔加河是\_\_\_\_\_ 洲的第一长河,它汇入\_\_\_\_\_ ,是一条\_\_\_\_\_ (内/外) 流河。

(3)依据资料,完成下列框图中横线部分的内容。



(4)结合图文信息,说出自然环境对伏尔加河航运的影响。

---



---



---



# 地理试卷参考答案及评分标准

2018.6


## 第一部分 选择题(本部分共 40 小题,每小题 1 分,共 40 分)

题号	1	2	3	4	5	6	7	8	9	10
答案	D	A	C	A	A	B	D	C	B	A
题号	11	12	13	14	15	16	17	18	19	20
答案	B	B	D	B	C	D	D	C	C	B
题号	21	22	23	24	25	26	27	28	29	30
答案	B	C	B	A	C	A	D	B	C	B
题号	31	32	33	34	35	36	37	38	39	40
答案	A	D	A	D	A	C	D	A	D	C

## 第二部分 非选择题(共 50 分)

41. (每空 1 分,共 10 分)

(1)(本小题 2 分)



三亚

珠海

泰安

黎平

(2)琼 D

(3)B

(4)乡村 A

(5)珠江三角洲 外向 C

42. (每空 1 分,共 10 分)

(1)数值在 15~18 之间皆可 气温高 纬度(位置)

(2)年降水量小或降水季节变化小 A

(3)丙 C

(4)C

(5)A B

43. (每空 1 分,共 8 分)

(1)发展中 南南合作



(2)从提供就业、加强交通基础设施、交通运输等方面概括资料,叙述合理即可(2分)

(3)错误一:火车缓缓开动,一路向东北行去。

错误二:此时正值草原茂盛期。

错误三:她说,这里是人类发源地,黄色人种的故乡。

错误四:公园内常有狮子、犀牛、斑马、袋鼠出没。

以上任选三个即可(3分)

(4)从自然或人文等方面阐述,合理即可(1分)。

44.(每空1分,共10分)

(1)C

(2)秦岭 淮河

与800mm年等降水量线基本一致,湿润区与半湿润区的分界线;与1月份 $0^{\circ}\text{C}$ 等温线基本一致,暖温带与亚热带的分界线;河流有、无结冰期的分界线;亚热带常绿阔叶林带与温带落叶阔叶林带的分界线。(合理即可得分)

(3)A

(4)合理即可(2分)

(5)经纬度位置:所跨经度、纬度广,地域辽阔,环境复杂多样。自然资源丰富,自然灾害多发。

海陆位置:海陆兼备,利于通过海洋和陆地对外交流;陆上疆界与海上疆界漫长,守土卫国任务重。

邻国位置:邻国众多,利于国际交往;邻国间出现纷争的可能性也大。

45.(每空1分,共12分)

(1)俄罗斯 莫斯科

(2)欧 里海 内

(3)①东欧平原 ②平坦 ③缓慢 ④较长 ⑤较大

(4)有利:河流流量大,流速平缓,河道深阔,航运价值大(1分)

不利:结冰期长,流水速度慢,对航运产生不利影响(1分)

