



# 初三第一学期期末学业水平调研

## 历史

2020.01

学校\_\_\_\_\_

姓名\_\_\_\_\_





准考证号\_\_\_\_\_

注 意 事 项	1. 本调研卷共10页, 满分90分。考试时间90分钟。 2. 在调研卷和答题纸上准确填写学校名称、姓名和准考证号。 3. 调研卷答案一律填涂或书写在答题纸上, 在调研卷上作答无效。 4. 在答题纸上, 选择题用2B铅笔作答, 其他题用黑色字迹签字笔作答。
------------------	---

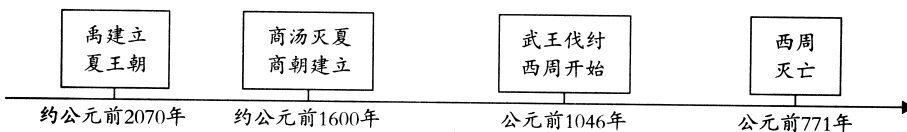
### 第一部分 选择题 (每小题1.5分, 共45分)

在下列各题的四个选项中, 只有一项是符合题意的。本部分共30小题, 每小题1.5分。

1. 周口店北京人遗址为人类进化的研究提供了可靠的证据。下列与北京人相关的考古发现和结论对应正确的一项是

A	B	C	D
			
北京人使用的石器 结论: 北京人使用石器进行农业生产	北京人头盖骨化石 结论: 北京人面貌特征和脑容量数据	厚达6米的灰烬层 结论: 北京人已经学会人工取火	动物化石 结论: 北京人开始饲养家禽和家畜

2. 浙江省杭州市余杭区的良渚古城遗址为中国五千年文明史提供了独特的见证, 2019年被列入《世界遗产名录》。考古人员发现, 古城权贵们的墓地里随葬着数十件至数百件数量不等、制作精美的玉器, 这和其他随葬品较少的普通墓葬形成鲜明对比。通过材料可以判断, 当时良渚社会
- ①阶级分化相当明显                      ②农业生产技术快速发展  
③法律制度严明苛刻                      ④玉器制作工艺水平较高
- A. ①②                      B. ③④                      C. ②③                      D. ①④
3. 台湾圆山文化距今约4000—3500年, 其彩绘陶、印纹陶、玉玦等遗存, 明显受到大陆文化的影响。



依据以上材料判断, 圆山文化大致存在于


- A. 夏建立前                      B. 夏至商初                      C. 商朝末年                      D. 西周初期




4. “周人克商成功后，不仅占据了殷商旧地，且更扩展了势力范围，领土广袤，仅靠中央王朝难能控制，边陲之地更是鞭长未及，然当时危及王朝生存者不仅有中原地区之殷遗民，更有四方所谓戎狄蛮夷。”材料所述为周初分封制的
- A. 背景                      B. 内容                      C. 特点                      D. 影响
5. 商鞅规定：能够斩获敌人军官首级一颗的人，就赐给爵位一级，赏给田地一顷（等于100亩），宅地九亩，还可以担任军队或行政部门的官员。以上材料说明商鞅变法
- A. 确立县制                      B. 鼓励耕织                      C. 奖励军功                      D. 统一度量衡
6. 古代某一水利工程布局巧妙，选址科学，其上游河道两千多年来没有明显下切，保证了能顺利引到足够量的岷江水灌溉成都平原。该水利工程是
- A. 都江堰                      B. 郑国渠                      C. 灵渠                      D. 大运河
7. 一手史料指历史事实发生时留下的资料，如档案、当事人的日记和书信、实物等。下列关于秦朝的史料，属于一手史料的是



A. 始皇二十六年秦权诏书铭文（节选）



B. 西汉简牍《赵正书》（记载秦始皇事迹等）



C. 历史专著《生死秦始皇》



D. 历史题材电视剧《秦始皇》

8. 图1反映了汉武帝加强中央集权的措施，这一措施是

- A. 办太学                      B. 推恩令  
C. 休养生息                      D. 盐铁专卖

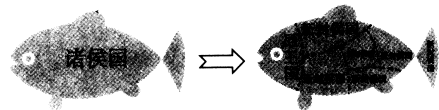


图1

9. 《编年纪》是睡虎地秦墓竹简之一。它以年份为线索，完整地记录了墓主人“喜”的一生。根据图2，可以确定“喜”参加的战争是

- A. 秦国统一战争  
B. 秦朝反击匈奴  
C. 秦末农民战争  
D. 推翻王莽政权

代称	都城；荆、楚的	备注：梁、魏国的	荆	廿三年，兴，攻	廿二年，攻魏梁	……	十八年，攻赵	十七年，攻韩
----	---------	----------	---	---------	---------	----	--------	--------

图2 睡虎地秦简《编年纪》节选

10. 东汉建安年间，河南南阳疾病流行，张仲景近半数的族人死于疫病。他立志拯救世人，最终完成了

- A. 《黄帝内经》                      B. 《神农本草经》                      C. 《伤寒杂病论》                      D. 《本草纲目》



11. 1555 年英国埃塞克斯的织工向议会抱怨：富有的呢绒商对他们采取了各种压榨措施，例如出租织机、压低工资等。当时呢绒商与这些织工的关系应是
- A. 奴隶主与奴隶    B. 领主与佃户    C. 作坊主与学徒    D. 雇佣与被雇佣

12. 图 3 是某船队的航行路线图。这支船队的领导人是

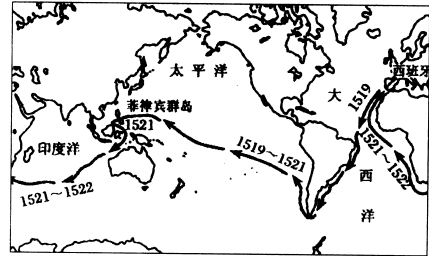


图 3

- A. 迪亚士  
B. 哥伦布  
C. 达·伽马  
D. 麦哲伦

13. 一位 18 世纪的英国经济学家写道：“英国的贸易是一个建立在非洲基础之上，由美洲商业加海军力量组成的宏伟的上层建筑。”在 17—18 世纪的英国贸易体系中，非洲的地位是

- A. 生产棉花、蔗糖等原材料    B. 生产火器、机械制品等商品  
C. 为美洲种植园提供劳动力    D. 发展海军力量，进行海外扩张

14. 有人说：“英国人用法治的方式与君主划清权限关系，找到了一个既保留君主又让君主服从于议会控制的巧妙方法。”上文中的方法是实行

- A. 封君封臣制    B. 君主立宪制    C. 民主共和制    D. 三权分立制

15. 1774 年 3 月，英国政府在北美连续颁布法令，包括征用居民的私人住宅供英国军队住宿，削弱马萨诸塞殖民地自治政府的权利，增加由英国委派的执政官的权利等。这些法令

- A. 加剧了北美人民对英国殖民统治的不满    B. 使北美殖民地政府出现了严重财政危机  
C. 加强了北美各地与英国的经济贸易往来    D. 标志着英国政府被迫承认了美国的独立

16. 恩格斯说：“正像达尔文发现有机界的发展规律一样，马克思发现了人类历史的发展规律。”马克思第一次全面系统地阐述“人类历史的发展规律”是在 1848 年发表

- A. 《国富论》    B. 《人权宣言》    C. 《共产党宣言》    D. 《资本论》

17. 制作知识结构图是历史学习的重要方法之一。图 4 中①处应该填入

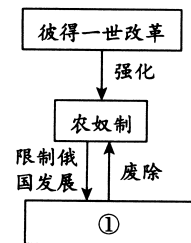


图 4

- A. 伊凡四世的统治  
B. 亚历山大二世改革  
C. 华夫脱运动  
D. 卡德纳斯改革

18. 图 5 横线上应填写

名词解释：\_\_\_\_\_

明治初年的近代化（欧化）现象，也是当时明治政府的口号。明治政府引进欧美的近代技术、社会制度和风俗习惯等，逐渐影响到个人的衣食住行和生活规范。例如电报邮政开始营业，安装煤气管灯，以及鼓励穿西服，吃西餐等。

图 5

- A. 废藩置县    B. 殖产兴业    C. 文明开化    D. 制定宪法



19. 他作为一个现实主义作家，在文学中引入批判精神，其作品《人间喜剧》不仅是法国社会的真实写照，也是文学殿堂里的一座丰碑。上文中“他”是

- A. 贝多芬
- B. 巴尔扎克
- C. 托尔斯泰
- D. 梵高

20. 20世纪初的一个偶发事件，使人类招致了一场空前的浩劫，给世界人民带来了巨大的灾难。这一偶发事件是

- A. 莱克星顿枪声
- B. 攻占巴士底狱
- C. 萨拉热窝事件
- D. 德军突袭苏联

21. 观察图6，其中历史信息包括：苏联

- A. 允许私人经营中小企业
- B. 工业建设取得显著成就
- C. 建设项目集中在国家东部
- D. 军事实力跃居世界第一位

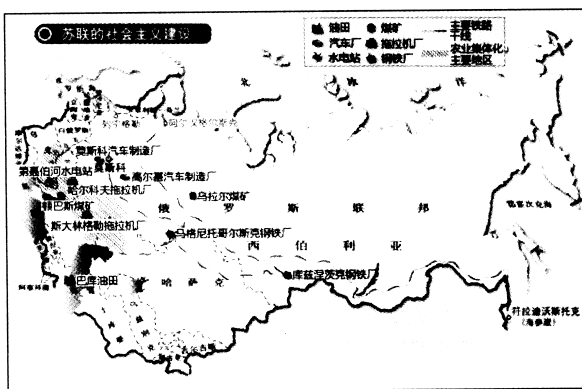


图6

22. 下列历史事件按照时间先后顺序排列正确的是

- ①斯大林格勒战役
- ②九一八事变
- ③珍珠港事件
- ④诺曼底登陆

- A. ①②③④
- B. ①③④②
- C. ②④③①
- D. ②③①④

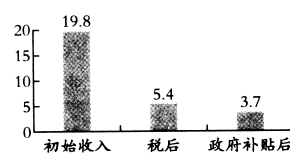
23. 一本书的书评中写道：“这是一部非虚构的作品，让我们前所未有地感受到了世界在毁灭边缘时的情形：为什么美国和苏联陷入高度僵持；我们曾经离核灾难有多近；情报人员如何密谋，以及如何推动了柏林墙的倒塌。”这本书的书名应为

- A. 《二战目击者：攻克柏林》
- B. 《勃列日涅夫时代》
- C. 《单极还是多极世界的博弈》
- D. 《冷战：一个极端时代》

24. 根据右侧图表可以得出的结论是

- A. 英国的经济发展速度放缓
- B. 英国首先建成“福利国家”
- C. 实施福利政策有利于缓和阶级矛盾
- D. 社会保障制度彻底解决了社会问题

英国家庭收入差距(倍)  
(1994—1995年)



25. 赫鲁晓夫推行改革，对苏联模式发起了冲击。能印证这一结论的史实包括：赫鲁晓夫

- ①推行农产品收购制
- ②改革工业管理体制
- ③倡导政治“多元化”
- ④加速发展军事科技

- A. ①②
- B. ③④
- C. ①③
- D. ②④

26. 1955年召开了一次国际会议，开幕词题目为《让新亚洲和新非洲诞生吧》，这次会议是

- A. 巴黎和会
- B. 雅尔塔会议
- C. 波茨坦会议
- D. 万隆会议

27. 导致图7到图8政治格局变化的原因是

- A. 拉丁美洲独立运动
- B. 印度民族大起义
- C. 非洲独立年
- D. 巴拿马收回运河主权

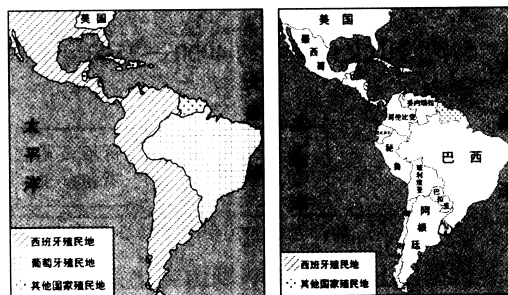


图7

图8



28.

世界各国核弹头数量排名（单位：枚）

排名	1991年	2009年
1	美国，10743	美国，5113
2	苏联，10201	俄罗斯，4600

从上表中可以得到的信息是

- ① 20世纪90年代初，美苏经济实力相当      ②美国在世界范围内维持其军事优势地位  
 ③苏联解体后，俄罗斯保持较强军事实力      ④核武器数量减少，世界局势趋向于缓和
- A. ①②③      B. ①③④      C. ①②④      D. ②③④

29.

联合国处理的主要事务

组织广泛国际讨论，制止军备竞赛
联合国环境规划署、全球环境基金等机构加强同发展中国家的合作
使用非武力的方式协助发生冲突的各方，维持和平状态
立法对传统文化及工艺产品进行保护

上表可以说明

- A. 联合国主要职责是解决贸易争端      B. 联合国在全球治理中发挥积极作用  
 C. 国际形势变化促进联合国的改革      D. 中美两国在联合国改革中地位重要
30. 习近平主席在2019年11月第二届中国国际进口博览会开幕式上的主旨演讲中说：“我们应该坚持以开放求发展，深化交流合作，坚持‘拉手’而不是‘松手’，坚持‘拆墙’而不是‘筑墙’，坚决反对保护主义、单边主义，不断削减贸易壁垒，推动全球价值链、供应链更加完善，共同培育市场需求。”该讲话的主旨是
- A. 推动经济全球化以促进世界经济发展      B. 地区发展不平衡成为世界的主要问题  
 C. 霸权主义和地区冲突威胁着世界安全      D. 发展中国家成为国际格局中重要力量

## 第二部分 材料分析题（共45分）

31.（13分）思想进步推动社会发展

材料一

学派	政治主张	政治实践	影响
儒家	A	罢黜百家，独尊儒术	成为大一统政权的精神支柱
道家	“无为而治”	休养生息	出现“文景之治”
法家	以法治国，建立中央集权专制统治	商鞅变法	B

（1）①在表格A、B两处填写适当内容。（2分）

②结合材料一和所学，说一说百家争鸣的影响。（2分）





**材料二** 中世纪的西欧基督教认为，疾病就像困扰人类的其它罪恶一样，是人类堕落的结果，因此也是罪的结果。教会要求在医生开始治疗之前，首先由教士进行精神的治疗。14—16世纪，一些医生重新翻译古希腊罗马原著，在强调观察和实验的基础上，对古代权威发出了挑战。医学更加重视人体的构造，人体解剖学产生，为现代临床医学的产生奠定了坚实基础。

——摘编自高建红《12—16世纪西欧的医生——一项医疗社会史的研究》

(2) 根据材料，说明14—16世纪欧洲人对疾病治疗的观念发生了怎样的变化并说明其原因。(4分)

**材料三** 中世纪，英国国王与封建贵族围绕征税权展开斗争，达成的共识是：国王征税须经纳税人同意；后来演化为对于征税的数额、种类、征收时限乃至用途等，国王须同议会协商，达成一致。后来的斯图亚特王朝强化王权，欲从议会手中夺取征税权，遭到议会和市民的强烈反对。光荣革命之后，英国议会逐步控制了国家财政权。

——摘编自孙伯龙《包税制向税收法治的演进及当代启示》

(3) 阅读材料，概括中世纪英国就税收制度达成的“共识”。(1分)依据材料并结合所学，分析这一“共识”对英国历史发展产生的影响。(2分)

**材料四** 第一国际，即国际工人联合会建立于1864年，马克思是实际上的领袖。第一国际的建立促进了英国工人运动的发展。英国工人阶级的战斗力日益扩大，在全国范围内展开了轰轰烈烈的争取议会改革，争取普选权(此时英国选举权有财产限制，有选举权的人不到居民的二十分之一)的运动。英国政府不得不作出让步，于1867年通过议会改革法案，成年男子中有三分之一得到选举权，其中包括大量的工人阶级选民，在英国民主化过程中具有重大意义。

——摘编自阎海云《略论英国议会的改革及其意义》

(4) 依据材料并结合所学，说明19世纪60年代英国工人如何获得政治权益。(2分)

32. (7分) 信息传播是人类社会不可缺少的活动

**材料一** 甘肃的河西走廊以及新疆、青海等地先后出土大量汉代简牍，其中部分是政府公文。

①	楼兰王(楼兰:西域小国)及其所属260人要东来汉地,人员和随行车马要经过敦煌或住宿在敦煌某地
②	伊循都尉上书朝廷(伊循位于今新疆维吾尔自治区若羌县,汉朝政府在此地设置都尉等官员负责屯田)
③	将皇帝大赦诏书发往西域都护骑都尉等部门
④	和亲乌孙(乌孙:西域小国)的汉朝公主给朝廷上书

——引自张德芳《西北汉简中的丝绸之路》

(1) 运用材料一的史实,说明以下观点。(2分。填序号,每空多选、少选、错选均不得分)

汉朝政府对西域管辖、开发: \_\_\_\_\_

汉朝与西域各民族友好往来: \_\_\_\_\_



材料二 路透社是当今最重要的世界性通讯社之一。


路透社发展情况(摘编)

时间	发展情况
1851年	于伦敦创立。依靠刚开通的英法海底电报线路,收集、发布股市行情等经济信息
1858年	影响扩展到新闻界。凭借其在欧洲各地建立的电报网,使《泰晤士报》等报纸采用路透社提供的信息
1861年	架设专用电报线,比伦敦其它新闻机构提前8小时获得美国内战最新消息
1869年	兴建由德国、俄国、伊朗往印度的电报专线,此后这些专线又由孟买进一步延伸到斯里兰卡、新加坡和上海

——摘编自沈春雷《19世纪电报编码技术及其对新闻信息传播的影响》

(2) 依据材料,概括路透社的发展趋势,(2分)并说明其发展的科技条件。(1分)

材料三

<p>市场研究机构 IDC 指出,到 2021 年,全球数字经济规模将达到 45 万亿美元,比重将超过 50%;中国是全球数字经济的引领者之一,到 2021 年,中国数字经济规模将达到 8.5 万亿美元,比重将超过 55%。</p>	
--	--

(3) 习近平主席曾说:“没有网络安全就没有国家安全,没有信息化就没有现代化。”结合材料三、所学知识及自己的生活谈谈对习主席讲话的理解。(2分)

33. (12分) 大国崛起

(1) 图9所示为英国崛起过程中的一个重大事件。

这一事件是: \_\_\_\_\_ (1分)

结合所学和地图说说这一事件的影响。(2分)

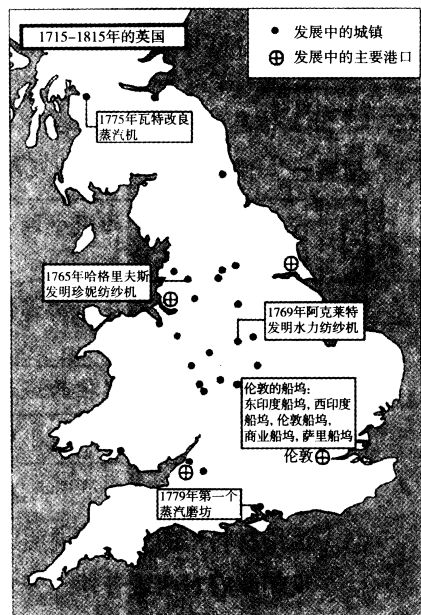


图9



材料一 法国大革命史研究所所长让·克莱门特·马丁教授说：“法国人之所以接受拿破仑的统治，是因为他代表了一种能够控制社会的力量，建立一个强有力的国家……当战争进入法国，

①

越来越多的年轻人死于战场，国家被外国占领的时候，拿破仑被抛弃了。”

②

——中央电视台《大国崛起》节目组《法国》

(2) 马丁教授认为拿破仑帝国既有辉煌的一面，也有黑暗的一面。请选择其中一个方面进行论证。(2分)

选择的论点：\_\_\_\_\_ (从辉煌、黑暗中选择其一)

材料对这一观点的解释：\_\_\_\_\_ (填写序号即可。多选，错选不得分)

可以证明这一观点的史实 (从所学中选择)：\_\_\_\_\_。

(3) 概括图 10 反映的日本经济发展状况。(1分) 依据所学，解释这一状况出现的原因。(2分)

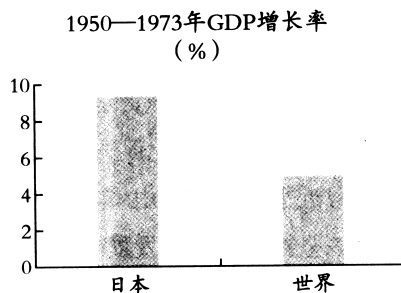


图 10

材料二 以下为埃里克·方纳的《美国史》目录 (部分)：

第一部 1763 年前的美洲殖民地

第二部 一个新国家，1763—1840 年

第三部 奴隶制、自由与联邦的危机，1840—1877 年

第四部 走向世界，1870—1920 年

第五部 大萧条与战争时代，1920—1953 年

(4) 任选《美国史》其中一部 (第一部除外)，结合史实，谈一谈对此部内容的认识。(3分)

示例：第一部：新航路开辟后，英国和欧洲其他国家的移民来到北美，建立了 13 个殖民地，推动了北美经济的发展和美利坚民族的形成，为美国独立奠定了基础。




(5) 阅读以上材料，你对大国崛起有什么感悟？(1分)





34. (13分) 图片证史

材料一

 <p>牺尊 藏于上海博物馆</p>	 <p>高奴禾石铜权 藏于陕西省博物馆</p>	 <p>刻干支表牛骨 藏于中国国家博物馆</p>
<p>高 33.7 厘米，长 58.7 厘米，重 10.76 公斤 春秋晚期青铜器，尊作水牛形，牛鼻上穿有一环，牛腹中空，颈、身、腿等部位装饰有以盘绕回旋的龙蛇纹组成的兽面纹</p>	<p>高 17.2 厘米，底径 23.6 厘米，重 30750 克 权身刻有秦始皇二十六年诏书和“高奴石”三字，并加刻秦二世六年诏书，字体已有隶书笔意</p>	<p>长 22.5 厘米，宽 7.4 厘米 这是一块商代末年的牛肩胛骨，上契刻由“甲子”“乙丑”等组成的“干支表”，用它来记日，六十日一个循环，不会产生错误</p>
<p>A</p>	<p>B</p>	<p>C</p>

(1) ①按照历史发展的时间顺序，排列以上图片中的文物。(3分)

\_\_\_\_\_ → \_\_\_\_\_ → \_\_\_\_\_ (填写序号即可)

②从 B、C 中选择一幅图片，说明其中文物的历史价值。(2分)

示例：A：可以了解春秋时期青铜制造的精湛工艺，也是研究中国牲畜驯化史的一件宝贵的实物资料。



图 11

西奥多·苏斯·盖泽尔绘制，发表于美国纽约的一份杂志  
出版日期：1941年12月1日






材料二 自 1937 年七七事变始，中国开辟了东方也是世界上最早的反法西斯战场，直到太平洋战争爆发前，中国孤军奋战，以血肉之躯抗击着日本陆军主力……据统计，1938 年 10 月，日本陆军总兵力为 34 个师团，其中朝鲜 1 个、中国 32 个，日本本土仅 1 个，即是说，日本陆军总兵力 94% 投入了中国战场。

——胡德坤、韩永利  
《中国抗战与世界反法西斯战争》

(2) 依据以上材料并结合所学，对漫画的内容作出说明。(3分)



材料三

		
<p>① 1961年，一对夫妇举起他们刚出生的孩子，为了给在柏林墙另一边的孩子的祖父母看看</p>	<p>② 1957年，欧洲煤钢共同体的成员在罗马签署条约，成立了欧洲经济共同体和欧洲原子能共同体</p>	<p>③ 1961年4月12日，苏联成功地发射了世界上第一艘载人宇宙飞船“东方1号”</p>
		
<p>④ 1993年1月1日，德国、荷兰锯开两国边界上隔离杆，欧盟国家之间的海关检查从此结束</p>	<p>⑤ 劳伦斯·利弗莫尔国家实验室的IBM红杉，是目前世界上运算速度最快的超级计算机之一</p>	<p>⑥ 1989年11月，德国人在拆除柏林墙</p>

(3) 结合上述图片内容，完成表格（4分）

表1

主题	选择图片	说明
德国分裂与统一	①	冷战开始后，德国分裂，柏林也一分为二，民主德国修建柏林墙将西柏林包围起来

表2

主题	选择图片	说明

(4) 图片是历史学习中经常使用的材料。结合以上资料和自己的学习经验，谈谈运用图片学习历史的体会。（1分）