


# 2020 北京东城初二（上）期末

## 历史



一、选择题（本大题共 30 小题，每小题 1 分，共 30 分。在所列的四个选项中，只有一项符合题意。）

1. 历史当事人在历史发生时留下来的资料是一手史料。若运用一手史料研究林则徐，可以选择下列的



- A. 林则徐奏折
  - B. 林则徐雕像
  - C. 林则徐纪念邮票
  - D. 连环画《林则徐》
2. 下列两幅图片分别是人民英雄纪念碑上的浮雕《虎门销烟》《五四运动》，它们表现的共同主题是



- A. 民族抗争
- B. 列强侵略
- C. 近代探索
- D. 国家复兴

3. 历史遗迹是我们了解历史的重要途径之一。右图这个遗迹见证的中国近代史上的历史事件发生在



- A. 鸦片战争中
- B. 第二次鸦片战争中
- C. 甲午中日战争中
- D. 列强瓜分中国狂潮时

4. 下列书籍或文献资料中提出要建立“有田同耕，有饭同食，有衣同穿，有钱同使，无处不均匀，无人不饱暖”理想社会的是

- A. 《四洲志》
- B. 《海国图志》
- C. 《天朝田亩制度》
- D. 《资政新篇》

5. 19 世纪 70 年代，中国边疆形势严峻。为了加强西北塞防，被清政府任命为钦差大臣，并采取“先北后南，缓进急战”成功收复新疆的是

- A. 左宗棠
- B. 李鸿章
- C. 曾国藩
- D. 张之洞

6. 在 2015 年十大考古发现中，清代沉船“致远舰”的水下考古入选其中。依据史实判断致远舰的发现地点应在





- A. ①                      B. ②  
C. ③                      D. ④

7. 下列为 19 世纪末出现的部分学会，这些学会在当时产生的影响是

名称	地点
强学会	北京
上海强学会	上海
南学会	长沙
农学会	广州
蜀学会	成都

- A. 知识分子开始睁眼看世界                      B. 开启中国近代化第一步  
C. 推动维新变法思想的传播                      D. 掀起民族解放运动高潮

8. 右图为北京市文物保护街区东交民巷，道路两旁的西洋建筑诉说着曾经的历史。1901 年《辛丑条约》签订后，列强在东交民巷使馆界驻军，这一举动对当时中国的影响有



- ①外国侵略势力进一步深入中国腹地  
②东交民巷成为名副其实的“国中之国”  
③清政府完全处于各国军队的影响和控制之下  
④各国可以直接派兵镇压中国人民的反帝斗争

- A. ①②③                      B. ①②④                      C. ①③④                      D. ②③④

9. 孙中山先生将同盟会纲领概括为“民族”“民权”“民生”三大主义。“三民主义”是其领导资产阶级革命的指导思想。其中核心民权主义对应的是同盟会纲领中的

- A. 驱除鞑虏                      B. 恢复中华                      C. 平均地权                      D. 创立民国

10. 1912 年 2 月的《清帝退位诏书》中写道：前因民军起事（武昌起义），各省响应，九夏沸腾……今全国人民心理，多倾向共和……。由此可见“民军起事”引起的直接反响是

- A. 各地宣布独立脱离清朝统治                      B. 清朝皇帝被迫退位  
C. 各地宣布成立共和国                      D. 北洋政府统治开始

11. 《中华民国临时约法》是中国历史上第一部具有资产阶级共和国性质的重要文件。约法规定的“中华民国之主权，属于国民全体”其意义在于

- A. 人民终于当家做主了                      B. 人民有监督总统的权利  
C. 否定了君主专制制度                      D. 为资本主义发展创造条件

12. 对联是中国传统文化之一，讲究对仗工整，但1916年北京街头却出现了这样一副不对仗的对联，上联是“中华民国”，下联是“袁世凯”。以此来讽喻袁世凯对不齐（起）中华民国。这副对联是针对袁世凯

- A. 下令解散国会    B. 篡夺革命果实    C. 镇压二次革命    D. 公然复辟称帝

13. 近代以来，不同时期不同阶层的代表人物为挽救民族危亡提出了不同的主张或口号，都曾使国人为之振奋。下列口号或主张在中国历史上出现的先后顺序是


- ① “实业救国”                                  ② “民主与科学”  
③ “自强” “求富”                              ④ “誓死力争，还我青岛”

- A. ①②③④    B. ③①②④    C. ③④①②    D. ④①②③

14. 近代中国一些报刊杂志在传播新思想、新知识等方面发挥了重要的作用。20世纪初，被读者评价为“青年得此，如清夜闻钟，如当头一棒。”的刊物是



A.



B.



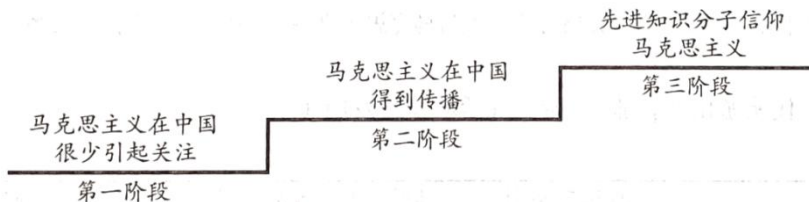
C.



D.



15. 下列图示为马克思主义在中国传播过程的示意图，促成以下各阶段转变的重大历史事件除十月革命外，还有



- A. 京师大学堂的开办    B. 中国同盟会成立    C. 五四运动的推动    D. 国民革命的开展

16. 2019年10月1日，天安门前，由全军荣誉功勋部队代表组成的100面战旗方阵接受了检阅，其中就有以叶挺将军命名的“叶挺部队”。历史上，叶挺领导的独立团就曾因作战勇敢，屡破强敌被誉为“铁军”，这是在

- A. 一战期间    B. 北伐战争期间    C. 抗日战争中    D. 解放战争中

17. 2019年8月，为纪念中国人民解放军建军92周年，某校同学准备利用假期“重走建军路”，出发地点应选择在

- A. 南昌    B. 南京    C. 北京    D. 西安

18. 《全球通史》中记载：“毛泽东是一位杰出的共产党领袖，他无视莫斯科的共产国际，制定出新的革命策略。他拒绝了只能依靠城市无产阶级进行革命这一传统的马克思主义原则……”毛泽东的“新策略”指的是

- A. 领导工人运动，夺取中心城市
- B. 建立革命军队，领导广州起义
- C. 与国民党合作，实现全国统一
- D. 确定“工农武装割据”的道路

19. 在西安事变纪念馆中，有一主题陈列名为《历史的转折——西安事变史实陈列》，“历史的转折”在这里是指



- A. 新民主主义革命的开端
- B. 十年内战的基本结束
- C. 中国全民族抗战的开始
- D. 人民解放战争的胜利

20. 2019年10月是南开大学百年华诞。历史上，1938年4月南开大学曾与北京大学、清华大学三校陆续南迁至昆明，组成中国高等教育史上不可逾越的神话——国立西南联合大学。三校南迁的时代背景是

- A. 八国联军侵华
- B. 国民党右派叛变革命
- C. 日本发动全面侵华战争
- D. 国民党发动内战

21. 抗日战争期间，抗日民族统一战线正式形成的标志是

- A. 西安事变和平解决
- B. 九一八事变
- C. 七七事变
- D. 国共合作宣言发表

22. 国家公祭日，是一个国家为纪念曾经发生过的重大民族灾难而设立的国家纪念活动。2014年2月，十二届全国人大常委会第七次会议通过审议，将每年12月13日定为国家公祭日，纪念30多万死难同胞。与该公祭日直接相关的历史事件是

- A. 旅顺大屠杀
- B. 九一八事变
- C. 七七事变
- D. 南京大屠杀

23. 1942年初，中国组编中国远征军，从云南出发，开始第一次跨出国境协助英国等盟国作战的行动。如果为他们配备一张地图，最应该是

- A. 缅甸地图
- B. 英国地图
- C. 苏联地图
- D. 日本地图

24. 右图为1945年某地各报有关毛泽东的社论和报道。与此直接相关的历史事件是



- A. 国民党一大
- B. 瓦窑堡会议
- C. 皖南事变
- D. 重庆谈判

25. “……翻身农民获得了土地后，以极大的热情投入农业生产。从1946年至1949年间，粮食生产年年增长，各解放区的粮食均自给有余，大部分军民生活都得到一定的改善。”与材料有关的历史事件是

- A. 抗日根据地的建设
- B. 抗日战争的胜利







(2) 选择其中一件大事谈谈其结果及在历史上的意义或影响。(3分)

习近平总书记指出：“独特的历史命运、独特的文化传统、独特的国情，注定了我们必然要走适合自己特点的发展道路。”

(3) 1921年7月中国历史上发生了一件“开天辟地”的重大事件，它是\_\_\_\_\_的诞生。(2分)

(4) 20世纪20年代末，中国共产党曾走出一条将马克思主义基本原理同中国革命具体实践相结合的道路。请结合这一时期的史实说明这一结论。(3分)

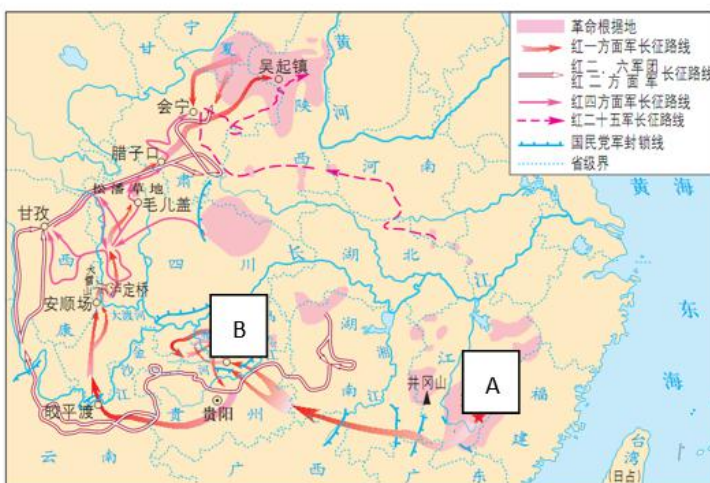
1949年3月，中国共产党人从西柏坡迈开“进京赶考”的步伐，毛泽东率中共中央进驻香山双清别墅，使这里成为中国共产党领导下的人民解放战争走向全国胜利的指挥部，也是筹备召开新政协、建立新中国的历史见证。70年后的今天，习近平总书记前往香山双清别墅回顾“为新中国奠基”的历史伟业，重温中国共产党人的爱国初心、壮志情怀和革命精神。

(5) 请你用任意方式，为双清别墅所见证的历史留下自己的感言。(2分)



### 32. 数字中的历史。(14分)

#### 【长征】



(1) 《中国工农红军长征路线示意图》中，长征出发地点在 A；长征途中召开的 B 会议，成为中国共产党历史上一个生死攸关的转折点。(2分)

(2) 面对这些令人震撼的数字，谈谈你对长征的认识。(3分)

## 【抗日战争】

材料一：抗日战争期间，中国军队在正面战场先后组织了淞沪会战、太原会战、徐州会战、武汉会战等一系列战役。其中，双方动员兵力在十万人以上的有 22 次的会战，1117 次以上的战斗（双方兵力在一万人以上），以及 38931 次的小型街战。

材料二：抗日战争期间，中国共产党领导的八路军、新四军及各种人民武装，在敌后战场上对敌发起主动作战，大小战斗共达 12.5 万次。最多时投入正规部队 90 多万、民兵 200 多万。

材料三：在新加坡和马来西亚，从 1937 年 7 月至 1941 年，海外华人购买国债和义捐总额为国币 1912 亿。在菲律宾，从 1937 年 7 月至 1939 年 5 月，海外华人先后汇出的捐款及公债约合国币 1710 万元。在欧洲，截止 1938 年底，西欧各地华侨的抗日救国义捐，总数达 1700 万元。……

(3) 依据三段材料，概括抗战胜利的原因。（4 分）

材料四：1937 年，日本陆军共 24 个师，其中 21 个师投入到侵华战争，占其陆军总兵力的 88% 以上。最后日本在中国战区共有 180 万部队投降，日本陆军的主力部队，几乎全限制在中国的战场。

据不完全统计，抗日战争期间，中国军民伤亡 3500 多万人。按 1937 年的币值折算，中国直接经济损失 1000 多亿美元，间接经济损失 5000 多亿美元。

(4) 阅读材料四这一组数字，谈谈中国抗战在世界反法西斯战争中的作用。（3 分）

## 【青年英杰】

不同时期参加革命的伟人		不同时期为国牺牲的英烈	
朱德参加辛亥革命	25 岁	徐锡麟牺牲	34 岁
中共一大召开时毛泽东	28 岁	杨靖宇牺牲	35 岁
周恩来参加中国共产党	23 岁	黄继光牺牲	21 岁
邓小平参加旅欧中国少年共产党	18 岁	小英雄刘胡兰牺牲	15 岁

(5) 中华民族英雄辈出，青年英杰数不胜数。而一代人有一代人的理想与担当；面对这些前辈，你想说些什么？（2 分）

33. 近代以来，中国社会生活与思想观念开始发生着越来越明显的变化。（12 分）

## 【发式的变化】



材料一：康有为在《请断发易服改元折》中说：辫发长重，行动摇舞，误缠机器，可以立死……且垂辫既易污衣……衣污则观瞻不美。若在外国，为外人指笑，儿童牵弄，既缘国弱，尤遭戏侮，斥为豚（猪）尾，去之无损，留之反劳。

(1) 依据材料一，概括康有为主张剪发辫的理由。(3分)

材料二：1911年10月10日，武昌起义爆发，革命浪潮汹涌澎湃。1912年3月，民国政府颁布法令：“凡未去辫者，于令到之日限二十日，一律剪除净尽，有不遵者以违法论。”清末民初，中国两亿男性同胞在很短的几年内全部剪掉了长辫子，将延续268年的清代发式，统一改成世界通行的近代男发。

(2) 依据材料二结合所学，说出晚清民国之际，剪发辫风潮出现的原因。(2分)

### 【生活的变化】

材料三：火石（点火的工具）、油盏、土布等是古代中国的日常器具，构成了中国人日常生活的一部分。但后来，西方的洋火、洋油灯、洋布等很快引得中国人的喜爱，构成了中国人日常生活新的部分。计时之器，仅有日晷仪，自轮船、火车通行，往来有一定的时刻，钟表开始盛行。

在天津，小洋楼渐渐取代北方的四合院而成为当地居室建筑的新潮流。在上海除了兴建了大量西式建筑外，还出现了西洋建筑风格影响下的中国民居——里弄房屋。

……

(3) 依据材料三结合所学，指出近代中国出现的新变化。(2分)

### 【思想观念的变化】

材料四：民主与科学是新文化运动所标举的两大口号，由陈独秀首先提出。他还将它们形象地统称为“德先生”和“赛先生”。陈独秀认定：“只有这两位先生，可以救中国政治上道德上学术上思想上一切的黑暗。”

(4) 依据材料四结合所学，分析民主与科学口号的进步意义？(2分)

(5) 除了以上变化，你还知道近代社会习俗和思想观念发生的哪些变化？请举一例，并说说这一变化体现的进步意义。(3分)

