



北京市密云区2020届初三一模考试

历史试卷

2020.5

试 卷 说 明	1. 本试卷共 10 页，共两部分，34 道小题，满分 90 分。考试时间 90 分钟。 2. 在试卷和答题卡上准确填写学校名称、姓名、考号。 3. 在答题卡上，选择题必须使用 2B 铅笔作答。其他试题答案一律用黑色字迹的钢笔或签字笔书写在答题卡上，在试卷上作答无效。 4. 认真审题，规范书写，保持卷面清晰、整洁。
------------------	---

第一部分 选择题（共 45 分）

本部分共 30 小题，每小题 1.5 分，共 45 分。在每小题列出的四个选项中选出最符合题意的一项，按要求用 2B 铅笔将其填涂在答题卡上的相应位置，错选或多选均不得分。

1. 北京人遗址是世界上内涵最丰富、材料最齐全的直立人遗址。这一结论的依据是
- A. 考古发现 B. 文献资料 C. 文学作品 D. 历史照片
2. 中央电视台《国家宝藏》栏目展示了文物“商鞅方升”（下图）并介绍了它的前世今生。这一文物是商鞅变法中哪一项举措的佐证



- A. 加重刑罚 B. 奖励农耕
C. 推行县制 D. 统一度量衡
3. 汉武帝实施“推恩令”、建立刺史制度，其共同作用是
- A. 使诸侯王的封地和势力越来越小 B. 休养生息，促进了经济发展
C. 中央对地方的控制大大加强 D. 改善了国家的财政状况
4. 认知和探究历史地图，是学习和研究历史的重要方法。对下图所反映的这一历史时期，解读最准确的是



- A. 社会稳定，经济发展 B. 实现局部统一，为再次统一创造了条件
C. 形成南北对峙的局面 D. 民族矛盾尖锐



5. 观察右图“北魏帝王出御图”。出现图中这一场景的主要原因是



- A. 北方少数民族内迁
- B. 穿汉服显示贵族身份
- C. 北魏统一黄河流域
- D. 孝文帝推行汉化措施

6. 唐朝诗人李商隐在《咏史》诗中写道：“历览前贤国与家，成由勤俭败由奢。”下面哪两位皇帝的统治最能说明这个道理

- A. 汉文帝、汉景帝
- B. 隋文帝、隋炀帝
- C. 唐高祖、唐太宗
- D. 唐太宗、武则天

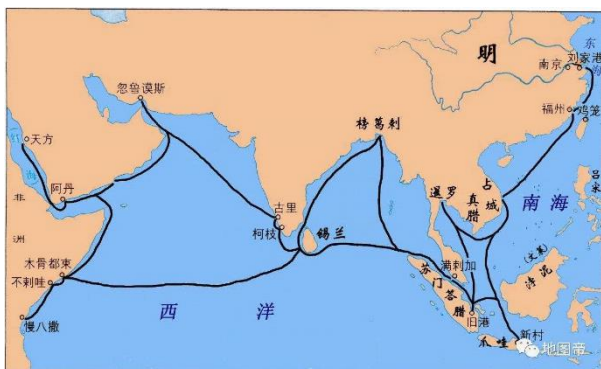
7. 唐宋时期，科举制度下的考生可以自由报考，而且“取士不问家世”“一切以程文为去留”。材料主要体现出科举制的特点是

- A. 注重门第家世
- B. 取士方式多样
- C. 关注道德品质
- D. 公开公平竞争

8. 历史事件都不是孤立存在的，每一个历史事件都有自己鲜明的时代主题。如果把“锦衣卫、东厂、西厂”“军机处”“文字狱”确定为一个学习单元，单元主题应是

- A. 特务统治的强化
- B. 思想控制的加强
- C. 君主专制的强化
- D. 文化专制的加强

9. 下图所反映的历史事件，其影响是



- ①海上丝绸之路进入鼎盛时期
 - ②开创了西太平洋与印度洋之间的亚非海上交通线
 - ③客观上促进了中国资本主义的产生
 - ④加强了中国与亚非国家和地区的了解与交往
- A. ①②
 - B. ②④
 - C. ①②③
 - D. ②③④

10. “1840年，在炮口的逼迫下，中国蹒跚地走入近代。随后的一百余年里，外国人通过条约管束控制中国政府，‘合法’地剥夺榨取中国人民。不仅使中国人民从此陷入苦难的历程，也促进中国人民觉醒和奋起。”材料表明近代中国人民的主要任务是

- A. 改革政治体制
- B. 发展民族工业
- C. 反侵略反封建
- D. 推翻军阀统治

11. 太平天国、义和团的失败，和以往农民起义的主要不同之处在于

- A. 统治者的残酷镇压
- B. 农民军内部分裂
- C. 列强的疯狂进攻
- D. 中外反动势力的联合镇压




12. 以下示意图反映出



- A. 列强勒索的赔款数额逐渐增多
- B. 列强割占的领土面积越来越大
- C. 列强对中国的经济侵略从沿海向内地延伸
- D. 允许列强驻守北京到山海关铁路沿线要地


13. 新文化运动是我国历史上一次空前的思想大解放运动，如果想更多地了解当时的情况，下列刊物中首先应该查阅的是



A



B



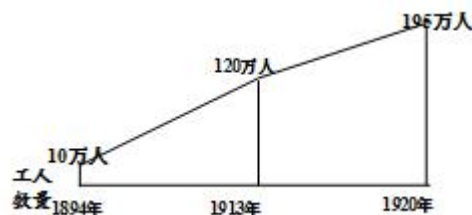
C



D

14. 在一个中国共产党党史展览中，展出了一幅示意图（下图）。这一展品揭示了

- A. 中国共产党诞生的阶级基础
- B. 中国民族工业发展进入黄金时代
- C. 马克思主义在中国的广泛传播
- D. 中国共产党成立使中国革命面貌焕然一新



15. 井冈山被誉为“中国革命的摇篮”和“中华人民共和国的奠基石”，其依据是

- A. 在这里打响了武装反抗国民党反动统治的第一枪
- B. 中共在这里由幼年走向成熟
- C. 红军三大主力会师于此
- D. 毛泽东在这里创建了第一个农村革命根据地，开辟了中国革命的新道路

16. 以下两幅图片反映出百团大战的作战目标是



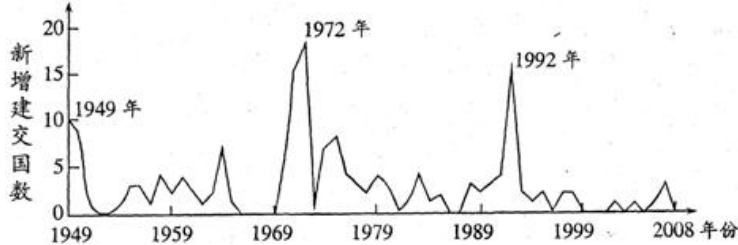
- ①破袭日军的交通线
 - ②摧毁交通线两侧及深入根据地的日伪据点
 - ③振奋抗战军民的士气
 - ④粉碎日军的扫荡和封锁
- A. ①② B. ③④ C. ①③ D. ②④



17. 毛泽东曾就解放战争时期的一次战役指出：“（此战）为南部战线空前大战役，此战胜利，不但长江以北局面大定，即全面局面亦可基本上解放。”蒋介石则称，此战“实为我革命成败国家存亡最大之关键”。据此判断该战役是

- A. 辽沈战役 B. 平津战役 C. 淮海战役 D. 渡江战役

18. 下图是 1949—2008 年外国与中国建交状况曲线图，下列对该图解读正确的是



- A. 建国第一年出现建交高潮是由于“和平共处五项原则”的提出
 B. 1971 年中国恢复联合国合法席位直接导致 1972 年出现建交高潮
 C. 1992 年中国加入世界贸易组织，出现了建交新高潮
 D. 建交国家的不断增加体现了中国国际地位和影响力的提高

19. 2015 年，原战略导弹部队更名为中国人民解放军火箭军。火箭军承担的主要任务是

- ①核反击 ②核进攻 ③核恐吓 ④战略威慑
 A. ①② B. ①④ C. ①③ D. ②④

20. 为欧洲资本主义社会的产生和发展奠定了思想文化基础的是

- A. 资本主义萌芽 B. 文艺复兴运动 C. 新航路的开辟 D. 启蒙运动

21. “拿破仑战争是大革命的继续，拿破仑帝国是法国革命的最后阶段。”这主要反映了拿破仑

- A. 扫荡了欧洲封建势力 B. 占领了欧洲大片领土
 C. 击退了反法联盟多次进攻 D. 巩固了法国大革命成果

22. 科学技术推动生产力的发展，主要表现为科学技术对生产工具、劳动对象、生产管理等方面的促进。下列各项能反映在两次工业革命中“生产工具”发展进步的是

- A. 煤炭、石油的大规模开采 B. 改良蒸汽机、内燃机的广泛应用
 C. 工厂生产和垄断组织出现 D. 计算机代替部分人力劳动

23. 下图为国际社会主义运动整体发展趋势示意图，其中①处对应的历史事件是（ ）



- A. 英国宪章运动 B. 俄国十月革命 C. 法国巴黎公社 D. 《共产党宣言》发表

24. 英国史学家威廉·G·比斯利认为：“对于日本来说，明治维新的重要性有如英国革命之于英国，法国革命之于法国”。作者认为，日本通过明治维新

- A. 彻底铲除了封建制的残余 B. 增添了浓厚军国主义色彩
 C. 走上了资本主义道路 D. 实现了工业的近代化



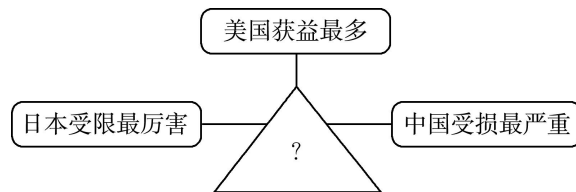
25. 以下是近代某部著作的部分目录，作者通过这部著作提出了

第一章 家养状况下的变异	第五章 变异的法则
第二章 自然状况下的变异	第六章 学说的难点
第三章 生存斗争	第七章 对于自然选择学说的种种异议
第四章 自然选择即最适者生存	……

- A. 神创论 B. 相对论 C. 进化论 D. 社会发展规律

26. 图示法是历史学习常采用的方法之一，下图所示的会议是

- A. 巴黎和会
B. 华盛顿会议
C. 开罗会议
D. 雅尔塔会议




27. 下表是斯大林 1926—1940 年执政时期经济数据，可以看出当时经济发展特点是

- A. 重视市场和商品货币关系
B. 人民消费水平不断提高
C. 高度集中的计划经济体制
D. 经济发展严重失调

	增长	年均增长速度
重工业	18.4 倍	21.2%
轻工业	6.2 倍	14.1%
农业	26%	1.5%

28. 按时间先后顺序排列第二次世界大战中重大事件。正确的是



- ① 苏德战争爆发 ② 太平洋战争爆发 ③ 九一八事变 ④ 诺曼底登陆
- A. ①②③④ B. ②①④③ C. ③①②④ D. ④③②①

29. 据统计，截止 1990 年，全世界 180 多个国家中，有近 100 个国家是在二战后宣布独立的，其中亚洲 27 个，非洲 48 个，拉丁美洲 10 个，大洋洲 1 个，欧洲 1 个。由此可见，二战后世界历史发展的一个主要潮流是

- A. 社会主义阵营不断壮大 B. 两极格局威胁世界和平
C. 世界殖民体系走向崩溃 D. 西方资本主义国家发展

30. 当今世界正处于大发展、大变革、大调整时期，贫富分化日益严重、重大传染性疾病、气候变化等非传统安全威胁持续蔓延。对此应有的正确认识是





- ① 人类面临着许多挑战
② 这些问题是经济全球化发展的必然结果
③ 面对共同问题，各国要加强合作共担责任
④ 应充分发挥联合国等国际组织的作用
- A. ①② B. ③④ C. ①③④ D. ①②③④



第二部分 材料分析题（共 45 分）

31. （10 分）发展经济是事关国计民生的重要问题。阅读材料，回答有关问题。

材料一

商代已经使用木耒等农具，二人或多人共同耕种，相互协作，商汤曾派亳人帮助葛人种地。卜辞是商代占卜的记录，其中，“求雨”“求晴”“求禾”等关心农业生产丰歉的占卜现象屡见不鲜。甲骨卜辞中多次见到“其受年”（能获得丰收吗）的问语。主要的农作物黍、稷、麦、稻、菽（豆类）等，都见于卜辞。 ——摘编自张卫亚《先秦重农抑商思想发展浅析》	甲骨文	现代汉字
		黍
		粟
		稻
		麦

（1）依据材料及所学知识，说出商代农业特点。（2 分）

材料二 两宋期间，丝绸之路被金、西夏等所阻，对外贸易只好集中在东南沿海的海路进行。中国过去的海外贸易，主要为统治阶层带来珍贵的奢侈品，整体经济收益不大。然而，宋朝的海外贸易不仅在规模上远超过前朝，而且为政府取得了可观的经济收益。宋朝因此增设机关负责管理和推广海外贸易。
 ——杭侃《两宋：在繁华中沉没》

（2）依据材料二，说出宋朝重视海外贸易的原因。（2 分）

材料三 1789—1900 年美国专利技术统计表

时间	1789—1800 年	1850—1860 年	1890—1900 年
专利增长数（项）	276	25200	200000

据统计，美国在 1870 年至 1900 年，小学生人数由 690 万增加到 1500 万。1900 年，每 1 万人口中平均有大学生 31.4 人，把其他主要国家远远甩到后面。按照同一比例，德国有 8.3 人，法国有 7.6 人，英国只有 6 人。

——摘编自吴于廑、齐世荣主编《世界史·近代史编》

（3）概括材料三表格反映的现象，（1 分）依据材料并结合所学，分析其出现原因以及对美国的影响。（3 分）

材料四 党和国家作出兴办经济特区重大战略部署以来，深圳经济特区作为我国改革开放的重要窗口，各项事业取得显著成绩，已成为一座充满魅力、动力、活力、创新力的国际化创新型城市。当前，中国特色社会主义进入新时代，支持深圳高举新时代改革开放旗帜、建设中国特色社会主义先行示范区，有利于在更高起点、更高层次、更高目标上推进改革开放，形成全面深化改革、全面扩大开放新格局；有利于更好实施粤港澳大湾区战略，丰富“一国两制”事业发展新实践；有利于率先探索全面建设社会主义现代化强国新路径，为实现中华民族伟大复兴的中国梦提供有力支撑。

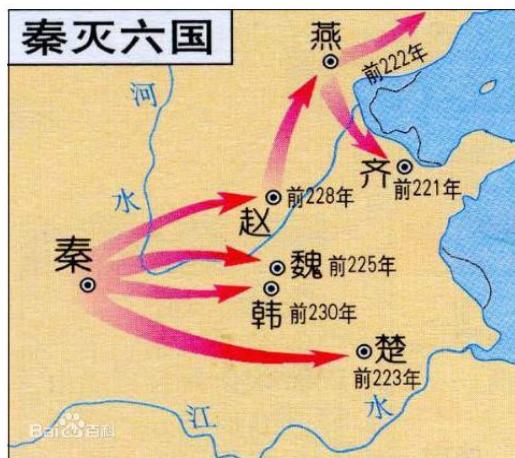
——摘自《中共中央、国务院关于支持深圳建设中国特色社会主义先行示范区的意见》



(4) 根据材料四，概括把深圳建设成中国特色社会主义先行示范区的目的。(2分)

32. (12分) 反对国家分裂、维护国家统一是世界各国的共识。

材料一



(1) 依据材料一说出秦灭六国的过程，(2分) 并指出这一过程所呈现出的特点。(1分)

材料二

地区	史实
西北	17世纪，漠西蒙古准噶尔部的噶尔丹勾结沙俄，大搞分裂，发动叛乱。康熙帝三次率军亲征，大败噶尔丹。18世纪，回部首领大、小和卓发动叛乱，搜刮各族人民，激起人民的强烈不满。乾隆帝派兵讨伐，在维吾尔等族人民的支持下平定了叛乱。后设置伊犁将军。
西藏	乾隆五十八年(1793年)正式颁布《钦定藏内善后章程》，明确规定“驻藏大臣督办藏内事务”地位与达赖喇嘛和班禅平等……达赖喇嘛和班禅转世，必须由驻藏大臣亲临并履行“金瓶掣签”手续……藏军的大小军官均由驻藏大臣会同达赖喇嘛拣放，经过考验，有权升擢和斥革。

(2) 从材料二中任选一个地区，说出相关史实的历史意义。(2分)

材料三 在中国漫长的专制社会中，皇帝或政权的首领有最高权力，有权支配自己统治范围内的一切人力和物力，所以统一的范围越广，能够集中的人力和物力也就越多。相比之下，分裂或分治政权可以支配的人力和物力要小得多。大型的或全国性的项目则由于涉及范围广、需要投入大量的人力物力，只有在统一政权或较大政权才有可能完成，如黄河、长江大堤的修筑和维护，黄河水灾的预防和救治，京杭大运河的开通和水运的维持等等。而在分裂情况下，不仅这些大型水利设施的日常维修没有保证，还会制造人为的破坏。……

——摘编自葛剑雄《统一与分裂》

(3) 依据材料三，概括指出国家统一的益处。(2分)

材料四 19世纪中期的美国面临着两大问题。当时，北方需要大批便宜的“自由”劳动力和工业原料，主张解放奴隶，而南方却占用了大批的劳动力，而且南方要求把奴隶制扩展到美国西部新增土地上……1860年，林肯参加总统竞选时的主题是：“*The union must and shall be preserved* (联邦必须而且将会得到保留)。”



(4) 根据材料四并结合所学知识，指出当时美国面临哪两大问题？是怎样解决的？（3分）

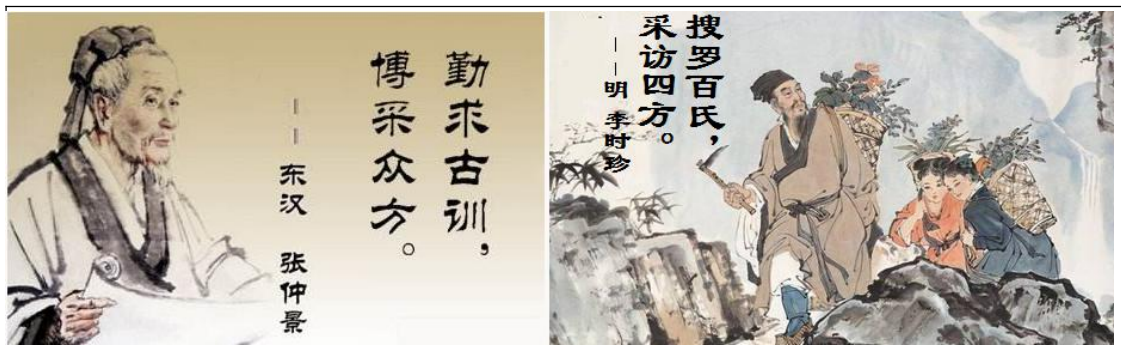
材料五 我们愿意以最大诚意、尽最大努力争取和平统一的前景，因为以和平方式实现统一，对两岸同胞和全民族最有利。我们不承诺放弃使用武力，保留采取一切必要措施的选项，针对的是外部势力干涉和极少数“台独”分裂分子及其分裂活动，绝非针对台湾同胞。两岸同胞要共谋和平、共护和平、共享和平。

——习近平：在《告台湾同胞书》发表40周年纪念会上的讲话

(5) 在台湾问题上，我们为什么既要争取和平统一，又不承诺放弃使用武力？（2分）

33. (11分) 当今世界面临许多问题，如何应对和解决问题，需要从历史中寻求借鉴。

材料一



脏腑系统疾病、外感病、八纲证、脏腑证等中医病证名称，成为国际疾病“通用语言”。2019年5月，第七十二届世界卫生大会审议通过《国际疾病分类第十一次修订本（ICD—11）》，首次纳入起源于中医药的传统医学章节。目前，中医药已传播到183个国家和地区，其中86个国家和地区与中国签署了中医药合作协议。

——摘自人民日报2019年5月29日《世卫组织为何认可中医药》

(1) 依据材料一，概括中医药发展的特点。（2分）

材料二 中国的革命，从1924年开始，就由国共两党的情况起着决定的作用。由于两党在一定纲领上的合作，发动了1924年到1927年的革命。孙中山先生致力于国民革命凡40年还未能完成的革命事业，在仅仅两三年内，获得了巨大的成就……

——毛泽东

(2) 依据材料二并结合所学，材料中的“合作”是指_____（1分）

“巨大的成就”是_____、_____（2分）

材料三 1950年6月25日，朝鲜人民军南进作战，朝鲜战争爆发。美国为维护其在亚洲的领导地位和利益，立即出兵干涉。6月27日，美国第七舰队驶入基隆、高雄两个港口，在台湾海峡巡逻，阻止中国人民解放军渡海进攻台湾。……

美国认定中国不敢出兵与美国对抗，所以不顾中国政府的多次警告。10月1日美军越过北纬38°线，并公然声称：“在历史上，鸭绿江并不是中朝两国截然划分的、不可逾越的障碍。”同时，美国飞机多次侵入中国领空，轰炸丹东地区，战火即将烧到鸭绿江边。

1950年10月8日，朝鲜政府请求中国出兵援助。中国应朝鲜政府的请求，迅速组成中国人民志愿军入朝参战。10月25日，志愿军打响了驻军朝鲜后的第一仗。

——《中国人民志愿军战史简编》



(3) 依据材料三并结合所学，概括指出中国出兵抗美援朝的原因和胜利意义。(3分)

材料四

	<p>历史上，英国与欧洲大陆关系很微妙…几经周折，1973年英国加入欧洲共同体，欧洲一体化前进了一大步。……英国虽然加入了欧盟，却与之始终保持着若即若离的关系。由于各种利益分歧明显，2016年6月英国举行“脱欧”公投，并获得通过；2017年3月，英国正式开启“脱欧”程序；2020年1月30日，欧盟正式批准了英国脱欧，1月31日，英国正式脱欧。</p>
--	--

(4) 依据材料四，指出英国与欧盟关系的变化，(1分)简要分析欧盟现实状况。(2分)

34. (12分) 武汉地处江汉平原东部、长江中游，长江及其最大支流汉江在此交汇，形成武昌、汉口、汉阳三镇鼎立的格局。某历史社团开展了武汉地区考察活动。

【文献研究】

①盘龙城遗址位于武汉市黄陂区，修筑年代距今约3500年，该遗址遗物反映了中原文化向南扩张、并形成中心城市的景象。
②东汉末年，在今汉阳先后兴建却月城和鲁山城，在今武昌蛇山兴建夏口城。数次激战在此发生，曹操、刘备、孙权都曾攻占此地。
③隋朝设江夏县和汉阳县，分别以武昌、汉阳为治所(古时指地方政府驻地)。唐朝时江夏(武昌)和汉阳分别升为鄂州和沔州的治所。
④两宋时武昌属鄂州，汉阳、汉口属汉阳军。南宋抗金将领岳飞驻防鄂州(今武昌)8年，在此兴师北伐。
⑤元世祖至元十八年(1281年)，武昌成为湖广行省的治所。
⑥明末清初，汉口与北京、苏州、佛山并称“天下四聚”，又与朱仙镇、景德镇、佛山镇同称天下“四大名镇”，成为“楚中(指湖南、湖北)第一繁盛处”。

(1) 用上表的史实，说明以下观点。(3分。填序号，可重复，每空多选、少选、错选均不得分)

A. 武汉地区具有重要的军事战略地位：_____


B. 武汉地区曾长期作为地方政治中心：_____

C. 武汉地区商业兴盛，是长江沿岸的商业重镇：_____

【读图解史】



①汉阳铁厂



②湖北军政府成立

(2) 从



以上两幅图片中任选其一，说出所反映的历史事件，并概括其积极意义。（3分）

【战事评说】

武汉会战，是抗日战争时期中国军队在武汉地区同日本侵略军展开的一场大规模战役。战前，日本大本营认为“攻占汉口作战是早日结束战争的最大机会”，“只要攻占汉口、广州，就能统治中国”。武汉会战从1938年6月至10月，在武汉外围沿长江南北两岸展开，战场遍及鄂、豫、皖、赣4省广大地区。此战中国军队浴血奋战，大小战斗数百次，以伤亡40余万的代价，毙伤日军10余万。为避免损失，中国军队于1938年10月有序撤出，武汉三镇陷落。

——牛力《抗日战争时期的武汉会战》

(3) 依据材料并结合所学，谈谈你对武汉会战的评价。（2分）

【实地考察】通过在武汉实地考察，同学们整理出以下资料：

截至2019年，武汉户籍人口908.35万人，流动人口510.30万人。2018年地区生产总值1.48万亿元。市内江河纵横、湖港交织，水域面积占全市总面积四分之一。武汉素有“九省通衢”之称，是中国内陆最大的水陆空交通枢纽和长江中游航运中心，其高铁网辐射大半个中国，是华中唯一可直航全球五大洲的城市。截至2018年末，武汉有普通高校84所，全年在校研究生13.8万人；本专科在校生96.9万人；科技研究机构111个，中国科学院院士31人，中国工程院院士36人。武汉是国家历史文化名城，有众多名胜古迹。法国、美国、韩国、英国、俄罗斯都在武汉设立总领事馆。截至2018年11月，武汉市共发展国际友好城市28个，国际友好交流城市81个。

(4) 2017年4月，中国（湖北）自由贸易试验区武汉片区在东湖高新区挂牌。根据考察资料，分析武汉被纳入自由贸易试验区的有利条件。（2分）

【活动延伸】

习近平抵武汉考察新冠肺炎疫情防控工作

在抗击新冠肺炎疫情的关键时刻，中共中央总书记、国家主席、中央军委主席习近平10日专门赴湖北省武汉市考察疫情防控工作，看望慰问奋战在一线的广大医务工作者、解放军指战员、社区工作者、公安干警、基层干部、下沉干部、志愿者和患者群众、社区居民。



习近平强调，……武汉不愧为英雄的城市，武汉人民不愧为英雄的人民，必将通过打赢这次抗击新冠肺炎疫情斗争再次被载入史册！全党全国各族人民都为你们而感动、而赞叹！党和人民感谢武汉人民！……

——2020.3.10 新华社“新华视点”微博

(5) 抗击新冠肺炎疫情，是一场没有硝烟的战争。赢得这场战争，为什么要特别感谢武汉人

民？谈谈你的理解。（2分）





北京市密云区2020届初三一模

历史学科参考答案与评分标准

一、选择题（每小题 1.5 分，共 45 分）

题号	1	2	3	4	5	6	7	8	9	10	11	12	13	14	15
答案	A	D	C	B	D	B	D	C	B	C	D	C	D	A	D
题号	16	17	18	19	20	21	22	23	24	25	26	27	28	29	30
答案	A	C	D	B	B	D	B	D	C	C	B	D	C	C	C

二、材料分析题（共 45 分）

31. (1) 技术先进；农作物品种多；统治者重视农业。（2分）
 (2) 丝绸之路被金、西夏等所阻；海外贸易收入可观。（2分）
 (3) 专利技术增长迅速。（1分）
 原因：美国重视教育；第二次工业革命的促进。（2分）
 影响：促进美国经济发展。（1分。或促进美国科技发展、促进美国的工业化等）
 (4) 全面深化改革开放；促进“一国两制”事业发展；探索全面建设社会主义现代化强国新路径。（2分。写出两项即可）
32. (1) 从公元前 230 年到公元前 221 年，秦国先后消灭东方六国，完成统一。（2分）
 特点：由近及远（1分。或自西向东）
 (2) （2分。任选其一作答）
 西北：平定了分裂祖国的叛乱，加强了对西北地区的管辖，维护了国家统一。
 西藏：标志着中央政权对西藏地方行使主权达到制度化、法律化程度，有效加强了对西藏的管辖。
 (3) 集中资源办大事。（2分）
 (4) 奴隶制存废问题；国家分裂危机。（2分）解决：通过南北战争或美国内战。（1分）
 (5) 和平统一对中华民族最有利；统一面临台独势力的阻碍和外部势力的干涉。（2分）
33. (1) 历史悠久；注重总结经验；注重实践；受国际认可。（2分）
 (2) 第一次国共合作；（1分）
 创立黄埔军校；进行北伐；建立广东革命根据地；开展国民革命；等（2分。答出两点）
 (3) 原因：美国不顾中国警告，干涉中国内政，威胁中国安全。（2分）
 意义：为我国的经济建设赢得相对和平的国际环境，提高了我国的国际地位。（1分）
 (4) 变化：从“入欧”到“脱欧”。（1分）



现状：存在各种利益分歧，急需改革；欧洲一体化进程受挫。（2分）

34. (1) A. ①②④ B. ①③⑤ C. ⑥ (3分)

(2) (3分。任选其一作答)

①洋务运动。中国近代化起步；促进了中国民族资本主义产生；抵制了外国资本主义侵略。

②辛亥革命。推翻了清王朝的反动统治；结束了中国的君主专制制度。开创了完全意义上的近代民族民主革命；推动了中华民族的思想解放；打开了中国进步潮流的闸门。

(3) 消灭了日军大量有生力量，彻底打破了日军迅速灭亡中国的战略企图；保存了自身实力。（2分）

(4) 交通发达；科研实力雄厚；国际交往基础良好；市场广阔。2分。答出两点即可)

(5) 武汉人民为抗击新冠肺炎疫情做出巨大牺牲；争取了时间；积累了经验。（2分）



北京中考在线
微信号：BJ_zkao



北京中考在线
微信号：BJ_zkao



北京中考在线
微信号：BJ_zkao