



房山区 2019-2020 学年度第一学期阶段性检测试卷


九年级历史

本试卷共 12 页，共 90 分，考试时长 90 分钟。考生务必将答案答在答题纸上，在试卷上作答无效。考试结束后，将答题纸交回，试卷自行保存。

第一部分 选择题（共 45 分）

本部分共 30 小题，每小题 1.5 分，共 45 分。在每小题列出的四个选项中，选出最符合题目要求的一项。

1. 科技革命推动了社会进步。下列科技发明中，把人类带入到“蒸汽时代”的是（ ）



2. 艺术鉴赏力之一是从历史的角度探寻艺术作品的时代背景和时代特色。右图描绘了英国谢菲尔德高耸的工厂烟筒、宽阔的厂房和拥挤的住房。其直接反映的历史是（ ）



1855 年版画《英国谢菲尔德》

- A. 新航路的开辟
- B. 资产阶级革命的开展
- C. 第一次工业革命的开展
- D. 第二次工业革命的开展

3. 国家发改委于 2017 年 3 月 1 日召开的新闻发布会称，截至 2016 年底，我国高速铁路里程居世界第一。回顾人类铁路发展历史，世界第一条铁路及火车机车出现在（ ）


- A. 德国
- B. 美国
- C. 法国
- D. 英国

4. 到 2019 年，它发表了 171 年周年。它的诞生是工人运动发展的迫切需求，它一直成为

世界无产阶级运动的理论指导。这里的“它”是（ ）

- A. 《人权宣言》
- B. 《人民宪章》
- C. 《共产党宣言》
- D. 《民法典》

5. 某校的“历史名人墙”上展出这样一位历史人物，这位人物是（ ）



简介

德国人，他在中学毕业考试的作文中写道：如果我们选择了最能为人类福利而劳动的职业，我们就不会为它的负担所压倒……

1848 年，他为共产主义者同盟起草纲领。在纲领中，号召全世界无产者联合起来，为获得自己的解放事业而斗争。

- A. 恩格斯
- B. 马克思
- C. 伏尔泰
- D. 欧文

6. 法国歌曲《国际歌》曾经被唱遍全球，其中有这样的歌词：“起来，饥寒交迫的奴隶！起来，全世界受苦的人！满腔的热血已经沸腾……”它创作的历史背景是（ ）

- A. 文艺复兴运动的开展
- B. 里昂工人运动的开展
- C. 宪章运动的开展
- D. 巴黎公社无产阶级革命尝试

7. 印度电影《摔跤吧！爸爸》火爆荧幕。片中导演肯定女性的才能，呼吁男女平等。早在 160 年前，印度的巾帼英雄章西女王“不让须眉”，参与领导了（ ）

- A. 拉美独立运动
- B. 印度民族大起义
- C. 北美独立战争
- D. 太平天国运动

8. 下面两幅图片可以共同用于解释某历史主题，这个主题是（ ）



玻利瓦尔（1783-1830）



章西女王（约 1835-1858）

- A. 拉丁美洲的独立运动
- B. 民族解放运动的兴起
- C. 印度反英大起义
- D. 国际工人运动的兴起

9. 《大国崛起》解说词中说到：“内战之后，美国成为了单一的、联合的、强大的国家，这奠定了美国在 20 世纪成为世界第一强国的基础。”这场内战在美国历史上被称为第二次资产阶级革命，其依据是（ ）

姓名
密封线
内
不
能
答
题
班级
学校



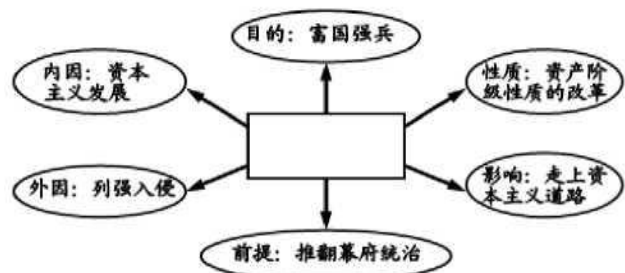
- A. 消除了种族歧视 B. 维护了国家统一
C. 进一步扫清了资本主义发展的障碍 D. 获得了国家独立和民族解放

10. 1862年9月的一天，在美国南方棉花种植园里劳动的黑人暗中传递着一个万份惊喜的消息：他们自由了，他们可以参军了。与这个消息有密切关系的人物和文件是（ ）

- A. 林肯和《独立宣言》 B. 华盛顿和1787年宪法
C. 罗斯福和《解放黑人奴隶宣言》 D. 林肯和《解放黑人奴隶宣言》

11. 观察下面图示。方框内的文字应是（ ）

- A. 日本明治维新
B. 俄国农奴制改革
C. 美国南北战争
D. 法国大革命



12. 斯塔夫里阿诺斯在《全球通史》中写道：“旧制度所显示的破产导致旧制度的变革。第一个变革是解放农奴……”与“解放农奴”相关的重大事件是（ ）

- A. 日本明治维新 B. 美国南北战争
C. 俄国1861年改革 D. 俄国十月革命

13. 下列各项内容来自于某历史公众号推送的一个学习资源包。由此可知，该期推送的历史专是（ ）

- ①论文《彼得一世改革》 ②图片《明治维新时期的小学课堂》
③地图《美国内战》 ④视频《亚历山大二世废除农奴制》

- A. 第二次工业革命及其影响 B. 资本主义制度的扩展
C. 殖民地反抗人民的斗争 D. 一战后资本主义的发展

14. 希腊神话中的普罗米修斯给人间带来了火种，近代也有一位真实的“普罗米修斯”，发明耐用碳丝灯泡，给人类带来便捷的“火种”，让人们告别了蜡烛和油灯。这位真实的“普罗米修斯”是（ ）

- A. 瓦特 B. 爱迪生 C. 法拉第 D. 贝尔

15. 右图所示是两次工业革命的主要成果，它们的核心动力是（ ）

- ①蒸汽动力 ②煤炭 ③石油 ④电力

- A. ①②
B. ②④
C. ①④



D. ②③

16. 1912年4月14日23点40分，泰坦尼克号豪华巨轮在北大西洋撞上冰山，次日凌晨2点20分沉没。下列对于当时情况的场景设置中，符合史实的是（ ）

- A. 船上装有以核能为动力的发动机 B. 瞭望员抓起话筒高喊：“正前方有冰山”
C. 船长拿起手机拨打报警电话求救 D. 游客纷纷通过互联网向家人发送电子邮件

17. 计量统计分析是历史学习的一种重要方法。根据表中信息，下列选项中对列强实力变化原因的分析正确的是（ ）

项目	英国	法国	德国	美国
19世纪中期工业产值所占位次	1	2	4	3
1870~1913年工业增长倍数	1.3	1.9	4.6	8.1
1913年工业产量所占位次	3	4	2	1

- A. 美国、德国实力变化是因为两国较早地确立了资本主义制度
B. 英国、法国实力变化是因为国内局势动荡
C. 英国、法国实力变化是因为开展工业革命较晚
D. 美国、德国实力变化主要是得益于第二次工业革命

18. “乡村往昔田园诗般的生活不见了……建起了灰暗的厂房，城镇竖起高耸的烟囱，工厂里回荡着机器的轰鸣，高炉前喷发出铁水的光亮。”这些现象反映工业革命（ ）

- A. 首先发生在德国 B. 造成了环境污染
C. 降低了生产效率 D. 减少了贫富差距

19. 在一次历史知识竞赛中，主持人对选手提问：“下列世界名人及其成就关联正确的是哪几项？”选手正确的回答应该是（ ）

- ①但丁——《神曲》 ②达尔文——《最后的晚餐》
③贝多芬——《英雄交响曲》 ④莎士比亚——《哈姆雷特》

- A. ①②③④ B. ①②③ C. ②③④ D. ①③④

20. “到1916年，两大军事集团已经在战场上进行了长达两年的厮杀，欧洲开始奔向毁灭，并且疯狂地沿着这条灾难的道路越走越远。”材料认为欧洲“奔向毁灭”的原因是（ ）

- A. 第一次世界大战 B. 巴黎和会 C. “慕尼黑阴谋” D. 希特勒上台

21. “此役是典型的阵地战、消耗战，双方伤亡近100万人。由于伤亡惨重，战场被称为‘绞肉机’、‘屠场’和‘地狱’。”材料中的“此役”是指（ ）

- A. 凡尔登战役 B. 索姆河战役 C. 斯大林格勒战役 D. 诺曼底登陆

22. “大战历时4年多，将30多个国家和地区的15亿人口卷入战争……飞机、坦克、毒气首次用于战争……战争期间，双方死伤达3000余万人，经济损失3400多亿美元”

对上述材料解读有误的是（ ）

- A. 材料中的“大战”是指第一次世界大战

密
封
线
内
不
能
答
题

- B. 这场“大战”的转折点是斯大林格勒战役
 C. 科技的不当应用会给人类带来巨大的灾难
 D. 战争危害巨大，我们要珍爱和平，反对战争

23. 在一个寒冷的夜晚，军舰上（图左）的大炮发出了震撼世界的怒吼，起义部队潮涌般冲进反动政府最后的堡垒（图右），一个新的时代来临了。这件事发生于（ ）



“阿芙乐尔号”巡洋舰



攻打冬宫

- A. 巴黎 B. 彼得格勒 C. 伦敦 D. 华盛顿

24. 与下图信息相符的历史事件是（ ）

- 时间：1917年11月7日
- 性质：人类历史上第一次获得胜利的社会主义革命
- 结果：世界上第一个社会主义国家由此产生

- A. 英国宪章运动 B. 法国巴黎公社 C. 俄国二月革命 D. 俄国十月革命

25. 白小飞同学在网上查找“19世纪20年代的德国”，找到了这张“德国军用飞机被拆解”的照片。当时德国人大规模拆毁军用飞机的原因是（ ）

- A. 新式战斗机代替旧式战斗机
 B. 《凡尔赛和约》的规定
 C. 《九国公约》的规定
 D. 经济危机的影响



26. 历史小组讨论时，小红和小亮就一战后世界新秩序发表了自己的看法（见下图），他们讨论的问题是（ ）

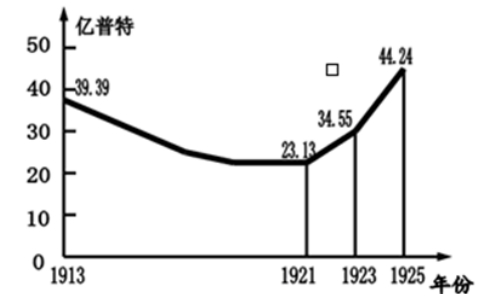


- A. 凡尔赛—华盛顿体系 B. 两极对峙格局 C. 国际反法西斯联盟 D. 世界多极化趋势

27. 巴黎和会后，一位代表说：“我们初来巴黎时，对即将建立新秩序满怀信心，离开时，则感到新秩序比旧秩序更加纠缠不清。”他之所以这样说，是因为巴黎和会后建立的“新秩序”（ ）

- A. 没有改变第一次世界大战前的世界秩序
 B. 彻底消除了战胜国和战败国之间的矛盾
 C. 重新确立了帝国主义在东亚、太平洋地区的统治
 D. 没有根本上消除帝国主义列强之间的矛盾

28. 右图是苏俄（联）粮食产量变化曲线图。1921~1925年粮食产量迅速增长的主要原因是实施了（ ）



- A. 农奴制改革
 B. 战时共产主义政策
 C. 新经济政策
 D. 赫鲁晓夫改革

29. 下表是“1928~1937年苏联工业总产值及钢产量在欧洲和世界所占的地位”，其地位前后发生变化的主要原因是（ ）

	1928年		1932年		1937年	
	世界	欧洲	世界	欧洲	世界	欧洲
工业总产值	5	2	5	2	2	1
钢产量	5	4	5	3	2	2

- A. 十月革命的影响 B. 新经济政策的实施





- C. 第一、第二个五年计划完成 D. 赫鲁晓夫改革
30. 历史人物猜一猜：他是印度民族解放运动的领导人；他是现代印度的国父；他提倡非暴力抵抗的现代政治学说；他被尊称为“圣雄”。他是（ ）
- A. 尼赫鲁 B. 凯末尔 C. 甘地 D. 真纳

第二部分 材料分析题（共 45 分）

31.（10 分）阅读材料，综合运用所学知识回答问题。

材料一 1830~1870 年世界铁路里程统计表（单位：英里）

	1830 年	1840 年	1850 年	1870 年
欧洲				
北美洲	60	1800	14000	65000
亚洲	--	2800	9000	56000
南美洲	--	--	--	1800
非洲	--	--	--	1100
澳洲	---	--	--	1000
全世界总计	60	4600	23200	130000

注：1 英里=1.609344 公里

材料二 19 世纪末，世界铁路发展到 65 万公里，到 20 世纪 20 年代翻了一番，达到 127 万公里，成为世界陆路运输的垄断性工具。铁路的出现，改变了人类社会，不仅体现在成百倍增加的运输量、数十倍提高的运行速度上，还进一步教会了人们遵守时间和纪律，守时守纪成为了现实生活的准则。

材料三 21 世纪初，我国开始大力发展高速铁路。2008 年我国第一条设计时速 350 公里的高速铁路--京津城际铁路开通运营。如今，我国高铁运营里程突破 2 万公里，居世界第一位。

经过引进、消化、吸收、再创新，我国已全面掌握高铁核心技术，中国高铁总体技术水平跻身世界先进行列。具有完全自主知识产权的时速 380 公里 CRH380A 型动车组是我国高铁的标志性产品，也是世界上运营时速最快、科技含量最高、综合性能最好的高速列车，成为代表中国高铁走向世界的一张闪亮国际名片。中国高铁项目已遍及亚、欧、南美等大洲，为世界高速铁路发展注入了强大动力，推动了世界高铁技术发

展。

（1）据材料一，指出世界铁路起源的地区（1 分），并概括 1830~1870 年世界铁路发展的特点（2 分）

（2）综合材料一、二，归纳铁路对人类社会生产生活产生了哪些重大影响。（2 分）

（3）据材料二，概括 21 世纪以来我国高速铁路发展的特点。（2 分）

（4）据材料三，简析我国哪些方针政策的实施促进了我国高铁发展。由中外铁路发展看人类社会文明进步，你能得出什么认识？（3 分）

32.（10 分）社会主义革命和事业是 20 世纪影响最为广泛的事件。阅读下列材料，回答问题。

材料一 十月革命一声炮响，给我们送来了马克思列宁主义。

——毛泽东

（1）根据材料一并结合所学知识分析，“十月革命一声炮响”是指什么具体的历史事件？（1 分）“十月革命给中国送来了马克思列宁主义”，列举十月革命给中国带来影响的事例。（1 分）

材料二 1913~1925 年苏俄（联）粮食产量变化表

项目 \ 年份	1913 年	1921 年	1923 年	1925 年
粮食产量（亿普特）	39.79	22.13	34.55	44.24

——摘自《历史——经济成长历程》

（2）概括 1921~1925 年苏俄粮食产量的变化趋势。（1 分）。结合所学知识，分析出现

密
封
线
内
不
能
答
题



这一变化趋势的主要原因。(1分)

材料三 1928~1937年苏联工业产值及重要工业产品在欧洲和世界的排名

项目 \ 年份	1928年	1932年		1937年	
	世界	世界	欧洲	世界	欧洲
工业生产总产值	5	3	2	2	1
机器制造业	4	2	1	2	1
拖拉机	4	2	1	2	1
电力	10	7	4	3	2
石油	3	2	1	2	1
钢	5	5	4	3	2

(3) 上述表格反映了怎样的历史现象?(2分) 出现这一历史现象的原因是什么?(2分)

材料四 我们不得不付出代价,为苏联经济体制所固有的过分以来原料工业和国防工业而损害日用消费品生产的发展付出代价……为限制甚至压制企业、个人的创造性和进取精神付出代价。今天我们在收割那几十年的苦果,既有物质上的,也有精神上的。

——普京《千年之变的俄罗斯》

(4) 结合所学知识回答,材料四中“苦果”的根源是什么?(2分)

33. (12分) 科技发展是大国崛起的重要因素,崛起后的大国影响着世界格局的发展演变。阅读下列材料,回答问题。

材料一 宋代是中国古代科学技术发展史上最辉煌的时期,几乎在所有中国传统科学技术领域都留下了新的记录。举世闻名的四大发明中有三项完成于两宋时期……为推动世界历史的进程和世界文明的发展作出了巨大贡献。

——杨宁一主编《历史学习新视野新知识》

材料二 “如果人们把整个人类社会的演进用12个小时来表示,那么现代工业时代只代

表最后5分钟,而不是更多。”英国是最先发生这个5分钟事件的地方,工业革命可能是最初的关键几秒钟。正是这个革命使现代文明降临人间,人类开始从农业文明向工业文明过渡。

——马克垚主编《世界文明史》

材料三 18世纪六十年代、19世纪七十年代,人类历史上先后发生了两个重大事件,在动力方面,出现了改良蒸汽机、发电机、电动机,内燃机等;在交通运输方面,创制了蒸汽轮船、蒸汽机车、汽车、飞机等;在通讯方面,发明了电报、电话等;在经济结构方面,重工业取代轻纺工业,成为工业生产的主要成分;在世界贸易方面,1870年以后的三十多年间,贸易额增长了约三倍。

——改编自《历史》

材料四 中国的一些有识之士受到第二次鸦片战争中“庚申之变”圆明园被焚的极大刺激和震撼,感到学习西方先进军事技术势在必行,终于启动了一场持续了30多年的“自强运动”。

——郑家馨《中华文明同西欧工业文明的融会和碰撞》

(1) 材料一所说的三项发明分别是什么?(3分) 根据材料一,概括三项发明的历史作用。(2分)

(2) 材料二中的“5分钟事件”指什么?(1分)

(3) 根据材料三,分析“两个重大事件”的影响。(4分)

(4) 材料四中的“自强运动”对中国近代社会发展产生了哪些积极影响?(2分)

34. (13分) 阅读下列材料,回答问题。

材料一 19世纪末20世纪初,主要资本主义国家相继进入帝国主义阶段,帝国主义国家间的争霸斗争愈演愈烈。它们根据各自的利益结盟,最终形成了两大对峙的军事集

团……随着两大集团的形成，国际局势更加动荡不安，争霸各国剑拔弩张，欧洲大陆的上空弥补着战争的乌云。

(1) 写出材料一中“两大对峙的军事集团”的名称。(2分)“争霸各国剑拔弩张”，最终成为“战争”导火线的是哪一事件?(2分)

材料二 主要工业国家在世界工业中的比重(%)

年份 \ 国家	英国	法国	德国	美国
1820年	50	15—20	—	10
1870年	32	10	13	23
1896—1900年	20	7	17	30
1913年	14	6	16	36

材料三 1913年英德美法的实力对比表

国家名称	英国	法国	德国	美国
在工业产品数量中所占的位次	3	2	1	4
在殖民地面积中所占位次	1	4	5	2

(2) 根据材料一、二、三并结合所学知识，“欧洲大陆的上空弥补着战争的乌云”的原因是什么?(3分)

材料四 1919年巴黎和会暂时调整了帝国主义战胜国在西方的相互关系，但在远东、太平洋地区，它们之间的矛盾仍很尖锐，各国海军军备竞赛加剧。1921年11月12日~1922年2月6日在美国首都华盛顿举行了一次会议，参加国有美国、英国、日本、法国、意大利、比利时、荷兰、葡萄牙和中国。会议实际是在美、英、日三国操纵下进行的。

——罗伯特·E·勒纳《世界文明史》

(3) 材料二中两次国际会议的召开导致“一战”后帝国主义国际关系新格局的形成，这一格局被称为什么?(2分)

材料五 当前，国际形势总体上已走向缓和，但是大国强权和霸权主义造成的地区争端以及恐怖主义活动仍在威胁世界的和平与发展，国际社会只有用对话代替对抗，开展广泛的交流与合作，才能真正避免战争，维护和平。

(4) 谈谈从材料五中得到的认识。(4分)

密封线内不能答题

