



微信扫一扫，快速关注

初三道德与法治

第一部分 选择题(40分)

选择题部分共 20 道小题,每小题 2 分,共 40 分。每小题只有一个选项最符合题意。

1. 党的十九大报告中提出的_____是马克思主义中国化的最新成果,是中国特色社会主义理论体系的重要组成部分,是全党全国人民为实现中华民族伟大复兴而奋斗的行动指南,必须长期坚持并不断发展。

- A. 坚持党的基本路线不动摇
- B. 坚定不移走改革开放道路
- C. 邓小平建设有中国特色社会主义理论
- D. 习近平新时代中国特色社会主义思想

2. 2018 年秋分,作为第一个在国家层面专门为农民设立的节日是

- A. 中国农业促进节
- B. 中国农民丰收节
- C. 中国农民秋收节
- D. 中国农民发展节

2018 年是改革开放 40 周年。改革开放的事实雄辩地证明,我国已经找到了一条使国家强盛、人民富裕的正确道路。据此回答 3、4 题

3. 下列能证明改革开放道路正确的事实为

- ①我国经济总量稳居世界第二位,综合国力显著提高
- ②我国人民生活不断改善,家庭财产稳步增加
- ③我国城乡就业规模持续扩大,已经消除贫困
- ④我国已经建成一批接近或达到世界先进技术水平的工程项目

- A. ①②③
- B. ①②④
- C. ①③④
- D. ②③④

4. 2018 年 11 月 13 日,“伟大的变革——庆祝改革开放 40 周年大型展览”在国家博物馆开幕。此次展览充分展示 40 年来,在党的带领下,中华民族迎来了从站起来、富起来到强起来的伟大飞跃。这说明

- A. 党的领导真是好,全面小康实现了
- B. 综合国力大提升,国家进入现代化
- C. 改革开放强国路,党的恩情永不忘
- D. 改革开放为中心,人民生活真幸福

5. 党的十九大报告中指出:“经过长期努力,中国特色社会主义进入了_____,这是我国发展新的历史方位。”

- A. 新时代
- B. 新常态
- C. 关键期
- D. 攻坚期

6. 我国宪法规定了国家的根本政治制度。这一根本政治制度是

- A. 政治协商制度
- B. 人民代表大会制度
- C. 民族区域自治制度
- D. 基层群众自治制度

7. “全面建成小康社会、全面深化改革、全面_____、全面从严治党”的提出,完整地展现了中央治国理政的总体框架,四者是一个密切联系、相辅相成、有机统一的整体。

- A. 依法治国
- B. 建设新农村
- C. 推进城乡一体化
- D. 进行司法改革

8. 2018 年 11 月 24 日,第十届北京市中小学生科学建议奖揭晓,最终有十个项目从 3923 项“小点子”中脱颖而出。学生们从生活中寻找创意,聚焦交通治理、环境保护、绿色奥运等热点问题,为首都的建设发展建言献策。这一活动有助于中小學生

- ①进一步扩大政治权利
- ②提升政治素养和参与能力
- ③直接行使管理国家事务的权力
- ④增强科学精神和社会责任感

- A. ①②
- B. ①③
- C. ②④
- D. ③④

9. 微博、微信朋友圈等为我们实现言论自由权利提供了便捷的渠道,但它们也往往成为谣言的集散地。近年来,政府不断加大对网络造谣、传谣者和责任人的打击力度。这告诫我们

- A. 要杜绝使用微信、微博
- B. 行使权利不受别人干涉
- C. 言论自由是权利,想说什么都可以
- D. 要在法律允许的范围内行使权利

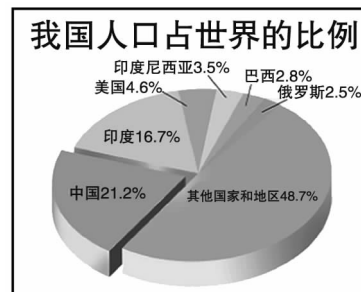


10. 维护国家安全、荣誉和利益是宪法规定公民应当履行的基本义务。以下能体现公民履行该义务的是

- A. 王某喜爱游山玩水,经常在名胜古迹写下“王某到此一游”
- B. 李某发现同学事先知道月考试题,立即将情况反映给老师
- C. 现役军人吴某无意中把含有军事秘密的照片与友人分享
- D. 方某发现某网站绘制的中国地图领土不完整,要求网站立即改正

11. 右图反映出我国社会主义初级阶段在人口方面的国情是

- A. 人口最多的国家
- B. 人口基数大
- C. 人口素质偏低
- D. 人口老龄化速度加快



12. 2018年7月,教育部、财政部研究制定《银龄讲学计划实施方案》,面向社会公开招聘一批优秀退休校长、教研员、特级教师、高级教师等到农村义务教育学校讲学。国家这一举措有助于

- ①促进城乡义务教育均衡发展 ②从根本上解决农村地区教育资源匮乏的问题
③发挥优秀退休教师引领示范作用 ④让农村孩子享受到更高质量的教育

- A. ①②③ B. ①②④ C. ①③④ D. ②③④

13. 厨余垃圾是指居民日常生活及食品加工、餐饮服务等活动产生的垃圾。结合右图,对厨余垃圾资源化认识正确的是



- ①增加成本,得不偿失 ②循环使用,节约资源
③体现可持续发展理念 ④符合生态文明建设需要

- A. ①②③ B. ①②④
C. ①③④ D. ②③④

14. 2018年1月1日起施行的《中华人民共和国环境保护税法》是我国第一部推进生态文明建设的单行税法,其中确立了多排多征、少排少征、不排不征和高危多征、低危少征的正向减排激励机制。该税法的施行

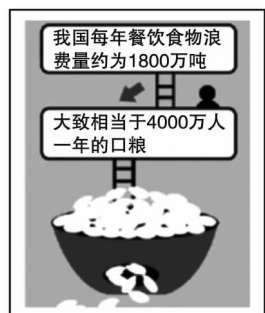
- A. 表明了环境保护的意识已经深入人心
B. 说明了我国把环境治理作为国家的中心工作
C. 提高了企业的排污成本,不利于企业发展
D. 践行了绿水青山就是金山银山的理念

15. 五十多载寒来暑往,河北塞罕坝林场几代人持续造林护林100多万亩,将原来“黄沙遮天日,飞鸟无栖树”的荒山秃岭修复成“蓝天白云游,绿野无尽头”的“华北绿肺”。从人与自然关系角度看,塞罕坝的生态变迁给我们的启迪是

- ①人与自然相互依存,共生共荣
②我国实现了人与自然和谐共生
③自然能满足人类一切需要
④人类顺应、尊重、保护自然,自然滋养人类

- A. ①② B. ②③ C. ①④ D. ③④

16. 在餐馆里,要是吃不了那么多,你会点很多菜吗?在家里,扔掉来不及吃完、过期变质的食物,你会心疼吗……减少右图中存在的问题,首要的是



- A. 增加粮食产量
B. 提升餐饮品质
C. 控制人口数量
D. 树立勤俭意识

科学技术从来没有像今天这样深刻影响着国家前途命运,从来没有像今天这样深刻影响着人民生活福祉。据此回答17、18题

17. 2018年8月在重庆举办的第33届全国青少年科技创新大赛,大力鼓励青少年参与科技创新。这是因为

- A. 科技是支撑社会生产力和综合国力的战略支撑
B. 奖励青少年创新能力的根本途径
C. 我国科技摆在优先发展的战略地位
D. 只有青少年才具备创新的条件

18. 智能手机已成为须臾不可离身的生活伴侣,语音助手、刷脸支付、解答在线购物问题的“机器人”等早已融入日常生活;在教育、医疗、交通、旅游、家居等领域,人们初尝“人工智能+”带来的便利……

如果为以上新闻写一个标题,最恰当的是

- A. 自主创新惠及全球 B. 技术为本科技强国
C. 科技创新点亮生活 D. 智慧物流经济提速

创新是一个民族进步的灵魂。创新是永不满足、不断探索的行动,是独立思考、积极向上的人生追求。据此回答19、20题

19. 下列行为体现创新的是

- A. 宁宁课余时间学习街舞
B. 小蕊在无人售货商店刷脸购物
C. 小科用新方法解答数学题
D. 小新借助手机软件“作业帮”轻松“搞定”家庭作业的答案

20. 从“三个和尚没水喝”到“三个和尚有水喝”,有人给出这样的解决方案:一是三个和尚接力挑,分工协作水满快,这叫机制创新;二是竹子管道巧引水,改进工具水自来,这叫技术创新……“三个和尚有水喝”说明创新需要

- A. 破除僵化,转换思维角度 B. 努力学习科学文化知识
C. 敢于否定一切旧的事物 D. 少动手多思考,等待灵感



微信扫一扫,快速关注

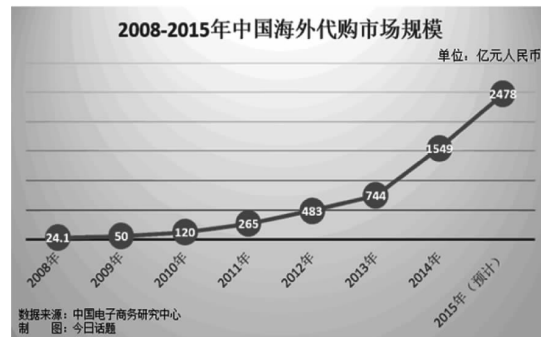
第二部分 非选择题(50分)

21. (6分) 阅读材料, 回答问题。

2015年, 某大型外贸超市在网络上单日卖出了224万升进口牛奶, 接近中国人每天液体奶需求量的一成, 是当日最受中国人欢迎的跨境商品。与此同时, 国外进口的化妆品、婴儿奶粉等, 成为最畅销的“海淘”单品。

如右图, 2008至2015年中国海外代购市场规模呈不断扩大趋势。

结合材料, 分析出现这种现象的原因及给我国经济发展带来的启示。(6分)



22. (8分) 阅读材料, 回答问题。

共享单车给公众带来方便的同时, 也出现了一些引起社会关注的现象。如“乱停乱放”“故意毁坏”“加装私锁”“将共享单车搬回家”等事件; 又如押金无法正常退还、超额收费、使用者在骑车过程中受伤等问题也备受社会关注。有评论认为, 共享单车既是公众素质的“照妖镜”, 也是公共管理素质的“显微镜”。

(1) 治理共享单车乱象, 需要各方共同努力。依据所学, 完成下列表格。(3分)

治理主体	应发挥的作用	理论依据
人大	应制定和完善相关法律法规, 为共享单车的健康发展提供法制保障。	① _____ (1分)
政府	应对共享单车这种公共产品进行必要的管理, 使其更好地服务大众。	② _____ (1分)
市民	③ _____ (1分)	我国是人民民主专政的社会主义国家, 宪法规定公民享有广泛的基本权利。

(2) 治理共享单车乱象, 我们仍然在路上, 对此有人发出这样的声音:



请你将乙的观点补充完整。(5分)

23. (6分) 阅读材料, 回答问题。

2018年3月11日, 十三届全国人大一次会议通过了宪法修正案。17日上午, 当选中华人民共和国主席、中华人民共和国中央军事委员会主席的习近平总书记, 抚按宪法, 紧握右拳, 庄严宣誓。这是宪法宣誓制度实行以来, 首次在全国人民代表大会上举行宪法宣誓仪式, 这不仅是个庄严的仪式, 也是彰显宪法权威的重要方式。



习近平主席进行宪法宣誓

结合所学, 说明为什么要彰显宪法的权威?(6分)

24. (6分) 以下是一道七年级语文测试题和一位同学的答案, 请你阅读后回答问题。

十一、语文实践。(4分)

如果你的爸爸妈妈想再给你添一个弟弟或妹妹, 来跟你商量, 你会说些什么? 请把你想要说的话写在横线上, 尽量把你的意见说明白, 把理由说具体。

我会说: “我能不能不要再添弟弟妹妹啊? 因为如果添了的话, 我就不再是独生子女了, 那样你们肯定会更爱他(她)了, 我出了事也不会全力去救我, 因为你们心里一定会想, 没关系, 即使有意外, 还有弟弟(妹妹)呢!”

针对这位同学想象中对家有“二孩”的忧虑, 请你结合所学, 从个人、家庭和国家三个角度, 给这位同学写一封信, 帮助她解开心结。(6分)

同学:

你好! _____

×××
×年×月×日



微信扫一扫, 快速关注

25. (10分)某中学九年级开展了以“环境保护 人人有责”为主题的实践活动。请你参与其中,并完成相应任务。

【环保国策面面观】

九年级(1)班学生通过网上查阅资料搜集到以下信息

党的十九大报告提出:建设生态文明是中华民族永续发展的千年大计。必须树立和践行绿水青山就是金山银山的理念,为此北京市政府采取了以下一些举措

①推动农村“煤改清洁能源”
②加入精准治污的“千里眼计划”
③在小区、写字楼、酒店、闹市区投放小黄狗智能垃圾分类回收机

任务一:上述举措落实了我国的哪项基本国策?(2分)

【环保原因解解看】

村庄美起来 农民富起来

2018年7月25日上午,北京市实施乡村振兴战略美丽乡村绿化工作推进会在大兴区礼贤镇召开。未来,首都乡村将逐步达到“村在林中、路在绿中、房在园中、人在景中”的景观效果。

村庄绿化作为美丽乡村唯一有生命力的基础设施,不但承担着公共服务的重要功能,而且是惠民富农的重要依托。结合新型集体林场试点工作,在公益林和经济林下,适度发展生态休闲、林下生态种植和生态养殖,实现生态与富民的统一。

任务二:上述材料告诉我们什么道理?(4分)

【环保倡议人人提】

环境保护 人人有责

老师们、同学们:

保护环境,是每一个公民义不容辞的责任。为创建绿色校园,我们倡议:

- 争做文明使者,保护绿色生命。
- _____
- _____
- 珍惜粮食,厉行节俭,减少浪费。

让我们携手为创建绿色校园贡献自己的一份力量!

××中学 九年级全体学生
2019年1月

任务三:为建设绿色校园,请写出你的倡议。(4分)

26. (14分)“这是一座圆梦桥、同心桥、自信桥、复兴桥”。2018年10月23日,被誉为“超级工程”的港珠澳大桥开通仪式在广东珠海举行。阅读材料,回答问题。

材料一:港珠澳大桥是国家工程、国之重器。它的建成是新发展理念落地开花。

(1)请将表格补充完整。(4分)

港珠澳大桥特点	体现的新发展理念
港珠澳大桥整个建筑群形成“三点一线”的规划格局,“中国结·三地同心”寓意着“一地三通,如意牵手”。	示例:共享
它被誉为“新的世界七大奇迹”之一。在大桥的建设过程中,科学家和工程师们创造了400多项新专利、7项世界之最。	_____(1分)
大桥建设高标准实现了对世界濒危海洋哺乳动物中华白海豚“零伤亡,不搬家”的承诺。	_____(1分)
“伙伴关系”是港珠澳大桥管理局推行的理念。参与大桥建设的队伍来自包括美国、英国、德国、荷兰、丹麦、日本等多个国家和地区。	_____(1分)
“轮势随天度,桥形跨海通”。港珠澳大桥的建设,集三地之力,融三地之智,便三地之民,在“一国两制”下协同决策、协调发展。	_____(1分)

材料二:港珠澳大桥修建成功离不开各大高校和科研院所的不懈努力和通力合作:

中交公路规划设计院有限公司董事、副总经理孟凡超作为港珠澳大桥的总设计师,率领他的团队完成一项集桥、岛、隧于一体的“超级工程”——港珠澳大桥的勘察设计工作。

重庆交通大学学子——承担“港珠澳大桥隧道防灾减灾”、安装白海豚塔项目。

华南理工大学张肖宁教授团队——承担港珠澳大桥16公里连续钢箱梁和大跨径钢箱梁结构桥梁的沥青铺装技术研究任务。

.....

(2)结合上述材料及所学,写出从中获得的启示。(4分)

材料三:看到港珠澳大桥顺利通车,看到世界各方的赞誉,有同学发出感叹“厉害了,我的国!我国已经进入科技强国之列!”

(3)运用所学知识,对该同学的说法进行评析。(6分)

