



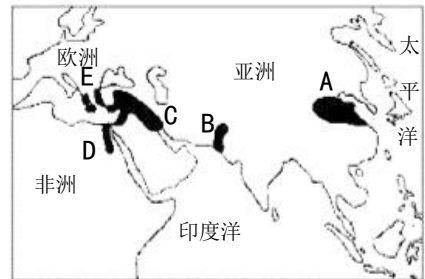
考生须知

1. 本试卷共9页，共30道选择题，4道材料分析题。满分100分。考试时间90分钟。
2. 在试卷和答题卡上准确填写学校名称、姓名和学号。
3. 试题答案一律填涂或书写在答题卡上，在试卷上作答无效。
4. 在答题卡上，选择题用2B铅笔作答，其他试题用黑色字迹签字笔作答。

第一部分 选择题（共45分）

本部分共30小题，每小题1.5分，共45分。在每小题列出的四个选项中，选出最符合题目要求的一项。

1. 人类历史上相继诞生了丰富多彩的古代文明。关于右图中D地文明，下列说法正确的是



- A. 建成了哈拉帕等城市
- B. 制定了《汉谟拉比法典》
- C. 铸造了司母戊鼎
- D. 建造了金字塔

2. 古代希腊是欧洲文明的发祥地，由众多城邦组成。其中，以实行民主政治而著称的是

- A. 雅典
- B. 斯巴达
- C. 罗马
- D. 马其顿


3. 建筑是凝固的艺术。下列建筑中属于古希腊建筑艺术成就的是



①



②



③



④

- A. ①④
- B. ②
- C. ②③
- D. ④

4. 右侧人物曾历经10年征战，建立起地跨欧、亚、非三洲的大帝国。他是

- A. 伯里克利
- B. 屋大维
- C. 亚历山大
- D. 查理曼

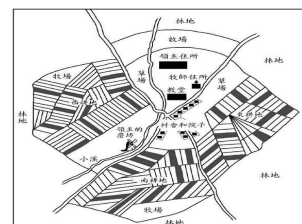


5. 某历史学习小组正在进行讨论，内容涉及封君与封臣、什一税、领主与佃户、租地农场。由此判断，他们讨论的主题是

- A. 上古亚非文明
- B. 古代欧洲文明
- C. 亚洲封建时代
- D. 中世纪的西欧

6. 9世纪开始，欧洲逐渐形成了如右图所示的一种经济组织形式。它是

- A. 西欧庄园
- B. 城市法庭
- C. 自治城市
- D. 手工工场





7. 被誉为欧洲中世纪教育“最美好的花朵”的是

- A. 文艺复兴运动
- B. 大学的兴起
- C. 城市重新兴起
- D. 太学的兴办

8. 依据右图知识卡片所列内容，判断该国家是

- A. 查理曼帝国
- B. 西罗马帝国
- C. 阿拉伯帝国
- D. 拜占庭帝国

首都：君士坦丁堡  
 法律：《罗马民法大全》  
 灭亡：1453 年被奥斯曼帝国所灭

9. 改造了古印度人从 0 到 9 的计数法，并创造了完整的代数学的是

- A. 法兰克人
- B. 印度人
- C. 阿拉伯人
- D. 罗马人

10. 下列作品在纪念莎士比亚的活动中最有可能展演的是

- ①《荷马史诗》
  - ②《哈姆雷特》
  - ③《罗密欧与朱丽叶》
  - ④《天方夜谭》
- A. ①②
  - B. ②③
  - C. ②④
  - D. ③④

11. 右图是位于西非塞内加尔的戈雷岛，1978 年被列为世界文化遗产。15-19 世纪，至少有数千万黑人从这里被转卖，有 500 万黑人死于岛上。该岛直接见证了



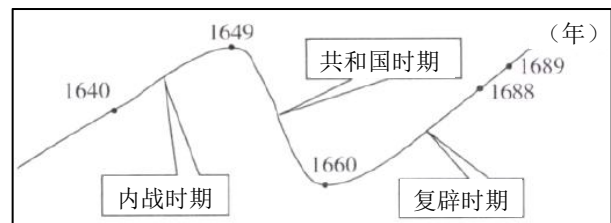
- A. 鸦片贸易
- B. 三角贸易
- C. 种姓制度
- D. “非洲年”

12. 从 17 世纪下半叶起，通过一系列战争夺取了大片殖民地，自诩为“日不落帝国”的是

- A. 西班牙
- B. 葡萄牙
- C. 荷兰
- D. 英国

13. 在学习了资本主义制度的确立和扩展后，同学们绘制了下图。它呈现的是下列哪个历史事件的发展进程

- A. 美国独立战争
- B. 法国大革命
- C. 日本倒幕运动
- D. 英国资产阶级革命



14. 以下发明中，属于第一次工业革命的是

- ①瓦特蒸汽机
  - ②珍妮机
  - ③汽车
  - ④飞机
- A. ①②③
  - B. ①②
  - C. ②③④
  - D. ③④

15. 右侧材料表述了美国内战的

- A. 背景
- B. 经过
- C. 意义
- D. 条件

经过这场战争，美国维护了国家统一，废除了奴隶制，清除了发展的最大障碍，为以后经济的迅速发展创造了条件。

16. 同学们在学习欧美早期资产阶级革命时，针对某历史人物展开了辩论。下面是双方辩手的部分观点。据此判断，该历史人物是

正方

他主持制定的民法典，今天仍然在该国施行，很多国家的民法都以其为参照蓝本。

反方

他统治后期发动了对外战争，对当地人民进行了压榨和掠夺。

- A. 克伦威尔
- B. 杰斐逊
- C. 华盛顿
- D. 拿破仑



微信扫码，快速关注

17. 马克思给我们留下的最有价值、最具影响力的精神财富，就是以他名字命名的科学理论——马克思主义。马克思主义诞生的标志是

- A. 《资本论》的发表
- B. 《德意志意识形态》的发表
- C. 《共产党宣言》的发表
- D. 《政治经济学批判》的发表

18. 某校为举办展览，搜集了下列图片。图中人物的共同之处是



章西女王



玻利瓦尔



华盛顿

- A. 创立了新的国家
- B. 反抗了殖民压迫
- C. 解放了黑人奴隶
- D. 结束了封建统治

19. 某法令规定：农奴获得人身自由，可以自由转换职业；在获得解放的同时，可以获得一份土地，但必须出钱赎买。该法令的颁布者是

- A. 彼得一世
- B. 亚历山大二世
- C. 赫鲁晓夫
- D. 戈尔巴乔夫

20. 有学者将日本 7 世纪中期和 19 世纪中期的变革，称之为日本的“汉化”和“欧化”。与之相对应的“变革”是

- ①废奴运动
  - ②大化改新
  - ③明治维新
  - ④百日维新
- A. ①②
  - B. ③④
  - C. ②③
  - D. ②④

21. 19 世纪中期，出版了《物种起源》，提出了进化论观点的生物学家是

- A. 牛顿
- B. 梵高
- C. 贝多芬
- D. 达尔文

22. 右图描绘了 1914 年 6 月 28 日，奥匈帝国斐迪南大公夫妇被塞尔维亚族青年刺杀的情景。该事件直接引发了



- A. 英法俄三国协约的建立
- B. 中美日加入协约国集团
- C. 德意奥三国同盟的建立
- D. 第一次世界大战的爆发

23. 右侧是某同学创作的一幅漫画，反映了他对 20 世纪初一次国际会议的认识。该会议是



- A. 巴黎和会
- B. 华盛顿会议
- C. 开罗会议
- D. 雅尔塔会议

24. 1921 年俄国粮食产量是 22.13 亿普特，1923 年达到 34.55 亿普特。这得益于实行了

- A. 工业化政策
- B. 新经济政策
- C. 农业集体化
- D. “五年计划”

25. 下列发生在第二次世界大战期间的重大事件，按照时间先后顺序排列，正确的是

- ①签署《联合国宣言》
  - ②德军突袭波兰
  - ③九一八事变
  - ④日本投降
- A. ④①②③
  - B. ①③②④
  - C. ③②①④
  - D. ①③④②



26. 第二次世界大战的转折点是

- A. 凡尔登战役
- B. 诺曼底登陆
- C. 日军偷袭珍珠港
- D. 斯大林格勒战役

27. 某同学正在演讲，内容涉及杜鲁门主义、马歇尔计划、德国分裂、“北约”“华约”，他演讲的主题最有可能是

- A. 欧洲联合
- B. 冷战
- C. 经济全球化
- D. 东欧剧变

28. 右侧材料是对某国际组织的介绍，该组织是

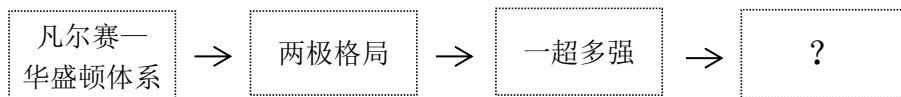
- A. 世界贸易组织
- B. 欧盟
- C. 联合国
- D. 七十七国集团

	<p>维持国际和平及安全；制止侵略行为或其他和平之破坏；调整或解决足以破坏和平之国际争端或情势。</p>
--	--

29. 成立于 1995 年，以制定和规范多边贸易协定、组织贸易谈判、解决贸易争端等为职能的组织是

- A. 亚太经合组织
- B. 上海合作组织
- C. 国际货币基金组织
- D. 世界贸易组织

30. 以下示意图呈现了 20 世纪以来世界政治格局的演变。其中“？”处应为

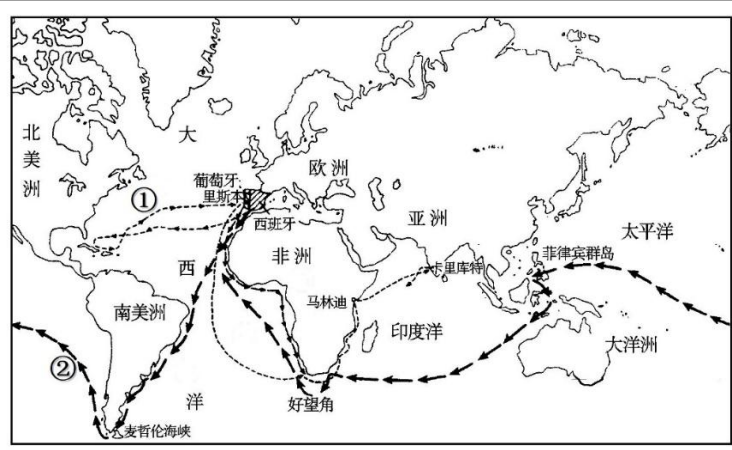


- A. 多极化趋势
- B. 一体化趋势
- C. 自由世界
- D. 单级世界

### 第二部分 材料分析题（共 55 分）

31. （15 分）联结的世界·变化的世界·发展的世界

材料一




 <p style="text-align: center;">新航路的开辟</p>	<p>美洲的作物在非洲、亚洲和欧洲生根发芽，有玉米、马铃薯、豆类、番茄、美洲辣椒、花生……到了 18 世纪，在亚欧人的饮食中，玉米和马铃薯的比重大大提高。花生和树薯……以丰厚的产出，支撑着众多的人口。</p> <p style="text-align: right;">——摘编自《新全球史》</p>
---	--

(1) 观察材料一中的地图，写出开辟①②两条新航线的航海家。(2 分) 依据材料一，概括新航路开辟的影响。(3 分)



微信扫一扫，快速关注

### 材料二

建筑图片	图片解读
 <p>图1 威斯敏斯特宫, 又称议会大厦, 是英国议会所在地</p>	<p>“光荣革命”后, 英国议会通过《权利法案》, 确立了议会在国家政治生活中的最高地位, 逐渐形成了君主立宪制。</p>
 <p>图2 自由女神像, 女神右手高举火炬, 左手持有一部典籍, 上面刻着“1776年7月4日”</p>	
 <p>图3 埃菲尔铁塔, 为庆祝法国大革命胜利100周年而建造</p>	

(2) 仿照材料二中对图1的解读示例, 从图2、图3中任选一幅, 完成对该图片的解读。(4分)

### 材料三

1811-1871年英国就业人口比例(%)的变化

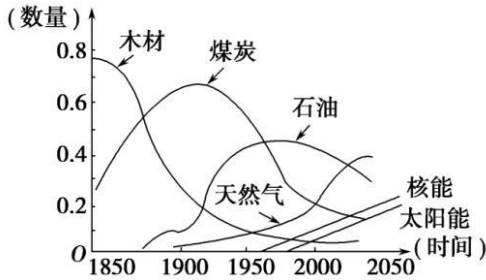
年代 行业	1811	1821	1831	1841	1851	1861	1871
农业	35.2	33.3	28.1	22.3	22.0	18.8	15.3
工商运输业	44.4	45.9	42.1	48.5	53.8	55.7	54.6
其他	20.4	20.8	29.8	29.2	24.2	25.5	30.1

(3) 观察材料三, 写出1811~1871年期间英国的“就业人口”比例发生的变化。(2分) 说出变化的主要原因。(1分)



微信扫一扫，快速关注

### 材料四



19 世纪中期以来世界能源消费趋势

在第二次工业革命期间，几乎没有什么工业部门未曾受到科学新发现的影响。在 19 世纪，自然科学特别是热力学、电磁学、化学等方面的新发展，开始与工业生产紧密地结合起来，在技术上取得一系列重大的突破，并带动了相应的许多新兴工业部门的兴起。

——吴于廑、齐世荣《世界史·近代史编》

(4) 依据材料四，指出第二次工业革命期间出现的新能源。(2 分) 归纳第二次工业革命的特点。(1 分)

### 32. (14 分) 城市·发展·可持续

#### 材料一 中世纪西欧城市气象

市民们通常能说服国王向他们颁发皇家特许状，准许他们拥有自己的市政厅、法院以及市外属地；准许商人和工匠组织行会，用以防护和互助，但不能完全摆脱国王和领主控制。正如当时的俗话所说的那样：“城市的空气使人感到自由。”在某些地区，一批批城市联合起来组成联盟，这些联盟成为强有力的政治及经济统一体。1350 年，不来梅、但泽等城市组成了汉萨同盟，迫使外国承认它们的商业特权，实际上垄断了北部欧洲的贸易。

——摘编自《全球通史》

(1) 依据材料一，指出中世纪西欧城市的发展状况。(3 分)

#### 材料二 佛罗伦萨城的历史遗迹



图 1 米开朗琪罗广场



图 2 但丁故居



图 3 达·芬奇故居

(2) 佛罗伦萨位于意大利中部，是文艺复兴的摇篮。去过当地的网友纷纷感慨，佛罗伦萨上空至今仍弥漫着浓浓的文艺复兴韵味。请参照范例，从“图 2”“图 3”中任选其一，说明与其相关的历史人物，及他们的成就所体现的“文艺复兴韵味”。(4 分)

#### 『范例』

图 1 米开朗琪罗是文艺复兴“美术三杰”之一，《大卫》是其创作的大理石雕塑。塑造了大卫的英雄形象，表现了人类的巨大力量，是人文主义思想的具体体现。

#### 材料三 近现代城市的发展

序号	资料
1	19 世纪后期，伦敦有钱人以乘坐汽船游览泰晤士河为时尚。但这些巨大的蒸汽轮船，在河中冒着呛人的浓烟；岸边工厂排放的污水，也使河水变得污浊不堪。
2	1955 年日本经济开始进入高速增长期。电视、冰箱、洗衣机及塑料制品的普及，东京的垃圾排放量随即急剧上升，使焚烧塑料产生的有害气体及垃圾处理场环境问题成为主要公害之一。
3	从 2005 年起，上海市科委先后在工业节能、交通节能、资源循环利用等方面部署了约 200 项重大科技攻关项目，为上海的低碳发展之路奠定了良好技术基础。



微信扫一扫，快速关注

4	丹麦哥本哈根利用风能资源，建立海上风能发电厂，总产能160兆瓦，占全国耗电量的2%，为15万户居民提供电能，年碳减排量66万吨。
5	纽约是国际级的艺术及传媒中心，被视为都市文明的代表。纽约有着多家著名大学，有着众多的世界级博物馆、画廊和演艺比赛场地，是西半球的文化及娱乐中心之一。
6	北京是全球拥有世界文化遗产最多的城市，拥有众多名胜古迹和人文景观。北京市会展、新闻出版业发达，注册博物馆多达151座，列世界第二。北京同时也是全国教育最发达的地区。

(3) 阅读上表中的资料，围绕城市发展，提炼两个主题，主题立意明确，每个主题必须涵盖两条以上资料。(4分)

#### 材料四 北京建设“世界城市”

北京市提出了建设“世界城市”的目标。要实现“世界城市”的目标，对城市生态环境提出更高要求，将环境保护与建设“世界城市”目标相结合，则是实现环境保护与建设“世界城市”“双赢”的有效途径。

(4) 北京建设“世界城市”需要同学们的参与，请你提出一项助力北京建设环境友好型城市的行动建议。(3分)

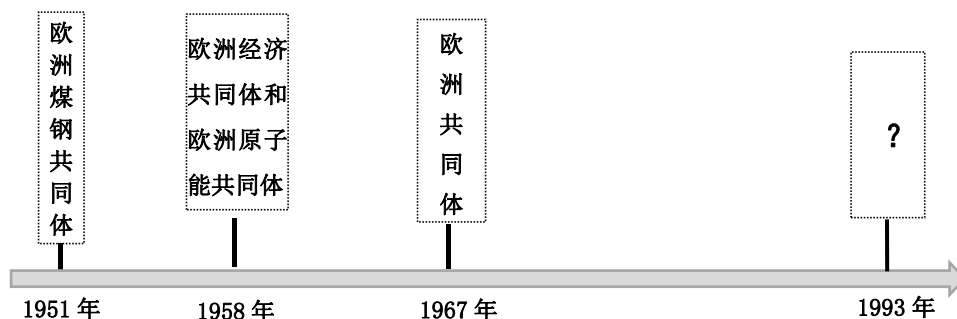
要求：紧扣“北京建设环境友好型城市”主题，切实可行；说出具体做法。

### 33. (12分) 联合发展·共同奋斗·合作共赢

#### ★ 欧洲的一体化

材料一 几个世纪以来，欧洲一直在整个世界处于主导的中心地位，然而第二次世界大战以后，美苏两国取代了西欧国家的位置，西欧大国沦为二三流国家。在新的格局下，西欧国家要想在世界事务中发挥重大影响，必须联合成一个整体，才能在美苏两极的格局中脱颖而出。

——摘自《世界通史——现代文明的发展与选择》



欧洲一体化进程示意图

(1) 依据材料一，结合所学，将上图填写完整，并指出西欧联合的原因。(3分)

#### ★ 亚非拉国家的发展

##### 材料二

(20世纪)70年代末，联大成员从51名戏剧性地上升到了150多名，其中半数以上都是亚洲和非洲新独立的国家。几乎所有的国家在经济上都很落后，它们相互之间结成了一个松散但很重要的“中立”联盟——第三世界。拉美国家虽然早就已经独立，但同这些新国家一样，长期经

受社会和经济问题的困扰，便与亚非国家有很多相同的观点。

——摘编自乔尔·科尔顿《二十世纪》

(2) 依据材料二，指出第二次世界大战以后亚非拉民族独立国家具有哪些共同特征？(2分)



微信扫一扫，快速关注

### 材料三 邮票被称为微型百科全书



图1 亚洲及太平洋区域和平会议 (1952年发行)




图2 纳米比亚独立20周年 (2010年发行)



图3 万隆会议十周年 (1965年发行)

(3) 上述邮票所纪念的事件中：标志着所有非洲国家都摆脱了殖民主义枷锁的是\_\_\_\_\_；体现了亚非国家和地区团结合作、共同反对帝国主义和殖民主义的是\_\_\_\_\_。(2分)

写出上述邮票寄托了亚非人民的哪些美好愿望？(3分)

### ★ 中国的开放

**材料四** 2018年11月17日，习近平主席在亚太经合组织工商领导人峰会上发表的主旨演讲中提到：“我要强调的是，共建‘一带一路’是开放的合作平台，秉持的是共商共享的基本原则，没有地缘政治目的，不针对谁也不排除谁，不会关起门来搞小圈子，不是有人说的这样那样的所谓‘陷阱’，而是中国同世界共享机遇、共谋发展的阳光大道。”

(4) 依据材料四，说出中国作为最大的发展中国家所坚守的发展理念。(2分)

34. (14分) 史料是历史研究的基础

#### 【史料功能】

**材料一** 公元前1400年至公元前1200年，是古希腊迈锡尼文明的鼎盛时期。公元前1200年左右，代表迈锡尼文明的希腊各小国在此时相继遭到毁灭。从此，希腊史进入一个文化衰退时期。考古发现证明了这个时期的衰退。但也有一些早期文明的成就延续下来，如公元前9到公元前8世纪的几何装饰陶器就深受迈锡尼风格影响。公元前8世纪时，文字在古代希腊才又重新出现。除了考古发现，了解这一时期的主要资料是《荷马史诗》，相传是由盲诗人荷马根据民间口口相传的短歌综合编写而成，是宝贵文学遗产。

——摘编自马克垚《世界文明史》(上)

(1) 依据材料一，对以下表述做出判断：直接从材料得出的，在括号内划“√”；违背材料所表达意思的，在括号内划“×”；材料没有涉及的，在括号内划“○”。(4分)

- ① 考古发现证明了公元前1200年左右，希腊历史开始进入一个文化衰退时期。 ( )
- ② 希腊早期的迈锡尼文明对后来的希腊社会没有任何影响。 ( )
- ③ 《荷马史诗》为近代欧洲文艺复兴的发生提供了思想源泉。 ( )
- ④ 《荷马史诗》是文学作品，也具有史料价值。 ( )

#### 【史料鉴别】

**材料二** 就性质而言，史料有原始史料(当时留下的事物、文件、记录、日记、当事人的回忆录、调查记录、群众传说)；撰述史料(根据原始史料撰写的历史著作，如《春秋》、《史记》等)；依据载体的不同，史料可以分为实物史料、文字史料、口述史料、声像史料、数字化史料等类型。

——李剑鸣《历史学家的修养和技艺》





(2) 阅读下列史料，并依据材料二，进行判断。



图1 罗马万神庙



图2 巴比伦空中花园(想象图)



图3 《汉谟拉比法典》石柱(局部)



图4 《全球通史》



图5 第一次世界大战后的欧洲(照片)




图6 丘吉尔《第二次世界大战回忆录》

上述史料中，属于原始史料的是\_\_\_\_\_ (1分)

上述史料中，属于撰述史料的是\_\_\_\_\_ (1分)

**【史料运用】**

**材料三** 口述史料，不仅可以作为文献史料的补充，还具有不可替代的特殊价值，例如，口述史提倡创立平民化的历史，让不掌握话语霸权的人们，包括社会底层的百姓、少数裔族群和妇女都有发出自己声音的可能性，使这些人的经历、行为和记忆有了进入历史记录的机会，并因此构成历史的一部分。此外，口述史具有特有的“个人性”，重视从个人的角度来体现对历史事件的记忆和认识。但是，口述中往往会有太多或有意，或无意的记忆失误，也会有有意的、无意的谎言。因此，使用史料过程中，需要将口述材料与文献记载互相参考。

—— 摘编自定宜庄《口述史料的独特价值与史料的整理鉴别》

(3) 某校研学小组搜集到了丘吉尔《第二次世界大战回忆录》。请依据材料三，结合所学，指出其作为第二次世界大战史的研究资料，具有哪些局限性？(2分) 应该如何弥补？(1分)

**【史料解读】**

某历史研学小组搜集到下列反映19世纪中后期英国历史的图片。

**材料四**




图7 1851年英国世博会



图8 工厂里的童工



图9 英军屠杀印度起义领袖

(4) 该小组针对材料四中的图片，归纳提炼的主题是“19世纪英国的辉煌与罪恶”。这个主题与图片所反映的内容相符合吗？(1分) 请说明理由。(4分)



微信扫一扫，快速关注

**北京市西城区2018—2019学年度第一学期期末试卷**  
**九年级历史**  
**参考答案及评分标准**

2019.1

第一部分 选择题(共45分)

题号	1	2	3	4	5	6	7	8	9	10
答案	D	A	B	C	D	A	B	D	C	B
题号	11	12	13	14	15	16	17	18	19	20
答案	B	D	D	B	C	D	C	B	B	C
题号	21	22	23	24	25	26	27	28	29	30
答案	D	D	A	B	C	D	B	C	D	A

第二部分  
材料分

析题(共55分)

31. (15分)

(1) 哥伦布; 麦哲伦。(2分)

世界开始成为一个整体; 逐步确立了世界的观念; 证明了地圆说的正确; 促进了各大洲之间的经济交流; 改变亚欧人的饮食结构; 促进了人口增长。(3分。答出3点即给分)

0分: 未回答, 或回答错误。

1分: 答出以上一点。

2分: 答出以上两点。

3分: 答出以上三点。

(2) 图2: 美国独立战争期间, 大陆会议颁布了《独立宣言》,(2分) 宣告北美13个殖民地脱离英国而独立, 被称为“第一个人权宣言”。(2分)

图3: 法国大革命开始后, 制宪议会通过了《人权宣言》,(2分) 宣告了人权、自由、平等、保护私有财产等基本原则, 弘扬了资产阶级自由民主思想。(2分)

(3) 农业的就业人口在逐年下降, 工商运输业的就业人口稳定增长, 其他行业的就业人口有波动。(2分。答出2点即给分)

0分: 未回答, 或回答错误。

1分: 答出以上一点。

2分: 答出以上两点。

原因: 英国进行了工业革命。(1分)

(4) 新能源: 石油、天然气、电力。(2分。答出2点即给分)

0分: 未回答, 或回答错误。

1分: 答出以上一点。

2分: 答出以上两点。

特点: 能源消费结构出现了新变化; 科学研究和工业生产紧密结合; 出现了许多新兴工业部门。(1分。答出1点即给分)

32. (14分)

(1) 城市取得了一定程度的“自治”; 市民享有一定的自由; 城市的政治经济实力增强。(3分)

(2) 图2: 但丁是文艺复兴的先驱,(1分)《神曲》是其创作的长篇诗作。(1分) 作品抨击了教会的贪婪腐化, 表达了市民阶层的情感与理想。(2分)

图3: 达·芬奇是文艺复兴“美术三杰”之一,(1分)《蒙娜丽莎》是其著名的肖像画。(1分) 该画以现实人物为主题, 人物富有生命的活力, 体现了人文精神。(2分)

或: 达·芬奇是文艺复兴“美术三杰”之一,(1分)《最后的晚餐》是其著名的绘画作品。(1分) 该画将人物的神态刻画得惟妙惟肖, 体现了人文精神。(2分)(其他合理答案可酌情给分)



(3) 赋分标准：提炼主题 1 分，符合该主题的资料序号 1 分。要求提炼两个主题，共 4 分。

答案示例 1：主题：世界文化名城。资料序号：5，6。

答案示例 2：主题：城市环境问题。资料序号：1，2。

答案示例 3：主题：城市的可持续发展。资料序号：3，4。

0 分：未回答。或只提炼一个主题，没写出符合该主题的资料；或所提炼的主题与资料不相符。

1 分：提炼一个主题，及一条符合主题的资料。

2 分：提炼一个主题，及两条或两条以上符合主题的资料。

(4) 赋分标准：建议与“北京建设环境友好型城市”关系密切；(1 分) 做法具体可行。(2 分)

答案示例：制作宣传展板，向市民普及环境保护的基本理念和知识，使公众认识到自身应负的环境责任和义务，自觉选择绿色生活和绿色消费方式。

33. (12 分)

(1) 欧洲联盟 (或欧盟)。(1 分)

原因：战后西欧的衰落；重振经济；提升西欧各国国际地位。(2 分。答出 2 点即给分)

0 分：未回答，或回答错误。

1 分：答出以上一点。

2 分：答出以上两点。

(2) 大部分都是新独立的国家；都是发展中国家 (经济上都贫困落后)；都有共同的政治要求；都是第三世界国家。(2 分。答出 2 点即给分)

0 分：未回答，或回答错误。

1 分：答出以上一点。

2 分：答出以上两点。

(3) 图 2；图 3。(2 分)

和平、独立、自由、团结、发展。(3 分。答出 3 点即给分)

0 分：未回答，或回答错误。

1 分：答出以上一点。

2 分：答出以上两点。

3 分：答出以上三点。

(4) 主动开放、合作共赢、共商共享、和平发展等。(2 分。答出 2 点即给分)

0 分：未回答，或回答错误。

1 分：答出以上一点。

2 分：答出以上两点。

34. (14 分)

(1) ①√；②×；③○；④√。(4 分)

(2) 属于原始史料的是 ① ③ ⑤ ⑥ (1 分。答对 4 项才能给分)

属于撰述史料的是 ④ (1 分)

(3) 局限性：记忆失误；主观编造；个人认识局限 (2 分。答出 2 点即给分)

0 分：未回答，或回答错误。

1 分：答出以上一点。

2 分：答出以上两点。

弥补：与其它史料互相参考。(1 分)

(4) 相符合。(1 分)

理由：一方面，图 7 反映了英国率先完成第一次工业革命，普遍使用机器生产，成就辉煌；(2 分) 另一方面，图 8、图 9 则揭露出英国使用童工、对外殖民侵略，罪恶深重。(2 分)