



通州区 2023—2024 学年第一学期九年级期中质量检测

历史试卷

2023 年 11 月




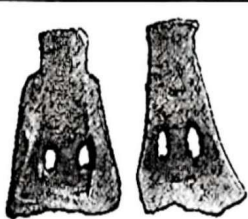
学校 _____ 班级 _____ 姓名 _____

考生须知	<p>1. 本试卷共 8 页,共两部分,24 题。满分为 70 分。考试时长为 70 分钟。</p> <p>2. 请在试卷和答题卡(纸)上准确填写学校、班级、姓名。</p> <p>3. 试题答案一律书写在答题卡(纸)上,在试卷上作答无效。</p> <p>4. 在答题卡上,选择题用 2B 铅笔作答,其他试题用黑色字迹签字笔作答。</p> <p>5. 考试结束后,请将答题卡交回。</p>
------	---

第一部分 选择题(共 30 分)

本部分共 20 小题,每小题 1.5 分,共 30 分。在每小题列出的四个选项中,选出最符合题目要求的一项。

- 考古工作者根据北京人头盖骨、面骨、下颌骨、股骨、锁骨等发现,推断北京人的一些体质特征:与猿类相比,北京人的颅高、颅长和颅宽的指数都远远超过猿类。这说明
 - 我国是发现远古人类遗址最多的国家
 - 北京地区气候温暖适宜远古人类生活
 - 考古发现是研究人类起源的重要依据
 - 当时远古人类已经掌握原始农耕技术
- 依据以下浙江余姚河姆渡遗址考古发现,能够得出正确推论的是

考古发现	 建筑遗址	 出土的稻谷	 猪纹陶钵	 骨耜
推论	A. 会建造房屋,主要是半地穴式建筑	B. 长江中下游是亚洲稻的起源地之一	C. 会饲养猪等家畜,制作彩陶	D. 会制造和使用磨制石器

- 如图为西周青铜器利簋,该器圆形两耳方座状。簋腹内底铸铭文 4 行 33 字,记载了周武王征商,在甲子日上午击败商王军队的史实。利簋可以帮助我们了解



- 青铜器制造工艺
- 中国文字的发展
- 西周王朝的建立
- 西周的冶铁水平

- A. ①②③ B. ①②④ C. ①③④ D. ②③④

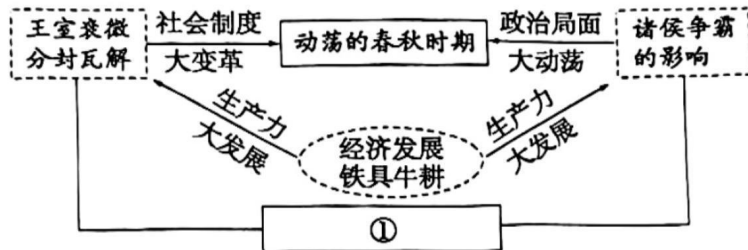
- 齐桓公征山戎(我国古代北方的少数民族)时,把山戎的冬葱和大豆引进中原;晋国与戎狄作战时,吸取了其擅长的步战,逐步放弃车战。以上材料反映出

- 殷商青铜制作工艺
- 西周礼乐文化衰落

- C. 春秋时期民族交融
D. 秦汉时期文化交流
5. 《史记·商君列传》记载：“僇(努力)力本业，耕织致粟帛多者复其身(免徭役)。事末利及怠而贫者，举以为收孥(没为官奴婢)。”这反映了商鞅变法
- A. 推行县制，巩固中央集权
B. 奖励军功，稳定统治秩序
C. 鼓励耕织，重视发展经济
D. 严明法度，加强人民管理
6. 以下是某同学收集的一些名言，他要了解的历史人物是

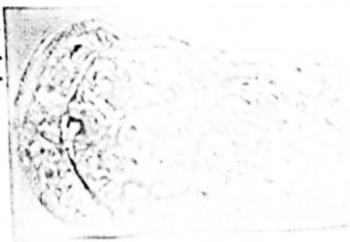
“仁者，爱人也。己所不欲，勿施于人”
“为政以德，譬如北辰，居其所而众星共之”

- A. 老子 B. 孔子 C. 墨子 D. 韩非子
7. 以下是一位同学绘制的某课知识结构示意图，其中①处应为



- A. 生产力的发展引起了社会变革
B. 铁制工具完全取代了木石工具
C. 各国变法带来生产工具的改进
D. 水利工程为国家统一创造条件
8. 有学者认为，春秋战国时期是中国礼制文明受到挑战的时代，诸子学说揭示了中国古代礼制文明发展的各种可能选择，提出了礼制文明进一步发展的新思路、新观点，大大开阔了人们的视野。他意在说明
- A. 王室衰微的表现
B. 百家争鸣的影响
C. 秦灭六国的过程
D. 秦统一六国影响
9. 据统计，西汉初期研究儒家经典的高级官员仅占5%，到西汉中期这一比例升高到45.1%，与此现象直接相关的措施是
- A. 实行盐铁专卖 B. “推恩令”的实施
C. 确立察举制度 D. 罢黜百家，尊崇儒术

10. 如图为新疆出土的西汉“八龙纹金带扣”，金带扣的形制虽然具有草原文化特色，但上面的龙纹装饰却是中原文化风格，上面镶嵌的宝石亦是外来物品。此文物可用于研究
- A. 汉朝科技的发展 B. 西汉政权的巩固
C. 丝绸之路的开通 D. 削弱王国的势力



11. 以下材料共同说明了汉朝

汉高祖吸取秦朝因暴政导致速亡的教训，采取休养生息政策
汉文帝、景帝重视“以德化民”勤俭治国
汉光武帝加强对官吏的监督，惩处贪官污吏

- A. 兴盛的原因 B. 农业的发展 C. 衰落的原因 D. 边疆的管理



12. 某历史社团开通以“中国古代科学技术”为主题的微信公众号,下面可作为参考资源的是
 ①论文:《浅议名医扁鹊与中国古代医学早期发展》 ②漫画:《史记·陈涉世家小故事》
 ③视频:《东汉名医张仲景和华佗》 ④图片:《造纸工艺流程图》
 A. ①②③ B. ②③④ C. ①②④ D. ①③④

13. 如图目录反映的主题是
 A. 古代亚非文明
 B. 古代欧洲文明
 C. 封建时代的欧洲
 D. 封建时代的亚洲

目录
第1节 古代埃及发展
第2节 古代两河流域
第3节 古代印度

14. 恩格斯说:“没有希腊文化和罗马帝国所奠定的基础,也就没有现代的欧洲。”对这句话理解准确的是
 A. 古希腊、罗马孕育现代西方文明
 B. 古希腊、罗马提高了妇女的地位
 C. 古希腊、罗马推动西欧城市发展
 D. 古希腊、罗马推动欧洲教育发展
15. 公元646年,日本孝德天皇颁布“改新”诏书:建立中央集权体制;实行班田收授法;实行租庸调制。材料反映的史实是
 A. 伯里克利改革 B. 大化改新 C. 封建庄园建立 D. 查理曼改革
16. “城市必须向封建领主纳税,但后者放弃对城市的统治权和司法权。这样,城市成了一个自治的、自由的世界,而包围着它的却是整套以束缚个人自由为特征的封建体系。”材料反映出中世纪城市
 A. 封君封臣制度逐步地形成
 B. 是一个相对自治的共同体
 C. 国家税收主要来源于城市
 D. 市民以暴力方式反抗贵族
17. 15世纪左右,欧洲绘画越来越多地出现了世俗场景中的儿童形象,例如家庭生活的室内场景、家庭肖像画等。出现这种转变的原因是
 A. 封建庄园盛行 B. 西欧大学发展
 C. 文艺复兴运动兴起 D. 法国启蒙运动兴起
18. 以下是某同学绘制的航海示意图,依据示意图判断图中的航线是



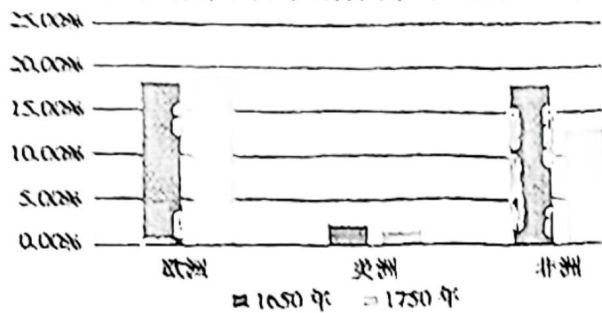
- A. 迪亚士到达好望角
 B. 达·伽马到达印度
 C. 哥伦布“发现”美洲
 D. 麦哲伦船队环球航行



19. 对下列现象描述错误的是

- A. 非洲在奴隶贸易中丧失大量人口
- B. 美洲引进并种植大量高产农作物
- C. 英国的殖民者最早到达非洲大陆
- D. 欧洲、美洲和非洲人口比例减少

欧洲、美洲、非洲人口占世界总人口比例变化表



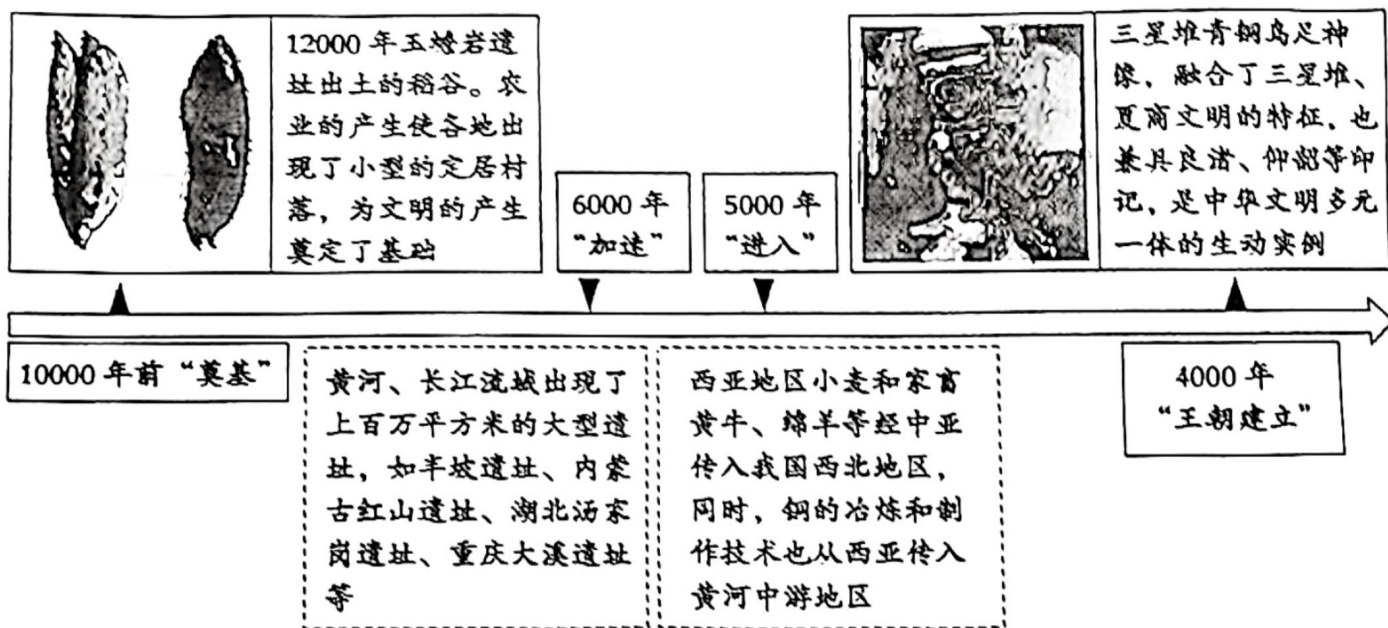
20. 有学者指出：“光荣革命”在非暴力的过程中完成了制度的变迁……流血的革命没有解决的问题，在非暴力的“光荣革命”中竟然被解决了。由此可知，“1688年革命”

- A. 暴力反对封建专制王权
- B. 助推新政治体制的形成
- C. 保留英国君主专制传统
- D. 实现议会对权力的控制

第二部分 材料分析题(共 40 分)

21. (8分) 中华文明起源、形成和早期发展

材料一 探寻中华文明之源



(1) 依据材料一，概括中华文明起源的特点。(2分)

材料二

“三千年王权巩固”，周王通过“封邦建国”，实现了王朝对王畿之外广大地区的稳固统治。

		<p>《史记》记载：“周武王之灭纣，封召公于北燕。”房山区琉璃河古城遗址出土的克盃铭文记载，周王为表彰召公的功绩，封其元子（诸侯的嫡长子）克为燕侯，管理燕地的六支部族，燕侯制作了克盃来纪念这一事件。</p>
<p>房山区琉璃河出土的克盃</p>	<p>克盃铭文</p>	



(2)依据材料二,判断考古发现和《史记》记载印证了西周实行_____制度。(2分)结合所学分析其作用。(2分)

材料三 “两千两百年统一多民族国家形成”

公元前 221 年,秦始皇统一中国,“海内为郡县,法令由一统” 中华文明进入到大一统国家的文明阶段,开启了统一多民族国家形成发展的新阶段。

——摘编自王巍《中华文明探源研究主要成果及启示》

(3)运用史实,说明秦朝对中国统一多民族国家的建立与巩固所做出的贡献。(2分)

22. (11 分)水利建设与社会发展

材料一

<p>①良渚古城遗迹的水利系统 良渚古城外围水利系统距今约 5000 年,目前已发现水坝 11 座,具有防洪、运输、调水、灌溉等功能</p>	<p>②阳泉平坦塄古城水井遗存 该水井的开凿年代不早于春秋晚期,其形制独特,采用九边形榫卯木结构支护井壁,是当时城内人们生活用水的重要设施</p>	<p>③殷墟遗址水渠遗迹 殷墟城邑修建的人工水网,将殷墟的宫庙、陵区、作坊、居民点联系起来,兼顾考虑不同用户的需求</p>

(1)从材料一中找出能说明以下主题的遗址。(3分。写序号,多选、错选不得分)

史前时期拦洪大坝工程: _____

商朝时期水利布局合理: _____

两千年前古井砌筑工艺: _____

材料二 秦欲灭楚以并天下,粮草不足,无法纵兵深入楚国千里腹地。新得之蜀虽土地肥沃,每年却非旱即涝,既危害百姓,又对粮草供应起不到作用。蜀郡郡守李冰设计了以鱼嘴分水堤、飞沙堰溢洪道、宝瓶引水口等为重点工程的渠道网,以实现防洪、灌溉、水运的三重目的,都江堰的建成使蜀地成为当时秦国最重要的农业重镇,源源不断的蜀粮支撑起秦国统一霸业的粮草保障。

——摘编自邓田田《李冰:一堰兴而蜀地安》

(2)依据材料二,分析都江堰修建的原因。(2分)结合所学概括其影响。(2分)



材料三 汉武帝时,在关中掀起了兴修水利的高潮,引渭水的工程有漕渠、成国渠、灵轵渠、津渠,引泾水的工程有六辅渠、白渠,引洛水的工程为龙首渠。其中,龙首渠未能达到预期的灌溉效果,但在穿渠过程中率先使用了俗称“坎儿井”的井渠法,新疆的“坎儿井”技术就是从内地传入的,并在水利灌溉事业中长期沿用。由于政府重视而水利事业有保障,关中成为全国著名的经济区之一

——摘编自张维慎《浅谈秦汉时期陕西的水利建设》

(3)依据材料三,概括汉武帝时期兴修水利工程的特点。(2分)结合所学,分析这一时期兴修水利工程的背景。(2分)




23. (11分)走向近代

材料一

<p>自13世纪下半期,英国普遍实行货币地租,大大减轻了佃户的人身依附关系。……他们用各种手段扩大耕地,随着经营面积的扩大不断增加劳作人手,创造了依靠雇工、面向市场、追求利润的富裕农民经济。</p>	<p>16世纪早期,英国北部诸郡像曼彻斯特的马丁·布莱恩雇佣了为数众多的手工业者,其中有纺工、起毛工、织工、漂洗工、染匠等。为了便于监督,这些工人都被集中起来从事生产”。</p>
---	---

(1)根据材料一并结合所学,说出13—16世纪英国经济领域发生的变化。(2分)

材料二

作品名称	作者	作品简介
	A	<p>“上帝在创造万物时,那最大、最为他所珍视的,与他自己美德最相似的,便是自由意志。他过去和现在都只把意志的自由赋予给一切有灵的造物(天使和人类),也唯独他们才有自由的意志。”</p> <p>——《神曲·天堂篇》</p>
	达·芬奇	<p>取材于《圣经》中的故事,画中描绘了耶稣12个门徒的各自不同的表情从人物的活动、性格、情感和心理反应等特征上,反映出人类的正义与邪恶之间的对立。</p>
	莎士比亚	<p>“人是一件多么了不起的杰作!多么高贵的理性!多么伟大的力量!多么优美的仪表!多么文雅的举动!在行为上多么像一个天使!在智慧上多么像一个天神!宇宙的精华!万物的灵长!”</p> <p>——《哈姆雷特》</p>



(2)将以下内容填入材料二相应的位置。(2分) (写序号)依据材料二并结合所学,概括文艺复兴时期作品的共同点。(2分)

①但丁

②拉斐尔

③《最后的晚餐》

④蒙娜丽莎

材料三

玉米	15世纪末	玉米从美洲传播到欧洲,随后在意大利、法国等地较早地被引种
土豆	16世纪中叶	土豆大规模地越过大西洋,被运到欧洲,在欧洲的植物园里广泛传播。
香料	16世纪后期	随着交通的改善,香料贸易的总量持续增长。在“年成好的时候,葡萄牙人从马拉巴尔购入的胡椒几乎占当地出口总量的10%之多。
咖啡	18世纪早期	随着咖啡的市场需求越来越大,英国、法国等在殖民地也开始了咖啡的种植和生产。

(3)依据材料三并结合所学,分析以上食物传播的背景及影响。(3分)

材料四


资本主义工商业的发展,引起了社会的巨大变化,以自然经济为基础的封建社会逐渐瓦解……在精神文化方面,人们力争从宗教神学的禁锢中解放出来,追求现实生活,尊崇理性与科学;科学技术的发展以及知识的不断积累和扩大,极大开阔了欧洲人的眼界和活动范围。他们越海穿洋,走向欧洲以外更加广阔的世界。

——摘编自徐蓝《世界近代现代史》

(4)依据材料四并结合所学,谈谈对近代欧洲发展的认识。(2分)

24. (10分)17-18世纪是世界历史的转型时期,世界历史发展进入崭新的时代。

材料一

 <p>纪念币</p>	<p>1989年英国为纪念某文献颁布300周年而发行的纪念币,王冠之下有一水平横置的权杖,权杖中间为两个上下交叉的字母W和M,即代表威廉三世和玛丽二世,而代表国王权力的权杖却被绳索束缚。文献明确划分了议会和王权的权力界限,使双方此后得以避免再因权限模糊而发生严重的权力冲突,英国也因此获得了一个长期稳定的政治环境,为其经济发展提供了一个先决条件。</p>
--	---



(1) 依据材料一并结合所学, 写出文献的名称。(2分) 并分析其影响。(2分)

材料二

<p>①“来克星顿的枪声” 英军在来克星顿附近遭到早已严阵以待的民兵伏击, 英军损失 286 人。</p>	<p>②“波士顿倾茶”事件 为反对《印花税法》, 波士顿“自由之子”将英国东印度公司船上的茶叶倾入大海。</p>	<p>③伯高因将军萨拉托加投降 萨拉托加大捷, 消除了大陆军来自北方的威胁, 也使法国下定决心支持美国独立。</p>

(2) 按照邮票反映的历史事件先后排序(1分, 写序号)。依据材料并结合所学, 参照示例, 写出一个历史事件的作用。(1分)(示例除外)

示例: ②“波士顿倾茶”事件。波士顿倾茶事件是美国独立战争的导火线。

材料三

《独立宣言》	《人权宣言》	《拿破仑法典》
<p>人人生而平等, 享有生命权、自由权和追求幸福的权利, 反对殖民统治。是第一个以国家名义明确表述资产阶级政治要求的纲领性文献。</p>	<p>宣告了人权、法治、自由、分权、平等和保护私有财产等基本原则, 体现启蒙思想家的主张, 反对封建专制和等级制度, 有利于资本主义发展。</p>	<p>体现了自由平等和私有财产不可侵犯等原则, 巩固了资产阶级革命的成果, 打击了封建势力, 促进了资本主义的发展。</p>

(3) 依据材料三, 概括三部文献的共同点。(2分) 综合以上材料, 概括 17、18 世纪世界历史的发展趋势。(2分)