

# 2022 北京大兴初三二模

## 历史

### 第一部分 选择题

本部分共 20 题，每题 1.5 分，共 30 分。在每题列出的四个选项中，选出最符合题目要求的一项。

1. 考古发现是研究历史的审要证据。以下考古资料可用于研究商朝历史的是



①



②



③



④

A ①②

B. ①③

C. ②③

D. ③④

2. “鱼嘴分江内外流，宝瓶直扼内江喉。成都坝仰离堆水，禾稻年年大饱收。”诗歌赞颂的是

A. 都江堰

B. 灵渠

C. 长城

D. 兵马俑

3. 以下史实历史作用 共同点是

郡县制	刺史制度
秦始皇建立郡县制,全国初分为 36 郡, 在郡下设县, 郡县的长官都由朝廷直接任免	汉武帝建立刺史制度,把全国划分为 13 个州部,每州部派刺史一人,代表朝廷监视地方

A 维护了领土完整

B. 促进了文化传播

C. 促进了经济发展

D. 加强了地方控制

4. 《晋书·食货志》记载东晋后期南方的情形是：“犬下尤事，时和年丰，百姓乐业，谷帛殷阜，几乎家给人足矣。”

材料说明

A. 江南地区得到开发

B. 少数民族政权更替

C. 经济重心南移完成

D. 中外之间友好往来

5. 下图为魏晋砖室墓壁画，画中左侧人物提篮采桑、右侧少年持弓箭驱赶吃桑的雀鸟。此壁画可以用于研究



- A. 中华文明 起源
- B. 早期国家的产生
- C. 大一统局面形成
- D. 民族交融的发展

6. 有史书记载：唐制取士之科多因附旧。其科之目，有秀才，有明经，有进士，有明法，有明字，有明算。史书中的“取士之科”所指的制度是

- A. 分封制
- B. 郡县制
- C. 科举制
- D. 行省制

7. 北宋都城开封的娱乐夜市十分兴盛，有多种类型，酒楼茶舍里有艺人演唱、讲史；瓦肆勾栏中有杂剧表演。这说明宋代

- A. 海外贸易活跃
- B. 市民生活丰富
- C. 科技交通发达
- D. 史学研究斐然


8. 某校开展中国古代科技成就主题讲座。下列内容可能涉及的有



①《史记》书影



②《齐民要术》书影



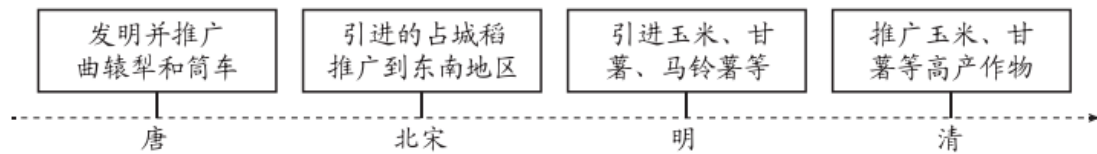
③泥活字板



④清代开荒执照

- A. ①②
- B. ②③
- C. ①③
- D. ②④

9. 下面示意图反映出



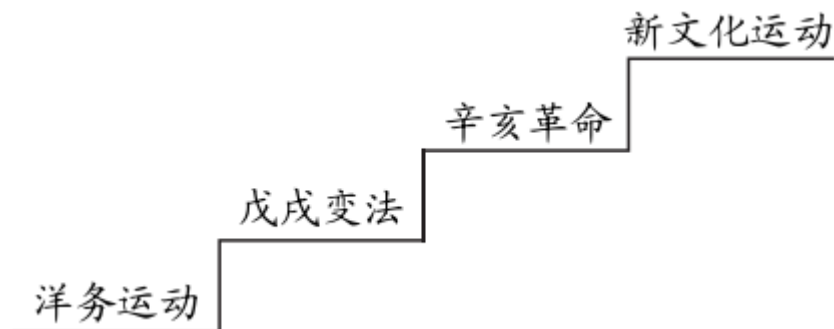
- A. 中国古代重视农业的发展
- B. 铁农具是农业发展的基础
- C. 大兴水利有助于农业生产
- D. 农产品增多丰富商业活动

10. 下面表格中①处可填入的是

西汉	唐	元	清
西域都护	安西都护府、北庭都护府	北庭都元帅府	①

- A. 设置宣政院
- B. 设置驻藏大臣
- C. 设置台湾府
- D. 设置伊犁将军

11. 下面示意图最有可能表示的是



- A. 近代中国抗击外来侵略的历程
- B. 中国半殖民地半封建社会历程
- C. 近代中国新民主主义革命历程

D. 近代中国人民探索近代化历程

12. 从下列两幅绘画作品可以分析出中国共产党领导的中国革命



《南昌起义》



《井冈山会师》

- A. 从领导工人运动到建立革命统一战线
- B. 从城市武装起义到开辟农村革命根据地
- C. 从国共十年对峙到国共合作共同抗日
- D. 从“以阶级斗争为纲”到以经济建设为中心

13. 重庆谈判和政治协商会议是中国共产党为争取和平、民主进行的尝试。对以下材料理解正确的是

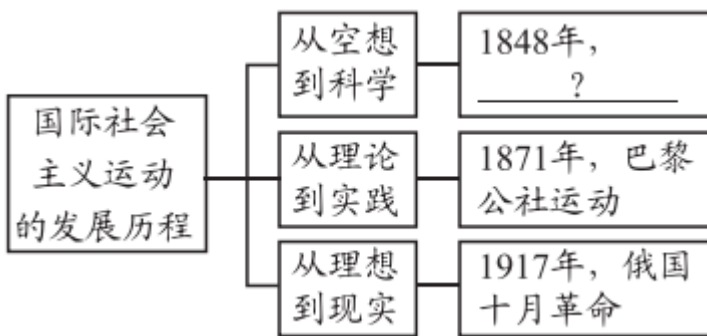
- ①1945年8月,毛泽东赴重庆,与国民党进行谈判
- ②1946年政治协商会议的召开为中国实现民主统一,和平建国带来一线曙光

- A. ①属于历史结论
- B. ①说明重庆谈判使中国走上了和平建国的道路
- C. ②属于历史史实
- D. ②肯定了政治协商会议召开的历史作用

14. “凤阳地多不打粮，碾子一住就逃荒。”“说凤阳、道凤阳，改革鼓点先敲响。三年跨了三大步，如今飞出金凤凰。”以上凤阳花鼓唱词变化的原因是

- A. 家庭联产承包责任制的实行
- B. 对外开放格局不断扩大
- C. 社会主义市场经济体制建立
- D. 农业机械化的全面实现

15. 下面示意图中“？”处应填的内容是



- A. 《共产党宣言》的发表
- B. 国际工人运动兴起
- C. 《资本论》的发表
- D. 社会主义制度建立

16. 它的出版打破了千百年来“上帝创造万物”的神创论，在生物科学领域掀起了一场伟大革命。“它”的作者是

- A. 达·芬奇
- B. 牛顿
- C. 达尔文
- D. 巴尔扎克

17. 1921年，苏俄通过粮食税等市场机制建立工农联盟，同时允许私营企业有一定程度的发展，并以租让制等形式在某些经济部门引入外国资本。这表明苏俄政府正在实施（ ）

- A. 战时共产主义政策  
C. “社会主义工业化”

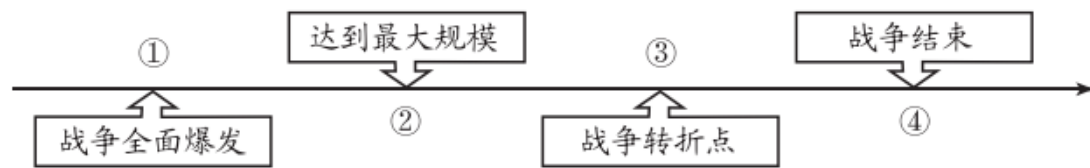
- B. 新经济政策  
D. “农业集体化”

18. 下面表格中①处应填入的是

①				
整顿金融体系	加强对工业的计划指导	调整农业政策	推行“以工代赈”	建立社会保障制度

- A. 美国内战                      B. 经济大危机                      C. 罗斯福新政                      D. 马歇尔计划

19. 以下示意图呈现了第二次世界大战的主要进程。其中③处的事件是



- A. 莫斯科保卫战                      B. 斯大林格勒战役                      C. 德国投降                      D. 日本投降

20. 1947年3月12日下午杜鲁门向国会联席会议发表了演说，世界已分为“自由国家”和“极权政体”两个对立的阵营。这一演说

- A. 导致柏林危机                      B. 导致两极格局形成  
C. 标志冷战开始                      D. 标志两极格局结束

第二部分 材料分析题

21. 教育传承文明，创造美好未来。

材料一

① 	② 	③ 
《论语》书影	汉代《讲经图》拓片	《女真进士题名碑》拓片
以语录体和对话体形式记载了孔子及其弟子的言行	东汉时学校所讲的“经”主要是儒家学说	它是女真人的“金榜”，记载了金哀宗正大元年进士的姓名和籍贯，按照排名分为上、中、下三等；还刻录了考试时间及内容

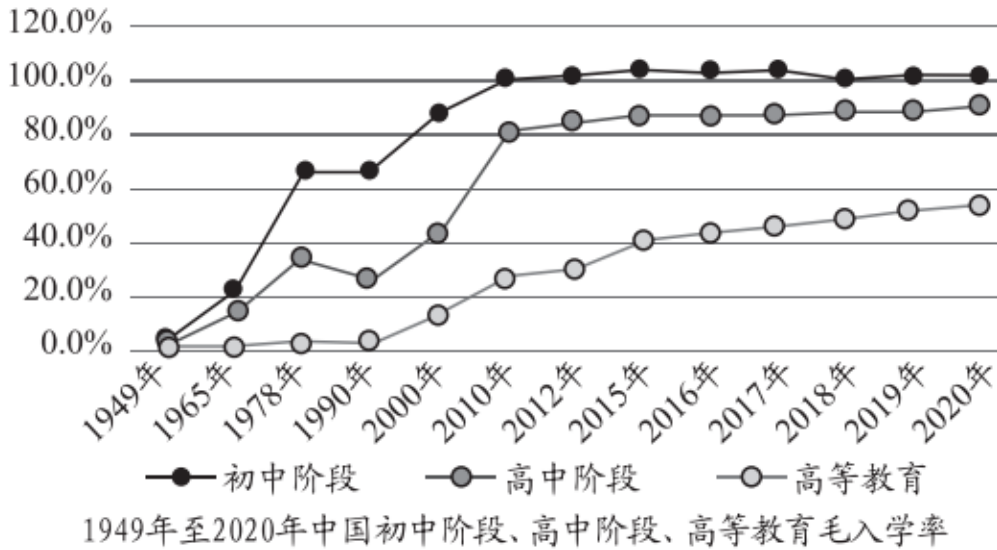
(1) 材料一中可以用于研究“私学的创办打破贵族和王室垄断教育局面”的材料是\_\_\_\_。（写序号）依据材料一并结合所学，分析我国古代教育的作用。

材料二 13 世纪末欧洲各国世俗学校普遍建立，学校培养人才的目的远远不限于神职人员。教育思想把课程的重点由教材转向学生，主张学习者是教育的中心，强调课程的设计应完全以人的需要为出发点，一切教育都必须以人为本，这是现代教育的基本价值。

——摘编自孙雪《从“神本”到“人本”的转型》

(2) 依据材料二，概括近代西方教育的变化。结合所学，分析变化原因。

材料三



2020 年，新增劳动力平均受教育年限达 13.8 年，大学专科以上在职青年占同等文化程度就业总人口比例超过 50%。

学习提升的社会氛围愈加浓厚，有相当数量的青年在离开校园后选择继续深造。受益于网络媒体迅猛发展，数千万青年通过“慕课”（大型开放式网络课程）等方式选学课程、获取知识。

——摘编自《新时代的中国青年》

(3) 依据材料三，概括新中国成立以来教育成就。分析未来教育发展的趋势。

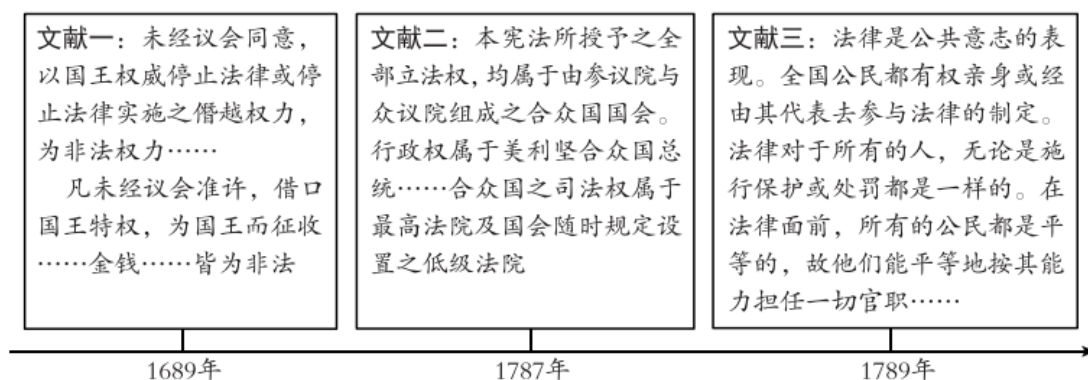
## 22. 法治是人类社会发展的体现。

材料一 国之所以治者三：一曰法，二曰信，三曰权。法者，君臣之所共操也；信者，君臣之所共立也；权者，君之所独制也。人主失守（掌握权力）则危。君臣释（抛弃）法任私，必乱。故立法明分，而不以私害法，则治。

——摘自《商君书》

(1) 依据材料一，写出商鞅认为实现国家安定的主要因素。结合所学，说出商鞅的历史贡献。

材料二







(2) 依据材料二并结合所学，任选两则文献写出其名称。概括三则文献的共同作用。

材料三

中华民国临时约法》(1912年)	中华人民共和国宪法》(1954年)
<p>中华民国的主权属于全体国民;国民不分种族、阶级、宗教信仰,一律平等。</p> <p>参议院行使立法权,国务员辅佐临时大总统行使行政权并负起其责任,司法独立等</p>	<p>中华人民共和国的一切权力属于人民。人民行使权力的机关是全国人民代表大会和地方各级人民代表大会。</p> <p>中华人民共和国全国人民代表大会是最高国家权力机关</p>

(3) 依据材料三并结合所学, 比较两部法律的不同点。任选一部法律, 说出其颁布的背景。

材料四

			
<p>本宪法以法律的形式确认了中国各族人民奋斗的成果,规定了国家的根本制度和根本任务,是国家的根本法,具有最高的法律效力.....</p>	<p>为了保护民事主体的合法权益,调整民事关系,维护社会和经济秩序.....制定本法</p>	<p>为维护国家安全,防范、制止和惩治与香港特别行政区有关的分裂国家.....危害国家安全等犯罪.....制定本法</p>	<p>为了发扬中华民族重视家庭教育的优良传统.....培养德智体美劳全面发展的社会主义建设者和接班人,制定本法</p>

(4) 依据材料四, 谈谈你对“法治中国”建设的认识。

23. 糖的生产与传播就是一部世界史。

材料一 石蜜是一种甘蔗汁制成的糖。唐代以前,在不产蔗糖的北方,人们要想品尝石蜜的滋味,就得依靠远道而来的外国使团和西域胡商。贞观二十一年,唐太宗有感于西域石蜜的优点,向印度摩揭陀国派出使团学习制糖技术。学成后历经十二年的不断改进,制成的石蜜色味皆优。

——摘编自李颖《丝路“糖史”》

(1) 依据材料一并结合所学, 说出石蜜传入中原的道路以及此路的历史作用。概括唐代学习石蜜制作过程的特点。

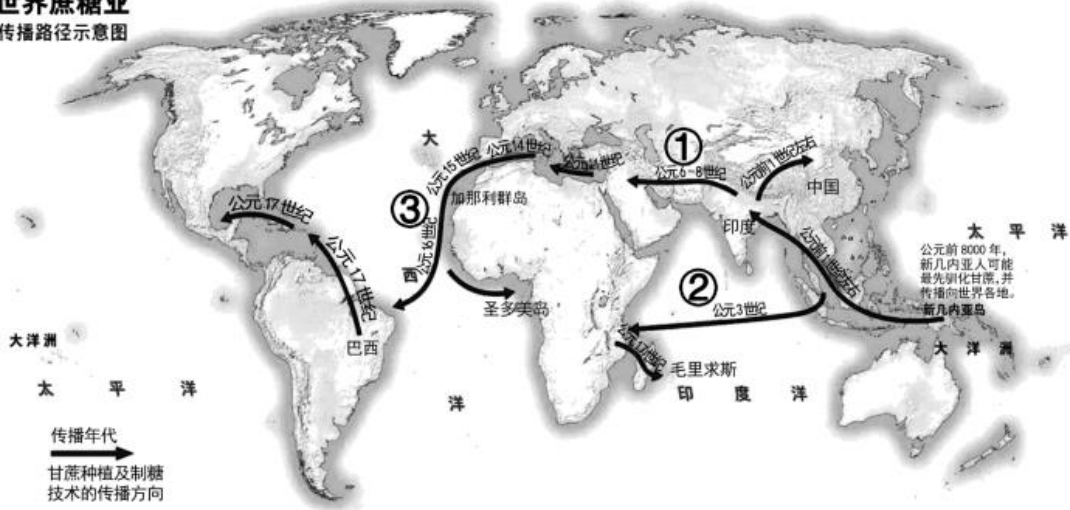
材料二 明清时期,从事制糖业的人越来越多,还出现了以水为动力的糖车,效率比以牛为动力的糖车高得多,使得制糖利润大大提升。在以往制糖技术的基础上发明出“黄泥水淋脱色法”,生产的精制蔗糖中最为雪白细腻的被称作“西洋糖”,在世界蔗糖生产领域占据了领先地位。“西洋糖”出口的目的地也较以往更多,航线距离更长,不仅包含占城、暹罗等“老主顾”,还覆盖了日本、波斯湾及欧洲多个国家。

——摘编自刘丹《中国古代糖史研究》等

(2) 依据材料二, 概括明清时期制糖业发展的表现。

材料三

**世界蔗糖业  
传播路径示意图**



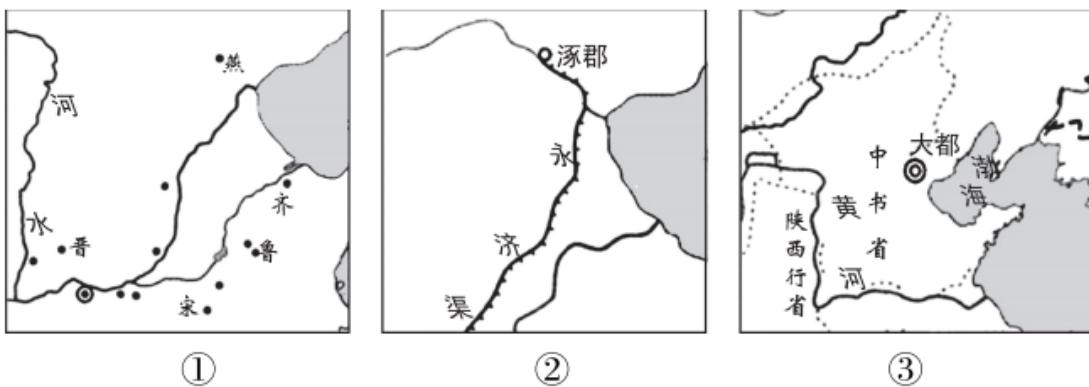
到 1700 年，美洲新大陆已经变成了一个巨大的蔗糖工厂。以欧洲殖民帝国为中心形成了一个流动着欧洲商品、非洲奴隶和美洲的蔗糖的贸易体系。随着蔗糖大量涌入欧洲，蔗糖变得越来越便宜，不再是贵族的奢侈品，而是平民日常生活的常用品。

——摘编自美·西敏司《甜与权力——糖在近代历史上的地位》等

(3) 依据材料三并结合所学，说出蔗糖从欧洲传播到美洲的线路与背景。(2分。线路写序号) 概括蔗糖传播的影响。

24. 北京历史文化悠久厚重。

材料一



(1) 依据材料一并结合所学，从②和③中任选一幅示意图，仿照示例说出与北京相关的史实。

示例：①西周初年，实行“分封制”，分封燕侯于今天北京地区。

材料二①1919年某日下午一时半，十几个学校的学生齐集天安门，人人手里拿着一面或两面白旗，上面写着“还我青岛”“诛卖国贼曹汝霖、陆宗舆、章宗祥”等。

②1949年某日下午3点，首都30万军民齐集天安门广场。毛泽东向全世界庄严宣告：“中华人民共和国中央人民政府今天成立了！”

③1956年1月16日，北京市实现公私合营后，工商界代表和工人代表在天安门城楼向党中央和毛主席报喜。



(2) 依据材料二，写出天安门见证的三个历史事件。结合所学，任选其一说出其历史意义。

材料三 首都钢铁公司迄今已有百年历史。1958年建成了3吨侧吹小转炉，结束了首钢有铁无钢的历史；1964年，中国第一座氧气顶吹转炉在首钢诞生，揭开了中国转炉炼钢新的一页。改革开放以后，首钢创造了多项世界第一、中国第一。进入21世纪之后，为成功举办北京奥运会，也为服从城市发展空间布局需要，首钢启动了史无前例的“大搬迁”，开启一业多地的新篇章。

——摘编自人民日报《工业文化遗产，焕发新的生机》

(3) 依据材料三并结合所学，说出50年代首钢发展的背景。分析建国以来首钢发展的贡献。

材料四北京冬奥会、冬残奥会既有场馆设施等物质遗产，也有文化和人才遗产，这些都是宝贵财富，要充分运用好。要充分挖掘利用北京冬奥文化资源，坚定文化自信，更加自信从容传播中国声音、讲好中国故事。

——摘自习近平《北京冬奥会冬残奥会总结表彰大会讲话》

(4) 就如何利用北京冬奥文化资源“传播中国声音、讲好中国故事”提出可行建议




# 参考答案

## 第一部分 选择题

本部分共 20 题，每题 1.5 分，共 30 分。在每题列出的四个选项中，选出最符合题目要求的一项。

1. 考古发现是研究历史的审要证据。以下考古资料可用于研究商朝历史的是



- A. ①②                      B. ①③                      C. ②③                      D. ③④

【答案】C

【解析】

【详解】商周时期青铜器种类丰富、数量众多、制作工艺高超。其中代表是司母戊鼎，是迄今世界上出土的最大青铜器；商周时期刻写在龟甲和牛羊等兽骨上的文字称为甲骨文，证明我国有文字可考的历史从商朝开始。②③符合题意，C 项正确；①④都是研究原始社会的重要史料，排除 A、B 和 D 项。故选 C 项。

2. “鱼嘴分江内外流，宝瓶直扼内江喉。成都坝仰离堆水，禾稻年年大饱收。”诗歌赞颂 是

- A. 都江堰                      B. 灵渠                      C. 长城                      D. 兵马俑

【答案】A

【解析】

【详解】公元前 256 年，秦国蜀郡郡守李冰主持，在成都附近的岷江上修建了都江堰。都江堰使成都平原成为沃野，变成天府之国。材料中描述的是都江堰，A 项正确；灵渠是沟通湘水和漓水的水系，排除 B 项；长城位于北方，是军事防御措施，排除 C 项；兵马俑是秦始皇陵墓陪葬的一部分，排除 D 项。故选 A 项。

3. 以下史实历史作用的共同点是

郡县制	刺史制度
秦始皇建立郡县制,全国初分为 36 郡,在郡下设县,郡县的长官都由朝廷直接任免	汉武帝建立刺史制度,把全国划分为 13 个州部,每州部派刺史一人,代表朝廷监视地方

- A. 维护了领土完整              B. 促进了文化传播              C. 促进了经济发展              D. 加强了地方控制

【答案】D

【解析】

【详解】郡县制是皇帝派遣官员管理地方的制度，汉武帝时期设立刺史制度，主要是监察地方高官和王侯。二者的共同点是加强对地方控制，D 项正确；材料中两个制度主要作用不是维护领土完整，也不是促进文化传播和经济发展，排除 A、B 和 C 项。故选 D 项。

4. 《晋书·食货志》记载东晋后期南方的情形是：“犬下尤事，时和年丰，百姓乐业，谷帛殷阜，几乎家给人足矣。”

材料说明

- A. 江南地区得到开发  
B. 少数民族政权更替  
C. 经济重心南移完成  
D. 中外之间友好往来

【答案】A

【解析】

【详解】魏晋南北朝时期，由于北方战乱，北方人民纷纷南迁。促进了南方地区的开发与发展。材料“时和年丰，百姓乐业，谷帛殷阜，几乎家给人足矣”体现出江南地区得到开发，A项正确；材料中说明经济发展，不是少数民族政权更替以及中外交往，排除B和D项；经济重心南移完成是南宋时期，排除C项。故选A项。

5. 下图为魏晋砖室墓壁画，画中左侧人物提篮采桑、右侧少年持弓箭驱赶吃桑的雀鸟。此壁画可以用于研究



- A. 中华文明的起源  
B. 早期国家的产生  
C. 大一统局面形成  
D. 民族交融的发展

【答案】D

【解析】

【详解】魏晋时期由于战争频繁，社会动乱，民族融合趋势增强。“画中左侧人物提篮采桑、右侧少年持弓箭驱赶吃桑的雀鸟”体现出汉族与少数民族交融的现象，D项正确；中华文明起源是夏商周之前时期，排除A项；早期国家产生是夏商周时期，排除B项；大一统局面形成是秦汉时期，排除C项。故选D项。

6. 有史书记载：唐制取士之科多因附旧。其科之目，有秀才，有明经，有进士，有明法，有明字，有明算。史书中的“取士之科”所指的制度是

- A. 分封制  
B. 郡县制  
C. 科举制  
D. 行省制

【答案】C

【解析】

【详解】隋朝创立科举考试制度，唐朝时期进行进一步完善，增加了考试科目。C项正确；分封制是西周时期实行地方制度，排除A项；郡县制是秦朝时期地方推行制度，排除B项；行省制是元朝实行地方制度，排除D项。故选C项。

7. 北宋都城开封的娱乐夜市十分兴盛，有多种类型，酒楼茶舍里有艺人演唱、讲史；瓦肆勾栏中有杂剧表演。这说明宋代


- A. 海外贸易活跃  
B. 市民生活丰富  
C. 科技交通发达  
D. 史学研究斐然

【答案】B

【解析】

【详解】随着城市的繁荣，宋代的市民阶层不断壮大，市民文化生活丰富起来。“楼茶舍里有艺人演唱、讲史；瓦肆勾栏中有杂剧表演”体现出宋代市民生活丰富，B项正确；材料不是说明海外贸易发达，排除A项；科技发达是指四大发明等，排除C项；材料说明的是社会生活丰富，不是史学研究成就，排除D项。故选B项。


8. 某校开展中国古代科技成就主题讲座。下列内容可能涉及的有



①《史记》书影



②《齐民要术》书影



③泥活字板



④清代开荒执照

A. ①②

B. ②③

C. ①③

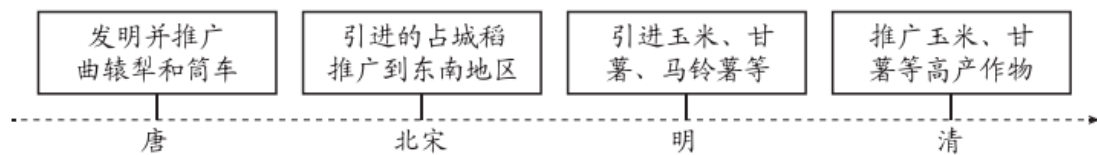
D. ②④

【答案】B

【解析】

【详解】《齐民要术》是北朝时期著名农学家贾思勰的著作；11世纪北宋毕昇发明泥活字。二者都属于古代科技成就，②③符合题意，B项正确；《史记》属于史学作品，“开荒执照”属于政府管理经济措施，①④不符合题意，排除A、C和D项。故选B项。

9. 下面示意图反映出



A. 中国古代重视农业的发展

B. 铁农具是农业发展的基础

C. 大兴水利有助于农业生产

D. 农产品增多丰富商业活动

【答案】A

【解析】

【详解】示意图中曲辕犁、筒车属于农业工具的革新，占城稻、玉米和甘薯等属于农作物新品种引进。因此示意图主旨是古代农业的发展，A项正确；材料不是说明铁农具是农业发展的基础，排除B项；示意图没有说明大兴水利有助于农业生产，排除C项；材料没有提及农业对于商业的影响，排除D项。故选A项。

10. 下面表格中①处可填入的是

西汉	唐	元	清
西域都护	安西都护府、北庭都护府	北庭都元帅府	①

A. 设置宣政院

B. 设置驻藏大臣

C. 设置台湾府

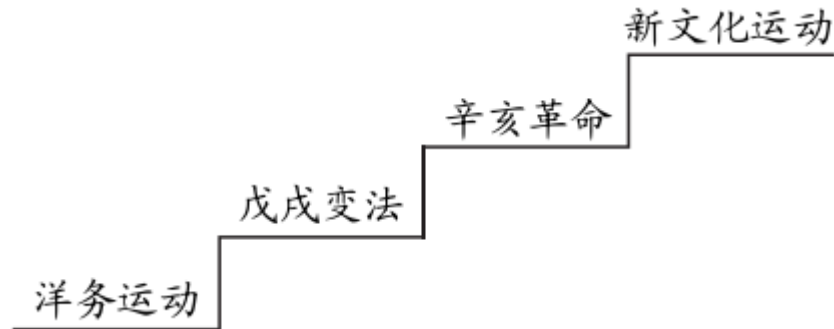
D. 设置伊犁将军

【答案】D

【解析】

【详解】根据材料西汉设置西域都护，唐设置安西都护府、北庭都护府，元设置北庭都元帅府，这些都是历朝在新疆采取的措施，清政府在新疆设置了伊犁将军，D项正确；设置宣政院是元在西藏措施，排除A项；设置驻藏大臣是清朝在西藏的措施，排除B项；设置台湾府是清朝在台湾的措施，排除C项。故选D项。

11. 下面示意图最有可能表示的是



- A. 近代中国抗击外来侵略的历程
- B. 中国半殖民地半封建社会历程
- C. 近代中国新民主主义革命历程
- D. 近代中国人民探索近代化历程

【答案】D

【解析】

【详解】洋务运动开启了中国近代化，戊戌变法和辛亥革命属于政治近代化，新文化运动属于思想近代化。示意图体现出近代中国人民探索近代化历程。D项正确；示意图不是说明近代中国抗击外来侵略的历程，排除A项；列强的步步侵略促使中国逐渐沦为半殖民地半封建社会，排除B项；新民主主义革命开端是五四运动，排除C项。故选D项。

12. 从下列两幅绘画作品可以分析出中国共产党领导的中国革命



《南昌起义》



《井冈山会师》

- A. 从领导工人运动到建立革命统一战线
- B. 从城市武装起义到开辟农村革命根据地
- C. 从国共十年对峙到国共合作共同抗日
- D. 从“以阶级斗争为纲”到以经济建设为中心

【答案】B

【解析】

【详解】根据材料中国共产党领导部分国民革命军在江西省南昌市举行的武装起义，打响了武装反抗国民党反动派的第一枪，揭开了中国共产党独立领导武装斗争和创建革命军队的序幕，南昌起义失败后，毛泽东决定放弃攻打中心城市长沙的计划，改向敌人统治力量薄弱的山区进军，在井冈山地区建立了第一个农村革命根据地，B项正确；从领导工人运动到建立革命统一战线与题干不符，排除A项；国共合作共同抗日是在抗日战争时期，排除C项；以经济建设为中心是在十一届三中全会后，排除D项。故选B项。

13. 重庆谈判和政治协商会议是中国共产党为争取和平、民主进行 尝试。对以下材料理解正确的是

- ①1945年8月,毛泽东赴重庆,与国民党进行谈判
- ②1946年政治协商会议的召开为中国实现民主统一,和平建国带来一线曙光

- A. ①属于历史结论
- B. ①说明重庆谈判使中国走上了和平建国的道路
- C. ②属于历史史实
- D. ②肯定了政治协商会议召开的历史作用

【答案】D

【解析】

【详解】“1946年政治协商会议的召开为中国实现民主统一,和平建国带来一线曙光”从政治协商会议对于民主统一以及和平建国影响进行评价,实际上是肯定了政治协商会议召开的历史作用。D项正确;“1945年8月,毛泽东赴重庆,与国民党进行谈判”属于历史史实,排除A项;重庆谈判并没有使中国走上了和平建国的道路,排除B项;“1946年政治协商会议的召开为中国实现民主统一,和平建国带来一线曙光。”属于历史评价,排除C项。故选D项。

14. “凤阳地多不打粮, 碾子一住就逃荒。”“说凤阳、道凤阳, 改革鼓点先敲响。三年跨了三大步, 如今飞出金凤凰。”以上凤阳花鼓唱词变化的原因是

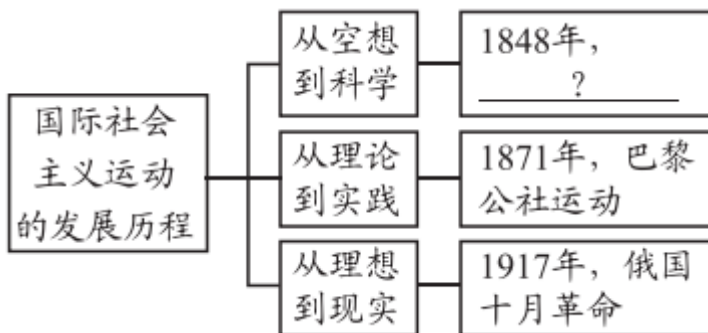
- A. 家庭联产承包责任制的实行
- B. 对外开放格局不断扩大
- C. 社会主义市场经济体制建立
- D. 农业机械化的全面实现

【答案】A

【解析】

【详解】根据材料“凤阳地多不打粮, 碾子一住就逃荒。”“说凤阳、道凤阳, 改革鼓点先敲响。三年跨了三大步, 如今飞出金凤凰”可得出1978年11月24日晚上, 安徽省凤阳县凤梨公社小岗村西头严立华家低矮残破的茅屋里挤满了18位农民, 关系全村命运的一次秘密会议此刻正在这里召开。这次会议的直接成果是诞生了一份不到百字的包干保证书, 家庭联产承包责任制的实行, A项正确; 大连、秦皇岛、天津、烟台、青岛、连云港、南通、上海、宁波、温州、福州、广州、湛江和北海等14个沿海港口城市和海南岛对外开放格局不断扩大, 排除B项; 社会主义市场经济体制是中国改革开放所建立的市场经济体制, 排除C项; 农业机械化的全面实现与题干不符, 排除D项。故选A项。

15. 下面示意图中“?”处应填的内容是



- A. 《共产党宣言》的发表
- B. 国际工人运动兴起
- C. 《资本论》的发表

D. 社会主义制度建立

【答案】A

【解析】

【详解】根据所学知识可得出 1848 年 2 月 21 日在伦敦第一次以单行本问世。2 月 24 日，《共产党宣言》正式出版，A 项正确；1831 年初里昂工人掀起一场以要求提高工薪为主要内容 运动，工人多次举行集会游行，排除 B 项；《资本论》第一卷在 1867 年发表，排除 C 项；苏联于 1936 年建成社会主义制度，排除 D 项。故选 A 项。

16. 它的出版打破了千百年来“上帝创造万物”的神创论，在生物科学领域掀起了一场伟大革命。“它”的作者是

- A. 达·芬奇                      B. 牛顿                      C. 达尔文                      D. 巴尔扎克

【答案】C

【解析】

【详解】根据材料“它的出版打破了千百年来“上帝创造万物”的神创论，在生物科学领域掀起了一场伟大革命”可得出是达尔文提出的生物进化论学说，C 项正确；达·芬奇是意大利博学家，文艺复兴后三杰之一，排除 A 项；牛顿通过论证开普勒行星运动定律与他的引力理论间的一致性，展示了地面物体与天体的运动都遵循着相同的自然定律；为太阳中心说提供了强有力的理论支持，推动科学革命，排除 B 项；巴尔扎克是法国小说家，排除 D 项。故选 C 项。

17. 1921 年，苏俄通过粮食税等市场机制建立工农联盟，同时允许私营企业有一定程度的发展，并以租让制等形式在某些经济部门引入外国资本。这表明苏俄政府正在实施（ ）

- A. 战时共产主义政策                      B. 新经济政策  
C. “社会主义工业化”                      D. “农业集体化”

【答案】B

【解析】

【详解】1921 年春，苏维埃政府开始实施新经济政策。新经济政策的内容包括：以征收粮食税代替余粮征集制；允许使用雇佣劳动力和出租土地，农民可以自由买卖纳税后的剩余产品，实行自由贸易；允许私人经营中小企业；实行按劳取酬的工资制。题干的“允许私营企业有一定程度的发展，并以租让制等形式在某些经济部门引入外国资本。”表明苏俄政府正在实施新经济政策，B 项正确；战时共产主义政策实行余粮征集制，排除 A 项；“社会主义工业化”在 1921 年还未实行，排除 C 项；“农业集体化”在 1921 年还未实行，排除 D 项。故选 B 项。

18. 下面表格中①处应填入的是

①				
整顿金融体系	加强对工业的计划指导	调整农业政策	推行“以工代赈”	建立社会保障制度

- A. 美国内战                      B. 经济大危机                      C. 罗斯福新政                      D. 马歇尔计划

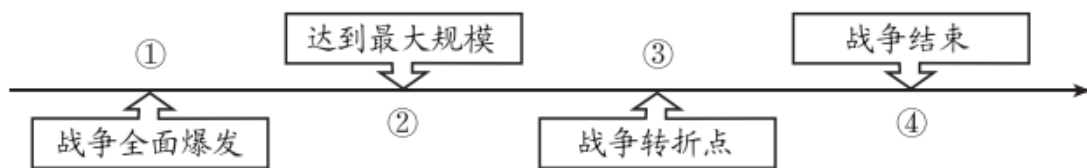
【答案】C

【解析】

【详解】面对 1929-1933 年经济大危机，美国总统罗斯福实行新政，措施有整顿金融体系、加强对工业的计划指导、调整农业政策、推行“以工代赈”以及建立社会保障制度等。因此，①处应填入的是罗斯福新政，C 项正确；美

国内战是指南北战争，排除 A 项；经济大危机是新政之前，排除 B 项；马歇尔计划是二战后冷战时期实行的经济措施，排除 D 项。故选 C 项。

19. 以下示意图呈现了第二次世界大战的主要进程。其中③处的事件是



- A. 莫斯科保卫战      B. 斯大林格勒战役      C. 德国投降      D. 日本投降

【答案】B

【解析】

【详解】根据题干结合所学知识，1942年5月德军横扫苏联西南地区，逼近斯大林格勒；德国空军对苏联南部城市斯大林格勒的大规模轰炸行动，德军攻入市区，市区巷战，苏联红军反击，最终合围全歼轴心国部队。斯大林格勒战役不仅是苏德战场根本转折的开始，而且是第二次世界大战的重要转折点。使苏军从德军手中夺取了战略主动权，并一直保持到战争结束，同时它鼓舞了各国人民同法西斯占领者进行更加坚决的斗争。B项正确；莫斯科保卫战打破了希特勒吹嘘德军天下无敌的神话，是德国东线走向灭亡的开始，德军莫斯科战役的失败，为斯大林格勒战役即二战转折奠定了基础，排除A项；德国投降，标志着二战欧洲战场结束，排除C项；日本投降，二战结束，排除D项。故选B项。

20. 1947年3月12日下午杜鲁门向国会联席会议发表了演说，世界已分为“自由国家”和“极权政体”两个对立的阵营。这一演说

- A. 导致柏林危机      B. 导致两极格局形成  
C. 标志冷战开始      D. 标志两极格局结束

【答案】C

【解析】

【详解】1947年，美国总统杜鲁门要求国会拨款援助希腊、土耳其，杜鲁门宣称美国会带领所有“自由国家”抵抗“极权政体”，这个政策被称为“杜鲁门主义”。杜鲁门主义的出台标志着美、苏同盟关系破裂，冷战开始。C项正确；1948年，美、英、法计划将三国占领区合并，单独建国。苏联为了表示抗议，封锁西柏林，英法对苏占区实行反封锁，“柏林危机”爆发。排除A项；两极格局形成是1955年华约的建立，排除B项；两极格局结束标志是苏联解体，排除D项。故选C项。

## 第二部分 材料分析题

21. 教育传承文明，创造美好未来。

材料一

<p style="text-align: center;">①</p>  <p style="text-align: center;">《论语》书影</p>	<p style="text-align: center;">②</p>  <p style="text-align: center;">汉代《讲经图》拓片</p>	<p style="text-align: center;">③</p>  <p style="text-align: center;">《女真进士题名碑》拓片</p>
<p>以语录体和对话体形式记载了孔子及其弟子的言行</p>	<p>东汉时学校所讲的“经”主要是儒家学说</p>	<p>它是女真人的“金榜”，记载了金哀宗正大元年进士的姓名和籍贯，按照排名分为上、中、下三等；还刻录了考试时间及内容</p>

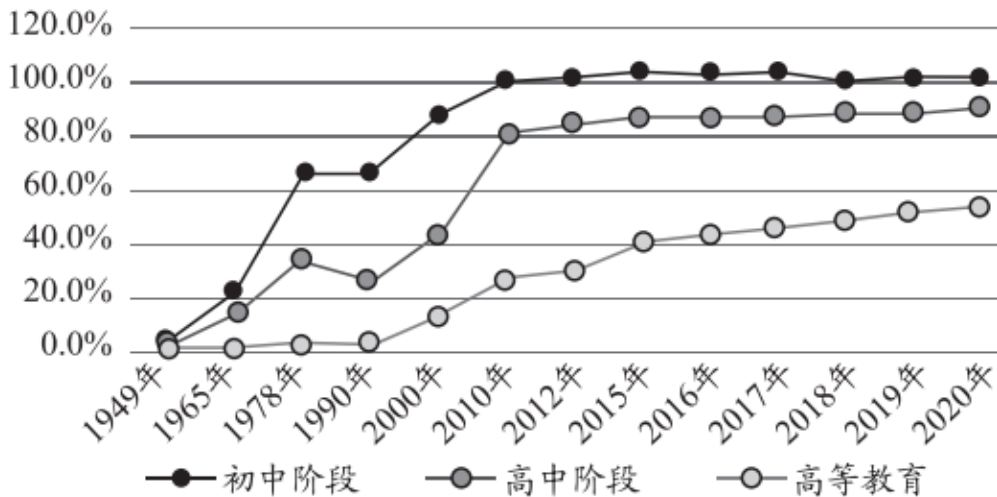
(1) 材料一中可以用于研究“私学的创办打破贵族和王室垄断教育局面”的材料是\_\_\_\_\_。(写序号) 依据材料一并结合所学，分析我国古代教育的作用。

材料二 13 世纪末欧洲各国世俗学校普遍建立，学校培养人才的目的远远不限于神职人员。教育思想把课程的重点由教材转向学生，主张学习者是教育的中心，强调课程的设计应完全以人的需要为出发点，一切教育都必须以人为本，这是现代教育的基本价值。

——摘编自孙雪《从“神本”到“人本”的转型》

(2) 依据材料二，概括近代西方教育的变化。结合所学，分析变化原因。

材料三



1949年至2020年中国初中阶段、高中阶段、高等教育毛入学率

2020年，新增劳动力平均受教育年限达 13.8 年，大学专科以上在职青年占同等文化程度就业总人口比例超过 50%。

学习提升的社会氛围愈加浓厚，有相当数量的青年在离开校园后选择继续深造。受益于网络媒体迅猛发展，数千万青年通过“慕课”（大型开放式网络课程）等方式选学课程、获取知识。

——摘编自《新时代的中国青年》



(3) 依据材料三，概括新中国成立以来教育成就。分析未来教育发展的趋势。

【答案】(1) ①；服务于社会统治的需要。

(2) 由服务于教会到以人为中心，课程的重点由教材转向学生；文艺复兴运动开展。

(3) 成就：义务教育得到普及，高等教育发展迅猛；趋势：教育网络化。

【解析】

【小问 1 详解】

依据所学可知，孔子开创私学，打破了贵族垄断教育的局面，因此，材料一中①符合题意；汉代儒家思想被确立为正统思想，科举制考查儒家经典，都是服务于统治阶级统治的需要。

【小问 2 详解】

依据材料二“教育思想把课程的重点由教材转向学生，主张学习者是教育的中心”可得出由服务于教会到以人为中心；依据材料“教育思想把课程的重点由教材转向学生”可得出课程重点由教材转向学生；原因，依据所学可知，14 世纪兴起的文艺复兴运动，倡导人文主义。

【小问 3 详解】

依据材料三数轴可得出新中国成立以来教育成就有义务教育得到普及以及高等教育发展迅猛；依据材料三“受益于网络媒体迅猛发展，数千万青年通过“慕课”（大型开放式网络课程）等方式选学课程、获取知识。”可得出未来教育发展趋势是教育网络化。

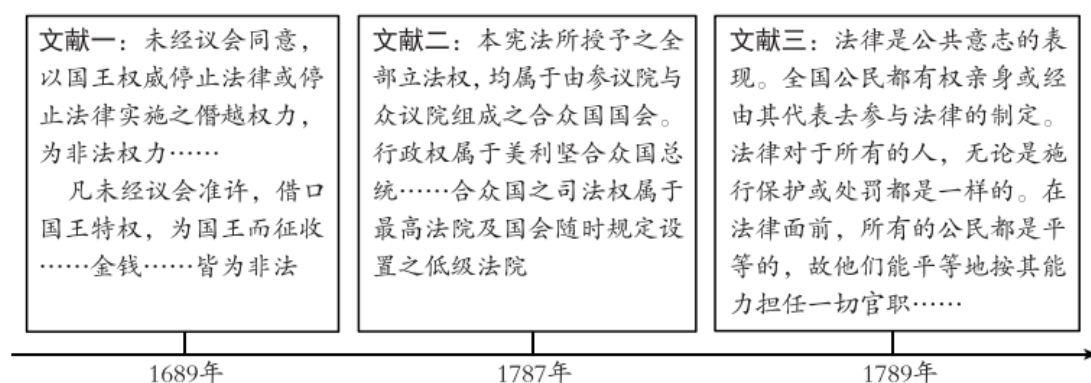
## 22. 法治是人类社会发展的体现。

材料一 国之所以治者三：一曰法，二曰信，三曰权。法者，君臣之所共操也；信者，君臣之所共立也；权者，君之所独制也。人主失守（掌握权力）则危。君臣释（抛弃）法任私，必乱。故立法明分，而不以私害法，则治。

——摘自《商君书》

(1) 依据材料一，写出商鞅认为实现国家安定的主要因素。结合所学，说出商鞅的历史贡献。

材料二



(2) 依据材料二并结合所学，任选两则文献写出其名称。概括三则文献的共同作用。




材料三

《中华民国临时约法》(1912年)	《中华人民共和国宪法》(1954年)
<p>中华民国的主权属于全体国民；国民不分种族、阶级、宗教信仰，一律平等。</p>	<p>中华人民共和国的一切权力属于人民。人民行使权力的机关是全国人民代表大会和地方各级人民代表大会。</p>

参议院行使立法权,国务员辅佐临时大总统行使行政权并负起其责任,司法独立等	中华人民共和国全国人民代表大会是最高国家权力机关
--------------------------------------	--------------------------

(3) 依据材料三并结合所学, 比较两部法律的不同点。任选一部法律, 说出其颁布的背景。

材料四

			
本宪法以法律的形式确认了中国各族人民奋斗的成果,规定了国家的根本制度和根本任务,是国家的根本法,具有最高的法律效力.....	为了保护民事主体的合法权益,调整民事关系,维护社会和经济秩序.....制定本法	为维护国家安全,防范、制止和惩治与香港特别行政区有关的分裂国家.....危害国家安全等犯罪.....制定本法	为了发扬中华民族重视家庭教育的优良传统.....培养德智体美劳全面发展的社会主义建设者和接班人,制定本法

(4) 依据材料四, 谈谈你对“法治中国”建设的认识。

**【答案】** (1) 主要因素: 法律, 信用, 权力。贡献: 商鞅变法使秦国的国力大为增强, 提高了军队的战斗力, 一跃成为最强盛的诸侯国, 为以后秦的统一全国奠定了基础。

(2) 文献一: 《权利法案》; 文献二: 《1787年宪法》; 文献三: 《独立宣言》。共同作用: 建立了资产阶级政权, 促进了资本主义的发展。

(3) 不同点: 《中华民国临时约法》是资产阶级共和国宪法性质的法律文件, 1954年《中华人民共和国宪法》1954年9月20日第一届全国人民代表大会第一次会议通过, 这是中国第一部社会主义宪法。背景: 《中华民国临时约法》是辛亥革命胜利后, 以孙中山为首, 于南京建立中华民国临时政府。此后, 宋教仁起草制定的此法, 是具有“宪法”性质的根本大法, 是中国第一部资产阶级性质的宪法。第一部《中华人民共和国宪法》于1954年9月20日在第一届全国人民代表大会第一次会议上通过, 这是中华人民共和国的第一部宪法, 是在对建国前夕由全国政协制定的起临时宪法作用的《共同纲领》进行修改的基础上制定的。

(4) 法治建设要从我国实际出发, 不断更新法律文献, 社会主义法律的本质是人民的意志的体现; 依法治国就是依照宪法和法律来治理国家, 是中国共产党领导人民治理国家的基本方略, 也是社会文明进步的显著标志, 还是国家长治久安的必要保障。依法治国, 建设社会主义法治国家, 是人民当家作主根本保证; 科学立法、严格执法、公正司法、全民守法全面推进, 才是真正的法治。

**【解析】**

**【小问1详解】**

主要因素: 根据材料一“国之所以治者三: 一曰法, 二曰信, 三曰权”可得出是法律, 信用, 权力。贡献: 根据所学知识可得出商鞅变法使秦国 国力大为增强, 提高了军队的战斗力, 一跃成为最强盛的诸侯国, 为以后秦的统一全国奠定了基础。

### 【小问 2 详解】

文献一：根据材料二可得出《权利法案》；根据材料二可得出文献二：《1787 年宪法》；文献三：根据材料二可得出《独立宣言》。共同作用：根据所学知识英国、美国、法国通过革命，建立了资产阶级政权，促进了资本主义的发展。

### 【小问 3 详解】

不同点：根据所学知识可得出《中华民国临时约法》是资产阶级共和国宪法性质的法律文件，1954 年《中华人民共和国宪法》1954 年 9 月 20 日第一届全国人民代表大会第一次会议通过，这是中国第一部社会主义宪法。背景：根据所学知识可得出《中华民国临时约法》是辛亥革命胜利后，以孙中山为首，于南京建立中华民国临时政府。此后，宋教仁起草制定的此法，是具有“宪法”性质的根本大法，是中国第一部资产阶级性质的宪法。第一部《中华人民共和国宪法》于 1954 年 9 月 20 日在第一届全国人民代表大会第一次会议上通过，共 4 章 106 条。被称为五四宪法。五四宪法是一部较为完善的宪法。这是中华人民共和国的第一部宪法，是在对建国前夕由全国政协制定的起临时宪法作用的《共同纲领》进行修改的基础上制定的。

### 【小问 4 详解】

根据材料及所学知识可得出法治建设要从我国实际出发，不断更新法律文献，社会主义法律的本质是人民的意志的体现；依法治国就是依照宪法和法律来治理国家，是中国共产党领导人民治理国家的基本方略，也是社会文明进步的显著标志，还是国家长治久安的必要保障。依法治国，建设社会主义法治国家，是人民当家作主根本保证；科学立法、严格执法、公正司法、全民守法全面推进，才是真正的法治。

## 23. 糖的生产与传播就是一部世界史。

材料一 石蜜是一种甘蔗汁制成的糖。唐代以前，在不产蔗糖的北方，人们要想品尝石蜜的滋味，就得依靠远道而来的外国使团和西域胡商。贞观二十一年，唐太宗有感于西域石蜜的优点，向印度摩揭陀国派出使团学习制糖技术。学成后历经十二年的不断改进，制成的石蜜色味皆优。

——摘编自李颖《丝路“糖史”》

(1) 依据材料一并结合所学，说出石蜜传入中原的道路以及此路的历史作用。概括唐代学习石蜜制作过程的特点。

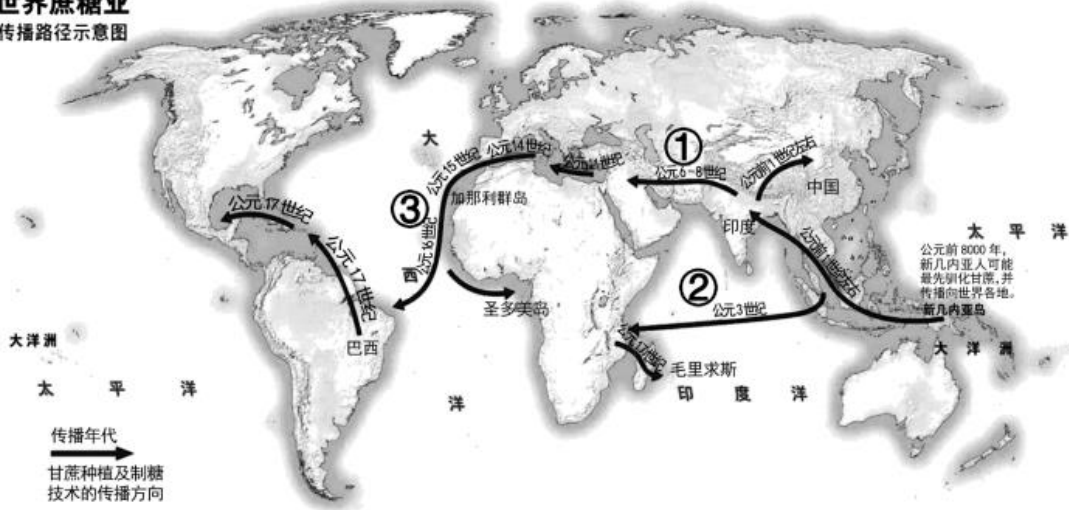
材料二 明清时期，从事制糖业的人越来越多，还出现了以水为动力的糖车，效率比以牛为动力的糖车高得多，使得制糖利润大大提升。在以往制糖技术的基础上发明出“黄泥水淋脱色法”，生产的精制蔗糖中最为雪白细腻的被称作“西洋糖”，在世界蔗糖生产领域占据了领先地位。“西洋糖”出口的目的地也较以往更多，航线距离更长，不仅包含占城、暹罗等“老主顾”，还覆盖了日本、波斯湾及欧洲多个国家。

——摘编自刘丹《中国古代糖史研究》等

(2) 依据材料二，概括明清时期制糖业发展的表现。

材料三

## 世界蔗糖业传播路径示意图



到1700年，美洲新大陆已经变成了一个巨大的蔗糖工厂。以欧洲殖民帝国为中心形成了一个流动着欧洲商品、非洲奴隶和美洲的蔗糖的贸易体系。随着蔗糖大量涌入欧洲，蔗糖变得越来越便宜，不再是贵族的奢侈品，而是平民日常生活的常用品。

——摘编自美·西敏司《甜与权力——糖在近代历史上的地位》等

(3) 依据材料三并结合所学，说出蔗糖从欧洲传播到美洲的线路与背景。(2分。线路写序号) 概括蔗糖传播的影响。

**【答案】** (1) 道路：陆上丝绸之路。历史作用：丝绸之路是古代东西方往来的大动脉，对于中国同其他国家和地区的贸易与文化交流，起到了极大的促进作用。特点：引进学习外来技术并结合自身不断改进。

(2) 从事制糖业的人多；制糖工具改进；不断优化制糖技术；出口的国家多和远。

(3) 路线：③，背景：欧洲殖民扩张，形成欧洲、非洲、美洲航线的黑三角贸易。影响：改变了饮食习惯和消费结构；推动了三角贸易和英国殖民霸权建立；有利于英国资本原始积累，促进资本主义发展。

### 【解析】

#### 【小问1详解】

道路：根据材料一“就得依靠远道而来的外国使团和西域胡商。贞观二十一年，唐太宗有感于西域石蜜的优点，向印度摩揭陀国派出使团学习制糖技术”可得出是陆上丝绸之路。历史作用：根据所学知识可得出丝绸之路是古代东西方往来的大动脉，对于中国同其他国家和地区的贸易与文化交流，起到了极大的促进作用。特点：根据材料一“贞观二十一年，唐太宗有感于西域石蜜的优点，向印度摩揭陀国派出使团学习制糖技术。学成后历经十二年的不断改进，制成的石蜜色味皆优”可得出特点是引进学习外来技术并结合自身不断改进。

#### 【小问2详解】

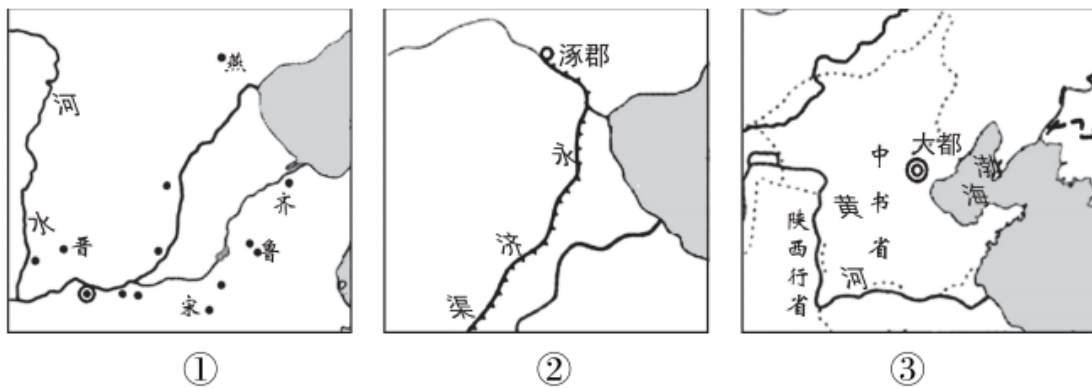
根据材料二“明清时期，从事制糖业的人越来越多”可得出从事制糖业的人多；根据材料二“还出现了以水为动力的糖车，效率比以牛为动力的糖车高得多”可得出制糖工具改进；根据材料二“在以往制糖技术的基础上发明出“黄泥水淋脱色法”，生产的精制蔗糖中最为雪白细腻的被称为“西洋糖”可得出不断优化制糖技术；根据材料二““西洋糖”出口的目的地也较以往更多，航线距离更长，不仅包含占城、暹罗等“老主顾”，还覆盖了日本、波斯湾及欧洲多个国家”可得出出口的国家多和远。

#### 【小问3详解】

路线：根据所学知识可得出路线是③，背景：根据材料三“到 1700 年，美洲新大陆已经变成了一个巨大的蔗糖工厂。以欧洲殖民帝国为中心形成了一个流动着欧洲商品、非洲奴隶和美洲的蔗糖的贸易体系”可得出是欧洲殖民扩张，形成欧洲、非洲、美洲航线的黑三角贸易。影响：根据材料三“随着蔗糖大量涌入欧洲，蔗糖变得越来越便宜，不再是贵族的奢侈品，而是平民日常生活的常用品”可得出改变了饮食习惯和消费结构；推动了三角贸易和英国殖民霸权建立；有利于英国资本原始积累，促进资本主义发展。

## 24. 北京历史文化悠久厚重。

材料一



(1) 依据材料一并结合所学，从②和③中任选一幅示意图，仿照示例说出与北京相关的史实。

示例：①西周初年，实行“分封制”，分封燕侯于今天北京地区。

材料二①1919年某日下午一时半，十几个学校的学生齐集天安门，人人手里拿着一面或两面白旗，上面写着“还我青岛”“诛卖国贼曹汝霖、陆宗舆、章宗祥”等。

②1949年某日下午3点，首都30万军民齐集天安门广场。毛泽东向全世界庄严宣告：“中华人民共和国中央人民政府今天成立了！”

③1956年1月16日，北京市实现公私合营后，工商界代表和工人代表在天安门城楼向党中央和毛主席报喜。



(2) 依据材料二，写出天安门见证的三个历史事件。结合所学，任选其一说出其历史意义。

材料三 首都钢铁公司迄今已有百年历史。1958年建成了3吨侧吹小转炉，结束了首钢有铁无钢的历史；1964年，中国第一座氧气顶吹转炉在首钢诞生，揭开了中国转炉炼钢新的一页。改革开放以后，首钢创造了多项世界第一、中国第一。进入21世纪之后，为成功举办北京奥运会，也为服从城市发展空间布局需要，首钢启动了史无前例的“大搬迁”，开启一业多地的新篇章。

——摘编自人民日报《工业文化遗产，焕发新的生机》

(3) 依据材料三并结合所学，说出50年代首钢发展的背景。分析建国以来首钢发展的贡献。

材料四北京冬奥会、冬残奥会既有场馆设施等物质遗产，也有文化和人才遗产，这些都是宝贵财富，要充分运用好。要充分挖掘利用北京冬奥文化资源，坚定文化自信，更加自信从容传播中国声音、讲好中国故事。

(4) 就如何利用北京冬奥文化资源“传播中国声音、讲好中国故事”提出可行建议。

**【答案】** (1) 隋朝时期，开通大运河，运河北通今天北京地区。元朝时期，实行行省制度，设行省于今天北京地区。

(2) 事件：五四运动、开国大典、三大改造；开国大典的举行，标志着新中国的成立。新中国的成立开辟了中国历史新纪元。从此，中国结束了一百多年来被侵略被奴役的屈辱历史，真正成为独立自主的国家；中国人民从此站了起来，成为国家的主人。新中国的成立，壮大了世界和平、民主和社会主义的力量，鼓舞了世界被压迫民族和被压迫人民争取解放的斗争。三大改造的基本完成实现了把生产资料私有制转变为社会主义公有制的任务。我国初步建立起社会主义的基本制度，从此，进入社会主义初级阶段。

(3) 背景：一五计划的实施；贡献：建国以来首钢发展促进了我国工业技术的进步，推动我国工业的发展。

(4) (4) 建议：应弘扬奉献、友爱、互助、进步的志愿精神，弘扬人道主义精神，建立完善助残爱残的保障服务体系。

**【解析】**

**【详解】** (1) 依据材料一并结合所学，隋朝时期，隋炀帝为加强南北交通，开通大运河，运河北通今天北京地区。元朝时期，实行行省制度，设行省于今天北京地区。

(2) 依据材料二结合所学知识，天安门见证的三个历史事件是五四运动、开国大典、三大改造。开国大典的举行，标志着新中国的成立。新中国的成立开辟了中国历史新纪元。从此，中国结束了一百多年来被侵略被奴役的屈辱历史，真正成为独立自主的国家；中国人民从此站了起来，成为国家的主人。新中国的成立，壮大了世界和平、民主和社会主义的力量，鼓舞了世界被压迫民族和被压迫人民争取解放的斗争。到 1956 年底，国家基本完成了对农业、手工业和资本主义工商业的社会主义改造，实现了把生产资料私有制转变为社会主义公有制的任务。我国初步建立起社会主义的基本制度，从此，进入社会主义初级阶段。

(3) 依据材料三并结合所学，新中国成立初，我国工业基础薄弱，为了有计划的进行社会主义建设，我国进行一五计划。一五计划使我国开始改变工业落后的面貌。建国以来首钢发展的贡献：促进了我国工业技术的发展，推动我国工业的进步。

(4) 本题为开放性题目，言之有理即可。根据材料四结合所学知识，“传播中国声音、讲好中国故事”应弘扬奉献、友爱、互助、进步的志愿精神，弘扬人道主义精神，建立完善助残爱残的保障服务体系。