



初二地理

2024. 01

考生须知

1. 本试卷共 10 页,共两部分,29 道小题。满分 100 分。考试时间 90 分钟。
2. 在试卷和答题卡上准确填写学校名称、班级、姓名和准考证号。
3. 试题答案一律填涂或书写在答题卡上,在试卷上作答无效。
4. 在答题卡上,选择题用 2B 铅笔作答,其他题用黑色字迹签字笔作答。

第一部分 选择题(共 50 分)

本部分共 25 道小题,每小题 2 分,共 50 分。下列各小题均有四个选项,其中只有一个选项是最符合题意要求的,请将所选答案前的字母涂在答题卡相应位置中。

2023 年 10 月 26 日,中国神舟十七号载人飞船成功发射。图 1 为中国宇航员从太空拍摄的地球照片,图 2 为地球公转示意图。读图,完成 1-3 题。




图 1

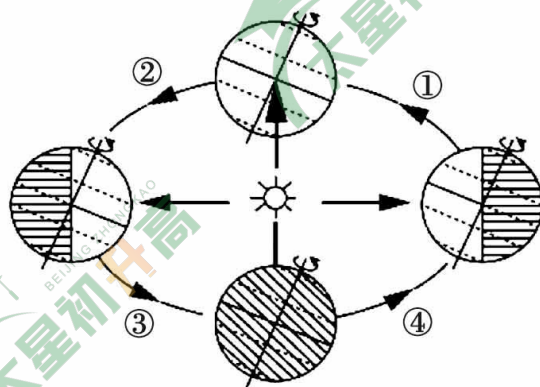


图 2

1. 宇航员在太空中可以看到

A. 地球的形状	B. 地球的经线	C. 地球的半径	D. 地球的纬线
----------	----------	----------	----------
2. 宇航员从太空中看到地球是“蔚蓝色”,主要是因为

A. 海洋是连续的	B. 陆地集中在北半球
C. 海洋面积广大	D. 陆地被海洋分割包围
3. 神舟十七号载人飞船成功发射时,地球运行到

A. ①	B. ②	C. ③	D. ④
------	------	------	------

印度尼西亚火山数量超过 400 座,被称为“火山之国”。图 3 为世界板块分布示意图。读图,完成 4、5 题。

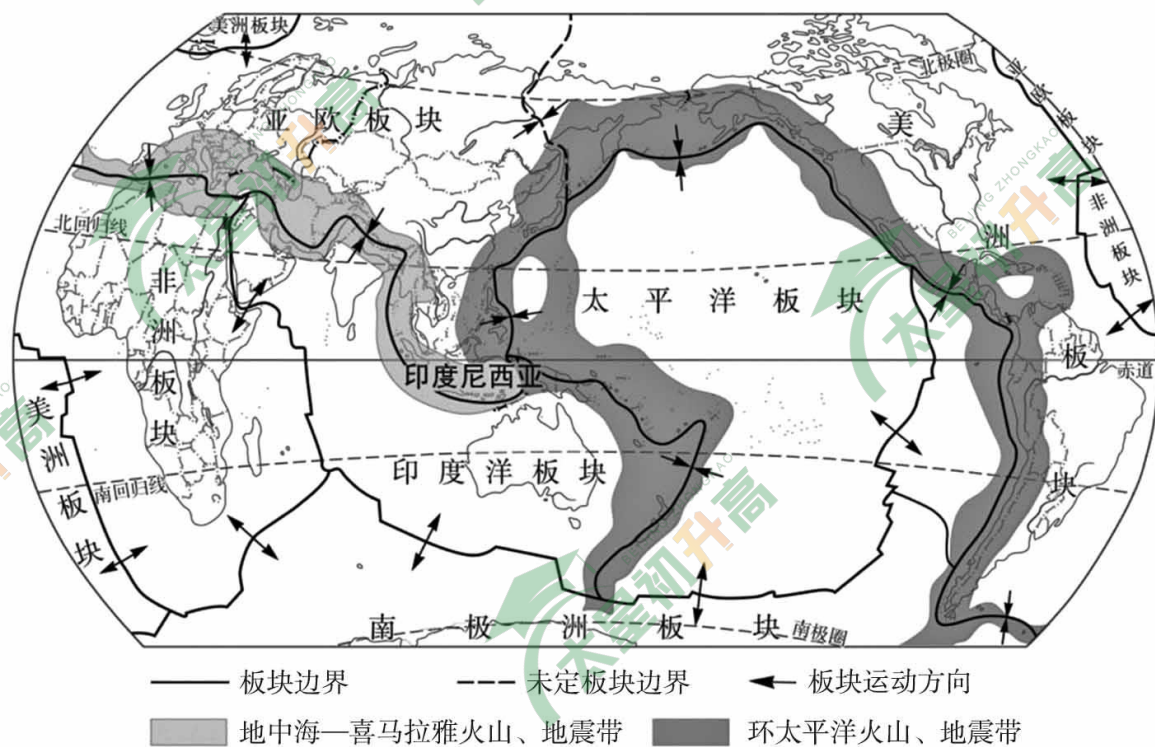


图 3

4. 印度尼西亚火山众多,主要是因为该国位于
- A. 印度洋板块和非洲板块交界地带
 - B. 亚欧板块内部,地壳运动活跃
 - C. 印度洋板块、亚欧板块和美洲板块的交界地带
 - D. 环太平洋与地中海—喜马拉雅火山、地震带交界地带

5. 下列现象可以用板块构造学说解释的是

- ①海陆地形的成因
- ②火山、地震带的分布
- ③泥石流灾害的形成
- ④全球气候变化

- A. ①②
- B. ①③
- C. ②③
- D. ②④

2023 年 10 月 22 日,晴空万里,北京大兴永定河马拉松鸣枪开跑,跑步爱好者在途中可以欣赏永定河靓丽风景。据此,完成 6、7 题。

6. 活动当天的天气情况是

- A.
- B.
- C.
- D.

7. 参赛者在活动当天需要准备

- A. 雨衣
- B. 防晒霜
- C. 登山杖
- D. 滑雪服

图4为世界1月平均气温分布图(局部)。读图,完成8-10题。

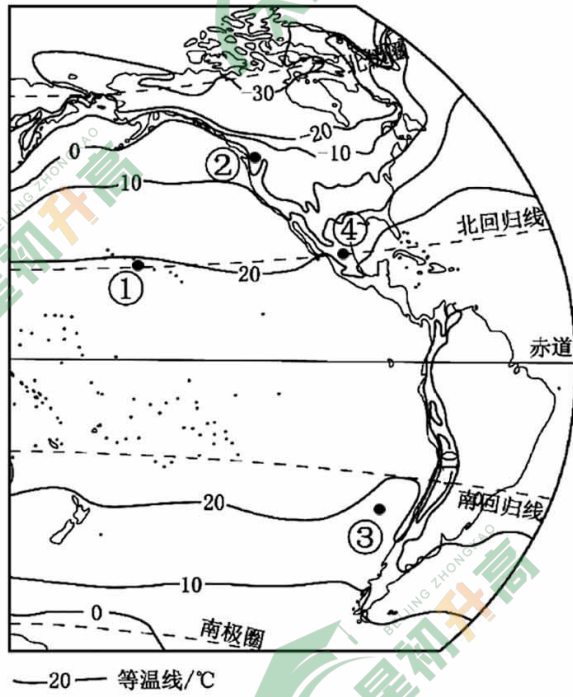


图4

8. 图中①②③④,1月平均气温最高的是

- A. ① B. ② C. ③ D. ④

9. 图中

- A. 气温自北向南逐渐降低 B. 气温自东向西逐渐升高
C. 南半球和北半球温差相同 D. 北半球气温变化更显著

10. 影响①与④气温差异的主要因素是

- A. 半球位置 B. 纬度位置 C. 海陆分布 D. 植被

图5为世界年降水量分布图。读图,完成11-13题。

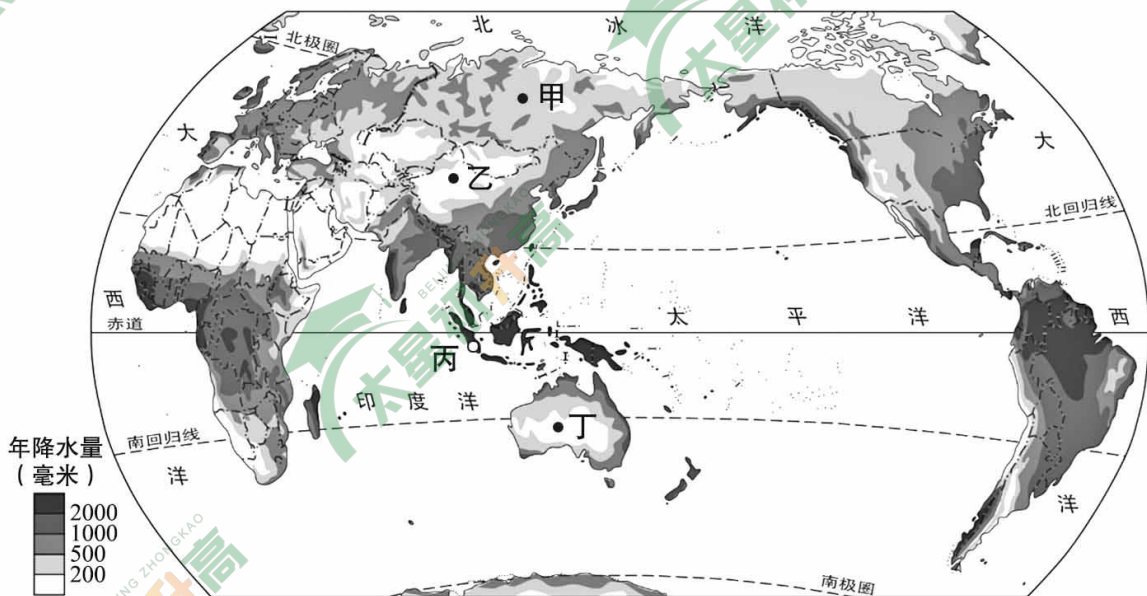


图5



11. 甲、乙、丙、丁四地中,年降水量最多的是
- A. 甲 B. 乙 C. 丙 D. 丁
12. 世界年降水量分布的一般规律是
- A. 内陆地区降水量多于沿海地区 B. 两极地区降水量多
- C. 回归线附近大陆东岸降水量多 D. 赤道附近降水量少
13. 乙地降水量较少的主要原因是
- A. 气温高,降水难以形成 B. 海拔低,水汽难以凝结
- C. 植被少,降水难以存留 D. 距海远,水汽难以到达

老年人口占总人口的比重,用来衡量一个国家或地区的老龄化程度。图6为世界65岁及以上人口比例变化趋势。读图,完成14-16题。

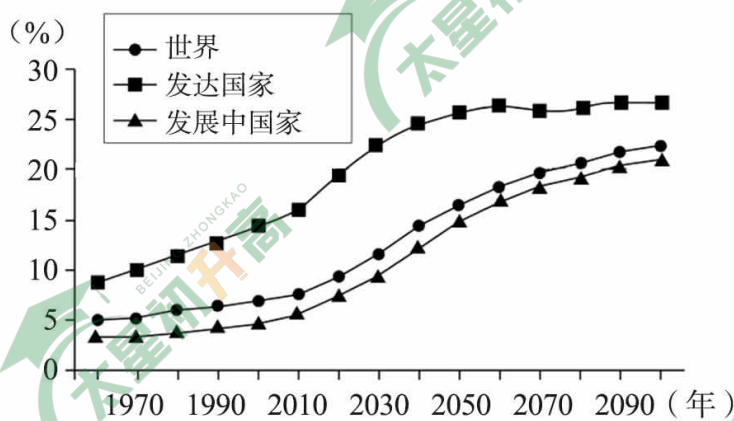


图6

14. 世界65岁及以上人口所占比例总体
- A. 呈上升趋势 B. 基本保持不变
- C. 呈下降趋势 D. 先下降后上升
15. 从图中数据可以得出的结论是
- A. 全球社会经济发展速度呈下降趋势
- B. 发展中国家人口老龄化呈下降趋势
- C. 发达国家比发展中国家老龄化程度高
- D. 控制人口增长是所有国家的人口政策
16. “银发经济”是以服务老年人为主的新兴产业。“银发经济”崛起将明显带动的行业包括
- A. 医疗保健、养老服务 B. 户外运动、网络直播
- C. 汽车销售、服装制造 D. 休闲娱乐、仓储物流

2023年9月23日晚,第19届亚运会在钱塘江畔的杭州奥体中心体育场开幕。为杭州位置示意图和气候资料图,图8为来自阿拉伯半岛的卡塔尔运动员照片。完成17-22题。

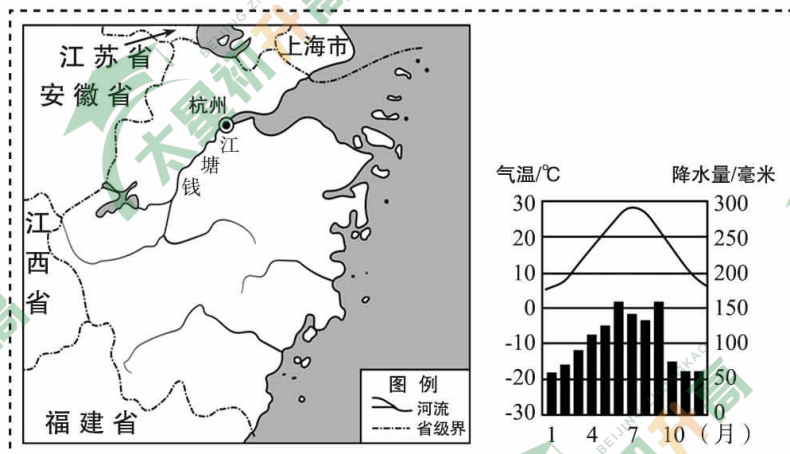


图7

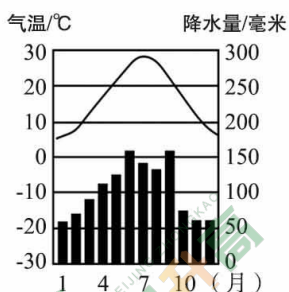


图8



题
答
要
不
内
线
封
密

17. 杭州所在的省份是

- A. 浙江省 B. 江苏省 C. 上海市 D. 福建省

18. 钱塘江

- A. 注入渤海 B. 水量丰富 C. 有结冰期 D. 无明显汛期

19. 卡塔尔运动员

- A. 戴头巾有利于保暖 B. 主要说西班牙语
C. 来自南美洲的北部 D. 以白色人种为主

20. 在亚运会期间,美味的清真食品深受“穆斯林”运动员的喜爱,因为他们信仰

- A. 佛教 B. 伊斯兰教 C. 基督教 D. 道教

21. 亚运会志愿者主要用汉语或英语进行交流,因为

- A. 汉语是世界上使用范围最广的语言
B. 英语在国际会议和交往中广泛使用
C. 英语是世界上使用人数最多的语言
D. 联合国的工作语言只有汉语和英语

22. 亚运会的举办可以

- ①缩小亚洲国家间的经济差异 ②促进亚洲国家间的文化交流
③加快承办地的基础设施建设 ④改变我国人口空间分布格局

- A. ①② B. ①④ C. ②③ D. ③④

我国培育的杂交水稻具有单产高、适应性强等优势,现已推广到多个国家和地区。

图9为种植或研究杂交水稻的国家和地区分布图。读图,完成23-25题。

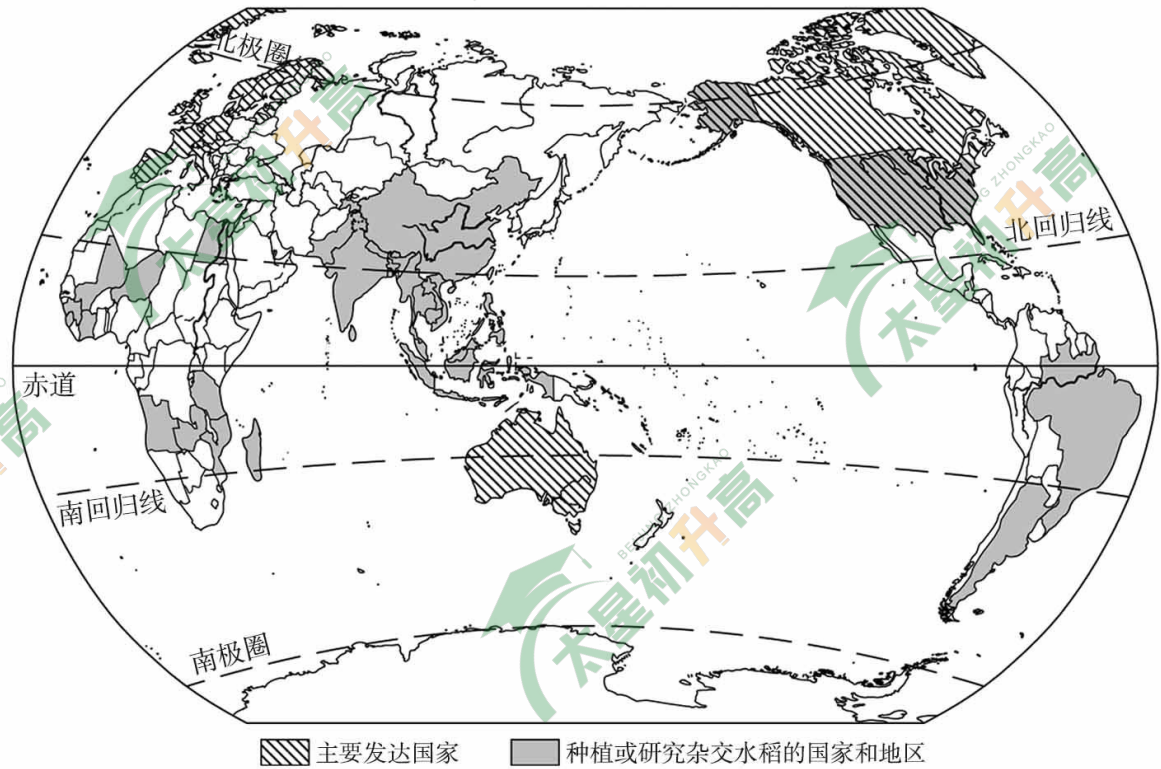


图9

23. 种植或研究杂交水稻的国家和地区

- A. 多为发达国家
- B. 多位于中低纬度
- C. 均为沿海国家
- D. 南半球数量较多

24. 亚洲南部和东南部地区是传统水稻种植区,杂交水稻的引种

- A. 会改变当地饮食习惯
- B. 将替代热带经济作物种植
- C. 会受到霜冻灾害影响
- D. 与当地湿热的环境相适应

25. 杂交水稻技术的推广,可以

- ①促进国际经济合作
 - ②缓解粮食紧缺状况
 - ③消除区域经济差异
 - ④引发稻米价格上涨
- A. ①② B. ①③ C. ②④ D. ③④

第二部分 非选择题(本部分共4道题,共50分)



26. 一张普通的地图包括大量的地理信息,让我们重温“麦哲伦船队环球探险航线图”(图10),发现更多的地理知识。读图,回答下列问题。(13分)

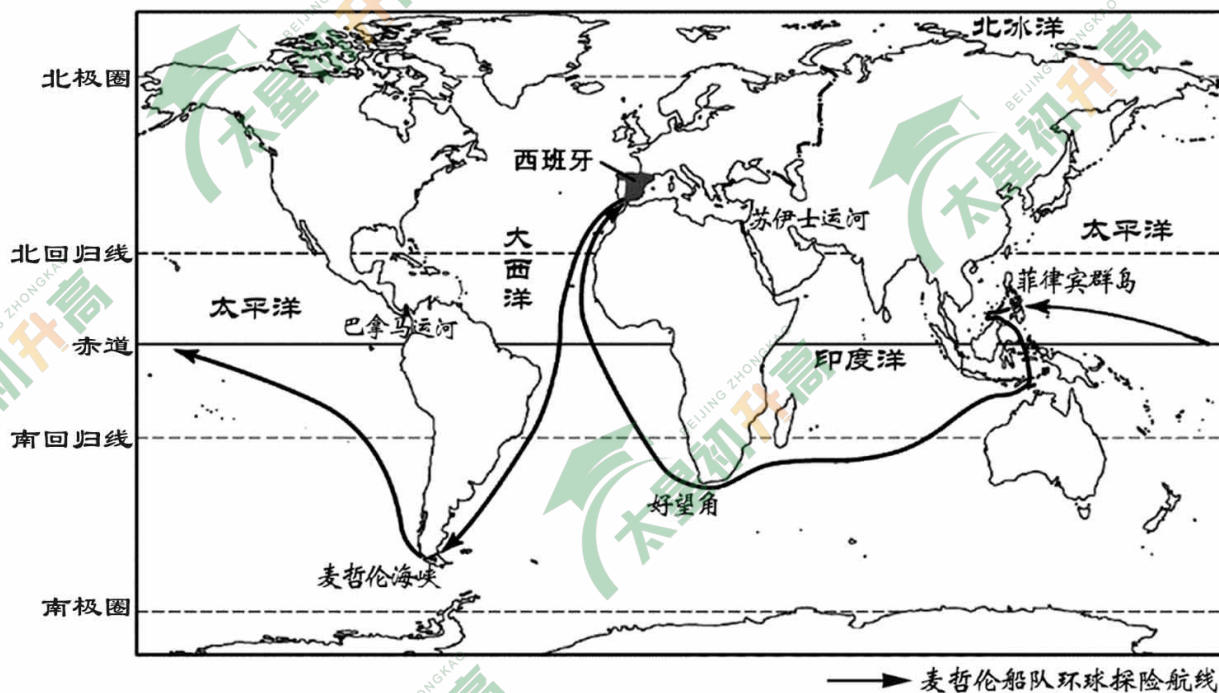


图 10

(1) 麦哲伦船队从 洲的西班牙出发,横渡 洋,穿过 洲南部的麦哲伦海峡,进入 洋,横渡此大洋后,到达菲律宾群岛,继续向 (西/东)航行经过 洋,绕过 洲南端的好望角,最终回到西班牙。

(2) 此次环球航行 (单项选择)。

- ① 经过了地球表面所有大洋
- ② 证实了地球是一个球体
- ③ 证明地球表面有连续而广阔的海洋
- ④ 停靠城市多位于中高纬度地区

- A. ①③ B. ①④ C. ②③ D. ②④

(3) 为了促进海洋运输业的发展,人们在 洲和 洲之间开凿了巴拿马运河; 运河的开凿沟通了大西洋与印度洋。

巴拿马运河的开通,使得行驶于美国东西海岸之间的船只缩短航程约 1.5 万公里。

(4) 请依据地图和资料说明巴拿马运河开通的意义。(至少写出两点)

27. 气候与人类生活密切相关。图 11 为世界气候类型分布图(局部)和两地的气温曲线和降水量柱状图。读图,回答下列问题。(14 分)

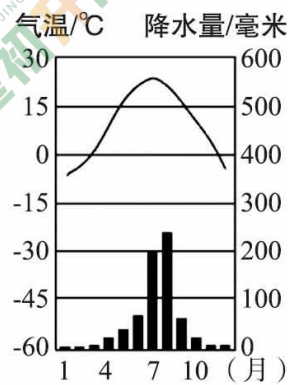
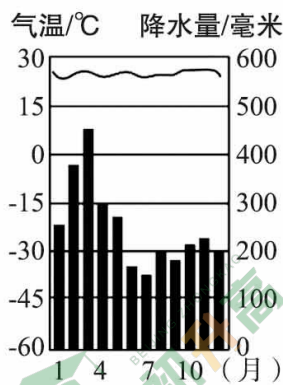
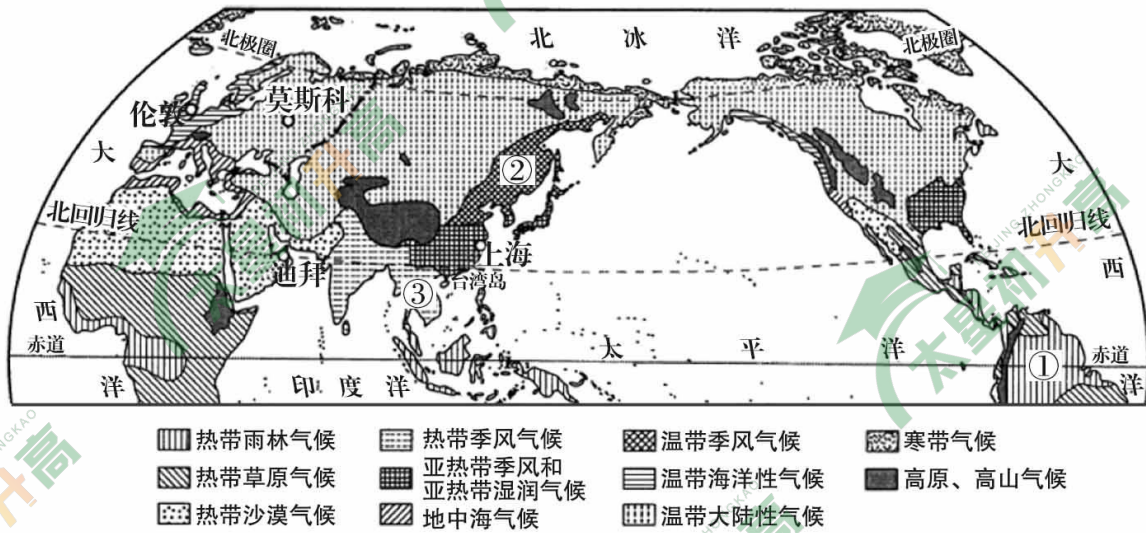


图 11

- 图中①是_____气候,该气候主要分布在_____ (重要纬线)附近地区,其气候特征是_____。
- 图中②是_____气候,主要分布在亚欧大陆_____岸,其气候特征是_____。
- 图中③是_____气候,与②相比,两地气候差异的主要影响因素是_____。
- 图 12 为生活在北极地区因纽特人的传统服饰和传统民居—雪屋。请从服饰和民居中任选其一描述特点,并说明该特点与当地自然环境的关系。



图 12

- 近些年来,由于人类大量排放温室气体,导致北极冰川融化速度加快。为了保护全球气候环境,请结合实际提出两点倡议。

28. 自古以来人类不断适应自然环境,择优而居,形成了很多世界文化遗产。随着科技革命和人口增长,世界上出现了人口100万以上的城市。图13为世界主要特大城市密集带分布图。读图,回答下列问题。(12分)

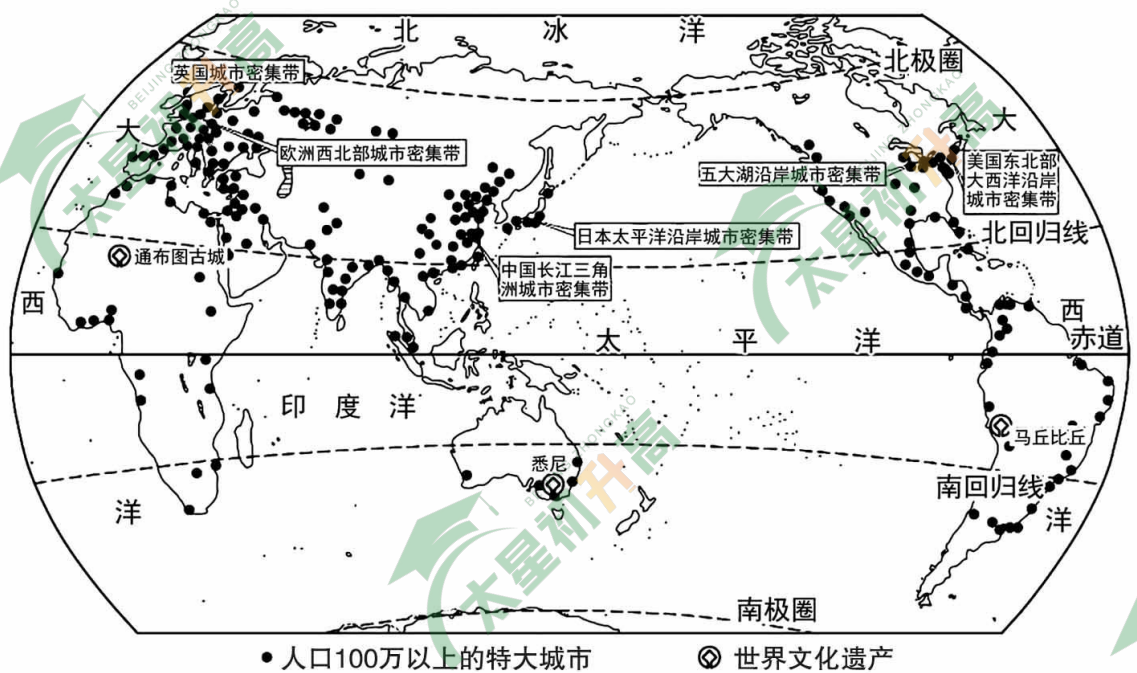


图 13

- (1) 图中城市密集带主要集中在 洲、欧洲和北美洲。英国城市密集带的居民主要以 人种为主,多信仰 教。
- (2) 世界的特大城市和城市密集带主要分布在 (南/北)半球。
- (3) 图中欧洲西北部城市密集带人口稠密,主要是因为 等;中国长江三角洲城市密集带人口稠密,从纬度位置看,处于五带中的 ,提供了适宜的气温条件;从海陆位置看,处于 地区,提供了较好的降水条件;从地形看,以 为主,便于当地居民的生产、生活。
- (4) 下列景观图片能够反映城市聚落的是 ,甲、乙两地景观差异主要表现在 等方面,造成这些差异的根本原因是 。



甲地



乙地

传统聚落是文化遗产的重要组成部分,被誉为“梦幻之都”的通布图古城属于世界文化遗产,因当地气候干燥少雨,建筑主要用泥土修筑。由于来自北方的风沙侵蚀以及越来越多的游客参观,该古城面临着被损毁的危险。

- (5) 请说出保护通布图古城的措施。

29. 中央电视台《北纬 30°·中国行》摄制组,从浙江省舟山群岛出发,一直抵达西藏自治区的阿里地区,所拍节目展示了中国北纬 30°沿线的自然风光、历史文化、民俗风、社会发展的全景式图画。图 14 为摄制组途经地区简图,图 15 为沿北纬 30°线中形剖面图。读图,回答下列问题。(11 分)

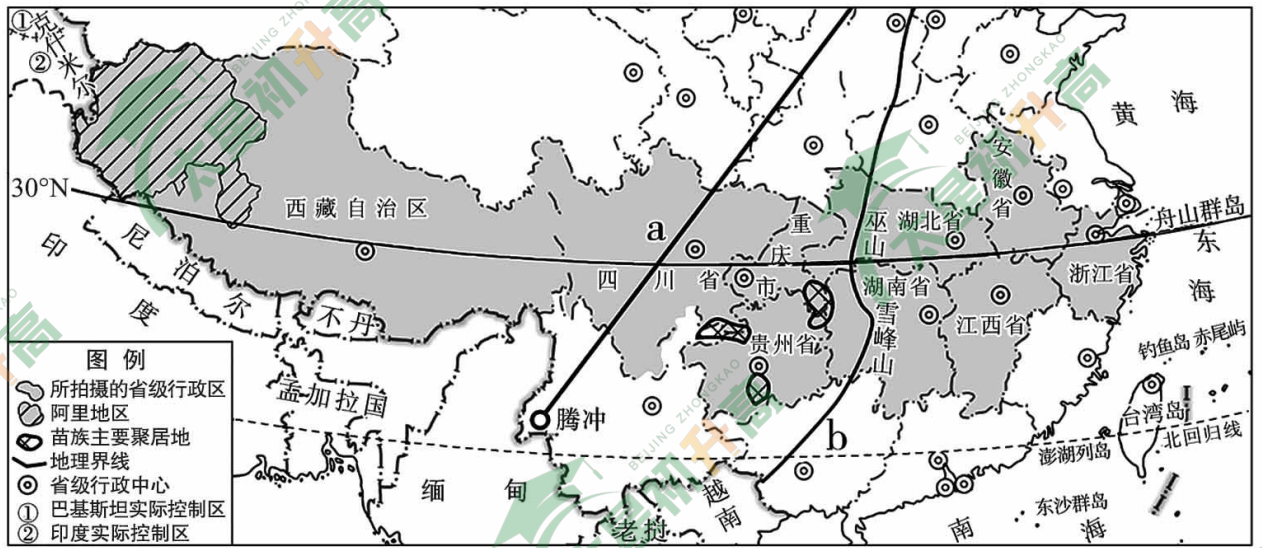


图 14

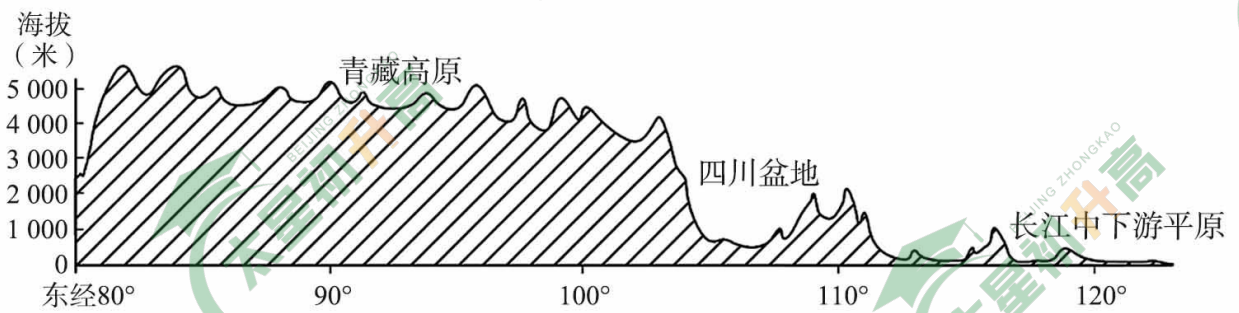


图 15

- (1) 节目摄制组从东临_____海的浙江省出发,向西一路拍摄安徽省、江西省、湖北省、湖南省、_____、贵州省、四川省,最终抵达位于西藏自治区的阿里地区。摄制组在四川省可以品尝到的当地特色美食有_____。
- (2) a 界线是我国人口地理界线,该界线东南部人口_____ (稠密/稀疏)。
- (3) b 界线是我国地势第_____级阶梯分界线;从图 15 可以看出,摄制组自东向西依次经过了_____平原、四川盆地、_____高原。由此可知,北纬 30°沿线我国的地势特点是_____,大致呈_____状分布。

农业科技的进步给青藏地区的人民带来幸福生活。阿里地区自然环境恶劣,曾经这里的新鲜果蔬几乎全靠外地长途转运;如今通过建设智能果蔬大棚,人们吃上了本地产的新鲜果蔬。

- (4) “曾经这里的新鲜果蔬几乎全靠外地长途转运”是因为这里海拔_____,自然环境恶劣。现在人们能吃上本地产的新鲜果蔬是由于_____ (单项选择)。
- | | |
|-----------|-------------|
| A. 自然环境改善 | B. 当地饮食习惯变化 |
| C. 出口需求增加 | D. 农业科技水平提高 |



大兴区 2023~2024 学年度第一学期期末检测

初二地理参考答案及评分标准

第一部分 选择题（共 50 分）

1	2	3	4	5	6	7	8	9	10
A	C	D	D	A	C	B	A	D	C
11	12	13	14	15	16	17	18	19	20
C	C	D	A	C	A	A	B	D	B
21	22	23	24	25					
B	C	B	D	A					

第二部分 非选择题（本部分 4 道题，共 50 分）

关键字错不给分，图或资料中有的字错不给分

26. (13 分)

(1) 欧 大西 南美 太平 西 印度 非

(2) C

(3) 南美 北美（可互换） 苏伊士

(4) 沟通了大西洋与太平洋；方便了大西洋和太平洋两岸的交通运输；缩短了美国东西海岸之间的运输距离和时间（节约了能源；降低运输成本；提高运输效率）促进了周边国家的经济发展、文化交流、贸易往来等

27. (14 分)

(1) 热带雨林 赤道 全年高温多雨，各月降水量比较均匀（从气温和降水两方面表述，气温 1 分，降水 1 分）

(2) 温带季风 东 冬季寒冷干燥，夏季高温多雨，雨热同期（从气温和降水两方面表述，气温 1 分，降水 1 分）

(3) 热带季风 纬度位置

(4) 服饰：厚，当地气温低，有利于保暖；
材质以兽皮（毛皮）为主，就地取材；
棉袍，有利于防风保暖（特点 1 分，关系 1 分）

民居：墙壁厚，门小，无窗，当地气温低，有利于保暖；
以雪为材料，当地积雪多，就地取材；
半圆形，有利于保存热量保暖（特点 1 分，关系 1 分）

(5) 宣传推广使用清洁能源，如利用太阳能；绿色出行，使用公共交通工具；低碳生活，减少空调使用时间，减少煤、石油的使用；植树造林，保护森林资源等



28. (12分)

(1) 亚 白色 基督

(2) 北

(3) 地形以平原为主，平坦开阔（河流众多，水源充足；地处北温带，气候温和；沿海地区交通便利；经济发达、工业发达、科技发达） 北温带（不写“带”不给分） 沿海 平原

(4) 乙地（乙） 房屋类型（房屋密度、房屋数量、道路类型、道路数量、道路密度、自然景观的保护程度、植被覆盖率等） 生产方式和生活方式的不同

(5) 限制游客人数（定期修缮维护古建筑；修建防护带，减少风沙的侵蚀等）

29. (11分)

(1) 东 重庆市 麻辣火锅（担担面、麻婆豆腐、钵钵鸡、麻辣兔头、串串香、酸辣粉、宜宾燃面、水煮鱼等合理即可。但只写“火锅”不给分）

(2) 稠密

(3) 二、三（只写一个不给分） 长江中下游 青藏 西高东低 阶梯

(4) 高 D