

# 2022 北京门头沟初一（下）期末

## 历史



考生须知：

1. 本试卷共 8 页，分为两部分，第一部分选择题，30 个小题，共 60 分；第二部分非选择题，4 道题，共 40 分。
2. 请将条形码粘贴在答题卡相应位置处。
3. 试卷所有答案必须填涂或书写在答题卡上，在试卷上作答无效。请使用 2B 铅笔填涂，用黑色字迹签字笔或钢笔作答。
4. 考试时间 90 分钟，试卷满分 100 分。

### 第一部分 选择题（60 分）

下列各小题均有四个选项，其中只有一项是符合题意要求的。请将所选答案前的字母，按规定要求填涂在答题卡第 1~30 题的相应位置上。（每小题 2 分，选对一项得 2 分，多选则该小题不得分。）

1. 589 年，中国结束了分裂割据局面，又一次实现了统一。这个重新统一的朝代是杨坚建立：

- A. 汉朝                      B. 隋朝                      C. 唐朝                      D. 清朝

2. 当你看到“及第”“进士”“状元”“连中三元”这些词语时，你会想到以下哪种制度

- A. 分封制  
B. 中央集权制  
C. 科举制  
D. 三省六部制

3. 某皇帝深知“水能载舟，亦能覆舟”的古训，在治国过程中轻徭薄赋，广纳贤才，虚心纳谏，开创了政治清明、社会稳定、经济发展的盛世局面，史称（    ）

- A. 文景之治                      B. 光武中兴                      C. 贞观之治                      D. 开元盛世

4. 唐玄宗统治前期，经济繁荣，国力强盛，唐朝进入全盛时期。史称

- A. “文景之治”  
B. “光武中兴”  
C. “贞观之治”  
D. “开元盛世”

5. 诗歌是现实生活的反映。杜甫在“接缕垂芳饵，连筒灌小园”的诗句中描述的工具是



A



B



C



D

6. 据记载，文成公主入藏时，携带的嫁妆有释迦佛像，360 卷经典，大量珍宝、金鞍玉辔、绸帛、种子，60 种营造与工技著作，100 多种医方、4 种医学论著等。丰富的嫁妆种类折射出唐朝

- A. 对边疆统治加强                      B. 民族交融成为主流



C. 经济文化的繁荣

D. 开元盛世成就辉煌

7. 唐代有一位诗人，他的诗反映了动荡时代人民的苦难，表现了强烈的忧国忧民意识，被称为“诗史”。这位诗人是

A. 屈原

B. 杜甫

C. 辛弃疾

D. 关汉卿

8. 历史史实是指客观发生的历史事实，历史观点是对历史史实的认识。以下选项属于历史观点的是

A. 618年，李渊建立唐朝，定都长安

B. 玄奘西行

C. 鉴真东渡，为中日文化交流作出了卓越贡献

D. 唐玄宗册封南诏首领为云南王

9. 唐朝的国势由盛转衰的标志性事件是

A. 陈胜、吴广起义

B. 黄巾起义

C. 安史之乱

D. 黄巢起义

10. “天子重英豪，文章教尔曹。万般皆下品，唯有读书高”、“做人莫做军，做铁莫做针”。这反映宋代统治者推行的主要国策是（ ）

A. 重农抑商

B. 闭关锁国

C. 以人为本

D. 重文轻武

11. 下表所示赋粮比例信息说明

北宋熙宁九年（1076年）赋粮南、北方所占比例

单位	总计	北方数	南方数	南方所占比例（%）
贯、石、匹、两	10018153	4414841	5603312	55.93

A. 黄河流域战乱频繁

B. 南方经济地位重要

C. 文化重心开始南移

D. 北民南迁速度加快

12. 下列我国古代的四大发明传入欧洲后，为新大陆的发现环球航行提重要条件的是：

A. 造纸术

B. 印刷术

C. 火药

D. 指南针

13. 四大发明是中国古代科技发展史上的里程碑，对世界文明的发展做出了突出的贡献。其中，北宋时的匠人毕昇的重大发明是

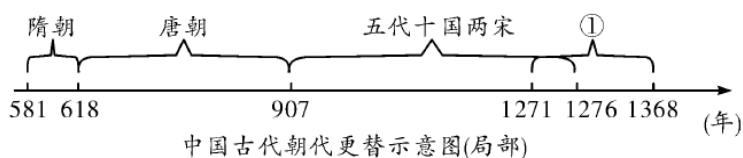
A. 造纸术

B. 活字印刷术

C. 指南针

D. 火药

14. 了解历史时序，初步掌握历史发展的基本线索是学习历史的基本要求。与下图中①对应的朝代是





高中  
入学

- A. 南宋
- B. 元朝
- C. 明朝
- D. 清朝

15. 历史上中央政府首次在台湾地区建立的行政机构，是元朝时设置的

- A. 驻藏大臣
- B. 军机处
- C. 伊犁将军”
- D. 澎湖巡检司

16. 下列是某学习小组开展研究性学习时收集的地图，它们反映的共同主题是（ ）



丝绸之路线路图

玄奘西行与回国路线图

元朝交通路线图

- A. 海上交通的繁盛
- B. 中外交流的发展
- C. 世界市场的形成
- D. 丝织技术的进步

17. 明朝的科举制度“只强调儒家价值观，以牺牲科学、技术、商务和工业等知识为代价，奖赏在文学和人文领域上的成就。”此材料反映了这一制度

- A. 促进了商业的繁荣
- B. 不利于皇权的加强
- C. 阻碍了社会的进步
- D. 有利于培养创新人才

18. 如果把“锦衣卫”、“东厂”、“军机处”、“文字狱”确定为一个学习单元，则主题应该是：

- A. 专制统治的加强
- B. 特务统治的强化
- C. 经济控制的嘉庆
- D. 思想控制的加强

19. “号令明兮赏罚信，赴水火兮敢迟留？上报天子兮下教黔首，杀尽倭奴兮觅个封侯。”与这首军歌有关的历史人物是

- A. 霍去病
- B. 戚继光
- C. 郑成功
- D. 邓世昌

20. 郑成功在致荷兰总督的信中说到“台湾者，中国之土地也。”为此他率军

- A. 抗击倭寇
- B. 击败沙俄
- C. 收复台湾
- D. 平定叛乱

21. 土地和赋税问题是农民普遍关注的问题。“均田免赋”口号是下列哪次农民起义中提出的（ ）

- A. 陈胜、吴广起义
- B. 黄巢起义
- C. 李自成起义
- D. 太平天国运动

22. 文物是历代遗留下来的在文化发展史上有价值的东西。以下文物按所属时代的先后顺序排列，正确的是



①半坡彩陶盆



②兵马俑



③唐三彩



④宋定窑孩儿枕

A. ①②③④

B. ②③④①

C. ①④②③

D. ④③②①

23. 央视一套《典籍里的中国》激发了中学生学习传统文化的兴趣，一位同学对中国古代书籍进行了分类，其中处可选的是

历史类：《史记》《资治通鉴》

医药类：《千金方》《\_\_\_\_\_》

文学类：《三国演义》《红楼梦》

A. 《梦溪笔谈》

B. 《农政全书》

C. 《天工开物》

D. 《本草纲目》

24. “这部著作详尽地记述了中国古代农业、手工业的生产技术和生产过程，被誉为“中国 17 世纪的工艺百科全书”。这部著作是

A. 《史记》

B. 《齐民要术》

C. 《农政全书》

D. 《天工开物》

25. 徐光启是明末科学家，他撰写的一部中国古代农学的集大成著作是

A. 《农政全书》

B. 《本草纲目》

C. 《天工开物》

D. 《齐民要术》

26. 明朝鼎盛时期，全国人口达到 1 亿多，到清朝乾隆末年时，全国人口发展到 3 亿，明清时期人口的快速增长离不开国外高产作物的引进。下列作物，属于我国明代引进的是

A. 水稻、向日葵

B. 玉米、甘薯

C. 马铃薯、粟

D. 花生、水稻

27. 使中国更加远离世界发展潮流的主要原因是清统治者在和西方各国的交往中基本采取：

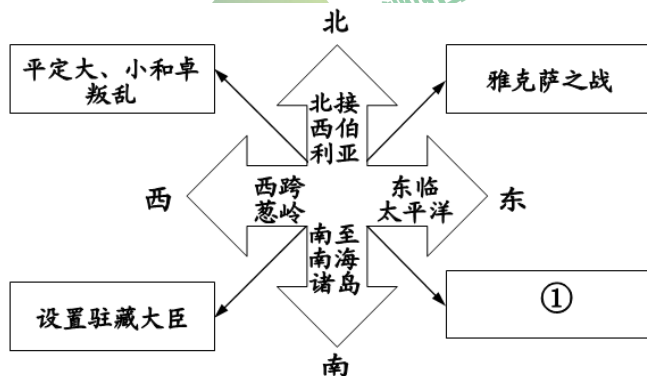
A. 鼓励海外贸易政策

B. 对外开放政策

C. 开明政策

D. 闭关锁国

28. 时空观念是了解和理解历史的基础。以下示意图中①处可填（ ）







- A. 设置台湾府                      B. 签订《尼布楚条约》                      C. 平定噶尔丹叛乱                      D. 实行金瓶掣签制

29. 2010年京剧被列入“人类非物质文化遗产代表作名录”。京剧是中国文化的“国粹”之一，被誉为“国剧”。下列关于京剧的表述，不正确的是

- A. 带有北京的地方特色  
 B. 形成于乾隆年间  
 C. 形成中得到皇室的扶持  
 D. 经过不断创新，成为最主要的剧种
30. 明清时期，小说和戏剧深受人民喜爱，主要是因为

- A. 人民文化素质很高  
 B. 封建社会走向衰落  
 C. 内容反映现实生活  
 D. 题材高雅不落俗套

北京中考在线  
 微信号：BJ\_zkao

第二部分 非选择题（共40分）

31. 某历史学习小组在学习完中国古代史后，归纳出以下历史特征。

史实	共同特征
一、秦朝结束了春秋战国以来 长期分裂局面 隋朝结束了魏晋南北朝以来的长期分裂局面 元朝结束了五代十国以来 长期分裂局面	_____
二、秦朝建立中央集权制度，在地方上实行郡县制度 隋朝实行三省六部制、科举制 元朝实行行省制度	_____
三、秦朝兴建长城、阿房宫、弱山陵等大型工程 隋朝开凿大运河，成为南北交通的大动脉 元朝修建大都	_____

北京中考在线  
 微信号：BJ\_zkao

(1) 把以下所给内容正确填写在表格横线上。（写序号）

共同特征：①都有政治制度方面的创新；②都开创了统一局面；③都兴建了一些大型工程

【时代特征】

- A. 秦汉雄风 \_\_\_\_\_  
 B. 清唐气象 示例：④ \_\_\_\_\_  
 C. 宋元繁盛 \_\_\_\_\_  
 D. 明清余晖 \_\_\_\_\_

- ①苏湖熟 天下足 科技兴 疆域阔 ②下西洋 平倭乱 封达赖 设军机  
 ③扫六合 称皇帝 罢百家 开丝路 ④开运河 创科举 出天竺 入东瀛

(2) 请将以上①—④历史信息（示例除外）按时代特征归类填写在横线上。（写序号）



### 32. 文学与历史。

#### 【以诗证史】

材料一

唐朝诗人创作了大量诗歌，谱写了丝路明珠长安的繁华。

俯瞰长安城，①“百千家似围棋局，十二街如种菜畦”。

在唐朝的宫殿上，②“万国衣冠拜冕旒（冕旒，借指皇帝）”。

街市上，熙熙攘攘，③“水门向晚茶商闹，桥市通宵酒客行”。

考试吸引看越来越多的读书人，④“喧喧车马欲朝天，人探东堂榜已悬”。

妇女引领者时尚，⑤“女为胡妇学胡妆……胡音胡骑与胡妆，五十年来竟纷泊”。

——选编《以诗证史——以唐诗看唐都长安的繁华》

(1) 用材料一中的诗句印证以下史实（5分，填序号，多选、少选、错选均不得分。）

长安是一座国际性的大都会。\_\_\_\_\_

长安布局严整对称，街道宽敞整齐。\_\_\_\_\_

大力发展科举制，不拘一格选拔人才。\_\_\_\_\_

社会风气比较开放，人们在衣食住行等方面多受西北少数民族习俗的影响。\_\_\_\_\_

长安城中有东、西两市，商铺林立，是主要的商业区。\_\_\_\_\_

#### 【词意映史】

材料二 杭州是海上丝绸之路的重要港口，唐代已“户口日益增”“开肆三万室”，至宋代更为东南繁华之最，“衣冠毕会，商贾云集”。柳永词“东南形胜，三吴都会，钱塘自古繁华……参差十万人家”，潘阆词云“万家掩映翠微间”。

——选编《宋朝诗歌所反映的宋朝城市市场分析》

(2) 依据材料二，简要分析杭州在宋代成为“东南繁华之最”的原因。

#### 【曲中唱史】

材料三 元朝建立后，丝绸之路更加通畅，东西交往频繁。马致远在散曲中赞美：“至治华夷，正堂堂大元朝世……小国土尽来朝，大福荫护助里”。贯云石也在散曲中唱道：“江山富，天下总欣伏，大元至大古今无”。


——选编《元曲的人文精神与文化启示》

(3) 依据材料三，说出元曲反映出的元朝统治特征。

#### 【小说有史】

材料四

小说：



A. 《西游记》插图



B. 《三国志通俗演义》书影



史实：①赤壁之战，曹军大溃，曹操带着败兵北撤。赤壁之战对当时整个局势有关键性的影响。②贞观初年，高僧玄奘西行前往天竺取经，不畏艰险，历经磨难，经过4年的长途跋涉到达天竺。③《大唐西域记》记载了100多个国家和地区的山川风物及社会风俗，是研究中外交流史的珍贵文献。

(4) 小说创作在明代处于黄金时期，在中国古代文学发展史上占有重要地位。请将材料四中与小说作品有关的史实对应填写在括号里。

A. 《西游记》( )； B. 《三国志通俗演义》( )

(5) “文学作品中反映的历史都是真实的历史”，你同意这种观点吗？请说明理由

33. 交流促进发展，开放带来进步。阅读材料，回答问题。

材料一 汉代纺织技术先进，丝织品质量高，有绣、罗、纱等许多品种的丝绸。张骞出使西域以后，大量丝帛锦绣沿着通道远销各地，西域各国的珍奇异物也陆续输入中国，这条沟通中西交通的要道，就是著名的“丝绸之路”。

(1) 根据材料一，指出汉代丝织品大量远销的主要原因是什么。



材料二 “丝绸之路”为沿途地区的社会交往提供了通道。盛唐时期的长安，中西文化交融。如图是陕西西安出土的《唐骑驼乐舞三彩俑》，骆驼昂首挺立，中间一胡人跳舞，其余四人围坐演奏胡乐。

——摘编自《剑桥插图中国史》

(2) 根据材料二，指出盛唐时期长安社会发展的特征。并结合所学知识举一例说明。

材料三 海上丝绸之路最早可追溯至汉代。唐中后期，陆上丝绸之路因战乱受阻加之同时期中国经济重心已向南方转移，而海路又远比陆路运量大、成本低、安全度高，海路便取代陆路成为中外贸易主通道。海上丝绸之路在宋朝达到空前繁盛，明朝海禁后衰落。

——摘编自《海上丝绸之路》

(3) 根据材料三并结合所学知识，分析导致“海上丝绸之路在宋朝达到空前繁盛”的因素。

材料四 郑和船队带去了大量的中国瓷器、铜器、铁器、金银和各种精美的丝织品。同时，也换回了亚非各国的许多特产，如胡椒、象牙、宝石、香料和长颈鹿、狮子、鸵鸟等珍贵动物。郑和所到之处，受到各国的热情接待。

(4) 根据材料四，概括郑和下西洋的历史意义。

34. 我国自古以来是一个统一的多民族国家。阅读下列材料，回答问题。

材料一 ①吐蕃首领松赞干布仰慕中原文化，多次向唐请求通婚，于是唐太宗把文成公主嫁给了他。

②唐中宗时，应吐蕃首领尺带珠丹的请求，送金城公主入藏成亲，尺带珠丹高兴地上书唐朝皇帝说，吐蕃和唐朝已经“和同是一家”了。

③唐太宗宣称“自古皆贵中华，贱夷狄，朕独爱之如一。”



(1) 依据材料一中①和②，说出唐朝统治者对吐蕃采取的民族政策。依据③说出唐太宗时期的民族政策的特征。

材料二

**辽宋夏金元时期主要政权更替示意图**

北宋初年，宋辽互有征战。1004年，宋辽缔结“澶渊之盟”宋每年给辽绢20万匹，银10万两。

西夏建立后，多次进攻北宋。1044年，宋夏议和，宋每年赐给西夏岁币。

宋和辽、夏和议以后，恢复了经济文化交流，双方保持了较长时间的和平。

(2) 依据材料二，说出这...历史时期的社会特征。概括这一时期民族关系的特点。

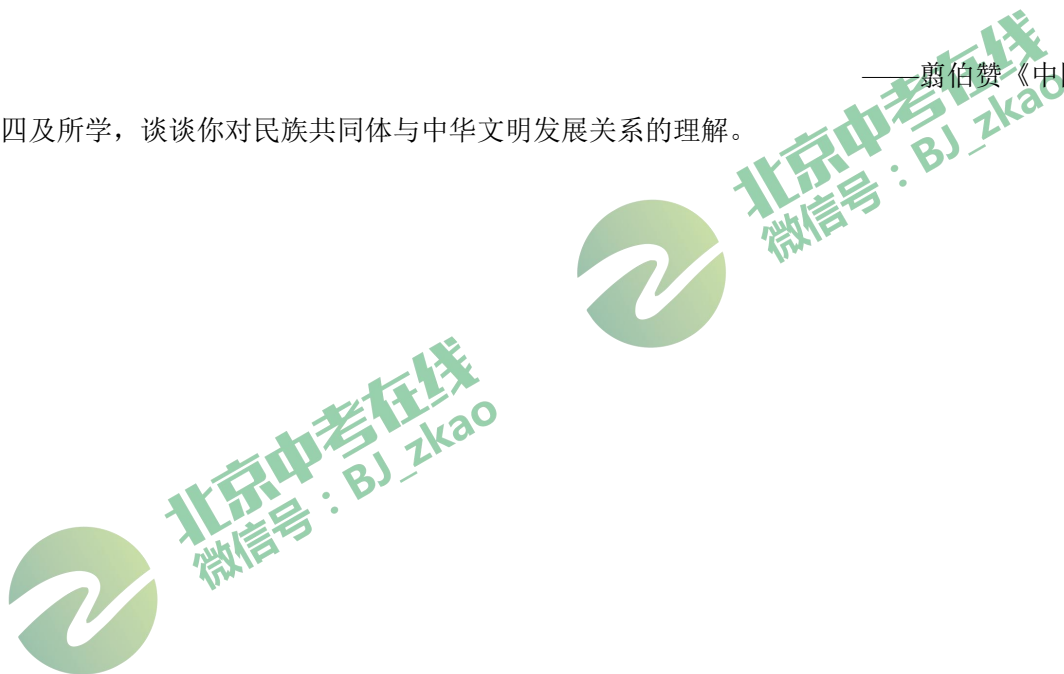
材料三 清朝康熙、雍正、乾隆时期，为了加强对西藏、西北地区的管辖，先后采取了一系列措施：①册封达赖和班禅 ②建立金瓶掣签制度 ③设置驻藏大臣 ④设立乌里雅苏台将军 ⑤设立伊犁将军。

(3) 请从材料三中分别找出清朝管辖西藏和新疆地区的措施各一项。

材料四 华夏民族大一统的国家伟业到了汉武帝时代，完成了从地理空间到精神空间的整合与凝聚，正是这个伟大而充满凝聚力的民族共同体，承载着中华文明古往今来的生生不息。2000多年来的中国历经沧桑，也曾战乱分裂，但是不管危机多么深重，由秦汉帝国开创这一民族共同体总是能够重新走上统一、安定的大道，重现蓬勃生机。

——翦伯赞《中国史十五讲》

(4) 结合材料四及所学，谈谈你对民族共同体与中华文明发展关系的理解。





# 参考答案

## 第一部分 选择题（60分）



下列各小题均有四个选项，其中只有一项是符合题意要求的。请将所选答案前的字母，按规定要求填涂在答题卡第1~30题的相应位置上。（每小题2分，选对一项得2分，多选则该小题不得分。）

1. 589年，中国结束了分裂割据局面，又一次实现了统一。这个重新统一的朝代是杨坚建立：

- A. 汉朝                      B. 隋朝                      C. 唐朝                      D. 清朝

【答案】B

【详解】根据所学知识可知，589年，隋朝灭掉了南方的陈朝，结束了东汉末年以来近四百年的分裂割据局面，继秦汉之后中国又一次实现了统一。所以B符合题意，ACD不符合题意，故选择B。

2. 当你看到“及第”“进士”“状元”“连中三元”这些词语时，你会想到以下哪种制度

- A. 分封制  
B. 中央集权制  
C. 科举制  
D. 三省六部制

【答案】C

【详解】依据所学可知，隋文帝废除选官制度，改以考试选官，隋炀帝时创立进士科，科举制诞生；唐太宗、武则天完善了科举制；隋唐时期，科举考试中常设的主要科目有明经和进士，唐太宗增加科举考试科目，进士科成为最重要的科目，故C符合题意；分封制、中央集权制、三省六部制与题干无关，故ABD不合题意。故此题选C。

【点睛】抓住题干关键词“及第、进士、状元、连中三元”是解题的关键，隋唐时期，科举考试中常设的主要科目有明经和进士，唐太宗增加科举考试科目，进士科成为最重要的科目。

3. 某皇帝深知“水能载舟，亦能覆舟”的古训，在治国过程中轻徭薄赋，广纳贤才，虚心纳谏，开创了政治清明、社会稳定、经济发展的盛世局面，史称（     ）

- A. 文景之治                      B. 光武中兴                      C. 贞观之治                      D. 开元盛世

【答案】C

【详解】依据所学可知，唐太宗李世民，年号贞观，他统治时期，广纳贤才，知人善用，完善三省六部制，明确职责，轻徭薄赋，发展生产，政治清明，经济发展，社会安定，历史上称他统治时期为贞观之治，故C符合题意；文景之治、光武中兴、开元盛世与题干无关，故ABD不合题意。故此题选C。

4. 唐玄宗统治前期，经济繁荣，国力强盛，唐朝进入全盛时期。史称

- A. “文景之治”  
B. “光武中兴”  
C. “贞观之治”  
D. “开元盛世”

【答案】D

【详解】依据所学知识可知，唐玄宗即位后，任用姚崇等人当宰相，重视地方吏治，把中央优秀官吏下放到地方任职，并亲自考核县令政绩，还注意节俭，这些改革措施使开元年间政局为之一新。唐玄宗统治前期，政治清明，经济空前繁荣，仓库充实，人口增加，唐朝进入全盛时期，史称“开元盛世”。D项符合题意；西汉初年，文景时期，



政治清明，经济发展，人民生活安定。这一时期被称为“文景之治”，A项不合题意；西汉光武帝时期的繁荣局面，称为“光武中兴”。B项不合题意；唐太宗统治时期的盛世局面称“贞观之治”。C项不合题意。由此可知ABD三项不合题意，故选择D。

5. 诗歌是现实生活的反映。杜甫在“接缕垂芳饵，连筒灌小园”的诗句中描述的工具是



A



B



C



D

【答案】C

【详解】依据杜甫的诗歌“接缕垂芳饵，连筒灌小园”可知描述的是一种灌溉工具。结合课本所学可知，杜甫生活在唐朝。唐朝前期的100多年中，经济发展迅速，社会呈现繁荣景象。在农业方面，垦田面积逐渐扩大。农业生产技术不断改进，发明了灌溉工具筒车。在大轮子上绑上一个个小竹筒，随水流自行转动，竹筒把水由低处汲到高处，便于灌溉。图C是唐朝发明的灌溉工具筒车，C项符合题意；图A是西汉时期，南方人民发明的“秧马”，用于插秧，大大减轻了劳动强度。A项不合题意；图B是曲辕犁，是用于农作物耕种的工具。B项不合题意；图D是汉代耨车，是一种播种工具。D项不合题意。由此可知ABD三项不合题意，故选择C。

6. 据记载，文成公主入藏时，携带的嫁妆有释迦佛像，360卷经典，大量珍宝、金鞍玉辔、绸帛、种子，60种营造与工技著作，100多种医方、4种医学论著等。丰富的嫁妆种类折射出唐朝

- A. 对边疆统治加强
- B. 民族交融成为主流
- C. 经济文化的繁荣
- D. 开元盛世成就辉煌

【答案】C

【详解】依据记载“文成公主入藏时，携带 嫁妆有释迦佛像，360卷经典，大量珍宝、金鞍玉辔、绸帛、种子，60种营造与工技著作，100多种医方、4种医学论著等”分析可知，丰富的嫁妆种类折射出唐朝经济文化的繁荣。因为文成公主的嫁妆包含的类别有宗教、手工业、医药学、农业等这几个方面，反映了唐朝经济的繁荣和文化的发达。文成公主入藏促进了吐蕃的经济进步和文化发展，增进了汉藏两族之间的友好关系，所以C项符合题意。由此分析ABD三项均不符合题意，排除，故选C。

7. 唐代有一位诗人，他的诗反映了动荡时代人民的苦难，表现了强烈的忧国忧民意识，被称为“诗史”。这位诗人是

- A. 屈原
- B. 杜甫
- C. 辛弃疾
- D. 关汉卿

【答案】B

【详解】依据所学可知，杜甫生活在唐朝由盛转衰的时代，他的诗深刻反映了那个动荡的历史时代，真挚地表现了他关心国家盛衰和民生疾苦的心情，人们称之为“诗史”。杜甫感情真挚，笔触细腻，风格雄浑，语言简练。被后人尊为“诗圣”，所以B项符合题意；A项是战国时期楚国的诗人，C项是南宋的词人，D项是元代的戏剧家。由此分析ACD三项均不符合题意，排除，故选B。



8. 历史史实是指客观发生的历史事实，历史观点是对历史史实的认识。以下选项属于历史观点的是

- A. 618年，李渊建立唐朝，定都长安
- B. 玄奘西行
- C. 鉴真东渡，为中日文化交流作出了卓越贡献
- D. 唐玄宗册封南诏首领为云南王

【答案】C

【详解】根据“历史史实是指客观发生的历史事实，历史观点是对历史史实的认识”结合所学知识可知，鉴真东渡，为中日文化交流作出了卓越贡献是对鉴真东渡的评价，属于历史观点，C符合题意；ABD项都是对历史事件的客观叙述，属于历史事实，排除。故选择C。

9. 唐朝的国势由盛转衰的标志性事件是

- A. 陈胜、吴广起义
- B. 黄巾起义
- C. 安史之乱
- D. 黄巢起义

【答案】C

【详解】根据所学知识可知，755年，安禄山借口朝廷出现奸臣，和部将史思明一起发动叛乱，史称“安史之乱”。持续八年之久的安史之乱，对社会经济造成极大的破坏，尤其是北方地区遭到浩劫。唐朝的国势从此由盛转衰，各种矛盾越来越尖锐，C符合题意；AB项不是发生在唐朝，不符合题意；D项黄巢起义属于唐末农民起义，黄巢起义给唐朝统治带来了致命的打击，但并不是唐朝由盛转衰的标志，不符合题意。所以ABD不符合题意，故选择C。

10. “天子重英豪，文章教尔曹。万般皆下品，唯有读书高”、“做人莫做军，做铁莫做针”。这反映宋代统治者推行的主要国策是（ ）

- A. 重农抑商
- B. 闭关锁国
- C. 以人为本
- D. 重文轻武

【答案】D

【详解】根据所学和材料可知：“唯有读书高”、“做人莫做军”体现了重文轻武，故D符合题意。重农抑商是封建社会的基本政策；闭关锁国是明清时期的对外态度；以人为本是科学发展观的精神，故ABC均不符合题意。故选D。

【点睛】注意这个区别：宋代主要国策重文轻武，重农抑商是封建社会的基本政策。

11. 下表所示赋粮比例信息说明

北宋熙宁九年（1076年）赋粮南、北方所占比例

单位	总计	北方数	南方数	南方所占比例（%）
贯、石、匹、两	10018153	4414841	5603312	55.93

- A. 黄河流域战乱频繁
- B. 南方经济地位重要
- C. 文化重心开始南移
- D. 北民南迁速度加快

【答案】B

【分析】



【详解】根据表格北宋熙宁九年（1076年）赋粮南、北方所占比例，结合所学知识可知，南方所占比例高于北方，说明南方经济地位重要，故选B项；此时国家相对安定，故排除A项；文化重心南移是经济重心南移的影响，与题干主旨无关，故排除C项；北民南迁是经济重心南移的原因，与材料主旨无关，故排除D项。

12. 下列我国古代的四大发明传入欧洲后，为新大陆的发现提供重要条件的是：

- A. 造纸术                      B. 印刷术                      C. 火药                      D. 指南针

【答案】D

【详解】根据所学知识可知，我国古代的四大发明传入欧洲后，“新大陆的发现”即是指地理大发现，四大发明中对地理大发现具有重要作用的是指南针。所以D符合题意，ABC不符合题意，故选择D。

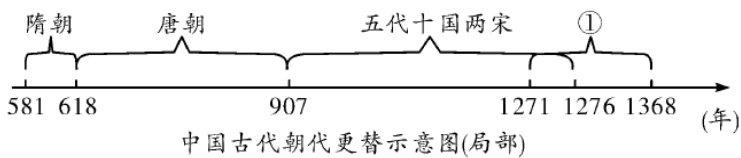
13. 四大发明是中国古代科技发展史上的里程碑，对世界文明的发展做出了突出的贡献。其中，北宋时的匠人毕昇的重大发明是

- A. 造纸术  
B. 活字印刷术  
C. 指南针  
D. 火药

【答案】B

【详解】依据所学可知，北宋毕昇发明活字印刷术，制作泥模，刻反体字，然后将泥模烧硬，排版即码字，然后涂墨，上纸，印刷，装订成书。提高了印刷速度。活字印刷术的发明，促进了文明的传播、交流和发展，故B符合题意；造纸术、指南针、火药与题干无关，故ACD不合题意。故此题选B。

14. 了解历史时序，初步掌握历史发展的基本线索是学习历史的基本要求。与下图中①对应的朝代是



- A. 南宋  
B. 元朝  
C. 明朝  
D. 清朝

【答案】B

【详解】结合所学知识可知，根据题干①处的两个时间1271年至1368年可知，这个王朝是元朝。1271年，忽必烈建立元朝，1279年，灭掉南宋，统一中国，1368年，朱元璋军攻入元大都，结束了元朝对全国的统治，B符合题意，ACD与题意不符，故本题选B。

15. 历史上中央政府首次在台湾地区建立的行政机构，是元朝时设置的

- A. 驻藏大臣                      B. 军机处                      C. 伊犁将军”                      D. 澎湖巡检司

【答案】D

【详解】结合所学内容可知，元朝时期设置澎湖巡检司对台湾地区进行了管辖，故选D；驻藏大臣、军机处和伊犁将军等机构都是清朝时期设立的，排除ABC。

16. 下列是某学习小组开展研究性学习时收集的地图，它们反映的共同主题是（ ）





丝绸之路路线图



玄奘西行与回国路线图



元朝交通路线图

- A. 海上交通的繁盛      B. 中外交流的发展      C. 世界市场的形成      D. 丝织技术的进步

【答案】B

【详解】根据所学知识，丝绸之路促进了亚欧各国个中国之家的友好往来。玄奘西行促进了中国与印度的文化交流。从元朝交通路线图可以看出，元朝陆路和海外交通发达，使中外经济、文化和科技的交流进一步发展，所以三幅图片共同反映的主题是中外交流发展，B 正确；“玄奘西行与回国路线图”、“丝绸之路路线图”为陆上交流排除 A；三幅图片与世界市场形成、丝织技术的无关，排除 CD。故选 B。

17. 明朝的科举制度“只强调儒家价值观，以牺牲科学、技术、商务和工业等知识为代价，奖赏在文学和人文领域上的成就。”此材料反映了这一制度

- A. 促进了商业的繁荣  
B. 不利于皇权的加强  
C. 阻碍了社会的进步  
D. 有利于培养创新人才

【答案】C

【详解】依据题干“只强调儒家价值观，以牺牲科学、技术、商务和工业等知识为代价，奖赏在文学和人文领域上的成就。”反映了明朝的科举制使儒学成为统治者奴化臣民的工具，加强了皇权，官僚队伍壮大的同时，考试范围狭窄、缺乏实用性，出现了“以牺牲科学、技术、商务和工业等知识为代价”的局面，即从事科学技术研究的人才力量相对薄弱，C 项符合题意；BD 两项不合题意；科举制是中国古代通过考试选拔官吏的制度。科举制使拥有才识的读书人有机会进入各级政府任职，促进了教育事业的发展，与商业无关。A 项不合题意。由此可知 ABD 三项不合题意，故选择 C。

【点睛】“只强调儒家价值观，以牺牲科学、技术、商务和工业等知识为代价，奖赏在文学和人文领域上的成就。”是解题的关键，反映了明朝的科举制只强调儒家学生的价值观，只强调人文成就，牺牲了自然科学等知识，阻碍了社会的进步。

18. 如果把“锦衣卫”、“东厂”、“军机处”、“文字狱”确定为一个学习单元，则主题应该是：

- A. 专制统治的加强      B. 特务统治的强化      C. 经济控制的嘉庆      D. 思想控制的加强

【答案】A

【详解】根据所学可知，锦衣卫、东厂和西厂是明朝君权高度强化的一种表现。军机处是清朝雍正设立，是封建君主集权达到顶峰的标志。文字狱是清朝为了加强思想统治采取的措施，其目的是加强中央集权。以上这些措施都反映出中国古代封建君主专制集权的加强不断地强化。所以 A 符合题意，BCD 不符合题意，故选择 A。

19. “号令明兮赏罚信，赴水火兮敢迟留？上报天子兮下教黔首，杀尽倭奴兮觅个封侯。”与这首军歌有关的历史人物是

- A. 霍去病



- B. 戚继光
- C. 郑成功
- D. 邓世昌

【答案】B

【详解】依据所学知识可知，戚继光是明朝抗倭名将，杰出的军事家、书法家、诗人、民族英雄，戚继光在东南沿海抗击倭寇十余年，扫平了多年为虐沿海的倭患，确保了沿海人民的生命财产安全，“号令明兮赏罚信，赴水火兮敢迟留？上报天子兮下教黔首，杀尽倭奴兮觅个封侯”与戚继光有关，B项符合题意；ACD三项不符合题意；故选B。

20. 郑成功在致荷兰总督的信中说到“台湾者，中国之土地也。”为此他率军

- A. 抗击倭寇
- B. 击败沙俄
- C. 收复台湾
- D. 平定叛乱

【答案】C

【详解】依据所学知识可知，明朝后期，荷兰殖民者侵占台湾，1661年郑成功率军进军台湾，1662年初，打败荷兰殖民者，台湾重新回到祖国的怀抱，郑成功是我国历史上的民族英雄，C项符合题意；ABD三项不符合题意；故选C。

21. 土地和赋税问题是农民普遍关注的问题。“均田免赋”口号是下列哪次农民起义中提出的（ ）

- A. 陈胜、吴广起义
- B. 黄巢起义
- C. 李自成起义
- D. 太平天国运动

【答案】C

【详解】依据课本所学可知，明朝末年，政治腐败越发严重，国家财政危机深重，朝廷不断加派赋税，人民不堪重负，怨声载道，阶级矛盾异常尖锐。灾难深重的广大农民在无法忍受下去，纷纷举行起义，反抗朝廷的统治。在各支农民起义军中，李自成的队伍发展迅速，成为起义的主力军。李自成率领农民起义军进入中原以后，提出“均田免赋”的口号，得到广大农民的热烈拥护。C正确；陈胜、吴广起义提出“王侯将相宁有种乎？”，A排除；黄巾起义的口号“苍天已死，黄天当立，岁在甲子，天下大吉”，B排除；太平天国运动的提出了“有田同耕，有饭同食，有衣同穿，有钱同使，无处不均匀，无人不饱暖”的口号，D排除；故选C。

22. 文物是历代遗留下来的在文化发展史上有价值的东西。以下文物按所属时代的先后顺序排列，正确的是



①半坡彩陶盆



②兵马俑



③唐三彩



④宋定窑孩儿枕

- A. ①②③④
- B. ②③④①
- C. ①④②③
- D. ④③②①

【答案】A



【详解】据所学知识，①距今约 6000 年，半坡人的生活用具具有半坡彩陶盆；②兵马俑秦朝时期；③唐三彩属于唐朝时期；④宋定窑孩儿枕属于宋朝时期，因此文物的排序是①②③④，A 项正确；BCD 对文物排序是错误的，排除 BCD 项。故选 A 项。

23. 央视一套《典籍里的中国》激发了中学生学习传统文化的兴趣，一位同学对中国古代书籍进行了分类，其中处可选的是

历史类：《史记》《资治通鉴》

医药类：《千金方》《\_\_\_\_\_》

文学类：《三国演义》《红楼梦》

- A. 《梦溪笔谈》                      B. 《农政全书》                      C. 《天工开物》                      D. 《本草纲目》

【答案】D

【分析】

【详解】根据所学可知中国历史博大精深，有大量历史类、医药类、文学类的书籍，其中医药类的有《千金方》《伤寒杂病论》《本草纲目》等，故选 D；A 是科技类著作，排除；B 是农业类，排除；C 是总结农业手工业技术经验的著作，排除。

24. “这部著作详尽地记述了中国古代农业、手工业的生产技术和生产过程，被誉为“中国 17 世纪的工艺百科全书”。这部著作是

- A. 《史记》  
B. 《齐民要术》  
C. 《农政全书》  
D. 《天工开物》

【答案】D

【详解】依据所学可知，明朝杰出的科学家宋应星所著的《天工开物》，总结明代农业和手工业生产技术，还反映了明代我国手工工场的生产面貌，涉及到农业和手工业等三十多个生产部门，作者在书中强调人类要和自然相协调、人力要和自然力相配合。这部书被外国学者称为“中国 17 世纪的工艺百科全书”，所以 D 项符合题意；A 项是我国第一部纪传体通史，B 项是我国第一部现存的完整的农书，C 项是明代末年一部重要的农业科学巨著。由此分析 ABC 三项均不符合题意，排除，故选 D。

25. 徐光启是明末科学家，他撰写的一部中国古代农学的集大成著作是

- A. 《农政全书》  
B. 《本草纲目》  
C. 《天工开物》  
D. 《齐民要术》

【答案】A

【详解】结合所学知识可知，明朝末年徐光启编著的《农政全书》是一部实用性很强的农业百科全书，书中记载了我国古代有关农业的理论和科学方法，还介绍了欧洲的水利技术。这是我国农学史上最早传播西方近代科学知识的书籍。选项 A 符合题意；《本草纲目》是李时珍；《天工开物》是宋应星；《齐民要术》是贾思勰；选项 BCD 不符合题意；故选 A。



26. 明朝鼎盛时期，全国人口达到 1 亿多，到清朝乾隆末年时，全国人口发展到 3 亿，明清时期人口的快速增长离不开国外高产作物的引进。下列作物，属于我国明代引进的是

- A. 水稻、向日葵      B. 玉米、甘薯      C. 马铃薯、粟      D. 花生、水稻

【答案】B

【详解】结合所学内容可知，明代引进的高产作物是玉米和甘薯，故选 B；水稻和粟都是我国早期先民培育的农作物，排除 ACD。

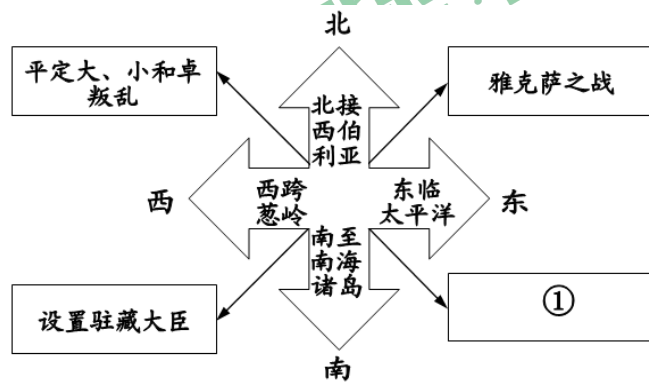
27. 使中国更加远离世界发展潮流的主要原因是清统治者在和西方各国的交往中基本采取：

- A. 鼓励海外贸易政策      B. 对外开放政策      C. 开明政策      D. 闭关锁国

【答案】D

【详解】根据所学知识可知，闭关政策对西方殖民者的侵略者活动，起到一定的自卫作用；但是，当时西方国家正先后进行资产阶级革命和工业革命，跨入生产力迅速发展的新时代。清政府由于闭关锁国，与世隔绝，既看不到世界形势的变化，也未能适时地向西方学习先进科学技术和生产技术，使中国在上落伍了。所以 D 符合题意，ABC 不符合题意，故选择 D。

28. 时空观念是了解和理解历史的基础。以下示意图中①处可填（ ）



- A. 设置台湾府      B. 签订《尼布楚条约》      C. 平定噶尔丹叛乱      D. 实行金瓶掣签制

【答案】A

【详解】依据题干的图片信息，结合所学知识可知，清朝时期，为了加强对东南沿海的统治，以及对台湾的统治，设置台湾府，A 项符合题意；BCD 三项不符合题意；故选 A。

29. 2010 年京剧被列入“人类非物质文化遗产代表作名录”。京剧是中国文化的“国粹”之一，被誉为“国剧”。下列关于京剧的表述，不正确的是

- A. 带有北京 地方特色  
B. 形成于乾隆年间  
C. 形成中得到皇室的扶持  
D. 经过不断创新，成为最主要的剧种

【答案】B

【详解】根据所学知识可知，1840 年（清道光 20 年）以后，京剧正式形成。B 符合题意，ACD 项都是关于京剧的正确表述，不符合题意。故选择 B。

30. 明清时期，小说和戏剧深受人民喜爱，主要是因为

- A. 人民文化素质很高





- B. 封建社会走向衰落
- C. 内容反映现实生活
- D. 题材高雅不落俗套

【答案】C

【详解】明清时期，随着商品经济的发展和市民阶层的扩大。反映现实生活的小说和戏剧备受人们的欢迎，C符合题意；人民文化素质很高不是材料中现象的主要原因，A不符合题意；封建社会走向衰落是此时期文学产生的政治因素，不是主要原因，B不符合题意；小说和戏剧反映的题材不一定是高雅的，D不符合题意，故选C。

第二部分 非选择题（共40分）

31. 某历史学习小组在学习完中国古代史后，归纳出以下历史特征。

史实	共同特征
一、秦朝结束了春秋战国以来的长期分裂局面 隋朝结束了魏晋南北朝以来的长期分裂局面 元朝结束了五代十国以来的长期分裂局面	_____
二、秦朝建立中央集权制度，在地方上实行郡县制度 隋朝实行三省六部制、科举制 元朝实行行省制度	_____
三、秦朝兴建长城、阿房宫、弱山陵等大型工程 隋朝开凿大运河，成为南北交通的大动脉 元朝修建大都	_____

(1) 把以下所给内容正确填写在表格横线上。（写序号）

共同特征：①都有政治制度方面的创新；②都开创了统一局面；③都兴建了一些大型工程

【时代特征】

- A. 秦汉雄风 \_\_\_\_\_
- B. 清唐气象 示例：④
- C. 宋元繁盛 \_\_\_\_\_
- D. 明清余晖 \_\_\_\_\_

- ①苏湖熟 天下足 科技兴 疆域阔
- ②下西洋 平倭乱 封达赖 设军机
- ③扫六合 称皇帝 罢百家 开丝路
- ④开运河 创科举 出天竺 入东瀛

(2) 请将以上①—④历史信息（示例除外）按时代特征归类填写在横线上。（写序号）

【答案】(1) 一是②；二是①；三是③。

(2) A是③；C是①；D是②。

【详解】(1) 根据材料表格信息结合所学知识可知，秦朝结束了春秋战国以来的长期分裂局面、隋朝结束了魏晋南北朝以来的长期分裂局面、元朝结束了五代十国以来的长期分裂局面都开创了统一局面；秦朝建立中央集权制度，在地方上实行郡县制度，隋朝实行三省六部制、科举制，元朝实行行省制度都有政治制度方面的创新；秦朝兴



建长城、阿房宫、弱山陵等大型工程，隋朝开凿大运河，成为南北交通的大动脉元朝，修建大都兴建了一些大型工程。因此，对应关系为：一是②；二是①；三是③。

(2) 结合所学知识可知，①苏湖熟天下足 科技兴 疆域阔 反映的是宋元时期的史实；②下西洋 平倭乱 封达赖 设军机反映的是明清时期的史实；③扫六合 称皇帝 罢百家 开丝路 反映的是秦汉时期的史实。因此，对应关系为：A是③；C是①；D是②。

### 32. 文学与历史。

#### 【以诗证史】

##### 材料一

唐朝诗人创作了大量诗歌，谱写了丝路明珠长安的繁华。

俯瞰长安城，①“百千家似围棋局，十二街如种菜畦”。

在唐朝的宫殿上，②“万国衣冠拜冕旒（冕旒，借指皇帝）”。

街市上，熙熙攘攘，③“水门向晚茶商闹，桥市通宵酒客行”。

考试吸引看越来越多的读书人，④“喧喧车马欲朝天，人探东堂榜已悬”。

妇女引领者时尚，⑤“女为胡妇学胡妆……胡音胡骑与胡妆，五十年来竞纷泊”。

——选编《以诗证史——以唐诗看唐都长安的繁华》

(1) 用材料一中的诗句印证以下史实（5分，填序号，多选、少选、错选均不得分。）

长安是一座国际性的大都会。\_\_\_\_\_

长安布局严整对称，街道宽敞整齐。\_\_\_\_\_

大力发展科举制，不拘一格选拔人才。\_\_\_\_\_

社会风气比较开放，人们在衣食住行等方面多受西北少数民族习俗的影响。\_\_\_\_\_

长安城中有东、西两市，商铺林立，是主要的商业区。\_\_\_\_\_

#### 【词意映史】

材料二 杭州是海上丝绸之路的重要港口，唐代已“户口日益增”“开肆三万室”，至宋代更为东南繁华之最，“衣冠毕会，商贾云集”。柳永词“东南形胜，三吴都会，钱塘自古繁华……参差十万人家”，潘阆词云“万家掩映翠微间”。

——选编《宋朝诗歌所反映的宋朝城市市场分析》

(2) 依据材料二，简要分析杭州在宋代成为“东南繁华之最”的原因。

#### 【曲中唱史】

材料三 元朝建立后，丝绸之路更加通畅，东西交往频繁。马致远在散曲中赞美：“至治华夷，正堂堂大元朝世……小国土尽来朝，大福荫护助里”。贯云石也在散曲中唱道：“江山富，天下总欣伏，大元至大古今无”。

——选编《元曲的人文精神与文化启示》

(3) 依据材料三，说出元曲反映出的元朝统治特征。

#### 【小说有史】

##### 材料四



小说:



A. 《西游记》插图

B. 《三国志通俗演义》书影

史实：①赤壁之战，曹军大溃，曹操带着败兵北撤。赤壁之战对当时整个局势有关键性的影响。②贞观初年，高僧玄奘西行前往天竺取经，不畏艰险，历经磨难，经过4年的长途跋涉到达天竺。③《大唐西域记》记载了100多个国家和地区的山川风物及社会风俗，是研究中外交流史的珍贵文献。

(4) 小说创作在明代处于黄金时期，在中国古代文学发展史上占有重要地位。请将材料四中与小说作品有关的史实对应填写在括号里。

A. 《西游记》( )； B. 《三国志通俗演义》( )

(5) “文学作品中反映的历史都是真实的历史”，你同意这种观点吗？请说明理由

【答案】(1) ①. ② ②. ① ③. ④ ④. ⑤ ⑤. ③

(2) 丝绸之路的重要港口，人口众多，商业繁盛。

(3) 元朝疆域辽阔，经济繁荣，交通发达。 (4) ②③；①。

(5) 不同意；文学作品能够反映一定的历史，但也夹杂着个人的喜好、看法，和真实的历史存在一定的差距。言之有理即可。

【详解】(1) 结合所学知识，①“百千家似围棋局，十二街如种菜畦”。描绘的是长安城布局严整对称，街道宽敞整齐；②“万国衣冠拜冕旒（冕旒，借指皇帝）”。说明长安是一座国际型大都市；③“水门向晚茶商闹，桥市通宵酒客行”。说明长安城的商业繁荣；④“喧喧车马欲朝天，人探东堂榜已悬”。说的是唐朝的科举制；⑤“女为胡妇学胡妆……胡音胡骑与胡妆，五十年来竞纷泊”。说的是唐朝的民族关系。因此，正确的对应关系为：①：②；②：①；③：④；④：⑤；⑤：③。

(2) 根据材料二中“杭州是海上丝绸之路的重要港口，唐代已‘户口日益增’‘开肆三万室’，至宋代更为东南繁华之最”可知，杭州在宋代成为“东南繁华之最”是因为杭州是丝绸之路的重要港口，人口众多，商业繁盛。

(3) 根据材料三“至治华夷，正堂堂大元朝世……小国土尽来朝，大福荫护助理”“江山富，天下总欣伏，大元至大古今无”可知，元朝疆域辽阔，经济繁荣，交通发达。

(4) 结合所学知识可知，《西游记》是描写玄奘西行的神话小说。因此，②③与《西游记》有关；《三国志通俗演义》是描写三国的历史小说。赤壁之战为三国鼎立的形成奠定了基础。因此，①与《三国志通俗演义》有关。

(5) 结合所学知识可知，文学作品能够反映一定的历史，但也夹杂着个人的喜好、看法，和真实的历史存在一定的差距。言之有理即可。

33. 交流促进发展，开放带来进步。阅读材料，回答问题。





材料一 汉代纺织技术先进，丝织品质量高，有绣、罗、纱等许多品种的丝绸。张骞出使西域以后，大量丝帛锦绣沿着通道远销各地，西域各国的珍奇异物也陆续输入中国，这条沟通中西交通的要道，就是著名的“丝绸之路”。

(1) 根据材料一，指出汉代丝织品大量远销的主要原因是什么。



材料二 “丝绸之路”为沿途地区的社会交往提供了通道。盛唐时期的长安，中西文化交融。如图是陕西西安出土的《唐骑驼乐舞三彩俑》，骆驼昂首挺立，中间一胡人跳舞，其余四人围坐演奏胡乐。

——摘编自《剑桥插图中国史》

(2) 根据材料二，指出盛唐时期长安社会发展的特征。并结合所学知识举一例说明。

材料三 海上丝绸之路最早可追溯至汉代。唐中后期，陆上丝绸之路因战乱受阻加之同时期中国经济重心已向南方转移，而海路又远比陆路运量大、成本低、安全度高，海路便取代陆路成为中外贸易主通道。海上丝绸之路在宋朝达到空前繁盛，明朝海禁后衰落。

——摘编自《海上丝绸之路》

(3) 根据材料三并结合所学知识，分析导致“海上丝绸之路在宋朝达到空前繁盛”的因素。

材料四 郑和船队带去了大量的中国瓷器、铜器、铁器、金银和各种精美的丝织品。同时，也换回了亚非各国的许多特产，如胡椒、象牙、宝石、香料和长颈鹿、狮子、鸵鸟等珍贵动物。郑和所到之处，受到各国的热情接待。

(4) 根据材料四，概括郑和下西洋 历史意义。

**【答案】** (1) 汉代纺织技术先进，丝织品质量高、品种多；丝绸之路的开通。

(2) 中外文化交融。鉴真东渡传播唐文化(或玄奘西行求取佛经)。

(3) 陆上丝绸之路因战乱受阻；中国经济重心南移；海路运量大、成本低、安全度高；政府鼓励海外贸易；中国造船业发达，航海技术高；指南针在航海上的应用；地理知识的进步等。

(4) 促进了中国和亚非各国的经济交流；加强了我国和亚非各国的友好关系。

**【详解】** (1) 根据材料“汉代纺织技术先进，丝织品质量高”可知汉代纺织技术先进，丝织品质量高、品种多；根据材料“张骞出使西域以后，大量丝帛锦绣沿着通道远销各地，西域各国的珍奇异物也陆续输入中国，这条沟通中西交通的要道，就是著名的‘丝绸之路’”可知丝绸之路的开通。

(2) 根据材料可知通过丝绸之路中西方文化交融，交融的事件还有鉴真东渡和玄奘西行。

(3) 根据材料“唐中后期，陆上丝绸之路因战乱受阻加之同时期中国经济重心已向南方转移，而海路又远比陆路运量大、成本低、安全度高，海路便取代陆路成为中外贸易主通道。”可知陆上丝绸之路因战乱受阻，中国经济重心南移，海路运量大、成本低、安全度高；结合所学知识可知政府鼓励海外贸易，中国造船业发达，航海技术高，指南针在航海上的应用，地理知识的进步。





(4) 根据材料可知郑和下西洋促进了中国和亚非各国的经济交流；加强了我国和亚非各国的友好关系。

34. 我国自古以来是一个统一的多民族国家。阅读下列材料，回答问题。

材料一 ①吐蕃首领松赞干布仰慕中原文化，多次向唐请求通婚，于是唐太宗把文成公主嫁给了他。

②唐中宗时，应吐蕃首领尺带珠丹的请求，送金城公主入藏成亲，尺带珠丹高兴地上书唐朝皇帝说，吐蕃和唐朝已经“和同为一家”了。

③唐太宗宣称“自古皆贵中华，贱夷狄，朕独爱之如一。”

——摘编自人教版《中国历史七年级下册》

(1) 依据材料一中①和②，说出唐朝统治者对吐蕃采取的民族政策。依据③说出唐太宗时期的民族政策的特征。

材料二

**辽宋夏金元时期主要政权更替示意图**

北宋初年，宋辽互有征战。1004年，宋辽缔结“澶渊之盟”宋每年给辽绢 20 万匹，银 10 万两。

西夏建立后，多次进攻北宋。1044 年，宋夏议和，宋每年赐给西夏岁币。

宋和辽、夏和议以后，恢复了经济文化交流，双方保持了较长时间的和平。

(2) 依据材料二，说出这...历史时期的社会特征。概括这一时期民族关系的特点。

材料三 清朝康熙、雍正、乾隆时期，为了加强对西藏、西北地区的管辖，先后采取了一系列措施：①册封达赖和班禅 ②建立金瓶掣签制度 ③设置驻藏大臣 ④设立乌里雅苏台将军 ⑤设立伊犁将军。

(3) 请从材料三中分别找出清朝管辖西藏和新疆地区的措施各一项。

材料四 华夏民族大一统的国家伟业到了汉武帝时代，完成了从地理空间到精神空间的整合与凝聚，正是这个伟大而充满凝聚力的民族共同体，承载着中华文明古往今来的生生不息。2000 多年来的中国历经沧桑，也曾战乱分裂，但是不管危机多么深重，由秦汉帝国开创这一民族共同体总是能够重新走上统一、安定的大道，重现蓬勃生机。

——翦伯赞《中国史十五讲》

(4) 结合材料四及所学，谈谈你对民族共同体与中华文明发展关系的理解。

【答案】(1) 开明（和亲）；一视同仁。

(2) 民族政权并立；和战交替，和平是主流。

(3) 西藏：①册封达赖和班禅 ②建立金瓶掣签制度 ③设置驻藏大臣；新疆：⑤设立伊犁将军。

(4) 民族共同体，承载着中华文明古往今来的生生不息。言之有理即可

【小问 1 详解】

根据材料一和材料二，结合所学知识可知，唐朝和吐蕃的友好关系通过和亲来实现。两次和亲体现了唐朝开明的民族政策。根据材料三“自古皆贵中华，贱夷狄，朕独爱之如一。”可知，唐太宗对少数民族一视同仁。

【小问 2 详解】



根据材料二结合所学知识可知，辽宋夏金元时期的特征是民族政权并立；这一时期，民族政权之间有战有和，和平是主流，通过盟约维持了长久的和平。

【小问 3 详解】

根据材料三结合所学知识可知，清朝管辖西藏采取的措施有：①册封达赖和班禅 ②建立金瓶掣签制度 ③设置驻藏大臣。清朝管辖新疆采取的措施有：⑤设立伊犁将军。

【小问 4 详解】

本题属于开放型试题，言之有理即可。如民族共同体，承载着中华文明古往今来的生生不息。民族共同体总是能够让中华民族重新走上统一、安定的大道，重现蓬勃生机。

