

# 2018 北京市房山区初三（上）期末

## 地 理



### 一、选择题

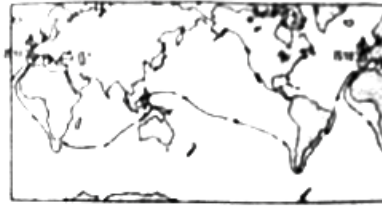
1. 下图是小月在网上查到的人类认识地球形状过程中的几幅图，顺序已乱，请帮她正确排序（ ）



①地球卫星照片



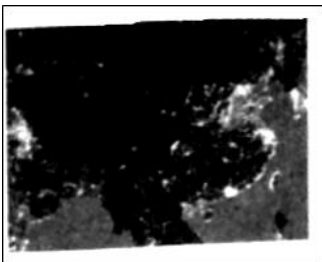
②天圆地方



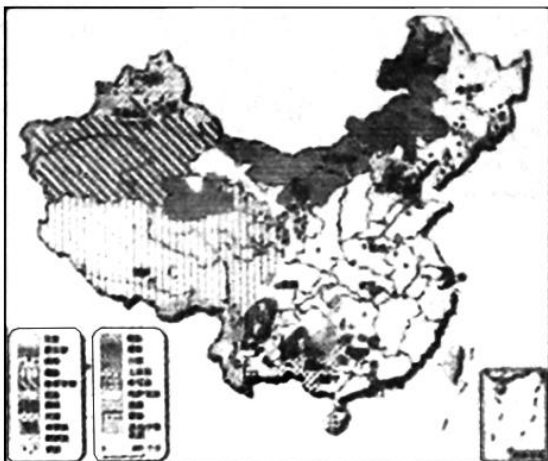
③麦哲伦船队环球航行路线

图 1

- A. ①②③
  - B. ②③①
  - C. ③②①
  - D. ②①③
2. 我国的陆地面积为（ ）
- A. 960 平方千米
  - B. 960 万平方千米
  - C. 9600 平方千米
  - D. 900 万平方千米
3. 图为我国夜景卫星图片，灯光密集与下列哪个因素无直接（ ）



- A. 人口密度
  - B. 城市密集程度
  - C. 经济发展水平
  - D. 土地资源丰富程度
4. 读图可知，我国少数民族主要分布在我国（ ）



- A. 西北、西南、东北等地区
  - B. 东南、东北、西北等地区
  - C. 北方地区
  - D. 南方地区
5. 2015年7月31日，北京获得2022年第24届冬季奥林匹克运动会主办权。主要是因为（ ）
- A. 北京冬季降水少，利于体育项目开展
  - B. 北京冬季气温低，冰雪不易融化
  - C. 北京冬季漫长，夏季短促
  - D. 北京冬季风大，利于净化空气
6. 为了雨季不再“看海”，北京建设“海绵城市”的主要举措有（ ）
- ①屋顶绿化
  - ②铺装透水砖
  - ③保护森林，增加绿地
  - ④提高水价
  - ⑤家庭节约用水
  - ⑥增加湿地和水域面积。
- A. ①②③④
  - B. ①②③⑥
  - C. ①②④⑤
  - D. ③④⑤⑥
7. 图所示的自然灾害分别是（ ）




- A. 滑坡、洪涝
  - B. 台风、地震
  - C. 海啸、地震
  - D. 寒潮、泥石流
8. 图是“本市某应急避难场所标识”，关于该应急避难场所可提供的帮助，组合正确的是（ ）
- ①提供应急物资
  - ②提逃生路线
  - ③提供干净水源
  - ④提供临时住宿
  - ⑤可供直升飞机起降。





- A. ①②③
- B. ①④⑤
- C. ②③⑤
- D. ①③④

9. 图是地球公转演示图（ 支架顶部的十字架代表“太阳光线”），读图，完成下面小题。



(1) 为了保证演示成功，移动过程中我们需要注意（ ）

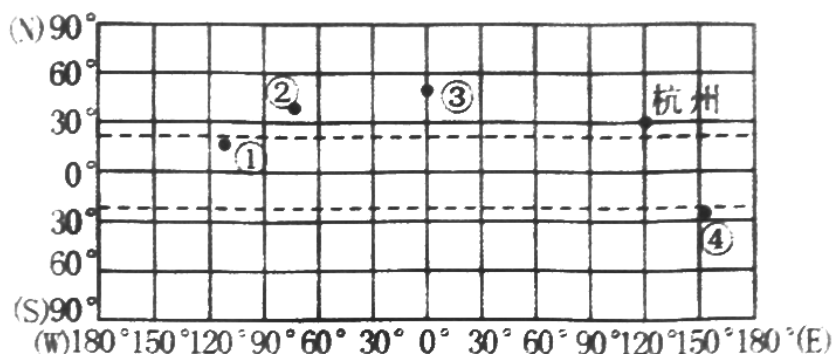
- ①使“太阳光线”始终对准地球仪的球心
- ②保持地轴的空间指向不变
- ③从十字架上方向下俯视可见地球仪按照逆时针方向移动
- ④使“地球”公转的同时自转

- A. ①②③
- B. ①②④
- C. ②③④
- D. ①②③④

(2) 移动地球仪，公转一周，我们可以观察到太阳直射点的移动范围是（ ）

- A. 始终直射赤道
- B.  $66.5^{\circ} \text{N} \sim 66.5^{\circ} \text{S}$
- C.  $30^{\circ} \text{N} \sim 30^{\circ} \text{S}$
- D.  $23.5^{\circ} \text{N} \sim 23.5^{\circ} \text{S}$

10. 2016年7月23日至9月5日，第十一届二十国集团（G20）领导人系列会议在中国杭州召开。图中城市都曾经主办过G20会议。读图，完成下面小题。



- (1) 图中四城市的经纬度位置正确的是 ( )
- A. ①—20° N, 130° W                      B. ②—28° N, 40° W
- C. ③—52° N, 0°                              D. ④—23° S, 153° W
- (2) 关于图中城市位置说法正确的是 ( )
- A. 都在北半球
- B. 都位于温带
- C. ①纬度最低
- D. ③在西半球
- (3) 关于杭州说法正确的是 ( )
- A. 在③城市东北方向                      B. 与①城市没有时差
- C. 会期内昼长夜短                          D. 闭会时正值深秋

11. 在北京市城市规划发展中，房山位于西部生态带。很多人看准房山的宜居环境，纷纷选择在房山买房。小红的父母对比了众多房源，最终买了结构如图所示的一套房子，读图，完成下面小题。



- (1) 父母最满意该房屋的采光条件，这是因为 ( )
- A. 客厅和餐厅面积大，活动自如
- B. 卧室和厨房均朝南，阳光充足
- C. 客厅和卧室均朝南，阳光充足
- D. 厨房和餐厅相邻，格局合理
- (2) 主卧的面积（含阳台）约为 ( )
- A. 8 平方米
- B. 15 平方米
- C. 35 平方米
- D. 55 平方米

12. 张鹏一家去位于北京市西南的房山区周口店镇坡峰岭赏红叶，在好汉岩上极目远方。据此，完成下面小题。

- (1) 通过手机查询好汉岩高度的数据是 570 米，该数值表示的是 ( )
- A. 海拔
- B. 相对高度
- C. 平均海拔
- D. 相对于景区大门的高度



- (2) 小鹏一家出行选择了“滴滴”出行，滴滴软件中的地图属于（ ）
- A. 地形图
  - B. 电子地图
  - C. 人口分布图
  - D. 气候分布图

13. 读图，完成下面小题。



- (1) 关于我国海陆位置描述正确的是（ ）
- A. 位于亚洲南部印度洋北岸
  - B. 位于亚洲中部印度洋北岸
  - C. 位于亚洲东部太平洋西岸
  - D. 位于亚洲北部太平洋东岸
- (2) 我国四大临海甲、乙、丙、丁名称对应正确（ ）
- A. 渤海、东海、南海、黄海
  - B. 渤海、南海、东海、黄海
  - C. 东海、南海、渤海、黄海
  - D. 渤海、黄海、东海、南海
- (3) 下列对我国地理位置和范围的评价不正确的是（ ）
- A. 南北跨度广，气候差异大，为发展多种农业提供了有利条件
  - B. 辽阔的海域，便于海洋事业和国际贸易的发展
  - C. 陆地疆域深入亚欧大陆内部，便于与众多陆上邻国发展边境贸易
  - D. 领土全部位于北温带，温和多雨，利于农业生产

14. 读图，完成下面小题。



- (1) 在数字①②③④中填上相应汉字，能够组成我国省级行政单位名称的一组是（ ）
- A. ①海、②陕、③湖、④山
  - B. ①山、②陕、③湖、④海
  - C. ①湖、②山、③陕、④海
  - D. ①陕、②海、③湖、④山
- (2) 其中江西、广西、海南、河南简称对应正确的一组是（ ）
- A. 赣、桂、琼、豫
  - B. 桂、琼、赣、豫
  - C. 琼、赣、桂、豫
  - D. 桂、赣、琼、豫

15. 下图是“某地区五种地形面积比重图”，读图，完成下面小题。



(1) 该地区的地形特征是 ( )

- A. 平原面积广大，地势低平
- B. 山地平原为主
- C. 山区面积占总面积的比重大
- D. 有五种地形类型，地形单一

(2) 该地区的地形特征对当地开发利用的影响正确的是 ( )

- A. 可大力发展种植业发展
- B. 利于多种经营
- C. 可大力发展畜牧业发展
- D. 利于交通运输业发展

16. 读表，完成下面小题。

表1. 北京市连续一周的天气预报

周一	周二	周三	周四	周五	周六	周日
-3 ~ 4℃	-1 ~ 9℃	-4 ~ 7℃	-3 ~ 9℃	-2 ~ 7℃	-1 ~ 8℃	-5 ~ 4℃
雨夹雪 微风	霾转晴 微风	晴朗 微风	晴朗 微风	霾 微风	霾转多云 微风转4-5级	晴朗 北风4-5级

(1) 根据表格数据，能够判断北京大致处于 ( )

- A. 6月
- B. 7月
- C. 11月
- D. 1月

(2) 根据天气预报，小徐对同学们的建议可以采纳的有 ( )

- A. 周一体育课可以练习跳绳
- B. 周三空气污染不易出行
- C. 周五不要在户外剧烈活动
- D. 周六风和日丽，可爬山赏红叶

17. 读图，完成下面小题。

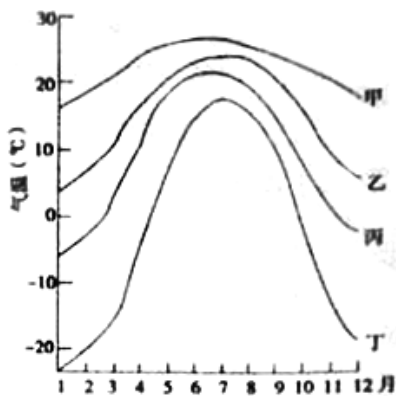


图10



- (1) 四地中，气温年较差最大的是（ ）
- A. 甲  
B. 乙  
C. 丙  
D. 丁
- (2) 四地中，能够满足农作物一年三熟的是（ ）
- A. 甲  
B. 乙  
C. 丙  
D. 丁

18. 读图，完成下面小题。

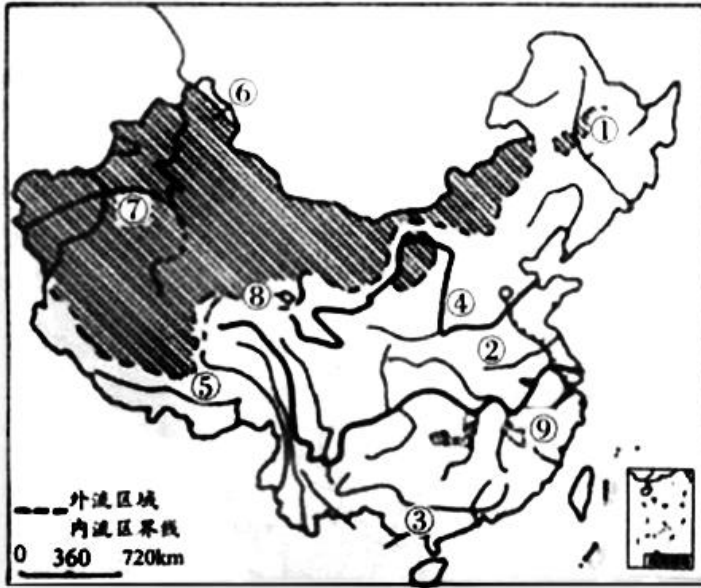


图 11

- (1) 图中斜线部分为我国的（ ）
- ①内流河集中分布区  
②外流河集中分布区  
③咸水湖集中分布区  
④淡水湖集中分布区  
⑤内流区  
⑥外流区
- A. ①②⑥  
B. ②③⑥  
C. ①③⑤  
D. ③④⑤
- (2) 图中⑦河流是我国最大的内流河（ ）
- A. 塔里木河  
B. 额尔齐斯河  
C. 雅鲁藏布江  
D. 弱水

19. 读图，完成下面小题。

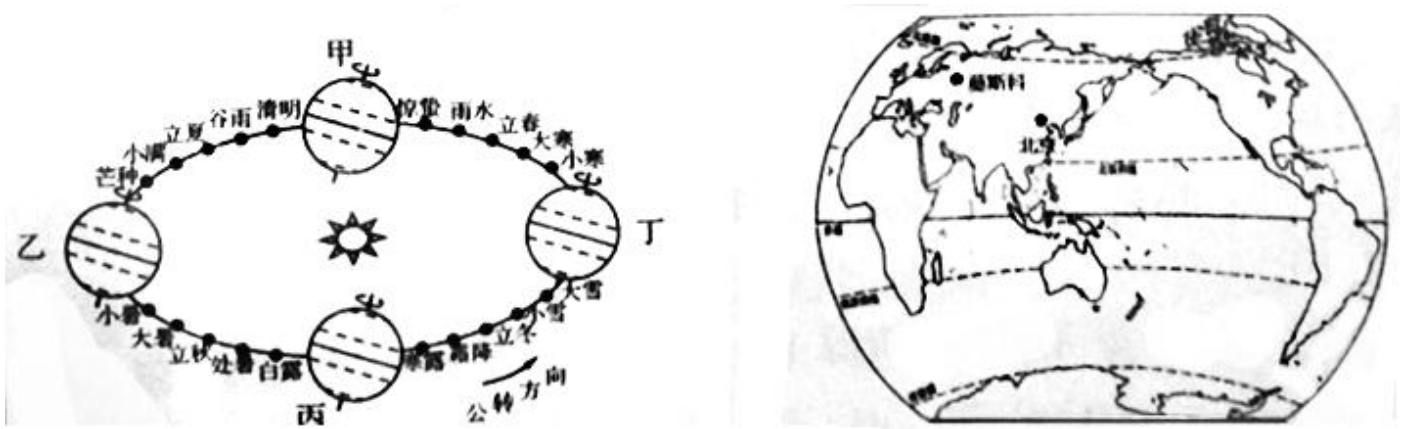




- B. 雨季较长，降水量大
- C. 地处平原，河湖众多
- D. 人口多，水资源匮乏

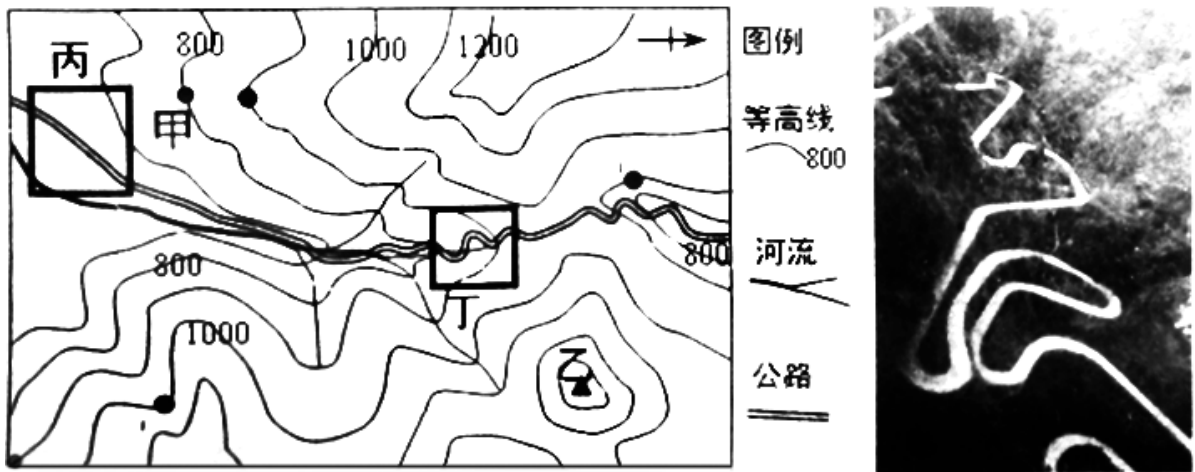
二、综合题

21. 小晨的爸爸是一名科技工作者，2017年秋分日出发去莫斯科参加一次国际性培训，时长3个月。读图，完成下列问题。




- (1) 小晨帮爸爸收拾行李，准备物品比较适合的是 ( )
  - A. 雨伞
  - B. 羽绒服
  - C. 短袖衫
  - D. 防晒霜
- (2) 爸爸出发当天，地球位于左图中的\_\_\_\_\_位置。此时太阳直射的纬线是\_\_\_\_\_，小晨为爸爸设定闹钟，是当天日出时间，应该是\_\_\_\_\_点。
- (3) 北京的小晨在“大雪”节气的晚餐时间和在莫斯科的爸爸视频聊天，小晨可能看到的景象是 ( )
  - A. 窗外一片绿意盎然
  - B. 白雪皑皑的世界
  - C. 美丽的极光
  - D. 街上肤色黝黑的行人
- (4) 视频中，小晨发现北京已经华灯初上，而爸爸那边还阳光明媚，这是因为 ( )
  - A. 地球公转产生的现象
  - B. 地球自转产生的现象
  - C. 因为地球是球体
  - D. 因为地球是不透明的
- (5) 视频中，小晨将在学校学到的节气歌诀读给爸爸听，“春雨惊春清谷天，夏满芒夏暑相连。秋处露秋寒霜降，冬雪雪冬小大寒。”其中“清”指的是\_\_\_\_\_节气。
- (6) 爸爸\_\_\_\_\_ (能、不能) 赶上2018年2月16日回家过春节。

22. 读“贵州某区域等高线地形图”和该地区局部“之”字状公路景观图”，完成下列问题。



- (1) 读左图可知，甲地的海拔为\_\_\_\_\_米，甲乙两地相对高度至少在\_\_\_\_\_米以上。甲处山体部位的名称是\_\_\_\_\_，如站在乙山顶想看到甲处的风光应该望向\_\_\_\_\_方向。





### 西成高铁今日开通运营

(1) 西成高铁全线位于我国第\_\_\_\_\_阶梯，自北向南依次穿越我国两大地形区是\_\_\_\_\_、\_\_\_\_\_西成高铁陕西段工程以桥隧为主，桥梁 127 公里/48 座，隧道 189 公里/34 座，据图说出该铁路线穿越了我国著名的\_\_\_\_\_山脉。该山脉分布区域对应的土地利用类型是\_\_\_\_\_

A 草地 B 林地 C 耕地 D 工业用地

(2) 四川气候具有“晴天不见山，下雨五天”的特点，形成该气候特征的主要影响因素是（ ）

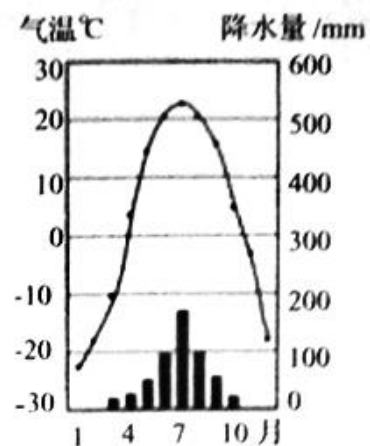
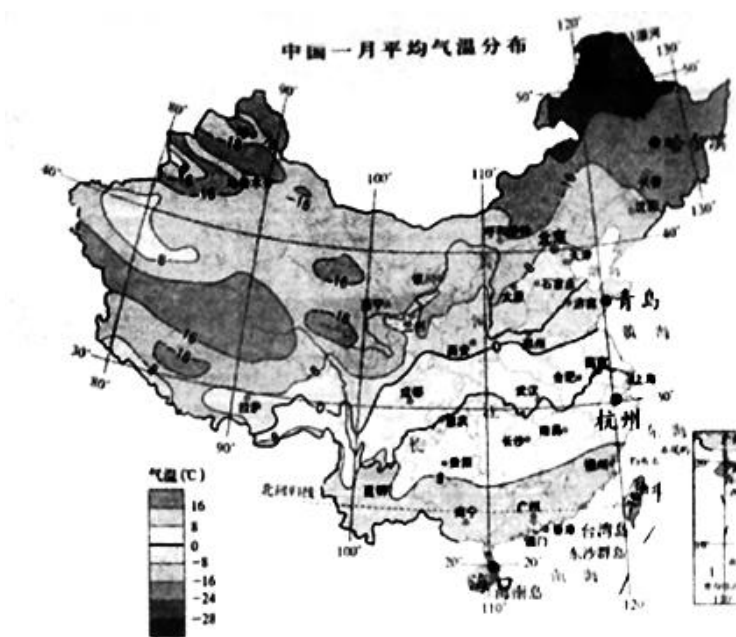
- A. 地形
- B. 人口
- C. 河流
- D. 工业

(3) 西成高铁沿线受地形地势影响易发生\_\_\_\_\_地质灾害，主要发生在\_\_\_\_\_季节。

(4) 西安著名小吃之一羊肉泡馍深受全国各地游客的喜爱，能够反应该地区主要粮食作物是\_\_\_\_\_。

(5) 西成高铁地质条件极为复杂，虽对交通建设极为不利，但在我国先进技术水平发展下该铁路线成为国内在建的、具有山区特点的高标准现代化铁路说明了\_\_\_\_\_对交通线路的选择和修建具有较大的影响，但也体现了人类具有适度改造自然环境的能力。

25. 2017 年 12 月 7 号是大雪节气，刚刚学完中国气候的小华网上查阅了哈尔滨、青岛、杭州、海口当天的天气状况发现各有不同，阅读图文资料，回答下列问题。



(1) 读图，说出“大雪”节气当天，没有下雪的三个城市分别是\_\_\_\_\_、\_\_\_\_\_、\_\_\_\_\_四个城市中唯一不是省级行政中心的是\_\_\_\_\_当哈尔滨最低气温在零下 16 摄氏度的时候，海南菜农还在种植蔬菜，说明我国南北温差\_\_\_\_\_（大或小），结合图 1 说出其主要影响因素是\_\_\_\_\_。

(2) 通过读图可知，该城市降水集中\_\_\_\_\_季，属于\_\_\_\_\_气候（气候类型），表示四个城市中\_\_\_\_\_的气候特征。

26. 11月10日起，在时隔5年后，农业部第三次对长江江豚组织大规模科考。“三次科考都选在11月，是因为长江和两湖（鄱阳湖、洞庭湖）进入枯水期，便于研究人员观察和探测。”中科院水生研究所专家介绍，此次科考将对长江江豚野生种群数量进行摸底，并考察其栖息地现状。考察从11月10日开始，持续约40天，范围涵盖宜昌到上海。预计12月下旬，科考队将到鄱阳湖，对长江江豚野生种群数量进行摸底，并考察其栖息地现状。读图“长江流域图”及表格，完成下列问题。

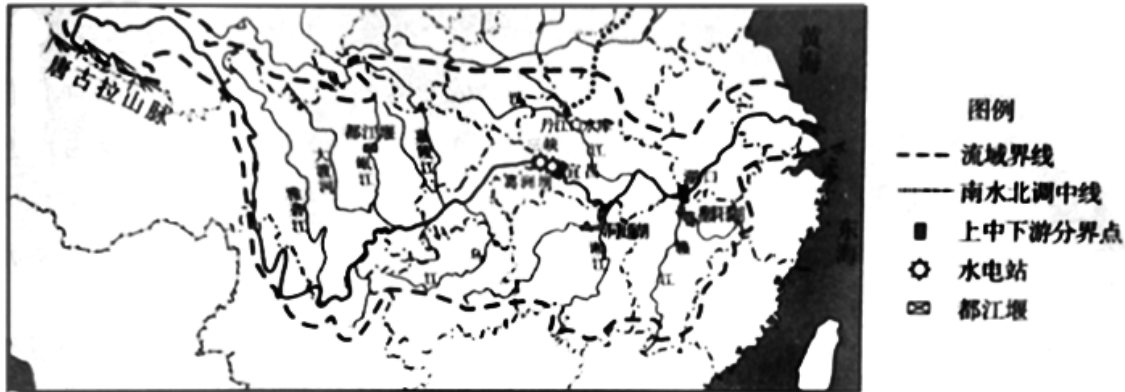


图 27

科考数据	时间	长江江豚种群数	比较
	2006年11月	1800头	相当于20世纪90年代的一半其中长江干流1200头鄱阳湖450头洞庭湖150头。
	2012年11月	约1045头	其中，长江干流约505头。

- 三次科考都选在11月，是因为长江和两湖（鄱阳湖、洞庭湖）进入枯水期，便于研究人员观察和探测。”除此之外也因长江\_\_\_\_\_（有、无）结冰期，说出你的判断理由\_\_\_\_\_。
- 持续约40天的科考，范围涵盖宜昌到上海，依次处于长江\_\_\_\_\_（上、中、下）游干流。该流域长江航运价值\_\_\_\_\_（高、低），说出你判断的理由\_\_\_\_\_。
- 图中出现的水电站是我国著名的\_\_\_\_\_水电站，位于我国二、三阶梯交界处\_\_\_\_\_资源丰富。
- 据科考数据可看出长江江豚种群数量有何变化请说出你认为造成这种变化的原因。



# 地理试题答案



## 一、选择题

### 1. 【答案】B

【考点】地球的形状

【解析】【分析】人类对地球的认识经过了漫长的过程，从②天圆地方→③麦哲伦环球航行→①地球的卫星照片，后来证实了地球是一个两极部位稍扁的不规则球体。

故答案为：B。

【点评】本题考查地球形状的认识过程，属于记忆类知识点，比较简单。

### 2. 【答案】B

【考点】中国的地理位置及其优越性

【解析】【分析】我国领土面积 960 万平方千米，仅次于俄罗斯、加拿大，居世界第三位，差不多与整个欧洲的面积相等。

故答案为：B。

【点评】本题考查我国的陆地面积，属于记忆类知识点，比较简单。

### 3. 【答案】D

【考点】人口及人口分布特点、人口疏密分界线、我国土地资源分布特点

【解析】【分析】灯光的亮暗与经济发展水平、人口密度、城市密集程度有关系，与土地资源丰富程度无直接关系；灯光最亮的地区，城市发展水平高，人口更为集中。因此，选项 D 符合题意。

故答案为：D。

【点评】本题考查我国人口的分布情况，属于理解记忆类知识点，有一定难度，回答此题需了解我国的基本国情。

### 4. 【答案】A

【考点】民族分布特点

【解析】【分析】我国共有 56 个民族，民族分布特点为大杂居、小聚居，相互交错居住，汉族地区有少数民族居住，少数民族地区也有汉族居住，汉族分布最广，主要集中在东部和中部，少数民族则主要分布在西北、西南、东北部地区。

故答案为：A。

【点评】本题考查我国的民族分布特点，属于记忆类知识点，属于基础题。

### 5. 【答案】B

【考点】我国气候分布特点，北京

【解析】【分析】北京获得 2022 年第 24 届冬季奥林匹克运动会主办权，主要是因为北京冬季气温低，冰雪不易融化，该城市冬季寒冷干燥。

故答案为：B。

【点评】本题考查北京市的气候特征，属于理解记忆类知识点，了解北京市的气候类型及特征是答题的基础。

### 6. 【答案】B

【考点】北京

【解析】【分析】内涝形成的原因除了降水量大等自然条件，主要的是由于城市化导致，城市化地表硬化，下渗作用少，所以必须强化下渗作用，调节环境。①屋顶绿化、②铺装透水砖、③保护森林，增加绿地、⑥增加湿地和水域面积都可以对城市内涝起到调节作用；而④提高水价、⑤家庭节约用水是水资源的合理应用，不能调节城市内涝。

故答案为：B。

【点评】本题考查洪涝灾害的治理的相关知识，属于理解分析类知识点，环境问题是中考的热点，要引导学生理解答题。

### 7. 【答案】A

【考点】自然灾害（气象灾害、地质灾害）的分布，自然灾害的防治措施

【解析】【分析】读图可知，左图所示是指山区发生的滑坡自然灾害，右图所示为洪涝灾害。

故答案为：A。

【点评】本题考查了主要自然灾害，了解各类自然灾害的影响有助于答题，难度不大。

8. 【答案】D

【考点】自然灾害的防治措施

【解析】【分析】应急避难场所是为了人们能在灾害发生后一段时期内，躲避由灾害带来的直接或间接伤害，并能保障基本生活而事先划分的带有一定功能设施的场地。应急避难场所具有应急避难指挥中心、独立供电系统、应急直升机停机坪、应急消防措施、应急避难疏散区、应急供水等 11 种应急避险功能，形成了一个集通讯、电力、物流、人流、信息流等为一体的完整网络图是“本市某应急避难场所标识”。与图中应急避难场所标识相关的是①③④。

故答案为：D。

【点评】本题考查应急避难场所的应用，属于实际应用类知识点，关系到生命安全的大事必须引导学生掌握。

9. 【答案】(1) D

(2) D

【考点】地球的模型-地球仪，地球的自转产生的现象，地球的公转产生的现象

【解析】【分析】(1) 读图可知，地球在绕着太阳公转的同时，还要绕着地轴不停地自转，公转和自转的方向都是自西向东的，在公转轨道上按照逆时针方向转动，且北极总是指向北极星附近，在演示的过程中太阳光线要对准地球仪的球心，选项①②③④符合题意。

(2) 太阳光线的直射点有规律的在南北回归线之间来回移动，移动地球仪，公转一周。我们观察到太阳直射点的移动范围是  $23.5^{\circ} S \sim 23.5^{\circ} N$ 。

故答案为：(1) D；(2) D。

【点评】本题组考查了地球的运动特点、太阳直射点的范围，属于理解实践类知识点，有一定难度，既要求把握相应事物课本知识，有要实际操作应用。

10. 【答案】(1) C

(2) C

(3) C

【考点】地球的自转产生的现象，东西半球的划分，经纬网判断方向、定位，二分二至（时间、位置、昼夜长短变化），五带的划分、高中低纬度的划分

【解析】【分析】(1) 依据经纬度的判读，读图分析可知，图中城市①的经纬度约是  $110^{\circ} W$ ， $20^{\circ} N$ ；城市②的经纬度是  $75^{\circ} W$ ， $40^{\circ} N$ ；城市③的经纬度是  $0^{\circ}$ ， $52^{\circ} N$ ；城市④的经纬度是  $153^{\circ} E$ ， $25^{\circ} S$ 。

(2) 读图分析可知：④位于赤道以南，属于南半球，故 A 错误；

①位于南北回归线之间，应属于热带，故 B 错误；

依据经纬度的判读，图中①点的纬度最低，故 C 正确；

东西半球分界线是  $20^{\circ} W$  和  $160^{\circ} E$  组成的经线圈， $20^{\circ} W$  以东、 $160^{\circ} E$  以西为东半球， $20^{\circ} W$  以西、 $160^{\circ} E$  以东为西半球。可判定，③、④和杭州在东半球，故 D 错误。

(3) 杭州位于③城市的东南方向，A 错误；

杭州位于东八区，①城市大约是西八区，杭州与①城市有时差，B 错误；

7月23日至9月5日太阳直射点位于北半球，北半球昼长夜短，C 错误；

9月5日是初秋季节，D 错误。

故答案为：(1) C；(2) C；(3) C。

【点评】本题组考查经纬网的判读，需要结合地图进行记忆，有一定的难度，要求学生具有较多的知识储备及较强的分析问题的能力。

11. 【答案】(1) C

(2) B

【考点】比例尺定义，方向判断

【解析】【分析】(1) 由于太阳的直射点总是在南北回归线之间来回的移动，建房子时要想采光好，门窗应朝向太阳照射的方向，北京位于北半球的北温带，建房时要想采光好，门窗应朝向南方。读图分析可知，父母最满意该房屋的采光条件，是因为客厅和卧室均朝南，阳光充足。

(2) 从线段式比例尺得知，图上 1 厘米代表实地距离 2 米，则量得主卧的（含阳台）长约为 2.5 厘米，宽约为 1.5 厘米，则主卧的（含阳台）长为 5 米，宽为 3 米，则其面积为 15 平方米。

故答案为：(1) C；(2) B。

【点评】本题组考查地球公转造成的地理现象及地图上方向的判读，从图中获取有用信息是答题的基础，难度不大。

12. 【答案】(1) A

(2) B

【考点】地图的应用，地面高度的表示方法

【解析】【分析】(1) 海拔是地面某一个地点高出海平面的垂直距离，相对高度是指地面某个地点高出另一个地点的垂直距离，即两个地点之间的高度差，通过手机查询好汉岩高度的数据是 570 米，该数值表示的是海拔高度，也叫绝对高度。

(2) 在庞大的地图家族中，有自然地图和社会经济地图。自然地图包括地形图、气候图、水文图、植被图等，社会经济地图包括工业图、农业图、商业图、交通图、人口分布图等，日常生活中，我们应根据实际需要选择合适的地图。小鹏一家出行选择了“滴滴”出行，滴滴软件中的地图属于电子地图。

故答案为：(1) A；(2) B。

【点评】本题组考查了地面高度的计算方法及地图的应用，属于理解应用类知识点，难度不大。

13. 【答案】(1) C

(2) D

(3) D

【考点】中国的地理位置及其优越性，中国地理事物名称（临海、海峡、半岛、岛屿、内海）

【解析】【分析】(1) 读图分析可知，从海陆位置看，我国位于亚洲东部，太平洋的西岸。

(2) 依据位置，读图分析可知，图中我国濒临的海洋甲是渤海，乙是黄海，丙是东海，丁是南海。

(3) 我国领土南北跨纬度很广，大部分位于中纬度地区，领土大部分位于北温带，小部分位于热带，D 错误，ABC 叙述都是正确的。

故答案为：(1) C；(2) D；(3) D。

【点评】本题组考查我国濒临的海洋、我国的海陆位置及其优越性，属于理解记忆类知识点，结合我国疆域图答题较好。

14. 【答案】(1) B

(2) A

【考点】34 个省级行政区域名称、位置、轮廓、简称、行政中心

【解析】【分析】(1) 我国共有 34 个省级行政单位，依据我国省区名称，图中①应为山，省区为山东、山西；②应为陕，省区为陕西；③应为湖，省区为湖南、湖北；④应为海，省区为海南。

(2) 江西省的简称为赣，广西壮族自治区的简称为桂，海南省的简称为琼，河南省的简称为豫。

故答案为：(1) B；(2) A。

【点评】本题组考查我国的省区名称、简称等，结合我国政区图记忆较好，在平时的学习中应养成经常使用地图和规范使用地图的习惯，并注重积累。

15. 【答案】(1) C

(2) B

【考点】我国主要地形及地形区、地形构成特点

【解析】【分析】(1) 读图可得，该地区的地形特点是地形复杂多样，山区面积广大，地形以山地和高原为主。

(2) 从图中得知，我国地形复杂多样，山区面积广大；地形多种多样有利于农业发展多种经营，为发展农、林、牧各业提供了有利条件；山区在发展旅游、采矿和农业的多种经营等发面优势较大，部分水热条件较好的山间盆地和河谷平原，可以发展种植业，但是山区地面较为崎岖，交通不便，基础设施建设难度较大。

故答案为：(1) C；(2) B。

【点评】本题组考查我国的地形特点、我国地形特征的影响，属于理解记忆类知识点，从图中获取有用信息是答题的基础。

16. 【答案】(1) D

(2) C

【考点】常用的天气符号，我国冬、夏气温分布特点

【解析】【分析】(1) 读图表可知，表中各天最低气温  $0^{\circ}\text{C}$  以下，应为冬季，1 月左右。

(2) 读图可知，周一雨夹雪，不能跳绳，故 A 错误；

周三天气晴朗，微风，可以出行，故 B 错误；

周五雾霾，微风，不要在户外剧烈活动，故C正确；

周六天气雾霾转多云，北风4~5级，尽量不出门活动，故D错误。

故答案为：(1) D；(2) C。

【点评】本题组考查了北京的气温、常用的天气符号的识别，属于理解应用类知识点，难度不大。

17. 【答案】(1) D

(2) A

【考点】气温变化曲线图的绘制和判读，我国温度带的划分

【解析】【分析】(1) 据图可知，甲乙丙丁四条曲线中，丁曲线弯曲最大，表示其气温变化最大。

(2) 甲曲线各月份气温都较高，大部分月份在20℃左右，故其位于热带，可以满足作物一年三熟。

故答案为：(1) D；(2) A。

【点评】本题组考查气温变化曲线图的阅读及对作物熟制的影响，需要结合地图进行记忆，难度一般，把握相应的课本知识是答题的基础。

18. 【答案】(1) C

(2) A

【考点】我国内流、外流河的分界

【解析】【分析】(1) 读图可知：图中画有斜线的阴影部分表示我国的内流区，它面积约占全国的三分之一，而水量却不足全国的5%，非阴影部分为我国的外流区，它的面积约占全国的三分之二，水量却超过了全国的95%。内流区是我国内流河和咸水湖集中分布区，其中有我国最大的内流河—塔里木河和最大的咸水湖—青海湖。

(2) 据图可知，⑦是我国最大的内流河—塔里木河。

故答案为：(1) C；(2) A。

【点评】本题组考查内外流区的分布概况、我国最大的内流河，把握相应的课本知识是答题的基础，属于理解记忆类知识点。

19. 【答案】(1) B

(2) C

(3) B

【考点】长江、黄河的河流概况（发源地、注入海洋、长度、主要支流与湖泊、河段划分、流经地形区、流经省级行政区域单位（简称），长江、黄河的治理

【解析】【分析】(1) 从图上来看，壶口瀑布位于黄河流域的中游地区，也正好是黄土高原地形区内。

(2) 河套平原位于内蒙古高原上，宁夏平原不位于内蒙古高原上，故A错误；

宁夏平原和河套平原都是依靠黄河水灌溉，农业以种植业为主，故BD错误；

宁夏平原河段有凌汛，故C正确。

(3) 黄河中游流经黄土高原，由于水土流失严重，河流泥沙大增，下游的河南、山东在华北平原上，河床宽坦，水流缓慢，泥沙大量淤积，使河床抬高，成为举世闻名的地上河。基本无支流汇入，流域面积狭小。

故答案为：(1) B；(2) C；(3) B。

【点评】本题组考查黄河的概况、河套平原和宁夏平原的地理概况，结合黄河流域水系图答题较好，属于理解记忆类知识点。

20. 【答案】(1) B

(2) A

【考点】我国自然资源的基本特征，北京

【解析】【分析】(1) 水资源属于自然资源，属于可再生资源。

(2) 北京属于典型的温带季风气候，夏季高温多雨，冬季寒冷干燥。北京年平均气温10~12℃，降水季节分配不均匀，全年大部分降水集中于夏季，七八月常有暴雨，容易造成城市内涝。为了雨季不再“看海”，北京建设“海绵城市”工程。

故答案为：(1) B；(2) A。

【点评】本题组考查水资源的特点、北京的自然环境特征等，属于理解记忆类知识点，把握相应的课本知识是答题的基础。

二、综合题

21. 【答案】(1) B



- (2) 丙；赤道；6
- (3) B
- (4) B
- (5) 清明
- (6) 能

**【考点】**地球的自转产生的现象，地球的公转产生的现象，二分二至（时间、位置、昼夜长短变化），俄罗斯自然环境（面积、纬度与海陆位置、地形与地形区、气候、主要河湖、自然资源）

**【解析】**【分析】(1) 读图可知，北半球的秋分日，日期为9月23日前后，小晨爸爸秋分日出发去莫斯科参加一次国际性培训，时长3个月，3各月后莫斯科进入冬季，他应给爸爸带羽绒服。

(2) 爸爸秋分日出发，当天地球位于图1中的丙位置。此时太阳直射赤道，全球昼夜等长，小晨为爸爸设定闹钟，是当天日出时间，应该是6点。

(3) 北京的小晨在“大雪”节气的晚餐时间和在莫斯科的爸爸视频聊天，小晨可能看到莫斯科白雪皑皑的景象。

(4) 地球自西向东不停地进行自转，东边的时间早于西边的时间，北京在东，莫斯科在西，因此，视频中小晨发现北京已经华灯初上，而爸爸那边还阳光明媚。

(5) 视频中，小晨将在学校学到的节气歌诀读给爸爸听，“春雨惊春清谷天，夏满忙夏暑相连。秋处露秋寒霜降，冬雪雪冬小大寒。”其中“清”指的是清明。

(6) 北半球的秋分日，日期为9月23日前后，在过3个月，为12月23日前后，小晨爸爸能赶上2018年2月16日回家过春节。

故答案为：(1) B；(2) 丙；赤道；6；(3) B；(4) B；(5) 清明；(6) 能。

**【点评】**该题以读地球公转示意图为切入点，考查的是地球公转的特点和产生的现象，要求学生具有较多的知识储备及较强的读图分析问题的能力。

22. **【答案】**(1) 800；500；山脊；西南

(2) 自东北向西南流；依据指向标及河流从高处流向低处判定方向

(3) B

(4) 丁

**【考点】**等高线地形图，地面高度的表示方法，山体部位名称判读，根据等高线疏密程度判断坡度和河流方向

**【解析】**【分析】(1) 读图分析可知：依据等高线地形图中地形部位的判读，图一中甲地的海拔为800米，乙地的海拔位于1300—1400米之间，两地相对高度至少在500米以上。甲处等高线向海拔低处凸为山脊；依据指向标判定方向，如站在乙山顶想看到甲处的风光应该望向西南方向。

(2) 在有指向标的地图上，用指向标指示方向，指向标箭头的指向一般为北方；结合河流从高处流向低处，可判定，图中河流干流的大致流向是自东北向西南流。

(3) 在山区公路建设中，陡坡段增加“之”字状弯曲，原因是尽可能减缓坡度。

(4) 结合图一、图二，可判定，图二的“之”字状公路可能出现在图一中的丁处。

故答案为：(1) 800；500；山脊；西南；(2) 自东北向西南流；依据指向标及河流从高处流向低处判定方向；(3) B；(4) 丁。

**【点评】**本题考查等高线地形图的判读，要求学生具有较多的知识储备及较强的分析问题的能力，属于中考常考题，有一定的难度。

23. **【答案】**(1) 高；迅速；计划生育；慢

(2) C

(3) 平坦；早；便利；快

(4) B

**【考点】**人口及人口分布特点、人口疏密分界线，影响我国人口分布的主要因素（地形、气候、交通、经济发展水平、开发历史），我国人口问题、人口政策

**【解析】**【分析】(1) 分析我国人口的增长曲线图可知，旧中国在较长的历史时期中，由于战争、疫病等原因，死亡率高，人口增长缓慢；1949年至1979年人口总数迅速增加，从70年代以来，计划生育政策的实施，是我国人口增长的速度变慢了。

(2) 我国人口的地理分界线A—B是黑河腾冲一线，一般来说，以黑龙江省的黑河—云南省的腾冲线为界，东部地区人口多（稠密），西部地区人口少（稀疏）。

(3) 我国东部沿海地区人口密集，原因是地形平坦，气候适宜，开发历史早较早，交通便利，经济发展较快，对人口的吸引力较大。

(4) 二孩政策的实施主要是应对人口的老齡化问题。

故答案为：(1) 高；迅速；计划生育；慢；(2) C；(3) 平坦；早；便利；快；(4) B。

【点评】本题考查我国人口增长的变化及其原因，属于理解记忆类知识点，要求学生具有较多的知识储备及较强的分析问题的能力。

24. 【答案】(1) 二级；黄土高原；四川盆地；秦岭；B

(2) A

(3) 泥石流等；夏

(4) 小麦

(5) 科技

【考点】我国地势三级阶梯分界、各阶梯内主要地形类型，我国主要地形及地形区，地形构成特点

【解析】【分析】(1) 读图分析可知：西成高铁自西安至成都，全线位于我国第二级阶梯，自北向南依次穿越我国两大地形区是黄土高原、四川盆地。从图中可以看出，西成高铁穿越了我国著名的秦岭山脉。该山脉分布区域对应的土地利用类型是林地。

(2) 四川所在的地形区为四川盆地，受地形的影响，气候具有“晴天不见山，下雨五天”的特点。

(3) 西成高铁沿线受地形地势影响易发生泥石流等地质灾害，主要发生在夏季。

(4) 西安著名小吃之一羊肉泡馍深受全国各地游客的喜爱，西安地区主要粮食作物是小麦。

(5) 西成高铁地质条件极为复杂，虽对交通建设极为不利，但在我国先进技术水平发展下该铁路线成为国内在建的、具有山区特点的高标准现代化铁路，说明了科技对交通线路的选择和修建具有较大的影响。

故答案为：(1) (2) A；(3) 泥石流等；夏；(4) 小麦；(5) 科技。

【点评】本题综合考查我国地形、气候等自然特征、土地资源的利用及交通运输业的发展状况，综合性强，要求学生具有较多的知识储备及较强的分析问题的能力。

25. 【答案】(1) 杭州；海口；青岛；青岛；大；纬度因素

(2) 夏；温带季风；青岛、哈尔滨

【考点】气候直方图的判读，我国冬、夏气温分布特点，影响我国气候的主要因素

【解析】【分析】(1) 读图可得，“大雪”节气当天，没有下雪的三个城市分别是杭州、海口、青岛，这三个城市的气温都在 0℃ 以上；四个城市中唯一不是省级行政中心的是青岛，哈尔滨是黑龙江省的行政中心，杭州是浙江省的行政中心，海口是海南省的行政中心，当哈尔滨最低气温在零下 16 摄氏度的时候，海南菜农还在种植蔬菜，说明我国南北温差大，其主要影响因素是纬度因素。

(2) 图中所示气候特点是夏季高温多雨，冬季寒冷干燥，属于温带季风气候，表示四个城市中青岛和哈尔滨属于温带季风气候。

故答案为：(1) 杭州；海口；青岛；青岛；大；纬度因素；(2) 夏；温带季风；青岛、哈尔滨。

【点评】本题考查我国不同城市的气温分布特点，属于理解记忆类知识点，属于常考题。

26. 【答案】(1) 无；长江位于秦岭、淮河以南

(2) 中、下；高；长江的通航里程长，水流平缓

(3) 三峡；水能

(4) 食物链崩塌；货船作业密度高；沿江企业排污。

【考点】长江、黄河的河流概况（发源地、注入海洋、长度、主要支流与湖泊、河段划分、流经地形区、流经省级行政区域单位（简称），长江、黄河的开发，长江、黄河的治理

【解析】【分析】(1) 以秦岭—淮河为界，以南地区的河流流经湿润地区，水量丰富，汛期长，含沙量少，冬季河流不结冰。以北地区的河流流经半湿润或半干旱地区，水量不大，汛期较短，且冬季河流有结冰现象。辽河、海河、黄河等河流的上、中游地区水土流失严重，河水的含沙量很大。长江位于秦岭、淮河以南，没有结冰期。

(2) 长江源自唐古拉山，干流先后流经青海、西藏等 11 个省（自治区、直辖市），最终注入东海。长江中上游的分界点是宜昌，中下游的分界点是湖口，故宜昌到上海，依次处于长江中下游干流河段；目前，长江干、支流通航里程已达 7 万余千米，货运量占全国内河货运量的 60%。长江通航里程长，航运价值高，故长江自古以来就有“黄金水道”的美誉。

(3) 图中三峡水电站位于重庆市与湖北省的交界处，位于第二阶梯与第三阶梯的交界处，水能资源丰富。

(4) 长江江豚是生活在我国长江流域中的两种淡水鲸类之一，据科考数据可看出近年来种群数量急剧下降，其原因有食物链崩塌；货船作业密度高；沿江企业排污等等。

故答案为：(1) 无；长江位于秦岭、淮河以南；(2) 中、下；高；长江的通航里程长，水流平缓；(3) 三峡；水能；(4) 食物链崩塌；货船作业密度高；沿江企业排污。

【点评】本题考查长江的源流概况，综合性强，有难度，要求学生具有较多的知识储备及较强的分析问题的能力，结合长江流域水系图分析答题较好。

