



# 通州区 2023—2024 学年第一学期九年级期末质量检测

## 道德与法治试卷

2024 年 1 月

学校 \_\_\_\_\_ 班级 \_\_\_\_\_ 姓名 \_\_\_\_\_

考生须知

1. 本试卷共 8 页,共两部分,20 道小题。满分为 70 分。考试时长为 70 分钟。
2. 请在试卷和答题卡上准确填写学校、班级、姓名。
3. 试题答案一律书写在答题卡上,在试卷上作答无效。
4. 在答题卡上,选择题用 2B 铅笔作答,其他试题用黑色字迹签字笔作答。
5. 考试结束后,请将答题卡交回。

### 第一部分

本部分共 15 题,每题 2 分,共 30 分。在每题列出的四个选项中,选出最符合题目要求的一项。


1. \_\_\_\_\_,自 2024 年 1 月 1 日起施行。作为我国第一部专门性的未成年人网络保护综合立法,旨在营造有利于未成年人身心健康的网络环境,为未成年人网络保护提供有力的保障,标志着我国未成年人网络保护法治建设进入新阶段。
  - A.《未成年人网络保护条例》
  - B.《未成年人网络保护法》
  - C.《中华人民共和国未成年人保护法》
  - D.《中华人民共和国网络安全法》
2. 小京在议题式学习活动中收集了以下两则资料:

- ❖ 某区推动老旧小区改造,建设智能化立体停车场。
- ❖ 某地增设非机动车道,将车道刷成蓝色,加装隔离护栏。

适合该学习活动的议题是

- A. 完善政治制度,保障自由平等
  - B. 建设法治社会,培育法治意识
  - C. 全面深化改革,提高开放水平
  - D. 关注民生实事,提升幸福指数
3. 从下图可看出我国

2016—2022 年我国农业科技进步贡献率情况



(注:农业科技进步贡献率指农业科技进步对农业总产值增长率的贡献份额。)

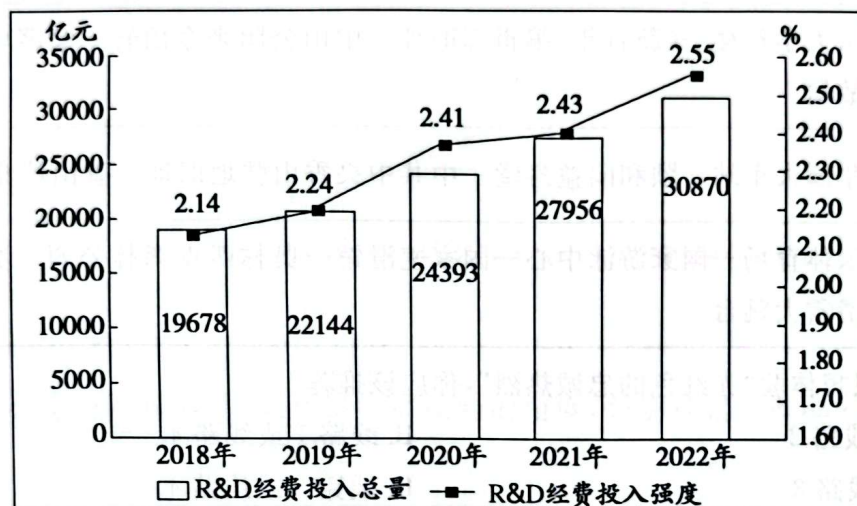
- A. 农业科技水平不断提高
- B. 农业生产成本逐步增加
- C. 农业现代化已基本实现
- D. 农业科技对外依存度高



4. 自2022年6月5日起施行的《中华人民共和国噪声污染防治法》，对娱乐健身音响音量过大、室内装修活动、宠物叫声等扰民问题作出了相应规定。以下同学观点正确的是
- ①沟通就能解决的问题却要通过立法规范，小题大做
  - ②法律规范全体社会成员行为，创造优良的社会环境
  - ③良法还需善治，它的实施还需要有关部门严格执法
  - ④我们是未成年人，在家娱乐健身应该不受该法约束
- A. ①②                      B. ①④                      C. ②③                      D. ③④

5. R&D经费投入及投入强度反映我国科技创新投入的总规模和发展水平。根据下图信息可以推断

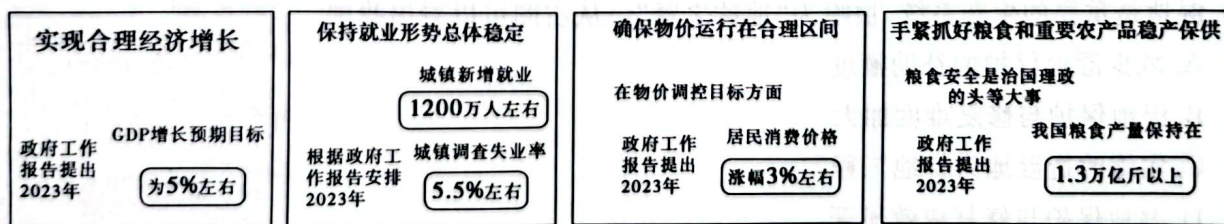
2018—2022年我国研究与试验发展(R&D)经费投入及投入强度



(注:R&D经费投入强度即R&D经费在国内生产总值中的占比。2022年我国R&D经费投入强度在世界主要国家中排名第12位,与美国、日本、德国等经济发达体相比仍有差距。)

- ①我国科技创新投入的规模和水平还需进一步提升
  - ②我国R&D经费投入总量和投入强度均在逐年增加
  - ③逐年递增的经费支撑我国已在尖端技术上遥遥领先
  - ④R&D经费投入强度偏低说明我国对科技研发重视度不够
- A. ①②                      B. ①③                      C. ②④                      D. ③④

6. 阅读下图所示的2023年发展主要预期目标(来源:2023年国务院政府工作报告)



上述目标安排

- ①符合现阶段我国潜在的经济增长水平
  - ②说明我国已经实现了经济高质量发展
  - ③表明政府依法执政,进行科学宏观调控
  - ④增强了人民获得感、幸福感、安全感
- A. ①③                      B. ①④                      C. ②③                      D. ②④





7. 拥有古老文明的中华民族,在其漫长的历史活动中,创造性地发明并使用了“风”这一汉字,并在其丰富的语言实践活动中赋予“风”字繁多的意义,甚至引申到了精神层面。下列词语中的“风”字能够体现中华文化博大精深特点的是

- ①风调雨顺的风      ②感冒伤风的风      ③风吹日晒的风      ④世风民风的风  
A. ①③                      B. ①④                      C. ②③                      D. ②④

8. 赤红色的忠诚热烈、鲜橙色的温暖活力、琉璃黄的庄重典雅……北京市文化和旅游局推出“漫步北京——五一假期七彩缤纷游”线路,部分线路如下。

线路 1	天坛公园—中山公园—景山公园—北海公园—颐和园—圆明园
线路 2	北京大学红楼—《新青年》编辑部旧址—中山公园来今雨轩—蒙藏学校旧址—李大钊故居
线路 3	清华园火车站—颐和园益寿堂—中共中央香山驻地旧址—香山革命纪念馆
线路 4	国家体育场—国家游泳中心—国家速滑馆—奥林匹克森林公园—奥林匹克塔—首钢滑雪大跳台

如果有同学只想体验“赤红色的忠诚热烈”,你应该推荐

- A. 线路 1 或线路 2                                      B. 线路 1 或线路 4  
C. 线路 2 或线路 3                                      D. 线路 3 或线路 4

9. 2023 年 9 月,第十九届亚运会在杭州开幕。杭州市政府提出抓住亚运契机,实施宋韵文化传世工程,加快宋韵文化品牌塑造。这一工程能够

- ①激发杭州市民内心的文化自信  
②吸收外来文化并不断铸就文化新辉煌  
③直接提升杭州的体育竞技水平  
④加快文化创新性发展并扩大国际影响

- A. ①②                      B. ①④                      C. ②③                      D. ③④

10. 湿地是重要的生态系统,被喻为“地球之肾”。从右图可以看出我国

- A. 减少湿地保护的补助额度  
B. 湿地保护与修复难度加大  
C. 实施改造湿地为耕地工程  
D. 湿地保护与修复成效显著



11. 近年来,村际足球赛、篮球赛等乡村运动会火爆全国。村民参赛者精神抖擞,村民啦啦队呐喊助威,形成一道亮丽的风景。各地开展乡村运动会的积极作用有

- ①丰富乡村文化生活,助力乡村振兴  
②弘扬体育精神,建设健康中国



③推进民主政治建设,描绘美丽乡村

④完善基础设施,促进强村富民

A. ①②

B. ①③

C. ②④

D. ③④

12. 以下选项中,符合事物发展内在逻辑的是

①应对人口老龄化加剧→控制人口数量→推进中国式现代化

②完善社会主义市场经济体制→激发市场主体活力→促进生产力发展

③深化国有企业改革→巩固公有制主体地位→发挥社会主义制度优越性

④全面建成小康社会→社会主义初级阶段的基本国情彻底改变→提升综合国力

A. ①②

B. ①④

C. ②③

D. ③④

13. 小明听妈妈说某县开放了一家主题图书馆“来鹿书院”。妈妈还讲了图书馆的命名来历(见下图),并让小明推测其主题。

相传,明朝万历元年,一知县在城西修学时一群鹿闯入,遂将修学处命名为“来鹿亭”。鹿子喜欢集群,寓意吉祥幸福,契合了各族儿女和合共进的关系,因此沿用“来鹿”之名。

以下对主题推测正确的是

A. 伟大复兴

B. 共享发展

C. 和平统一

D. 民族团结

14. 回归祖国以来,澳门经济快速发展,人均地区生产总值进入世界前列,作为世界旅游休闲中心享誉全球,国际商贸合作服务平台建设成果丰硕……灼灼莲花生光辉,祖国始终是澳门保持长期繁荣稳定的坚强后盾,《粤港澳大湾区发展规划纲要》等政策措施为澳门长远发展注入了新动力、提供了新空间、创造了新机遇。这说明

①“一国两制”在澳门的实践取得成功

②澳门经济发展全靠旅游业和国际贸易

③国家持续支持澳门巩固提升竞争优势

④当今的澳门已不需防范外部势力干预

A. ①②

B. ①③

C. ②④

D. ③④

15. 央视播出的《航拍中国》第四季台湾篇的“空中旅程”从澎湖列岛开始,随后飞越至360多年前郑成功登陆并收复台湾的地方——台南鹿耳门溪……最后停留在金门岛上。金门岛虽小,但视野开阔。它可以久久凝视眼前的大陆,回眸看见浅浅的海峡,还时常远眺宝岛台湾。它的眼神里有光,因为举目皆是同一个中国!该纪录片

①缅怀了维护国家统一的英雄

②展示了中国完全统一的美好现实

③是两岸同胞血脉相连的精神纽带

④昭示了台湾是中华人民共和国的神圣领土的一部分

A. ①②

B. ①④

C. ②③

D. ③④





## 第二部分

本部分共 5 题,共 40 分。

16. (6 分)人们对美好生活的向往,就是党的奋斗目标,那什么是美好幸福的生活?

江苏省太仓市被评为“中国最具幸福感的城市”,让我们一起聆听传统与现代的交响,触摸城市与乡村的脉动,体会这座城市肌理中散发的幸福张力。

百年德企克恩-里伯斯主要业务为弹簧制造业。1993 年,克恩-里伯斯在太仓投资分公司,成为该市首家德企。30 年来,在太仓市政府的支持下,该企业拥有了 5 万平方米现代化厂房和千余名员工,在华成立 6 家分支机构,其中国区代表说:“我们与太仓深度融合,共同成长,这种发掘、培养、努力的过程,难忘而迷人。”

鼓励本土企业、科研院所与德企产业配套、创新协同、人才共育、资本联合……30 年来,太仓放大对德企合作优势,集聚德企 475 家,总投资近 60 亿美元,年工业产值近 600 亿元,中国“德企之乡”名副其实。

由 3 所农村小学合并而成的科教新城实验小学内,变形金刚、航天火箭模型等组成风景线,学生们参加绘画、木工、3D 打印等课余活动。

露天中心广场,扫磨抛光机穿梭,干净的地面供居民“席地而坐”;驻足卖秧桥畔,工人驾驶清洁船划过,河道及绿化带清爽整洁……当地引入“城市管家”,为居民提供环卫保洁、垃圾分类、绿化管养、城市照明等 10 方面服务。

太仓市委书记说,要拿出敢为天下先的干劲、敢闯无人区的冲劲、敢做弄潮儿的拼劲,继续勾画中国式现代化幸福太仓新图景。

结合材料,从不同角度分析,为什么说“这座城市肌理中散发着幸福张力”。

17. (6 分)课堂上,九年级(1)班的同学们以“人口规模巨大对经济可持续发展的影响”为话题展开讨论。



小北

在我国,人口规模巨大,经济可持续发展的压力大。



小平

在我国,人口规模巨大,经济可持续发展的潜力大。

运用所学知识,谈谈你对以上两位同学观点的看法。



18. (10分) 邻里百态身边事, 和谐社区你我他。

镜头一 与\_\_\_\_\_同行 ●REC

“各位邻居: 今日吾儿新婚, 宾朋将至, 电梯使用频繁, 给大家带来不便, 敬请谅解! 特备礼物, 诚邀共贺。”某小区电梯内摆放了喜糖, 并张贴了这份“温馨告示”。面对这样的善意举动, 邻居们暖心地将停在楼下车位上的汽车挪走, 以方便前来参加婚礼的宾客停车。

镜头二 与“法”为邻 ●REC

赵大爷出于安全考虑, 在家门口安装了摄像头。对门王大伯发现摄像头能拍摄到自家客厅, 于是以自身权利受到侵犯为由, 要求拆除。赵大爷却认为, 摄像头安装在自家门口, 与王大伯无关。沟通无果后, 王大伯多次将垃圾丢在对门, 以示抗议。

(1) 补全镜头一的标题。(2分)

(2) 假设你是社区调解员, 从依法行使权利的角度, 分别对赵大爷和王大伯进行劝解。(4分)

(3) 两组镜头反映的主题与和谐社区建设有何关系? 请用图示回答这一问题, 并阐述设计意图。(4分)



19. (6分) 阅读材料, 回答问题。

材料一 我国公民参与民主生活, 既有完整的制度程序, 也有完整的参与实践。

民主协商	人民群众就改革发展稳定的重大问题以及事关自身利益的问题, 通过多种途径和方式, 在决策之前和决策实施之中展开广泛协商。
①	改革开放以来, 中国先后进行了多次乡级、县级人大代表直接选举, 选民参选率均保持在 90% 左右。
②	人大“开门立法”, 政府“开门问策”, 通过召开座谈会、听证会、论证会等方式, 广泛听取意见。
③	公民、法人或者其他组织依法通过各种方式, 对各级国家机关及其工作人员履职情况进行监督。

材料二 近年来, 某社区不断打造“好地方、好治理”基层民主治理新名片。

◇ 围绕“社区党委—网格党支部—楼宇党小组—党员中心户”四级网络, 将党的领导融入社区发展、居民服务各项工作。	◇ 积极创新居民矛盾问题协商解决机制, 及时召开居民圆桌协商会议, 让群众就近“说事”, 商量解决办法。	◇ 聘请多人担任社区商图网格员, 宣传宪法等法律法规, 巡查商户经营行为, 增强居民尊法守法意识。
---------------------------------------------------------	------------------------------------------------------	---------------------------------------------------

(1) 材料一分别体现了哪些我国公民行使民主权利的形式? (3分)




(2) 材料二中的社区是如何引导居民参与民主生活, 打造基层民主治理新名片的? (3分)





20. (12分)浩瀚宇宙星光闪亮。

“复移小凳扶窗立，教识中天北斗星。”某校学习兴趣小组以“北斗”为主题开展探究性学习活动，同学们从不同途径搜集到以下信息，请你参与其中。

<p>材料一 北斗七星</p> 	<p>材料二 “北斗”明灯</p> 	<p>材料三 北斗导航</p> 
<p>“斗柄东指，天下皆春……”早在 2000 多年前，古人就发现了北斗七星，并赋予它定方向、计时辰、观四季的标尺地位。</p>	<p>百年前，正是中华民族“跌入谷底”的至暗时刻。在那个暗夜，筚路蓝缕为中华民族指引光明方向的，正是亮如北斗的中国共产党。</p>	<p>今天，北斗三号成功组网，中国成为世界上第三个独立拥有全球卫星导航系统的国家。北斗精神也将鼓舞一代代中国人接续走好长征路。</p>

(1) 阅读上述材料，说一说三者文化内涵上的联系。(6分)

(2) 面对百年未有之大变局，为更好地迎接挑战，我们必须坚守心中的“北斗”。结合材料，谈谈青少年如何用心中的“北斗”为人生导航。(6分)



# 通州区 2023—2024 学年第一学期九年级期末质量检测



## 道德与法治参考答案及评分标准

2024 年 1 月

第一部分共 15 题,每题 2 分,共 30 分。

题号	1	2	3	4	5	6	7	8	9	10	11	12	13	14	15
答案	A	D	A	C	A	B	D	C	B	D	A	C	D	B	B

第二部分共 5 题,共 40 分。

16. (6 分)

可从制度、创新、绿色发展、共同富裕和共享发展等角度作答。

等级水平	等级描述
水平 4 (5~6 分)	观点明确,知识运用恰当,能够从多个角度阐述,条理清晰。
水平 3 (3~4 分)	观点较明确,知识运用较恰当,能够从两个角度阐述,条理较清晰。
水平 2 (1~2 分)	观点不明确,知识运用不恰当,从一个角度阐述,条理性差。
水平 1 (0 分)	没有应答,或应答与试题无关。

示例:

**制度:**太仓通过集聚德企,坚持对外开放基本国策(坚持改革开放),促进了当地发展,从而散发幸福张力;太仓通过集聚德企,鼓励本土企业,坚持以公有制为主体,多种所有制经济共同发展,使其年产值近 600 亿,促进了国民经济增长,从而散发幸福张力;在太仓市政府毫不动摇的鼓励、支持、引导下,非公有制经济得到良好发展,促进生产力的发展,为人民生活水平的提高奠定物质基础,使太仓成为了德企之乡,从而散发幸福张力。

**创新:**太仓坚持人才强国、创新驱动发展战略,通过科研院所与德企产业配套、人才共育等形式,形成了有利于创新的治理格局和协同机制,搭建了有利于创新的活动平台和融资平台,实现创新引领发展,从而散发幸福张力;太仓坚持科教兴国战略,小学通过开展 3D 打印等丰富的课余活动,培养学生的创新精神,从而散发幸福张力;“城市管家”为居民提供服务,通过创新让生活更美好,从而散发幸福张力。

**绿色:**“城市管家”为居民提供环卫保洁、垃圾分类、绿化管养,落实节约资源保护环境的基本国策,提倡绿色生活方式,实现绿色惠民,从而散发幸福张力。

共同富裕、共享：太仓市政府坚持以人民为中心，让人民群众共享发展成果，走向共同富裕，从而散发幸福张力。



17. (6分)

小北观点：人口问题已经成为一个日益严峻的全球性问题，成为人类社会面临的重大挑战之一。我国人口、资源、环境问题突出，成为制约发展的重要因素。

小平观点：人口是社会发 展主体，是重要资源，我国人口规模巨大，人口问题始终是我国面临的全局性、长期性、战略性问题。党和国家始终坚持人口与发展综合决策，科学把握人口发展规律，坚持计划生育基本国策，调控人口数量，提高人口素质，推动实现适度生育水平，有力促进了经济发展和社会进步。

综上所述，我国应根据人口发展变化形势，适时调整人口政策，以更好地适应人口形势新变化和推动高质量发展新要求，促进人口长期均衡发展。

18. (10分)

(1)从道德角度补全标题，如友善、传统美德等，只要合理、贴切，皆可给分。(2分)

(2)赵大爷，您好！公民行使权利是有界限的。您家的摄像头拍摄到了对门王大伯家的客厅，已侵犯了他的权利，所以建议您调整摄像头的方向或者拆除。(4分)

王大伯，您好！公民权利受到侵害时，要依照法定程序维护权利。您可以通过和解、调解或诉讼等方式来解决。将垃圾扔在他人门口，只会恶化邻里关系，不利于解决问题。

(3)图示：道德→和谐社区←法律。

设计意图：建设和谐社区需要法律和道德共同发挥作用，既要重视发挥法律的规范作用，也要重视发挥道德的教化作用。(4分)

19. (6分)

(1)①民主选举；②民主决策；③民主监督。(3分)

(2)坚持党的领导，党始终坚持全心全意为人民服务。坚持人民当家作主，发挥人民的主体作用，“有事好商量”。坚持依法治国，增强法治意识等。(3分)

20. (12分)

(1)古人凭借北斗星观天气，识气候，辨方向；一百年来，中国共产党带领全国各族人民谋求民族独立和解放；当下，北斗导航系统已经组网运行，在新时代将为中华民族的伟大复兴引领导航。(6分)

(2)树立远大理想，以实现中华民族伟大复兴的中国梦为己任；努力学习科学文化知识，提高自身素质；敢于质疑，善于观察，培养创新精神，提高创新能力；积极参加社会实践，热爱劳动，爱岗敬业；发扬艰苦奋斗精神等。(6分)