

# 门头沟区 2021 届初三年级一模考试



## 历史试卷

2021.4

考生须知	<ol style="list-style-type: none"><li>1. 本试卷共 10 页，分为两部分，第一部分选择题，20 个小题，共 30 分；第二部分非选择题，4 道题，共 40 分。</li><li>2. 请将条形码粘贴在答题卡相应位置处。</li><li>3. 试卷所有答案必须填涂或书写在答题卡上，在试卷上作答无效。请使用 2B 铅笔填涂，用黑色字迹签字笔或钢笔作答</li><li>4. 考试时间 70 分钟，试卷满分 70 分。</li></ol>
------	---

### 第一部分 选择题 (共 30 分)

下列各小题均有四个选项，其中只有一项是符合题意要求的。请将所选答案前的字母，按规定要求填涂在答题卡第 1~20 题的相应位置上。(每小题 1.5 分，多选则该小题不得分。)

1. 据《史记》记载：周武王封尚父于齐，封弟周公旦于鲁，封召公奭于燕。这一记载反映西周实行了

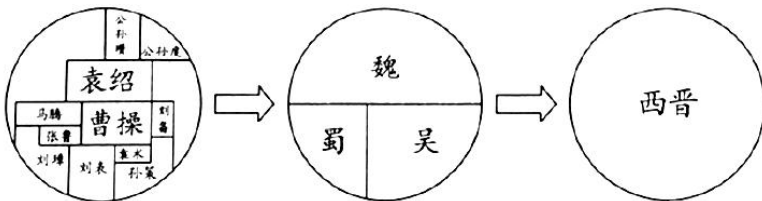
- A. 井田制
- B. 分封制
- C. 郡县制
- D. 行省制

2. 公元前 221 年，秦国完成了统一大业。秦统一后规定通行于全国各地的标准货币是



- A. 圆形方孔半两钱
- B. 刀币
- C. 铲形币
- D. 蚁鼻钱

3. 以下示意图反映出



- A. 东汉末年军阀割据
- B. 三国鼎立局面形成
- C. 魏晋时期政权并立
- D. 统一趋势不断加强

4. 以下是我国封建社会时期曾经出现过的社会高度发展的景象，按时间先后顺序排列正确的是

①贞观之治          ②文景之治          ③康乾盛世          ④开元盛世

- A. ①②③④                                  B. ②①④③  
 C. ②③④①                                  D. ③①②④

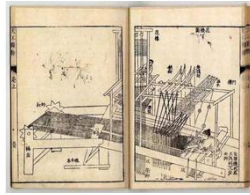
5. 中国是一个统一的多民族国家，西藏自古以来就是中国的领土。为更好地管理西藏地区,元朝设立了

- A. 西域都护                                  B. 宣政院  
 C. 驻藏大臣                                  D. 伊犁将军

6. 下列明代著作的共同特点是



《本草纲目》



《天工开物》



《农政全书》

- A. 传统医学不断发展                                  B. 手工技艺推陈出新  
 C. 古代科技经验总结                                  D. 农业技术推广普及

7. 图 1 和图 2 是中国近代两个不平等条约中开放的通商口岸示意图。其变化反映了



图 1



图 2

- A. 中国开放的通商口岸总数不断减少  
 B. 中国完全沦为半殖民地半封建社会  
 C. 清政府从“天朝上国”沦为“洋人的朝廷”  
 D. 列强侵略势力由东南沿海深入到中国腹地

8. 近代以来先进的中国人为了挽救民族危亡，先后提出了“师夷长技以自强”、“君主立宪”、“民主共和”、“民主和科学”的思想，这反映出中国学习西方的历程是

- A. 学制度→学技术→学思想                                  B. 学思想→学制度→学技术  
 C. 学技术→学制度→学思想                                  D. 学制度→学思想→学技术

9. 遵义会议在极其危急的时刻挽救了党，挽救了红军，挽救了革命。这主要是因为它



- A. 促成了马克思主义和中国工人运动的结合
- B. 确定了武装反抗国民党反动统治的总方针
- C. 开辟了工农武装割据的革命道路
- D. 开始确立以毛泽东为主要代表的马克思主义正确路线的领导地位



10. 观察历史地图有利于形成时空观念。下图反映的史实及其影响是

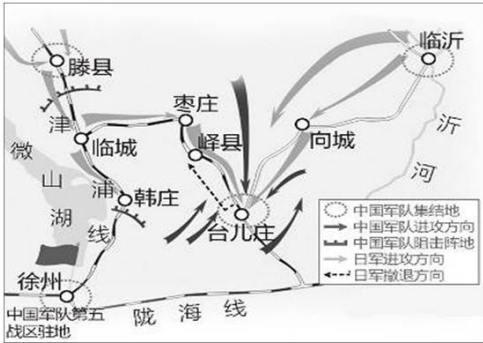


图 3

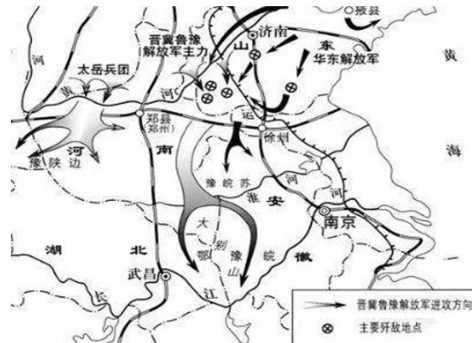


图 4

- A. 图 3 战役的指挥官是彭德怀；图 4 战役的胜利标志统治中国 22 年的国民党政府垮台
- B. 图 3 战役是抗战以来的第一次大捷；图 4 战役揭开了人民解放军战略决战的序幕
- C. 图 3 战役取得了抗战以来最大的一场胜利；图 4 战役揭开了人民解放军战略反攻的序幕
- D. 图 3 战役是抗战中的最大规模战役；图 4 战役的胜利，振奋了人们争取抗战胜利的信心

11. 某同学在学习完“西藏的和平解放、抗美援朝的胜利、土地改革的完成”这三个事件后，归纳了它们的共同作用。下列归纳最恰当的是

- A. 为新中国成立做了准备
- B. 巩固了新中国政权
- C. 开始了社会主义建设的探索
- D. 加强了同世界的联系

12. 2020 年 6 月 23 日，北斗三号系统“收官之星”发射成功，中国人自己的卫星导航系统即将全面建成。1970 年，我国在空间技术领域取得的重大突破是

- A. 东方红一号卫星发射成功
- B. 第一颗氢弹爆炸成功
- C. 第一颗原子弹爆炸成功
- D. 神舟五号飞船升人太空

13. 在新中国历史上，作出把党和国家的工作中心转移到经济建设上来，实行改革开放的历史性决策的会议是

- A. 第一届全国人民代表大会
- B. 第一届中国人民政治协商会议
- C. 中共十一届三中全会
- D. 中国共产党第八次全国代表大会

14. 中世纪晚期，欧洲社会处于转型时期，生产组织逐渐资本主义化，出现雇佣与被雇佣的生产关系。这一现象主要表现为

- A. 庄园经济和现代工厂制的形成
- B. 租地农场和手工工场的产生
- C. 种植园经济和工业革命的扩展
- D. 工业化和农业集体化的实行

15. 图 5 漫画创作于英国资产阶级革命时期，表明英国国王的权力受到挑战与威胁。标志英国封建君主专制被推翻是在




图 5



- A. 《权利法案》颁布后
- B. 1787 年宪法的实施
- C. 《人权宣言》的发布
- D. 《民法典》的出现

16. 图 6 是 1801~1841 年英格兰农业、工业、商业产值示意图，导致各产业数据变化的原因是

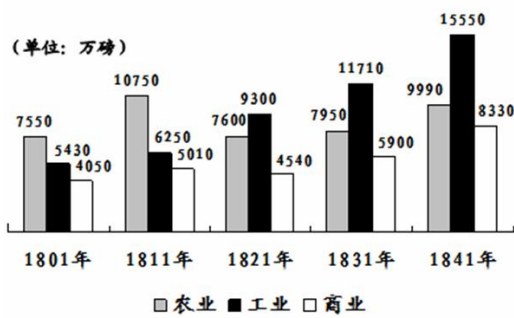


图 6

- A. 英国资产阶级革命
- B. 第一次工业革命
- C. 英国的殖民扩张
- D. 第二次工业革命

17. 纽约州州长富兰克林·罗斯福在 1932 年接受提名的演说中说：“我向你们保证，我对自己立下誓言，要为美国人民实行新政。”其“新政”的最大特点是

- A. 提倡“文明开化”，向西方学习
- B. 自上而下解放农奴
- C. 以征收粮食税代替余粮收集制
- D. 国家对经济的干预

18. 二战后，在国际秩序重建过程中，国际组织纷纷成立，按建立时间进行先后排序正确的是

- ①北约
  - ②华约
  - ③欧洲联盟
  - ④联合国
- A. ①②③④
  - B. ③①②④
  - C. ④①②③
  - D. ④②①③

19. 历史兴趣小组开展主题性学习，同学们围绕下图内容收集资料，这次学习的主题应该是



1. 第一次世界大战
2. 巴黎和会与华盛顿会议
3. 第二次世界大战
4. 美苏冷战的兴起
5. 由两极格局走向多极化

- A. 资本主义国家的不平衡发展  
 B. 20 世纪国际政治格局的演变  
 C. 社会主义国家的建立与巩固  
 D. 亚非拉民族民主运动的高涨
20. 2020 年，“健康码”、“通信大数据行程卡”等作为个人信息共享和出入通行的电子凭证进入我们的生活，这种便捷的跨区域联通方式得益于
- A. 医学技术的突破  
 B. 新材料技术的应用  
 C. 信息技术的发展  
 D. 生物技术的进步

第二部分 非选择题（共 40 分）

21. （共 7 分）某班历史小组开展了古代史学习方法的研究。


【图说历史——农业发展】



河姆渡人的骨耜



春秋时期的铁制农具



汉代牛耕图



唐代曲辕犁

（1）根据以上图片，从以下选项中选出与图片信息相符的主题(填写序号)\_\_\_\_\_。（1分）

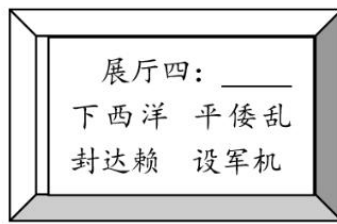
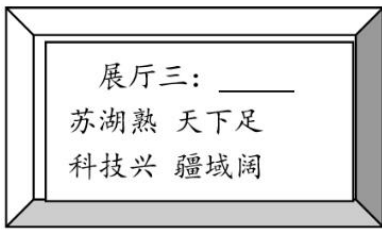

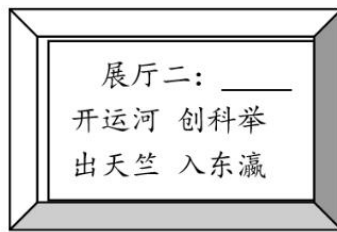
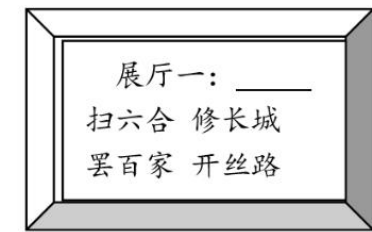
- ①冶铁技术的提高      ②耕作方式的进步      ③铁犁牛耕的出现      ④原始农业的兴起

【表格明史——政治制度】

朝代	秦朝	西汉	宋朝	明朝	清朝
强化君主专制中央集权措施	中央设丞相、太尉、御史大夫，地方实行郡县制。	_____下令颁布“推恩令”	解除地方节度使权力	废丞相、设内阁	设_____、 辅助皇帝处理政务。

（2）中国自古以来形成了一整套国家制度和治理体系。请补充表格横线上的内容。（2分）

【图示析史——时代特征】



- ①宋元繁盛
- ②明清余晖
- ③隋唐气象
- ④秦汉雄风

(3) 请将右侧展厅名称的序号正确填写到横线上空缺处。(4分)

展厅一：\_\_\_\_\_；            展厅二：\_\_\_\_\_；  
展厅三：\_\_\_\_\_；            展厅四：\_\_\_\_\_。

22. (共 11 分) 文化交流是人类文明的重要组成部分。

【中国文化发展源远流长】

材料一




图 7




图 8




图 9

(1) 请将以下文化成果与材料一中图片所代表的史实对应，将序号填写在横线上。(3分)

文化成果：

- ①它是中国四大发明之一，是中国对世界文明的伟大贡献之一。
- ②它是儒家学派的经典著作之一，对推动文化教育事业的发展起到了积极的作用。
- ③它是中国已发现的年代最早、体系较为完整的文字。为文化的记录、传承提供了条件。

图 7：\_\_\_\_\_；            图 8：\_\_\_\_\_；            图 9：\_\_\_\_\_

【西方文化展现人性光芒】

材料二



## 《群神宴》



## 作品简介

《群神宴》是文艺复兴时期意大利威尼斯一位画家的作品。画面上，众神或坐或立，谈笑宴饮，穿着打扮与常人无异。画中盛放水果和汤的三件器皿（如画中右侧附图所示），都是来自中国明朝的青花瓷。

(2) 根据材料二说出《群神宴》中神的形象有什么特点？结合所学,分析画家为什么会这样塑造神的形象？（2分）

材料三



(3) 从材料三中任选一件史实，仿照示例，说说你认为材料二中明朝的青花瓷器能够出现在当时欧洲的原因。（2分）（不能与示例重复）

示例：丝绸之路的开辟连通了东西方，促进了东西方之间的经济文化交流，因此中国古代的瓷器能够沿着丝绸之路转送到欧洲。

### 【东西方文化交流融会贯通】

材料四 两种不同文化相遇，会因文化的异质性产生碰撞，这种碰撞会有三种可能性结果。其一，征服：教化或毁灭；其二，文化掠夺；其三，交流。这是一种相互尊重和影响的双向过程。欧洲与中国的最初接触，正是这种情形。据统计，17、18世纪耶稣会传教士将7000多种西学书籍带到了中国，与此同时在欧洲出版了与中国历史和哲学有关的作品723种，其中法国最多。“东学西渐”过程中，中国思想为欧洲启蒙运动提供了充足的养分。

——摘编自郝桂菊《中西文明跨文化交流范式变迁与未来选择》

(4) 依据材料四，概括近代中国与欧洲在文化交流过程中的特点。（2分）

### 【东西方文化互学共鉴发展】

材料五 中华民族是一个具有很强自我创新能力，同时也是具有强大的融汇外来文化能力的民族，中华民族一方面积极吸收外来文化，另一方面又立足于自身的文化基因和文化传统，努力实现创造性的转化，从而在融合外来文化的过程中发展了本土的物质文明和精神文明，反过来也对世界文化做出了卓越的贡献。



(5) 依据材料五并结合所学，谈谈你得到什么启示？（2分）

23. (共 11 分) 马克思主义的诞生，为中国革命和建设提供了理论依据。

【理论诞生】

材料一 这本书是国际共产主义运动的第一个纲领性文件。列宁在 1895 年指出：“这本书篇幅不多，价值却相当于多部巨著：它的精神至今还鼓舞着、推动着文明世界全体有组织的正在进行斗争的无产阶级。

——摘自吴于廑、齐世荣《世界史近代史编》（下卷）

(1) 材料一中“这本书”指什么？它鼓舞推动俄国无产阶级革命的重大事件是什么？（2分）

【理论建党】

材料二 中国共产党建立的部分史实：



①1919 年，《新青年》出版“马克思主义研究专号”，刊载了李大钊的文章《我的马克思主义观》。	②1920 年夏，在共产国际的帮助下，陈独秀在上海建立了中国第一个共产党早期组织。	③1921 年 7 月，中国共产党第一次全国代表大会在上海秘密召开，通过了第一个党纲。
④1922 年 7 月，中共“二大”召开，大会重申了党的最终奋斗目标是实现共产主义，并制定了党的最低纲领。	⑤1922 年—1923 年，在党的组织和推动下，全国掀起了第一次工人运动的高潮。	

(2) 请用材料二中的相关史实证明下列观点。（2分）

观点	史实（填写序号）
先进知识分子在中国共产党理论创建过程中发挥重要作用	示例：①②
中国共产党成立后，非常重视党的纲领的制定	

【理论运用】

材料三 农村包围城市的道路却历史地成为中国民主革命走向胜利之路，毛泽东是第一个代表这种自觉选择的人。他在这个时期的一些著作中最早阐发了国情与革命，说明了马克思主义的一般和个别、普遍与具体。

——摘自陈旭麓《近代中国的新陈代谢》

(3) 根据材料三并结合所学知识概括以毛泽东为代表的中国共产党人找到了一条什么革命道路？选择这条道路的主要依据是什么？（2分）

【理论创新】

材料四 十九大指出，习近平新时代中国特色社会主义思想被确立为中国共产党必须长期坚持的指导思想。习近平新时代中国特色社会主义思想是对马克思列宁主义、毛泽东思想、邓小平理论、“三个代表”重要思想、



科学发展观的继承和发展，是马克思主义中国化最新成果，是党和人民实践经验和集体智慧的结晶，是中国特色社会主义理论的重要组成部分，是全党全国人民为实现中华民族伟大复兴而奋斗的行动指南，必须长期坚持并不断发展。

——选自《中国共产党简史》

(4) 依据材料四，说出在中国社会主义现代化建设新时期，中国共产党丰富和发展马克思主义，形成了哪些思想理论？（至少举三例）（3分）

(5) “中国共产党人的初心和使命，就是为中国人民谋幸福，为中华民族谋复兴。这个初心和使命是激励中国共产党人不断前进的根本动力。”结合中国近现代史相关史实，简单谈谈你对这段话的认识。（2分）（要求：结合史实，观点正确）

24.（共11分）北京某校历史社团开展了北京爱国主义教育基地的考察活动。



【追随先人足迹】

第一组同学来到了位于房山区周口店大街1号的周口店遗址博物馆，进行实地考察。

材料一 考察笔记（部分）：




图10 灰烬层



图11 石器



图12 装饰品

“北京人遗址的考古发现10万多件石器，成批的骨器，100多种野兽化石，还有大量灰烬……其中最厚的灰烬可达4米。灰烬中有很多石头、骨头和朴树子等。通过对北京人的研究，可以发现早期猿人向现代人类\_\_\_\_\_的规律，为人类起源的研究提供了可靠的证据。”

(1) 依据材料一，说出三张图片所代表的考古发现中，哪些是在北京人遗址发现的？补充完整横线上空缺内容？（3分）

【见证百年梦圆】

第二组同学来到了位于海淀区清华西路28号的圆明园遗址公园观看展览。

材料二 展品简介

“圆明园马首铜像划拨入藏仪式”2020年12月1日在圆明园正觉寺举行。国家文物局正式将圆明园马首铜像划拨北京市海淀区圆明园管理处收藏，成为第一件回归圆明园的流失海外重要文物。《百年梦圆——圆明园马首铜像回归展》同期开展。展览以马首回归为主线，分为圆明重光、万园之园、马首回归三个单元，展览面积1172平方米，共展出文物、照片等共约100组件……

(2) 阅读材料二结合所学，说说圆明园十二生肖铜像流失的历史背景？（2分）



### 【感受抗战精神】

第三组同学参观了位于丰台区宛平城内街 101 号的中国人民抗日战争纪念馆。

材料三 抗战历史资料（摘录）

- ①1937 年 7 月 17 日，周恩来等与蒋介石在庐山进行第二次国共谈判， 8 月，中国共产党接受南京国民政府军事委员会发布改编命令，将所辖西北红军改编为八路军，将南方八省的红军游击队改编为新四军。
- ②1931 年，九一八事变后，东北人民和未撤入关内的东北军组织义勇军、游击队和大刀会等各种抗日武装，奋起抵抗日军侵略。
- ③1938 年 4 月，国民政府军队在李宗仁指挥下取得台儿庄战役胜利。1943 年 9 月至 12 月，八路军晋察冀军区部队粉碎了日伪军对晋察冀抗日根据地的扫荡，战绩辉煌。
- ④1942 年至 1945 年，从印度等地飞越珠穆朗玛峰、川藏地区的驼峰航线开通，国际上大量物资通过驼峰航线运往中国。因天气恶劣、地形复杂，许多中、美飞行员牺牲于驼峰航线飞行中。

（3）依据材料三，分析抗战胜利的原因。（2 分）

### 【弘扬爱国情怀】

材料四 北京市部分爱国主义教育基地分布图及简介



中国长城博物馆位于北京延庆县八达岭，背依长城而建，1994 年 9 月 6 日正式对外开放，是一座展示长城的历史和博大精深的文化内涵的专题性博物馆。



天安门广场地处东城区东长安街。记载了中国人民不屈不挠的革命精神和大无畏的英雄气概，是举行重大庆典、盛大集会和外事迎宾的神圣重地，这里是中国最重要的活动举办地和集会场所。



冀热察挺进军司令部旧址陈列馆位于门头沟区斋堂镇马栏村，1939 年 10 月，肖克将军领导的八路军冀热察挺进军进驻马栏村。到 1940 年夏，司令部迁出马栏。现为北京市重点文物保护单位。北京市百家博物馆和北京市青少年爱国主义教育基地。



中国印刷博物馆位于大兴黄村镇兴华北路 25 号，设有中国古代印刷展厅、世界近现代印刷展厅、印刷设备馆、数字展厅及临时展厅等。1997 年 9 月 6 日被评为了北京市爱国主义教育基地。

（4）参观爱国主义教育基地有利于激发青少年对祖国的深厚情感。请从材料四中任选其一，从以下几个方面设计一个活动实践方案（不能与示例重复）（4 分）

示例：基地名称：冀热察挺进军司令部旧址陈列馆

考察主题：抗日战争的敌后战场

相关史实：敌后抗日根据地的建立

考察意义：了解抗日战争时期冀热察挺进军京西地区敌后战场的抗战情况，学习革命先辈英勇无畏团结一致的抗战精神。

基地名称：\_\_\_\_\_。

考察主题：\_\_\_\_\_。

相关史实：\_\_\_\_\_。

考察意义：\_\_\_\_\_。





# 参考答案

## 第一部分 选择题 (共 30 分)

题号	1	2	3	4	5	6	7	8	9	10
选项	B	A	D	B	B	C	D	C	D	C
题号	11	12	13	14	15	16	17	18	19	20
选项	B	A	C	B	A	B	D	C	B	C

## 第二部分 非选择题 (共 40 分)

21. (共 7 分) 某班历史小组开展了古代史学习方法的研究。

(1) ② (1 分)

(2) 汉武帝 (1 分); 军机处 (1 分)

(3) 展厅一: ④; (1 分) 展厅二: ③; (1 分)

展厅三: ①; (1 分) 展厅四: ②。 (1 分)

22. (共 11 分) 文化交流是人类文明的重要组成部分。

(1) 图 7: ③; (1 分) 图 8: ② (1 分); 图 9: ① (1 分)

(2) 特点: 人神同形同性 (神的形象、举止与人无异)。 (1 分)

原因: 画家受文艺复兴影响, 倡导人文主义; 提倡张扬人的个性, 关注人的现世生活。 (1 分) (其他言之成理即给分, 任答其中一点即给一分)

(3) 参考答案一: 郑和船队下西洋 (1 分), 船上满载中国的精美瓷器, 明朝制瓷业发达, 青花瓷畅销海内外, 因此中国的瓷器能够转运到欧洲。 (1 分)

参考答案二: 新航路的开辟 (1 分), 使得欧洲、亚洲、非洲、美洲之间建立起了直接的商业联系, 因此中国的瓷器能够转运到欧洲。 (1 分)

(此题只要分析逻辑清晰, 史论结合, 言之有理即可给分)

(4) 答案: 相互尊重、相互影响、双向交流。 (2 分) 答出任意两点给 2 分。

(5) 参考答案: 继承和发扬中华文化传统。 (1 分) 积极主动地学习借鉴世界一切优秀文明成果。 (1 分) (言之有理即可给分)

23. (共 11 分) 马克思主义的诞生, 为中国革命和建设提供了理论依据。

(1) 《共产党宣言》; (1 分) 十月革命。 (1 分)

(2) ③ (1分); ④ (1分) (答对一点得一分)

(3) 农村包围城市、武装夺取政权或“工农武装割据”(1分); 国情 (1分)

(4) 邓小平理论; “三个代表”重要思想; 科学发展观; 习近平新时代中国特色社会主义思想。(3分) (任意答对其中三点给3分)

(5) 谈认识能结合史实1分, 观点正确给1分。

24. (共11分) 北京某校历史社团开展了北京爱国主义教育基地的考察活动。

(1) 图10 灰烬层 (1分), 图11 石器 (1分) (答出图的序号或者名称, 答对一个给一分); 演进和发展 (1分)。

(2) 第二次鸦片战争中 (1分), 英法联军入侵北京, 火烧圆明园, 劫掠走十二生肖铜像。(1分)

(3) 参考答案: 在中华民族生死存亡的危急时刻, 国共两党再次合作, 组成抗日民族统一战线, 形成了空前的民族团结。(1分)

国共两党在正面战场和敌后战场浴血奋战、反抗侵略, 体现了中国人民巨大的民族觉醒以及英勇的民族抗争精神。(1分)

世界上一切爱好和平和正义的国家和人民的支持。(中国的抗日战争得到国际反法西斯力量的援助。(1分)

答出其中两点, 言之有理即给2分。

(4) 参考答案一:

基地名称: 中国印刷博物馆: (1分)

考察主题: 印刷术的发展; (1分) (主题明确、正确即可给分)

相关史实: 活字印刷术的发明(毕昇发明活字印刷术)等。(相关史实只要与之相关且正确即给分) (1分)

考察意义: 了解中国印刷的起源与发展, 感受中国发明推动了世界文化的发展和交流, 激发民族自豪感。(1分) 如写其他言之有理即给分

参考答案二(1):

基地名称: 天安门广场: (1分)

考察主题: 新民主主义的开始 (1分) (主题明确、正确即可给分)

相关史实: 五四运动。(相关史实只要与之相关且正确即给分) (1分)

考察意义: 了解五四运动的过程, 认识到五四运动是一场彻底反帝反封建的伟大爱国运动、是一场传播新思想新文化新知识的伟大思想启蒙运动, 更好的传承五四爱国精神。(1分) 如写其他言之有理即给分

参考答案二(2):

基地名称: 天安门广场: (1分)

考察主题: 新中国的诞生 (1分) (主题明确、正确即可给分)

相关史实: 开国大典等。(相关史实只要与之相关且正确即给分) (1分)



考察意义：重温开国大典盛况，认识到开国大典向世界宣告中华人民共和国成立，开辟了中国历史的新纪元。感受新中国诞生的伟大意义。（1分）如写其他言之有理即给分

参考答案三：

基地名称：长城博物馆（1分）

考察主题：长城的历史发展（1分）（主题明确、正确即可给分）

相关史实：（秦长城）明长城的修建（相关史实只要与之相关且正确即给分）（1分）

考察意义：通过参观长城博物馆，了解长城的古今的发展历史，感受劳动人民的勤劳与智慧，领悟长城建筑的文化内涵。（1分）如写其他言之有理即给分

