



房山区 2019-2020 学年第二学期期末初二年级

历史 试卷

一、第一部分选择题（每小题 2 分，共 50 分）在下列各题的四个选项中，只有一项是符合题意的。

1. （2 分）大河流域孕育了灿烂的古代人类文明。下列属于“尼罗河的赠礼”的典型代表是（ ）



A. 狮身人面像



B. 《汉谟拉比法典》石柱



C. 种姓制度



D. 司母戊鼎

2. （2 分）伯利克里统治时期，雅典的一个家庭要去参加公民大会。家庭里有一名中年男主人一名中年女主人，一名八岁小女孩，一名中年男奴隶、一名中年女奴隶。根据当时的民主制度，有资格参加公民大会并投票的有（ ）

- A. 5 人 B. 3 人 C. 2 人 D. 1 人

3. （2 分）世界文明可分为东西方两大体系，古中国、古印度、古埃及和古巴比伦为东方文明，古希腊、古罗马为西方文明。以下对这两种文明的叙述正确的是（ ）

- A. 东方文明都发源于大河流域
B. 东方文明普遍实行民主政治
C. 西方文明都建立中央集权制
D. 西方文明农耕经济比较发达

4. （2 分）《全球通史》中写道：“希腊文化传播到整个东方，主要是靠追随亚历山大军队东进的希腊商人；同样，印度佛教传到中国的过程也可以沿着举世闻名的丝绸之路了解到。”这表明促进东西方文明交融的两种方式是（ ）

- A. 暴力冲突与政治联姻 B. 暴力冲突与和平交流
C. 希腊商人与中国商人 D. 马可波罗与张骞

5. (2分) 13世纪的庄园法庭曾留下这样的记录：“佃户因为没有认真耕种领主的田地，被罚款6便士；佃户的家畜误入领主的园子，被罚款6便士……”，由此可知庄园法庭惩罚各种违法行为的手段通常是（ ）

- A. 处以罚金 B. 投入监狱 C. 驱逐出庄园 D. 处以刑罚

6. (2分) 《汉书·地理志》记载：“乐浪海中有倭人，分为百余国，以岁时来献见云。”《后汉书·东夷列传》记载，光武帝建武中元二年（57年），倭奴国奉贡朝贺，光武帝刘秀赐以印绶。据此可知当时（ ）

- ①日本没有完成统一
②日本归属中国管辖
③中日两国交往不断
④日本正在大化改新

- A. ①② B. ③④ C. ①③ D. ②④

7. (2分) 有人围绕“阿拉伯数字”创作了以下漫画，该漫画的主题应是（ ）



- A. 习俗差异 B. 民族融合 C. 文明交流 D. 国家冲突

8. (2分) 中世纪晚期，西欧社会处于转型时期，原来的封君封臣制度和庄园制度发生了很大变化，随之而来的是资本主义生产方式的出现，它们是（ ）

- A. 工厂和手工工场 B. 工厂和租地农场
C. 租地农场和乡镇企业 D. 租地农场和手工工场

9. (2分) “君士坦丁堡陷落后，当初将古希腊学术保存下来并仔细阅读的基督教学者，亲自带着这些珍贵手稿逃到了意大利。他们在此受到热烈欢迎，因为文艺复兴学者正四处搜寻古典文献。”对此理解正确的是（ ）

- ①拜占庭帝国保存了古代希腊罗马文献
②拜占庭帝国的灭亡是因为信奉基督教
③这些古典文献为文艺复兴提供丰富的精神营养
④文艺复兴学者的意图是希望恢复到古希腊时代

- A. ①② B. ①③ C. ①④ D. ②③

10. (2分) 历史解释是对史实的分析或评判。下列选项中属于历史解释的是（ ）

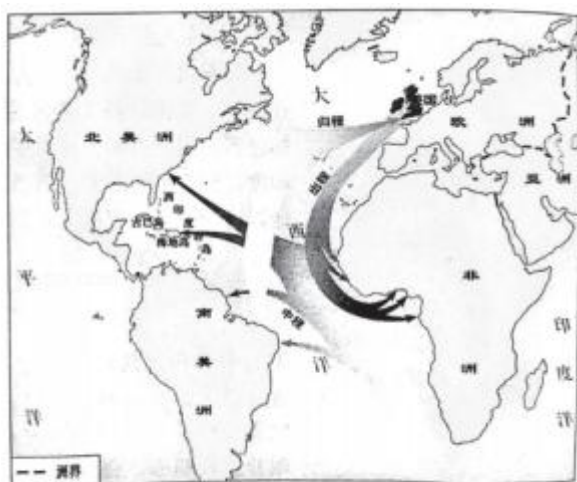


- A. 文艺复兴运动起源于意大利，传播于欧洲
- B. 在文学领域出现了文艺复兴“文学三杰”
- C. 在艺术领域出现了文艺复兴“美术三杰”
- D. 文艺复兴运动促进了人们思想的大解放

11. (2分) 绝大多数历史学家认为：“公元1500年前后是人类历史的一个重要分水岭，从那个时候开始，人类的历史才称得上是真正意义上的世界史。”促使人类历史进入“真正意义上的世界史”的重大事件是()

- A. 大学的兴起
- B. 十字军东征
- C. 新航路开辟
- D. 文艺复兴

12. (2分) 时空观念是对事物与特定时间及空间的联系进行观察、分析的观念。对如图时空分析正确的是()



英国在大西洋进行的“三角贸易”示意图

- A. “三角贸易”中的三角指的是欧洲、非洲、亚洲
- B. 出程中英国商船载着大量金银去非洲换取奴隶
- C. 中程中运往西印度群岛和美洲的主要是非洲黑奴
- D. 英国从16-19世纪一直牢牢控制着“三角贸易”

13. (2分) 美国学者罗威尔指出：“英国17世纪40年代的政变使一个国王掉了脑袋，1688年的政变使另一个国王失去了王位。”这个“掉了脑袋”的国王是()

- A. 查理一世
- B. 詹姆士一世
- C. 詹姆士二世
- D. 查理二世

14. (2分) 伴随全球性的新冠肺炎疫情蔓延，2020年4月5日，94岁的英国女王伊丽莎白二世发表了公开电视讲话。女王表示，英国将在与冠状病毒大流行的斗争中“成功”。在这样一次罕见的演讲中，女王感谢人们遵循政府的规定呆在家里，并称赞那些“齐心协力帮助他人”的人。根据所学知识判断，在英国抗击疫情的过程中，女王的职责是()

- A. 制定相关法律
- B. 直接领导



C. 通过议会领导

D. 精神领袖

15. (2分) 某校初中学生编排了一部历史剧, 如图图片是该剧的演出单。据此可知, 该剧的剧名是 ()



A. 铁血领袖 - - 克伦威尔

B. 美国国父 - - 华盛顿

C. 荒野雄狮 - - 拿破仑

D. 伟大的解放者 - - 林肯

16. (2分) 美国革命领导人寻求脱离英国的殖民统治, 实现独立, 但他们愿意保留英国的法律及大部分英国社会和文化传统。法国则完全不同, 法国革命领导人拒绝接受现有社会, 认为那是旧的秩序, 并寻求用新的政治、社会和文化结构取而代之。由此可见 ()

A. 法国革命比美国革命更加彻底

B. 美国反封建专制不彻底

C. 美国并没有真正独立

D. 法国比美国的革命手段更先进

17. (2分) 如图“自由钟”是费城的象征, 是美国独立的象征, 它在美国的知名度仅次于自由女神。如果 1776 年 7 月 4 日它被敲响, 你认为可能的原因是 ()



自由钟

A. 美国独立战争爆发

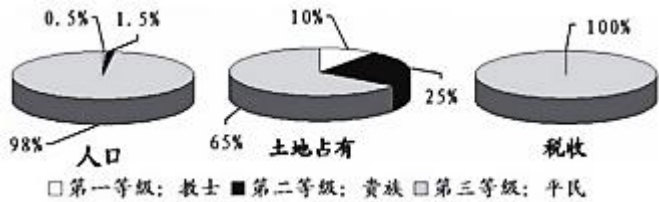
B. 取得萨拉托加大捷

C. 宣告美利坚合众国的诞生

D. 英国承认美国独立

18. (2分) 如图所示为大革命前法国社会三个等级情况。据此分析法国当时存在的社会问题 ()





①法国社会等级鲜明

②第三等级人口多，但占有土地相对较少

③第三等级承担所有赋税

④三个等级地位平等

A. ①②③

B. ①②④

C. ①③④

D. ②③④

19. (2分) 目录索引是阅读书籍的方法之一。如图标题最适合作如图第六单元标题的是 ()

第六单元	
第17课	君主立宪制的英国
第18课	美国的独立

A. 步入近代

B. 资本主义制度的初步建立

C. 资本主义制度的扩展

D. 战后初期的世界

20. (2分) 近代各国资本主义制度建立的过程，也是西方政治民主化不断发展和完善的过程。各国由于国情的不同，显示出各自的特色，以下符合美国特色的是 ()

A. 通过改革，完成国家权利由君主向议会的转移

B. 反复革命，不断扫清本国资本主义发展的障碍

C. 在统治者的领导下，完成自上而下的改革

D. 争取国家独立后，制定宪法保障资本主义制度

21. (2分) 《拿破仑法典》反映了保护私有财产，废除法律面前的阶级差异等原则。这说明拿破仑 ()

A. 领导法国人民推翻封建王期

B. 维护法国大革命成果



C. 给欧洲各国带去了先进的政治制度

D. 是法国大革命终结者

22. (2分) 下面两幅图片反映了18世纪时中英两国政治制度的相关情况。关于二者的表述正确的是()



图1 乾隆皇帝接见大臣时的情景



图2 英国国会议员们在辩论

①图1 场景显示君主专制的特征

②图2 场景是近代西方民主政治的体现

③两个国家君主都具有最高决策权

④两国于19世纪中期有一场实力的较量

A. ①②③

B. ①③④

C. ①②④

D. ②③④

23. (2分) 1860年英国艺术家阐释右侧作品时说,在现今大多数绘画中,我们漏掉与我们有关的那些东西,漏掉了我们的____等无穷无尽的新奇事物,但这幅作品却向全世界展示了铁和煤的用途。文中的空白处应填()



A. 牧师、气势、庄园、上帝的荣耀、金戈铁马

B. 水手、帆船、罗盘、黄金的诱惑、扬帆远航

C. 铁路、工厂、矿山、轰鸣的城市、蒸汽轮船

D. 电车、飞机、网络、太空的探索、虚拟现实

24. (2分) 从1770年到1840年,英国工人的日生产率提高了20倍。原棉消耗量从1800年5200万磅增加到1840年的4.59亿磅。生铁产量1720年为2.5万吨,1840年增至139.64万吨。煤产量1700年为260万吨,1836年增至3000万吨。上述材料反映工业革命()

A. 提高了工人生活的质量

B. 改变了生产组织形式

C. 社会结构的变化

D. 创造了巨大的生产力



25. (2分) 美国最大的连锁书店巴诺旗下的《图书》杂志, 曾就“改变美国的20本书”进行评选, 结果《共产党宣言》名列其中。《共产党宣言》的发表标志着()

- A. 欧洲三大工人运动的胜利
- B. 资本主义制度由盛转衰
- C. 马克思主义的诞生
- D. 殖民体系加速瓦解

二、第二部分非选择题(50分)

26. (12分) 希腊、罗马古典文化丰富多彩, 对后世文明产生了深远的影响, 是人类宝贵的精神文化遗产。阅读材料, 回答下列问题。

材料一: 伯里克利在一次公众演说中阐述: “我们的政体并不与其他人的制度相对我们不模仿我们的邻人, 但我们是他们的榜样……因为行政权不是掌在少数人手里, 而是握在大多数人手中。”

材料二: 伯里克利将权利转移到公民大会手中, 公民大会最重要的程序是就某项议案展开辩论。雅典人认为, 烦琐的辩论虽然延长了决策时间, 却可避免鲁莽行事带来的灾难。

材料三: 五百人议事会成员经抽签选举产生, 名额根据每个基层行政单位的公民人数按比例分配, 这是最早的比例代表制。30岁以上的公民一生可当选两次, 每次任期一年。

- (1) 结合所学, 说明材料一中掌握行政权的“大多数人”指哪部分人?
- (2) 依据材料一至三, 指出雅典民主政治的特点?
- (3) 请将下列文化成就分别填入横线(填写序号)。



① 帕特农神庙



② 《十二铜表法》



③ 万神庙



④ 《掷铁饼者》

- a. 希腊的人物雕塑艺术达到了一种完美的境界, _____是希腊雕塑艺术中的杰作之一。
- b. 希腊的建筑艺术主要体现在神庙, 神庙四周以廊柱环绕, 其中_____是典型代表。
- c. _____罗马法制建设的第一步, 是后世罗马法典乃至欧洲法学的渊源。
- d. 罗马建筑吸收了希腊建筑的特点, 并有所创新, 如石拱门、穹顶等, 代表性建筑有大竞技场还有宏大的宗教场所_____。



材料四：西方人认为拜占庭帝国的文化带有明显的东方色彩，东方人却从拜占庭帝国的文化看出希腊罗马文化的身影。位于亚欧交界的帝国文明博大精深，灿烂辉煌。

材料五：



(4) 依据材料四，指出拜占庭帝国的文化的特点。依据材料五，分析拜占庭文化具有上述特点的地理优势是什么？

27. (12分) 阅读材料，回答问题。

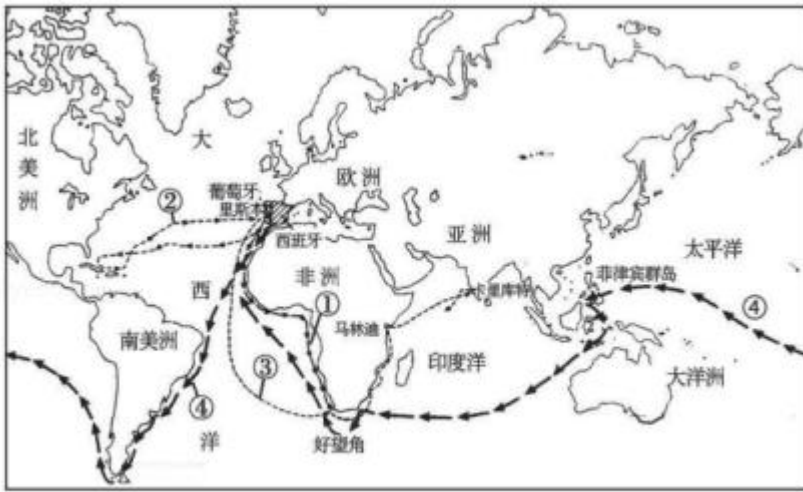
材料一：14世纪中叶的黑死病大死亡使人们冲破了教会的禁欲观念，促使人们去追求现实生活，同时对人生问题进行了深入思考。于是，意味着死亡的黑死病，却迎来了人类历史中灿烂的时代。随着从14世纪的大瘟疫中恢复过来，西欧迸发出一群光辉灿烂的名字，使希腊极盛时代的最大的科学荣誉为之黯然失色。

- - 摘编自宋耀良《黑死病与文艺复兴运动》

(1) 依据材料一，说出这一“灿烂时代”的重大事件及其核心思想。任意列举这一时代一个光辉灿烂的名字及其作品。

材料二：





新航路开辟示意图

甲：他是葡萄牙人，在西班牙王室的支持下率队远航。在历时 3 年多的远航途中，至今留下了很多他的印记，例如在南美洲最南端的海峡是以他的名字命名；在渡过某海域时历经 100 多天的航行，一直风平浪静，于是他就给起了个吉祥的名字，叫“太平洋”。回到西班牙时，5 条船只剩下 1 条，265 名水手只有 18 人生还，他率领的船队完成了壮举，但他却死于菲律宾部落冲突中。

乙：他是意大利人，为了实现远航计划，他曾经游说过英国、法国、意大利和葡萄牙，但都被拒绝，最后说服西班牙王室支持其远航事业。以他名字命名的纪念日被定于每年 10 月 12 日或者 10 月的第二个星期一，以此纪念他发现到达此地。他曾四次远航，至死仍认为自己到达了印度，把当地人称为“印第安人”。

(2) 上述甲、乙两则材料分别描述了开辟新航路的两位著名航海家的事迹，请分别写出他们的名字及开辟的新航线（填写图中的序号）。

甲：_____ 乙：_____

材料三：随着西方殖民时代的到来，美洲的农作物，如烟草、玉米、马铃薯，甜菊、花生、西红柿传到欧洲、亚洲和非洲，增加了人类的食物种类，改变了人的饮食结构，欧洲的家畜，如马、牛、山羊则影响和改变北美印第安人的生活方式。美洲的烟草在很大程度上改变了欧洲人和土耳其人的生活习惯。

- - 周一良、吴于廑主编《世界通史资料选辑》

材料四：在美洲被征服的过程中，大量印第安人死于屠杀和折磨。更悲惨的是，新大陆没有天花、白喉等疾病，印第安人对这些疫病毫无免疫力，欧洲人带来的这些疾病造成他们死亡的数量可能更大，有的村子因此整个灭绝。……随着印第安人大量死亡，劳动力来源日趋紧张，于是殖民者又从非洲运来黑人，迫使他们在种植园里劳动。

- - 王加丰《世界文化史导论》

(3) 依据材料三、材料四，概括新航路开辟的影响。

28. (14 分) 民主政治制度是近代以来人类文明进程中的重要成果，民主与法治是民主政治建设的永恒主题。阅读以下材料回答问题。

材料一：“未经议会同意，国王无权废除法律或停止法律的执行；不经议会同意国王不得征税；不经议会同意，国王不能在平时时期维持常备军；议会必须定期召开；议员的选举不受国王的干涉。”

材料二：“宣扬人们生来就是而且始终是自由平等的；自由就是指有权从事一切无害于他人的行为；法律面前人人平等，私有财产神圣不可侵犯……”。

材料三：“我们以这些善良人民的名义和权利宣布：这些联合殖民地从此成为，而且名正言顺地应当成为自由独立的合众国；它们解除对于英国国王的一切隶属关系，而它们与大不列颠王国之间的一切政治联系也应从此完全废止。”

(1) 阅读上述三则材料，结合所学补充完成下表。任选一则材料，概括这部文献对该国历史发展的影响。

材料一	英国	_____
材料二	_____	《人权宣言》
材料三	_____	_____

材料四：

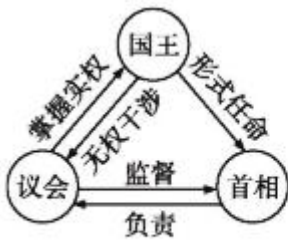


图 1

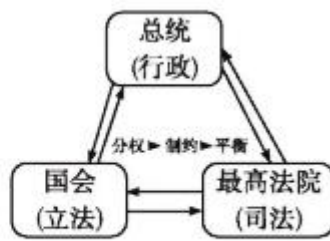


图 2

(2) 图 1 和图 2 分别反映了近代资本主义的哪两种民主政治制度？这两种制度的特点分别是什么？

(3) 两幅图片反映了这两个国家的国王或总统在权力方面有什么共同特点？

(4) 结合上述材料和所学知识，谈一谈你从近代西方民主政治的发展历程中得到哪些感悟与认识？

29. (12 分) 阅读材料，回答问题。

材料一：建于英国伦敦的水晶宫是一个以钢铁为骨架、玻璃为主要建材的建筑，是第一届万国工业博览会中最成功的作品和展品。1851 年第一届万国工业博览会展出了英国自 18 世纪中期以来的经济成就和先进的工业品，在众多来自世界各地的展览品中影响世界变革的包括高效的农业机械、印刷机械、自动链式精纺机、大功率蒸汽机、轨道蒸汽牵引机、高速汽轮船、气压机、起重机、机床以及先进的炼钢法、隧道和桥梁模型等。

(1) 结合所学说说水晶宫建成及万国工业博览会举办的背景？

(2) 依据材料一，你认为下列哪项发明能够在第一届万国工业博览会中展出（写序号）。





材料二：工业革命的发展使社会具备了提倡个人的自由发展和独立生存权利的经济基础，人口增长出现了明显变化。在工业革命时期后的 50 年人口更是加速增长，几乎增长了一倍。威廉姆斯用“人口爆炸”来形容 19 世纪英国人口的增长。英国工业革命时期引起死亡的疾病、瘟疫、饥荒、地方性战争有所减少，人口增长至少是出生率和死亡率共同作用的结果。

- - 摘编自舒小昀著《欧洲的历史与文明》

(3) 工业革命为什么会促进人口增长？根据材料二谈谈你的理解。

材料三：“我希望为全欧洲工作”，这是马修·博尔顿的雄心壮志。

1759 年，博尔顿在伯明翰附近租下了一块荒野的荆棘地，投资九千英镑，建立了一个大工厂 - - 索霍工厂。这个工厂有五个主要车间，工人数达 600 人。其动力来源是依靠附近的人工瀑布，因而常不能保证正常的生产需要。他迫切需要一种稳定的、充分的动力来源。

他很早就注意到瓦特对蒸汽机的改进，并邀请瓦特来到他的工厂。经过多年研制，瓦特改良的蒸汽机终于投产。1775 年开始，各地订货源源不断。它不仅用于矿井抽水，还被广泛地应用于冶金行业中带动高炉鼓风机、城市供水等许多方面。随后法国、德国等纷纷派人来索霍工厂参观，并引进全部的技术设备。蒸汽机的广泛应用掀起了一场动力革命，工业的集中成为现实。博尔顿和瓦特的合作，共同打出了蒸汽机的天下，实现了博尔顿“为全欧洲工作”的雄心。

依据材料，对以下表述做出判断：可以从材料直接得出的，在括号内划“√”；违背材料所表达意思的，在括号内划“×”；材料没有涉及的，在括号内划“○”。

- ①以水作为动力不稳定，常常不能保证正常的生产需求。_____
- ②为技术保密，博尔顿在蒸汽机投产后，严格禁止蒸汽机外传。_____
- ③瓦特经过多年的努力研究，终于成功改良蒸汽机，并广泛应用于各个领域。_____
- ④以蒸汽为动力的蒸汽机车提高了运输量，引发了铁路建设的热潮。_____





参考答案

一、第一部分选择题（每小题 2 分，共 50 分）在下列各题的四个选项中，只有一项是符合题意的。

1. 【分析】本题考查了古埃及文明。金字塔是古埃及文明的象征。

【解答】“尼罗河的赠礼”指的是古代埃及。金字塔前的狮身人面像象征着国王的权力与尊严，是古代埃及的文明成就。《汉谟拉比法典》是古巴比伦文明的成就，种姓制度与古代印度文明有关。司母戊鼎是中国古代文明的成就。

故选：A。

【点评】本题考查学生对基础知识的识记能力，需要准确识记古埃及文明的成就。

2. 【分析】本题主要考查雅典民主政治的局限性。结合所学知识进行思考解答。

【解答】据题干信息并结合所学知识可知，公元前 5 世纪后半期，伯里克利当政期间，雅典奴隶主民主政治达到古代世界的最高峰，当时雅典全体成年男性公民可以参加最高权力机构公民大会，决定内政、外交、战争等重大问题，但妇女、儿童、外邦人和奴隶无权享有这种民主。题干中“一名中年男主人、一名中年女主人，一名八岁小女孩，一名中年男奴隶、一名中年女奴隶”只有一名中年男主人能参加公民大会。

故选：D。

【点评】本题主要考查分析问题的能力。需要准确掌握希腊文明 - 雅典民主政治的相关知识。

3. 【分析】本题主要考查大河文明即古埃及、古中国、古印度、古巴比伦和海洋文明即古希腊、古埃及的对比。大河文明，以农耕为主，农业发达。海洋文明，海外贸易发达。

【解答】通过题干可知，本题考查大河文明和海洋文明对比，来看选项，A 东方文明都发源于大河流域，正是由于发源于大河流域所以是大河文明，正确。B 东方文明普遍实行民主政治，东方大河文明普遍实行君主专制，错误。C 西方文明都建立中央集权制，西方文明普遍实行民主政治，错误。D 西方文明农耕经济比较发达，西方文明商业贸易发达，错误。

故选：A。

【点评】本题主要考查学生对东西方文明的把握情况，考查学生分析、判断能力。

4. 【分析】本题主要考查文明交融的方式，主要有暴力冲突和和平交流两种方式。

【解答】通过题干，“希腊文化传播到整个东方，主要是靠追随亚历山大军队东进的希腊商人”，可知这是指亚历山大大帝东征，亚历山大大帝东征给东方国家带来灾难，客观上促进东西文明交汇，这是属于暴力冲突。

“印度佛教传到中国的过程也可以沿着举世闻名的丝绸之路了解到”，可知佛教传入中国是通过丝绸之路，这是属于和平交流。所以B符合题意。其他三个选项均不符合题意。

故选：B。

【点评】本题主要考查学生阅读、分析、归纳材料的能力，考查文明交融的方式，题目简单。

5. 【分析】本题主要考查庄园法庭。掌握庄园法庭惩罚各种违法行为的手段。

【解答】据题干信息“佃户的家畜误入领主的园子，被罚款6便士”并结合所学知识可知，庄园法庭起着维护庄园公共秩序的作用，主持法庭的是领主或他的管家。庄园法庭审判依据习惯法或村法，庄园法庭的开庭时间、开庭地点是不固定的，佃户之间关于土地、借贷和婚姻的纠纷，违反庄园公共规则的行为等，也都要通过庄园法庭进行审理。惩罚各种违法行为的基本手段通常是处以罚金，罚金全部归领主所有。A符合题意。

故选：A。

【点评】本题注重考查学生识记和分析历史知识能力，注意掌握中世纪封建庄园的相关知识。

6. 【分析】本题主要考查汉朝与日本的交流的相关史实。识读材料是解答本题的关键。

【解答】据所学知识可知，公元5世纪，大和不断征服扩张统一了日本。646年，日本的改革派发动宫廷政变成功，新上台执政的孝德天皇仿行隋唐制度颁布改新诏书，史称“大化改新”。据“乐浪海中有倭人，分为百余国，以岁时来献见云。”“光武帝建武中元二年（57年），倭奴国奉贡朝贺，光武帝刘秀赐以印绶。”据此可知当时日本没有完成统一；中日两国交往不断。②④表述错误。①③符合题意。

故选：C。

【点评】本题主要考查解读题干信息和对历史史实的分析和准确识记能力。理解并识记汉朝与日本的交流的相关史实。

7. 【分析】本题考查了阿拉伯数字。阿拉伯数字是现今国际通用数字。

【解答】最初印度人用梵文的字头表示数字，创造了从0到9十个数字的计数法；阿拉伯人学会这一方法，对它加以改造，12世纪初，这一简便的计数法传到欧洲，被称为“阿拉伯数字”。漫画反映了阿拉伯数字的发明与传播，据此可知它反映的主题是文明交流。

故选：C。

【点评】本题考查学生对历史知识的灵活运用能力，需要灵活运用阿拉伯数字的发明与传播及相关漫画。

8. 【分析】本题主要考查中世纪晚期的租地农场和手工工场的出现的相关史实。14-16世纪，伴随着西欧手工工场和租地农场的出现，西欧社会产生了新兴的资产阶级和无产阶级作为新的阶级力量，西欧迎来了近代文明的曙光。



【解答】14 - 16 世纪，伴随着西欧手工工场和租地农场的出现，西欧社会产生了新兴的资产阶级和无产阶级作为新的阶级力量，西欧迎来了近代文明的曙光。中世纪晚期，西欧社会处于转型时期，原来的封君封臣制度和庄园制度发生了很大变化，随之而来的是资本主义生产方式的出现，它们是租地农场和手工工场。

故选：D。

【点评】本题主要考查学生运用所学知识解决问题的能力。识记与灵活掌握租地农场和手工工场的相关史实。

9. 【分析】本题主要考查拜占庭帝国的相关史实。要在掌握课本相关知识的基础上，对材料进行深入的分析，从而得出结论。

【解答】据“君士坦丁堡陷落后，当初将古希腊学术保存下来并仔细研读的基督教学者，亲自带着这些珍贵手稿逃到了意大利。他们在此受到热烈欢迎，因为文艺复兴学者正四处搜寻古典文献”可知，拜占庭帝国保存了古代希腊文献，这些古代希腊文献对文艺复兴的发展起到重要作用。拜占庭帝国保存了古代希腊文献，文艺复兴是意大利人不满当时教会对文化的控制，通过弘扬古希腊、古罗马文化的方式来反对教会的运动，并不是简单的古罗马文化的复兴。文艺复兴运动使人们开始认识到，必须打破中世纪以来的封建统治和教会神学对人们的思想束缚，强调和发挥人在这个世界上的作用，而这些思想正是代表了当时新兴资产阶级的愿望。

故选：B。

【点评】本题主要考查解读题干信息和对历史史实的分析和准确识记能力。理解与识记拜占庭帝国和文艺复兴运动的相关史实。

10. 【分析】本题考查文艺复兴运动的影响。文艺复兴推动了欧洲文化思想领域的繁荣，促进了人们思想的大解放。

【解答】历史叙事和历史解释是历史认识的两个层面。所谓历史叙事，是叙述以往发生过的事件。而历史解释则是阐明历史发展的轨迹及其意义所在。ABC 是属于叙述以往发生过的事件，是历史叙事。选项 D 文艺复兴运动促进了人们思想的大解放属于历史解释。文艺复兴推动了欧洲文化思想领域的繁荣，为欧洲资本主义社会的产生定了思想文化基础。

故选：D。

【点评】题主要考查学生运用所学知识解决问题的能力。识记与灵活掌握《权利法案》的相关知识。

11. 【分析】本题主要考查新航路开辟的影响，新航路的开辟使世界开始连成一个整体，促进资本主义的产生和发展。

【解答】通过题干，可获得关键信息“公元 1500 年前后”、“人类的历史才称得上是真正意义上的世界史”，可知 1500 年前后的新航路的开辟，世界开始连成一个整体，C 符合题意。其他三项不符合题意。

故选：C。

【点评】本题考查学生分析归纳材料的能力以及联系所学知识的能力，题目简单。

12. 【分析】本题主要考查三角贸易。掌握三角贸易的过程、影响。



【解答】A. “三角贸易”中的三角指的是欧洲、非洲、美洲；不是欧洲、非洲、亚洲，选项说法错误。

B. 出程中英国商船载着携带枪支、杂物等，不是大量金银去非洲换取奴隶，选项说法错误。

C. 中程中运往西印度群岛和美洲的主要是非洲黑奴，选项说法正确，符合题意。

D. 16世纪开始的三角贸易从葡萄牙和西班牙开始，“英国从16-19世纪一直牢牢控制着‘三角贸易’”说法不符合史实，选项说法错误。

故选：C。

【点评】本题注重考查学生识记和分析历史知识能力，注意掌握三角贸易的航线以及影响。

13. 【分析】本题主要考查英国资产阶级革命中查理一世被送上断头台的相关史实。掌握英国资产阶级的过程。

【解答】英国资产阶级革命发生在1640年。1649年英国国王查理一世被推上断头台。1688年，英国议会作出决定：废黜詹姆士二世，迎请他的女儿玛丽和女婿威廉入主英国，史称“光荣革命”。据“英国17世纪40年代的政变使一个国王掉了脑袋，1688年的政变使另一个国王失去了王位。”可知，这与英国资产阶级革命有关，这个“掉了脑袋”的国王是查理一世。选项A符合题意。

故选：A。

【点评】本题主要考查解读题干信息和对历史史实的分析和准确识记能力。理解并识记英国资产阶级革命中查理一世被送上断头台的相关史实。

14. 【分析】本题主要考查英国的君主立宪制的相关史实。掌握君主立宪制的含义。

【解答】英国资产阶级革命后，为了限制君主的权力，1689年英国议会通过《权利法案》，标志着君主立宪制的资产阶级统治在英国的确立。君主立宪制即君主统而不治，议会拥有国家最高权力。据所学知识判断，在英国抗击疫情的过程中，女王的职责是通过议会领导。

故选：C。

【点评】本题主要考查学生综合运用所学知识解决问题的能力。理解并识记英国的君主立宪制的相关史实。

15. 【分析】本题考查了拿破仑主要事迹。拿破仑用暴力加速了欧洲从中世纪向近代过渡的过程，推动了欧洲资本主义的发展。

【解答】根据题干给出图片中事件“雾月政变”等可知主人公是拿破仑。1799年拿破仑发动雾月政变，夺取政权；1804年拿破仑称帝建立法兰西第一帝国。拿破仑对内巩固资产阶级统治，颁布了《法典》；对外多次打败欧洲反法联盟的军队，既打击了欧洲的封建势力，也损害了被侵略国家人民的利益。1812年拿破仑率军远征俄罗斯失利；1814年他被反法联盟赶下台；1815年在滑铁卢惨败后被流放到大西洋小岛上孤独地死去。故C符合题意。

故选：C。



【点评】本题考查学生对历史知识的灵活运用能力，需要灵活运用拿破仑的事迹。

16. 【分析】本题主要考查美国独立战争、法国大革命的相关史实。掌握欧美早期资产阶级革命的异同点。

【解答】法国大革命爆发推翻了法国封建君主的统治，建立了资本主义制度，走上了资本主义道路，这是一场彻底的资产阶级革命，彻底摧毁封建制度，广泛传播民主共和思想。据“美国革命领导人寻求脱离英国的殖民统治，实现独立，但他们愿意保留英国的法律及大部分英国社会和文化的传统。法国则完全不同，法国革命领导人拒绝接受现有社会，认为那是旧的秩序，并寻求用新的政治、社会和文化结构取而代之。”可知，由此可见法国革命比美国革命更加彻底。选项B与反封建专制无关，选项C表述错误，选项D不符合题意。

故选：A。

【点评】本题主要考查解读题干信息和对历史史实的分析和准确识记能力。理解并识记美国独立战争、法国大革命的相关史实。

17. 【分析】本题主要考查《独立宣言》的颁布的相关史实。《独立宣言》是第一个以国家名义明确表述资产阶级政治要求的纲领性文献，被称为“第一个人权宣言”。

【解答】1776年7月4日，大陆会议通过了《独立宣言》，宣告北美13个殖民地脱离英国独立，标志着美国的诞生。“自由钟”是费城的象征，是美国独立的象征，如果1776年7月4日它被敲响，我认为可能的原因是宣告美利坚合众国的诞生。选项C符合题意。

故选：C。

【点评】本题主要考查学生综合运用所学知识解决问题的能力。理解并识记《独立宣言》的颁布的相关史实。

18. 【分析】本题以统计图为背景，考查学生的读图能力。学会分析图片所包含的历史信息，进而理解法国大革命爆发的原因。

【解答】根据图示信息可知，法国社会分为三个等级，等级鲜明：第一等级人口占0.5%，土地占10%；第二等级人口占1.5%，土地占25%；第三等级人口占98%，土地仅占65%；表明第三等级人口多，但占有土地相对较少。税收第三等级承担100%。综上所述，三个等级地位不平等，因此①②③表述正确。

故选：A。

【点评】本题主要考查学生读图学史的能力。学会从图中提取历史信息。

19. 【分析】本题以目录索引是阅读书籍的方法之一为切入点，考查资本主义制度确立的相关知识点。

【解答】英国资产阶级革命推翻了封建专制统治，颁布了《权利法案》，走上了发展资本主义的道路。美国的独立战争使美国摆脱了英国的殖民统治，通过了《独立宣言》，走上了发展资本主义的道路。法国大革命推翻了封建专制统治，颁布了《人权宣言》，走上了发展资本主义的道路。因此题干反映的主题是资本主义制度的确立。

故选：B。



【点评】本题主要考查学生的识记能力以及分析问题的能力。理解并识记资本主义制度确立的相关史实。

20. 【分析】本题主要考查美国资本主义制度建立的过程。北美通过独立战争摆脱了殖民统治，实现了国家独立，制定了世界上第一部成文的资产阶级共和国宪法。

【解答】北美通过独立战争摆脱了殖民统治，实现了国家独立，制定了世界上第一部成文的资产阶级共和国宪法 - 1787 美国宪法，通过宪法保障资本主义制度，促进了资本主义经济的发展。

故选：D。

【点评】本题主要考查学生对历史知识的灵活运用能力，需要灵活掌握美国独立战争等知识。

21. 【分析】本题主要考查《拿破仑法典》的意义的史实。《拿破仑法典》是资产阶级国家的第一部民法典，它的立法精神和原则为后来很多欧洲国家借鉴和效仿。

【解答】拿破仑在位期间，对内巩固资产阶级统治，颁布了《民法典》（又叫《拿破仑法典》）《商法典》《刑法典》。《拿破仑法典》第一次确认了民事权利平等、废除贵族特权、财产所有权无限制和契约自由等资产阶级民法的基本原则，是资产阶级国家的第一部民法典，它的立法精神和原则为后来很多欧洲国家借鉴和效仿。

《拿破仑法典》反映了保护私有财产，废除法律面前的阶级差异等原则。这说明拿破仑维护法国大革命成果。

《拿破仑法典》反映了保护私有财产，废除法律面前的阶级差异等原则。这说明拿破仑维护了法国大革命成果。

故选：B。

【点评】本题主要考查解读题干信息和对历史史实的分析和准确识记能力。理解并识记《拿破仑法典》的相关史实。

22. 【分析】本题考查清朝与英国的政治制度的区别。清朝实行君主专制，英国实行的是君主立宪制度。

【解答】仔细观察图片并结合所学知识可知，图 1 反映的是清朝君主专制。图 2 反映的是英国的君主立宪制度。国会议会是英国的最高立法机关，是英国政治的中心舞台。政府从议会中产生，并对其负责，是近代西方民主政治的体现。19 世纪中期鸦片战争爆发，中国战败。故①图 1 场景显示君主专制的特征，②图 2 场景是近代西方民主政治的体现、④两国于 19 世纪中期有一场实力的较量的说法正确。英国议会下国王的权力受到了严格限制，君主统而不治，国会拥有国家最高权力，因而③两个机构中君主都具有最高决策权说法错误。

故选：C。

【点评】本题考查学生识记和分析历史知识的能力，识记与灵活掌握清朝时中英两国政治制度的不同与影响。

23. 【分析】本题考查工业革命，掌握相关的基础知识。

【解答】据题干并结合所学知识可知，图片是英国艺术家斯科特 1860 年创作的绘画作品，反映的是工业革命的成就。故文中的空白处应填铁路、工厂、矿山、轰鸣的城市、蒸汽轮船。

故选：C。

【点评】本题考查工业革命，考查学生的识记和理解能力，解题关键是熟练掌握基础知识。



24. 【分析】本题考查工业革命。工业革命创造了巨大生产力，促进了经济的发展。

【解答】“从1770年到1840年，英国工人的日生产率提高了20倍。原棉消耗量从1800年5200万磅增加到1840年的4.59亿磅。生铁产量1720年为2.5万吨，1840年增至139.64万吨。煤产量1700年为260万吨，1836年增至3000万吨。”反映的是工业革命时期，工人的日生产率、棉花制品、生铁、煤的生产量都有了大幅度提高，说明工业革命创造了巨大生产力。

故选：D。

【点评】本题以工业革命为背景，考查学生分析史料和识记历史知识能力。

25. 【分析】本题主要考查《共产党宣言》发表的意义的相关史实。《共产党宣言》的发表标志着马克思主义的诞生。

【解答】1848年，受共产主义者同盟的委托，马克思和恩格斯起草了《共产党宣言》，它的发表标志着马克思主义的诞生。这为无产阶级提供了最锐利的思想武器，有力的推动了世界无产阶级革命的发展。从此国际工人运动在马克思主义的指导下，进入一个新的历史时期。

故选：C。

【点评】本题主要考查学生的识记能力以及分析问题的能力。理解并识记《共产党宣言》的相关史实。

二、第二部分非选择题（50分）

26. 【分析】本题考查古代的著名雕塑与建筑、雅典民主政治、拜占庭帝国的兴衰、《十二铜表法》等，掌握相关的基础知识。

【解答】（1）结合所学可知，材料一中掌握行政权的“大多数人”指雅典的成年男性公民，

（2）依据材料一至三可知，雅典民主政治的特点是人民主权，公民内部平等。

（3）希腊的人物雕塑艺术达到了一种完美的境界，《掷铁饼者》是希腊雕塑艺术中的杰作之一；希腊的建筑艺术主要体现在神庙，神庙四周以廊柱环绕，其中帕特农神庙是典型代表；《十二铜表法》罗马法制建设的第一步，是后世罗马法典乃至欧洲法学的渊源；罗马建筑吸收了希腊建筑的特点，并有所创新，如石拱门、穹顶等，代表性建筑有大竞技场还有宏大的宗教场所万神庙。

（4）依据材料四“西方人认为拜占庭帝国的文化带有明显的东方色彩，东方人却从拜占庭帝国的文化看出希腊罗马文化的身影。位于亚欧交界的帝国文明博大精深，灿烂辉煌”可知，拜占庭帝国的文化的特点是兼收并蓄。依据材料五可知，拜占庭文化具有上述特点的地理优势是处于东西方文明交汇的必经之路上。

故答案为：

（1）雅典的成年男性公民，

（2）人民主权，公民内部平等。



(3) a. ④; b. ①; c. ②; d. ③。

(4) 兼收并蓄; 处于东西方文明交汇的必经之路上。

【点评】本题考查学生的识记能力以及分析问题的能力,理解并识记古代著名雕塑与建筑、雅典民主政治、拜占庭帝国的兴衰、《十二铜表法》等相关史实。

27. 【分析】(1) 本题主要考查文艺复兴、主要代表人物及其作品。

(2) 本题主要考查麦哲伦、哥伦布航海史实。

(3) 本题主要考查新航路开辟的影响。

【解答】(1) 根据材料一分析,“14世纪中叶”、“冲破了教会的禁欲观念”、“促使人们去追求现实生活”等信息可容易得知,这一“灿烂时代”的重大事件是文艺复兴。其核心思想是人文主义。根据所学,这次空前的思想解放中涌现出杰出的代表人物和不朽的作品主要有:但丁《神曲》;达芬奇《蒙娜丽莎》、《最后的晚餐》;莎士比亚《罗密欧与朱丽叶》、《哈姆莱特》。

(2) 根据材料分析,甲人物关键信息是“葡萄牙人,在西班牙王室的支持”、“历时3年多的远航”、“他却死于菲律宾部落冲突中”,可容易得知这是麦哲伦的环球航行,与图片中④相对应。乙人物关键信息是“意大利人”、“他曾四次远航,至死仍认为自己到达了印度,把当地人称为印第安人”,可容易得出这是哥伦布发现美洲,与图中②相对应。

(3) 根据两则材料分析,新航路开辟的影响有:“美洲的农作物传到欧洲、亚洲和非洲”、“欧洲的家畜改变北美印第安人的生活方式”可知新航路开辟促进不同物种的交流,改变人们生产和生活方式。“美洲被征服的过程中,大量印第安人死于屠杀和折磨”、“印第安人对这些疫病毫无免疫力”“殖民者又从非洲运来黑人”,可知新航路开辟传播新疫情;给美洲人带来灾难,大量土著居民死于屠杀;推动了罪恶的黑奴贸易。

故答案为:

(1) 文艺复兴。人文主义。但丁《神曲》;达芬奇《蒙娜丽莎》、《最后的晚餐》;莎士比亚《罗密欧与朱丽叶》、《哈姆莱特》(任选其一)。

(2) 麦哲伦;④。哥伦布;②。

(3) 新航路开辟促进不同物种的交流,改变人们生产和生活方式;新航路开辟传播新疫情;给美洲人带来灾难,大量印第安人死于屠杀;推动了罪恶的黑奴贸易。

【点评】本题考查学生对文艺复兴和新航路开辟等相关知识点的识记情况,进而考查学生分析归纳材料的能力。

28. 【分析】(1) 本题主要考查英国资产阶级革命和《权利法案》、法国大革命和《人权宣言》、美国独立战争和《独立宣言》。

(2) 本题主要考查英国君主立宪制和美国联邦共和制。

(3) 本题主要考查统治者权力受到制约。



(4) 本题主要考查西方近代由人治到法治，由专制到民主的发展历程。

【解答】(1) 通过对材料分析和所学知识，材料一“未经议会同意，国王不得……”这是限制王权，英国资产阶级革命后颁布的《权利法案》。材料二“法律面前人人平等，私有财产神圣不可侵犯……”可知这是法国大革命中颁布的《人权宣言》。材料三“这些联合殖民地从此成为……”可知这是美国独立战争中颁布的《独立宣言》。(2) 根据图片分析和所学知识，图一是英国的君主立宪制，主要特点是，议会限制王权，成为最高权力机构。图二是美国联邦共和制，特点是总统、国会和联邦法院三权分立，分权与制衡。

(3) 根据材料分析和所学知识，英国国王和美国总统在权力方面都受到制约，无法集权。

(4) 根据材料分析和所学知识，近代西方民主发展历程是由人治到法治，由专制到民主；早期民主制度建立都是通过革命的方式确立起来；民主与法制相辅相成。

故答案为：

(1) 《权利法案》；法国；美国；《独立宣言》

(2) 英国的君主立宪制；议会限制王权，成为最高权力机构。美国联邦共和制；三权分立、分权与制衡。

(3) 在权力方面都受到制约，无法集权。

(4) 由人治到法治，由专制到民主；早期民主制度建立都是通过革命的方式确立起来；民主与法制相辅相成。

【点评】本题主要考查学生对英国资产阶级革命、法国大革命、美国独立战争等基础知识的识记情况，还考查学生分析归纳问题的能力。

29. 【分析】本题考查第一次工业革命。第一次工业革命创造了巨大生产力，促进了经济的迅速发展。

【解答】(1) 由“1851年第一届万国工业博览会展出了英国自18世纪中期以来的经济成就和先进的工业品”结合所学，工业革命开始于18世纪60年代的英国，19世纪中期，英国率先完成工业革命，可知，水晶宫建成及万国工业博览会举办的背景是英国完成第一次工业革命。

(2) ①蒸汽机是第一次工业革命的成就，②计算机是第三次科技革命的成就；③电话是第二次工业革命的成就；④蒸汽机车是第一次工业革命的成就，因此能够在第一届万国工业博览会中展出的发明是①④。

(3) 由“工业革命的发展使社会具备了提倡个人的自由发展和独立生存权利的经济基础，人口增长出现了明显变化。在工业革命时期后的50年人口更是加速增长，几乎增长了一倍。威廉姆斯用“人口爆炸”来形容19世纪英国人口的增长。英国工业革命时期引起死亡率的疾病、瘟疫、饥荒、地方性战争有所减少，人口增长至少是出生率和死亡率共同作用的结果。”可以看出，工业革命促进人口增长的原因包括：工业革命创造巨大生产力，促进经济发展，为人口增长提供了经济基础；英国工业革命时期引起死亡率的疾病、瘟疫、饥荒、地方性战争有所减少。

(4) ①由“其动力来源是依靠附近的人工瀑布，因而常不能保证正常的生产需要。”可以看出，以水作为动力不稳定，常常不能保证正常的生产需求，表述从材料直接得出；②由“随后法国、德国等纷纷派人来索霍工厂参观，并引进全部的技术设备”可以看出，为技术保密，博尔顿在蒸汽机投产后，严格禁止蒸汽机外传，表述

违背材料所表达意思；③由“经过多年研制，瓦特改良的蒸汽机终于投产。1775年开始，各地订货源源不断。它不仅用于矿井抽水，还被广泛地应用于冶金行业中带动高炉鼓风机、城市供水等许多方面。”可以看出，瓦特经过多年的努力研究，终于成功改良蒸汽机，并广泛应用于各个领域，表述从材料直接得出；④以蒸汽为动力的蒸汽机车提高了运输量，引发了铁路建设的热潮，表述材料没有涉及。

故答案为：

(1) 英国完成第一次工业革命。

(2) ①④。

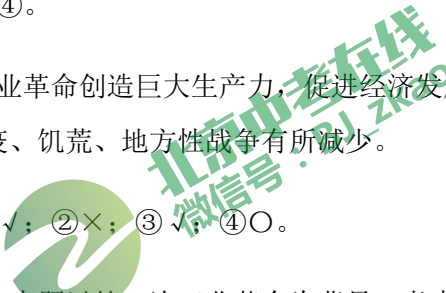
(3) 工业革命创造巨大生产力，促进经济发展，为人口增长提供了经济基础；英国工业革命时期引起死亡的疾病、瘟疫、饥荒、地方性战争有所减少。

(4) ①√；②×；③√；④○。

【点评】本题以第一次工业革命为背景，考查学生分析史料和识记历史知识能力。



北京中考在线
微信号：BJ_zkao



北京中考在线
微信号：BJ_zkao



北京中考在线
微信号：BJ_zkao

