

2018 北京丰台长辛店第一中学初一（下）期中 历史




命题人：李静静；复核人：石叶红

注意事项：

1. 答题前填写好自己的姓名、班级、考号等信息
2. 请将答案正确填写在答题卡上

第 I 卷 选择题（每题 1 分，共 40 分）

1. 下图是隋朝重大历史事件的时间轴，图中①、②、③代表相关的历史事件。其中②代表的历史事件是（ ）



- A. 北周建立 B. 隋朝建立
 - C. 南北统一 D. 开凿大运河
2. 我国科举制正式诞生于（ ）
 - A. 隋朝
 - B. 唐朝
 - C. 明朝
 - D. 清朝
 3. “春风得意马蹄疾，一日看尽长安花。”“十年寒窗无人问，一举成名天下知。”这两句诗中作者的兴奋与感慨，与下列哪一制度的推行直接相关（ ）
 - A. 分封制
 - B. 行省制
 - C. 科举制
 - D. 三省六部制
 4. 隋统一的历史作用是（ ）
 - ①结束长期分裂的局面 ②促进了南北经济文化交流
 - ③为唐朝的繁荣奠定了基础 ④承上启下，继往开来
 - A. ①②④
 - B. ②③④
 - C. ①③④
 - D. ①②③④
 5. 英国大百科全书中说：“我们所知道的最早的考试制度，是中国所采用的选举制度，及其定期举行的考试。”你认为这种制度对中国社会产生的积极影响是（ ）
 - A. 从高门权贵且具有真才实学的子弟中选拔官员
 - B. 改善了用人制度，促进了教育及文学艺术的发展
 - C. 束缚人们的思想，扼杀人们的聪明才智
 - D. 由皇帝直接任命有真才实学的人做官，加强君权统治
 6. 唐太宗统治时期，先后进谏 200 多次的名臣是（ ）

- A. 房玄龄 B. 长孙无忌 C. 杜如晦 D. 魏徵

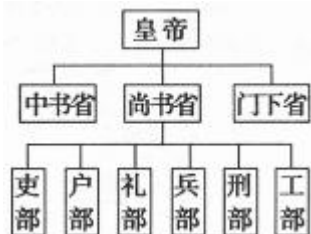
7. “政启开元，治宏贞观”的统治者是（ ）

- A. 唐高祖 B. 唐太宗 C. 武则天 D. 唐高宗

8. 历史上把唐朝的全盛时期称为（ ）

- A. 贞观之治 B. 开元盛世 C. 文景之治 D. 康乾盛世

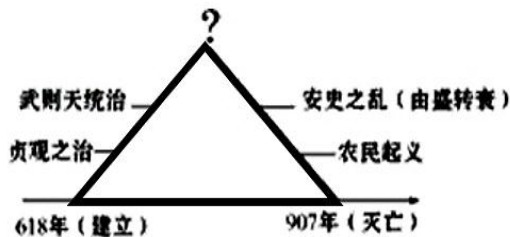
9. 某同学利用下边的行政系统简表进行研究性学习，他研究的主题应该是（ ）



- A. 秦朝建立中央集权制度 B. 西汉强化监察制度

- C. 北魏加强专制统治 D. 唐朝完善中央官制

10. 下图为某同学设计的唐朝政局的发展图，图中“？”处应为（ ）



- A. 唐太宗统治前期 B. 唐太宗统治后期

- C. 唐玄宗统治前期 D. 唐玄宗统治后期

11. 某班级举办主题为“唐代经济”的图片展览。下列图片中可以入选的是（ ）



- ①二牛抬杠耕作 ②曲辕犁 ③筒车 ④三彩骆驼载乐俑

- A. ①②③ B. ①③④ C. ①②④ D. ②③④

12. 唐代诗人陆龟蒙以“九秋风露越窑开，夺得千峰翠色来”来形容素雅温润的唐代某种瓷器，这首诗由衷赞美的是（ ）

- A. 黑瓷 B. 青瓷 C. 白瓷 D. 唐三彩

13. 唐朝初期为了增加汉藏之间的友好关系，唐太宗答应了吐蕃首领的求婚，将一位公主远嫁西藏，这位公主是（ ）

- A. 文成公主 B. 金成公主 C. 太平公主 D. 尺尊公主
14. “百千家似围棋局，十二街如种菜畦。遥认微微入朝火，一条星宿五门西。”这是诗人白居易对某一城市的描绘，这座城市是（ ）
- A. 洛阳 B. 长安 C. 杭州 D. 扬州
15. 学习唐朝历史后，某同学编了一个反映唐朝社会现象的小剧本，下列不符合史实的是（ ）
- A. 外国人在唐朝经商、做官 B. 人们欣赏异域风情的舞蹈
C. 妇女们骑马出游，打马球 D. 人们在“坊”购买外来的沉香
16. “东瀛有多远？芒履难丈量。袈裟作舟帆，合十忘生死，弘愿心中藏，普渡众生……”这是中央电视台播放的一部有关唐朝高僧的电视剧片尾曲。这部电视剧的主人公是（ ）
- A. 玄奘 B. 鉴真 C. 戒贤 D. 戒日王
17. 印证了唐朝与 70 多个国家和地区有交往的诗句是（ ）
- A. 日本晁衡辞帝都，征帆一片绕蓬壶。
B. 遥指来从初日外，始知更有扶桑东。
C. 九天阊阖开宫殿，万国衣冠拜冕旒。
D. 十二乘船渡海来，文章感动中华国。
18. 2014 年 9 月 20 日，国家主席习近平在印度发表题为《携手追寻民族复兴之梦》的重要演讲，他说“中印两国人民交往史上浓墨重彩的是佛教交流”。回顾历史，下列人物中，唐朝时曾经为中印佛教交流作出重大贡献的是（ ）
- A. 张骞 B. 玄奘 C. 鉴真 D. 蔡伦
19. 唐朝的对外交往出现了前所未有的繁荣局面，其原因不包括（ ）
- A. 经济、文化世界领先 B. 军事力量强大
C. 鼓励外国与中国贸易 D. 对外交通发达
20. “在这个 7 世纪中我们看到了罗马诸皇帝的兴衰始末……当西方人的心灵为神学所缠迷而处于蒙昧黑暗之中时，中国人的思想却是开放的，兼收并蓄而好探究的”。——韦尔斯《世界史纲》中的“中国人”是指当时的（ ）
- A. 秦朝人 B. 汉朝人 C. 西晋人 D. 唐朝人
21. 唐朝由强盛转向衰落的转折点是（ ）
- A. 唐玄宗任用奸臣 B. 藩镇割据形成
C. 安史之乱 D. 唐末农民战争
22. 下列不是唐朝走向衰落的原因的是（ ）
- A. 统治者不勤政，纵情享乐 B. 少数民族南下，唐朝无法抗衡
C. 地方割据势力逐渐强大 D. 宦官专权使朝政更加黑暗、腐败



23. 下列关于五代十国的说法正确的是()

- ①唐朝灭亡后出现五代十国
- ②是一个大分裂时期
- ③全国战乱频繁，动荡不安
- ④南方相对安定

A. ①②③ B. ②③④ C. ①③④ D. ①②④

24. 对安史之乱的理解正确的是()

- A. 各民族之间的战争
- B. 军阀之间的混战
- C. 农民战争
- D. 为夺取中央政权而发动的叛乱

25. 五代十国的分裂割据局面，实质上是()

- A. 汉族与少数民族政权的并立
- B. 豪强地主势力发展的结果
- C. 唐末藩镇割据的延续和扩大
- D. 皇族内部争夺权力的斗争

26. 960年，后周大将赵匡胤发动兵变，夺取政权，改国号为宋，定都东京，历史上称这次兵变为()

- A. 玄武门兵变
- B. 马嵬兵变
- C. 陈桥兵变
- D. 靖康之变

27. 采取“杯酒释兵权”，解除朝中大将兵权的皇帝是()

- A. 唐太宗
- B. 唐玄宗
- C. 宋太祖
- D. 宋太宗

28. 宋初实行重文轻武的政策，大量提拔文人担任官职，这些得到提拔的人主要来源于()

- A. 开国功臣
- B. 皇亲国戚
- C. 科举考试
- D. 地方推荐

29. 连环画是一种古老的传统艺术，也是我们了解历史的好读物，阅读下列连环画能够了解北宋建立历史的是()



30. 下列对宋朝的重文轻武政策影响的表述，不确切的是()

- A. 扭转了五代十国时期尚武轻文的风气
- B. 杜绝了武将跋扈和兵变政移的情况发生

C. 有利于政权的稳固和社会的安定

D. 宋朝的各种矛盾越来越尖锐

31. “行营到处即为家，一卓穹庐数乘车。千里山川无土著，四时畋猎是生涯。”这首诗描述的是哪个民族的生活（ ）

- A . 契丹族 B . 女真族 C . 汉族 D . 匈奴族

32. 银川是国家历史文化名城，素有“凤凰城”的美誉，“塞上飞圣火，祥云映湖城”。银川在古代称为兴庆，它曾是下列哪一个少数民族的都城（ ）

- A. 吐蕃 B. 辽 C. 西夏 D. 金

33. 自古以来，中原王朝与边疆少数民族的关系有“战”也有“和”。宋辽澶州之战中，在宰相寇准力劝下亲征的皇帝是（ ）

- A. 宋太祖 B. 宋太宗 C. 宋真宗 D. 宋神宗

34. 宋辽的澶渊之盟使（ ）

①增加了北宋人民的负担，激化了社会矛盾②宋辽之间维持了长期的相对和平关系，有利于人民生活的安定③贸易往来频繁，有利于经济发展④技术和文化交流加强，促进文化进步

- A. ①②③ B. ①③④ C. ②③④ D. ①②③④

35. 下列各事件按发生的先后顺序排列，正确的是（ ）

①杯酒释兵权②阿保机统一契丹③澶渊之盟④元昊称帝

- A. ①②③④ B. ②①③④ C. ②①④③ D. ①②④③

36. 建立金朝的少数民族是（ ）

- A. 契丹族 B. 党项族 C. 女真族 D. 突厥族

37. 下面是唐至元之间的民族政权并立的示意图，其正确的演变顺序是（ ）



- A. ①②③④ B. ②③④① C. ③④①② D. ①④③②

38. 看到下面这幅图,读到这句诗,你就会对一位人物再次产生敬仰之情,也同时会对另一位人物产生憎恶之恨。诗句中的“忠骨”和“佞臣”分别是（ ）



材料二



唐太宗李世民像
(626—649 年在位)

唐太宗常说：人君好比是舟，人民好比是水；水能载舟，也能覆舟。

唐太宗认为“致安之本，唯在得人”。

他曾问大臣魏徵：“人主何为而明，何为而暗？”魏徵答：“兼听则明，偏信则暗。”

——摘自朱绍侯《中国古代史》



女皇武则天像
(690—705 年在位)

她经常发布诏令劝课农桑，规定以农业政绩的好坏作为对地方州县官员升贬的标准。

天授元年(690年)，“策问贡人于洛城殿，数日方了，殿前试人自此始”。

——摘自朱绍侯《中国古代史》



唐玄宗李隆基像
(712—756 年在位)

他下令加强而且严格执行官吏的考选办法；并经常以有才识的京官外放为都督刺史，又以有绩效的地方官调京任用，来增加他们的行政经验和办事能力。

——傅乐成《中国通史》

据统计，玄宗执政期间，全国共建56个农田水利工程，相当于唐朝所修工程总数的20%以上。

——摘自朱绍侯《中国古代史》

(2) 请运用材料一中的方法，结合材料二的内容及所学，分析唐朝能够出现百年盛世的原因。(6分)

43. 阅读材料，回答问题。(12分)

材料一 开元年间以来，朝廷太常乐尚胡曲，贵人御馔，尽供胡食，士女皆竞衣胡服。

——《旧唐书·舆服志》

材料二 女性与男性一起参与对弈、拔河、击球、打猎、斗鸡、抛球、看戏、乞巧、斗花草、观竞渡(龙舟比赛)，与文人墨客赋诗唱和，游春时甚至以红裙挂为“裙幄”，席地而坐赏花宴饮。公孙大娘

的剑器，雄健绝伦，一舞动四方；王大娘的顶竿，技术高超，其妙入神，令人叹为观止。她们和男性共同创造了盛唐文明。

——李斌城《盛唐社会风貌》

材料三 通过西域传来的印度、中亚、西亚文明和通过海上丝绸之路传来的南亚文明，对唐代中国产生重大影响。在唐三彩及唐诗中，骏马、骆驼和胡人，成为具有代表性的唐代文化符号。而玄奘西行则自觉承担了沟通往来、传播文化的使命。

——摘编自袁行霈《中华文明史》

材料四 唐朝允许不同民族、不同国家的人参加科举考试和做官。京城和各大城市居住着很多城外来的使节和留学生，有不少人与当地人通婚。

——改编自朱汉国主编《历史》

(1) 透过以上资料你看到了什么？请分别依据材料说明。(4分)

(2) 你看到的这些反映了唐朝什么样的社会风貌？(2分)

(3) 结合所学分析唐朝形成这样的社会风貌的原因有哪些？(6分)

44. 北宋时期，中国境内有辽、西夏等少数民族政权并立，各民族在碰撞中走向交融。(25分)

【在和平下共处】

材料一 1005年，辽宋议和，辽朝撤兵，宋朝给辽岁币，史称澶渊之盟。

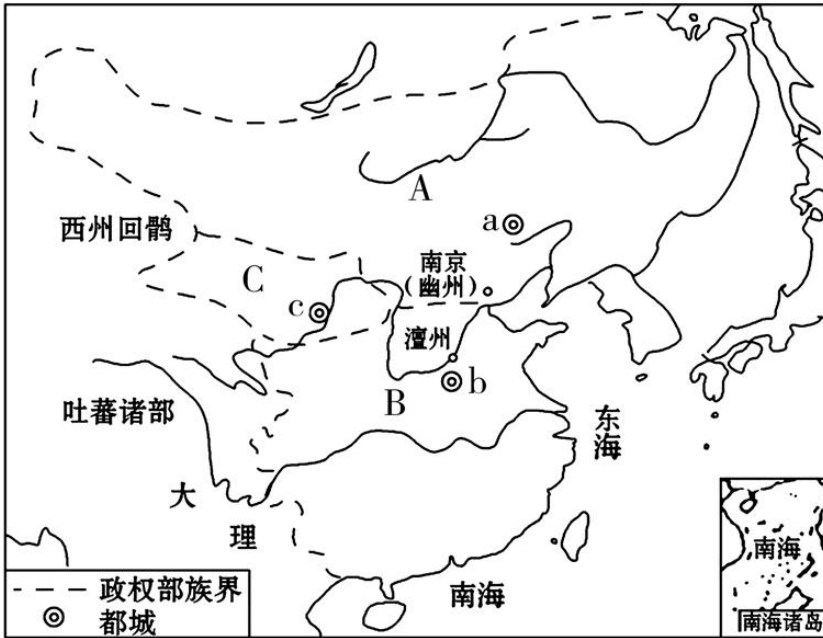
(1) 材料一中的辽是由哪个少数民族建立的政权？(2分) 根据材料，指出“澶渊之盟”的主要内容有哪些？(4分)

(2) 你认为应该怎样评价“澶渊之盟”？（6分）



【在并立中共存】

材料二 辽、北宋、西夏并立形势图



(3) 填写出下列大写字母代表的政权名称及小写字母代表的都城名称：

A. _____； B. _____； C. _____

a. _____； b. _____； c. _____。（6分）

【在碰撞中交融】

材料三 自契丹侵取燕蓟以北，拓跋自得灵夏以西，其间所生英豪，皆为其用。得中国土地，役中国人力，称中国位号，仿中国官署，任中国贤才，读中国书籍，用中国车服，行中国法令。是二敌所为，皆与中国等。

(4) 从材料三中找到辽和西夏在哪些方面仿效中原王朝？（3分）他们对我国历史的发展做出了哪些贡献？（4分）

历史试题答案



1-5 C A C D B 6-10 D C B D C 11-15 D B A B D
16-20 B C B B D 21-25 C B D D C 26-30 C C C B D
31-35 A C C D B 36-40 C D A A B

41. (15分)

(1) 隋朝大运河 (2分); 隋炀帝 (2分)

(2) 皮日休的观点是符合史实的。(2分) 胡曾只看到了运河的开通导致了隋朝的灭亡。而皮日休不但指出了大运河在南北交通中的作用,肯定了隋炀帝开通大运河的功绩,同时也指出了巡游江都的腐化。看问题比较全面。(4分)

(3) 大运河开通后成为南北交通大动脉,大大促进了南北经济文化的交流,也有利于国家统一。(5分)

42. (8分)

(1) 历史比较法。(2分)

(2) 唐朝初立,太宗吸取隋朝灭亡教训,采取与民休息政策;太宗能知人善任,善于纳谏;完善三省六部制提高政治效能;重视官员的培养和选拔,利用科举制选拔人才;主张按法律办事,使国家出现贞观之治的局面。

后继者武则天、唐玄宗在位时,都能够重视人才、注重官吏选拔、考核,重视发展生产,将唐帝国逐步推至顶峰。(6分)

43. (12分)

(1) 材料一看到唐朝时期音乐、饮食、服饰融合了胡人的风格;材料二看出妇女常在公开场合抛头露面;材料三看出唐朝主动吸收外来文化并传播唐文化;少数民族和外国人在唐朝做官,外国人在唐朝定居。(4分)

(2) 反映了唐朝民族交融、兼收并蓄、社会风气开放的盛唐社会风貌。(2分)

(3) ①政治稳定,制度先进,人民生活安定②经济发达,国力强盛③统治者开明的民族政策和开放的对外政策。(6分)

44. (25分)

(1) 契丹族。(2分) 辽朝撤兵,宋朝给辽岁币。(4分)

(2) 对于北宋来说,“澶渊之盟”是一个屈辱的和约,岁币成为北宋人民沉重的负担。但从整个中华民族发展来看,它结束战争,使辽宋长期处于相对和平稳定的状态,双方开展经济文化交流,有利于边境地区的生产发展。(6分)

(3) A: 辽; B: 北宋; C: 西夏

a. 上京; b. 东京(汴京、开封都可); c. 兴庆府。(6分)

(4) 措施：效仿中国的官制，任用汉族人为官；学习汉族的政治制度；学习中原文化。(3分)

贡献：开发了我国的边疆地区，促进了经济文化的交流和民族的交融。(4分)

