

单项选择题：以下各小题均只有一个正确选择，请将正确选项的代号填入表格中。共 50分



1. 下列事例中，能证明地球是个球体的是 ()

- ①人造地球卫星拍摄的地球照片
- ②在海边观看远方驶来的帆船，总是先看到桅杆，再看到船身
- ③麦哲伦船队环球航行成功
- ④地球北极附近是海洋，南极周围是陆地

- A. ①③
- B. ②④
- C. ①②③
- D. ①③④

2. 地球仪是地球的模型。读图 2，回答 2、3 题。

下列说法，正确的是 ()

- A. 纬线是与赤道垂直的圆圈
- B. 沿任何一条经线北行，均能回到出发点
- C. 地轴与水平面的夹角是 23.5°
- D. 经度的范围是 $0^\circ \sim 180^\circ$

3. 用地球仪演示地球自转，正确的做法是 ()

- A. 面对地球仪，自右向左拨动球体
- B. 面对地球仪，自左向右拨动球体
- C. 手握底座，整体逆时针旋转地球仪
- D. 移动地球仪沿椭圆轨道做水平运动



图 2

4. 地球仪是地球的模型，观察图 1-6 “地球仪示意图”，完成 (1)、(2) 题。

(1) 关于 0° 纬线的叙述，正确的是 ()

- A. 与南北极等距的大圆圈
- B. 是东西半球的分界线
- C. 与其他纬线的长度相等
- D. 指示南北方向

5. (2) 如图摆放地球仪，演示地球自转的正确做法是 ()

- A. 移动地球仪，沿椭圆轨迹做水平运动
- B. 以底座为轴，逆时针旋转整个地球仪
- C. 面对地球仪时，自左向右转动球体
- D. 从“北极”俯视，顺时针转动球体



6. 在地球仪上, 表示海洋的颜色通常采用

()

A. 红色

B. 蓝色

C. 白色

D. 黄色

7. 有关地球仪上经纬线的说法, 正确的是 ()

A. 经线自成一个圆圈

C. 纬线的长度都相等

B. 最长的纬线是赤道

D. 经线指示东西方向

8. 与 0° 经线构成一个经线圈的经线是 ()

A. 60°E

B. 160°E

C. 120°W

D. 180°

9. 毛主席的诗词“坐地日行八万里, 巡天遥看一千河”反映出地球赤道周长约为

A. 5.1亿千米

B. 40 000米

C. 8 000千米

D. 4万千米

10. 下列地点中, 位于高纬度、东半球的是 ()

A. 55°N , 10°E

B. 40°S , 35°E

C. 45°S , 120°W

D. 80°N , 10°W

11. 下列地点中, 位于中纬度、西半球的是

A. 25°N , 150°E

B. 45°S , 165°E

C. 55°S , 90°E

D. 20°S , 100°E

12. 北极的纬度为 ()

A. 0°W

B. 0°E

C. 90°N

D. 40°S

13. 东、西半球的分界线是 ()

A. 0° 经线和 180° 经线

C. 本初子午线

B. 20°W 经线和 160°E 经线

D. 赤道

14. 地球仪上经线的特点是 ()

A. 形状为圆圈

B. 长度相等

C. 互相平行

D. 指示东西

15. 本初子午线指 ()

A. 0° 纬线

B. 20°W 经线

C. 0° 经线

D. 160°E 经线

16.

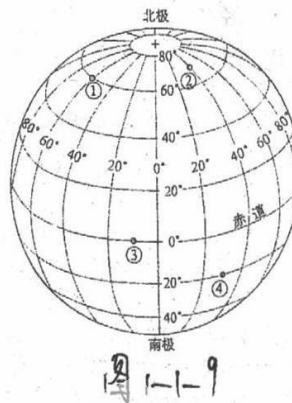
16 地球仪上最长的纬线是 ()

- A. 0° 纬线 B. 180° 经线 C. 本初子午线 D. 60° N 纬线

17 下列地点中, 位于北半球的是 ()

- A. 20° S、40° W C. 10° S、80° E
B. 40° S、40° W D. 40° N、60° E

1 读图 1-1-9, 完成下面各题 (18~24 题)



18 图中①地的经纬度是 ()

- A. 60° N、40° W C. 10° N、60° E
B. 60° N、60° W D. 40° S、60° W

19 图中④地的经纬度是 ()

- A. 40° N、20° W C. 30° S、40° W
B. 30° N、20° E D. 20° S、30° E

20 图中①②③④地, 位于西半球的是 ()

- A. ① B. ② C. ③ D. ④

21 图中①②③④地, 位于南半球的是 ()

- A. ① B. ② C. ③ D. ④

22 图中①②③④地所在的纬线中, 长度最短的是 ()

- A. ① B. ② C. ③ D. ④

23 图中①②③④地, 位于西经度、东半球的是 ()

- A. ① B. ② C. ③ D. ④

24 图中①②③④地, 位于低纬度的是 ()

- A. ①② B. ③④ C. ①③ D. ②④

25 下列地点中, 位于东半球的是 ()

- A. 70° S、50° W C. 10° N、80° W
B. 40° S、170° E D. 40° N、60° E

二 综合题 共50分

1. 读图1-1-1, 回答下列问题。(每空3分)

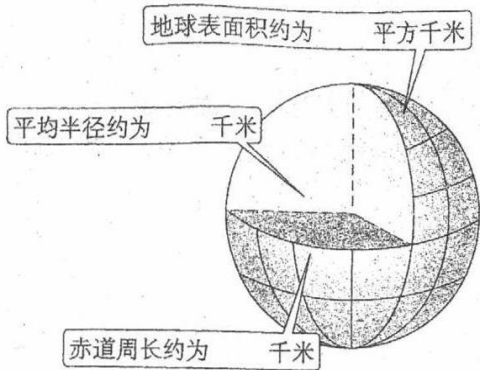


图1-1-1

- (1) 地球的平均半径约为 _____ 千
- (2) 地球表面积约为 _____ 平方
赤道周长约为 _____ 千米。
- (3) 地球是个正圆的球体吗? _____

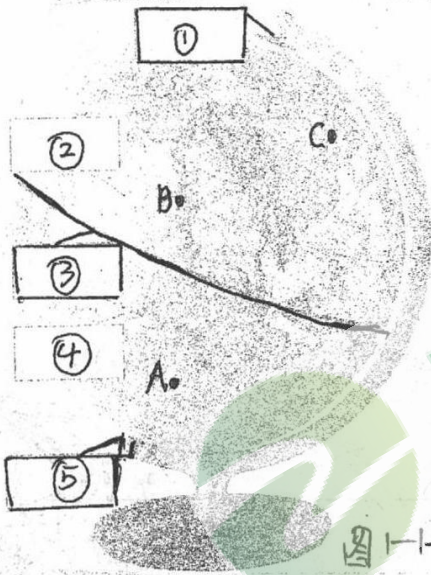


图1-1-2

2. 读图1-1-2, 完成下列各题。(每空2分)

(1) 在序号后面填上北极、南极、赤道

① _____ ② _____ ③ _____

(2) 以 _____ 为界, 以北称为 _____ 半球, 以南称为 _____ 半球, 从20° W向西至160° E为 _____ 半球, 从20° W向东至160° E为 _____ 半球。

(3) 图中A、B、C三点中, _____ 点位于南半球, _____ 点位于低纬度,

3. 读图1-1-5, 联系所学知识, 完成下列各题。(每空2分)

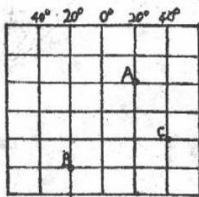


图1-1-5

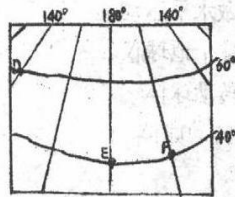


图1-1-5



图1-1-5

(1) 写出图中各点的经纬度。

A: 20° N, 20° E B: _____ C: _____ D: _____

E: _____ F: _____

(2) 判断C、D、E、H四点所在的半球。

C: 南半球、东半球 D: _____ E: _____

