

道德与法治试卷

姓名 _____ 准考证号 考场号 座位号

- 考生须知**
1. 本试卷共 8 页，共两部分，共 20 题，满分 70 分。考试时间 70 分钟。
 2. 在试卷和草稿纸上准确填写姓名、准考证号、考场号和座位号。
 3. 试题答案一律填涂或书写在答题卡上，在试卷上作答无效。
 4. 在答题卡上，选择题用 2B 铅笔作答，其他试题用黑色字迹签字笔作答。
 5. 考试结束，将本试卷、答题卡和草稿纸一并交回。

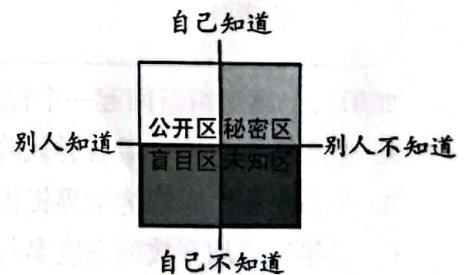
第一部分

本部分共 15 题，每题 2 分，共 30 分。在每题列出的四个选项中，选出最符合题目要求的一项。

1. 历经 7 年艰辛努力，北京冬奥会、冬残奥会胜利举办，举国关注，举世瞩目。北京冬奥会、冬残奥会广大参与者珍惜伟大时代赋予的机遇，在冬奥申办、筹办、举办的过程中，共同创造了北京冬奥精神。这一精神就是
 - A. 追逐梦想、勇于探索、协同攻坚、合作共赢
 - B. 胸怀大局、自信开放、迎难而上、追求卓越、共创未来
 - C. 生命至上、举国同心、舍生忘死、尊重科学、命运与共
 - D. 上下同心、尽锐出战、精准务实、开拓创新、攻坚克难、不负人民
2. 我们守护生命，既要爱护身体，又要养护精神。下列选项体现充盈精神世界的是
 - ①居家学习期间注意规律作息，适当锻炼
 - ②在学校的组织下一起收看“天宫课堂”
 - ③参加应急逃生演练，掌握自护自救技能
 - ④参加“书香中国·北京阅读季”主题活动

- A. ①② B. ①③ C. ②④ D. ③④

3. 认识自己很重要。右图启示我们
 - ①他人评价是认识自己的一面镜子
 - ②公开自己的秘密才能被别人接纳
 - ③我们需要不断地探索和发现自己
 - ④扩大盲目区有利于全面认识自己



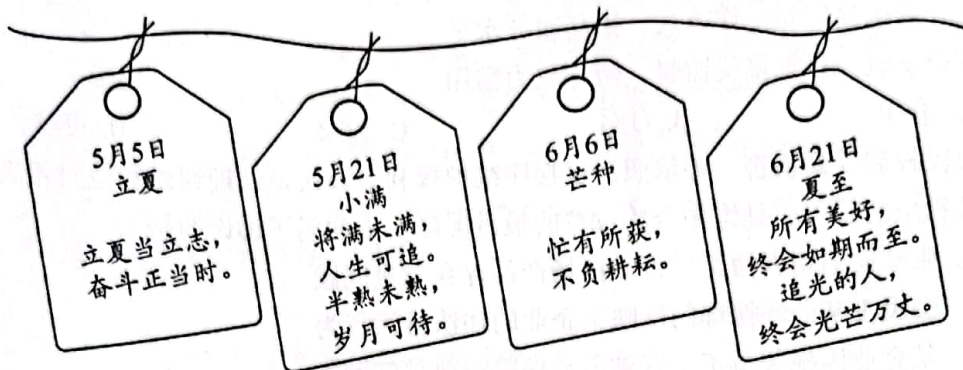
- A. ①③ B. ①④ C. ②③ D. ②④



4. “非淡泊无以明志，非宁静无以致远。”“非学无以广才，非志无以成学。”诸葛亮在《诫子书》中对儿子的这些教诲告诉我们

- ①宽以待人，设身处地为他人着想 ②修身养性，明确自己的人生志向
③聆听教诲，做到唯父母之命是从 ④发奋学习，提升个人能力和智慧
- A. ①③ B. ①④ C. ②③ D. ②④

5. 一位老师每逢节气都会给学生写寄语，下面是其中的一部分。



此举体现了

- ①循循善诱，诲人不倦 ②因循守旧，固守传统
③以文化人，润心启智 ④尊师重教，教学相长
- A. ①③ B. ①④ C. ②③ D. ②④

6. 神舟十四号乘组的一位航天员说，作为战友，我们朝夕相处、并肩作战，共同经历了12年的学习和训练。我们是使命共同体、责任共同体、荣誉共同体。感谢教育培养我的广大科技人员，感谢航天员大队的全体战友。对这段话理解正确的是

- ①在集体中应尊重和保护个人利益 ②勇于担当，维护集体荣誉和利益
③共同愿景引领集体成员团结进取 ④美好集体应善于合作，敢于竞争
- A. ①③ B. ①④ C. ②③ D. ②④

7. “先看病，先拿药，后支付。”北京某区推出信用医疗服务，市民可以凭借自己的“信用”在一定额度内，免除挂号、检查、检验、取药等多环节的排队缴费流程，实现医疗付费“零排队”。市民在医疗场景下的守信、失信记录会上传至全市公共信用信息服务平台。信用医疗服务的实施

- ①方便市民就医，增进社会互信 ②说明企业诚信经营才能够赢得客户
③引导市民珍惜个人的信用记录 ④表明恪守诚信与保护隐私是对立的
- A. ①② B. ①③ C. ②④ D. ③④

8. “国家通过各种途径，创造劳动就业条件，加强劳动保护，改善劳动条件，并在发展的基础上，提高劳动报酬和福利待遇。”“劳动是一切有劳动能力的公民的光荣职责。”我国宪法的这些规定说明

- A. 应先行使权利后履行义务 B. 放弃权利就可以不履行义务
C. 权利和义务是完全对等的 D. 有的权利同时也是义务



9. 某派出所民警是全国公安系统英模代表，她负责的辖区内居民老龄化程度较高，80岁以上的老人占17%。为了保护老人的生命财产安全，她带领同事们推行邻里守望、结对子等工作机制，通过一键式呼救等方式为老人提供生活便利和安全保障。材料体现了

- ①公安机关用忠诚担当守护百姓安宁幸福
- ②协助和配合公安机关工作是公民的权利
- ③公安机关创新工作方式，提高服务水平
- ④公安机关自觉接受监督，防止权力滥用

A. ①③ B. ①④ C. ②③ D. ②④

10. 公民权利受到损害，要依照法定程序维护权利。诉讼是处理纠纷和应对侵害最正规、最权威的手段，是维护合法权益的最后屏障。下列属于诉讼的是

- A. 张某向消费者协会投诉某商场产品存在质量问题
- B. 市民王某向环保部门反映某企业的违法排污行为
- C. 某企业因拖欠员工工资被劳动保障行政部门调查
- D. 人民法院就郑某某侵害他人名誉权一案进行审理



上图中的“一规划两纲要”，共同构建起新时代中国特色社会主义法治建设的顶层设计，描绘了一幅更加恢宏的法治画卷。在实现中华民族伟大复兴的进程中，坚定不移地走法治道路，要求

- ①公民自觉守法、严格执法，维护社会公平正义
- ②坚持法治国家、法治政府和法治社会一体建设
- ③实行良法善治，因为有了法律制度就有了法治
- ④行政机关的各项权力都应该在法治轨道上运行

A. ①② B. ①③ C. ②④ D. ③④

12. “仓宝”是2022年联合国中文日暨中央广播电视总台第二届海外影像节的数字虚拟形象。“仓宝”的名字来源于传说中的中华文字始祖仓颉的“仓”字。它身背甲骨文小书包，头戴中国传统斗笠，携带一支“神笔”，记录美好。“仓宝”这一形象



- ①意在学习和借鉴优秀外来文化
- ②体现了中华文化源远流长
- ③有助于让世界更好地了解中华文化
- ④表明传统文化和数字技术相结合才能得到传承

A. ①② B. ①④ C. ②③ D. ③④



13. 2021年10月，中央人大工作会议在北京召开。这是在党的历史上、人民代表大会制度历史上第一次以“中央人大工作会议”为名召开的会议。这次会议为加强和改进新时代人大工作指明了方向。加强和改进新时代人大工作

- ①要加强中国共产党对人大工作的全面领导
- ②要充分发挥人大代表作用，密切与人民群众的联系
- ③要求人民代表大会履行政治协商、民主监督和参政议政的职能
- ④要求人民代表大会作为最高国家权力机关，统一行使国家权力

A. ①② B. ①③ C. ②④ D. ③④

14.



上图中的两张照片间隔60年，拍摄的是塞罕坝林场的同一地点。经过三代林场人的艰苦奋斗，塞罕坝已成为中国生态文明建设范例，林场建设者被联合国环境规划署授予“地球卫士奖”。塞罕坝从“一棵树”到一片林海的巨变

- ①为世界可持续发展提供了可借鉴的宝贵经验
- ②说明人类应该避免对自然进行开发和利用
- ③体现了我国自然资源丰富，总量大，种类多
- ④说明我国坚持绿色发展，追求人与自然和谐共生

A. ①② B. ①④ C. ②③ D. ③④

15.

- 90后的她赴老挝对当地学员进行货运培训，与海关、客户对接货运工作，为中老铁路客货两旺、惠及民生作出了贡献。
- 他作为青年技术专家，前往中非共和国推广菌草技术，带动当地农户了解 and 种植菌草。当地人也把菌草称作减贫致富的“幸福草”。
- 80后的他在阿拉伯半岛参加中沙联合考古队，双方队员交流技术、学习彼此的语言和文化。他们的考古发现为海上丝绸之路学术研究提供了珍贵的实物资料。

如果给上述这组新闻起一个标题，最恰当的是

- A. 当今世界，面临着各种风险与挑战的考验
- B. 合作共赢，中国为世界提供更广阔的市场
- C. 青年以更加开放的态度参与全球规则制定
- D. 为推动构建人类命运共同体贡献青春力量



第二部分

本部分共5题，共40分。


16. (6分) 让公益走进生活。

某校公益服务社团开展了丰富多彩的活动。课余时间，在图书馆整理图书。周末，在公园宣讲节能环保知识。节假日，去敬老院陪老人聊天。寒暑假，在小区垃圾桶前值守，引导居民对垃圾科学分类；到博物馆做志愿者……

“虽然会花费一些时间和精力，有时也有点累，但让我懂得了做一件事需要坚持！”“在帮助别人的同时，我学到了很多，也感到很开心。”“得到别人表扬，我感到很自豪。”回顾参加过的公益活动，同学们感到有付出更有收获。

结合材料或生活体验，运用所学，说明参加公益活动有什么收获。

17. (6分) 生活中，人们对尊重的认识和感受是多样的。



运用所学，谈谈你对尊重的理解。



18. (8分) 某校组织“学宪法 讲宪法”系列活动, 请你参与其中。

活动一 知识竞赛中, 有这样一道竞答题。

竞答题

宪法的生命在于实施, 宪法的权威也在于实施。保障宪法实施就要坚持依宪治国, 加强宪法监督。加强宪法监督, 既需要完备的制度措施, 更需要人们增强宪法意识。

请列举我国增强宪法意识的一项重要举措。

(1) 根据题目要求作答。(2分)

活动二 演讲比赛前, 一位同学撰写演讲稿。

尊敬的各位评委、老师, 亲爱的同学们:

大家好! 今天我演讲的主题是“人民宪法为人民”。

1954年9月20日, 第一届全国人民代表大会第一次会议通过了《中华人民共和国宪法》, 这是中华人民共和国成立后制定的第一部宪法。

1982年12月4日, 是我国现行宪法诞生的日子。那一天, 第五届全国人大五次会议以无记名投票表决的方式高票通过了宪法修改草案。表决结果宣布时, 人民大会堂内掌声经久不息。这是新中国第四部宪法, 是符合国情、符合实际、符合时代发展要求的好宪法, 是保证人民创造幸福生活的好宪法。

在这部宪法诞生过程中, 宪法修改委员会多次广泛征询意见, 发动和组织广大群众进行全民讨论。全国80%左右的成年公民参加了讨论, 台湾同胞、港澳同胞、海外侨胞也参加了讨论。人民群众参与的热情万分高涨, 热议浪潮持续了整整四个月。

你问我宪法的根基是什么, 我会说宪法的根基在于人民发自内心的拥护。你问我宪法的伟力是什么, 我会说宪法的伟力在于人民出自真诚的信仰。凸显人民的尊严和价值, 表现着宪法颁行的意义。尊重人民、关怀人民、爱护人民, 是宪法不懈的追求。

如果让我对上面的内容进行总结, 我会用这样几句话, 那就是……

(2) 对上述演讲稿内容进行续写。(6分)

要求: 围绕演讲主题, 运用所学, 简明扼要。



19. (8分) 继“西电东送”“西气东输”工程后,我国启动了“东数西算”工程。某班同学围绕这三大工程开展研究性学习。

材料一 下面是同学们收集的部分资料。

“西电东送”工程

开工时间: 2000年11月。

工程简介: 这项工程把西部丰富的煤炭、水能资源转化成电力输送到东部沿海地区, 不仅将西部的资源优势转化成经济优势, 带动了西部地区相关产业发展, 也有力支援了我国东部地区日益增长的电力需求。

“西气东输”工程

开工时间: 2002年7月。

工程简介: 这是中国线路最长、供应覆盖面积最大、受益人口最多的天然气管道工程。自正式投产以来, 已累计输送天然气超7000亿立方米, 既为东部人民的生产生活提供了清洁能源, 又增加了西部地区的经济收入, 也改善了管道沿线地区人民生活质量。

“东数西算”工程

启动时间: 2022年2月。

工程简介: “数”指的是数据, “算”指的是算力, 即对数据的处理能力。“东数西算”工程是指在我国西部地区发展数据中心承接东部算力需求, 它在优化数据中心建设布局的同时, 也给西部发展开辟新路。根据2021年9月发布的《中国算力发展指数白皮书》显示, 每1元的算力投入, 可以带动3~4元的经济产出。

材料二 下面是一位同学设计并填写的学习任务单。

工程	不同点	相同点
西电东送	调配的是电力资源。	数字时代, 算力同电力、天然气一样, 都是不可或缺的资源。它们都是为了解决_____而实施的战略工程。
西气东输	调配的是天然气资源。	
东数西算	调配的是数据、算力。	

(1) 从下列选项中选择最恰当的一项, 填写在学习任务单的横线上。(填写选项前的字母即可, 2分)

- A. 城乡发展不平衡不协调 B. 城镇化水平不高 C. 区域发展不平衡

(2) 运用所学, 说明实施这些工程有什么重要意义。(6分)



20. (12分) 踔厉奋发这十年，我与时代共成长。

材料一 滴水之晶，折射出太阳的光辉。党的十八大以来，中国特色社会主义进入新时代。新时代的伟大成就反映在社会生活的各个领域，发生在每个人的身边。

市民甲：我经常吃的药，最近列入了医保目录，每个月能省不少钱。现在社区医院也能用医保卡了，方便了很多。

市民乙：现在去政府部门办事越来越便捷了。我办理企业营业执照，登记材料齐全，一次就办好了。

市民丙：现在购买进口商品的渠道更多了，价格也越来越亲民，我们不仅“卖全球”，同时也在“买全球”。

(1) 运用所学，从材料一中任选两位市民的感受，说明其折射出的国家发展变化。(4分)

材料二 实现人民对美好生活的向往，构成中国过去十年发展最显著的逻辑主线，这也将成为中国未来发展道路上始终锚定的目标。

(2) 运用所学，说明党和国家为什么要以“人民对美好生活的向往”为奋斗目标。(4分)

材料三 青春向党，心系祖国。我们生于伟大的祖国，欣逢伟大的时代。身后是先辈希冀的目光，前方是民族托付的希望。我们脚踏祖国大地，意气风发走在实现中华民族伟大复兴的大路上。

(3) 畅想未来，谈谈如何锻造更好的自己。(4分)

