

2023 北京海淀初一（下）期末

历史

2023. 07

第一部分

本部分共 24 小题，每小题 2 分，共计 48 分。每小题所列的四个选项中，只有一个是符合题意的。

1. 《陈书·后主纪》载，589 年，陈后主的军队战败，“城内文武百司皆遁出……及夜，（后主）为隋军所持”，该记载可用来说明隋朝

- A. 统一全国的过程
- B. 炀帝穷兵黩武
- C. 发展经济的措施
- D. 农民起义频发

2. 隋唐时期，位于淮水沿岸的泗州、楚州（如右图）城市规模不断扩大，经济日益繁华，成为重要的商业城市。这些城市的发展得益于



- A. 政治中心确立
- B. 大运河的修建
- C. 市舶司的设置
- D. 白银普遍流通

3. 贞观元年，某宫禁监门校尉因未发觉长孙无忌佩刀入宫而被判处死刑，长孙无忌则被判罚铜 20 斤。大臣戴胄认为这样判决有违公平，并反复劝说太宗改变判决结果。最终，太宗听从建议，免除了监门校尉的死罪。这一事件的处理体现出唐太宗

- A. 以史为鉴
- B. 勤于理政
- C. 虚怀纳谏
- D. 居安思危

4. 有关唐朝的史事和结论，对应正确的是

序号	史事	结论
①	唐朝统治者鉴于隋炀帝“渠天下以从欲，罄万物以自奉”，认为一个政权过分暴虐，就会被人民推翻	唐初注重吸取隋亡的教训
②	唐太宗为解决耕畜不足，与突厥等开展贸易，换取大量牛马用于耕田。	增加劳动生产力
③	唐太宗把各地都督、刺史的名字写在宫内屏风上，随时记其功过，以备奖惩。	首创科举制选任地方官吏
④	武则天创立殿试制度，亲自面试考生，不拘一格选拔人才。	扩大统治基础

- A. ①②③
- B. ①②④
- C. ①③④
- D. ②③④

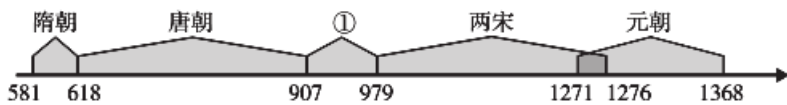
5. 诗史互鉴是研究历史的重要方法。以下诗句能帮助我们了解唐玄宗统治下盛世气象的是

- A. 尽道隋亡为此河，至今千里赖通波
- B. 王师北定中原日，家祭无忘告乃翁
- C. 忆昔开元全盛日，小邑犹藏万家室
- D. 待到秋来九月八，我花开后百花杀

6. 756 年，唐玄宗听闻潼关陷落，仓皇西走，行至马嵬坡时，杀杨国忠并赐死杨贵妃平息兵士愤怒，最后进入成都避难。导致唐玄宗“巡幸”蜀地的是

- A. 安史之乱
- B. 藩镇割据
- C. 黄巢起义
- D. 靖难之役

7. 下图为中国古代历史时序示意图（局部），其中①处应为



A. 魏晋南北朝 B. 五代十国 C. 明朝 D. 清朝

8.北宋中期，政府官体和军费开支巨大，财政入不敷出，在 1065 年财政亏空竟达 1572 万贯。为解决以上问题，宋朝采取的措施是

A. 设置副宰相分割宰相的权力 B. 地方各州府设置通判
C. 解除禁军高级将领的统兵权 D. 任用王安石进行变法

9.以下连环画所反映的历史事件，按时间排序正确的是



①《澶渊之盟》 ②《李自成起义》 ③陈桥兵变 ④岳飞抗金

A. ①③②④ B. ①③④② C. ②①③④ D. ③①④②

10. 右图为女真进士题名碑（局部）。碑文字体方正，是女真政权仿照汉字革新的一种文字。该题名碑可用来研究



A. 耶律阿保机统一各部 B. 沟通中西的丝绸之路
C. 民族政权间文化交流 D. 元昊创制了西夏文字

11. 1141 年，宋高宗遣使与北方某民族政权订立盟书，约定以淮水至大散关一线划定分界线，此后南宋每年供奉岁币，并“谨守臣节”。材料中的“北方某民族政权”指的是 A. 辽 B. 西夏 C. 金 D. 蒙古汗国

12. 某历史公众号准备推送一期专题—宋代经济的发展。下列各项可以放进专题资源包的是

①视频：《推广种植占城稻》 ②地图：《宋代海外贸易图》
③绘画：《清明上河图》 ④书籍：《红楼梦》

A. ①②③ B. ②③④ C. ①③④ D. ①②④

13. 宋代，人们发现“以磁石磨针锋”能将钢针人工磁化，与这一发现相关的是

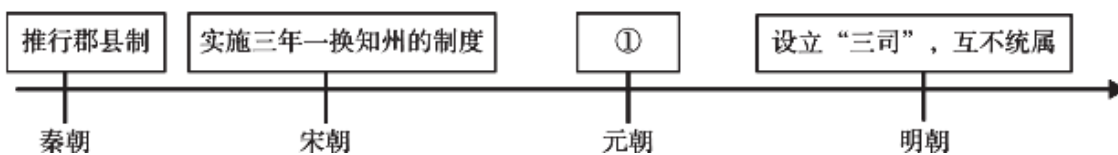
A. 火药用于军事 B. 造船时安装指南针 C. 活字印刷术的发明 D. 造纸术传播到西方

14. 右侧材料是我国古代一位历史人物的部分经历，这位历史人物是

- 统一蒙古各部，建立蒙古政权
- 建立军事、行政和生产相结合的制度
- 组建护卫军，创制蒙古文字
- 率领军队进攻西夏

A. 完颜阿骨打 B. 铁木真 C. 努尔哈赤 D. 皇太极

15. 观察示意图，图中①处应填的是



A. 完善三省六部制度 B. 在地方推行行省制
C. 派节度使镇守边地 D. 设军机处强化君权

16. 明代学者黄宗羲评论明代科举制度，认为举子们追求应试的学问，“心思耳目，俱用于揣摩剽袭之中”，

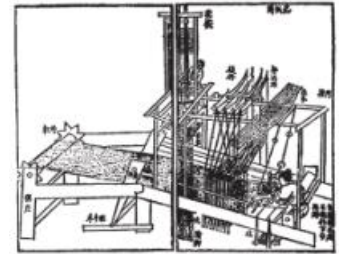
而有关兵、农、礼乐及“切于民生日用”的实用书籍，却“荡为荒烟野草”。黄宗羲的评论旨在

- A. 揭露八股取士的弊端
- B. 强调中央对地方加强管理
- C. 呼吁政府刊刻实用书籍
- D. 要求提高知识分子的地位

17. “三百年来，我华夏，威风久歇。有几个，如公成就，丰功伟烈。拔剑光寒倭寇胆，拨云手指天心月。到于今，遗饼纪征东，民怀切。”郁达夫的这首《满江红·三百年来》称颂的是

- A. 玄奘西行
- B. 鉴真东渡
- C. 戚继光抗倭
- D. 郑和下西洋

18. 右图是历史学习小组策划“明清科技展”时找到的图片，该图片可能出自



提花机图

- A. 《大唐西域记》
- B. 《资治通鉴》
- C. 《天工开物》
- D. 《本草纲目》

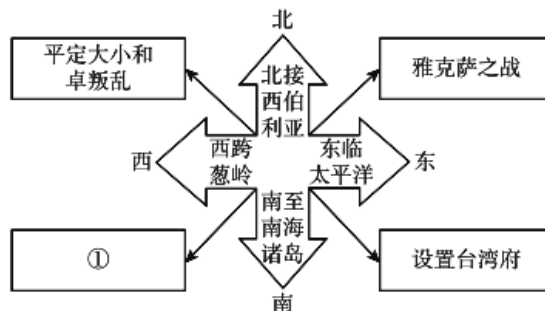
19. 明朝末年，陕西发生严重的自然灾害，当地百姓“剥树皮以为食……树皮又尽矣，则又掘其山中石块而食”，而地方官员却依然严征苛捐杂税。于是侥幸活下来的百姓“转相为盗”。这一材料反映明末

- A. 阶级矛盾尖锐
- B. 政府机构瘫痪
- C. 边防危机四起
- D. 大臣结党营私

20. 郑成功收复台湾之战，使台湾回到了祖国的怀抱。这场战争

- A. 开辟了通向印度洋的新航线
- B. 加强了西域的管理
- C. 防御了北方蒙古贵族的袭扰
- D. 打败了荷兰殖民者

21. 时空观念是了解和理解历史的基础。以下示意图中①处可填



- A. 设置宣政院
- B. 设置伊犁将军
- C. 平定噶尔丹叛乱
- D. 设置驻藏大臣





22. 右图为乾隆 33 年云南布政使司颁发给农民沙立目的开荒执照，

该执照记录了沙立目开垦荒地的边界“四至”，以及政府对这块土地免除赋税的承诺。这一文物可用来说明清代



- A. 鼓励边远地区的开发
- B. 厉行闭关锁国的政策
- C. 实行文化专制的统治
- D. 加强交通系统的建设

23. 以下图片反映出的历史主题是

			
唐开元通宝	背诵纸币铜版拓片	明《南都繁会图》	清《盛世滋生图》

A. 建筑风格的演变 B. 古代商业的发展 C. 冶金水平的提升 D. 对外交往的深入




24. 下列选项中，对明清时期历史阶段特征概括准确的是

- A. 早期国家与社会变革 B. 统一多民族国家的建立
C. 政权并立与民族交融 D. 统一多民族国家的巩固与发展

第二部分 本部分共 3 题，共 52 分。

25. (19 分) 统一多民族国家的发展

材料一 以下是反映我国历史上民族交往、交流的一组材料。

		
①现藏于新疆维吾尔自治区博物馆的《彩绘骑马戴帷帽仕女泥俑》，出土于唐代墓葬，其所戴帷帽本是一种少数民族帽饰，类似现在的风帽，后从西域传到中原，深受贵族妇女的喜爱。	②中国长城博物馆的现代绘画《茶马互市图》(局部)，呈现了我国古代北部和西北部少数民族，在长城沿线用马匹及畜产品与汉族人民换取茶叶、铁器等生产生活用品的场景。	③现藏于故宫博物院的蒙古族腰刀，是 1771 年土尔扈特部领袖渥巴锡觐见乾隆皇帝时敬献的礼物。土尔扈特部回归祖国的行为深深触动乾隆皇帝，乾隆皇帝拨给他们大量物资，助其重建部落。

(1) 以上材料中，属于实物史料的是 _____ (填写序号，多写、错写不得分，2 分)

(2) 阅读材料，完成以下表格。(5 分)

材料	材料关键信息	得出观点	归纳主题
①	唐朝中原妇女佩戴来自西域的帷帽	服饰文化上中原受西域影响	D
②	A	B	
③	C	情感上的相互认同	

材料二 宋朝在雄州、霸州等地设置榷场，由朝廷派官员专掌贸易。宋人认为，每年虽然输出岁币“银绢五十万两之数”，但是“以我所不急，易彼所珍藏，岁相乘除，所失无几”。榷场贸易促进了双方经济文化的交流，民间贸易也随之发展。马匹、粮食、图书以及用于火药生产的硫黄、硝石等通过民间贸易，源源不断地流入对方境内。中国多民族共同体在形成的过程中，逐步摆脱了狭隘的民族观，培育出多民族之间血肉联系的共同体观念即中华民族观。

——摘编自漆侠主编《辽宋西夏金代通史·社会经济卷》

(3) 依据材料二，指出榷场贸易的影响。(6 分)

材料三 建成于 1792 年的避暑山庄地处中原农耕文化和草原游牧文化过渡地带，是清朝的第二个政治中心。

别州……经行其所取之道时行二十五 哩，使臣即见有驿，其名曰站 赤。每驿有一宽大而富丽之邸，使臣住宿于此……此种驿站备马，每 站有多至四百匹者……特供大汗使臣之用，驿邸逾万所……其事之 奇，其价之巨，非笔墨所能形容者也。 —摘自《马可·波罗游记》	人迹所及，皆置驿传， 使驿往来，如行国中。 ——《元史·地理志》
---	--

(2)《元史·地理志》中对驿站的描述，与《马可·波罗游记》中的相关记载能起到_____作用。

(A. 证实; B. 证伪。填写选项即可，填错、多填不得分，2 分)。结合所学，分析元代驿站对政治、经济和文化发展的作用。(5分)

材料三明朝时，为商人服务的交通、经商指南一类的书籍纷纷刊行。安徽商人黄汁青年时 随父外出经商，足迹遍及大江南北，他编著的《明一统路程图记》，对全国各地道路的起讫分合、 距离、水陆驿站名称详细介绍，成书后一再重印，广为流传。下为《明一统路程图记》的部分摘录：

卷目	内容摘要(译文)
卷一“北京至陕西四川路”目	从顺天府出发，行四十里到卢沟河，三十里到良乡县……可达陕西布政司管辖的西安府
卷三“成都西南至会川卫路”目	建昌一地盛产质量较好的杉枋板(注：一种建材)
卷六“扬州府至山西平阳府路”目	清化以西没有强盗，夜间也可以赶路
卷七“大江上水由洞庭湖东路至云贵”目	南京上新河商人聚集……卖柴炭和木材的商人在这里缴纳商税

——摘编自吴晓萍《徽商的途程观念》等

(3)依据材料三并结合所学，从《明一统路程图记》内容和成书的时代背景两个角度，谈谈你 对该书能够广为流传的认识。(6分)

参考答案

第一部分

1	2	3	4	5	6	7	8	9	10
A	B	C	B	C	A	B	D	D	C
11	12	13	14	15	16	17	18	19	20
C	A	B	B	B	A	C	C	A	D
21	22	23	24						
D	A	B	D						

第二部分

25. (1) ①、③ (一个1分, 共2分)

(2) (共5分)

材料	材料关键信息	得出观点	归纳主题
①			D. 民族交融 (1分)
②	A. 长城沿线汉与少数民族间茶马互市 (1分)	B. 民族经贸往来 (1分)	
③	C. 土尔扈特部万里东归; 乾隆皇帝助其重建部落 (2分)		

(3) 弥补了宋朝岁币的财政支出; 推动了辽宋民间贸易的发展; 促进辽宋间经济(物资)交流、文化交流(宋代先进科技传播); 有助于中华民族观的形成。(6分, 每点2分)

(4) 选址上, 地处农耕和游牧文化过渡地带; 景观上, 是中国自然地理和自然景观的缩影; 布局上, 外八庙以避暑山庄为中心, 呈现出众星拱月的布局; 体现出民族团结、国家统一和专制主义中央集权的政治理念;(6分, 每点2分)

26.

(1) 表现: 酒店类型齐全, 档次多样; 特色美食众多; 行业内部有细致的分工, 服务完善;(4分, 每点2分) 原因: 城市人口众多; 宋代商品经济繁荣; 政府对商业的束缚较小。(4分, 每点2分)

(2) 统治者的重农思想; 吸收先进稻种技术、颁布指令推广种植; 修建水利工程; 京西稻本身品种优良; 利用永定河古河道的自然条件展开试种。(8分, 每点2分)

27.

(1) 目的: 吸收唐朝先进的文化;(2分) 影响: 将唐朝先进制度、技术、文化典籍传回日本, 推动日本社会发展; 扩大了唐文化的影响力; 促进了中日之间的文明交流。(2分)

(2) A;(2分) 驿站便利了官府文书的传递, 提高行政效率, 有利于巩固统一; 推动了各地之间的交通往来; 便利了各地间经济和文化的沟通; 有利于边疆的开发; 有利于扩大对外交往;(5分, 2+2+1)

(3) 明代时, 商品经济活跃, 长途贩运下商帮出现, 人们对通商和经商类书籍有客观需要; 印刷技术改进, 便利了书籍的流传;(3分) 《明一统路程图记》对明代交通、社会治安、地方特产、缴税地点等做了

细致的介绍，符合当时的社会需要。因此，该书能够在明代广为流传。（3分）