



燕山地区 2021 届初三年级一模考试

历史试卷

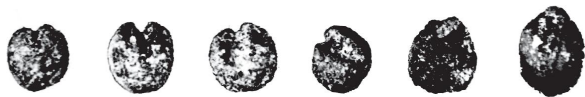
2021 年 4 月

- | | |
|------|--|
| 考生须知 | <ol style="list-style-type: none">1. 本试卷共 12 页，24 道小题，满分 70 分。考试时间 70 分钟。2. 在试卷和答题卡上准确填写学校名称、姓名和教育 ID。3. 试题答案一律书写在答题卡上，在试卷上作答无效。4. 在答题卡上，选择题用 2B 铅笔作答，其他试题用黑色字迹签字笔作答。5. 考试结束，将本试卷、答案卡和草稿纸一并交回。 |
|------|--|

第一部分 选择题（共 40 分）

本部分共 20 小题，每小题 1.5 分，共 30 分。在每小题列出的四个选项中，选出最符合题目要求的一项。

1. 右图是位于北京门头沟区东湖林遗址中出土的炭化的粟和黍，农作物的种植是原始农业兴起和发展的重要标志之一。除了粟和黍外，我国最早的人工栽培的农作物还有：



东湖林遗址出土的炭化粟和黍

- A. 水稻 B. 玉米 C. 小麦 D. 花生
2. 著名历史学家许倬云在论述某个历史王朝时指出：该王朝建立了中国古代真正的霸权。一则确立了完整的中国文字书写系统。二则，建构了复杂的国家组织。这个王朝是：
- A. 夏朝 B. 商朝 C. 西周 D. 秦朝
3. 中国古代政治制度经历了多次演变，下列选项中能体现由分封制到中央集权制度变化的是：
- A. “三家分晋”到“秦王扫六和” B. “桐叶封弟”到“烽火戏诸侯”
- C. “封建亲戚，以藩屏周”到“聚邑为县，置令丞” D. “废井田，开阡陌”到“车同轨，书同文”
4. 流失海外近一个世纪（1924 年流失）的山西太原天龙山石窟第 8 窟北壁主尊佛首（见右图），作为 2020 年回归祖国的第 100 件流失文物，亮相中央广播电视总台春节联欢晚会。该文物所属的宗教是：



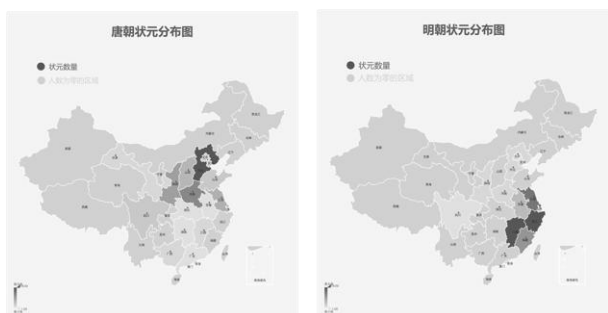
- A. 道教 B. 伊斯兰教 C. 基督教 D. 佛教

5. 维护国家统一是中华民族的根本利益所在。下列属于元朝维护国家统一的措施有

- ①设置宣政院管理西藏 ②设置驻藏大臣 ③设置澎湖巡检司管辖台湾 ④平定大小和卓叛乱

- A. ①② B. ②③ C. ①③ D. ②④

6. 下图是唐朝、明朝全国状元分布示意图，导致分布变化的原因是：



- A. 南方安定的环境 B. 北方长期战乱
C. 明朝重文轻武的政策 D. 经济重心的南移

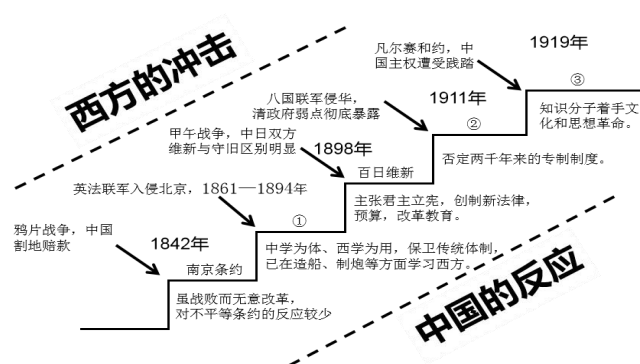
7. 右图是某历史小组制作的历史展板。根据展板内容，结合所学， 展板中的①处历史人物是：

- A. 老子 B. 孟子
C. 墨子 D. 韩非子

8. 对历史史实进行比较，是提高学习效果的一种方式。《南京条约》、《马关条约》与《辛丑条约》相比，内容都涉及：

- A. 割地 B. 赔款 C. 开埠通商 D. 投资办厂

9. “冲击—反应”曾是国内外史学界解释中国近代历史的模式之一。有人据此图（见右图） 揭示中国近代历史变迁。结合所学，在①②③处应该是：





- A. ①太平天国运动 ②辛亥革命 ③新文化运动
- B. ①洋务运动 ②义和团运动 ③新文化运动
- C. ①洋务运动 ②辛亥革命 ③新文化运动
- D. ①太平天国运动 ②义和团运动 ③辛亥革命

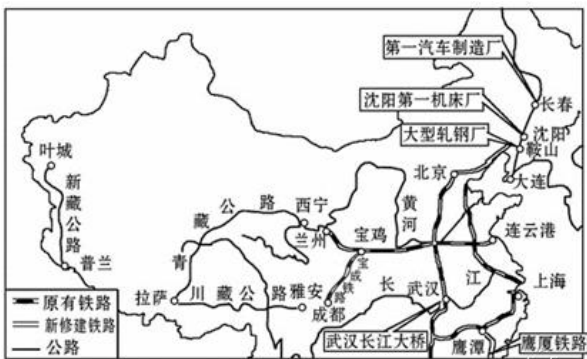
10. 学习历史需要正确区分史实与观点并认识二者之间的关系。下列属于历史观点的是：

- A. 1919 年的五四运动是一场彻底的反帝反封建的伟大爱国革命运动
- B. 1924 年 1 月国民党“一大”召开，国民党同意共产党员以个人身份加入国民党。
- C. 1927 年 10 月毛泽东率领起义部队，创建了井冈山革命根据地。
- D. 1936 年 10 月红军三大主力会师。

11. 罗斯福在评价中国抗日战争时说：假如没有中国，假如中国被打垮了，你想一想有多少个师团的日本兵，可以调到其他方面来作战，他们可以马上打下澳洲，打下印度……他们可以毫不费力地把这些地方打下来，他们并且可以一直冲向中东。下面是对罗斯福的评价的理解正确的是：

- A. 中国是世界反法西斯战争的领导核心 B. 中国拖住了日本军队没有像其他国家侵略
- C. 中国是唯一和日本侵略者作战的国家 D. 中国为世界反法西斯战争做出了突出的贡献

12. 2014 年 8 月，习近平总书记就川藏、青藏公路通车 60 周年作出重要批示，要求进一步弘扬“两路”精神，助推西藏发展。右图是同时期的建设成就。川藏、青藏公路通车是：



- A. 一五计划时期 B. 社会主义建设时期
- C. “文革”时期 D. 改革开放时期

13. 下面科学家中为我国实现“两弹一星”的成功做出突出贡献的是：



- A. ①② B. ③④ C. ①③ D. ②④

14. 英国学者伯里在《思想自由史》中指出：“消散中世纪的黑暗而为最后理性的解放者作预备的理智和社会运动于十四世纪发端于意大利”。这场“社会运动”指的是：

- A. 工业革命 B. 新航路开辟
- C. 启蒙运动 D. 文艺复兴

15. 下面是选自《大国之道：世界性强国兴衰更替的逻辑》的目录：结合所学，下面目录中的①②代表的国家分别是：


①：光荣革命带来两个世纪的光荣
 法国：路易应当死，因为祖国必须生
 美国：创新制度一危机即转机

②：两次维新，两次新生

- A. ①英国 ②日本 B. ①意大利 ②日本
- B. ①英国 ②德国 D. ①德国 ②意大利

16. 下表反映了 1880-1920 年世界石油年产量的变化。下列哪一产品的应用影响了这一变化：

年份	1880	1900	1910	1920
产量（亿吨）	0.04	0.21	0.46	0.94



17. 列宁实施的“新经济政策”与罗斯福“新政”的相同点是：

- A. 都使国家性质发生了改变
- B. 都有利于本国经济的恢复与发展
- C. 都使资本主义制度得到调整和巩固
- D. 都为战胜法西斯奠定了基础

18. 美国历史学家帕尔默编著的现代世界史丛书，一共五本，04 卷名称为《两次世界大战（1914—1945 年）：西方的没落》，（见右图）结合所学下列内容属于该书范围的是：①法国大革命 ②凡尔赛—华盛顿体系 ③大危机和罗斯福新政 ④十月革命和苏联社会主义建设 ⑤冷战



- A. ①②③ B. ②③④ C. ③④⑤ D. ①④⑤

19. 揭示历史事件之间的因果关系，是历史学习的重要方法，下列因果关系正确的是：

选项	原因	结果
A	协约国与同盟国之间的矛盾冲突	第二次世界大战爆发
B	非暴力不合作计划	印度独立
C	斯大林格勒战役	德国陷入东西两个战场夹击之中
D	纳米比亚独立	非洲国家摆脱了殖民主义枷锁

20. 右图是主题为《“民主”推销员》的漫画。该漫画揭示了“冷战”结束后的美国



- A. 继续与俄罗斯争夺世界霸权 B. 按照自身价值观塑造世界
C. 推动世界格局的多极化 D. 成为了唯一的超级大国

第二部分 材料分析题（40 分）

21. （10 分）语言是人类观念和思想表达的工具，是文化的重要载体。阅读下列材料结合所学回答问题。

材料 1. 迁都洛阳之后，孝文帝改革的重点是改变鲜卑族原有的风俗习惯，进一步学习和采纳汉族的典章制度和生活方式，促进鲜卑族积极接受汉族文化。为此，……孝文帝宣布以汉语为“正音”，称鲜语为“北语”，要求朝臣“断诸北语从正音”。

——人教版选修 1《重大历史改革》

（1）根据材料 1 结合所学简述孝文帝“断诸北语从正音”的原因及影响。（2 分）

材料 2. 文艺复兴运动试图恢复拉丁文的荣光，但是地方语言在同一时期也获得了崭新的地位和尊重。1450 年代近代印刷术发明后，出版商把古典时期作家的著作印刷出版，可惜无人问津。之后，出版商用当地语言发行书籍或者把那些著作翻译出来，才使得读者市场扩大。……还有，宗教改革运动中，马丁路德把《圣经》翻译成德语并广泛传播，对新教徒而言，拉丁文不再是神圣事务的代表语言了。

——约翰·赫斯特著，席玉莘译《极简欧洲史》

（2）根据材料 2，简述拉丁语没能恢复荣光的原因。（2 分）

材料 3. 英国除了在殖民地强迫当地将英语成为官方语言外，工业革命使英国成为世界工厂。英国经济和技术的最先发展对英语的影响极为深远。新的科学发现和技术发明最先使英语词汇中增添了数以万计的新词汇。




非英语国家的人民要了解这些科学发现和技术发明，必须学习英语，而且要学好英语。否则，他们可能花费大量人力财力物力重复英国人的发明创造。

陈淑梅《英国工业革命与英语语言的发展》

(3) 根据材料 3，结合所学，概括推动英语在非英语国家推广的内外因素。(4分)

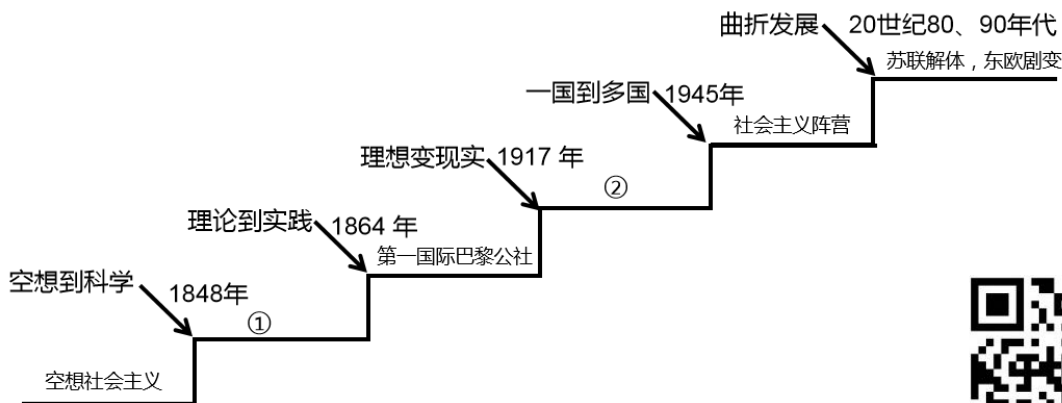
材料 4，下面是汉语逐渐走向世界示意图。



(4) 根据材料 4，结合所学，从①②③中任选一点，分析该点的时代背景。(2分)

22. (10分) 今年是中国共产党诞生 100 周年，阅读下列材料，结合所学，回答下列问题：

材料 1. 社会主义自产生以来已经走过 500 多年的历史，从空想到科学，从理论到实践，从运动到制度，社会主义在不断发展和演进中取得了丰硕的成果。下面是根据材料绘制的社会主义发展的示意图。



(1) 根据材料 1 结合所学，在①②处填写正确答案。

①人类历史上第一个无产阶级政权是：_____。(1分)

②人类历史上第一个无产阶级专政的国家是：_____。(1分)

材料 2. 不管最近 25 年来的情况发生了多大的变化，这个《宣言》中所阐述的一般原理整个说来直到现在还是完全正确的。某些地方本来可以作一些修改。这些原理的实际运用，正如《宣言》中所说的，随时随地都要以当时的历史条件为转移，所以第二章末尾提出的那些革命措施根本没有特别的意义。如果是在今天，这一段在许多方面都会有不同的写法了。由于最近 25 年来大工业有了巨大发展而工人阶级的政党组织也跟着发

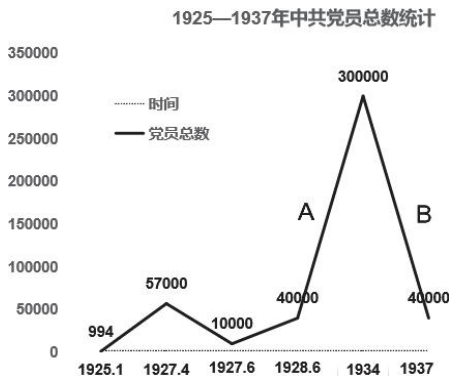


展起来，由于首先有了二月革命的实际经验而后来尤其是有了无产阶级第一次掌握政权达两月之久的巴黎公社的实际经验，所以这个纲领现在有些地方已经过时了。

——马克思、恩格斯 1872 年《共产党宣言》德文版序言

(2) 根据材料 2，结合所学，分析“这个纲领现在有些地方已经过时了”的原因。(2 分)

材料 3、下面是不同时期中共党员总数的发展变化示意图。



(3) 根据材料 3，结合所学从 A、B、C 三段中任选一段分析其变化的原因。(2 分)

材料 4.

历史事件	遵义会议（1935 年 1 月）	十一届三中全会（1978 年 12 月）
内容	集中全力纠正博古等人在军事上和组织上“左”的错误，肯定了毛泽东的正确主张，选举毛泽东为中央政治局常委，取消了博古、李德的军事最高指挥权。	全会冲破长期“左”的错误的严重束缚，确定了解放思想、开动脑筋、实事求是、团结一致向前看的指导方针，果断结束“以阶级斗争为纲”，重新确立了马克思主义的思想路线、组织路线，作出了把党和国家的工作中心转移到经济建设上来，实行改革开放的历史性决策。

(4) 根据材料 4 比较两次会议的相同点 (1 分) 任选一次会议，结合所学，分析其召开的历史背景。(1 分)

23. (10 分) 20 世纪以来，突如其来的大战催生了前所未见的外交努力，大国元首的艰难会谈成为推动历史前行的力量。数十亿人的命运，就在一次次冲突后的谈判中定下。

材料 1. 第二次世界大战、冷战、古巴导弹危机、越南战争、中东冲突……种种危机与转机的背后，是或成功或失败的斡旋，明智与不明智的妥协，战场和谈判场上的较量。……历史关键点上的绥靖、遏制、缓和、改变，塑造了我们如今生活的世界。

曾经，几个大国元首会面，就足以左右全世界人的命运。

- ① 1938 年，慕尼黑会议，主要参与者：张伯伦和希特勒
- ② 1945 年，雅尔塔会议，主要参与者：罗斯福、丘吉尔、斯大林密
- ③ 1961 年，维也纳会议，主要参与者：肯尼迪与赫鲁晓夫

④ 1972 年，莫斯科会议，主要参与者：尼克松和勃列日涅夫

⑤ 1985 年，日内瓦会议，里根和戈尔巴乔夫

——戴维·雷诺兹著《峰会：影响 20 世纪的六场元首会谈》

(1) 根据材料 1 的史实与已下观点相对应。(3 分。没空多选、少选、错选均不得分)

此后纳粹更加肆无忌惮，挑起第二次世界大战，导致生灵涂炭。_____

加速了二战的胜利，确立战后国际格局。_____

被称为破冰会晤，冷战走向和平结束。_____



材料 2. 1972 年 2 月 21 日，尼克松总统访问中国。周恩来总理前往机场欢迎。尼克松在其回忆录中写道：“当我们的手相握时，一个时代结束了，另一个时代开始了”（见右图）。在访问期间尼克松总统与毛泽东主席就中美关系正常化和双方共同关心的国际问题交换了意见。2 月 28 日，中美两国在上海发表了《中美联合公报》。公报指出：双方声明“任何一方都不应该在亚洲—太平洋地区谋求霸权。每一方都反对任何其他国家或国家集团建立这种霸权的努力”。“美国认识到，在台湾海峡两岸的所有中国人都认为只有一个中国，台湾是中国的一部分。美国政府对这一立场不提出异议。”

(2) 根据材料 2 概括《中美联合公报》的内容。(2 分)

(3) 结合所学谈谈你对“当我们的手相握时，一个时代结束了，另一个时代开始了”的理解。(2 分)

材料 3. 下面是国家主席习近平在 2020 年 11 月，从上合峰会到金砖会晤，从 APEC 会议到 G20 峰会上，提出的一些主张：

① 文明没有优劣之分，只有特色之别。我们要促进文明互学互鉴，增进各国睦邻友好，夯实上海合作组织长远发展民意基础。

② 大家一起发展才是真发展，可持续发展才是好发展。我们要秉持创新、协调、绿色、开放、共享的发展理念，拓展务实合作空间，助力经济复苏、民生改善。

③ 安全和稳定是国家发展的首要前提，关乎各国核心利益。我们要遵循共同、综合、合作、可持续的安全观，有效应对各类威胁和挑战，营造良好地区安全环境。

④ 新冠肺炎疫情仍在持续蔓延。病毒不分国界，团结合作是抗击疫情最有力的武器，全力挽救生命是当务之急。

(4) 根据材料 3 的史实与已下观点相对应。(3 分。没空多选、少选、错选均不得分)

加强抗疫合作，构建卫生健康共同体。_____

深化务实合作，构建发展共同体。_____

维护安全和稳定，构建安全共同体。_____



24. (10 分) 考察北京皇宫与民居

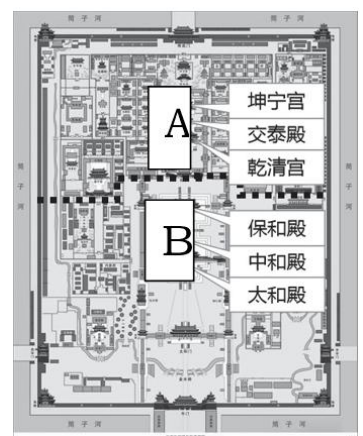
【搜集资料】

材料 1. 元朝末年，受到常年战乱的破坏，北京经济凋敝，人口减少，但是其政治、军事重要性却丝毫没有减弱。当时，明朝政权还没有完全稳定特别是在北方地区，退守到漠北的元朝残余势力一直想打回北京对明王朝构成了最大威胁。为了能更有效地组织力量，抵抗元朝残余势力的侵犯，明成祖朱棣决定将都城迁到北京，而南京则变成了陪都。

朱棣做燕王的时候在北京镇守经营二十余年，根基雄厚，对北方的地理人情也相当熟悉，定都在此自然更能巩固统治。朱棣在南京大肆残杀建文帝旧臣，激起了江南各界的强烈不满，朱棣深知稍有风吹草动，这些人可能会向他发难。而且建文帝一日未见，他的心头大患就一日未除。建文帝在南京根基深厚，朱棣更不愿在南京常呆。

(1) 根据材料 1 概括明成祖迁都北京的原因。(2 分)

材料 2. 故宫(见右图)建于北京城的中央。以南北为中轴线，座北朝南，充分体现了皇权至上的封建统治思想。在宫城外是皇城，皇城外又有北京城，城城包围，显示了森严的等级制度。故宫主要分为外朝和内廷两部分。外朝处于紫禁城外围，是皇帝办理政务、举行朝会的场所。在建筑布局上，外朝建筑以太和、中和、保和三殿为中心，前面有太和门，两侧又有文华、武英两组宫殿。外朝建筑高大森严，而内廷则是皇室主要成员生活的地方，位于故宫的后部，其主要建筑由乾清宫、交泰殿、坤宁宫、养心殿、御花园和两旁的东西六宫等宫殿群组成。内廷建筑则庭院错落，自成体系。前朝后寝，分工明确，不得随便逾越，体现了中国自古以来等级分明，内外有别的伦理观念。



(2) 结合材料 2，在故宫平面图的 A、B 处填上恰当的名称。(2 分)

材料 3. 北京四合院这一建筑形式(见右图)，受到儒家文化的影响，具有封性、保守性的特点。北京四合院，对内是统一的整体，反映了传统的长幼尊卑的礼教文化。四合院内房屋的分配讲究长幼尊卑，位置优越

显赫的正房都要给父母居住。东西两侧的厢房也有尊卑之分，东侧为尊，西侧为卑。同时，北京四合院对外又是封闭的。整体而言，四合院是由四周居住的房屋和中间的庭院，以及将四合院紧密围绕起来的院墙组成的闭合的建筑形式。

具体说来，封闭的院墙、高大的院门、双扉紧闭的大门无一不体现了其封闭性和保守性。院墙和大门隔开了人与外部世界，阻隔了居住者与外界的沟通。四合院成为中国文化的象征，体现了中国文化的保守与封闭的一面。

【实地考察】

材料 4. 北京名人故居不仅是中国历史文化资源的重要组成部分，也是世界历史文化资源的主要组成部分，是呈现给世人的一张“北京文化名片”乃至“中国文化名片”。摊开北京地图，那星罗棋布的名人故居构成了这座古老城市最珍贵的记忆之一。

①鲁迅故居	②陈独秀故居	③梅兰芳故居	④恭王府（奕訢）
西城区阜成门宫门口二条19号	东城区箭杆胡同20号	西城区护国寺街9号	西城区柳荫街甲14号
			
鲁迅1924—1926年在此住所。	陈独秀1917—1920年在此居住。	1951—1961年梅兰芳在此居住。	1851—1898年奕訢在此居住。
⑤张之洞故居	⑥老舍故居	⑦曹雪芹故居	⑧李大钊故居
西城区大石作胡同中部	东城区灯市口西街丰富胡同19号	海淀区卧佛寺路正白旗村39号	西城区文华胡同24号院北院
			
1907—1909年张之洞在此居住。	1950—1966年老舍在此居住。	1747—1762年曹雪芹在此居住。	1920—1924年李大钊在此居住。

以上是 8 处分布在北京城的名人故居，从以下主题 1、2、3 中任选一个，并选取两个相关的名人故居，分别说明该故居名人与主题的关系。（3 分。仿照示例完成）

主题 1：近代化的开端；2：京味文化；3：建党伟业；

示例：



【献计献策】

材料 5. 北京的胡同、四合院，是我国惟一幸存的帝王时代的首都的民居建筑，是八百年古都北京的市井文化的载体。而现在北京至少有 90% 以上的四合院沦为大杂院。一个四合院本来是供一个家庭或一个家族居住的，现在一个院子住上几家、十几家，每家争相搭建小房子、堆放杂物，千方百计争夺空间，使得邻里关系很微妙，个人精神很压抑，家庭生活很不便，四合院固有的优点丧失殆尽。

(5) 根据材料 5，如何恢复四合院的历史原貌，请你提一条建议。(1 分)

(3) 根据材料 1、2，说一说故宫和北京四合院在体现中国文化上相同点。(2 分)





参考答案

一、选择题：（共 30 分）

1	2	3	4	5	6	7	8	9	10
A	B	C	D	C	D	B	B	C	A
11	12	13	14	15	16	17	18	19	20
D	A	C	D	A	C	A	B	D	B

二、材料解析题：（共 40 分）

21.（共 10 分）

(1)原因：为了接受汉文化，改变旧的风俗习惯；加强对中原的统治。（任意一点得 1 分）

影响：促进民族交融；增强北魏实力。（1 分）

(2)随着近代印刷术的发明促进地方语言的崛起；宗教改革的推动。（每点 1 分，共 2 分）

(3)内部因素：为了学习英国先进的科技；

外在因素：英国对殖民地的强迫。（每点 2 分，共 4 分）

(4)选择①背景：抗战的胜利，中国国家地位的提高；

选择②背景：中国恢复联合国合法席位；

选择③背景：中国的改革开放，使综合国力大大提升。（每点 2 分）

22.（共 10 分）

(1) ①：《共产党宣言》的发表。（1 分）

②：苏维埃俄国或苏俄（1 分，备注：答苏联或俄国、俄罗斯不给分）

(2)由于工业革命的影响，工人阶级政党的发展；革命斗争实践经验的积累。（每点 2 分，共 4 分）

(3)（每点 2 分）

选择 A 变化的原因：大革命失败，或国民党右派叛变革命，对革命群众实行血腥屠杀。

选择 B 变化的原因：工农武装割据局面的形成。

选择 C 变化的原因：红军第五次反“围剿”失利，被迫长征。

(4)相同点：都是党的历史上具有深远意义的转折性会议；都全力纠正“左”的错误；都形成新的领导核心（任意 1 点 1 分）

历史背景：选择“遵义会议”——由于党内“左”倾错误导致长征初期失利，形势严峻；选择“十一届三中全会”——文革结束后遵循“两个凡是”的错误方针；关于真理标准问题的讨论。（1 分）



23. (共 10 分)

- (1) ①；②；⑤ (3 分。每空多选、少选、错选均不得分)
- (2) 内容：任何一方都不得在亚太地区谋求霸权；“一个中国”原则。(每点 1 分，共 2 分)
- (3) 理解：中美关系由对峙走向缓和，中美关系正常化。(2 分)
- (4) ②；③；① (3 分。每空多选、少选、错选均不得分)

24. (共 10 分)

- (1) 原因：为了抵御元朝残余势力的威胁；明成祖在北京根基雄厚，定都北京益于巩固统治(每点 1 分，共 2 分)
- (2) A 内廷；B 外朝；(每点 1 分，共 2 分)
- (3) 体现等级分明的礼教文化；体现保守与封闭(每点 1 分，共 2 分)
- (4) (3 分。照抄示例不得分)

主题	考察地点	关系说明
1、近代化的开端	④	奕忻，洋务派中央代表，提出洋务运动的主要主张。
	⑤	张之洞，洋务派在地方的主要代表，创办的主要近代企业有汉阳铁厂、湖北织布局。

主题	考察地点	关系说明
2、京味文化 (任选两位即可)	③	梅兰芳，著名的京剧艺术表演家，梅派的创始人，代表作有《贵妃醉酒》等
	⑥	老舍，著名现代的京味作家，代表作有《骆驼祥子》，《茶馆》等
	⑦	曹雪芹，代表作《红楼梦》，是中国古典小说四大名著中，艺术成就最高，影响最深远，成为世界文化宝库中不可多得的文学名著

主题	考察地点	关系说明
3、建党伟业	②	陈独秀，中国共产党创始人之一。在上海建立中国第一个共产党早期组织，在党的“一大”当选为中央局书记。
	⑧	李大钊，中国第一个马克思主义者，中国共产党创始人之一。

- (5) 言之有理即得分 (1 分)