

高一历史

2023.1

本试卷共10页，100分。考试时长90分钟。考生务必将答案答在答题卡上，在试卷上作答无效。考试结束后，将本试卷和答题卡一并交回。

第一部分

本部分共40题，每题1.5分，共60分。在每题列出的四个选项中，选出最符合题目要求的一项。

1. 以下关于中华文明起源与发展的叙述，属于历史解释的是
A. 中国广袤的大地，曾孕育早期的人类
B. 大约在一万年前，中国境内的人类逐渐懂得了磨制石器
C. 距今约五六千年时，一些部落逐渐结成联盟，并推出联盟首领
D. 黄河流域、长江流域和辽河流域的考古发现证实中华文明具有多元一体的特征
2. 与秦朝之后的大一统国家相比，夏、商、西周等早期国家突出的特征是
A. 中央与地方关系较松散
B. 拥有军队等国家机器
C. 实行奴隶主土地私有制
D. 王朝世袭，设有职官
3. 西周青铜器利鼎的铭文记载，九月丁亥日，王在般宫召见利，利站在殿中面向北，“王乎乍命内史册令利”，册命辞说“赐你礼服、车上的銮铃和旗帜”，利跪拜叩头。此铭文
A. 证实了贵族生活的奢华
B. 反映了周王室衰微的局面
C. 记录了西周的册命仪式
D. 揭示出内外服制度的作用
4. 商鞅提出“治世不一道，便国不法古”。战国时期各国变法的主要目的是
A. 剥夺和限制贵族的特权
B. 富国强兵，增加国家实力
C. 巩固分封制维护宗法制
D. 建立君主专制的政治制度
5. 下文标注①②③反映的思想分别可以追溯到春秋战国时期的哪些学派？



中华民族和中国人民在修齐治平、尊时守位、知常达变、开物成务、建功立业过程中培育出和形成的基本思想理念，如革故鼎新、与时俱进的思想，脚踏实地、
①
实事求是的思想，惠民利民、安民富民的思想，道法自然、天人合一的思想等可以
②
③
为人们认识和改造世界提供有益启迪，可以为治国理政提供有益借鉴。

- | | |
|-------------|-------------|
| A. 儒家 法家 道家 | B. 儒家 道家 法家 |
| C. 法家 道家 儒家 | D. 法家 儒家 道家 |

6. 右图为秦朝铜权，其上刻有统一度量衡的小篆诏文。上述举措

- A. 使国家日益强盛，为统一奠定了基础
- B. 推动了国家政治、经济、社会的发展
- C. 加重人民负担，严重激化了社会矛盾
- D. 为政府实施盐铁官营提供了统一标准



7. 中国古代某部农书记载了食物原料以及各种主副食的加工、烹饪方法，特别是一些少数民族的肉食制作方法，体现出当时饮食文化胡汉融合的特征。这部农书是

- A. 《神农本草经》
- B. 《禹贡地域图》
- C. 《齐民要术》
- D. 《元朝秘史》

8. 在中国历史上首次实现南北贯通，沟通五大水系，“运漕商旅，往来不绝”，“自是天下利于转输”。古人称道的重大工程是

- A. 在都城广设仓库
- B. 兴建洛阳城
- C. 隋朝开通大运河
- D. 推广曲辕犁

9. 以下是关于汉至唐江南经济的史料记载。按其描述状况出现的先后排序，正确的是

- ① “楚越之地，地广人稀，……无积聚而多贫。”
- ② “江南地分野丰，民勤本业，一岁或稔，则数郡忘饥。”
- ③ “江淮田一善熟，则旁资数道。故天下大计，仰于东南。”

- A. ①②③
- B. ①③②
- C. ②①③
- D. ③②①

10. 下表呈现了中国古代主要选官制度的关键程序，由此反映出的历史趋势是

察举制	地方长官在辖区内考察人才并推荐，经试用考核再任官职
九品中正制	中央委任中正官评定各地人才等级，朝廷依此授以相应官职
科举制	采用分科考试，通过者取得为官资格，吏部选拔后正式任官

- ①官员选拔更为公开和公平
- ②儒学成为社会主流意识形态
- ③重文轻武的风气日益浓厚
- ④中央逐渐加强对选官的控制

- A. ①②
- B. ①④
- C. ②③
- D. ③④

11. 唐中期改行的两税法“惟以资产为宗，不以丁身为本”，其主要针对的社会问题是

- A. “版籍（登记户口、土地的簿册）浸坏，多非其实。”
- B. “所在赋敛，迫趣取办（逼迫催促），无复常准。”
- C. “赋敛之司增数而莫相统摄，各随意增科，自立色目。”
- D. “上户优（通过各种手段免课税）而下户劳（负担沉重）。”

12. 公元前4世纪—公元3世纪，汉字传入朝鲜半岛、日本列岛和东南亚地区。“开元初又遣使来朝”，“所得锡赉（指钱币）”则“尽市文籍”。此现象表明隋唐文化

- A. 深受异域文化影响
- B. 对周边国家有巨大吸引力
- C. 是民族交流的产物
- D. 首开“中学西传”的先例

13. 陆游称：“宋兴，诸儒相望，有出汉唐之上者。”宋代儒学家的突出贡献在于

- A. 力图挖掘儒家经书的思想内涵
- B. 提出“三教合归儒”
- C. 兼容多家哲学理论形成新学派
- D. 严厉抨击君主专制



14. 下表中文学家所任官职反映出宋朝政治方面的突出特点是

姓名	曾任官职	职权范围
范仲淹	陕西经略安抚招讨副使	负责边防
晏殊	枢密使	负责管理全国军政
欧阳修	枢密副使	协助管理全国军政



- A. 文官出任地方长官
B. 文官掌部分兵权
C. 门第观念逐渐淡化
D. 节度使变为虚衔
15. 设行省“掌国庶务，统郡县，镇边鄙”，行省下分设路、府、州、县，边远地区设宣慰使司，设澎湖巡检司经略台湾。此国家治理模式创立于
- A. 宋朝
B. 金朝
C. 元朝
D. 明朝
16. 观察右侧《元朝运河、海运路线图》。大都是今北京，直沽是今天津，刘家港在今江苏太仓。以下推断正确的是
- A. 元朝时政治经济重心分离
B. 海运路线仅沿海岸线进行
C. 元政府开辟海运以取代运河
D. 海运物资从刘家港直达大都
17. 宋元时期受城市经济繁荣影响获得较大发展的是
- A. 书法绘画
B. 儒家学说
C. 文学体裁
D. 民族文字
18. “国家庶务殷繁，亦有不便宣露于众者。”“皆本人封达朕前。朕亲自览阅，亲笔批发，一字一句皆出朕之心思，无一件假手于人，……”乾隆帝在此评述的是
- A. 宰相制度
B. 内阁制度
C. 奏折制度
D. 军机处
19. 新航路的开辟促进了全球性经济互动，对中国的巨大影响表现在
- ①高产作物玉米、甘薯等推广种植
②燃料的改进提高金属冶炼的质量
③传统小农经济不再占据压倒优势
④白银通过海外贸易大量流入中国
- A. ①②
B. ①④
C. ②③
D. ③④
20. 清乾隆时期编成的《四库全书》共收录古代重要典籍约 3500 种，其中包括徐光启和利玛窦合译的《几何原本》等 38 种不同学科的外国著作。此现象反映了
- A. 儒学地位受到西学的冲击
B. 总结中国文化的必要性
C. “闭关自守”政策的局限性
D. 编书者对西学的包容性
21. “鸦片战争和《南京条约》以及《望厦条约》开启了帝国主义征服中国的世纪，……中国人民为了挽救他们与生俱来的生存权利，就必须打败两个敌人，不仅要打败外国侵略者，而且要打败既不愿意也无能力保卫这个国家的封建统治者。”该论述揭示了
- A. 中国革命的性质是反帝反封建
B. 中国的自然经济逐渐遭到破坏
C. 英国发动鸦片战争的根本目的
D. 中国开始向西方学习以求自强



22. 下图为《1840-1900 年中国重大史事示意图》。下列全面概括出示意图内容的是

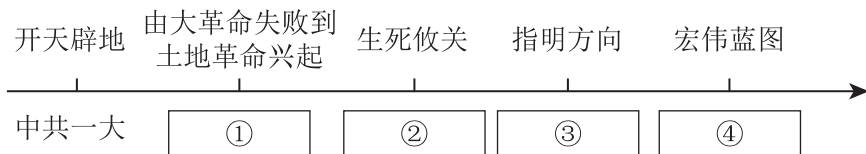


- A. 列强为了自身利益不断扩大对中国的侵略
 B. 清朝统治阶级对世界形势的变化浑然不觉
 C. 近代中国社会各阶级为挽救危局而努力
 D. 农民运动因为没有先进阶级的领导而失败
23. 19 世纪中后期，左宗棠在收复新疆的过程中，不断派遣随行官员分赴新疆各地，清理户口，清丈土地，招民屯垦，征收粮税等。这一举措
- A. 体现出“因俗而治”的原则
 B. 为新疆正式建省准备了条件
 C. 推动《尼布楚条约》的签订
 D. 击败了侵略者保卫西北边疆
24. 1898 年，光绪帝颁布的“明定国是”诏书指出：“若仍以不练之兵，有限之饷，士无实学，工无良师，……岂真能制梃（提着木棍）以挾（打）坚甲利兵乎？”由此开启的是
- A. 开眼看世界
 B. 洋务运动
 C. 百日维新
 D. 清末新政
25. “辛亥革命极大促进了中华民族的思想解放，传播了民主共和的理念，打开了中国进步潮流的闸门，……。”下列史事体现“民主共和理念”的有
- ①孙中山提出“三民主义”
 ②清政府宣布预备立宪
 ③资产阶级民主共和国建立
 ④《中华民国临时约法》颁布
- A. ①②③
 B. ①②④
 C. ①③④
 D. ②③④
26. 下表为《新青年》杂志某两期的部分目录，据此可知新文化运动

法兰西人与近代文明……陈独秀	近世三大政治思想之变迁……高一涵
共和国家与青年之自觉……高一涵	文学革新申义……傅斯年
妇人观……陈独秀	论小说及白话韵文……胡适

- A. 初步提出向西方学习的主张
 B. 传播了资产阶级革命思想
 C. 遵奉孔子宣传变法的合法性
 D. 解放思想，推动文化革新
27. “五四运动为新的革命力量、革命文化、革命斗争登上历史舞台创造了条件，是旧民主主义革命走向新民主主义革命的转折点。”这句话中“新的革命力量”是指
- A. 农民阶级
 B. 无产阶级
 C. 资产阶级
 D. 青年学生
28. 1924-1927 年国共合作领导的国民革命，是一场以工农群众为主体的人民革命运动。其历史作用包括
- ①开辟了中国革命的新道路
 ②沉重打击帝国主义在华势力
 ③促进中国广大民众的觉醒
 ④基本推翻北洋军阀反动统治
- A. ①②③
 B. ①②④
 C. ①③④
 D. ②③④

29. 1927年,毛泽东起草的《古田会议决议案》提出“教育党员用马克思列宁主义的方法进行政治形势分析和阶级势力的估量”,“红军是一个执行革命的政治任务的武装集团”,“每连建设一个支部”。此次会议确立了
- A. “思想建党,政治建军”的原则 B. 工农武装割据的理论
C. 联俄、联共、扶助农工的政策 D. 实事求是的思想路线
30. 1937年忻口会战前,国民革命军代理团长刘眉生与家人诀别:“日寇凶残,夺我疆土,戮我同胞,愿以七尺之躯,以报生我育我之故土,……誓死抗敌,光我华夏。”此家书
- ①表明了作者民族意识的觉醒 ②表达了作者义无反顾的抗日决心
③反映出中国远征军作战英勇 ④揭示了中国军队反侵略的正义性
- A. ①②③ B. ①②④ C. ①③④ D. ②③④
31. 《天朝田亩制度》规定:“凡分田,照人口,不论男妇,算其家口多寡……有田同耕,有饭同食。”1947年制定的《中国土地法大纲》规定:“不分男女老幼,统一平均分配,……土地归农民私人所有。”二者的相同点是
- A. 遵循平均分配的原则 B. 促进了工农联盟
C. 真正实现耕者有其田 D. 废除土地私有制
32. 一位同学绘制了新民主主义革命时期中国共产党召开的重要会议示意图,标出了会议的关键词。①至④对应的会议名称分别是



- A. 中共二大 中共七大 七届二中全会 中共八大
B. 八七会议 遵义会议 中共七大 七届二中全会
C. 八七会议 遵义会议 中共七大 中共八大
D. 中共二大 八七会议 中共七大 七届二中全会
33. “共和国勋章”获得者李延年在1951年10月的346高地反击战中,在我方伤亡严重情况下,指挥部队作战,毙伤敌军600多人。战后,被志愿军总部记特等功1次,并获得朝鲜民主主义人民共和国自由独立二级勋章。他参加的是
- A. 人民解放战争 B. 湘西剿匪 C. 抗美援朝战争 D. 镇压反革命
34. 右图为1953年《选举法》颁布后,北京学生在西单庆祝中国历史上首次普选的场景。图中文字是:“把大家认为满意的人选出来代表我们管理……。”在普选基础上正式建立起来的制度是
- A. 人民代表大会制度
B. 民族区域自治制度
C. 社会主义法律制度
D. 中国共产党领导的多党合作和政治协商制度





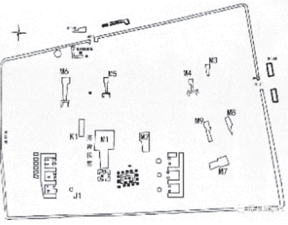

第二部分

本部分共3题，共40分。

41. (8分) 海昏侯墓博物馆——西汉社会状况的“再现”

材料

西汉海昏侯墓博物馆分展馆及展品

【豫章海昏展馆】			
			
①海昏侯墓出土的“大刘印记”玉印	②《汉书》记载有豫章郡十八县	③考古工作者绘制的墓园平面布局图	④新闻媒体现场直播考古发掘的视频

【王侯威仪展馆】

- 万贯五铢钱 10 余吨，近 200 万枚
- 青铜编甬钟、车马具、成组盛食器、青铜雁鱼灯、衣物与丝织品签牌

【儒风南阜展馆】

- 儒家经典竹简，其中有《论语》
- 孔子像漆衣镜

(1) 阅读材料，指出①②③④的史料类别。(4分)

(2) 海昏侯刘贺为汉武帝之孙。从政治、经济、思想领域中选择两个领域，依据以上材料并结合所学，说明展品反映出的西汉社会状况。(4分)



42. (12分) 历代帝王庙——中华民族多元一体发展趋势的见证

材料一 位于北京市西城区的历代帝王庙建于明朝嘉靖九年(1530年),是明清集中祭祀中华祖先三皇五帝、历代帝王和功臣名将的皇家庙宇。历代帝王庙以独特视角体现了“中华一统、主权延续、朝代更迭、一脉相传”的历史特点,也使得“中国”这个概念及文化内涵更为丰富。

——摘自刘洋主编《北京西城历史文化概要》

材料二 清朝顺治和乾隆时期历代帝王庙入祀帝王的调整变化

时期	入祀帝王的调整和变化	相关资料
顺治时期 (1643-1661年)	①恢复祭祀元世祖忽必烈 ②新增祭祀元太祖成吉思汗 ③新增祭祀辽太祖耶律阿保机 ④新增祭祀金太祖完颜阿骨打 ⑤新增祭祀金世宗完颜雍	金世宗在中都(今北京)建大宁宫(今北海公园),大定二十九年始建卢沟桥。《世宗本纪》记载:即位五载,而南北讲好,与民休息。于是躬节俭,……重农桑,慎守令之选,严廉察之责……家给人足,仓廩有余……号称“小尧舜”。
乾隆时期 (1736-1796年)	增加东晋、南朝之宋齐陈、北朝之北魏、五代之唐、后周等帝王入祀,共188位	乾隆皇帝认为:“北魏的鲜卑族帝王,结束战乱,雄踞黄河以北,勤思政理、讲学兴农,确为英主,安可置而不论?”

(1) 依据材料并结合所学,分别简述北魏孝文帝和金世宗的历史贡献。(6分)

(2) 材料二中,顺治帝对入祀帝王的调整可归为几大类?写出分类标准和序号(2分)
依据材料,结合时代背景和所学,谈谈你如何看待清朝皇帝沿用明朝庙宇并调整入祀帝王之举?(4分)



43. (20分) 中国电信博物馆——近现代中国历史的缩影

【百年电信 艰难起步】




材料一 1871年，丹麦大北公司首开在华非法收发国际电报的先例。随后，英、美等列强的电缆也在中国海岸登陆，中国彻底丧失了通信主权。

1879年，李鸿章在大沽炮台和天津之间架设电线，这是中国官方最早创办的电报。1880年，李鸿章在天津设立电报总局，并于大沽口、济宁、镇江、苏州、上海等七处设立电报分局，全线三千余里，这是中国第一条官督商办的陆路电线——津沪线。后设立专门机关管理、规范电报业，在天津和上海设立电报学堂。主持电报局的盛宣怀认为：“（电报）固以传递军报为第一要务，而其本质则尤在厚利商民，为图久计。”

(1) 依据材料一并结合所学，从目的和作用两方面，评价洋务运动期间中国通信业的发展。(5分)

【（标题写在答题卡上）】

材料二

		
1927年，南昌起义时使用的信号灯、军号、手电筒等	1930年底，红一方面军在第一次反“围剿”中缴获的只能收报不能发报的“半部电台”。这是红军最早的电台	人民解放军利用缴获的设备改善通信条件，图为1948-1949年三大战役期间毛泽东手书电文的复制品

(2) 阅读材料二，为这片展区拟定一个标题，要求与其他展区标题相匹配；(1分)
撰写一篇历史短文解说以上三件展品。(4分)
要求：史论结合，条理清晰。



【人民邮电 砥砺前行】

材料三

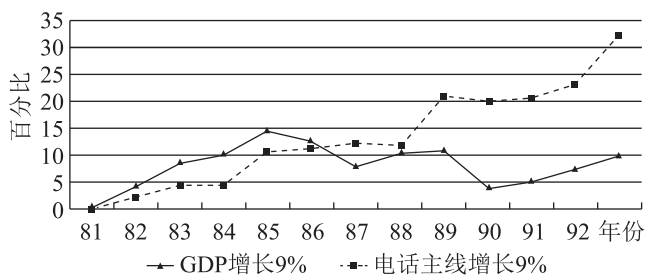
1949-1973年中国电信事业部分大事件

序号	事件
①	1949年11月，北京与莫斯科之间的无线电话正式开放
②	1955年，我国第一台自主研发的电传打字机面世
③	1965年，中国与各社会主义国家和部分周边国家、港澳地区建立直达通信联系
④	1970年，中国自行研制的第一颗人造地球卫星“东方红一号”发射成功
⑤	1971年，中美之间开通直达无线电报、电话和传真电路
⑥	1973年，北京与香港之间开通直达无线电话、电话电路

(3) 从表中任选两个事件，写出序号，提炼一个主题，结合所学对主题进行说明。(4分)

【改革开放 信通四海】

材料四



1981-1992年中国电话主线与GDP增长速度示意图



国产第一款模拟移动电话机

中国电信业跨越纵横、准电子时代，引进并推广世界上刚刚开始商用的程控交换机。经历了政企分开、邮电分营、电信重组的历程，2001年中国移动电话用户总数跃居世界第一位。进入21世纪，中国电信业获得重要的契机和开放的市场竞争，强大的网络为人民带去了丰富的信息通信服务，为世界互联贡献了中国力量。

(4) 依据材料四，概括改革开放后我国电信事业发展的特点(2分)，分析取得巨大成就的原因。(4分)

