

# 地理 试卷

2021. 1

本试卷共 10 页，共 70 分。考试时长 60 分钟。考生务必将答案填涂或写在答题卡上，在试卷上作答无效。考试结束后，将答题卡交回。

## 第一部分 选择题 (共 25 分)

本部分共 25 题，每小题 1 分，共 25 分。在每小题列出的四个选项中，选出最符合题目要求的一项。

图 1 为世界海陆分布随纬度的变化示意图和不同纬度人口所占比例示意图。读图，完成 1~3 题。

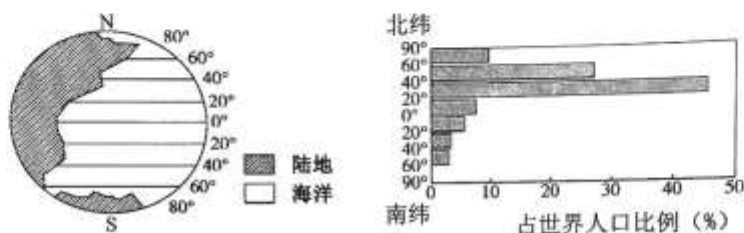


图 1

- 从图中可以看出
  - A. 世界整体是海洋面积大，陆地面积小
  - B. 南半球陆地面积大于海洋面积
  - C. 南半球的陆地面积比北半球的陆地面积大
  - D. 北半球的陆地面积随着纬度增高逐渐增加
- 世界人口数量
  - A. 北半球少，南半球多
  - B. 北极地区比南极地区少
  - C. 北半球随纬度增高而减少
  - D. 南半球随纬度增高而减少
- 世界上
  - A. 气温越高的地区人口越稠密
  - B. 北纬 40° 附近人口较稠密
  - C. 内陆地区人口稠密
  - D. 人口数量与陆地面积成正比

图 2 为清代宫廷画家徐扬于乾隆二十四年 (公元 1759 年) 创作的《姑苏繁华图》 (局部)，反映了当时苏州 (今江苏苏州) “商贾辐辏 [fú còu]，百货骈阗 [pián tián] (商人云集、货物琳琅满目的意思)” 的市井风貌。读图，完成 4、5 题。



图 2

- 图中所示的聚落类型及判断理由是
  - A. 乡村，这里有河流
  - B. 乡村，这里以农业生产为主
  - C. 城市，这里以商业活动为主
  - D. 城市，这里的房屋数量较多
- 由图中景观可推断当时该地
  - A. 水运发达
  - B. 地势崎岖
  - C. 水流湍急
  - D. 全年少雨

图3为2016年世界部分国家人口状况图。读图，完成6~8题。

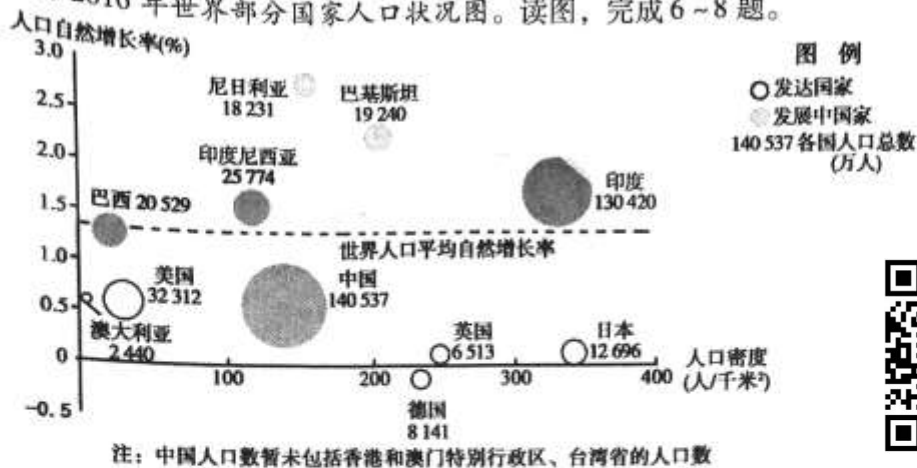


图3

6. 人口超过1亿的发达国家为  
 A. 美国      B. 英国      C. 巴西      D. 印度尼西亚
7. 下列说法，正确的是  
 A. 日本人口数量最多       B. 尼日利亚人口自然增长率最高  
 C. 德国的人口密度最低       D. 中国的人口密度最大
8. 人口总数呈下降趋势的国家为  
 A. 日本       B. 德国      C. 中国      D. 澳大利亚

图4为世界年平均气温分布图，读图，完成9~11题。

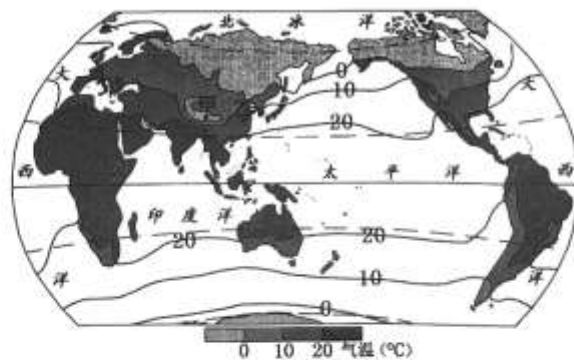


图4

9. 下列描述，正确的是  
 A. 中纬度地区年平均气温在20℃以上       B. 北半球等温线比较平直  
 C. 等温线的延伸方向大致与经线方向一致       D. 气温大体由低纬向高纬逐渐降低
10. 图中  A. 同纬度地区海洋比陆地气温高       B. 海洋比陆地温差小  
 C. 北半球等温线密集，温差较小       D. 热带地区比温带地区温差大
11. 甲、乙两地气温差异的主要影响因素是  
 A. 纬度位置      B. 海陆位置       C. 地形      D. 季风

荷兰位于欧洲西部，平均海拔低于海平面，国土的18%是人工填海造陆。荷兰人在500多年前发明了木鞋，木鞋防潮、易清洗。木鞋上绘制的风车是荷兰的文化遗产，风车用来排除积水、碾磨谷物、发电等。图5为荷兰简图及荷兰气温曲线和降水量柱状图、荷兰木鞋图片。读图，完成12~15题。

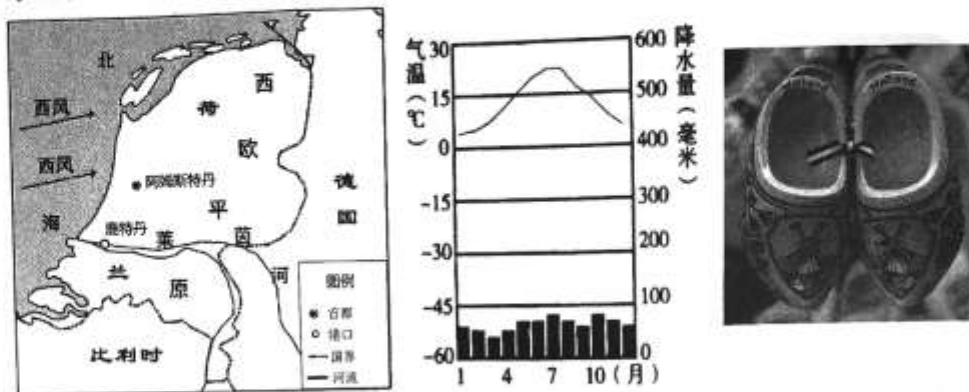


图5

12. 荷兰  
 A. 平均海拔为50米 B. 为地中海气候 C. 东临北海  首都为阿姆斯特丹
13. 木鞋的特点反映了荷兰地理环境的特征是  
 A. 潮湿多雨，地面泥泞 B. 光照强，热量充足  
 C. 地势低洼，排水通畅 D. 河流多，水流湍急
14. 荷兰风车充分利用了当地  
 A. 气候温和湿润的条件 B. 临北海浪大的条件  
 C. 常年盛行西风的条件 D. 草地资源丰富的条件
15. 填海造陆破坏了海岸的生态环境，近年来荷兰实施了“退耕还海”工程，其重要意义是  
 A. 增加水产养殖  B. 保护生物多样性 C. 扩大港口面积 D. 发展滨海旅游
- 亚洲是世界文明的发源地，图6为亚洲简图。读图，完成16~19题。

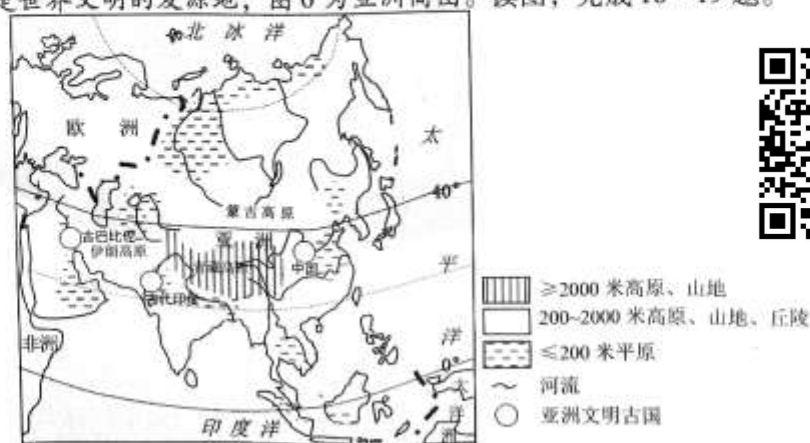


图6

地理试卷第3页(共10页)

16. 亚洲的地势特征为  
 A. 西部高、东部低  
 C. 中部高、四周低

- B. 北部高、南部低  
 D. 南北高、中部低

17. 受亚洲地势的影响，亚洲河流总体的流向特征为

- A. 自北向南流  
 C. 自南北两侧向中部流

- B. 自西向东流  
 D. 自中部向四周流

18. 亚洲文明古国

- ①分布在河流的上游  
 ③地处中低纬地区

- ②位于平原地区  
 ④人种为黄色人种

- A. ①②  
 B. ②③

- C. ①③  
 D. ②④

19. 亚洲为伊斯兰教发源地，以下为伊斯兰教典型建筑的是



A



B



C



D

美国学术期刊《美国科学院院报》发布的一项研究指出：从1979年到2017年，南极洲冰层融化已经导致全球海平面上升超过14厘米。图7为南极大陆等高线地形图。读图，完成20~22题。

20. 下列描述正确的是

- A. 长城站有极昼极夜现象  
 B. 泰山站的海拔在3000米以上  
 C. 中山站地处内陆地区  
 D. 昆仑站的气温在我国科考站中最低

21. 南极地区自然环境独特，下列表述与结构图中序号对应正确的是

- A. ① - 高纬度的地理位置  
 B. ② - 冰雪覆盖  
 C. ③ - 平均海拔最高  
 D. ④ - 酷寒

22. 南极洲冰层融化，将

- A. 增加南极洲的淡水资源  
 B. 利于今后向南极洲大量移民  
 C. 破坏当地生物的生存环境  
 D. 利于开发南极洲的矿产资源

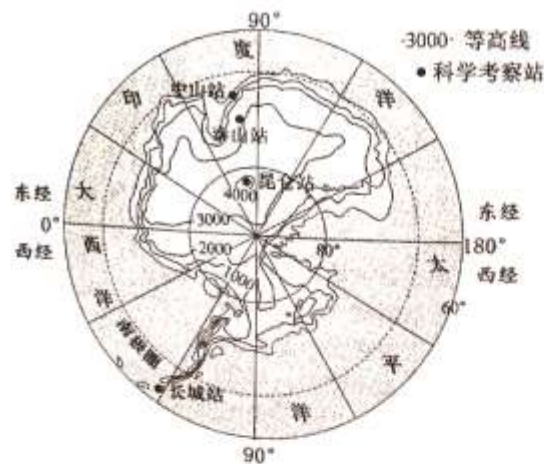
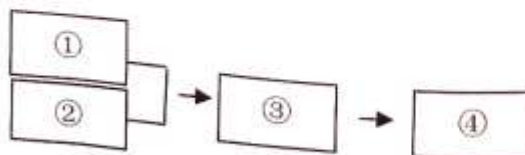


图7



卡塔尔是一个高收入国家。图8为西亚部分地区图和卡塔尔气温曲线和降水量柱状图。读图，完成23~25题。

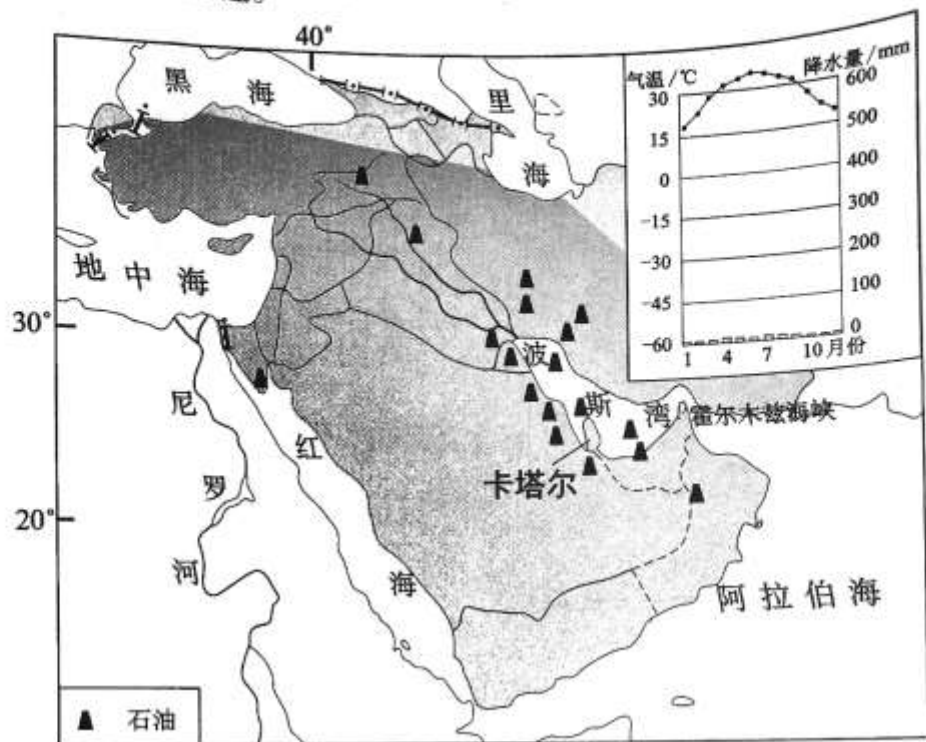


图8

23. 卡塔尔成为高收入国家的首要原因是

- A. 旅游业发达
- B. 石油加工工业发达
- C. 石油资源丰富
- D. 高新技术产业发达

卡塔尔政府规划，到2022年国内新鲜果蔬的自给率将从2019年的22%增加到70%。

24. 卡塔尔蔬菜生产面临的最大困境是

- A. 纬度较高，热量不足
- B. 降水多，光照不足
- C. 多冻土，土壤肥力低
- D. 气候干旱，淡水不足

25. 蔬菜自给率实现的根本保障是

- A. 强大的经济基础
- B. 便利的交通
- C. 优越的地理位置
- D. 充足的劳动力



## 第二部分 综合题 (共 45 分)

### 26. (11 分) 进博寻踪

葡萄酒一直是中国国际进口博览会的主要展品之一,图 9 为世界主要气候类型分布图,图 10 为四种气候类型的气温曲线和降水量柱状图。阅读图文资料,完成下列问题。

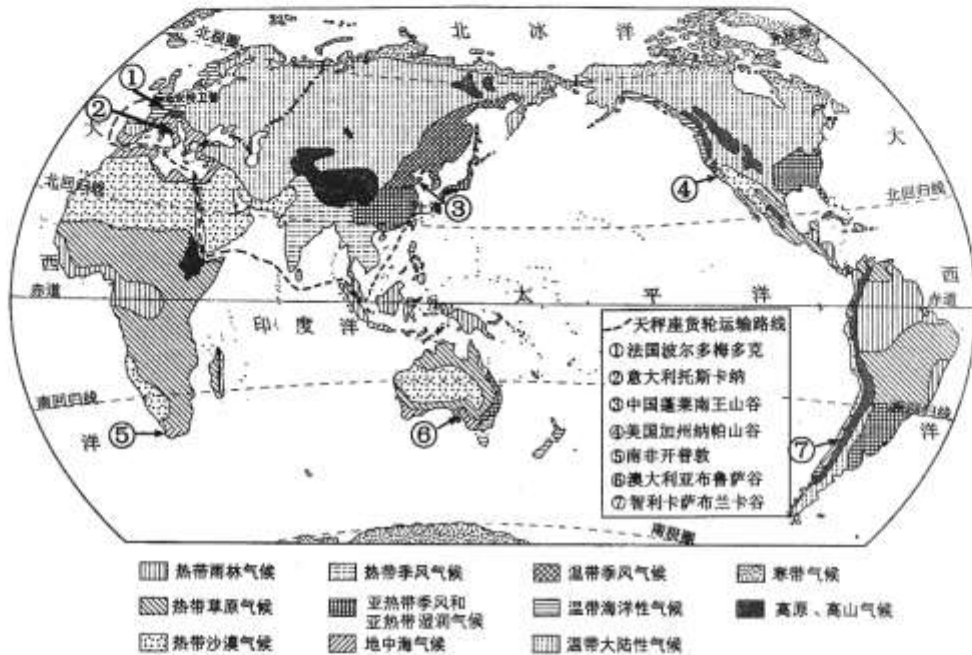


图 9

- (1) 运输葡萄酒的“天秤座”货轮从安特卫普港出发经大西洋,穿过甲海峡,经地中海、乙运河和红海,进入印度洋,穿过丙海峡,经我国南海、东海到达上海洋山港。请完成一一对应。(3分)

甲	苏伊士
乙	马六甲
丙	直布罗陀

法国波尔多梅多克、意大利托斯卡纳、美国加州纳帕山谷、智利卡萨布兰卡谷、澳大利亚布鲁萨谷、南非开普敦、中国烟台的蓬莱南王山谷并称为世界七大葡萄酒海岸。

- (2) 世界七大葡萄酒产区\_\_\_\_\_ (双项选择)。(2分)

- A. 热带比温带地区多
- B. 主要分布于中纬度
- C. 北半球比南半球少
- D. 主要位于沿海地区

- (3) 中国蓬莱的气候类型为\_\_\_\_\_,该气候类型对应图 10 中的\_\_\_\_\_;南非开普敦对应图 10 中的\_\_\_\_\_,气候特征为\_\_\_\_\_。(4分)

地理试卷第 6 页(共 10 页)



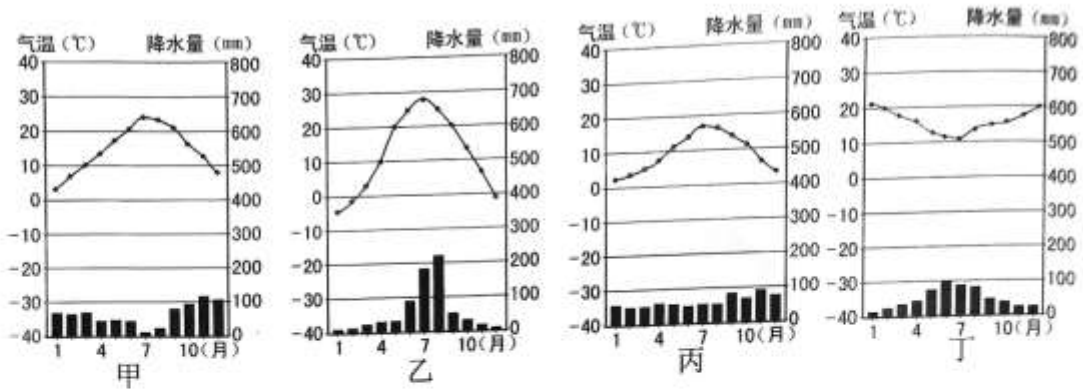


图 10

葡萄喜光，不耐寒，适宜生长的温度为  $12^{\circ}\text{C} \sim 30^{\circ}\text{C}$ ，年降水量 600 - 800 毫米左右，春季需水量多、夏季需水量少。

(4) 试用数据分析意大利托斯卡纳适宜葡萄生长的有利气候条件（参照图 10 中的甲图）。（2分）

示例：该地 7~8 月份降水量不足 100mm，降水少，光照充足，有助于糖分积累，利于葡萄生长。

从气温角度\_\_\_\_\_；从降水角度\_\_\_\_\_。

27. (13分) 北美洲探究

学习亚洲以后，同学们开展对北美洲的探究。图 11 为北美洲地形图，阅读图文资料，完成下列问题。

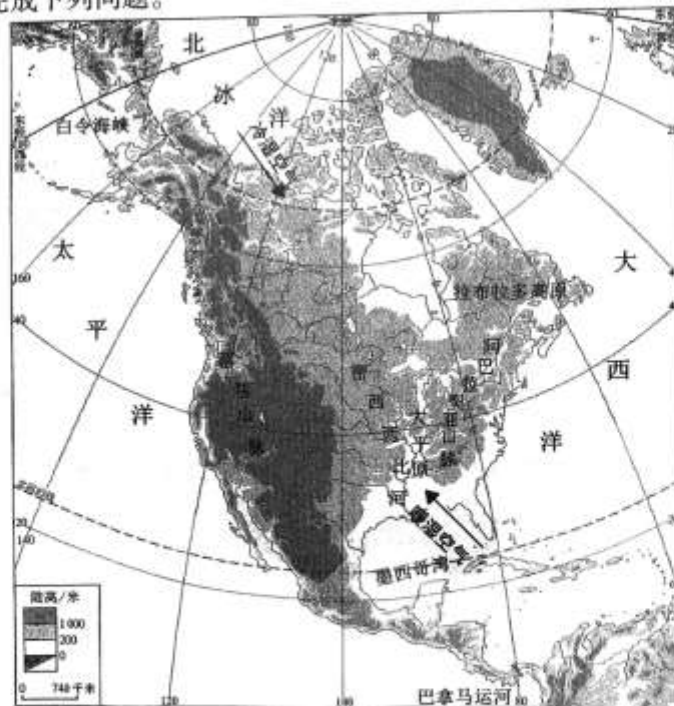


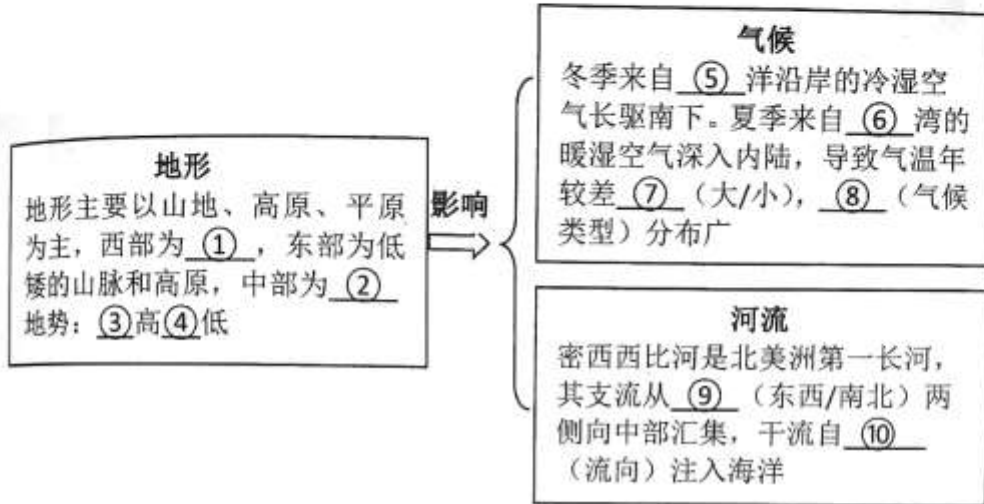
图 11

**位置探究**

(1) 从半球位置看，主要位于\_\_\_\_\_（东/西）半球，从纬度位置看，大部分地区位于五带中的\_\_\_\_\_带；从海陆位置看，东临大西洋，西临太平洋，北临北冰洋，南隔\_\_\_\_\_运河与南美洲相望。（3分）

**要素探究**

(2) 同学们探究北美洲地形特征及其对河流、气候的影响。阅读图文资料，将框图中的内容填写完整。（10分）



28. (10分) 走进撒哈拉以南非洲

人口、粮食、环境是撒哈拉以南非洲面临的巨大问题。某校地理小组研究撒哈拉以南非洲的人地关系。图12为非洲气候类型分布图，图13为非洲荒漠化分布图，图14为撒哈拉以南非洲主要进出口产品示意图，图15为2005-2010年撒哈拉以南非洲部分国家的年均人口自然增长率。阅读图文资料，完成下列问题。

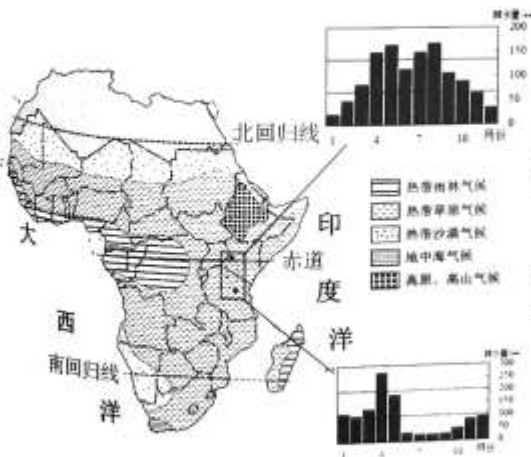


图12

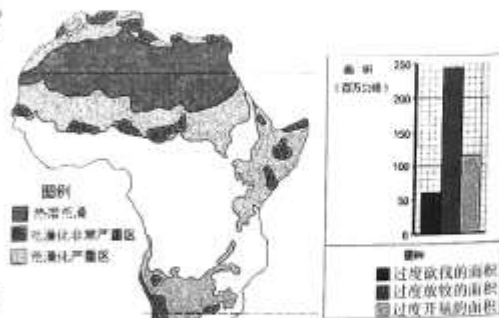


图13





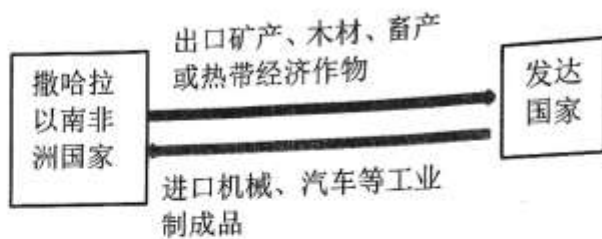


图 14

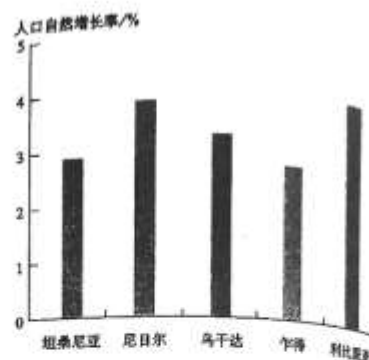


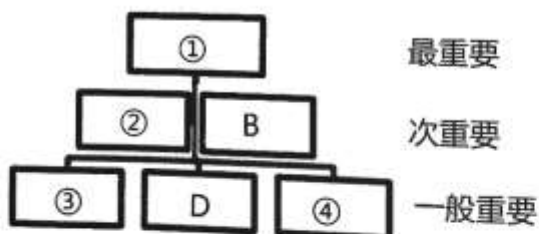
图 15

自然环境探究

- (1) 非洲大部分位于南回归线与\_\_\_\_\_ (重要纬线) 之间, 赤道横穿中部, 气候类型以热带气候为主, 具有关于赤道\_\_\_\_\_ (南北/东西) 对称的分布规律。(2分)
- (2) 撒哈拉以南非洲是\_\_\_\_\_ (人种) 的故乡, 他们曾建立过一些文明国家, 对世界文化的多样性做出了重要贡献。但受自然环境和社会条件的影响, 撒哈拉以南非洲国家经济发展较为缓慢, 为\_\_\_\_\_ (发展中/发达) 国家。(2分)
- (3) 撒哈拉以南非洲\_\_\_\_\_ (气候类型) 分布面积广, 该气候类型\_\_\_\_\_ 季节变化大, 年际变化大, 易受旱灾威胁。(2分)

人地协调探究

- (4) 同学们提出一些协调人地关系的建议, 请帮助他们按照由主到次的关系进行排序。(4分)



- A. 控制人口过快增长, 提高人口素质
- ~~B.~~ 保护生态环境, 减轻自然灾害
- C. 发展粮食生产, 解决食物短缺
- ~~D.~~ 尽快走出殖民经济的阴影, 建立完善的民族经济体系
- E. 加强团结与合作, 减少种族纠纷和部落冲突
- F. 引进人才和技术



29. (11分) 一衣带水的邻邦

第32届夏季奥林匹克运动会将在日本东京举行，某地理小组收集了日本的相关资料，并制作了地理小报。图16为日本群岛地形和工业分布图。阅读图文资料，完成下列问题。

<p style="text-align: center;"><b>山地岛国</b></p> <p>日本是太平洋西北部的岛国，由北海道、①、四国、九州四个大岛及附近的一些小岛组成。东京等城市和新干线铁路多分布在海拔②米以下，其分布均受到了③因素的影响。</p>	<p style="text-align: center;"><b>温泉之国</b></p> <p>日本被称为温泉之国，因其位于板块④(交界/内部)地带，多火山分布。</p> <p>日本的传统民居，多使用质地较轻的建筑材料，以减轻⑤灾害造成的人员伤亡。</p>
--	--

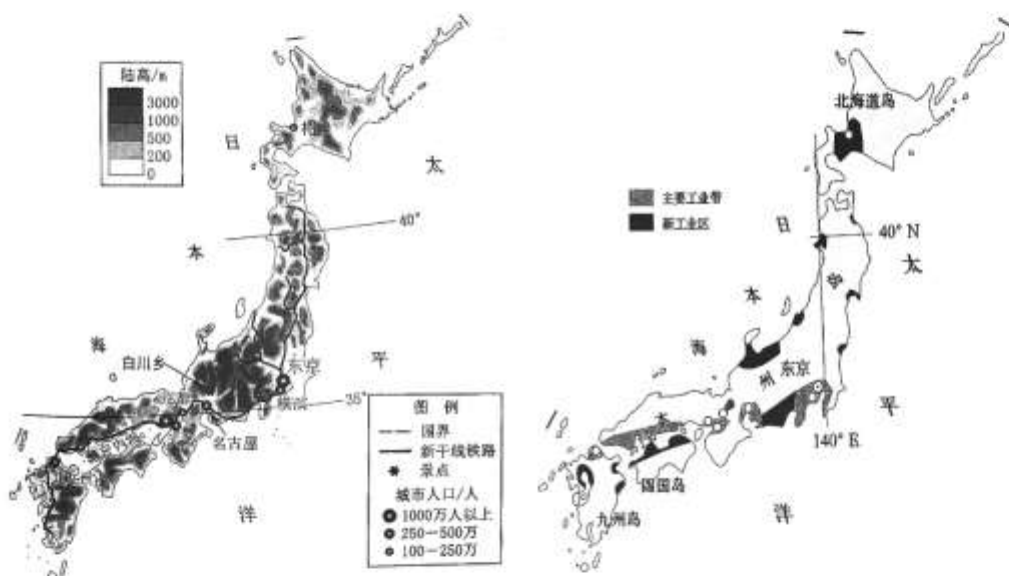


图16

<p style="text-align: center;"><b>“加工贸易型”的发达国家</b></p> <p>日本工业主要集中分布在⑥沿岸和濑户内海沿岸，这里⑦(城市/乡村)和人口集中，是国内最大的消费市场；工厂靠近码头，⑧(运输方式)便利；多良港，可停靠巨型船舶，⑨(运输方式)条件优越。利于发展进口原料、燃料—加工—出口型经济。</p>	<p style="text-align: center;"><b>“米食民”“鱼食民”的国家</b></p> <p>“米”和“鱼”巧妙组合而成的“寿司”及鱼生料理，成为日本饮食文化的符号。这与日本的季风气候受⑩(海洋/大陆)影响大，雨热同期，适合水稻生长；以及四面临海，⑪资源丰富的自然环境是密不可分的。</p>
---	---

