



北京市西城区九年级统一测试

历史试卷 2020.5

考生须知

1. 本试卷共 12 页，共两部分，34 道小题，满分 90 分。考试时间：90 分钟。
2. 在试卷和答题卡上准确填写姓名、准考证号、考场号和座位号。
3. 试题答案一律填涂或书写在答题卡上，在试卷上作答无效。
4. 在答题卡上，选择题用 2B 铅笔作答，其他试题用黑色字迹签字笔作答。
5. 考试结束，将本试卷、答案卡和草稿纸一并交回。

第一部分选择题（共 45 分）

本部分共 30 小题，每小题 1.5 分，共 45 分。在每小题列出的四个选项中，选出最符合题目要求的一项。

1. 以下是北京人遗址的考古发掘情况简表，据此得出的合理结论是

人类化石 200 余件，分属 40 多个个体	5 个灰烬层及大量动物烧骨
动物化石 100 多种	石器 10 多万件

- A. 北京人遗址是我国境内最早的人类遗址
 B. 北京人遗址考古发掘丰富
 C. 北京人从事狩猎活动并开始饲养牲畜
 D. 北京人过着定居生活
2. 传说炎帝和黄帝有许多创造发明，如：炎帝种植五谷、制作陶器、发明纺织，黄帝建造宫室、挖掘水井、发明指南车等。关于这些传说，以下理解正确的是

- ①从炎黄传说中可以了解到一些历史信息
- ②在今河南等地发掘出距今约五千年左右的水井遗存、骨笛等，能够了解部落联盟时期的社会发展水平
- ③因为《史记》中已有记载，所以这些传说都是真实的历史
- ④炎黄传说仍缺乏确凿的考古证据，但一定程度反映中华民族文化的内涵

- A. ①②④ B. ①③④ C. ①②③ D. ②③④

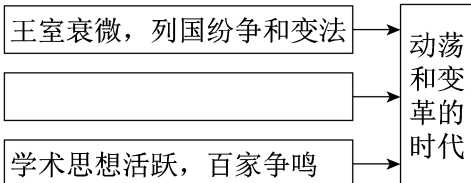
3. 右图是北京房山出土的青铜器“克盃”铭文拓片，其大意是：“（周成王）命克做匭（燕）的诸侯，管理当地各族。克进驻匭地，接收了土地，平息了动乱。”该铭文拓片可用于研究



- A. 禅让制
 B. 世袭制
 C. 分封制
 D. 郡县制

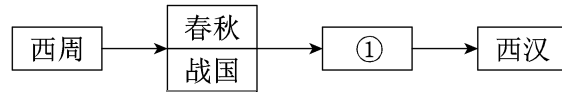
4. 为了提高复习效率，小李同学绘制了一张知识结构图。空白处应填入的内容是

- A. 铁农具和牛耕的使用及推广
 B. 少数民族政权纷纷入主中原
 C. 八王之乱造成人口大量死亡
 D. 各地爆发大规模的农民起义





5. 与下图所示的示意图中①相关的史实是



- A. 上承夏商，创立分封
- B. 诸侯争霸，铁犁牛耕
- C. 百家争鸣，诸国变法
- D. 结束分裂，完成统一

6. 识读历史地图是学习历史的重要方法之一。与下图所示路线存在关联的历史事件是

- ①张骞通西域
- ②玄奘西游
- ③鉴真东渡
- ④戚继光抗倭



- A. ①②
- B. ②③
- C. ②④
- D. ③④

7. 右图是出自河南洛阳龙门石窟的《北魏帝王出御图》

(局部)，图中所有人物的着装均是宽衣大袖，与其传统民族服饰截然不同。这幅浮雕可用于研究



- A. 北魏时期的农业发展
- B. 北魏时期的民族交融
- C. 鲜卑族的崛起与统一
- D. 南北朝时期的政权并立

8. 某同学整理了两则读书摘要，依据摘要内容判断与它们相关的皇帝是

- A. 唐高祖
- B. 唐太宗
- C. 武则天
- D. 唐玄宗

摘要 1: 吸取隋朝灭亡教训，任用贤才，虚心纳谏

摘要 2: 统治期间，国力强盛，历史上称为“贞观之治”

9. 某校历史小组将举办宋代历史专题板报展，摘录了有关太湖流域水稻、棉花和茶叶种植方面的资料，又搜集了下列三幅图片，这些材料反映的共同主题是



泉州出土的宋代海船



宋代定窑孩儿枕

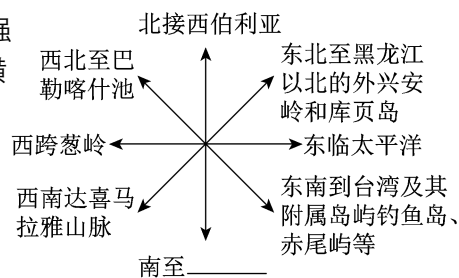


北宋纸币铜版拓片

- A. 精巧的手工艺
- B. 繁荣的宋代经济
- C. 发达的农业生产
- D. 独特的活字印刷



10. 清朝前期，中国是一个幅员辽阔、人口众多、国力强大的统一多民族国家。右面清前期疆域示意图中，横线上应该填写的文字是



- A. 珠江流域
- B. 岭南地区
- C. 南海诸岛
- D. 云贵高原

11. 独具时代特色的历史信息在风云流转的时空中，是社会发展的一个个指示性坐标。下表所列信息，按朝代先后排列正确的是

①	郡县制；小篆；统一度量衡
②	军机处；《红楼梦》；商帮
③	赤壁之战；《兰亭集序》；江南地区开发
④	重文轻武；瓦子；经济重心南移

- A. ①②④③
- B. ①③④②
- C. ③②①④
- D. ④②①③

12. 史学家陈旭麓指出：“对于中国人来说，这场战争是一块界碑。它铭刻了中世纪的社会在炮口逼迫下走入近代的最初一步。”这场战争是指

- A. 鸦片战争
- B. 第二次鸦片战争
- C. 甲午中日战争
- D. 八国联军侵华战争

13. 某历史公众号推出如下研究内容。该公众号研究的主题应该是



人民英雄纪念碑《虎门销烟》浮雕 太平军痛打洋枪队连环画 黄海海战沉船

- A. 列强的侵略
- B. 中国人民的抗争
- C. 近代化的探索
- D. 近代思想的启蒙

14. 参加过辛亥革命的吴玉章曾回忆说：“从前皇帝自称为天子，如果有人说皇帝是强盗，可以打倒，别人一定把他看作疯子。……相反在辛亥革命以后，如果有人想做皇帝或者拥护别人做皇帝，一定也被看作疯子。”这段话是指辛亥革命

- A. 推翻了封建制度
- B. 完成了反帝反封建的革命任务
- C. 实现了国家独立
- D. 宣告了君主专制制度的终结

15. 历史学习小组模拟“红色旅游”的推介活动，下列各项适用于介绍延安的是

- A. 红色的小船——见证了党的诞生
- B. 英雄的城市——诞生了八一军魂
- C. 革命的摇篮——开创了革命新路
- D. 抗战的灯塔——敌后战场总后方

16. 连环画是一种传统艺术的表现形式，也是一种老少皆宜的通俗读物。下列四部连环画反映的历史事件按时间先后排序正确的是



①

②

③

④

- A. ①②③④
- B. ②③①④
- C. ③④①②
- D. ①④③②



17. 右图邮票上的图案是南通博物苑，它是中国最早的公共博物馆，由一位爱国实业家于1905年创办。这位实业家是清末状元，甲午战败后他抱着“实业救国”的思想回家乡南通创办大生纱厂，获利颇丰，进而兴办文化和公益事业。他是



- A. 荣德生 B. 荣宗敬 C. 张謇 D. 卢作孚

18. 在“一五计划”取得的建设成就中，密切了祖国内地与边疆地区联系的工程项目是

- A. 川藏、新藏、青藏公路 B. 鹰厦、宝成铁路
C. 武汉长江大桥 D. 鞍山钢铁公司

19. 下图是一支中华高级绘图铅笔，由“公私合营中国铅笔一厂”于1957年9月制造。这支铅笔见证的历史史实是



- A. 土地改革 B. 社会主义改造 C. 人民公社化运动 D. 国民经济恢复

20. 十一届三中全会后，经济体制改革首先从农村开始，当时对农村实行的经济政策是

- A. 余粮收集制 B. 废除人民公社，实行土地私有制
C. 包产到户、包干到户 D. 政企分开，扩大企业的经营自主权

21. 2016年，中国人民解放军成立五大战区，构建联合作战体系，并且调整组建五大军种；国防和军队改革取得历史性突破，形成军委管总、战区主战、军种主建的新格局。这一格局

- A. 首次实现了党对军队的绝对领导
B. 大幅度裁减员额，完成了军队的现代化目标
C. 军队组织架构和力量体系实现了革命性重塑
D. 放弃了我国“不首先使用核武器”的承诺

22. 中华人民共和国的以下外交活动及其历史意义，对应正确的有

- ①1954年参加日内瓦会议→新中国首次以五大国之一的身份参与国际会议，大大提高了中国的国际地位
②1955年参加亚非会议，提出“求同存异”的方针→促进了会议的成功，加强了同亚非各国的团结与合作
③1971年第26届联大恢复了中华人民共和国在联合国的一切合法权利→外交取得重大胜利
④1972年美国总统尼克松访华→中美正式建立外交关系

- A. ①②④ B. ①②③ C. ①③④ D. ②③④

23. 16世纪以来，非洲音乐逐渐进入美洲，并深刻地影响了美洲社会，到20世纪，带有非洲因素的流行音乐成为美洲主导的娱乐形式之一。促使非洲音乐进入美洲的直接原因是

- A. 文化交流的发展 B. 哥伦布发现美洲
C. 非洲独立的影响 D. 奴隶贸易的发展

24. 右侧油画描绘了美国历史上的一个历史事件：1776年，《独立宣言》签署后的第五天，情绪激昂的人们聚集在曼哈顿一个公园里，推倒了当时英国国王乔治三世的雕像。这一事件表明



- A. 美国以此宣布国家独立 B. 美国反抗英国的决心



- C . 美国庆祝独立战争胜利 D . 美英两国关系的断绝
- 25 . 德国作家海因里希·伯尔说,“没有马克思的理论,没有马克思为未来斗争所制定的路线,几乎不可能取得任何的社会进步。……售货员没有马克思,至今还得为其八小时工作制,为其自由的下午,也许也为其自由的礼拜天,为其在工作时间偶尔坐坐的权利而斗争……”。“马克思的理论”形成的标志是
- A . 《资本论》的完成 B . 国际工人协会的成立
C . 《共产党宣言》的发表 D . 巴黎公社的建立
- 26 . 19 世纪早期,伦敦除了赤贫阶层之外几乎所有的人都可以买上好几套衣服,用价格低廉的机织棉布制成的轻薄内衣也得到了推广。这一现象的主要得益于
- A . 工业革命的发展 B . 电气时代的到来 C . 棉布制品的进口 D . 世界市场的形成
- 27 . 18 世纪末和 19 世纪初,拉丁美洲地区掀起了一场反抗殖民统治的独立运动。这场独立运动开展的有利契机包括
- ①世界性贸易给拉美殖民地创造了财富 ②北美独立战争的胜利鼓舞了拉美人民
③工业革命壮大了拉美社会各界的力量 ④法国大革命打击和削弱了西班牙
- A . ①③ B . ②③ C . ①④ D . ②④
- 28 . 对比两次世界大战,下列说法正确的是
- ①都是非正义的战争 ②中国均为战胜国 ③英国、法国均在战争中被削弱
④战后都重建了世界秩序 ⑤战争都造成了巨大的伤亡和损失
- A . ①②③④⑤ B . ①②③④ C . ①③④⑤ D . ②③④⑤
- 29 . 世界现代史某单元的课题如右图,这一单元的主题应该是
- A . 战后社会主义力量的发展 B . 战后资本主义世界的变化
C . 民族解放运动的兴起 D . 世界经济的全球化发展
- 30 . 下表列举的是 2001 年以来中美 GDP 的对比情况,从中可以得出的结论是

第 1 课美国成为世界经济霸主
第 2 课西欧的联合
第 3 课日本重新崛起
第 4 课资本主义国家社会保障制度的建立

年份	中国		美国	
	GDP(万亿美元)	占世界%	GDP(万亿美元)	占世界%
2018	13.61	15.8401%	20.54	23.9139%
2015	11.02	14.6777%	18.22	24.2764%
2010	6.09	9.2158%	14.99	22.6976%
2005	2.29	4.8169%	13.04	27.4702%
2001	1.34	4.0107%	10.58	31.6861%

- ①“入世”给中国带来了经济红利 ②中国经济发展推动世界经济格局的改变
③美国长期保持世界经济总量第一 ④中国在世界经济的占比已经超过了美国
- A . ①② B . ①③ C . ②③ D . ①④




第二部分 材料分析题（共 45 分）

31.（10 分）走进博物馆，看技术变革。

文物是活着的历史，是人类文明的见证，文物饱经历史沧桑，向后世诉说着它们曾经的辉煌，告诉我们人类社会每一次的重要进步都离不开技术的革新和飞跃。

材料一 生产工具的制造和使用是古人智慧和能力的体现，推动着历史的前进。我们可以在北京周口店遗址博物馆看到石器手镐上留下的加工痕迹；在浙江河姆渡遗址博物馆我们眼前可以浮现出古人翻地用力过猛折断了骨耜的耕作场景；在河南安阳殷墟博物馆我们不仅能领略甲骨文的奥妙，还能看到制作精良的青铜器铲，感叹其工艺的高超；在浙江湖州市博物馆我们可以想象到铁犁铧昔日的锋利和翻耕土壤的高效作用。




①石器手镐 ②青铜铲 ③骨耜 ④铁犁铧

(1) 依据材料一，按出现时间先后将上述四个古代生产工具进行排序：、、、

。(2 分，填序号即可)

材料二 在湖州市博物馆，我们可以看到古代耕作工具江东犁的模型，了解到江东犁原理与曲辕犁一脉相承，在古代农业生产中发挥了重要作用。河南开封市博物馆里的泥活字模型、指南针、火铳火箭等文物，向我们诉说着令人叹为观止的中国古代科技。



①江东犁 ②泥活字模型 ③指南针 ④火铳火箭

英国作家培根说：“这三种东西曾改变整个世界的面貌与状况。第一种是在文学上，第二种是在战争上，第三种是在航海上，由此又产生了无数变化，这种变化是如此之大，以致没有一个帝国、没有一个宗教教派、没有一个赫赫有名的人物，能比这三种发明在人类的事业中产生更大的力量和影响。”

(2) “江东犁原理与曲辕犁一脉相承”，曲辕犁发明并得到推广的朝代是。培根所说的“这三种东西”得到广泛使用的时代是。(2 分)

(3) 请你从“三种东西”中选择一种，说出其对于人类社会发展的重大影响。(2 分)



材料三 通过相关博物馆网页，我们可以了解汇集到如下信息

中国古代		第一次工业革命		第二次工业革命	
发明人	身份	发明人	身份	发明人	身份
蔡伦	中常侍	凯伊	钟表匠	法拉第	物理学家
张衡	侍中	哈格里夫斯	纺织工	西门子	工程学家
祖冲之	长水校尉	克隆普顿	工人	爱迪生	发明家
沈括	三司使	阿克莱特	理发师	狄塞尔	工程师
郭守敬	太史令	瓦特	仪器制造师	卡尔本茨	工程师




(4) 依据材料三分别概括中国古代和两次工业革命时期发明人的身份特点。(3分) 指出两次工业革命发明人身份的主要变化。(1分)

32. (12分) 教育的变化与文化发展、社会进步密切相关

材料一 中国的教育事业和中国传统文化一样源远流长。西周分封制下，教育的主要作用是以礼教维持等级制度的秩序。春秋战国时期的列国竞争形势，为教育提供了相对自由的条件，促成了人才的大量涌现。秦汉以后，大一统中央集权国家出现，儒家学说成为占统治地位的思想，教育被当作统治者巩固统治的重要工具，整个教育制度围绕选官而展开。

(1) 依据材料一，简析古代教育的主要作用。(3分)

材料二 近代新式教育发展

 <p>新式学堂</p>	<p>兴起阶段</p>	<p>1862年京师同文馆建立到1894年甲午战争的爆发,33年间共创办外语、军事、技术类新式学堂27所。</p>
 <p>京师大学堂牌匾</p>	<p>缓慢发展阶段</p>	<p>1895~1904年,维新派把废除八股文作为教育变革的重点问题,近代高等教育数量及规模有所增长。</p>
 <p>停科举上谕档案</p>	<p>快速发展阶段</p>	<p>1905年科举制度止后,新学制迅速推广,留学教育迅速发展。</p>

(2) 依据材料并结合所学，指出近代以来与新式教育发展变化相关的重大历史事件。(2分)

材料三 日本明治维新时，将大力兴办教育纳入“文明开化”政策的首项



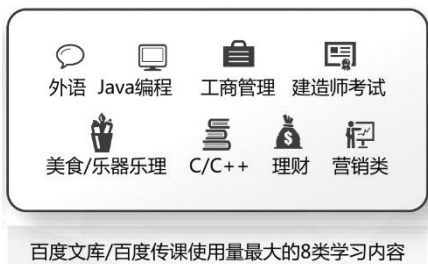
时间	事件
1872年	颁布《学制》，强制适龄儿童进校读书。
1875年	建立普通师范学校 82 所，重视师资培养。
1882年	颁发《幼学纲要》，立足思想教育从少年抓起。
1885年	初等教育经费占全国教育经费的 84.3%。
1890年	颁布《教育敕语》，阐明教育的目的是培养“忠良”臣民，以“扶翼”天皇，
1900年	中等职业技术学校已有 290 所，为日本企业输送了大量技术员和技工。

(3) 依据材料三，说出明治维新时期日本教育的特点。(3分)

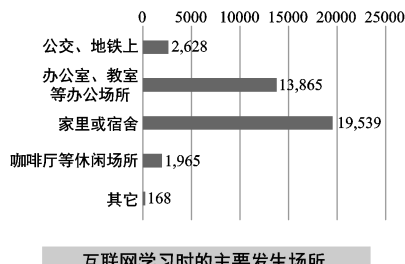
材料四古代妇女是被排斥在教育之外的。启蒙运动时代，思想家认为妇女和男子具有一样的权利和尊严，提倡男女平等。大工业和机器生产对劳动力的需求，导致妇女走出家庭，参与社会生产，这种社会生产要求每一个劳动者都具备一定的知识和技能。在现实中与男子同样承担社会职责的妇女，平等意识逐渐觉醒，而通过教育所获得的发展和成就是她们能否平等参与社会竞争的重要条件之一，争取受教育权就成为当时妇女运动的重要组成部分。到 20 世纪 90 年代，发达国家各级教育中男女入学率已经基本平等，发展中国家仍然存在较大差异。

(4) 依据材料四，概括影响妇女受教育权的主要因素。(2分)

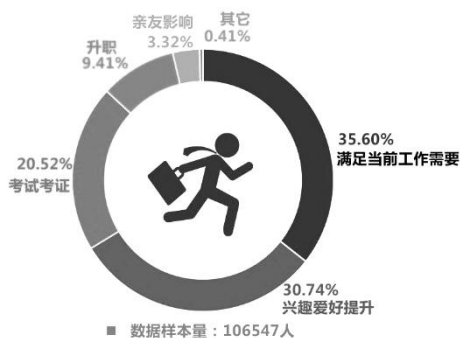
材料五 以下是百度《中国互联网教育行业趋势报告》的一些相关数据



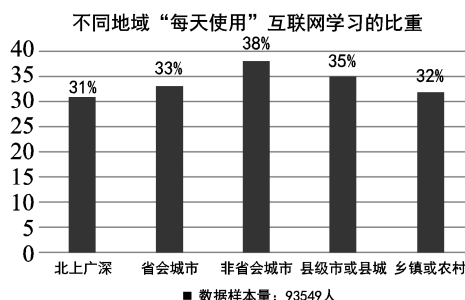
数据 1: 学习内容



数据 2: 学习场所



数据 4: 学习地域



(5) 请任意选择一组数据，并为它提炼一个核心观点。(2分)

33. (13分) 海洋在人类文明进程中占据了重要的地位。



材料一（秦汉时期）海洋疆界已经被视为国家安全的天然屏障，已经形成以海为界、依海而治的治国策略。例如，秦朝统一后，明确宣示东海、南海以及北方的统治范围。汉朝统治者把海疆范围以内认定为华夏文明的中心，范围以外则被看作落后的不具有威胁的蛮夷之邦，形成“华夷之辨”的统治理念。这里的海洋被赋予了维护国家安全和保持文化正统的双重使命。

（1）依据材料一，说出秦汉时期的海洋观。（2分）

材料二 从史料中看郑和下西洋

①明朝人马欢《瀛涯胜览》记载：中国宝船到祖法儿国，其国人皆将乳香、血竭、芦荟等之类，来换易综丝，瓷器等物。

②明人笔记《前闻记》记载：郑和使团往返各地的日期，符合各个地方信风的气象规律。说明郑和团队曾借助信风进行航行。

③《明史》记载：郑和，云南人，世所谓三宝太监者也。

④根据《郑和家谱》记载：郑和船队下西洋配有医官、医士 180 余名，大约平均 150 名乘员有 1 名医官或医士。

⑤据黄省曾《西洋朝贡典录》记载：郑和至西洋，将麝香、磁器、缎匹等运至该国，一年往回。换得各色奇异宝石，并有麒麟、狮子、驼鸡等中国未见之动物。

⑥《郑和航海日记》中记有 20 幅航海地图，109 条针路航线（用指南针确定的路线），及两页 4 幅牵星图（通过某种特殊工具，可以确定地理纬度）。

⑦古籍《海底簿》记载：永乐元年，奉旨差官郑和等，出使异域，前往东西洋等处。

⑧古籍《冶诚客·蛇珠》记载：永乐中期，下西洋的水兵出现了疟疾病症，后在一小岛上经淋大雨痊愈。

（2）依据材料二，确定研究主题并选取适当材料。（3分）

要求：仿照示例，完成表格

序号	研究主题	序号	研究主题
③	生平事迹		
⑦			

材料三 1381 年英国颁布了本国历史上第一部《航海法》，规定所有英国商人都必须雇佣本国商船运送货物，违者将被处以没收货物的处罚。从 15 世纪中期到 18 世纪中期，《航海法》被不断修改并加以完善，以至于垄断了英国对殖民地的贸易，引来了殖民地人民的不满。而到 18 世纪中后期开始，英国工业开始快速发展，自由贸易学说在英国国内开始广泛传播，《航海法》开始逐步解除对商业的限制。至 1854 年《航海法》正式寿终正寝。

（3）依据材料三，概括 14-19 世纪英国在海上贸易政策方面出现的变化。（1分）结合所学分析其原因。（2分）



材料四 1873年，轮船招商局正式营业。招商局的建立，起了开风气之先的积极作用。1887年李鸿章奏称：“创设招商局十余年来，中国商民得减价之益，而水脚（水路运输）少入洋商之手者，奚止数千万。”同时在中外战争爆发之时，轮船招商局也曾多次派运兵船支援战场。但招商局在二十多年的经营中，很少进行资本积累，企业本身没有获得发展。且“官权”日益加强。这也使得轮船招商局从根本上来讲并不算成功。

(4) 依据材料四并结合所学，说出轮船招商局建立的历史背景。(1分)对轮船招商局的发展进行简要评价。(2分)

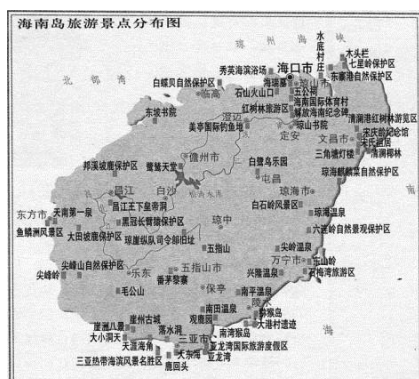
材料五



(国产) 蓝鲸二号，海上钻井平台



第一艘国产航母：山东舰



海南岛旅游景点分布图 中国主办“一带一路”国际合作高峰论坛

(5) 依据材料五并结合所学，简析海洋对于建设中国特色社会主义的过程中所起到的作用。(2分)



34. (10分) 宣传标语及口号是时代的特殊印记

材料一

驅除鞑虏，恢复中华，
创立民国，平均地权。

驅除鞑虏，恢复中华，
创立民国，平均地权。
——孙中山



宣传牌：
努力北伐
——江西各界敬贈

星星之火
可以燎原
——毛泽东

星星之火
可以燎原
毛泽东

③ ④

(1) 从材料一中任选一幅图片资料，仿照示例，结合所学知识进行解释说明。(2分，示例除外)

示例：图片①

说明：1905年，孙中山创立了革命政党中国同盟会，提出了“驱除鞑虏，恢复中华，创立民国，平均地权”的革命主张，后发展为三民主义，成为资产阶级的革命纲领。

材料二 1929-1933年美国遭受有史以来最严重的经济危机，1933年罗斯福以“新政”为口号当选为美国历史上第32任总统。面对严峻的社会危机，罗斯福政府通过了《紧急银行法》、《农业调整法》、《工业复兴法》、《社会保障法》等一系列有针对性的法令来应对。

观点1：到1939年新政基本上取得成功，美国经济上暂时摆脱了危机。工业化得到恢复，政治上遏制了法西斯势力，维护了政治民主化。

观点2：有的报纸上连篇累牍咒骂罗斯福是“向富人敲竹杠”。说罗斯福天天都吃“烤百万富翁”。在关于《社会保障法》的听证会上，有人高喊：“这个法案是从《共产党宣言》第十八页逐字逐句抄下来的”。甚至有人建议美国联邦调查局调查一下罗斯福是不是美国共产党的秘密党员。

观点3：“我已经看到一位独裁者正在成长，它已使希特勒、墨索里尼十分嫉妒，私营企业的独立性已成为往事，个人自由不过是记忆而已。”

(2) 依据材料二，分析罗斯福新政的特点，写出认同的观点序号，并结合所学对该观点进行简要说明。(2分)



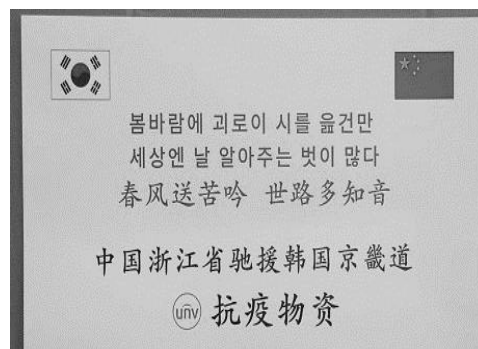
材料三

序号	不同时期的口号标语或路线方针
①	“保卫大武汉” “一寸山河一寸血，十万青年十万军”
②	“调整、巩固、充实、提高”
③	“抗美援朝，人人有责，抗到底、援到底” “抗美援朝，保家卫国” “雄赳赳，气昂昂，跨过鸭绿江”
④	“只有抗战才有出路” “不打日本鬼子，将来难过日子” “万众一心，誓灭倭寇” “中国人不打中国人”
⑤	“耕者有其田” “依靠贫雇农，团结中农，中立富农，打击恶霸地主”
⑥	“鼓足干劲、力争上游、多快好省地建设社会主义”

(3) 请对上表中的口号标语或路线方针进行时段分类，完成下面表格。(3分)

时段	序号
全民族抗战	
新中国政权的巩固	
社会主义建设的艰辛探索	

材料四 2020年伊始，新冠肺炎突袭全球，全人类的健康遭遇到严峻挑战。在突发的灾难面前，不同国家和地区积极携手应战，进行了多种形式的互助合作、开展了对治疗药物的分析研究。在合作过程中，国与国之间也常依据着自身和相关国家的文化传统，进行了各种口号的相互鼓励。如下图中，2月份日本援助中国的抗疫物资贴有日本古代诗句“山川异域，风月同天”，3月份中国援助韩国的物资里贴有古代新罗（朝鲜半岛）诗人崔致远的诗句“春风送苦吟，世路多知音”，而援助意大利的抗疫物资里贴有古罗马著名政治家、思想家塞涅卡（Seneca）的诗句：“我们是同一片海洋的浪花，同一颗树木的叶子，同一个花园的花朵。”



(4) 依据材料四并结合所学，概括多国能够协作抗疫的主要原因，(2分)对在相互支援的物资上贴有各国诗文这一现象，谈谈你的看法。(1分)