

# 2016 北京周口店初一（下）期中 历史

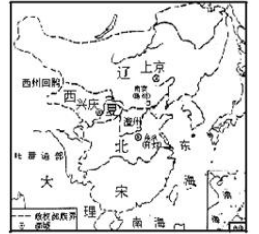


## 一、选择题（每小题 2 分，共 60 分）

下列各题均有四个选项，其中只有一项符合题目要求。请将正确选项前的字母填在答题纸上表格中的相应位置。

1. 历史地图是从历史事件发生的空间关系理解和表达历史现象的最好手段。右边的地图反映的是

- A. 三国鼎立形势
- B. 南北朝对峙形势
- C. 辽、北宋、西夏并立
- D. 宋、金对峙形势



2. “惜秦皇汉武，略输文采；唐宗宋祖，稍逊风骚”。毛泽东诗词中提及到的中国古代多位杰出帝王。属于宋太祖采取的措施是

- A. 创立中央集权制，实现了国家统一
- B. 采取“强干弱枝”政策，加强皇帝和中央权力
- C. 颁布“推恩令”
- D. 实行“轻徭薄赋”政策，大量裁减官吏



3. “山外青山楼外楼，西湖歌舞几时休？暖风熏得游人醉，直把杭州作汴州。”请根据诗歌内容，判断诗歌作者生活的历史时期是

- A. 南北朝
- B. 唐朝
- C. 南宋
- D. 明朝

4. 右图人物是我国南宋著名的抗金将领，他“精忠报国”的故事世代流传。他是

- A. 文天祥
- B. 戚继光
- C. 郑成功
- D. 岳飞



5. 南宋时期，从越南引进的，在南方普遍种植的农作物是

- A. 烟草
- B. 占城稻
- C. 番薯
- D. 玉米

6. 中国是瓷器的故乡，我国瓷器史上的辉煌时代是

- A. 汉朝
- B. 唐朝
- C. 两宋
- D. 明朝

7. 两宋时期海外贸易空前发展。东南沿海出现了广州、泉州、明州三大对外贸易港口，在那里设立的专门管理外贸的机构是


- A. 市舶司
- B. 宣政院
- C. 理藩院
- D. 鸿胪寺

8. 宋朝的商业繁荣与进步，促进了城市格局的变化，丰富了人们的生活。当时出现的专门娱乐的场所是

- A. 瓦子
- B. 交子
- C. 会子
- D. 鸿胪寺

9. 走进《清明上河图》，我们可以感受到北宋城市市民真实的日常生活，下列哪些是宋朝城市生活的写照

- ① 普通百姓穿着短衣在街上走
- ② 大街上店铺林立，可以随意吃到各种风味的小吃
- ③ 城市平民都住着高大宽敞的瓦顶平房
- ④ 士大夫出行一般都骑马
- ⑤ 人们可以边喝茶边在瓦舍里看杂技表演



- A. ①②③④⑤
- B. ①③④
- C. ①②⑤
- D. ②③⑤

10. “爆竹声中一岁除，春风送暖入屠苏。千门万户曈曈日，总把新桃换旧符。”王安石的这首诗描写的是宋朝人过元旦的情景。宋朝的元旦，今天称作

- A. 元宵节
- B. 中秋节
- C. 端午节
- D. 春节

11. 费正清、赖肖尔在《中国的传统与变革》一书中认为，宋代经济的大发展，特别是商业方面的发展，或许可以恰当的称之为中国的“商业革命”。下面最能够论证这一观点的史实是

- A. 都城长安成为国际性的大都市
- B. 郑和下西洋
- C. 出现了世界上最早的纸币——交子
- D. 在广州设立十三行

12. 世人瞩目的“南海一号”南宋沉船被打捞出水，这艘船能够远洋航行，主要依靠中国四大发明中的

- A. 火药
- B. 印刷术
- C. 指南针
- D. 造纸术

13. 编年体是我国传统史书的一种体裁，特点是按年、月、日编排史实，记述历史。下列属于这种体裁的史学著作是

- A. 《史记》                      B. 《离骚》                      C. 《资治通鉴》                      D. 《红楼梦》

14. 请阅读下面句子：“大江东去，浪淘尽，千古风流人物”、“会挽雕弓如满月，西北望，射天狼”、“莫道不消魂，帘卷西风，人比黄花瘦”、“七八个星天外，两三点雨山前，旧时茅店社林边”、“知否？知否？应是绿肥红瘦”这些句子应该属于

- A. 唐诗                      B. 宋词                      C. 曲                      D. 明清小说

15. 明太祖改革中央机构加强君主权力的举措是

- A. 设立三公九卿                      B. 实行三省六部制  
C. 颁布“推恩令”                      D. 废除丞相，六部分理朝政

16. 下列内容不属于明清八股取士规定的是

- A. 科举考试只能在四书五经范围内命题                      B. 考生的答卷不允许有个人见解                      C. 文体死板分成八个部分  
D. 考生可以针对时弊谈古论今

17. “三百年来，我华夏威风久歇。有几个，如公成就，丰功伟绩。拔剑光寒倭寇胆”词中赞扬的是那位英雄人物

- A. 郑和                      B. 岳飞  
C. 文天祥                      D. 戚继光



18. 一首《七子之歌·澳门》唱出了澳门人民渴望回归祖国的强烈愿望。历史上，霸占我国澳门三百多年的殖民国家是

- A. 英国                      B. 美国                      C. 葡萄牙                      D. 荷兰

19. “台湾者，中国之土地也，久为贵国所踞（盘踞），今余既来索，则地当归我……”对殖民者提出这一正义要求的民族英雄是

- A. 戚继光                      B. 郑成功                      C. 林则徐                      D. 邓世昌

20. 某中学历史研究型学习小组选题《中国封建王朝落日辉煌的实践》，请问以下哪位人物可以作为研究对象



A



B



C



D

21. 右边是某同学整理的大事表，这组大事集中说明了这一时期

- A. 经济发展重心南移  
B. 盛世局面下危机四伏  
C. 抗击外国侵略战绩卓著  
D. 统一多民族国家巩固

1653年	顺治册封“达赖喇嘛”
1690年	康熙亲征击溃噶尔丹叛军
1727年	雍正设立驻藏大臣
1762年	乾隆设立伊犁将军
1792年	乾隆制定“金瓶掣签”制度

22. 历史学家陈旭麓曾经说道：“这场战争，自西方人1514年到中国起，是他325年窥探之后的一逞。对于中国人来说，这场战争”是

- A. 雅克萨之战                      B. 鸦片战争                      C. 甲午中日战争                      D. 八国联军侵华战争

23. 在《天朝的崩溃——鸦片战争再研究》一书中这样写道：“它是我见到的中国近代史上最要命的外交文件。”这里“最要命的外交文件”指的是

- A. 《南京条约》                      B. 《北京条约》                      C. 《辛丑条约》                      D. 《马关条约》

24. 每年的6月26日是“世界禁毒日”。历史上英国曾以向中国倾销禁品——鸦片为直接原因发动了侵华战争，这场战争给中国带来的最大影响是

- A. 中国大量白银流入英国                      B. 一批中国人被毁于鸦片  
C. 开放通商口岸                      D. 中国开始沦为半殖民地半封建社会

25. 马克思说“俄国不花费一文钱，不出动一兵一卒，而能比任何一个参战国（从中国）得到更多的好处。”这句话指的是俄国在第二次鸦片战争期间

- A. 取得协定关税特权                      B. 掠夺圆明园大量珍宝  
C. 获得中国大量赔款                      D. 割占中国大片领土

26. 曾经是中国至宝的圆明园十二兽大量流散国外，目前已经有7个回归中国，不过龙首、蛇首、鸡首、狗首、羊

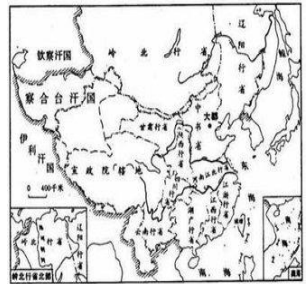
首下落不明。导致这些国宝被迫离开故土的事件是



- A. 第一次鸦片战争
  - B. 第二次鸦片战争
  - C. 甲午中日战争
  - D. 八国联军侵华战争
27. 19世纪70年代,率领清军收复新疆的爱国将领是
- A. 李鸿章
  - B. 张之洞
  - C. 左宗棠
  - D. 曾国藩
28. “此日漫挥天下泪,有公足壮海军威。”这副挽联悼念的民族英雄是
- A. 林则徐
  - B. 邓世昌
  - C. 丁汝昌
  - D. 关天培
29. 《辛丑条约》签订后,居住在北京东交民巷的刘家被迫举家搬迁。其主要原因是帝国主义国家要在此
- A. 开商埠
  - B. 建教堂
  - C. 办工厂
  - D. 设使馆
30. 中国近代的一本启蒙读物中写道:“这朝廷,原是个,名存实亡!替洋人,做一个,守土长官。”你认为作者描述的是哪个条约签订之后中国的状况
- A. 《辛丑条约》
  - B. 《北京条约》
  - C. 《马关条约》
  - D. 《天津条约》

**二、综合题(第1题6分,第2题8分,第3题6分,第4题各6分,第5题4分,第6题10分,共40分)**  
 创新与开放,促进发展和进步,保守与封闭,导致停滞和落后。

**1. 制度创新**  
 请你结合所学知识,回答下列问题。(6分)  
 元朝在全国实行行省制度,对广袤的疆土实施有效统治。  
 (1) 元朝政府在中央设\_\_\_\_\_,总理全国政务,并直辖大都周边“腹地”;在地方设\_\_\_\_\_,执掌地方政务,这是我国设“省”的开始。

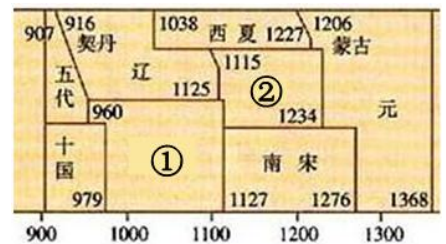


(2) 元朝在中央还设置\_\_\_\_\_,管理全国的宗教和吐蕃地区事务;在浙江行省设立了\_\_\_\_\_,管辖澎湖列岛和台湾。  
 (3) 明朝人方孝孺曾言:“在宋之时,见胡服、闻胡语者犹以为怪,……至于元,百年之间,四海之内,起居、饮食、声音、器用,皆化而同之。”这个材料反映了元朝时期的\_\_\_\_\_历史现象,这一时期产生了一个新民族叫\_\_\_\_\_。  
**2. 经贸繁荣**

宋元时期,我国多民族国家得到了继续发展。请你结合所学知识,阅读材料并回答下列问题。(8分)

材料一:《中国历史纪年表》(部分)

(1) 图①中政权的名称\_\_\_\_\_ ; 图②政权的名称\_\_\_\_\_ ; 从右图中可以看出宋元时期的时代特征是\_\_\_\_\_。



材料二:

朝代	南方		北方	
	人口(户)	占全国户口数比例	人口(户)	占全国户口数比例
西汉	2470685	19.8%	9985785	80.2%
唐代	3920415	43.2%	5148529	56.8%
北宋	11224760	62.9%	6624296	37.1%

材料三: 两宋时期,“国家的财政收入约80%来自淮河以南地区”,“丝、棉纺织业造纸业中心及对外贸易港口

多集中在南方”，“苏瑚熟，天下足”。

材料四：国家根本，仰给东南。 ——《宋史》

(2) 材料二反映了怎样的历史现象？

(3) 材料三、四说明我国古代经济发展出现了什么重大变化？

(4) 元世祖认识到农业对稳定社会、维护统治的重要性，设置了 \_\_\_\_\_，负责掌管全国的农桑水利，考察地方农业实绩。棉花的种植得到推广，\_\_\_\_\_ 成为元朝手工业重要的部门。

(5) 在清朝的康熙到乾隆年间，社会稳定，经济发展，人口激增，史称“\_\_\_\_\_”。

### 3. 航海壮举

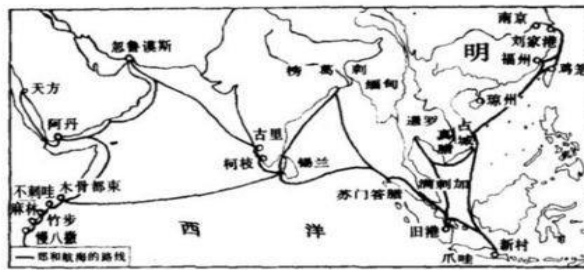
时间转回宋代，……那些满载着中国瓷器和丝绸的商船，从广州或泉州出发后，经南海海域，运送到菲律宾、占城、波斯湾等地，再由波斯商人把这些中国商品销往西亚各地甚至欧洲。

宋朝时期值得注意的是，发生了一场名副其实的商业革命，对整个欧亚大陆有重大的意义。……宋朝时期的中国正朝着成为一个海上强国的方向发展。

——（美）斯塔夫里阿诺斯《全球通史》



郑和



材料一：明初，由于明成祖朱棣实行对外开放政策，海上丝绸之路得以空前繁荣，其中最为壮观的，要数 15 世纪初的郑和下西洋。……从 1405 年到 1433 年的 28 年间，郑和连续 7 次统率百艘巨舰，27000 多名官兵，渡南洋，过印度洋，达红海，航程总计 16 万海里，历经东南亚（又称南洋）、南亚、西亚和东非的 30 多个国家和地区。

——摘自王介南著《中外文化交流史》

材料二：郑和七下西洋，海上丝绸之路盛极一时。他每到一地，都以中国的丝绸和瓷器换取当地的特产或馈赠当地的国王，与当地居民公平交易，互通有无。不占别国一寸土地，未掠他人一分财富。

——《郑和下西洋——伟大的和平使者》

材料三：600 多年前，明朝皇帝派出一支大型商船队，探索与世界其他地方的贸易。这些远征……更重要的是，它们给到访过的那些国家留下了持久的影响。

——（新加坡）李光耀

结合上述材料，请你回答下列问题。（6 分）

(1) 郑和下西洋最远到达的地区？

(2) 郑和与海外各国交往有什么特点？

(3) 郑和下西洋产生了什么积极影响？

### 4. 文化璀璨

明清时期，由于封建经济继续发展，特别是一些地区的商品经济发达。这一时期，文化继续发展，学术巨匠辈出，传统文化呈现辉煌。请你结合所学知识，完成下面连线内容。（6 分）

《本草纲目》	浪漫主义长篇神话小说
《天工开物》	我国第一部长篇历史小说
《西游记》	以北宋末年宋江起义创作而成的一部章回体小说
《三国演义》	我国古典小说的巅峰
《水浒传》	被誉为“东方医学巨典”
《红楼梦》	被誉为“17世纪中国工艺百科全书”

### 5. 封闭落后

阅读下列材料：

材料一：乾隆二十二年（1757年），清朝乾隆皇帝诏告天下，规定只开广州一处对外通商，封闭其它港口，并规定由政府特许的广州“十三行”统一经营管理和对外贸易。

材料二：1793年，英国国王乔治三世派遣使团来华，拜见乾隆皇帝，要求通商。双方互赠礼物。英国赠给中国的礼物有太阳系天体运行仪、航海望远镜、战舰模型等；中国回赠的礼物有丝绸、宣纸、各种工艺品等。

结合上述材料，请你回答下列问题。（4分）

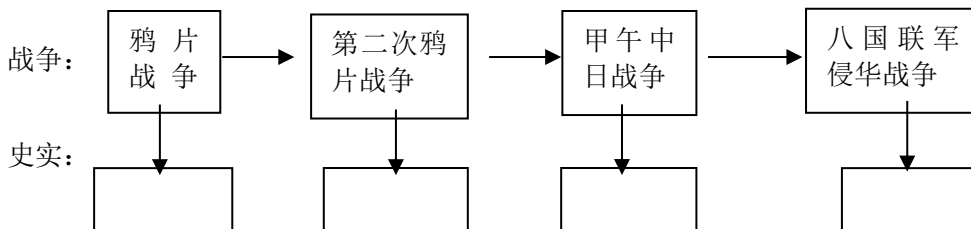
- (1) 从材料一中总结清朝统治者实行怎样的对外政策？
- (2) 从材料二中总结这一政策对中国社会产生的影响是什么？

### 6. 落后挨打

归纳整理下列史料，回答下面问题。（10分）

- ① 允许日本在通商口岸开设工厂
- ② 中国的主权和领土完整开始遭到破坏
- ③ 慈禧太后带着光绪帝仓皇逃离北京
- ④ 俄国趁火打劫，割占了中国东北和西北的大片领土

(1) 上面这组资料均与列强在19世纪中期到20世纪初发动的侵华战争有关。请你按“战争与史实”的对应关系填全下面的空格。



- (2) 甲午中日战争签订了哪一条约，该条约给中国社会带来了什么样的影响？
- (3) 从上述史实中，你认为清政府是什么样的？



# 历史试题答案



## 一、选择题（每小题 2 分，共 60 分）

下列各题均有四个选项，其中只有一项符合题目要求。请将正确选项前的字母填在答题纸上表格中的相应位置。

题号	1	2	3	4	5	6	7	8	9	10
答案	C	B	C	D	B	C	A	A	C	D
题号	11	12	13	14	15	16	17	18	19	20
答案	C	C	C	B	D	D	D	C	B	D
题号	21	22	23	24	25	26	27	28	29	30
答案	D	B	A	D	D	B	C	B	D	A

## 二、综合题（第 1 题 6 分，第 2 题 8 分，第 3 题 6 分，第 4 题各 6 分，第 5 题 4 分，第 6 题 10 分共 40 分）

创新与开放，促进发展和进步，保守与封闭，导致停滞和落后。

### 1. 制度创新

- 中书省、行中书省。
- 宣政院、澎湖巡检司。
- 民族融合、回族。

### 2. 经贸繁荣

- 图①北宋、图②金、从民族政权并立到完成统一。
- 到了北宋，南方的人口逐渐超过了北方。
- 经济重心南移。
- 劝农司、棉纺织业。
- 康乾盛世。

### 3. 航海壮举

- 非洲东海岸
- 和平交往，公平交易。
- 郑和下西洋连通了从中国到东非的航路，加强了明朝与亚非各国的友好往来。

### 4. 文化璀璨

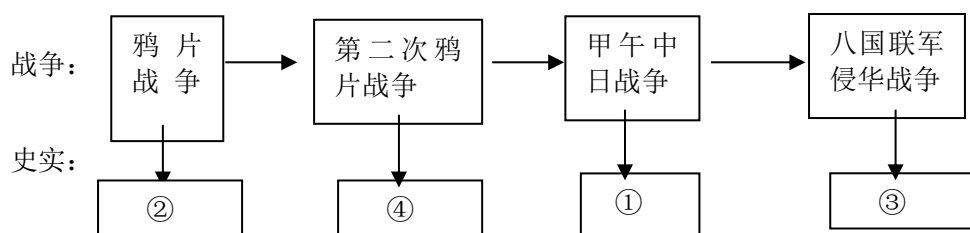
- |        |                       |
|--------|-----------------------|
| 《本草纲目》 | 浪漫主义长篇神话小说            |
| 《天工开物》 | 我国第一部长篇历史小说。          |
| 《西游记》  | 以北宋末年宋江起义创作而成的一部章回体小说 |
| 《三国演义》 | 我国古典小说的巅峰             |
| 《水浒传》  | 被誉为“东方医学巨典”           |
| 《红楼梦》  | 被誉为“17 世纪中国工艺百科全书”    |

### 5. 封闭落后

- 实行闭关锁国的政策。
- 使中国离世界发展的潮流，落后于世界进步步伐，社会危机日益严重。

### 6. 落后挨打

（1）上面这组资料均与列强在 19 世纪中期到 20 世纪初发动的侵华战争有关。请你按“战争与史实”的对应关系填全下面的空格。



- 中日《马关条约》、对中国的领土与主权的破坏空前严重，大大加深了半殖民地化的程度。
- 腐败、无能。（酌情给分）