



微信扫一扫，快速关注

北京市西城区 2018—2019 学年度第一学期期末试卷

七年级地理

2019.1

试卷满分:100分,考试时间:60分钟

一、你能选对吗?(50分)

下列各小题均有四个选项,其中只有一项符合题意要求;每小题2分;请你将答案填写在下面的答题框中(使用机读卡的学校请填写在机读卡上)。

题号	1	2	3	4	5	6	7	8	9	10	11	12	13
答案													
题号	14	15	16	17	18	19	20	21	22	23	24	25	
答案													

“谷歌地球”是一款虚拟的地球仪软件,它将各类地理信息布置在一个地球的三维模型上。图1示意“谷歌地球”。读图,完成1~4题。

1. “谷歌地球”

- A. 与地球形状完全一致 B. 可见实际存在的地轴
C. 仅提供某地点经纬度 D. 可呈现立体地表面貌

2. 当鼠标滑至甲点,该软件显示出其经纬度信息是

- A. 北纬10°,东经90° B. 北纬10°,西经90°
C. 南纬10°,东经90° D. 南纬10°,西经90°

3. 用“谷歌地球”模拟地球自转时,甲点将

- A. 沿纬线向左运动 B. 沿纬线向右运动
C. 沿经线向上运动 D. 沿经线向下运动

4. 从图1所示“谷歌地球”上可以判断我国

- A. 位于亚洲的中部,临太平洋 B. 大部分领土处于低纬度,东半球
C. 地跨热带、北温带和北寒带 D. 海陆兼备,海、陆交通条件便利




图1

当太阳直射时,人的影子在人体的正下方。图2(甲)为李蓉同学在我国南方某城市(116°44'E, 23°26'N)旅游时拍摄的照片,图2(乙)为地球公转示意图。读图,完成5、6题。



甲



乙

图2

5. 拍照当日,地球在公转轨道的位置最接近:

- A. ① B. ② C. ③ D. ④

6. 该季节北京市的昼夜长短情况(■表示黑夜,□表示白昼)应为

- A. ■□ B. ■□ C. ■□ D. □□

四位同学乘车到首都博物馆参观展览。在从公交站点到首都博物馆北门集合地点的过程中,四位同学开启微信位置共享,如图3(甲),姜山同学下公交车后看见的道路指示牌,如图3(乙)。读图,完成7、8题。

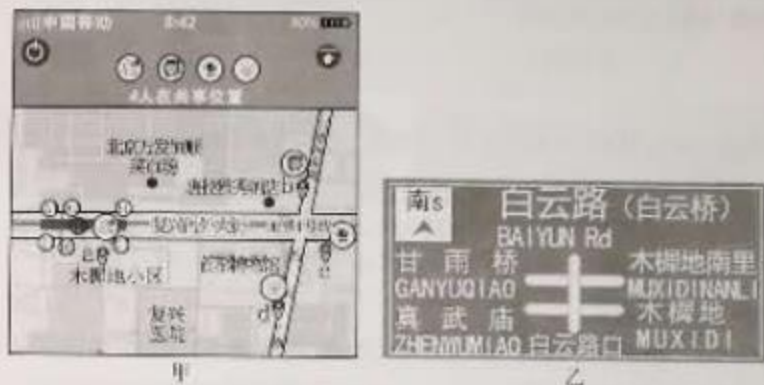


图3

7. 共享位置后,同学们在群里报告各自位置。其中正确的是

- A. a处同学说:“我刚出地铁东南口,在集合点正西位置。”
 B. b处同学说:“我朝正南方过马路正好与c处同学汇合。”
 C. c处同学说:“我正沿马路向东走,很快到达集合地点。”
 D. d处同学说:“我正沿马路往北走,前方是博物馆西门。”

8. 姜山同学下车后看见图3(乙)中所示路牌,他应在

- A. a处往东看 B. b处往北看 C. c处往西看 D. d处往南看

表1为2018年某月北京市连续一周的天气预报。读表,完成9-11题:

表1

周一	周二	周三	周四	周五	周六	周日
-3~4℃	-1~9℃	-4~7℃	-3~9℃	-2~7℃	-1~8℃	-5~4℃
☁☁	☉☾	☼☾	☼☾	☉☉☉	☉☉☁	☁☾
微风	微风	微风	微风	微风	微风转4-5级	北风4-5级

9. 这一周中,温差最大的是

- A. 周二 B. 周四 C. 周六 D. 周日

10. 表中天气符号“”所指的天气状况是

- A. 太阳 B. 白天 C. 晴朗 D. 多云

11. 根据天气预报,下列活动安排合理的有

- ①周二雪后初晴,可以和同学堆雪人
②周三空气清新,适宜骑车上学
③周五雾霾,各校停止室外体育活动
④周日风和日丽,去香山赏红叶

- A. ①② B. ①③ C. ②③ D. ③④

学习了中国行政区划后,同学们采用“口诀法”记忆我国省级行政区的相关知识:“京津福浙粤贵川,辽吉黑蒙宁陕甘……”。据此,完成12~14题。

12. 这两句口诀中,不是省级行政区简称的有

- A. 两个 B. 三个 C. 四个 D. 五个

13. 对口诀的解释,正确的是

- A. 京,指北京,行政中心为通州 B. 黑,指黑龙江,地处我国最东和最北
C. 贵,指广西,行政中心为南宁 D. 宁,指宁夏,为我国特别行政区之一

14. 以下地区少数民族种类最多的是

- A. 京津冀 B. 云贵川 C. 黑吉辽 D. 宁陕甘

图4为“中国沿北纬36°线附近地形剖面图”。读图,完成15~19题。

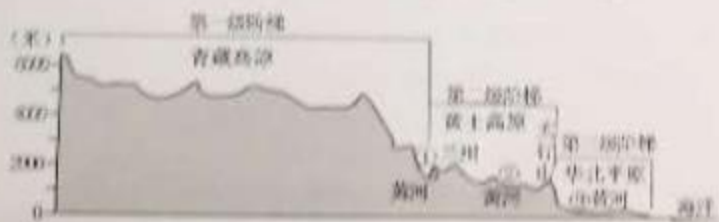


图4

15. 我国地势的显著特征为

- A. 种类丰富,以山地为主 B. 东高西低,呈斜坡状
C. 有高原和平原两大地形 D. 西高东低,呈阶梯状

16. 地势特征深刻影响我国地理环境。下列说法正确的是

- A. 大江东去,沟道南北 B. 阻碍了海上湿润空气深入内陆
C. 落差巨大,水能丰富 D. 冬季冷空气无法影响东部沿海

17. 图中地形区与其特征对应正确的是
- A. 华北平原——我国面积最大的平原
 - B. 太行山脉——为阶梯界线山脉
 - C. 黄土高原——地表平坦,黄土广布
 - D. 青藏高原——平均海拔 6000 米

18. 以下古诗词中提到的山脉属于阶梯界线山脉的有

①但使龙城飞将在,不教胡马度阴山。
③桂林山水甲天下,不及武夷一小丘。

②祁连山下烽如月,无定河边阵是云。
④曾经沧海难为水,除却巫山不是云。

- A. ①② B. ①③ C. ②③ D. ②④

19. 由图 4 可知黄河三次穿过北纬 36° 纬线。下列景观中,在③处观赏到的是



A

B

C

D

人们的衣着与自然环密切相关。图 5 为“我国四地的气温曲线和降水量柱状图”。读图,完成 20~23 题。

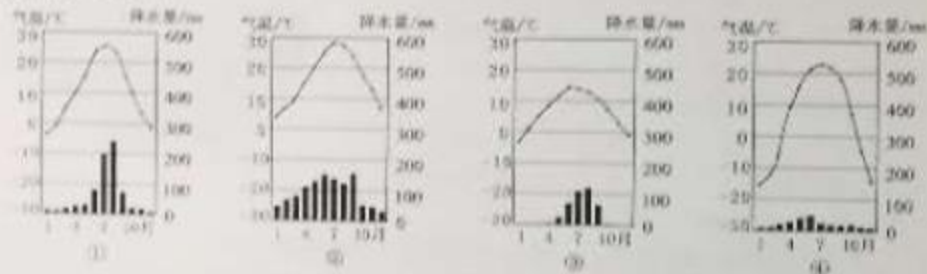


图 5

20. 关于图 5 中①~④四地气候特点的描述,正确的是

- A. ①地冬季温和多雨
- B. ②地终年高温多雨
- C. ③地夏季高温多雨
- D. ④地干旱、年温差大

21. ①地的气候类型为

- A. 热带季风气候
- B. 亚热带季风气候
- C. 温带季风气候
- D. 温带大陆性气候

22. 木屐即木底鞋,鞋底安有木齿或铁齿,可防湿、防滑。图 5 中①~④四地最适宜穿着木屐的是

- A. ①
- B. ②
- C. ③
- D. ④

23. 谢公屐是著名山水诗人谢灵运特制的木制旅游鞋(如图6),李白在《梦游天姥吟留别》中写道:“脚著谢公屐,身登青云端……”。谢公屐的特别功能及“天姥”应位于



图6

- A. 翻山越岭-东南丘陵 B. 涉水渡河-华北平原
C. 溯溪过滩-珠江三角洲 D. 穿越沙漠-塔里木盆地

有2018年“风王”称号的台风“山竹”于9月16日17时登陆。图7为中央气象台9月16日发布的“台风‘山竹’路径概率预报图”。读图,完成24、25题。

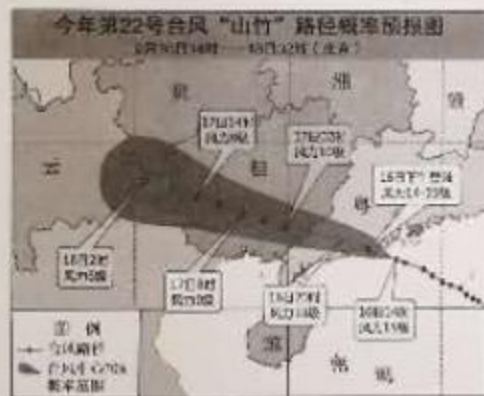
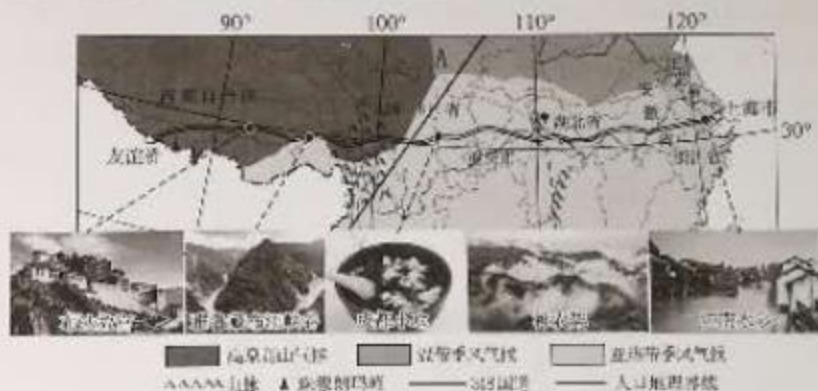


图7

24. 读图7可知,台风“山竹”
- A. 登陆前经过渤海 B. 在福建沿海登陆
C. 会带来狂风暴雨 D. 登陆后风力渐强
25. 台风“山竹”属于
- A. 气象灾害 B. 地质灾害 C. 生态灾害 D. 水文灾害

二、你能答对吗？(50分)

26. 从上海到西藏友谊桥长达5000多千米的318国道,是一条美景高度集中的景观长廊,被誉为“中国景观大道”。图8为318国道路线示意图。读图,回答下列问题。(19分)

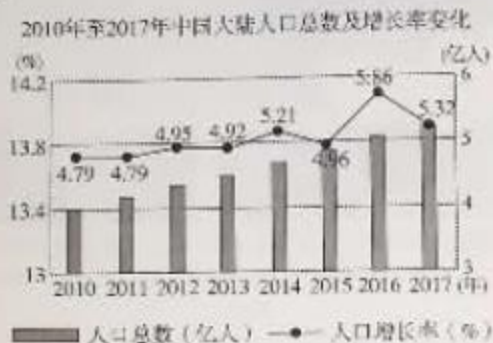


- (1) 318国道是我国连接省份最多的公路。它东起上海市,向西经江苏省、 、 等共 个省级行政区。
- (2) 318国道沿线自然景观类型齐全、多样,可以从以下角度分析:
- 地形角度:它东起于海平面,向西经过被称为“地球之巅”的 (山峰)附近,从我国地势的第 级阶梯到第 级阶梯,沿线地势落差巨大;从长江中下游平原到 盆地再到 高原,地形类型丰富。
- 气候角度:其与 纬线大致平行,跨越了我国 气候区和 气候区。从高温到高寒,从 到干旱,温度、湿度差异显著。
- (3) 318国道还是一条“人文巡礼”之路。其沿线人口密度变化大,A线以东为人口 (稠密/稀疏),A线以西则人口 (稠密/稀疏)。它还经过了我国少数民族聚居区,在游览山河美景的同时,我们还能感受到 族等少数民族的特色风俗。
- (4) 318国道,伸自然之大美,显人文之深奥。结合所学谈谈,若沿318国道去旅行,能看到、感受到哪些美丽风景、特色风俗?(3分)

27. 读图9“2010年至2017年中国大陆人口总数及增长率变化”和资料,回答下列问题。(10分)

资料一:据中国人口时钟统计显示,2018年10月27日05时19分21秒,中国人口达到14亿。占世界总人口的18.42%。

资料二:近年,根据人口发展状况,我国先后进行了3次人口政策的调整:2011年11月,我国全面实施“双独二孩”政策;2013年12月,我国实施“单独二孩”政策;2015年10月,我国实施“全面二孩”政策。



(1)目前我国人口总量居世界第_____位。据图可知,现阶段人口总量的变化特点为_____。(单项选择)

- A. 快速增长 B. 缓慢增长 C. 波动增长 D. 波动减少

(2)人口众多为我国经济发展提供了丰富的_____资源,但同时也带来了很多问题,例如:_____。

(3)近年来,我国人口增长率一直处于_____ (较高、较低)水平,老年人口比重的增加,使我国_____问题日益突出。

(4)_____是我国人口发展的基本国策。在不同时期,具体政策结合人口发展情况进行调整。据图9及资料二可知,2011年以来我国先后做了三次人口政策的调整,其中“_____”政策的施行,对人口增长率的影响较为显著。



(5)你是否希望自己有个小弟弟或小妹妹(或喜欢你的小弟弟或小妹妹)?谈谈你的观点和理由。(2分)

28. 初冬的周末,那铁同学一家来到北京郊区某滑雪场滑雪。图 10 为“该滑雪场等高线及雪道分布图”。读图,回答下列问题。(10 分)

(1) 该滑雪场总体地势特点为_____高,_____低。

(2) 那铁同学第一次参加滑雪运动,他需要先在教学区(①区域)的雪道上学习。从长度和坡度上看,这里的雪道特点为_____。

(3) 那铁妈妈首先在初级道(②区域)上进行热身,初级道起点海拔大约_____米,初级道落差最多不超过_____米。

(4) 在中级道(③)上热身,那铁爸爸乘缆车来到了位于_____ (地形部位)的高级道(④)起点。这条高级道的 AB 段沿_____ (山脊,山谷)而下,坡度较_____,你的判断理由是_____。



图 10

29. 图 11 为“我国长江、黄河流域图”。回答下列问题。(11 分)

(1) 长江流域与黄河流域毗邻,其分水岭为 A-巴颜喀拉山脉和 B-_____山脉。B 山脉还是我国 1 月_____℃等温线和_____毫米年等降水量线经过的山脉。

(2) 长江与黄河都属于_____ (外流河/内流河),分别注入_____海和_____海。相比之下,_____流域面积广。

(3) 两条河流中,被誉为“黄金水道”的是_____,其价值主要体现在_____,_____,灌溉等方面。

(4) 以下两句歌词,颂唱黄河的是_____。(选择填空)

①金涛澎湃 掀起万丈狂澜;浊流宛转 结成九曲连环

②你从雪山走来,春潮是你的丰采;你向东海奔去,惊涛是你的气概

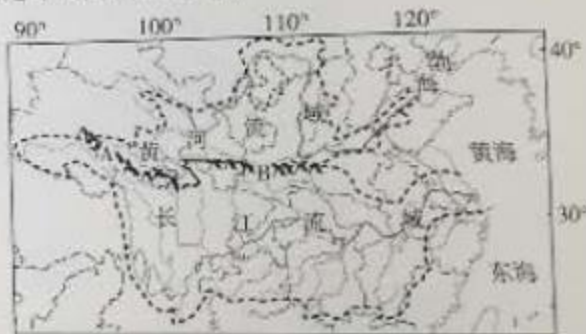


图 11

