



房山区 2018—2019 学年度第一学期终结性检测试卷

九年级道德与法治

考生须知

1. 本试卷共 10 页, 26 道题, 满分 90 分, 考试时间 90 分钟。
2. 在试卷和答题卡上准确填写学校、班级、姓名, 并在答题卡上粘贴准考证条形码。
3. 试题答案一律填涂或书写在答题卡上, 在试卷上作答无效。
4. 考试结束, 将答题卡交回, 试卷自行保存。

第一部分 选择题 (共 40 分)

一、本部分共 20 小题, 每小题 2 分。在每小题列出的四个选项中, 选出最符合题目要求的一项。

1. 2018 年 11 月 5 日至 10 日, _____ 在上海举行。吸引了 172 个国家、地区和国际组织参会, 3600 多家企业参展, 超过 40 万名境内外采购商到会洽谈采购。这一盛况, 正如习近平所说“不是中国的独唱, 而是各国的大合唱”。

- A. 博鳌亚洲论坛
- B. 中非合作论坛
- C. 上海合作组织峰会
- D. 首届中国国际进口博览会

2. 经党中央批准、国务院批复, 自 2018 年起我国将每年农历秋分设立为“_____”。在脱贫攻坚的关键时期, 在实施乡村振兴战略的开局之年, 设立这一节日将极大调动起亿万农民的积极性、主动性、创造性, 加快推进农业农村现代化。

- A. 中国农民丰收节
- B. 中秋节
- C. 农民文化体育节
- D. 重阳节

3. 习近平总书记对王继才同志先进事迹作出重要指示强调: 王继才同志守岛卫国 32 年, 用无怨无悔的坚守和付出, 在平凡的岗位上书写了不平凡的人生华章。我们要大力倡导这种精神, 使之成为新时代奋斗者的价值追求。



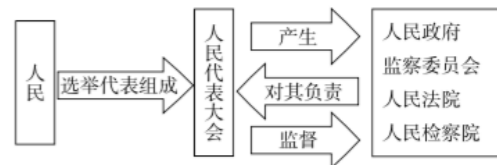
“时代楷模”王继才用实际行动诠释了_____的社会主义核心价值观。

- A. 民主、法治
- B. 民主、敬业
- C. 爱国、友善
- D. 爱国、敬业

下图是某位同学学习“国家机构”内容后完成的结构图。据此回答 4、5 题。

4. 从这张结构图中能够获取的正确信息的是

中华人民共和国的一切权力属于人民
人民通过直接选举选出代表组成人民代表大会



人民政府等国家机关由人民代表大会产生并对其进行负责

人民代表大会作为国家权力机关具有监督权

- A.
- B.
- C.
- D.

5. 结构图反映出我国的根本政治制度是

- A. 民族区域自治制度
- B. 基层群众自治制度
- C. 人民代表大会制度
- D. 中国共产党领导的多党合作和政治协商制度

6. 2018 年 8 月 31 日, 第十三届全国人大常委会第五次会议在北京召开, 会议表决通过了《电子商务法》, 自 2019 年 1 月 1 日起施行。今后, 保障电子商务各方主体的合法权益、规范电子商务行为有了一部专门法, 这也是我国电商领域首部综合性法律。《电子商务法》的颁布表明

全国人民代表大会有立法权
我国不断推进依法治国进程
我国法律体系已经非常健全
依法治国的前提是科学立法

- A.
- B.
- C.
- D.

7. 据统计, 截至 2017 年底, 我国民营企业数量超过 2700 万家。概括起来说, 民营经济具有“五六七八九”的特征, 即贡献了 50% 以上的税收, 60% 以上的国内生产总值, 70% 以上的技术创新成果, 80% 以上的城镇劳动就业, 90% 以上的企业数量。材料表明

- A. 民营企业已经成为我国国民经济发展的主体
- B. 民营企业为我国经济的发展做出了重要贡献
- C. 我国鼓励、支持、引导非公有制经济的发展
- D. 民营企业居于我国经济社会发展的主导地位

姓名
密封线内不能答题
班级
学校



微信扫一扫，快速关注

8. 在复习八下法律专册“公民基本权利”内容时，某校初三（2）班对生活中的法律问题展开讨论。下列判断正确的是

序号	事件	判断
①	细心的婷婷发现快递单“隐形”了，收件人的姓名不再显示全名，手机号码中的四位被*代替。	“隐形”的快递单保障了公民的财产权
②	罗先生通过媒体实名举报某国家机关工作人员刘某违法犯罪问题。经调查，情况属实，刘某依法承担法律责任。	罗先生依法行使了公民的监督权。
③	文文在爸爸拿回的工资单上看见本月扣除个人所得税457.2元。	依法纳税是公民的基本义务。
④	初二学生小丽妈妈开网店，收入可观，因缺少帮手，于是萌生了让小丽辍学帮忙的想法。小丽用所学的法律知识，说服了妈妈。	受教育既是公民的基本权利也是公民的基本义务。

A. B. C. D.

9. 中学生丹丹利用“双11”期间的促销活动，在某网站购置了一套书籍，到货后发现缺少一本，丹丹及时与商家沟通，商家立即赔礼道歉并及时补发，双方达成谅解。

丹丹采取的维权方法是

A. 调解 B. 协商 C. 仲裁 D. 诉讼

10. 2018年11月17日，人民日报发布微博开启话题：#中国一点都不能少#被网友不断转发。“中国”“中国台湾”“统一”“领土”“完整”“两岸一家亲”等成为了该条微博的转评热词，体现出网友对台湾属于中国、保持中国领土完整、两岸一家亲的声援；而“我爱你”则体现出网友对祖国的热爱。网友的行为表明

维护祖国统一是每个公民的基本义务

维护国家安全、荣誉和利益是每个公民义不容辞的责任

公民积极践行社会主义核心价值观

我们可以多履行义务，少行使权利

A. B. C. D.

11. 观察右图，对漫画理解正确的是

- A. 网络社会也需要恪守道德、遵守法律
- B. 网络信息都是不可信的，需高度警惕
- C. 青少年明辨是非能力弱，应远离网络
- D. 网络是虚拟的，应提高自我保护意识



12. 《个人所得税专项附加扣除暂行办法》于2019年1月1日起正式实施。“办法”指出，根据纳税人在子女教育、大病医疗、房贷利息和房租、赡养老人等不同的实际负担，个人所得税进行差异化的扣除。



下列对此理解正确的是

体现了社会的公平正义要求

说明党和政府关注民生，以民为本

反映出不同情况差别对待的平等内涵

违反了法律面前人人平等的原则

A. B. C. D.

13. 结合所学给右侧漫画添加标题，你认为最恰当的是



- A. 经济结构需不断优化
- B. 发展速度在不断变化
- C. 发展动力要不断转换
- D. 经济发展进入新常态

14. 下列表格中，除 外其他四项对应正确的是

序号	表现	发展理念
①	中国创造	创新
②	区域协调	协调
③	一带一路	绿色
④	美丽中国	开放
⑤	精准扶贫	共享

A. B. C. D.

15. 右图反映出的我国人口问题是

- A. 人口基数大，新增人口绝对数量多
- B. 男女性别比失衡、人口分布不平衡
- C. 全面二孩政策是对我国人口政策的调整
- D. 人口老龄化严重是我国人口的重要特点



密封线内不能答题



微信扫一扫，快速关注

密封线内不能答题

16. “坚持把优先发展教育事业作为推动党和国家各项事业发展的重要先手棋，不断使教育同党和国家事业发展要求相适应、同人民群众期待相契合、同我国综合国力和国际地位相匹配。”习总书记在 2018 年全国教育工作大会上的重要讲话，表明
- A. 我国坚持科教兴国、人才强国的发展战略
 B. 我国已经成功实现向人力资源强国的转变
 C. 我国教育的发展已经处于世界的领先地位
 D. 我国教育事业取得了举世瞩目的巨大成就
17. 从下列数据中，我们可以看出

中国四种主要资源现状

	耕地面积	森林面积	年产矿石	水资源
总量	第 4 位	第 6 位	第 3 位	第 6 位
人均	第 67 位	第 121 位	第 80 位	第 88 位

我国既是资源大国，又是资源小国

我国资源地区分布不平衡

必须建设资源节约型社会

我国资源取之不尽用之不竭

- A. B. C. D.

18. “双 11”购物狂欢后产生的包裹垃圾，越来越多引起公众的广泛关注。2018 年 8 月起，京东物流开始在部分城市尝试循环包装服务，苏宁物流则推出了“共享快递盒”。中国邮政还全面启动了包装减量、胶带瘦身、循环回收等计划。电商平台和快递企业的做法
- 有利于提高资源的有效利用率
 体现绿色低碳环保的发展理念
 符合节约资源和保护环境的基本国策
 从根本上解决了纸张和胶带浪费问题
- A. B. C. D.
19. 2018 年中国环境日的主题是“美丽中国，我是行动者”，倡导人们自觉践行绿色生活，共同建设美丽中国。下列做法符合这一主题的是
- 个别同学搞卫生时，洗刷墩布让水龙头一直开着，任意流淌
 小欣说服爸爸放弃购买燃油大排量汽车的想法，参加了新能源小汽车的摇号
 周末小刚一家外出，全家一致同意乘坐公交车出行
 社区提倡垃圾分类，小美的妈妈积极参与，对家里的垃圾进行分类投放
- A. B. C. D.

20. 甘肃张掖七彩丹霞景区内，一女游客翻越护栏拍照，工作人员对其行为进行制止，而女游客不以为然，随口反驳，执意在丹霞地貌中磨蹭了两三分钟才出来。而根据计算，女游客对丹霞地貌造成的踩踏破坏，需要至少 60 年的时间，才能恢复如初。下列网友对女游客行为的点评中，正确的是
- 小明：旅游拍照是她的权利，我觉得没有任何问题
 小青：应遵守旅游地区的相关规定，做文明的游客
 小华：公民应尊重自然，实现人与自然和谐共处
 小红：公民应该自觉保护珍贵的自然资源
- A. B. C. D.

第二部分 非选择题（共 50 分）

21. 停车难是困扰北京市民生活的一个大问题。为此，2018 年北京市政府在政府网站开展了“停车不再难 共建靠大家”的建言征集活动。市政府结合市民建议，对停车难问题进行了综合治理。

市民建议	治理后居民感受
王先生：政府部门应该出台政策，鼓励建设占地少、容量大、便利的停车场；同时提倡绿色出行。	李大哥：停车场改建后，我把车停在了立体停车场里，无需再为停车去排队了。
李女士：公民要树立公共资源，人人贡献的理念，不能把公共停车场变成自家小院。	王大爷：有了充足的停车位，大妈不再用小板凳占位了，也不再为争车位吵架了，邻里更和睦了。

- (1) 晚饭时，中学生小强的爸爸妈妈谈论起此事。小强想：以后我也要多参加这样的建言献策活动，有哪些方式可以参与呢？请你结合所学，为小强答疑解惑。（2分）
- (2) 晚饭后，小强跟爸爸妈妈说起自己的想法，没有得到爸爸妈妈的赞同：快中考了功课这么紧张，哪有时间，再说了也没有必要。请你帮小强想出几点理由说服爸爸妈妈。（4分）



微信扫一扫，快速关注

22. 2018年12月4日是我国第五个国家宪法日，也是中国首个“宪法宣传周”。我区某中学组织了宪法晨读、“争做宪法小卫士”知识竞赛等丰富多彩的主题宣传活动。



学校各年级积极落实宣传活动要求。活动中，初三(1)班同学制作了一期“宪法是国家的根本法”的手抄报，列出了如下几段法律条款。

《中华人民共和国宪法》	《中华人民共和国宪法》	《中华人民共和国未成年人保护法》
社会主义制度是中华人民共和国的根本制度。中国共产党的领导是中国特色社会主义最本质的特征。禁止任何组织或者个人破坏社会主义制度。	宪法的修改，由全国人民代表大会常务委员会或者五分之一以上的全国人民代表大会代表提议，并由全国人民代表大会以全体代表的三分之二以上的多数通过。法律和其他议案由全国人民代表大会以全体代表的过半数通过。	为了保护未成年人的身心健康，保障未成年人的合法权益，促进未成年人在品德、智力、体质等方面全面发展，培养有理想、有道德、有文化、有纪律的社会主义建设者和接班人， <u>根据宪法</u> ，制定本 <u>法</u> 。

(1) 请你结合板报内容，运用所学知识，对“宪法是国家的根本法”进行说明。(6分)

(2) 在“宪法宣传周”活动总结大会上，初三(2)班向同学们发出倡议。

请你结合所学知识，完成下面续写。

同学们：宪法是国家的根本法。宪法与我们每个人息息相关，我们的一生都离不开宪法的保护。所以，我们要_____。(2分)

23. 在道德与法治课上，某校初三(1)班开展了社会热点评述活动。同学们聚焦高铁“霸座”事件，展开讨论。

【事件回放】2018年8月21日，在济南西站开往北京的G334次高速动车组列车上，一男乘客不肯对号入座，强占女乘客的座位，还对前来劝阻的列车长和乘务员胡搅蛮缠，“我站不起来”“给找个轮椅呗”“我有座位在那儿，她可以去坐啊”，拒绝回到自己的座位。记录这一过程的视频发布到网上后，引发了网

友的热议：



做人太霸道！不强别人糖，不占别人座，是幼儿园宝宝的课程。作为成年人，公众场合强词夺理，也太没有廉耻心了！

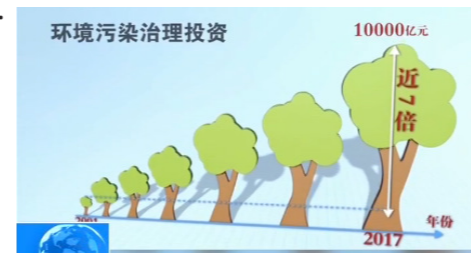
购票乘车是一种合同关系，该男子没有履行合同义务，不仅影响了那个女乘客的利益，也对乘车秩序造成了不良影响。



(1) 结合网友的评论，综合运用道德与法治的相关知识，评析该男子的行为。(6分)

(2) 为减少社会上类似“霸座”行为的出现，请你提出三条合理化建议。(3分)

24.



2018年12月18日，中央电视台新闻联播“改革开放40周年”报道：我国对环境污染治理的投资快速增加，比本世纪初增长近7倍。在上世纪90年代初，我国沙化面积以每年平均2000平方公里的速度增加，目前，却开始以每年同样的速度减少。清洁能源比重由2013年的15.5%提高到2017年的21%。清洁能源比重也从2013年的15.5%提高到2017年的21%。

目前，我国生态文明建设处在负重前行的关键时期，我国正在把经济建设、政治建设、文化建设、社会建设同生态文明建设统筹起来，确保到2035年，生态环境质量实现根本好转。

小芳在“时事播报”中与同学们分享了上述材料，同学们纷纷发表自己的看法：

小丽同学说：我国生态文明建设取得了决定性胜利，美丽中国目标已经实现。

小静同学说：刚一入冬，雾霾天就出现了，说明我国生态环境建设成效不大。

(1) 请结合所学知识和以上两位同学的看法，谈谈你的认识。(5分)

(2) 建设美丽中国，需要全社会的共同努力。作为青少年，我们应该怎样努力成为生态环境的守护者？(2分)



微信扫一扫，快速关注

姓名

密封线内不能答题

班级

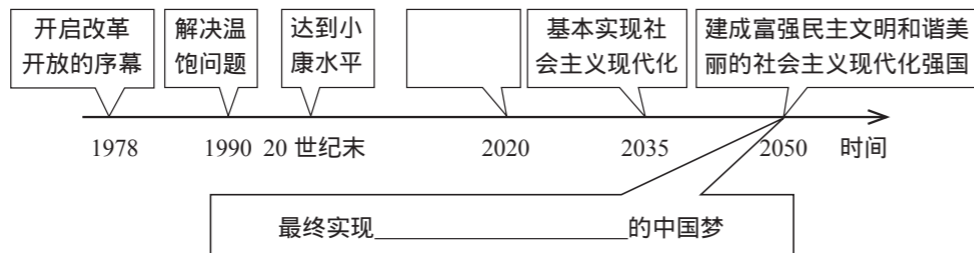
学校

25. 2018年11月13日，“伟大的变革—庆祝改革开放40周年大型展览”在中国国家博物馆开幕。展览充分展示了40年来人民群众生产生活发生的伟大变迁，中华民族迎来了从站起来、富起来到强起来的伟大飞跃。

展厅里，某校初三年级的同学们在认真观看展览，有的同学结合道德与法治课上所学，记录着一些感兴趣的数据。

从1978年到2017年，中国粮食年产量从3亿吨跨越到超过6亿吨，肉蛋奶果菜茶和水产品等日益丰富，全国居民人均可支配收入从171元增长到25947元，扣除物价因素，实际增长22.8倍。全国农村贫困人口从7.7亿人减少到3046万人，贫困发生率97.5%降低到3.1%，中国对全球减贫贡献率超过了70%。国内生产总值由3645亿元迅速跃升至82.7万亿元，跃居为世界第二大经济体。中国GDP在世界的占比由1.8%上升至15%，连续多年对全球经济增长的贡献率更是超过30%，成为世界经济增长的主要稳定器和动力源。

- (1) 从数据中可以看出，我国经济发展取得的巨大成就表现在哪些方面？(2分)
(2) 中国仅用短短40年走过了许多发达国家两百年所走的路，创造了人类发展史上的伟大奇迹。请分析奇迹发生的原因。(3分)
(3) 参观结束，在返回学校的路上同学们还在兴奋地谈论着。一位同学发出这样的感叹：“过去40年，中国取得举世瞩目的成就。目前，我们国家要集中精力解决面临的主要问题，可以适当放慢脚步了。”你同意这位同学的说法吗？谈谈你的理由。(3分)
(4) 回到学校，一位同学做了一份改革开放以来我国社会主义建设的时间表、路线图，请你帮他在方框中填入正确的内容。(2分)



26. 材料一：2018年10月24日建成通车的港珠澳大桥，是一座人类建设史上迄今为止里程最长、投资最多、施工难度最大、设计使用寿命最长的跨海公路桥梁。英国《卫报》将港珠澳大桥称为“新世界七大奇迹之一”。

总设计师林鸣和带领他的工程师团队，充分发扬大国工匠精神，刻苦钻研，自主研发，因此新材料、新工艺、新设备、新技术层出不穷。仅新专利就达400多项，其中7项为世界之最，在多个领域填补了空白。

材料二：

Table with 4 columns: Country, Contribution to Tech Progress (%), Dependence on Foreign Tech (%), and Patents per 10,000 people. Rows include World's New Countries and China.

- (1) 阅读材料，结合所学知识，谈一谈你对我国科技创新发展现状的认识。(2分)
(2) 看到以上材料后，甲乙两位同学发表了不同看法：甲：科技创新扬国威、增国力，应大力加强。乙：科技创新耗时耗力，其实没有太大必要。请从中任选一个观点进行评析。(6分)
(3) 为使我国尽快迈入“创新型国家”行列，请你从国家、社会、企业、个人任选一个角度，分别提出两条建议。(2分)