

2018 北京昌平区初三（上）期末

地 理

(90 分钟，满分 90 分)

2018. 1

第一部分：选择题（每题 1 分，共 40 分）

地球仪是我们认识地球的工具，是地球的模型。观察地球仪(图 1)，回答 1-4 题。

1. 地球的形状为

- A. 圆形 B. 球体 C. 方形 D. 弧形

2. 不能描述地球大小的是

- A. 陆地平均海拔 B. 赤道周长 C. 陆地平均半径 D. 地球表面积

3. 下列有关经纬线的叙述，正确的是 A. 经线是连接南北两极的弧线，指示南北方向，长度相等，共 360 条 C. 纬线与经线垂直，本初子午线是最长的一条纬线

D. 在同一条纬线上的地点，时间相同

4. 图中A点的地理坐标为

- A. 23.5° N, 60° W B. 30° N, 60° E
C. 23.5° N, 60° E D. 30° N, 60° W



图1

读北京市2017年12月7日和8日的日出日落时间及天气预报(表1) 12月7日24小时整点天气预报图(图2) 回答5-11 题。 表1

日期	日出/日落时间		天气现象		气温(°C)		风力
7日	日出	07:22	白天		最高	5	3-4级(阵风6-7级)转2级 大风蓝色预警
	日落	16:49	夜间		最低	-3	
8日	日出	07:23	白天		最高	6	2-3级
	日落	16:49	夜间		最低	-4	

北京市24小时整点天气预报 (12月07日)

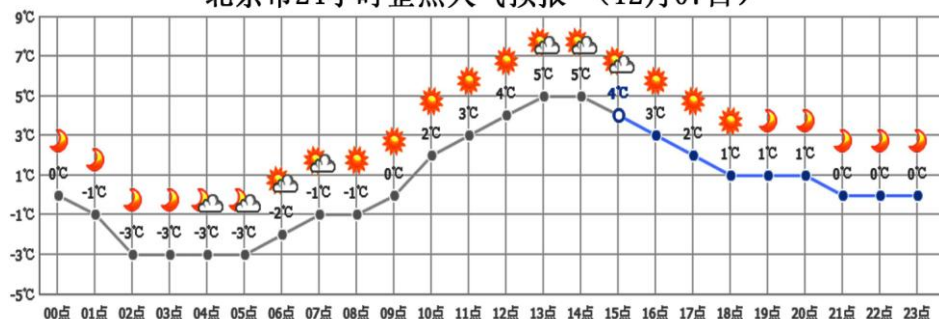


图2

5. 8日比7日

- A. 白天气温低 B. 夜间气温高 C. 气温日较差大 D. 气温日较差小

6. 7日气温最高值开始出现在

- A. 12点左右 B. 13点左右 C. 16点左右 D. 18点左右

7. 下列描述与8日天气符合的是



A. 阴雨绵绵 B. 烈日炎炎 C. 狂风大作 D. 天气晴朗

8. 北京市大风预警级别由低到高排序, 正确的是

①蓝色 ②黄色 ③红色 ④橙色

A. ①②③④ B. ①②④③ C. ③④②① D. ①④②③

9. 大风天气, 以下做法不安全的是

A. 停止高空作业和水上活动 B. 妥善安置室外物品
C. 减少外出谨防高空坠物 D. 进行户外攀岩活动

10. 一般大雪节气时, 我国大部分地区的最低温度都降到了 0°C 或 0°C 以下, 雪下得大、范围广。2017年12月7日, 大雪节气, 但全国大部分地区出现了“大雪未见雪”的现象。关于“大雪未见雪”中, 第二个“雪”字解释正确的是

A. 大雪节气 B. 冬季湿冷
C. 降雪天气 D. 气候变化

11. 表1的各种现象中主要由地球自转引起的是 A. 不同日期日出日落的时间不同 B. 不同日期都具有昼夜现象 C. 晴天气温高, 阴天气温低 D. 出现大风降温天气

国际上普遍认为: 人口老龄化是指一个国家或地区65岁及以上老年人口 占总人口比重达到或超过7%, 图3为中国与世界65岁及以上老年人口比重统计与预测图, 据此回答12-14题。

65岁及以上老年人口比重 (%)

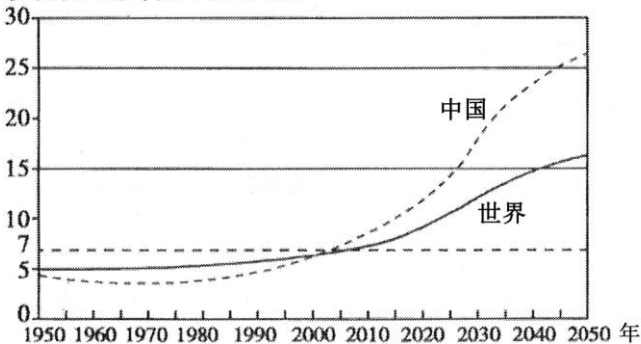


图3

12. 我国65岁及以上老年人口比重超过世界平均水平的年份大致为

A. 1995年 B. 2003年 C. 2010年 D. 2025年

13. 人口老龄化会使中国和世界面临的主要社会问题有

A. 就业困难 B. 劳动力充足 C. 儿童入学难 D. 社会养老压力大

14. 2016年1月1日, 我国计划生育政策调整为“全面实施二孩”该政策有利于

A. 迅速提高人口素质 B. 降低人口出生率
C. 降低人口增长速度 D. 缓解人口老龄化

读中国土地利用类型统计图(图4)和中国土地资源利用类型分布图(图5)回答15、16题。

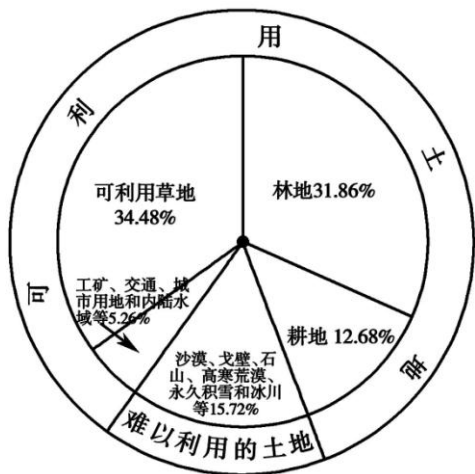


图4

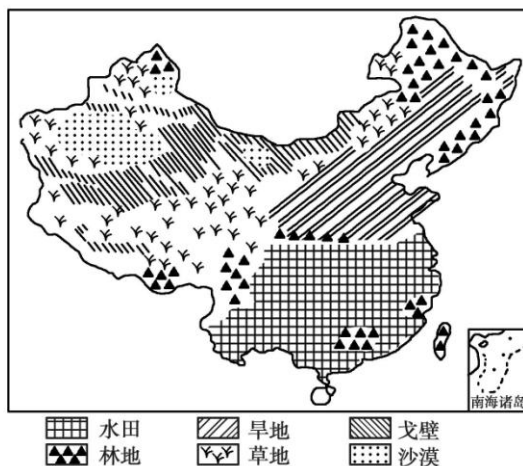


图5

15. 关于我国土地资源的叙述, 正确的是

- A. 我国土地利用类型齐全, 耕地多, 草地少
- B. 耕地主要分布在东部平原、丘陵和盆地
- C. 林地主要分布在内陆高原和山地
- D. 草地主要分布在东北山区和青藏高原

16. 本着“因地制宜, 合理布局”的原则, 下列做法合理的是

- A. 山地迎风坡降水多, 可大面积种植水稻
- B. 草地地区, 大力增加牲畜数量, 提高草场利用率
- C. 在城市郊区, 发展肉、乳、禽、蛋生产
- D. 扩大城市规模, 将耕地变成城市建筑用地

“世界那么大, 我想去看看。”每年的 10 月底到次年 3 月中旬, 是南极旅游的旺季。运用所学知识回答 17-18 题。

17. 人们在此期间去南极旅游, 是因为该地区

- A. 冰雪融化, 地表裸露
- B. 最为寒冷, 冰层坚硬
- C. 白昼较长, 正值暖季
- D. 可观察到极夜现象

18. 下列做法有利于南极可持续发展的是

- A. 加强国际合作, 保护南极环境
- B. 为发展经济, 大规模开采矿产资源
- C. 开发建设居民点, 鼓励大量移民
- D. 在南极海域猎杀鲸鱼, 增加食物资源

读欧洲西部地形图(图6), 回答19-21题。



图6

19. 关于欧洲西部地理位置特征的描述, 正确的是

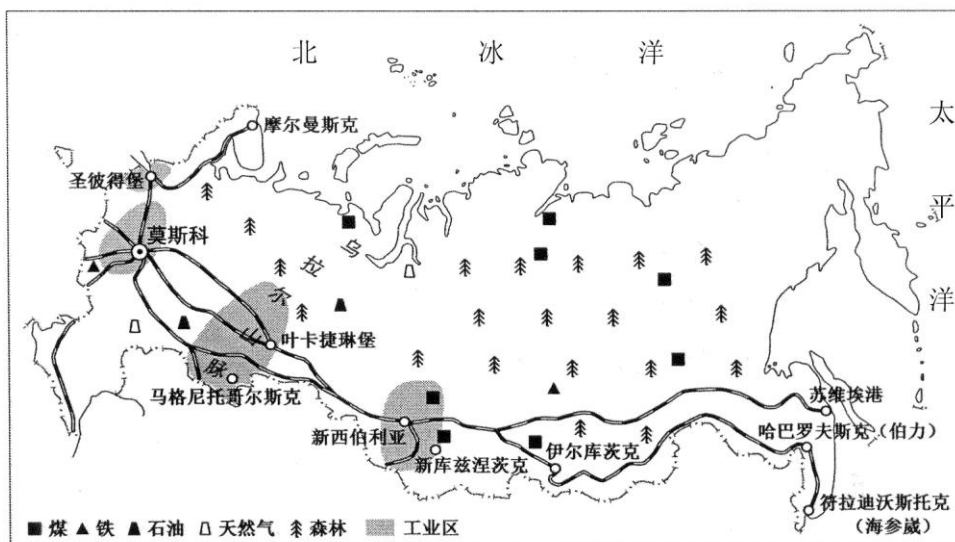


图9 表2

主要出口商品	出口额(亿元)
原油	1070.5
木材	110.4
农产品	106.6
成品油	99.3

26. 关于俄罗斯工业区分布的叙述，正确的是
- A. 新西伯利亚工业区位于欧洲部分
 B. 乌拉尔工业区位于亚洲东部
 C. 圣彼得堡工业区位于太平洋沿岸
 D. 莫斯科工业区位于欧洲部分
27. 俄罗斯与我国的贸易往来大多采取的交通运输方式是
- A. 公路运输
 B. 铁路运输
 C. 航空运输
 D. 水路运输
28. 关于俄罗斯铁路分布的叙述，错误的是
- A. 南部密集, 北部稀疏
 B. 西部密集, 东部稀疏
 C. 以圣彼得堡为中心, 建有放射状的铁路网
 D. 西伯利亚大铁路横贯东西,
29. 在中俄贸易中, 俄罗斯是中国某种能源的重要供应国, 该种能源是
- A. 铁矿石
 B. 煤炭
 C. 石油
 D. 木材

读日本山脉、河流分布示意图(图10), 回答30-36题。



图10



30. 日本的地形特征是
- A. 以山地为主
B. 以山地和平原为主
C. 山地分布在日本的南部
D. 地势北高南低
31. 当日本受冬季风控制时, 东京的气候特征为
- A. 寒冷干燥 B. 炎热干燥 C. 温和湿润 D. 高温多雨
32. 关于日本河流的叙述, 错误的是
- A. 流速平稳 B. 流域面积小 C. 河流短小 D. 流量季节变化大
33. 日本的太平洋沿岸地区年降水量多达3 000毫米, 而濒临日本海沿岸的地区年降水量较少。影响两地降水差异的主要因素是
- A. 纬度位置 B. 经度位置 C. 海陆位置 D. 地形
34. 日本多地震是因为它地处两大板块交界处, 这两大板块是
- A. 亚欧板块和印度洋板块 B. 太平洋板块和印度洋板块
C. 亚欧板块和大西洋板块 D. 亚欧板块和太平洋板块
35. 2011年3月11日, 日本发生了强烈地震并引发了海啸, 对日本经济造成巨大损失, 这主要是因为该国的城市和工业区多分布在
- A. 太平洋沿岸 B. 日本海沿岸 C. 内陆地区 D. 日本境外
36. 属于日本发展外向型经济的有利条件是
- A. 海运便利 B. 人口稀少 C. 资源匮乏 D. 国土面积狭小
- 读巴西人口分布图(图11)和巴西人种统计图(图12), 回答37-40题。

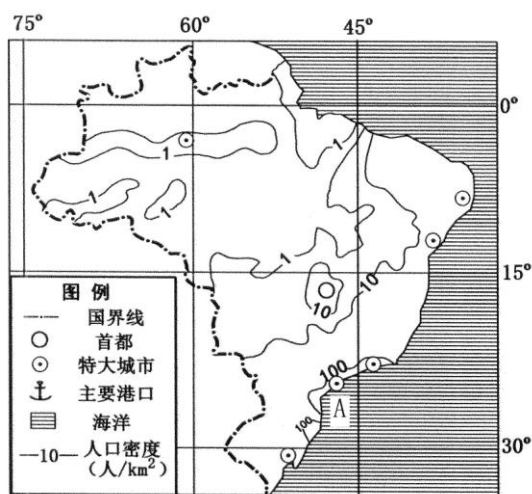


图11

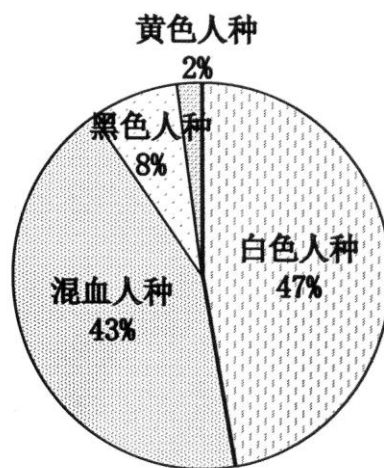


图12

37. 巴西人口集中分布在
- A. 北部平原 B. 河流沿岸 C. 高原中部 D. 东部和东南部沿海
38. 图中城市A的人口密度为
- A. 1人/km² 以下 B. 1—10人/km²
C. 100人/km² 以上 D. 10—100人/km²
39. 1960年, 巴西将首都迁至巴西高原中部的巴西利亚(47° 56' W, 15° 47' S), 这里四季如春, 适宜人们居住是因为
- A. 地形平坦开阔 B. 纬度低, 海拔高, 气候凉爽
C. 位于中纬度, 温度适宜 D. 距海近, 受海洋调节 降水丰富
40. 巴西的主要人种为

- A. 混血人种和黑色人种
- B. 白色人种和混血人种
- C. 白色人种和黄色人种
- D. 黄色人种和黑色人种

第二部分：非选择题（共50分）

41. 图13为某校秋游地点的等高线地形图。阅读材料，回答下列问题。(9分)

同学们设计了三个秋游活动方案：从甲村出发，方案 1：攀登山峰，锻炼 体质。方案 2：观赏瀑布，感受自然。方案 3：游览民俗村，体验文化。

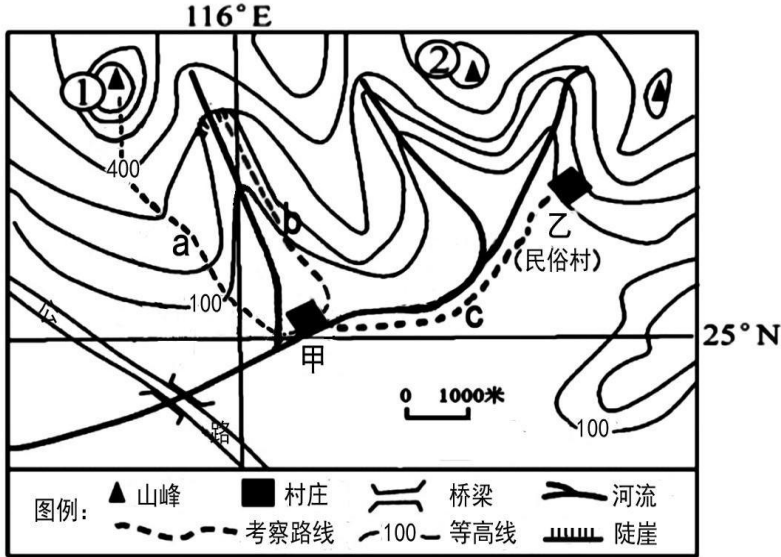


图13

- (1) 方案1对应图中路线_____ (a\b\c), 这条路线主要沿_____ (地形部位) 前进。(2分)
- (2) 方案2的同学们在沿河行走过程中, 看到该河流的流向_____。(1分)
- (3) 三个方案中, 你建议体力欠佳的同学选择方案 _____, 原因 是_____。(2分)
- (4) 傍晚, 部分同学登上了①山峰, 看到阵阵炊烟从甲村飘向自己所在的位置, 当时的风向是__风。(1分)
- (5) 图中①、②两山峰中海拔较高的是_____该山峰的海拔高度可能是() (2分)

- A. 526米
- B. 690米
- C. 735米
- D. 823米

(6) 当地政府计划在①、②两山峰之间修建索道, 索道的长度约为_____米。(1分)

42. 蜂蜜是蜜蜂采集盛开花朵的花蜜酿造而成。养蜂人老张带着一箱箱的蜜蜂, 寻找着蜜源充足、交通方便、花期衔接、场面宽敞的放蜂场地, 制定合适的放蜂路线(图14)图15为老张的蜂车。阅读图文资料, 回答下列问题。(11分)



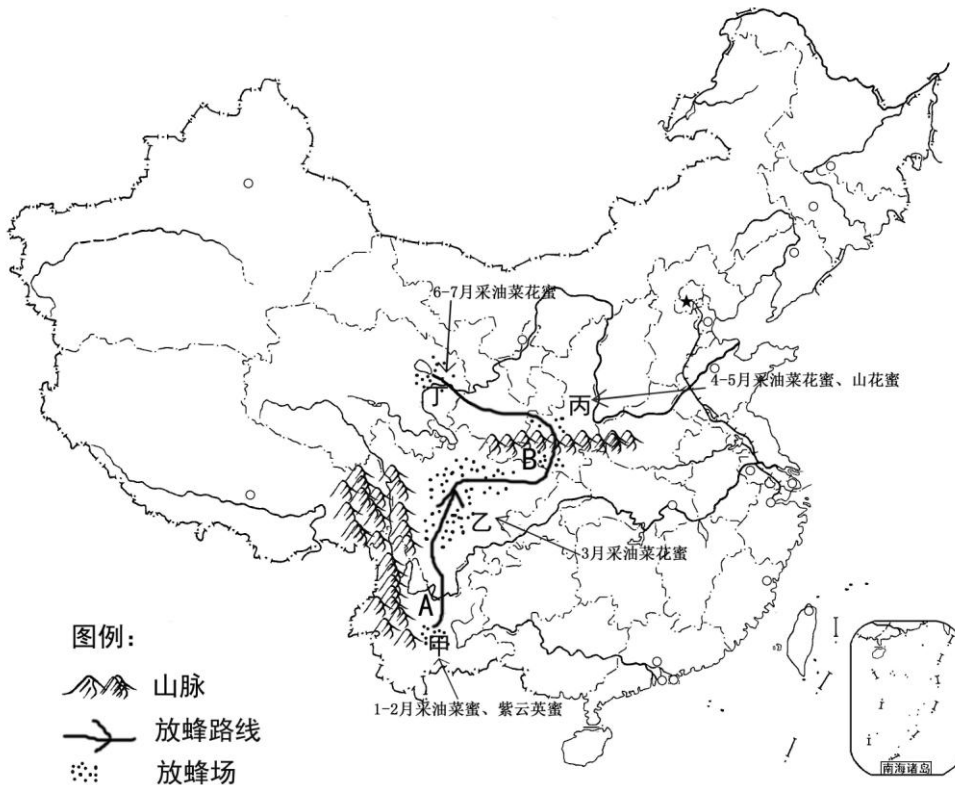


图14



老张的蜂车 图15

- (1) 甲、乙、丙、丁四地油菜花期最早的是_____地，从纬度位置上看属于_____（低、中、高）纬度地区，该地油菜开花时，北京最有可能出现的景象是___。(3分)
 A. 春花烂漫 B. 绿树成荫 C. 彩叶缤纷 D. 枝叶凋零
- (2) 2月底，老张从甲地出发去乙地，穿越A _____（河流）时，他发现该河_____（结冰/未结冰）。4月中旬，老张穿越了B _____（山脉）到达丙地，山脉南北两侧自然景观差异明显，说出该山脉地理意义。（一条即可）(4分)
- (3) 6月底，老张进入丁地，发现当地月平均气温不足18℃，请为老张说明原因。(1分)
- (4) 老张每到一个地方都会给儿子小明寄一张当地的明信片，写出可能出现在邮戳上的省级行政区的简称_____。（一个即可）(1分)
- (5) 老张放蜂途中选择的交通运输方式是_____，老张选择的理由是_____。(2分)

43. 姜峰和李华两位同学搜集了亚洲大陆部分高原、平原及河流分布图（图16）和亚洲气候类型分布图（图17）等资料，合作探究，绘制了亚洲自然地理特征的思维导图，请帮他们完成相关内容。(8分)

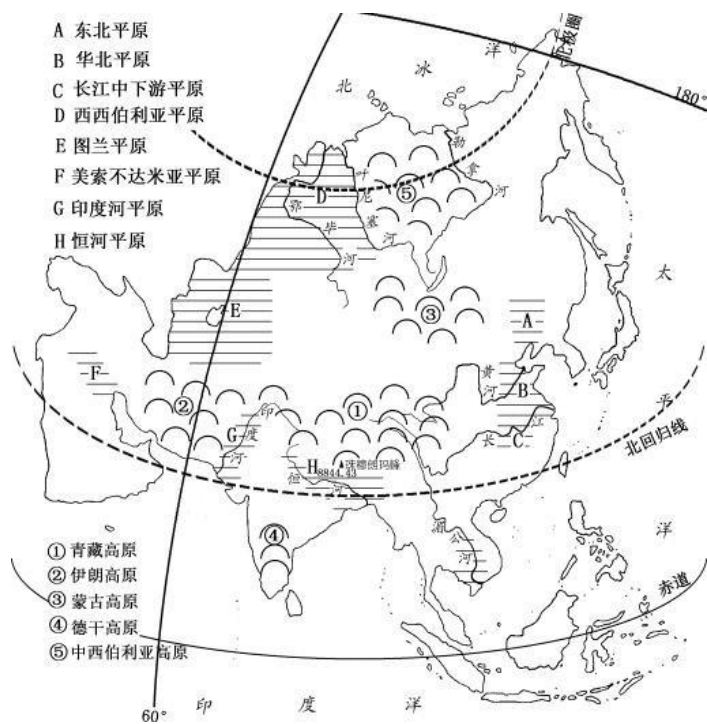


图16

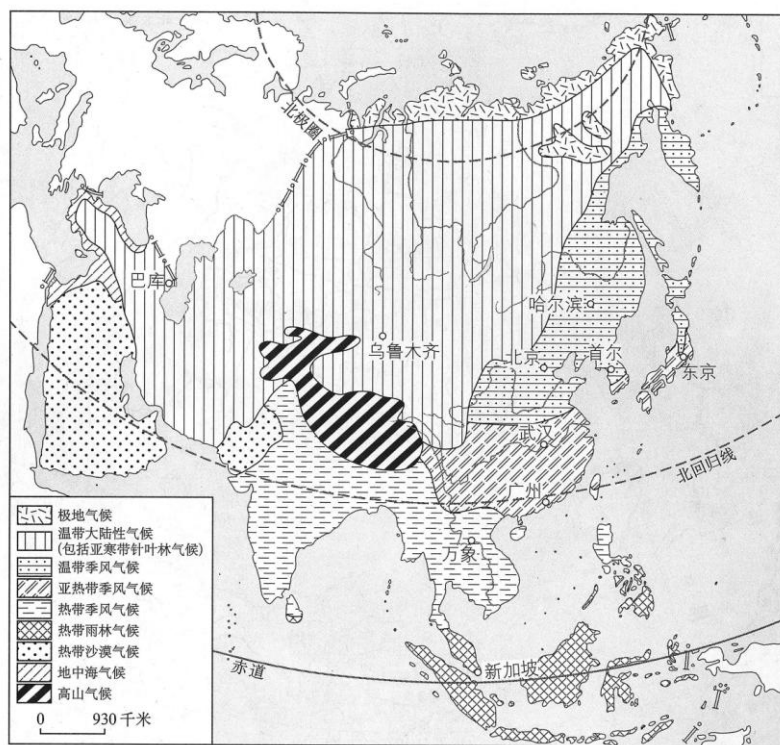
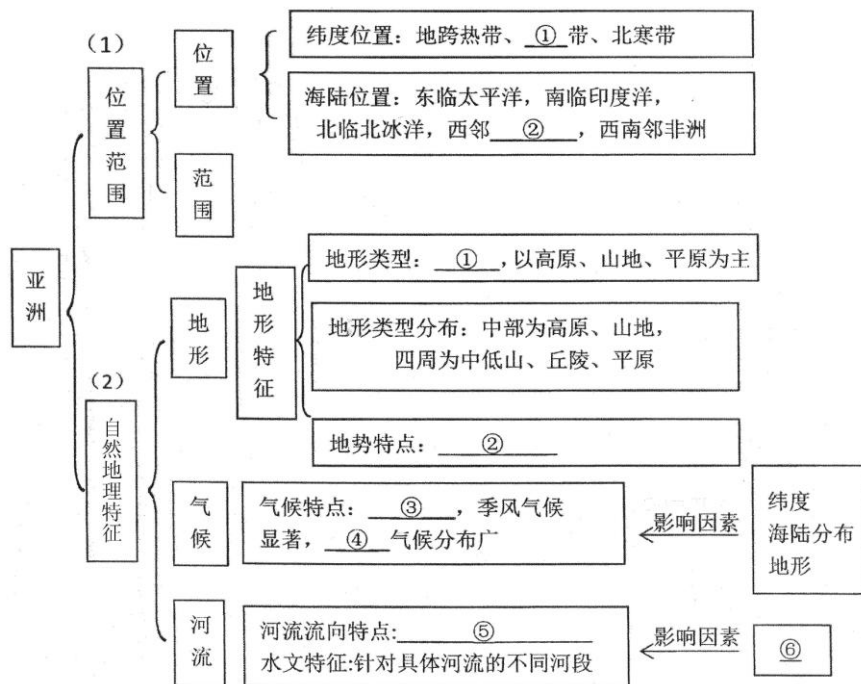


图17



44. 读雨燕迁徙路线图（图18）和非洲气候类型分布图（图19）回答下列问题。（10分）

材料1: 雨燕是北京地区典型的夏候鸟, 为更好地研究、保护雨燕, 科研人员绘制了 2014~2015 年北京雨燕迁徙线路图。

材料 2: 根据目前的数据来看, 雨燕在迁徙的过程中会选择在某些地点徘徊停留, 时间上基本与当地的雨季吻合。温暖湿润的气候能够促进当地昆虫的大量羽化, 为雨燕提供充足的食物以补充能量。

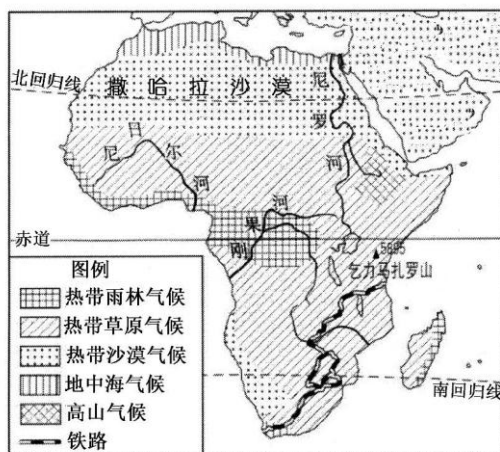
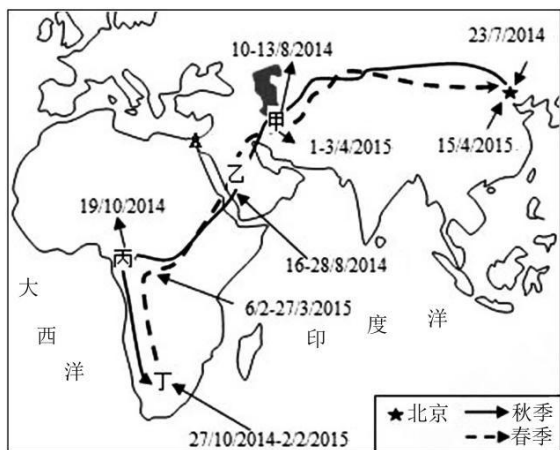


图 18

图19

(1) 北京雨燕迁徙跨越亚非两大洲, 图中A为亚洲和非洲的分界线_____运河, 亚非两洲共同面临的大洋是_____。(2分)

(2) 北京雨燕穿越乙地所在_____半岛期间, 可能看到的景象有() (3分) A. 穿白袍缠白头巾的人 B. 乘着雪橇出行的居民 C. 广袤平原上河网密布 D. 沙漠里有高耸的井架

(3) 北京雨燕途经的丙地和丁地都属于_____地区, 该地区是_____色人种的故乡, 该地区气候类



型的分布有一定的规律性，大体上以_____为轴南北对称分布。(3分)

(4)北京雨燕越冬地丁地的气候类型是_____

，雨燕在此地停留的月

份正值该地的_____季（干/湿），昆虫较为丰富，能满足雨燕的食物需求。(2分)

45. 泰国是目前中国人赴东南亚旅游的最大目的地国家，北京的小明寒假去泰国旅游，请结合小明出行前搜集的东南亚地图（图20），泰国地形图（图21），曼谷气温曲线和降水量柱状图（图22）以及他在泰国的见闻，回答下列问题。

(12分)

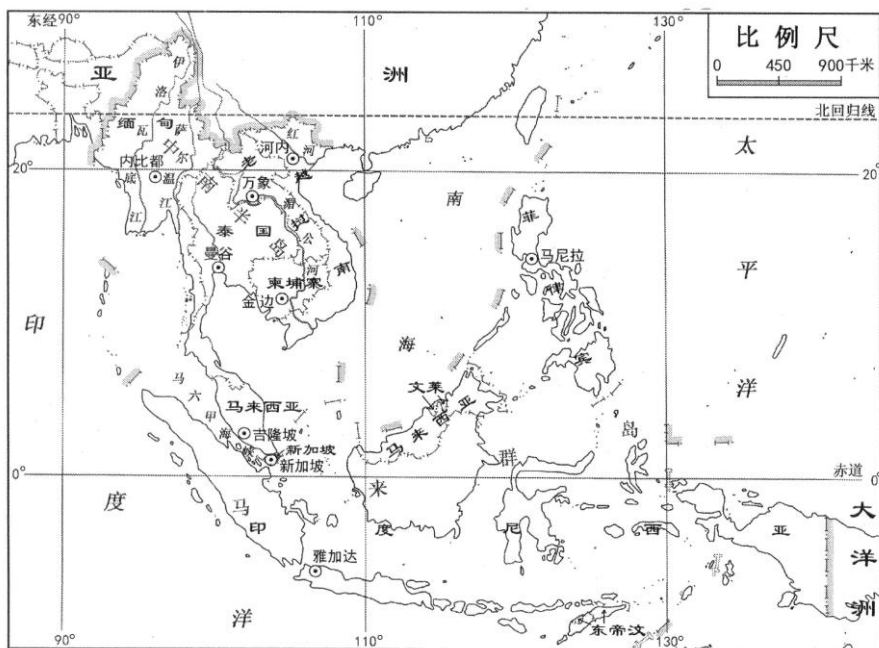


图20

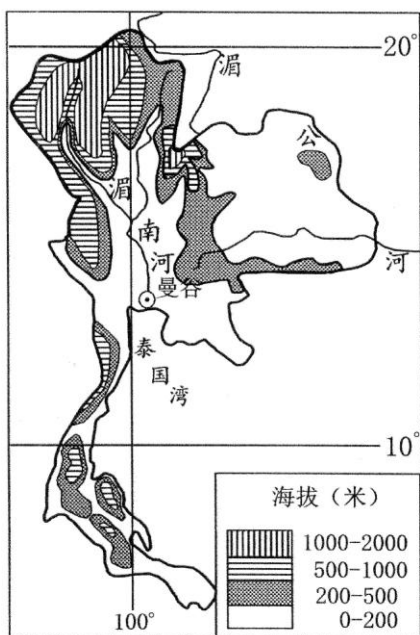


图21

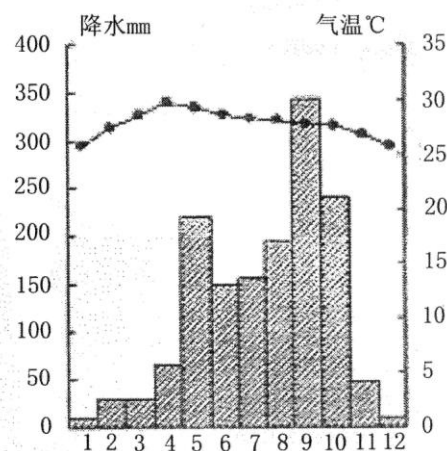


图22

(1) 小明从网上收集了关于泰国的资料，但有多处错误，请你帮他选出一条 错误的内容，将原文抄写出来____。(1分) 资料①泰国位于亚洲的中南半岛 ②北回归线穿过泰国南部 ③泰国东 南部和西南部临海是一个海陆

兼备的国家 ④泰国的地形以山地为主，

平原面积狭小 ⑤地势北高南低湄南河自北向南注入海洋 ⑥泰国是典型的热带季风气候，全年高温多雨

(2) 小明希望体验的旅游项目，在泰国可能实现的 () (2分)

- A. 骑着大象在热带丛林中漫步
- B. 欣赏美丽的极光
- C. 在沙漠中仰望满天繁星
- D. 在海边享受日光浴

(3) 飞机降落曼谷机场后，小明将登机时穿的衣服换成夏装，请你从地理位置的角度说明小明换装的原因。(2分)

(4) 小明来到曼谷，看到街上人来人往，车水马龙，了解到曼谷是泰国最大的城市。以下是小明关于曼谷的分析，请运用所学知识帮他找到真正原因 () (2分)

- A. 临近海洋，交通便利
- B. 地处山区，风景秀丽
- C. 靠近湄南河，航运便利，水源充足
- D. 纬度较低，气候适宜

(5) 小明参观了当地许多寺庙，这些是_教的典型建筑，欣赏了著名的四面佛。(1分)

(6) 在湄南河畔，小明了解到此时湄南河处于_(枯或丰)水期。早晨，他乘船游览了水上集市，并拍摄了照片(图23)，请帮他分析自然环境是如何影响当地传统建筑的。(3分)



图23

(7) 大巴车行驶在曼谷郊区，小明看到道路两侧成片的农田，农田中可能种植的农作物是 () (1分)

- A. 青稞
- B. 冬小麦
- C. 水稻
- D. 谷子



地理试题答案



第一部分：选择题（每题1分，共40分）

序号	1	2	3	4	5	6	7	8	9	10
答案	B	A	A	C	C	B	D	B	D	C
序号	11	12	13	14	15	16	17	18	19	20
答案	B	B	D	D	B	C	C	A	D	A
序号	21	22	23	24	25	26	27	28	29	30
答案	A	C	A	D	B	D	B	C	C	A
序号	31	32	33	34	35	36	37	38	39	40
答案	C	A	D	D	A	A	D	C	B	B

41. (共 9 分)

第二部分：非选择题（共50分）

- (1) a(1分) 山脊(1分)
 (2) 自西北向东南(1分)
 (3) 3(1分) 等高线稀疏，坡度较缓（地形较平坦、海拔高度变化小）可以节省体力(1分)
 (4) 东南 (1分)
 (5) ① (1分) C(1分)
 (6) 5400-5600之间即可(1分)

42. (共 11 分)

- (1) 甲 (1分) 低 (1分) D (1分)
 (2) 长江 (1分) 未结冰 (1分) 秦岭 (1分) 800毫米等降水量线，或 一月 0° C等温线，或南北方分界线，或水田与旱地的分界线，或亚热带与温带 的分界线等 (1分) (3) 丁地位于青藏高原，海拔高，气温低 (1分)
 (4) 云(滇)、川(蜀)、陕(秦)、甘(陇)、青 任意一个即可 (1分)
 (5) 公路运输 (1分) 机动灵活 (或点到点、便于停靠、门到门、适应性强) (1分)

43. (共 8 分)

- (1) ①北温 (1分) 欧洲 (1分)
 (2) ①地形复杂多样类型多样(1分) ②地势中部高、四周低 (1分)
 ③气候类型复杂多样 (气候类型多样)(1分) ④大陆性气候 (1分)
 ⑤河流呈放射状 (辐射状) 流向四周 (1分) ⑥地形 (1分)

44. (共10 分)

- (1) 苏伊士 (1分) 印度洋 (1分)
 (2) 阿拉伯 (1分) AD (2分)
 (3) 撒哈拉以南非洲 (1分) 黑 (1分) 赤道 (1分)
 (4) 热带草原气候 (1分) 湿 (1分)

45. (共 12 分)

- (1) ②北回归线穿过泰国南部 ④泰国的地形以山地为主，平原面积狭小⑥泰 国是典型的热带季风气候，全年高温多雨（三选一，注意抄写规范)(1分)
 (2) AD (2分)
 (3) 曼谷纬度比北京低 (1分) 此时段的气温比北京高 (1分) (4) AC (2分)
 (5) 佛 (1分) (6) 枯 (1分)

底部架起，远离河面——河流纵横，便于水流通过且可以搭建出建造空间； 四面开窗——气候湿热便于通风散热； 屋顶坡度大——降水丰富，利于排水； 多用木材为原料——广阔的雨林，取材方便 (2分。写出一点给2分，房屋特 点1分，分析1分)

- (7) C (1分)