

2019 北京顺义区初三二模

地 理



学校_____ 班级_____ 姓名_____ 准考证号_____

考 生 须 知	<ol style="list-style-type: none">1. 本试卷共 14 页，共两部分，44 道小题。满分 90 分。考试时间 90 分钟。2. 在试卷和答题卡上准确填写学校名称、班级、姓名和教育 ID。3. 试题答案一律书写在答题卡上，在试卷上作答无效。4. 在答题卡上，选择题用 2B 铅笔作答，其他试题用黑色字迹签字笔作答。5. 考试结束，将答题卡交回。
------------------	--

第一部分 选择题

本部分共 40 小题，每小题 1 分，共 40 分。在每小题列出的四个选项中，选出最符合题目要求的一项。

中国北京 2019 年世界园艺博览会于 4 月 29 日正式开园，以“绿色生活，美丽家园”为主题，旨在倡导人们尊重自然、融入自然、追求美好生活。

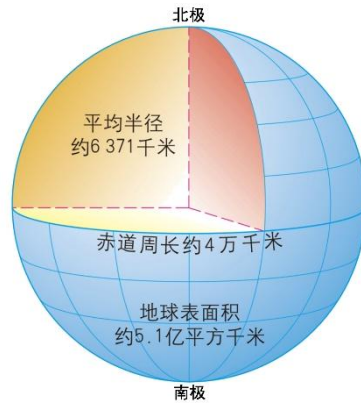
读北京世园会主要景点分布示意图，回答下列小题。



1. 小明同学选择世园会半日游，从 1 号门进入后第一站就到永宁阁，好处在于
 - A. 该景点距离大门最近
 - B. 登阁可以俯瞰园区全貌
 - C. 永宁阁展览内容最丰富
 - D. 可以看到园区花车巡游表演
2. 小明同学游览北京世园会后写了四条见闻，其中表述正确的是
 - A. 中国馆位于妫汭湖南岸，高端大气，乃园中精品



- B. 走到园区东北尽头看到了百草园、百果园、百蔬园
 - C. 建在自然生态区旁的植物馆内百花争艳
 - D. 中国馆、国际馆、生活体验馆成“品”字布局
3. 下列有关世园会促进延庆区经济发展的叙述，正确的是
- A. 部分场馆在世园会后可改成冬奥会场馆，落实廉洁办奥运理念
 - B. 世园会召开将加速延庆区迈向制造业强区行列
 - C. 世园会场馆为市民提供观光休闲好去处，促进当地经济发展
 - D. 世园会场馆冬季可以开展滑雪运动，提振“冰雪”经济
4. 下列叙述符合北京世园会“绿色生活，美丽家园”主题的是
- A. 近期快速治理好环境，以后就不用再治理了
 - B. 经过治理，北京已经达到了天蓝、地绿、水清的环境标准
 - C. 追求热爱自然情怀，倡导简约适度、绿色低碳的生活方式
 - D. 建设美丽家园没必要进行国际合作
5. 科学家经过精确测量，得到有关地球的数据。读图，下列说法正确的是




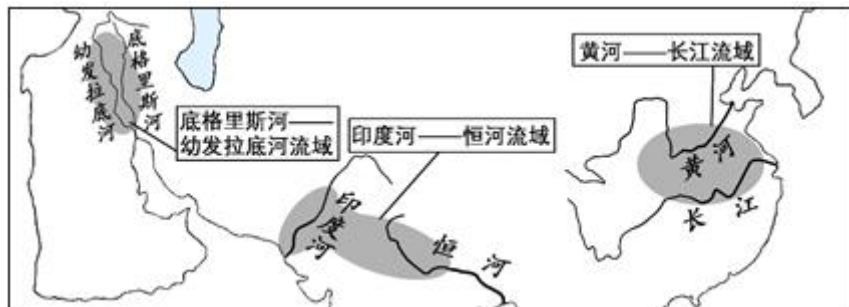
- A. 赤道周长约为4万千米
 - B. 极半径是6371千米
 - C. 赤道半径是6371千米
 - D. 地球的体积是5.1亿立方千米
- 小明同学听新闻报道，得知某地（8° 22' S，115° 32' E）火山喷发，据图回答下列小题。



6. 他在地球仪上找出火山喷发的正确位置是
- A. 甲地
 - B. 乙地
 - C. 丙地
 - D. 丁地
7. 这次火山喷发地点大致位于北京的
- A. 南方
 - B. 北方
 - C. 东方
 - D. 西方

2019年5月19日亚洲文明对话大会在北京举行，来自柬埔寨、希腊、新加坡、斯里兰卡等国家的元首及数千名各国嘉宾参加，习近平主席作主旨演讲，提出四点主张：第一，坚持相互尊重、平等相待。第二，坚持美人之美、美美与共。第三，坚持开放包容、互学互鉴。第四，坚持与时俱进、创新发展。

据亚洲古代文明发祥地图、亚洲文明代表性建筑和四种文字图，回答下列小题。



8. 世界四大古代文明发祥地中，不在亚洲的是
 - A. 尼罗河流域文明
 - B. 底格里斯河—幼发拉底河流域文明
 - C. 印度河—恒河流域文明
 - D. 黄河—长江流域文明
9. 亚洲文明代表性建筑中位于柬埔寨的是
 - A. 麦加大清真
 - B. 泰姬陵
 - C. 长城
 - D. 吴哥窟
10. 下列古文明发源于黄河—长江流域的是
 - A. 阿拉伯数字
 - B. 甲骨文
 - C. 楔形文字
 - D. 圣书体象形文字
11. 下列有关不同文明交流互鉴的说法，正确的是
 - A. 全世界都必须学习西方文明
 - B. 中华文明优于世界上其他文明
 - C. 世界上的古代文明都发源于亚洲
 - D. 文明只有姹紫嫣红之别，但绝无高低优劣之分



16. 下列关于杭黄高铁的叙述，正确的是

- A. 与长江走向平行
- B. 穿行于江南丘陵之间
- C. 所经之地均为革命老区
- D. 起点站为杭州东，终点站为歙县北

17. 下列物产，属于杭黄高铁沿线原产地的是

- ①黄山毛峰茶 ②景德镇瓷器 ③西湖龙井茶 ④湘绣
- A. ①③ B. ②④ C. ①② D. ③④

18. 下列景区中，远离杭黄高铁的是

- A. 杭州西湖 B. 千岛湖 C. 黄山 D. 庐山

19. 杭黄铁路建设的重要意义是

- ①带动沿线地区经济的发展 ②改善东部的投资环境，扩大对外开放 ③使“坐着高铁去旅行”成为现实 ④彻底取代当地的公路运输
- A. ①②③ B. ②③④ C. ①③④ D. ①②④

雄安新区作为北京非首都功能疏解集中承载地。承载着首都功能（政治中心、文化中心、国际交往中心、科技创新中心）以外的功能，这也意味着教育、医疗、金融、制造业等产业将逐步转移到雄安。“海绵城市”已作为雄安新城规划建设核心理念。作为海绵城市的核心器官，“雨水街坊”示范区从雨水下落、收集、滞留、净化、到下渗的全过程，结合石笼、玻璃钢格栅等新型材料及观赏草等生态植物的使用，为人们提供了无限延伸自然的绿色生态空间。

据京津冀一体化示意图和“雨水街坊”示意图，回答下列小题。



20. 第二届“一带一路”峰会于2019年4月25日至27日在北京举行，来自150多个国家和90多个国际组织领导人及嘉宾出席论坛，这体现了北京的城市职能之一是

- A. 政治中心 B. 文化中心 C. 国际交往中心 D. 科技创新中心

21. “雨水街坊”示范区推广的作用是

- ①提高水资源利用率 ②减少城市内涝发生 ③改善城市生态环境 ④治理生活污水

- A. ①②③ B. ②③④ C. ①②④ D. ①③④

22. 党中央将雄安新区建设作为千年大计，雄安新区选址主要考虑

- ①距离北京和天津远近适中 ②工业发达，城市基础设施完善 ③有利于推进京津冀一体化发展 ④生态环境较好，地质构造稳定

- A. ①②④ B. ②③④ C. ①②③ D. ①③④

文会宴是中国古代文人进行文学创作和相互交流的重要形式之一，一般多选在气候宜人的地方。著名的《兰亭集序》也是东晋书法家王羲之在兰亭文会上写的。“群贤毕至，少长咸集。此地有崇山峻岭，茂林修竹，又有清流激湍，映带左右，引以为流觞曲水，列坐其次。”

据此回答下列小题。

23. 兰亭位于我国的

- A. 北方地区 B. 南方地区 C. 西北地区 D. 青藏地区

24. 此地气候特征为

- A. 全年高温多雨 B. 夏季高温多雨、冬季寒冷干燥
C. 终年温和多雨 D. 夏季高温多雨，冬季温和少雨

“自驾游八闽 台车首登陆”，2015年5月两部台湾牌照的汽车，漂洋过海来闽自驾游了，据此回答下列小题。

25. “漂洋过海”中的“海”是指

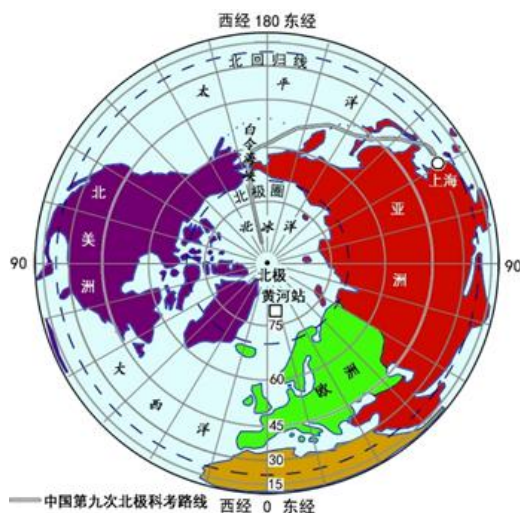
- A. 台湾海峡 B. 琼州海峡 C. 渤海海峡 D. 西太平洋

26. 自驾游一行人来到龙岩旅游采风的印象，错误的是

- A. 客家山村龙灯舞 B. 碧草毡房马儿欢 C. 神奇土楼誉中华 D. 八山一水一分田

近年来极地科考方兴未艾，2004年中国在北极地区建立了黄河站。2018年7月20日中国第九次北极科考队从上海港出发，历时十天顺利进入北极圈，最北到达北纬84度48分，9月26日顺利返回上海。

据图，回答下列小题。





27. 有关北极黄河站的叙述, 正确的是

- A. 位于东西半球分界线的北极圈上
- B. 能见到极光
- C. 半年极昼半年极夜
- D. 常年冰雪覆盖无动植物

28. 下列关于中国第九次北极科考的叙述, 正确的是

- A. 科考船经太平洋, 过白令海峡
- B. 科考路线起点上海, 终点北极点
- C. 为黄河站补给物资是任务之一
- D. 科考船去程白昼越来越短

29. 北极地区与南极地区相比, 自然环境相似点是

- A. 动植物种类相似
- B. 无矿产资源
- C. 纬度高气温极低
- D. 常年冰雪覆盖

30. 地图的种类很多, 如地形图、旅游图、交通图、人口图、世界地图等, 下列三个活动不需要的地图是

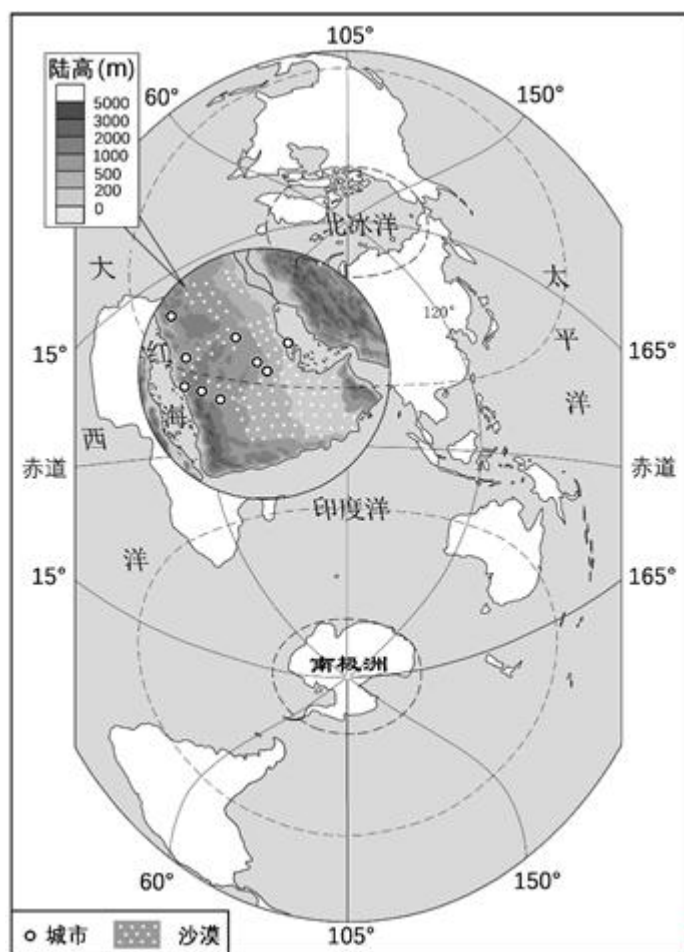
- ①某班准备到郊外的山地进行定向越野活动, 需要设计越野路线。
- ②一场重要国际体育比赛正在俄罗斯举办, 小华想找找俄罗斯的位置。
- ③小明想去博物馆参观, 博物馆离他家很远, 他考虑怎样乘车去。

- A. 地形图
- B. 世界地图
- C. 交通图
- D. 人口图

沙特阿拉伯以热带沙漠气候为主, 淡水资源严重短缺。南极地区冰盖面积广, 储存了世界淡水资源的 70%。

某校地理实践活动课上进行“如何利用南极冰山解决沙特阿拉伯缺水问题”的研究。下图是竖版世界地图及阿拉伯半岛局部图。

读图, 回答下列小题。



31. 同学们提出该研究课题的原因最可能是

- A. 沙特阿拉伯淡水资源严重短缺
- B. 沙特阿拉伯人口稠密需水量大

- C. 气候变暖南极地区冰川融化量大 D. 南极地区濒临四大洋运输方便

32. 你认为该课题应该重点研究

- ①全球气候变化情况 ②选择运输的起止点 ③冰山的运输方式 ④冰山的运输路线 ⑤沙特阿拉伯缺水原因

- A. ①②③ B. ①③④ C. ②③④ D. ③④⑤

33. 将南极地区冰山运往沙特阿拉伯的合理交通运输方式及原因是

- A. 铁路运输——直接运达 B. 航空运输——速度最快
C. 管道运输——损耗小 D. 水路运输——可行性大

34. 有同学认为运输终点应选择红海沿岸，原因是这里

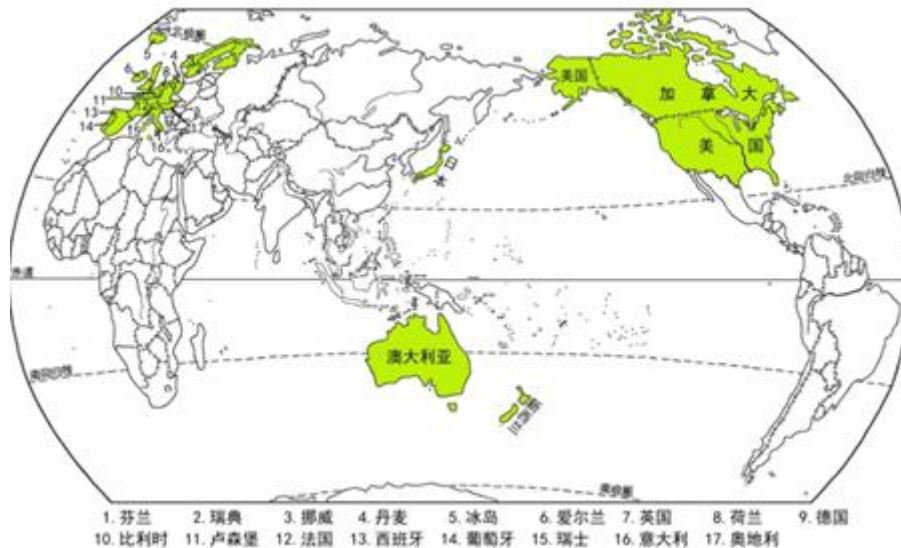
- ①人口集中，城市数量较多 ②地势较高，便于输水
③石油污染严重，水质较差 ④纬度较高，冰山损失较少

- A. ①② B. ①③ C. ②③ D. ③④

35. 从南极地区大规模运送冰山到沙特阿拉伯最有可能的结果是

- A. 缓解沙特阿拉伯缺水问题 B. 加剧沿线海域石油污染
C. 减少南极地区的臭氧空洞面积 D. 加重阿拉伯半岛酸雨现象

读发达国家分布图，回答下列小题。



36. 发达国家主要分布在

- A. 北半球 B. 亚洲 C. 南半球 D. 南美洲和北美洲

37. 下列有关国际合作的叙述，正确的是

- A. 对外合作时只关心本国利益就够了 B. 中国、美国交流属于南北对话
C. 没有国际合作照样能高速发展经济 D. 澳大利亚与新西兰的合作属于南南合作

读我国某地景观图，回答下列小题。





甲



乙



丙

38. 三幅景观图反映的地区可能是

- A. 北京 B. 乌鲁木齐 C. 拉萨 D. 西双版纳

39. 图甲中的建筑形式反映当地的气候特征是

- A. 炎热干燥 B. 高温潮湿 C. 温和湿润 D. 寒冷干燥

40. 下列关于长江三角洲的叙述，正确的是

① 位于亚热带季风气候区 ② 是我国农业最发达的地区之一 ③ 有我国最大的综合性工业基地 ④ 矿产资源丰富是其工业发展的有利条件

- A. ①②④ B. ①③④ C. ①②③ D. ②③④

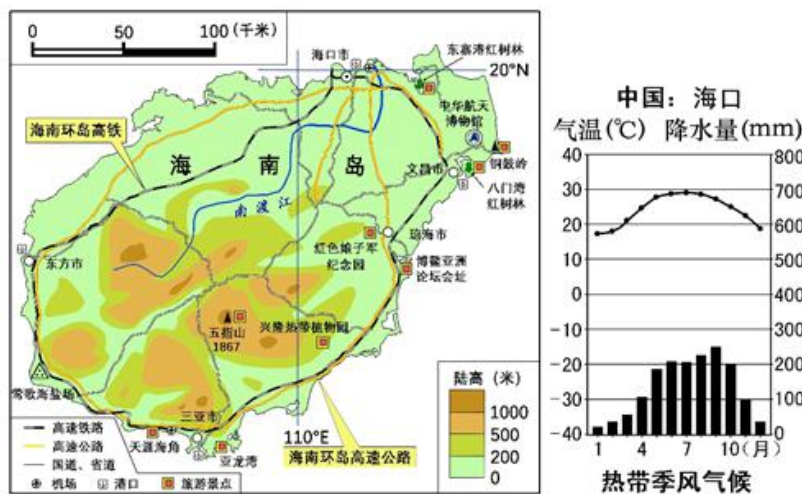
第二部分 非选择题

41. 某班学生通过自主学习与分组合作探究学习完成以下四项任务。

第一项任务：教师提供材料 1、材料 2 和海南岛图和海口气温降水图，学生自主学习，了解海南岛实现经济可持续发展的优势。

材料 1：2018 年 9 月国务院印发《中国（海南）自由贸易试验区总体方案》，方案提出：“发挥海南岛全岛试点的整体优势，紧紧围绕建设全面深化改革开放试验区、国家生态文明试验区、国际旅游消费中心和国家重大战略服务保障区，实行更加积极主动的开放战略，加快构建开放型经济新体制，推动形成全面开放新格局，把海南打造成为我国面向太平洋和印度洋的重要对外开放门户”。

材料 2：海南岛面积约 3.54 万平方公里，是我国第二大岛；地势中部高四周低，中部偏南到四周沿海由山地、丘陵、台地、平原逐级递降，组成环形层状地貌，具有台地、阶地特多，山丘密集相连，平原少而分散的特征；热带季风气候特征明显，森林覆盖率高；土壤为酸性的砖红壤。



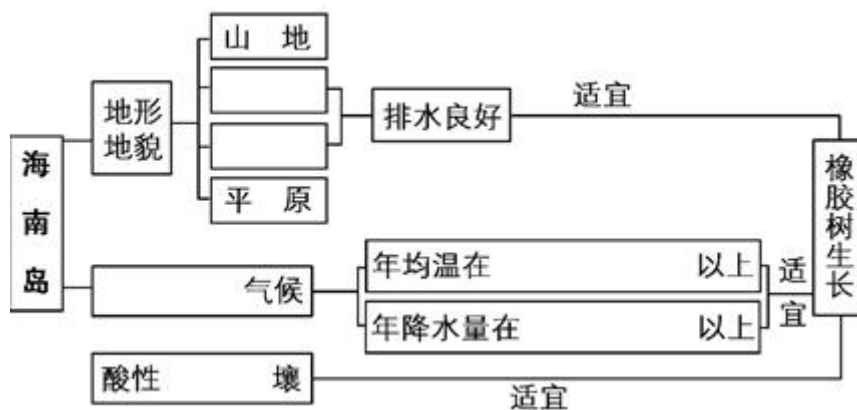
(1) 海南岛实现经济可持续发展的优势有_____、_____、_____、_____（选择填空，只填代表字母）。

A. 国家政策支持 B. 是位于我国热带地区面积最大的岛 C. 煤炭资源丰富 D. 岛内高速铁路、高速公路、机场、港口等交通设施发达 E. 拥有众多的自然和人文旅游资源 F. 拥有多所世界一流大学，科技人才众多 G. 工业基础雄厚 H. 生态良好)

第二项任务：一组同学搜集整理成材料 3，说明海南岛发展橡胶树种植业的有利条件。

材料 3：橡胶树喜高温、高湿、静风和肥沃土壤，要求年平均温度 26~27℃，在 20~30℃ 范围内都能正常生长和产胶，不耐寒，在温度 5℃ 以下即受冻害。要求年平均降水量 1150~2500 毫米。适于土层深厚、肥沃而湿润、排水良好的酸性砂壤土生长。浅根性，枝条较脆弱，易受风寒并降低产胶量。

(2) 将下图内容填写完整，说明海南岛适宜发展橡胶树种植的有利条件。



第三项任务：二组同学结合地图，搜集整理成材料 4，设计北京到海南 4 日游方案。

材料 4：海南岛拥有丰富的旅游资源，南部的天涯海角、亚龙湾，中部的五指山，东北部的铜鼓岭、红树林自然保护区等都是著名的自然风景区；位于琼海市的红色娘子军纪念馆、博鳌亚洲论坛永久会址，文昌市的中华航天博物馆、宋氏祖居博物馆等人文旅游资源丰富。

(3) 请你参加二组同学活动，共同设计北京到海南 4 日游方案（包括选择出行交通方式、两个自然旅游景点、两个人文旅游景点）。_____

第四项任务：三组同学为将海南岛建成“国际旅游消费中心”献计献策。

(4) 该组同学提出下列设想，请你判断其是否符合《中国（海南）自由贸易试验区总体方案》精神。符合的在题后打“√”，不符合的在题后打“×”。


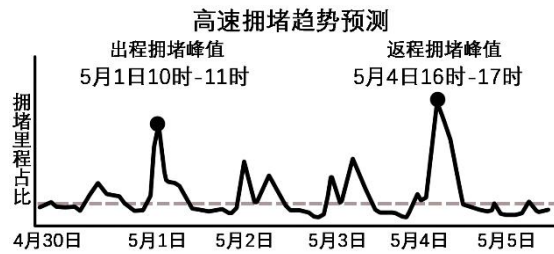
①大力开发房地产业，使海南岛成为全国老年人冬季居住和休闲场所。_____

②调整完善海南离岛旅客免税购物政策，提升国内外游客的消费水平。_____

③大力发展国际医疗旅游和高端医疗服务。_____

42.山西省大同市是中国历史文化名城，曾经作为北魏都城，云冈石窟入选《世界文化遗产名录》，大同九龙壁至今保存完好。近年来，大同市为了恢复历史上的盛景，对整个老城区进行了拆迁改造，根据史料记载，重新修建了大同古城墙、钟楼、鼓楼、代王府等仿古建筑，吸引了大批游客前来观光游览。同时，老城的其他原有遗存几乎荡然无存，受到了国家文物局的通报批评。

王芳同学一家三口利用 2019 年五一小长假的四天假期，游览了中国历史文化名城——大同，5 月 1 日下午 3 点出发，晚上 8 点到达大同入住，5 月 2 日到大同老城区观光游览，5 月 3 日到大同郊区云冈石窟参观，5 月 4 日早 7 点出发，中午 12 点返回北京住地。据高速预测图、大同老城区和大同景观图回答下列问题。



- (1) 王芳一家选择此时段出程和返程优点是什么? _____ 在充分利用小长假方面有什么不足? _____
- (2) 云冈石窟大致开凿于_____ (朝代) 时期, 属于_____ 教建筑。
- (3) 大同市老城区位于北京市昌平区回龙观街道 (40° 4' 29" N, 116° 20' 45" E) 的_____ 方向, 地处 _____ 高原的东北部边缘。
- (4) 王芳一家到大同老城区观光游览并拍照, 判断下列说法是否正确, 在正确说法后打“√”, 在错误说法后打“×”。
- A. 仿古城墙照片拍摄地点在乙地。 _____
- B. 明清以前的古建筑多处保存完好。 _____

C. 代王府是老城区内面积最大的仿古建筑群。 ____

D. 钟楼和鼓楼都在南北中轴线上。 ____

(5) 对于大同老城区尚存的但已经损毁严重的明清古建筑，是花重金原地修缮保护，还是全部拆除建设新的高楼大厦，请你围绕一个方面提出建议并说明理由。 _____

43. 美国是世界上最发达的国家，资源丰富，工业基础雄厚，高新技术产业发达。据美国本土工业和重要矿产分布图，回答下列问题。



(1) 美国东北部大西洋沿岸及五大湖沿岸主要工业部门有_____、_____（填两项）。

(2) 从资源和交通两方面说明东北部老工业区发展的有利条件。 _____

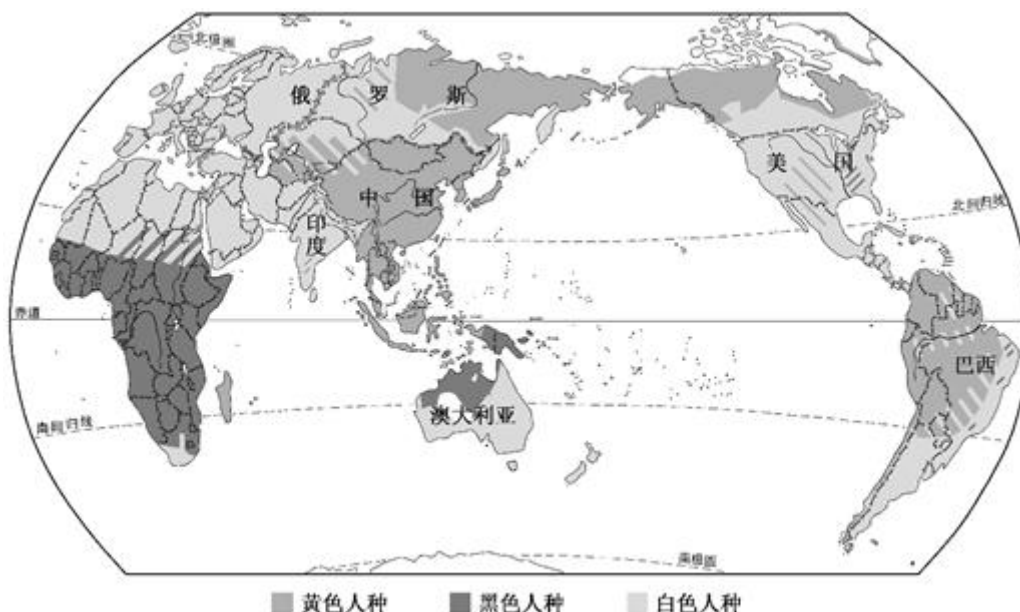
(3) 位于墨西哥湾沿岸的休斯敦，附近盛产___，与东北部老工业区的城市相比，该城市最突出的工业部门是_____。

(4) _____是西部工业区最大的城市，附近盛产石油，石油化学工业、_____制造工业、精密仪器工业发达。

(5) 美国的高新技术公司或高新技术产品有_____、_____（任意举出2项）

(6) 简要评价美国的海陆位置。 _____

44. 读世界三大人种的分布图，回答下列问题。



- (1) 中国主要是_____人种，美国主要是_____人种。
- (2) 非洲中南部以_____人种为主，其体貌特征是_____。
- (3) 亚洲东部以_____人种为主，其体貌特征是_____。
- (4) 欧洲以_____人种为主，其体貌特征是_____。
- (5) 北京奥运会上，男子百米冠军博尔特是_____人种，西班牙网球明星纳达尔是_____人种。



2019 北京顺义区初三二模地理参考答案



第一部分 选择题

【答案】1. B 2. A 3. C 4. C

【解析】

【1 题详解】

读图可知，永宁阁是北京世园会的制高点和标志性建筑，因此小明从 1 号门进入后第一站就到永宁阁，好处在于登阁可以俯瞰园区全貌。故选 B。

【2 题详解】

读图可知，中国馆位于妫汭湖南岸，高端大气，乃园中精品，A 正确；百草园、百果园、百蔬园位于园区的西南尽头，B 错；自然生态区位于园区的东北部，植物园地处园区的西南部，C 错；中国馆、国际馆、生活体验馆大致在一条线上，呈“一”字布局，D 错。故选 A。

【3 题详解】

北京世园会主题是绿色生活，美丽家园。以园艺为媒介，提升人们尊重自然、融入自然，牢固树立绿色、低碳、环保的生产生活理念，共同建设多姿多彩的美好家园。世园会在延庆召开，世园会场馆可以为市民提供观光休闲好去处，促进当地经济发展，故选 C。

【4 题详解】

北京世园会主题是绿色生活，美丽家园。实现绿色生活，建设美丽家园，是一件需要长久坚持的事业，因此我们要形成一种追求热爱自然情怀，倡导简约适度、绿色低碳的生活方式，故选 C。

【点睛】本题以世园会为背景考查地图的阅读及现代北京的建设与发展。

5.

【答案】A

【解析】

【详解】读图可知，赤道周长约为 4 万千米，A 正确；地球的平均半径是 6371 千米，BC 错；地球的表面积约为 5.1 亿平方千米，D 错。故选 A。

【点睛】本题考查地球的大小。

【答案】6. D 7. A

【解析】

【6 题详解】

由题可知，火山喷发地的位置是 $(8^{\circ} 22' S, 115^{\circ} 32' E)$ ，根据其纬度判断，其位于南半球（赤道以南）。因此，丁地是火山喷发的位置。甲、乙、丙三地均位于赤道以北，即北半球。故选 D。

【7 题详解】

读图可知，丁地位于赤道以南，北京位于赤道以北，二者经度相似。因此这次火山喷发地点大致位于北京的南方，故选 A。

【点睛】本题考查经纬网定位和定向。

【答案】8. A 9. D 10. B 11. D

【解析】

【8 题详解】

结合所学可知，尼罗河流域文明位于非洲。底格里斯河（幼发拉底河流域文明）、印度河（恒河流域文明）、黄河（长江流域文明）均位于亚洲。故选 A。

【9 题详解】

麦加大清真寺位于沙特阿拉伯，泰姬陵位于印度，长城位于中国。吴哥窟是柬埔寨的代表性建筑。故选 D。

【10 题详解】

甲骨文，是汉字的早期形式，是现存中国王朝时期最古老的一种成熟文字，最早出土于河南省安阳市殷墟。阿拉伯数字最初由古印度人发明，后由阿拉伯人传向欧洲，之后再经欧洲人将其现代化；人们以为是阿拉伯发明，所以人们称其为“阿拉伯数字”。楔形文字，由位于底格里斯河和幼发拉底河流域的苏美尔人，于公元前 31 世纪左右所创，是已知世界上最古老的文字。圣书体象形文字，是古埃及人使用的一种文字体系，由图形文字，音节文字和字母构成。它是最早的文字形式之一。故选 B。

【11 题详解】

“文明因交流而多彩，文明因互鉴而丰富”。因此，文明只有姹紫嫣红之别，绝无高低优劣之分。我们应该维护各国各民族文明多样性，加强相互交流、相互学习、相互借鉴，而不应该相互隔膜、相互排斥、相互取代。故选 D。

【点睛】 本题考查亚洲的地域文化。

【答案】 12. B 13. C 14. C 15. D

【解析】

【12 题详解】

读图可知，法国地形以平原和丘陵为主，高原和山地主要位于东南部，因此法国地势特征是东南高、西北低，A 错，B 正确；法国以温带海洋性气候和地中海气候为主，无温带大陆性气候，C 错；结合巴黎气温降水量图可知，巴黎的气候终年温和湿润，属温带海洋性气候，因此塞纳河冬季不结冰，D 错。故选 B。

【13 题详解】

读图可知，法国最大的半岛是布列塔尼半岛，不是诺曼底半岛，A 错；诺曼底半岛位于法国西北部，英吉利海峡沿岸，属温带海洋性气候，B 错；诺曼底半岛附近地形以平原和丘陵为主，C 正确；1944 年 6 月初，著名的诺曼底登陆战役是第二次世界大战转折点，D 错。故选 C。

【14 题详解】

埃菲尔铁塔位于塞纳河南岸法国巴黎的战神广场，于 1889 年建成，是巴黎的最高建筑物。埃菲尔铁塔不是法国历史最悠久的建筑，A 错；凯旋门是拿破仑为纪念 1805 年打败俄奥联军的胜利而修建的，B 错；卢浮宫位于法国巴黎市中心的塞纳河北岸，位居世界四大博物馆之首，是举世瞩目的万宝之宫，C 正确；巴黎圣母院是一座位于塞纳河畔、法国巴黎市中心、西堤岛上的哥特式基督教教堂建筑，是天主教巴黎总教区的主教座堂，D 错；故选 C。

【15 题详解】

结合所学可知，法国是小麦的主要生产国，产地集中在巴黎盆地附近；法国南部地中海沿岸是葡萄的主要产地。故选 D。

【点睛】 本题考查法国的自然地理环境及社会经济状况。

【答案】 16. B 17. A 18. D 19. A

【解析】

【16 题详解】

读图可知，杭黄铁路起点为杭州东，终点是黄山北，穿行于江南丘陵之间，故选 B。

【17 题详解】

黄山毛峰茶产自安徽黄山，西湖龙井茶产自杭州西湖龙井村，属于杭黄高铁沿线的原产地。景德镇瓷器，是江西省景德镇市特产；湘绣，是湖南省长沙市特产。故选 A。

【18 题详解】

庐山位于江西省九江市庐山市境内，远离杭黄高铁。故选 D。

【19 题详解】

杭黄铁路建设的重要意义是：带动沿线地区经济的发展；改善东部的投资环境，扩大对外开放；使“坐着高铁去旅行”成为现实；方便人们出行，缓解当地公路运输的压力。

【点睛】 本题考查杭黄铁路沿线的地理概况及其开通后的意义。

【答案】 20. C 21. A 22. D

【解析】

【20 题详解】

第二届“一带一路”峰会，拥有来自 150 多个国家和 90 多个国际组织领导人及嘉宾出席论坛，众多国家和国际组织领导人齐聚北京商讨世界经济合作，这体现了北京是国际交往中心的城市职能。故选 C。

【21 题详解】

结合材料可知，“雨水街坊”示范区具有提高水资源利用率、减少城市内涝发生、改善城市生态环境等作用。故选 A。

【22 题详解】

根据京津冀一体化示意图可知，雄安新区选址主要考虑距离北京和天津远近适中；有利于推进京津冀一体化发展；该地区生态环境较好，地质构造稳定等原因。故选 D。

【点睛】 本题考查北京的城市职能和雄安新区建设的相关知识。

【答案】 23. B 24. D

【解析】

【23 题详解】

结合《兰亭集序》中“崇山峻岭，茂林修竹，又有清流激湍，映带左右”的描述，可以推断该地区多山、植被茂盛，河流众多，因此可以推断兰亭位于我国的南方地区。（兰亭，位于浙江省绍兴市西南部的兰渚山麓，是东晋著名书法家，书圣王羲之的园林住所，是一座晋代园林。）故选 B。

【24 题详解】

我国南方地区属亚热带季风气候，气候特征是夏季高温多雨、冬季温和少雨，故选 D。

【点睛】 本题考查我国南方地区的自然地理环境特征。

【答案】 25. A 26. B

【解析】

【25 题详解】

结合所学可知，台湾岛与我国福建省隔台湾海峡相望，因此“漂洋过海”中的“海”是指台湾海峡，故选 A。

【26 题详解】

永定土楼是典型的客家民居，位于福建省龙岩市，是世界上独一无二的神奇的山区民居建筑，是中国古建筑的一

朵奇葩。八山一水一分田是福建的地形特点，ACD不符合题意；碧草毡房马儿欢是西北地区的特征，故选B。

【点睛】本题考查我国台湾的地理位置及福建的地方文化。

【答案】27. B 28. A 29. C

【解析】

【27题详解】

读图可知，黄河站位于东半球，北极圈以内，可以看到极光。北半球夏季时，黄河站出现极昼现象；冬季时，黄河站出现极夜现象。黄河站所在的斯瓦尔巴群岛上，生活着北极狐等北极特有的动物。因此，ACD错，B正确。故选B。

【28题详解】

读图可知，我国第九次北极科考的路线，经太平洋，过白令海峡，进入北极圈，A正确；第九次北极科考的路线起点上海，最北到达北纬84度48分，B错；第九次北极科考的路线没有经过黄河站，因此为黄河站补给物资是任务之一，C错；2018年7月20日中国第九次北极科考队从上海港出发，历时十天顺利进入北极圈，此时太阳直射点仍位于北半球，北半球昼长夜短，极圈以内是极昼，D错。故选A。

【29题详解】

北极地区与南极地区均位于极圈以内，同属高纬度地区，气温低，降水少。两极地区均拥有丰富的矿产资源，北极代表性的动物是北极熊、北极狐、海象，南极地区常年冰雪覆盖，其代表性的动物是企鹅和磷虾。故选C。

【点睛】本题考查极地地区的自然地理环境及我国北极科考的知识。

30.

【答案】D

【解析】

【详解】结合所学可知，①要设计越野路线，需要使用地形图；②小华想找找俄罗斯的位置，需要用到世界地图；③小明考虑怎样乘车去博物馆参观，需要用到交通图。故选D。

【点睛】本题考查地图的种类及应用。

【答案】31. A 32. C 33. D 34. A 35. A

【解析】

【31题详解】

结合材料可知，该课题的题目是“如何利用南极冰山解决沙特阿拉伯缺水问题”，因此同学们提出该研究课题的原因最可能是沙特阿拉伯淡水资源严重短缺，故选A。

【32题详解】

该课题的题目是“如何利用南极冰山解决沙特阿拉伯缺水问题”，因此如何运输南极冰山，怎样规划冰山的运输线路和运输线路的起止点，是该课题应该重点研究的内容。故选C。

【33题详解】

读图可知，南极洲与阿拉伯半岛分别位于印度洋的南北两岸，因此将南极地区冰山运往沙特阿拉伯的合理交通运输方式是水路运输，因为二者远隔重洋，水路运输的可行性大，故选D。

【34题详解】

读图可知，阿拉伯半岛红海沿岸人口集中，城市数量较多；地势较高，便于输水，因此有同学认为运输终点应选择红海沿岸，故选A。

【35 题详解】

结合材料可知，沙特阿拉伯以热带沙漠气候为主，淡水资源严重短缺。南极地区冰盖面积广，储存了世界淡水资源的 70%。因此，从南极地区大规模运送冰山到沙特阿拉伯最有可能的结果是：缓解沙特阿拉伯的缺水问题，故选 A。

【点睛】本题考查南极地区与阿拉伯半岛的位置及自然地理环境。

【答案】36. A 37. B

【解析】

【36 题详解】

读图可知，发达国家主要集中分布在欧洲西部、北美洲、大洋洲及亚洲的日本。因此，从南北半球来看，发达国家主要分布在北半球，故选 A。

【37 题详解】

国际上把发展中国家与发达国家分布的南北差异称作“南北差距”。发展中国家与发达国家之间关于经济、政治等方面问题的商谈，叫做“南北对话”。发展中国家之间的互助合作，称为“南南合作”。因此，中国、美国交流属于南北对话，故选 B。

【点睛】本题考查发达国家与发展中国家的分布及其合作。

【答案】38. D 39. B

【解析】

【38 题详解】

读图可知，甲图为竹楼、乙图是傣族的孔雀舞，因此，图中景观主要分布在云南省的西双版纳地区，故选 D。

【39 题详解】

西双版纳地区地处云南省南部，属热带季风气候，气候特征是高温潮湿，故选 B。

【点睛】本题考查云南西双版纳的气候、民族及文化。

40.

【答案】C

【解析】

【详解】结合所学可知，长江三角洲位于亚热带季风气候区，是我国农业最发达的地区之一；长江三角洲有我国最大的综合性工业基地，其工业发展的不足之处在于能源、资源缺乏。故选 C。

【点睛】本题考查长江三角洲地区的自然地理环境及社会经济概况。

第二部分 非选择题

41.

【答案】(1). A (2). B (3). D (4). E (5). 第一天 首都机场乘飞机到海南三亚入住酒店休息。第二天 上午乘坐大巴车游览天涯海角，下午去亚龙湾。第三天 上午乘坐大巴参观红色娘子军纪念园（或博鳌亚洲论坛会址），下午去中华航天博物馆。第四天 乘坐飞机从海南返回北京 (6). × (7). √ (8). √

【解析】

【详解】(1) 结合材料可知，海南岛实现经济可持续发展的优势有 A 国家政策支持；B 是位于我国热带地区面积最大的岛；D 岛内高速铁路、高速公路、机场、港口等交通设施发达；E 拥有众多的自然和人文旅游资源等。

(2) 结合材料可知，海南岛的地形地貌：地势中部高四周低，中部偏南到四周沿海由山地、丘陵、台地、平原逐级递降，组成环形层状地貌；海南岛的气候属热带季风气候，年平均温度为 20℃ 以上，年平均降水量为 1500 毫米以上；海南岛的土壤为酸性的砖红壤。

(3) 北京到海南 4 日游方案：第一天、首都机场乘飞机到海南三亚入住酒店休息。第二天、上午乘坐大巴车游览天涯海角，下午去亚龙湾。第三天、上午乘坐大巴参观红色娘子军纪念园（或博鳌亚洲论坛会址），下午去中华航天博物馆。第四天、乘坐飞机从海南返回北京。（结合题目要求设计即可）

(4) 根据《中国（海南）自由贸易试验区总体方案》的精神，海南岛要根据自身优势，建设成为全面深化改革开放试验区、国家生态文明试验区、国际旅游消费中心和国家重大战略服务保障区。因此①不合理，大力开发房地产业，会破坏海南岛的生态环境。②合理，调整完善海南离岛旅客免税购物政策，可以提升国内外游客的消费水平，对于建设国际旅游消费中心具有重要推动作用。③合理，海南岛大力发展国际医疗旅游和高端医疗服务，有利于其建设成为国际旅游消费中心和国家重大战略服务保障区。

【点睛】 本题考查海南岛的自然地理环境及社会经济状况。

42.

【答案】 (1). 优点： 5 月 1 日下午三点出发，避开出行拥堵高峰，5 月 4 日 12 时返回北京，避开返程拥堵高峰。 (2). 不足：不能充分利用 4 天假期游览更多的景点。 (3). 北魏 (4). 佛 (5). 正西 (6). 黄土 (7). √ (8). × (9). √ (10). × (11). 花重金原地修缮：有利于继承和弘扬中华优秀传统文化，有利于明清古建筑的研究等。全部拆除建设新的高楼大厦：促进经济发展，改善居民的居住环境。

【解析】

【详解】 (1) 结合材料可知，王芳一家选择此时段出程和返程优点是：5 月 1 日下午三点出发，避开出行拥堵高峰，5 月 4 日 12 时返回北京，避开返程拥堵高峰。在充分利用小长假方面的不足是：不能充分利用 4 天假期游览更多的景点。

(2) 云冈石窟大致开凿于北魏时期，属于佛教建筑。

(3) 读图可知，大同市老城区的位置是 (40° 4′ 29″ N, 113° 18′ 14″ E)，北京市昌平区回龙观街道的位置是 (40° 4′ 29″ N, 116° 20′ 45″ E)，二者处于同一条纬线上。根据二者的经度位置可以判断，大同老城区位于北京昌平区回龙观街道的正西方向，地处黄土高原的东北部边缘。

(4) 读大同老城区图可知，A 正确，仿古城墙照片拍摄地点在乙地；B 错，明清以前的古建筑几乎荡然无存，受到了国家文物局的通报批评；C 正确，代王府是老城区内面积最大的仿古建筑群；D 错，鼓楼在老城区的南北中轴线上，钟楼在老城区的东西中轴线上。

(5) 观点一：对于大同老城区尚存的但已经损毁严重的明清古建筑，应当花重金原地修缮保护，理由是：有利于继承和弘扬中华优秀传统文化，有利于明清古建筑的研究等。

观点二：对于大同老城区尚存的但已经损毁严重的明清古建筑，应该全部拆除建设新的高楼大厦，理由是：促进经济发展，改善居民的居住环境。

【点睛】 本题考查地图的阅读及对待文物古迹的态度。

43.

【答案】 (1). 钢铁 (2). 汽车 (3). 煤、铁等矿产资源丰富，紧临大西洋和五大湖，水运便利 (4). 石油 (5). 航天工业 (6). 洛杉矶 (7). 飞机 (8). 苹果 (9). 英特尔 (10). 海陆兼

备，东临大西洋，西临太平洋；海岸线绵长，有利于发展海运业

【解析】

【详解】(1) 读图可知，美国东北部大西洋沿岸及五大湖沿岸主要工业部门有钢铁、机械、汽车、化工、造船、电子电器等。

(2) 读图可知，美国东北部老工业区煤、铁等矿产资源丰富，工业燃料和原料充足；紧临大西洋和五大湖，水运交通便利。

(3) 读图可知，位于墨西哥湾沿岸的休斯敦，附近盛产石油，与东北部老工业区的城市相比，该城市最突出的工业部门是航天工业。

(4) 读图可知，洛杉矶是美国西部工业区最大的城市，附近盛产石油，石油化学工业、飞机制造工业、精密仪器工业发达。

(5) 美国的高新技术公司或高新技术产品有惠普、戴尔、英特尔、苹果、高通、微软等等。

(6) 美国本土，位于北美洲中南部，东临大西洋，西临太平洋，南临墨西哥湾，北与加拿大接壤，是一个海陆兼备的国家；美国拥有漫长的海岸线，多优良港湾，海运便利。

【点睛】 本题考查美国的位置及社会经济状况。

44.

【答案】 (1). 黄色 (2). 白色 (3). 黑色 (4). 肤色黑，头发黑且卷曲，嘴唇厚 (5). 黄色 (6). 肤色黄，头发黑且直，黑眼睛，体毛少 (7). 白色 (8). 肤色白，头发黄且呈波浪形，蓝眼睛，高鼻梁，体毛多。 (9). 黑色 (10). 白色

【解析】

【详解】(1) 读图可知，中国主要是黄色人种，美国主要是白色人种。

(2) 非洲中南部以黑色人种为主，其体貌特征是肤色黑，头发黑且卷曲，嘴唇厚。

(3) 亚洲东部以黄色人种为主，其体貌特征是肤色黄，头发黑且直，黑眼睛，体毛少。

(4) 欧洲以白色人种为主，其体貌特征是肤色白，头发黄且呈波浪形，蓝眼睛，高鼻梁，体毛多。

(5) 北京奥运会上，男子百米冠军博尔特是黑色人种，西班牙网球明星纳达尔是白色人种。

【点睛】 本题考查世界人种的特征及其分布。