



北京市西城区九年级统一测试

历史试卷

2019.4


考生须知

1. 本试卷共 12 页，共 30 道选择题，4 道材料分析题。满分 90 分。考试时间 90 分钟。
2. 在试卷和答题卡上准确填写姓名、准考证号、考场号和座位号。
3. 试题答案一律填涂或书写在答题卡上，在试卷上作答无效。
4. 在答题卡上，选择题用 2B 铅笔作答，其他试题用黑色字迹签字笔作答。
5. 考试结束，将本试卷、答题卡一并交回。

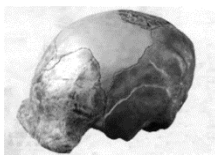
第一部分 选择题（共45分）

本部分共30小题，每小题1.5分，共45分。在每小题列出的四个选项中，选出最符合题目要求的一项。

1. 北京人是世界上最重要的原始人类之一。下列各项能够作为北京人存在证据的是



①北京人使用的石器



②北京人头盖骨化石



③北京人狩猎场景想象图



④北京人牙齿化石

- A. ①②③ B. ①③④ C. ①②④ D. ②③④

2. 下表是某同学整理的战国时期一项大型水利工程的相关信息，这项水利工程是

- A. 郑国渠
B. 都江堰
C. 灵渠
D. 大运河

由秦国蜀郡郡守李冰主持修建
由鱼嘴、飞沙堰、宝瓶口等主体工程构成
至今仍灌溉着成都平原

3. 有人认为：“秦始皇是千古一帝。他统一全国，并采取了一系列巩固统一的措施，但他也实施暴政，加速了秦朝的灭亡。”这一阐述

- A. 客观辩证 B. 认识片面 C. 与史实不符 D. 主观臆断

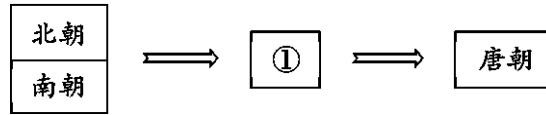
4. 汉顺帝时（125 年—144 年在位），孙程等十九名宦官因杀掉外戚闫显势力被封侯。不久，汉顺帝相继拜皇后的父亲梁商和兄长梁冀为大将军，梁冀把持朝政近 20 年。汉桓帝时（146 年~167 年在位）与宦官单超等人合谋诛杀梁冀及其亲党，结果宦官独揽朝政。对于东汉后期出现的上述现象，下列表述正确的是①东汉后期，出现外戚与宦官交替专权的局面



②上述现象的出现，加剧政治的腐败 ③上述现象的出现，直接导致东汉的灭亡

- A. ①②③ B. ①② C. ②③ D. ①③

5. 与下列示意图中①处相关的史实是



- A. 造纸术的发明 B. 淝水之战 C. 大运河的开通 D. 雅克萨之战

6. 孔子是儒家学派的创始人。他提出以德治国、爱惜民力、反对苛政等政治主张。下列各项符合上述主张的是

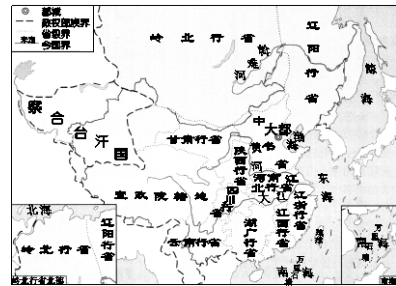
- ①商鞅变法 ②光武中兴 ③贞观之治 ④杯酒释兵权

- A. ①② B. ②③ C. ①③ D. ②④

7. 在对下图的判断中，同学甲和乙发生分歧。乙错误地以为是“清朝”疆域图，被同学甲纠正为“元朝”疆域图。同学甲的判断依据包括

- ①元朝实行行省制度
②回族在元朝形成
③元朝设宣政院管辖西藏地区
④大都是元朝都城

- A. ①②③ B. ②③④
C. ①③④ D. ①②④




8. 据学者统计：“北宋一朝科举考试共录取文士 60035 人，平均每年约 360 人；武举考试共录取武士 868 人，平均每年约 5 人。”宋代还规定文武官员在任期间，文臣考核升迁的年限比武臣短。据此可知，宋代

- A. 重文轻武 B. 冗兵冗费
C. 削弱相权 D. 积贫积弱

9. 明朝戚继光赋诗明志：“遥知夷岛（指日本）浮天际，未敢忘危负年华。”诗中的“危”指

- A. 东北地区遭到入侵 B. 台湾被殖民者强占
C. 新疆地区遭受侵略 D. 东南沿海倭患严重

10. 下列文物中，能够说明清政府加强对西藏地区管辖的是



①达赖金印



②驻藏大臣令牌



③唐蕃会盟碑




④金奔巴瓶

- A. ①②③ B. ②③④ C. ①②④ D. ①③④



11. 能够通过右图所示著作查到的史实有

- ①启继禹位 ②赤壁之战
- ③黄巾起义 ④齐桓公称霸
- A. ①②③ B. ①④
- C. ①②④ D. ②③

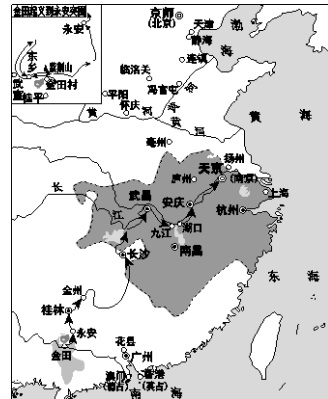


12. 某班出了一期板报，专门介绍华佗、贾思勰、祖冲之、李时珍四位历史人物。这期板报的主题应该是

- A. 古代科技群英
- B. 古代思想大家
- C. 古代医学圣手
- D. 古代文人雅士

13. 右侧示意图反映的历史事件是

- A. 鸦片战争
- B. 第二次鸦片战争
- C. 太平天国运动
- D. 甲午中日战争



14. 以“自强”“求富”为口号，洋务派先后创办了一批近代企业。下列企业中属于洋务派创办的民用工业的是

- A. 安庆内军械所 B. 轮船招商局
- C. 大生纱厂 D. 福新面粉公司

15. 下列历史事件，按时间先后顺序排列正确的是

- ①义和团抗击八国联军 ②北伐战争 ③新文化运动 ④百日维新
- A. ③①②④ B. ①③④② C. ④①③② D. ②④①③

16. 下列人物都是近代反侵略斗争中的民族英雄。其中抗击日本侵略者的是



①邓世昌



②杨靖宇



③赵登禹



④林则徐

- A. ①②③④ B. ①②③ C. ②③④ D. ①③④

17. 1937年，中国第二十九军司令部急电，命令前线官兵坚决抵抗：“卢沟桥即为尔等之坟墓，应与桥共存亡，不得后退。”下列历史事件与之相关的是

- A. 九一八事变 B. 华北事变 C. 西安事变 D. 七七事变


18. 右图是1950年张仃在《人民日报》发表的漫画《纸老虎》，与这幅漫画有关的历史事件是



- A. 国民党发动内战
- B. 朝鲜战争的爆发
- C. 二战后德国分裂
- D. 北约与华约对峙

19. 20 世纪 70 年代，我国取得的重大外交成就有

- ①中国代表团参加亚非会议
- ②恢复在联合国的合法席位
- ③中美正式建立外交关系
- ④中国加入世界贸易组织



- A. ①②
- B. ②④
- C. ③④
- D. ②③

20. 2015 年，诺贝尔奖颁奖委员会把当年的“生理学或医学奖”颁发给一位中国科学家，理由是该科学家发现了能够有效抵抗疟疾的青蒿素，开创了治疗疟疾的新方法。这位科学家是

- A. 邓稼先
- B. 袁隆平
- C. 屠呦呦
- D. 钱学森

21. 《汉谟拉比法典》是迄今已知世界上第一部较为完整的成文法典，它来自

- A. 古埃及
- B. 古巴比伦
- C. 古印度
- D. 古代中国

22. 有学者认为，14 世纪到 17 世纪是“人”和“世界”被发现的时代，这两个“发现”对世界历史产生的共同影响是

- A. 发现了美洲新大陆
- B. 把世界连为一个整体
- C. 西欧大学的兴起
- D. 推动了资本主义发展

23. 阅读右侧文本框中的内容，判断其所描述现象出现的原因是

- A. 工人运动的发展
- B. 资产阶级革命的完成
- C. 工业革命的推动
- D. 垄断组织的形成

(英国)两个世纪以前，一千个人当中没有一个人穿袜子；现在，一千个人当中没有一个人不穿袜子。
——1831 年版《机器的成绩》

24. 下列各项内容来自于某历史公众号推送的一个学习资源包。由此可知，该期推送的历史专题是

- ①论文：《彼得一世改革》
- ②图片：《明治维新时期的小学课堂》
- ③地图：《美国内战》
- ④视频：《亚历山大二世废除农奴制》
- A. 第二次工业革命及其影响
- B. 资本主义制度的扩展
- C. 殖民地人民的反抗斗争
- D. 一战后资本主义的发展




25. 根据文本框中《权利法案》内容的节选，下列说法正确的是

- 凡未经议会同意，以国王权威停止法律或停止法律实施之僭越权力，为非法权力。
- 凡未经议会准许，借口国王特权，为国王而征收，或供国王使用而征收金钱，超出议会准许之时限或方式者，皆为非法。
- 除经议会同意外，平时在本王国内征募或维持常备兵，皆属违法。

- A. 议会的地位高于国王
- B. 国王处于无权的地位



材料二

 <p>契丹小字圆铜镜铭文</p>	 <p>西夏文寿陵残碑</p>	 <p>元朝宣政院印</p>
<p>契丹本无文纪，惟刻木为信，汉人陷番（指契丹）者，以隶书之半加减，撰为胡书（契丹字）。 ——摘编自《五代会要》</p>	<p>西夏文字是参照汉字“六书”理论、运用合成造字法所创造的表意文字。在 6000 余个西夏文字中有 400 余个汉语借词。 ——摘编自《西夏文字的字形结构组合形式与造字方法》</p>	<p>元朝官印使用官方的八思巴文，但一律用篆体形式刻制。 ——摘编自《元国书官印汇释》</p>

材料三

时期	汉语中吸收的部分外来词	外来词的来源
先秦两汉	胡、单于	匈奴语
	骆驼、狮子、石榴、琵琶	西域地区
魏晋南北朝隋唐	可汗、可孙、直勤	鲜卑语
	可汗、可贺敦	突厥语
	瑟瑟、珽琅	波斯语
宋元明清	豆蔻	阿拉伯语
	猛安、谋克	契丹语
	勃极烈、忽鲁	女真语
	成吉思汗、喇嘛、胡同、戈壁	蒙古语
	阿哥、格格、额娘、阿玛	满语

——摘编自《汉语外来词》

- (2) 依据材料二，概括契丹文、西夏文、八思巴文在创制或使用方面的共同特点。(1分)
结合材料二、材料三，指出中华文化得以不断丰富和发展的原因。(2分)

材料四 鸦片战争前后，中国的语言发生历史上少有的变化，从词汇到语法、语言使用，外来词大量增加。其中，翻译著作和双语词典的大量涌现与现代科学的进入普通教育，是本时期外来词引进与推广的两个非政治性决定因素。甲午中日战争后，人们开始清醒起来，真正感到有必要向日本学习，通过对邻邦的学习并引进西方科技。20世纪初，日语的许多译名已经成批地进入现代汉语。在第一次留日高潮中有许多是专学医科的，如鲁迅和郭沫若，都是留日医科出身。当时从日语引进的同医学有关的词语实际上要大大超出现在基本外来词词典



所收的范围。因此，19世纪末至20世纪30年代初，汉语中逐渐充斥着来自日语的汉字词，以及从日语回流来的汉语词。以此来看，应该说，中国社会的进入现代生活并同世界沟通，日语汉字词是立有大功的。

——摘编自《汉语外来词》

(3) 依据材料四，对以下表述做出判断：直接从材料得出的，在括号内划“√”；违背材料所表达意思的，在括号内划“×”；材料没有涉及的，在括号内划“○”。(3分)

- ①鸦片战争后，外来词引进与推广得益于翻译著作和双语词典的大量涌现等因素。 ()
- ②八国联军侵华战争后，英语外来词大量进入汉语系统。 ()
- ③汉语中的外来词阻碍了中国社会进入现代生活并同世界沟通。 ()

材料五



目前，全球有60多个国家通过颁布法令、政令等方式，将汉语教学纳入国民教育体系，170多个国家开设汉语课程或汉语专业，其中美国、日本、韩国、泰国、蒙古、澳大利亚、新西兰等国的汉语教学均由第三外语上升为第二外语。

——《汉语热席卷全球，全世界都在学中国话》

汉语教师和学生们在汉语课堂上

(4) 结合材料五，谈谈你对上述现象的看法。(2分)

32. (11分) 货币的发展历程体现了一定时期经济与社会发展的特征。

材料一 北宋初，生产得到恢复和发展，商品贸易活动日益繁荣，市场对钱币的需求量骤增，以致宋王朝从一建国便面临着货币供给不足，及地区间货币流通被分割的局面……铁钱既笨重难携以致远，又因私铸多而流通受阻……当地一些既有信用、又有大量财富的巨富豪商，为交子在成都的最初发行提供了信用基础。此外，先进的印刷技术，也为交子的印刷创造了便利条件。

——摘编自《宋元纸币流通及其在世界货币史上的地位》

(1) 依据材料一，写出交子产生的时代背景。(3分)



材料二



1 美元纸币上的华盛顿像



1 英镑纸币上的牛顿像



10 英镑纸币上的达尔文像



10 卢比纸币上的甘地像



中国人民银行于 2016 年 11 月 5 日发行的纪念孙中山先生诞辰 150 周年的纪念币，正面图案为广东省中山市翠亨村孙中山先生故居，背面图案为孙中山先生像。

(2) 从材料二中选择两位货币肖像人物（甘地除外），仿照示例，说明其历史贡献。(6分)

【示例】甘地

20 世纪二三十年代，甘地领导印度人民开展非暴力不合作运动，打击了英国的殖民统治，增强了印度人民的民族自尊心和自信心。

材料三

2 欧元硬币正面	2 欧元硬币背面		
 <p>欧元硬币的正面图案采用统一的设计方案</p>	 <p>德国：中间为德国国徽上的图案——联邦之鹰</p>	 <p>法国：中间图案为一棵象征着生命、坚强和增长的树，树外围绕着共和国格言“自由、平等、博爱”</p>	 <p>意大利：中间图案为著名作家但丁的肖像</p>

(3) 观察上述欧元硬币图案，归纳欧盟谋求的发展理念。(2分)



33. (13分) 20世纪以来, 社会主义由理想变成了现实, 开创了世界历史的新局面。

材料一

人物	面临危局	应对之策	结果
列宁	1917年, 俄国经济濒于全面崩溃, 资产阶级临时政府迫害布尔什维克党人	发动①	建立了世界上第一个社会主义国家
	三年国内战争结束后, 经济困难, 社会矛盾加剧	实施新经济政策	调动了生产者的积极性, 巩固了工农联盟
毛泽东	大革命失败, 国民党血腥屠杀共产党和革命群众	领导秋收起义	创建井冈山革命根据地, 开辟了一条工农武装割据、②、武装夺取政权的道路
③	经过“文化大革命”的动乱, 积累下许多严重的政治问题和社会问题	发表《解放思想, 实事求是, 团结一致向前看》的重要讲话	中共十一届三中全会作出把党和国家的工作中心转移到经济建设上来, 实行改革开放的历史性决策

(1) 将材料一的表格填写完整。(3分) 依据材料一, 概括上述人物在探索社会主义革命和建设道路时的共同智慧。(2分)

材料二

1928-1937年苏联工业总产值及重要工业产品在世界和欧洲的位次

	1928年		1937年	
	世界	世界	世界	欧洲
工业总产值	5	2	1	1
机器制造业	4	2	1	1
电力	10	3	2	2
煤	6	4	3	3
钢	5	3	3	3

- ❖ 1941年11月7日, 斯大林号召: “彻底粉碎德国侵略者! 社会主义祖国万岁!” 接受检阅的苏军将士, 直接从红场奔赴战场。
- ❖ 在斯大林格勒战斗最惨烈的时候, 一支新参战的苏联部队, 从渡过伏尔加河开始, 士兵平均生存时间少于24小时, 而基层连以下军官最多不会活过3天。
- ❖ 工人每天废寝忘食地工作14个小时以上, 战争期间, 全国共生产了49万门大炮、近11万辆坦克和13.7万架飞机。

——《正道沧桑》

(2) 在二战中, 苏德战场最终以苏联的胜利而告终。依据材料二, 概括苏联克敌制胜的原因。(3分)



材料三 中国特色社会主义道路、理论、制度、文化不断发展，拓展了发展中国家走向现代化的途径，给世界上那些既希望加快发展又希望保持自身独立性的国家和民族提供了全新选择，为解决人类问题贡献了中国智慧和方案。这就是中国道路的世界贡献，这种贡献具体体现为生存性贡献、发展性贡献、制度性贡献、文化性贡献、和平性贡献。

——摘编自《中国道路能为世界贡献什么》

1949 年以来中国历史大事年表（节选）

时间	事件
1949 年	中国人民政治协商会议第一届全体会议召开，《中国人民政治协商会议共同纲领》通过
1953 年	和平共处五项原则提出
1954 年	第一届全国人民代表大会召开，《中华人民共和国宪法》颁布
1984 年	《中华人民共和国民族区域自治法》颁布
1992 年	中国共产党第十四次全国代表大会提出建立社会主义市场经济体制
1992 年	中国第一次派部队参加联合国的维和行动

(3) 从中国道路的制度性贡献、和平性贡献中任选一个主题，运用大事年表中的相关史实（至少选择一项史实），说明该主题。（3 分）

要求：主题明确，史论结合，逻辑清晰。

材料四

		
自 2013 年起，中国陆续在上海、广东、辽宁、海南等 12 个省市设立了自由贸易试验区	2016 年 9 月 4 日，二十国集团领导人第十一次峰会在杭州举行。习近平在开幕辞中强调，二十国集团要与时俱进、知行合一、共建共享、同舟共济，为世界经济繁荣稳定把握好大方向，推动世界经济强劲、可持续、平衡、包容增长。	2018 年 9 月 3 日，习近平出席中非合作论坛北京峰会开幕式，发表题为《携手共命运，同心促发展》的主旨讲话

(4) 依据材料四，概括中国在国际舞台上所秉承的发展理念。（2 分）



34. (11分) 北京的古今与未来

材料一 《燕国历史大事年表》(简表)

时间	在位	事件
约公元前 1045 年	姬奭	周武王封弟召公奭于燕。因召公留辅周室, 令其子克就封
约公元前 1042 年	姬克	克在燕都就任, 为燕国第一代君主
公元前 663 年	燕庄公	齐桓公亲征山戎救燕
公元前 373 年	燕后简公	燕败齐于林营
公元前 323 年	燕易王	燕易公称王, 是为易王
公元前 222 年	燕王喜	秦拔辽东, 燕王喜被俘, 燕国灭亡

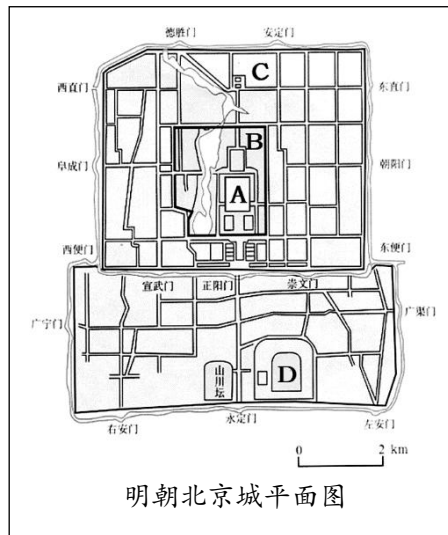
(1) 燕国的历史见证了周朝的兴衰, 例如“姬克为燕国第一代君主”就见证了分封制这一历史现象。请结合所学, 举出材料一中其他历史事件所反映的历史现象(分封制除外)。(3分)

材料二

世界文化遗产委员会对北京两处古迹的评价:

①中国五个多世纪以来的最高权力中心, 它以园林景观和容纳了家具及工艺品的 9000 个房间的庞大建筑群, 成为明清时代中国文明无价的历史见证。

②建于 15 世纪上半叶, 是保存完好的坛庙建筑群(注: 天坛、地坛、日坛、月坛是必建的坛庙, 天坛建于城南, 地坛建于城北, 日坛建于城东, 月坛建于城西), 无论在整体布局还是单一建筑上, 都反映出天地之间的关系, 而这一关系在中国古代宇宙观中占据着核心位置。



(2) 阅读材料二中的图文资料, 将①和②的古迹与图中字母所代表的位置一一对应。

① _____ ② _____ (2分)

材料三



(3) 选择材料三中的任意一幅图片，说明其见证的历史变迁。(3分)
要求：年代明确，史论结合，表述清晰。

- 材料四**
- ①近年来故宫博物院出品了龙袍手机壳、“朕本布衣”帆布包、故宫口红等新产品。
 - ②中关村国家自主创新示范区汇集了联想、百度、京东等高新技术企业 2 万家，聚集跨国公司区域总部和研发中心约 300 家。
 - ③北京市今后将全面推进各区创建国家森林城市，继续实施新一轮百万亩造林绿化，到 2020 年建设和恢复湿地 3 万亩以上。
 - ④北京 2022 年冬奥会和冬残奥会场馆，将采用生产过程中二氧化碳排放量为零或趋近于零的绿色电力供应，这在奥运史上属于首创。
 - ⑤北京文化产业空间布局不断优化，市级文化产业示范园区规范化水平不断提升，文化新地标不断涌现。

(4) 北京在传统与现代的交融中不断发展。依据材料四，完成表格。(3分)

发展主题	序号
	②④
生态环保	
文化创意	