



通州区 2023—2024 学年第一学期九年级期末质量检测

化学试卷

2024 年 1 月

学校 _____ 班级 _____ 姓名 _____

考生须知

1. 本试卷共 8 页,共两部分,38 道小题,满分 70 分。考试时间为 70 分钟。
2. 在试卷和答题卡(纸)上准确填写学校名称、班级、姓名。
3. 试题答案一律填涂或书写在答题卡(纸)上,在试卷上作答无效。
4. 在答题卡上,选择题用 2B 铅笔作答,其他试题用黑色字迹签字笔作答。
5. 考试结束后,请将答题卡交回。

可能用到的相对原子质量: H 1 C 12 N 14 O 16 S 32

第一部分

本部分共 25 题,每题 1 分,共 25 分。在每题列出的四个选项中,选出最符合题目要求的一项。

1. 发现元素周期律并编制第一张元素周期表的科学家是
A. 拉瓦锡 B. 门捷列夫 C. 张青莲 D. 道尔顿
- 空气是一种宝贵的自然资源。回答 2—5 题。
2. 饼干敞口放置在空气中,一段时间后,发现饼干变软,由此现象可知空气中含有
A. 氮气 B. 氧气 C. 水蒸气 D. 二氧化碳
3. 下列关于氧气的说法正确的是
A. 少量氧气可溶解在水中,供水生动植物呼吸 B. 氧气可以支持燃烧,是一种常见的燃料
C. 氧气化学性质活泼,可做焊接金属时的保护气 D. 氧气密度比空气小,可用于填充探空气球
4. 下列做法中,不利于保护空气的是
A. 监测并发布空气质量报告 B. 工业废气直接排放
C. 使用清洁能源 D. 植树造林
5. “人造空气”帮助人类实现了太空漫步的梦想。按体积分数计算,其中含有 70% 的氮气、20% 以上的氧气以及少量二氧化碳。下列说法不正确的是
A. 与空气相比“人造空气”中的氮气含量低
B. “人造空气”属于混合物
C. 人类在“人造空气”中可以正常呼吸
D. 二氧化碳有毒,要控制其在“人造空气”中的含量

安全意识和规范操作是实验探究的基础。回答 6—9 题。

6. 下列药品应粘贴右图标志的是
A. 镁条 B. 酒精
C. 石灰水 D. 高锰酸钾



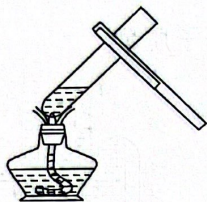
7. 量取 18 mL 液体,应选用的仪器是
① 5 mL 量筒 ② 10 mL 量筒
③ 20 mL 量筒 ④ 胶头滴管
A. ①②④ B. ③④ C. ②④ D. ①④



8. 以下实验行为正确的是

- A. 酒精灯碰翻着火,应立即用嘴吹灭
- B. 可通过品尝的方式区分实验室的食盐和蔗糖
- C. 实验结束后,剩余药品要回收处理,不能直接倒入下水道
- D. 为了节约时间,可以用手直接抓取药品

9. 下列实验操作正确的是



A. 加热液体



B. 取用固体



C. 倾倒液体



D. 过滤

硫酸钠(Na_2SO_4)是一种重要的化工原料。回答 10—12 题。

10. Na_2SO_4 所含元素中,属于金属元素的是

- A. N
- B. Na
- C. S
- D. O

11. Na_2SO_4 属于

- A. 混合物
- B. 化合物
- C. 单质
- D. 氧化物


12. Na_2SO_4 中硫元素的化合价为

- A. -2
- B. +2
- C. +4
- D. +6


13. 判断镁条在空气中燃烧是化学变化的依据是

- A. 有白色固体生成
- B. 看到耀眼的白光
- C. 变化中放出大量的热
- D. 镁条形状改变


14. 下列发电方式,没有利用新能源的是



A. 潮汐能发电



B. 火力发电



C. 太阳能发电



D. 风力发电

15. 下列符号能表示 2 个氧分子的是

- A. 2O_2
- B. O_2
- C. 2O
- D. H_2O_2

16. 某食品中富含维生素、钾和镁等,这里的“钾”和“镁”指的是

- A. 分子
- B. 原子
- C. 元素
- D. 单质

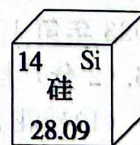
化学助力打通科技成果转化“最后一公里”。回答 17、18 题。

17. 国产大型客机 C919 使用了含钛材料,已知一种钛原子核内有 22 个质子和 26 个中子,该原子的核外电子数为

- A. 4
- B. 22
- C. 26
- D. 48

18. “天河二号”超级计算机电路芯片的核心材料是高纯硅。右图为硅在元素周期表中的信息,下列关于硅元素的说法不正确的是

- A. 原子序数为 14
- B. 属于非金属元素
- C. 元素符号为 SI
- D. 相对原子质量为 28.09





野炊逐渐成为人们喜欢的一种休闲活动。回答 19、20 题。

19. 人们在野外会用木柴生火烹调,餐后浇水熄灭火堆,下列说法不正确的是

- A. 木柴属于可燃物
- B. 将木柴底部架空可使其与空气充分接触
- C. 浇水熄灭火堆是为了降低木柴着火点
- D. 点火前应将周围的枯树枝干树叶清理走,防止引起火灾



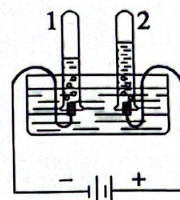
20. 从微观角度分析,水煮沸的过程中,发生变化的是

- A. 分子种类
- B. 分子间隔
- C. 分子大小
- D. 分子质量

21. 电解水实验如右图所示。下列说法不正确的是

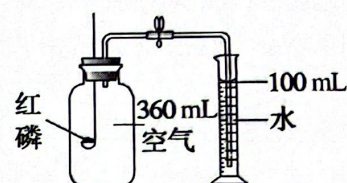
- A. 试管 1 中得到的是 H_2
- B. 该实验说明水由 H_2 和 O_2 组成
- C. 反应前后元素种类不变
- D. 试管 2 中的气体能使带火星木条复燃

D. 分子质量



22. 用右图装置验证了空气中 O_2 的含量。下列叙述不正确的是

- A. 红磷的作用是消耗氧气
- B. 实验前需要检查装置气密性
- C. 红磷熄灭后,集气瓶冷却至室温后再打开止水夹
- D. 最终量筒中的液面约降至 80 mL 刻度线处



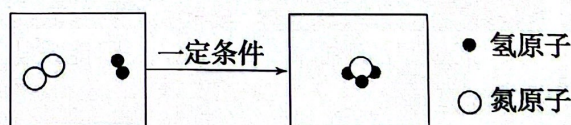
23. 下列关于原子、分子的说法不正确的是

- A. 原子由原子核和核外电子构成
- B. 分子由原子构成
- C. 分子是化学变化中的最小粒子
- D. 分子可以构成物质

24. 多巴胺($C_8H_{11}O_2N$)被称为“快乐因子”,是大脑中含量最丰富的儿茶酚胺类神经递质。下列关于多巴胺的说法正确的是

- A. 氢、氧元素的质量比 11 : 16
- B. 由三种元素组成
- C. 相对分子质量是 153 g
- D. 碳元素的质量分数最大

25. 工业上合成氨反应前后分子种类变化的微观示意图如下:



下列说法不正确的是

- A. 该反应为化合反应
- B. 参加反应两种物质的分子个数比为 1 : 3
- C. 反应前后氢原子个数改变
- D. 该反应中涉及两种单质

第二部分

本部分共 13 题,共 45 分

[生活现象解释]

2023 年第 19 届杭州亚运会是中国第三次举办亚洲最高规格的国际综合性体育赛事。

26. (2 分)“桂花”是东道主杭州的市花。

(1)桂花香:观众在观看比赛时会闻到阵阵桂花香,该现象能体现的分子性质是_____。

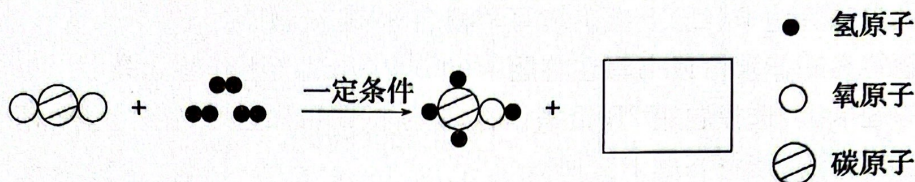


(2) 桂花茶: 茶中主要成分是茶多酚($C_{22}H_{18}O_{11}$)具有抗氧化的作用, $C_{22}H_{18}O_{11}$ 中碳、氧原子的个数比为_____。

27. (2分) 2023年杭州亚运会助力打造首届“碳中和”亚运会, 实现循环内的“零碳”排放, 彰显了中国推动可持续发展的担当。

(1) 为服务亚运会, 杭州启用首座氢能利用站, 每日能满足50辆氢燃料大巴或公交车加氢, 氢气燃烧的化学方程式为_____。

(2) 杭州亚运会开幕式首次使用废碳再生的绿色甲醇作为主火炬塔燃料, 合成甲醇反应的微观示意图如下, 在方框中补全相应微粒的图示:



28. (3分) 杭州奥体中心体育游泳馆, 可在池水常年不换的情况下依然干净清澈, 源于全天不间断的水循环系统。

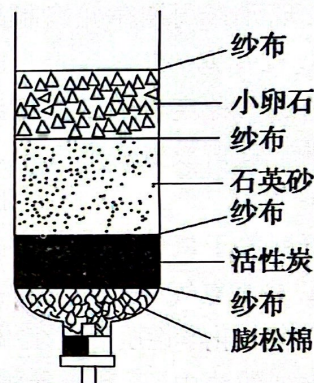
(1) 每一滴水都会经过收集器、硅藻土过滤器、消毒器等处理, 经过以上流程净化过的水为_____ (填“纯净物”或“混合物”)。

(2) 用右图所示简易装置模拟水循环系统中的净水过程, 其中起到吸附作用的是_____ (填字母)。

A. 小卵石 B. 活性炭 C. 蓬松棉

(3) 按照常规泳池每周换一次水的标准, 一年可节约18万立方米水资源。下列生活中的用水方式与节水理念不相符的是_____ (填字母)。

A. 洗手时一直开着水
B. 用流动的水给水果降温
C. 淘米水用来浇花



[科普阅读理解]

29. (6分) 阅读下面科普短文。

碳元素是人类接触和利用最早的元素之一。由碳元素组成的单质可分为无定形碳、过渡态碳和晶形碳三大类, 如图1。其中, 石墨与金刚石虽物理性质有较大差异, 但石墨可在一定条件下转化成为金刚石。




图1

从石墨中分离出单层的石墨片, 被称为石墨烯。石墨烯可将来自远红外线的热量传送给人体, 将石墨烯加入纺织面料中可起到保暖效果。

将石墨烯向内卷起, 又得到了一种管状结构的碳原子簇——碳纳米管。研究发现, 碳纳米管是所有材料中“比强度”最高的。比强度越高, 表明达到相应强度所用的材料质量越轻。表1为几种不同物质的比强度。

碳纳米管具有优良的力学、电学和化学性能。研究人员用碳纳米管修饰的石墨作为电极材料, 通过电解法去除溶液中的硝酸根离子(NO_3^-), 比较了在酸性、中性和碱性三种条件下硝酸钠溶液中 NO_3^- 的去除效果, 其结果如图2。



表 1

| 材料 | 比强度(KN·m/kg) |
|------|--------------|
| 混凝土 | 5.22 |
| 橡胶 | 16.3 |
| 尼龙 | 69.0 |
| 铝合金 | 214 |
| 不锈钢 | 254 |
| 蛛丝 | 1069 |
| 碳纤维 | 2457 |
| 碳纳米管 | 46268 |

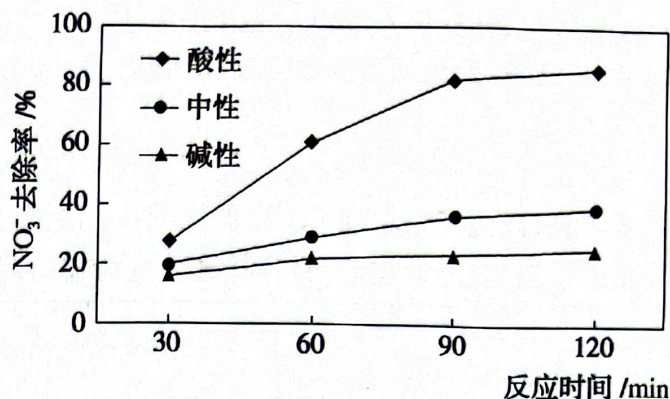


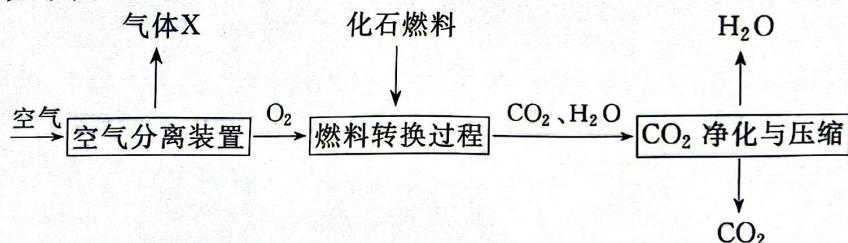
图 2

近些年,随着碳纳米管及纳米材料研究的深入,其广阔的应用前景不断展现出来。依据文章内容回答下列问题。

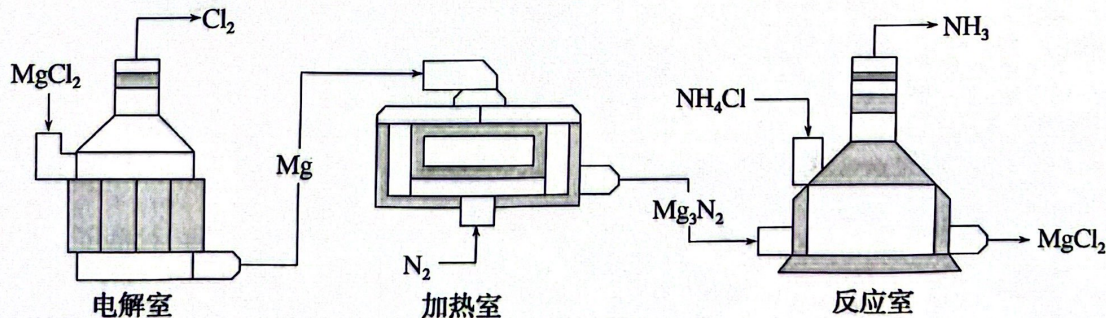
- (1)由图 1 可知,碳纤维属于_____ (填序号)。
 A. 无定形碳 B. 过渡态碳 C. 晶形碳
- (2)石墨在一定条件下可转化成金刚石,此过程为_____ (填“物理”或“化学”)变化。
- (3)由表 1 推测,达到相同强度所用材料质量最轻的是_____。
- (4)由图 2 可知,在_____条件时,硝酸钠溶液中 NO₃⁻ 去除率最高。
- (5)判断下列说法是否正确(填“对”或“错”)
 ①可在纺织面料中添加石墨烯,达到防寒保暖的效果。 _____
 ②碳纳米管由碳原子构成。 _____

[生产实际分析]

30. (3分)富氧燃烧是一种高效的节能燃烧技术,同时实现对高浓度二氧化碳气体的直接处理和封存,主要过程如下图。



- (1)空气分离装置所得气体 X 的主要成分为_____ (用化学式表示)。
- (2)化石燃料包含煤、石油和_____。
- (3)CO₂ 气体压缩前后的化学性质保持不变的原因是_____。
31. (3分)氨气(NH₃)在化工、科研等领域有重要用途,一种生产氨气的主要工艺流程如下。




- (1)电解室中发生的反应为 $\text{MgCl}_2 \xrightarrow{\text{通电}} \text{Mg} + \text{Cl}_2 \uparrow$, 其中化合价发生改变的元素是_____。
- (2)400 °C 时,加热室中发生反应的化学方程式为_____。
- (3)以上流程中,能够循环使用的物质是_____。



[基本实验及其原理分析]

32. (3分) 下图是 O_2 的制取和性质实验。

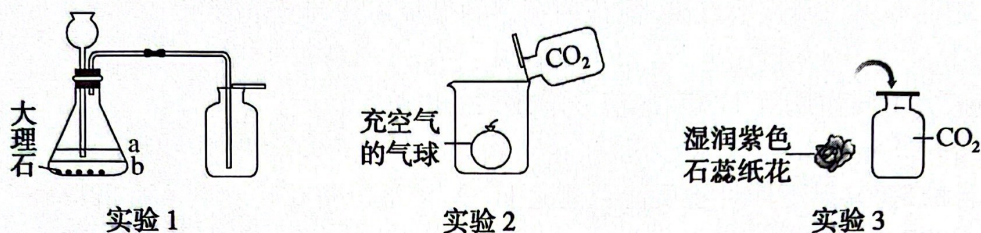


实验 1

实验 2

- (1) 实验 1 中, 仪器 a 的名称是 _____, 制取 O_2 的化学方程式为 _____。
 (2) 实验 2 中, 观察到铁丝剧烈燃烧, 火星四射, 放热, _____。

33. (5分) 下图是 CO_2 的制取和性质实验。



实验 1

实验 2

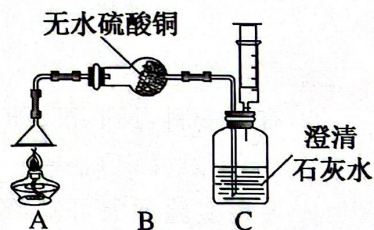
实验 3

- (1) 实验 1 制取 CO_2 时, 向锥形瓶中加入适量稀盐酸, 其液面应位于 _____ (填“a”或“b”) 处, 发生反应的化学方程式为 _____。
 (2) 实验 1 收集 CO_2 时, 将燃着的木条放在集气瓶口, 观察到 _____, 则说明 CO_2 已收集满。
 (3) 实验 2 中, 观察到气球浮起, 说明 CO_2 的密度比空气 _____ (填“大”或“小”)。
 (4) 实验 3 中, 将湿润紫色石蕊纸花放入充满 CO_2 的集气瓶中, 观察到纸花变红。纸花变红的原因是 _____。

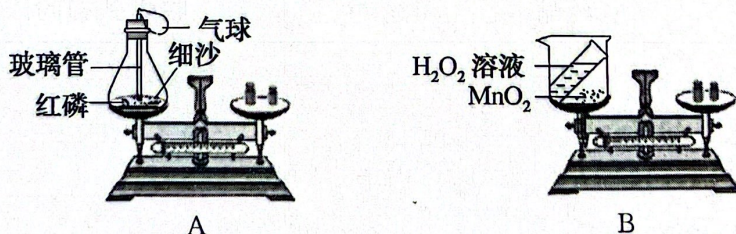
34. (3分) 酒精灯是实验室常用仪器之一, 用右图实验研究酒精的燃烧。

已知: 无水硫酸铜为白色粉末, 遇水变蓝。

- (1) 向上拉动注射器, B 中白色的无水硫酸铜粉末变蓝, 则说明酒精燃烧有 _____ 生成, 由此可知, 酒精中一定含有 _____ 元素。
 (2) C 中澄清石灰水变浑浊, 产生该现象的原因为 _____ (用化学方程式表示)。



35. (3分) 用下图实验研究质量守恒定律。



A

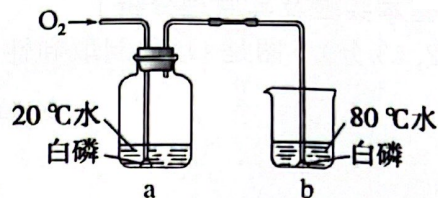
B

- (1) 实验 A 中, 红磷减少的质量 _____ (填“小于”或“等于”或“大于”) 生成物 P_2O_5 的质量。
 (2) 实验 B 中, 反应的化学方程式为 _____。
 (3) 下列操作中, 可将实验 B 改进为能验证质量守恒定律的是 _____ (填序号)。
 A. 将二氧化锰更换为高锰酸钾
 B. 将反应在密闭容器中进行
 C. 调节天平游码, 使天平保持水平



36. (3分)某兴趣小组利用右图装置研究可燃物燃烧的条件。

实验过程:①通 O_2 前,白磷均不燃烧;②通入 O_2 后,a 中白磷不燃烧,b 中白磷燃烧。



已知:白磷的着火点为 $40\text{ }^\circ\text{C}$,红磷的着火点为 $240\text{ }^\circ\text{C}$ 。

(1)通过实验②可得出可燃物燃烧的条件之一为_____。

(2)能证明可燃物燃烧需要与氧气接触的现象是_____。

(3)下列说法不正确的是_____ (填序号)。

- A. $80\text{ }^\circ\text{C}$ 水的作用是提供温度、隔绝氧气
- B. 若将 a 中白磷换成红磷,能证明可燃物燃烧需要温度达到着火点
- C. 若将 b 中白磷换成红磷,能证明可燃物燃烧需要与氧气接触

[科学探究]

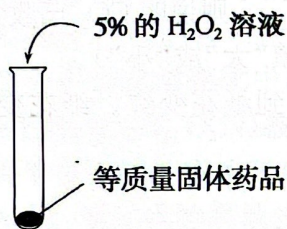
37. (6分)探究不同物质对 H_2O_2 溶液分解效果的影响。

实验一:

【实验目的】探究以下四种物质能否催化 H_2O_2 溶液分解。

【进行实验】

如图操作进行实验,连续向试管中加入 3 mL 浓度为 5% 的 H_2O_2 溶液。记录如下:



| 固体药品种类 | 第 1 次 | 第 2 次 | 第 3 次 |
|------------------|-------|-------|-------|
| 氯化铁($FeCl_3$) | 较多气泡 | 较多气泡 | 较多气泡 |
| 二氧化锰(MnO_2) | 较多气泡 | 较多气泡 | 较多气泡 |
| 次氯酸钠($NaClO$) | 大量气泡 | 较多气泡 | 少量气泡 |
| 硫酸钾(K_2SO_4) | 无气泡 | 无气泡 | 无气泡 |

【解释与结论】

(1)查阅资料可知, $NaClO$ 与 H_2O_2 发生化学反应,补全该反应的化学方程式。



(2)通过实验现象可知, K_2SO_4 _____ (填“能”或“不能”)催化 H_2O_2 溶液分解。

【继续实验】比较 $FeCl_3$ 和 MnO_2 的催化效果。

| 序号 | 药品 | | 收集到相同浓度 O_2 所用时间 |
|----|---------------------------|--------------------|--------------------|
| ① | 3 mL 浓度为 5% 的 H_2O_2 溶液 | 0.03 g $FeCl_3$ 固体 | |
| ② | 3 mL 浓度为 5% 的 H_2O_2 溶液 | _____ g MnO_2 固体 | |



(3)实验②中,加入 MnO_2 固体的质量为 _____ g。

(4)对比实验数据可推知, MnO_2 催化 H_2O_2 溶液分解的速率小于 $FeCl_3$, 其证据是 _____。

实验二:

【实验目的】探究影响 $FeCl_3$ 催化 H_2O_2 溶液分解速率的因素。

【进行实验】记录收集到相同浓度 O_2 所需时间。

| 序号 | 初始温度/ $^{\circ}C$ | H_2O_2 溶液浓度/% | H_2O_2 溶液体积/mL | $FeCl_3$ 质量/g | 所用时间/s |
|----|-------------------|-----------------|------------------|---------------|--------|
| ③ | 30 | 5 | 20 | 0.03 | 32 |
| ④ | 30 | 5 | 20 | 0.04 | 29 |
| ⑤ | 30 | 5 | 20 | 0.05 | 28 |

【解释与结论】

(5)依据实验③④⑤得出的结论是 _____。

【继续实验】

(6)补做实验,证明了温度会影响 $FeCl_3$ 催化 H_2O_2 溶液分解的速率。实验方案:向试管中加入 0.03 g $FeCl_3$ 和 20 mL 浓度为 5% 的 H_2O_2 溶液, _____。

[实际应用定量计算]

38. (3分) 硫化氢 (H_2S) 用于合成荧光粉, 不完全燃烧产物为硫单质, 反应的化学方程式为

$2H_2S + O_2 \xrightarrow{\text{点燃}} 2S \downarrow + 2H_2O$ 。该反应中, 若有 32 g O_2 参与反应, 计算消耗 H_2S 的质量。