



## 门头沟区 2020 年初三年级综合练习（二）

# 历史试卷


2020.6

考生须知	1. 本试卷共 12 页，分为两部分，第一部分选择题，30 个小题，共 45 分；第二部分非选择题，4 道题，共 45 分。 2. 请将条形码粘贴在答题卡相应位置处。 3. 试卷所有答案必须填涂或书写在答题卡上，在试卷上作答无效。请使用 2B 铅笔填涂，用黑色字迹签字笔或钢笔作答。 4. 考试时间 90 分钟，试卷满分 90 分。
------	---

### 第一部分 选择题（共 45 分）

本部分共 30 小题，每小题 1.5 分，共 45 分。在每小题列出的四个选项中，选出最符合题目要求的一项。

1. 北京人是世界上最重要的原始人类之一，它的发现对于研究古人类进化的历史具有重要的意义。下列图片符合北京人生活特征的是



- A. 石磨盘和石球      B. 打制石器      C. 鱼纹彩盆      D. 骨耜
2. 在上海合作组织青岛峰会欢迎宴会上，习近平主席在致辞中说，山东是孔子的故乡和儒家文化发祥地。儒家思想是中华文明的重要组成部分。下列思想属于儒家学派的是
- A. 提倡法治      B. 无为而治      C. 为政以德      D. 兼爱、非攻
3. 入选“2019 年十大考古发现”的新疆奇台石城子遗址是目前新疆地区唯一经考古发掘的文化特征鲜明的汉代城址，也是迄今新疆发掘面积最大的一处汉代军事要塞。这一遗址的挖掘有助于深入研究两汉时期中原王朝对以下哪一地区的管辖
- A. 台湾      B. 西藏      C. 青海      D. 西域
4. 西晋张辅对司马迁编撰的《史记》的评价是：迁之著述，辞约而事举，叙三千年事唯五十万言。这部史书记述的历史起止时间是
- A. 黄帝——汉高祖      B. 黄帝——汉武帝      C. 战国——五代      D. 战国——东汉
5. 我国古代的伟大工程无一不体现出古代劳动人民的智慧和伟大的创造力。被一位中国作家评论为：此项工程的发起者隋炀帝“虽使他的朝代缩短了许多年，但给子孙万代却带来莫大的好处。”中的“此项工程”是指
- A. 都江堰      B. 灵渠      C. 赵州桥      D. 大运河

6. 据学者统计“北宋一朝科举考试共录取文士 60035 人，平均每年约 360 人；武举考试共录取武士 868 人，平均每年约 5 人。”宋代还规定文武官员在任期间，文臣考核升迁的年限比武臣短。据此可知，宋代的国策是

- A. 重文轻武                      B. 科教兴国                      C. 重农抑商                      D. 休养生息

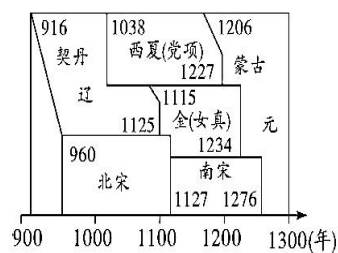
7. 在此次新型冠状病毒肺炎疫情治疗中，除常规治疗方法外，中医药治疗起到了重要作用。临床发现，中西医结合治疗新型冠状病毒疗效显著。对于祖国的传统医学我们的态度应该是

- ①传统医学早已经过时，西医见效快，我们应该多关注西医。  
 ②传统医学在它产生时发挥了重要作用，应该积极给予肯定。  
 ③传统医学要与时俱进，在新时代焕发新的生命，推陈出新。  
 ④对于传统医学我们要取其精华，去其糟粕，批判继承，古为今用。

- A. ①②③                      B. ②③④                      C. ①②④                      D. ①③④

8. 右图是中国古代某阶段示意图，这一历史阶段的时代特征是

- A. 繁荣与开放的时代  
 B. 政权分立与民族交融  
 C. 民族关系发展和社会变化  
 D. 统一多民族国家的巩固与发展



9. 下列能为我们深入了解明代科技成就及影响的著作是

- ①《天工开物》                      ②《齐民要术》                      ③《农政全书》                      ④《本草纲目》

- A. ①②③                      B. ②③④                      C. ①③④                      D. ①②④

10. 以下文物按时间先后排序正确的是



- ①五铢钱                      ②司母戊鼎                      ③契丹鸡冠壶                      ④兵马俑

- A. ①②③④                      B. ①②④③                      C. ②①④③                      D. ②④①③

11. 中国历史的发展，时而分裂，时而统一，国家统一始终是中国历史发展的主流。下列结束长期分裂局面、实现国家统一的四个封建王朝中第一个与最后一个是

- A. 隋朝 西晋                      B. 西晋 元朝                      C. 秦朝 元朝                      D. 秦朝 隋朝

12. 九年级某班开展研究性学习，整理出以下图片，如果要给他们的研究确定一个主题，应该是





达赖金印班禅金印



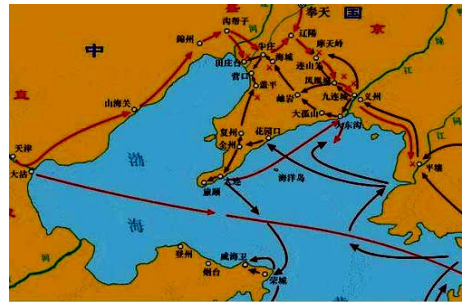
郑成功接见荷军投降



清政府颁赐的金奔巴瓶

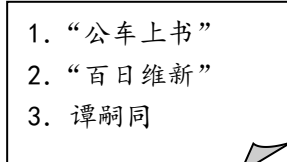
- A. 机构的设置与变化
- B. 国家的巩固与发展
- C. 对外的联系与交往
- D. 文化的繁荣与昌盛

13. 认知和探究历史地图，从中提取有效信息是学习历史的重要方法之一。下图反映的历史事件是



- A. 鸦片战争
- B. 第二次鸦片战争
- C. 甲午中日战争
- D. 八国联军侵华战争

14. 某校历史学习社团在合作学习中由各小组选出的“解说员”向全班同学介绍本组所选专题的相关资料。有一组的解说员展示搜集的材料如右方框所示。请你判断其所选的专题是



- A. 洋务运动
- B. 戊戌变法
- C. 五四运动
- D. 新文化运动

15. 辛亥革命后，中国先后出现了袁世凯称帝和张勋复辟的两次帝制复辟，但是最后都以失败而告终，这恰恰可以印证辛亥革命

- A. 结束了封建制度
- B. 完成了反帝反封建的任务
- C. 动摇了封建制度的根基
- D. 使民主共和观念深入人心

16. 金一南在《走向辉煌》一书中写道：“长征是中国革命中最伟大的史诗。历史将会证明，它也是中华民族伟大复兴的奠基石。长征中蕴含着精神财富。”伟大的长征精神包括

- ①坚定信念、奋斗不息②敢打敢拼、不受拘束③不畏艰险、艰苦奋斗④严守纪律、爱国为民
- A. ①②③
- B. ②③④
- C. ①③④
- D. ①②④

17. 电影是深受人们喜爱的文化娱乐方式，下面几部电影的历史背景都发生在



- A. 解放战争时期
- B. 北伐战争时期
- C. 鸦片战争时期
- D. 抗日战争时期

18. 举世闻名的三大战役是1948年9月至1949年1月中国人民解放军同国民党军队进行的战略



决战，在下列城市中采取和平方式获得解放的是

- A. 天津                      B. 保定                      C. 北平                      D. 张家口

19. 由邓小平提出的一国两制方针被誉为“天才的创造，令人神往的构想。”，“一国两制”的构想变为现实的是

- A. 香港的回归                      B. 西藏和平解放  
C. 左宗棠收复新疆                      D. 人民解放军占领南京

20. 现在一位外籍游客到中国旅游，下列生活情景他不可能看到的是



- A. 用微信支付宝支付    B. 用粮票买米                      C. 穿现代服装                      D. 住小洋楼

21. “14 世纪，一场重视继承古代文化遗产，追求个人精神自由的思想解放运动到来了，人文主义开路、自然科学和文化艺术相继取得了璀璨而辉煌的成就，群星闪烁，灿若霓虹。”这一时期涌现了许多优秀的文学艺术作品，下列人物与作品搭配正确的是

- A. 莎士比亚——《蒙娜丽莎》                      B. 拉斐尔——《神曲》  
C. 达·芬奇——《最后的晚餐》                      D. 但丁——《向日葵》

22. 美国一位著名历史学家在他的《哥伦布大交换》一书中写道：“然而无论玉米在中国有多重要，甘薯简直是一种天赐恩物。它至少早在 1560 年代即已抵达中国，很快便被接受，因为甘薯不与稻米及其他传统作物争地，却在前此未开拓利用的土壤蓬勃生长，……”据此判断，玉米、甘薯能够传入中国，有赖于哥伦布等人的探险活动

- A. 传播了启蒙思想                      B. 使用了蒸汽轮船  
C. 打破了人类彼此隔绝的状态                      D. 加剧了“三角贸易”

23. 制作表格整理知识是历史学习的有效方法。下列整理符合历史事实的是

选项	时间	事件	意义
A	1688 年	英国发动“光荣革命”	标志世界近代史的开端
B	1776 年	美国《独立宣言》的发表	标志着美国独立战争的爆发
C	1889 年	日本颁布《明治宪法》	确立了资产阶级联邦制
D	1917 年	俄国十月革命	创建了人类历史上第一个社会主义国家

24. 《全球通史》中写道：英国的煤产量从 1770 年的 600 万吨上升到 1800 年的 1200 万吨，进而又上升到 1861 年的 5700 万吨。同样，英国的铁产量也从 1700 年的 5 万吨增长到 1800 年



13 万吨，进而则增长到 1861 年的 380 万吨。由此可见，工业革命

- A. 提高了社会生产力
- B. 使英国成为世界工厂
- C. 使资本主义战胜封建主义
- D. 确立了资本主义对世界的统治

25. 1942 年 1 月，美、英、苏、中等 26 个国家签署《联合国宣言》，标志着世界反法西斯同盟的建立，它的建立


- A. 维持了战后世界的长久和平
- B. 完全消除了美苏之间的社会制度矛盾
- C. 加快了反法西斯战争胜利的进程
- D. 为战后新的世界体系形成奠定了基础

26. 一位同学在查找二战后资本主义的新变化有关资料时，发现了下面的数据表，某组织成员国数量的变化说明

时间	20 世纪 50—60 年代	20 世纪 70 年代	20 世纪 80 年代	20 世纪 90 年代	21 世纪初
成员国个数	6	9	12	15	27

- A. 冷战的开始
- B. 北约组织建立
- C. 两极格局瓦解
- D. 欧洲联合加强


27. 下面一组图片反映出人类共同的期盼是



打结的手枪



铸剑为犁



和平鸽

- A. 民主
- B. 自由
- C. 和平
- D. 公正

28. 二战后，世界资本主义殖民体系逐渐崩溃，亚非拉的民族独立浪潮改变着世界的面貌。下列关于亚非拉民族独立运动的说法，错误的是

- A. 1999 年，巴拿马正式收回巴拿马运河的主权
- B. 莫桑比克独立标志着帝国主义在非洲的殖民体系最终崩溃
- C. 在 1955 年的万隆会议上，周恩来提出了“求同存异”的方针
- D. 1960 年，非洲有 17 个国家获得独立，这一年因此被称为“非洲年”

29. 2019 年 6 月 6 日，工业和信息化部向中国电信、中国移动、中国联通、中国广电发放 5G 牌照，我国正式迈入 5G 时代。5G 技术属于第三次科技革命中的

- A. 航天技术
- B. 生物技术
- C. 计算机网络技术
- D. 原子能技术

30. 联合国大会 2015 年 12 月通过了各国 2016—2018 年联合国会费与维和摊款的分摊比额。据





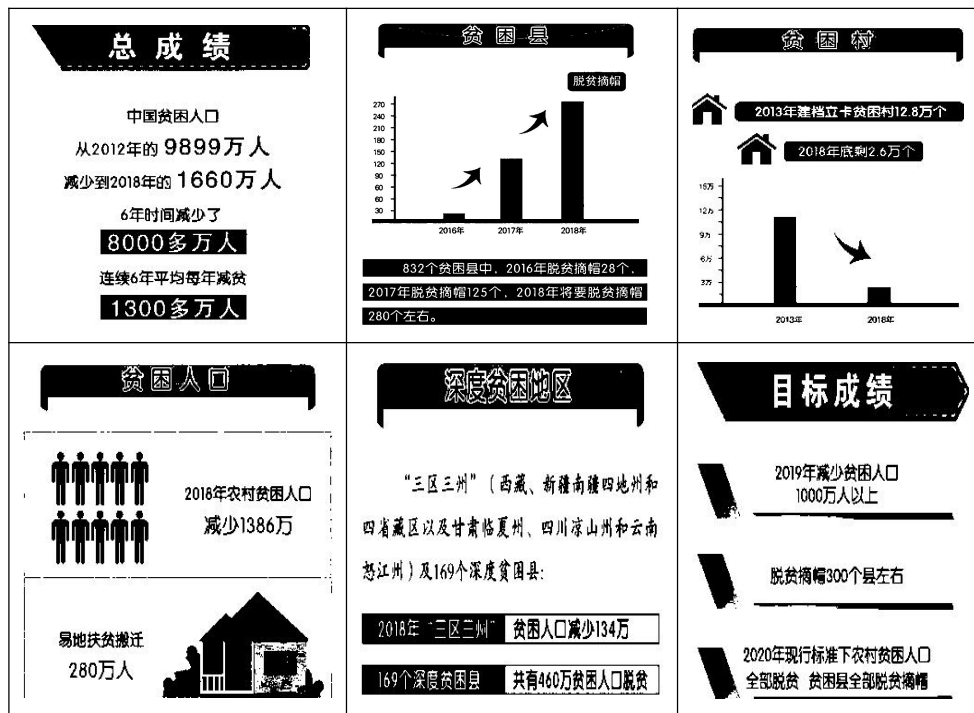
的影响是什么？（1分）

材料四 1861年，俄国沙皇亚历山大二世签署关于废除农奴制度的法令：法令规定，农奴具有人身自由，包括有权离开土地，有权拥有财产，有权以自己的名义进行诉讼、立约等活动；地主不能买卖及交换农奴，不能禁止农奴结婚，也不能干涉农奴的家庭生活；农奴在获得“解放”时，可以得到一块份地，但必须出钱赎买，授与农奴的份地，在法律上仍是地主的财产，农奴只有“永久使用”权。

俄国1861年改革后，一位官员说：“人民挺起腰杆来了，样子变了；言论谈吐，一切都变了。”列宁则指出：“臭名远扬的‘解放’是对农民的无耻掠夺。”

（4）依据材料四中俄国1861年改革的有关内容，指出列宁的观点的基本依据及这次改革的局限性体现在哪里？（2分）

材料五 党的十八大以来，在以习近平同志为核心的党中央坚强领导下，脱贫攻坚战取得决定性进展。我国成为世界上减贫人口最多的国家，也是世界上率先完成联合国千年发展目标的国家。下面图片是精准扶贫政策实施六年来取得的成绩及未来目标。



（5）依据材料五，你能获取什么信息，（2分）综上所述，分析国家政策对经济发展的影响。

（1分）



32. (12分) 中国的道路自信、理论自信、制度自信, 来源于实践、来源于人民、来源于真理。中国特色社会主义植根于中华文化沃土、反映中国人民意愿、适应中国和时代发展进步要求, 具有深厚的历史渊源和广泛的现实基础。阅读材料, 回答问题。

材料一



①遵义会议会址                      ②五四运动                      ③开国大典                      ④中共一大会址

(1) 请将上述图片对应的历史事件按先后顺序进行排序\_\_\_\_\_ (填序号), (1分) 任选其中的一个事件阐述其历史意义。(2分)

材料二

南昌起义、秋收起义和井冈山会师示意图

这一时期, 毛泽东发表了《井冈山的斗争》《中国的红色政权为什么能够存在?》《星星之火, 可以燎原》等著作, 论证了红色政权在中国农村存在、发展的原因和条件, 提出“工农武装割据”思想, 从理论上为中国革命的胜利指明正确方向。

(2) 依据材料二的图文资料结合所学, 分析毛泽东写作《井冈山的斗争》《中国的红色政权为什么能够存在?》《星星之火, 可以燎原》等著作的时代背景以及他为中国革命胜利开辟了一条什么道路。(2分)

材料三

1978~2019年中国国民经济部分年份对比简表

项目	1978年	1997年	2009年	2019年
我国国内生产总值(亿元)	3624.1	74462.6	335353	990865
城镇居民人均可支配收入(元)	343.4	5160.3	17175	30733

(3) 依据材料三, 指出我国国民经济实力出现了怎样的变化趋势? (1分) 分析出现这一趋势的主要原因。(2分)





**材料四** 首先，我们的道路自信源于人民：中国特色社会主义道路是历史和人民的选择。中国特色社会主义是在改革开放新时期开创的，也是建立在我们党 90 多年长期奋斗基础上的，而其思想、理论和实践的源头，则可追溯到更远。其次，我们的道路自信源于实践：中国特色社会主义道路是实现现代化的必由之路。40 多年来，中国共产党领导人民坚定走这条道路，取得了举世瞩目的成就，“经过几代人努力，我们从来没有像今天这样离实现中华民族伟大复兴的目标如此之近，也从来没有像今天这样更有信心、更有能力实现中华民族伟大复兴”。最后，我们的道路自信源于中国共产党的优秀基因：强大的学习能力和自我革新能力。

——刘焕申《中国特色社会主义道路自信的源泉》

(4) 依据材料四，归纳中国道路自信的源泉有哪些？（3 分）

**材料五** 新冠肺炎疫情暴发，是新中国成立以来在中国发生的传播速度最快、感染范围最广、防控难度最大的一次重大突发公共卫生事件。新冠肺炎疫情是一场“大考”，检验出一个国家治理体系和治理能力的成色。

与某些国家在疫情面前束手无策、治理失序，各方力量相互扯皮、敷衍塞责等乱象相比，在以习近平同志为核心的党中央坚强领导下，全国人民上下一心、众志成城，国内疫情已得到基本控制，生产生活秩序加快恢复，统筹推进疫情防控和经济社会发展工作取得积极成效。中国交出了一份高分答卷。

——摘自央广网《“抗疫”答卷彰显中国制度效能与实践价值》

(5) 依据材料五，针对我国治理此次疫情取得的成效说一说你的感悟。（1 分）

33. (11 分) 回溯 500 年来世界各大国崛起发展的历程，给人类留下了丰富的经验和深刻的教训。

阅读材料，回答问题。

**材料一** 自 18 世纪下半叶，蒸汽吐着白气推开现代化大门以来，人类文明发生了深刻的嬗变。在现代化进程的大舞台上，新老大国次第亮相，演绎了各具特色的发展篇章，这当中有一条堪称规律的结论：一个国家要保持充满活力、持续向上的发展态势，关键是让经济发展



方式始终与时俱进，找到符合时代潮流、契合自身发展阶段的现代化路径……正是依靠工业革命，转向工业立国，才使英国这个孤悬一隅的小岛，孕育了超凡的能量，成为跨越两个世纪世界发展的领头羊。

——摘编自任仲平《决定现代化命运的重大抉择》

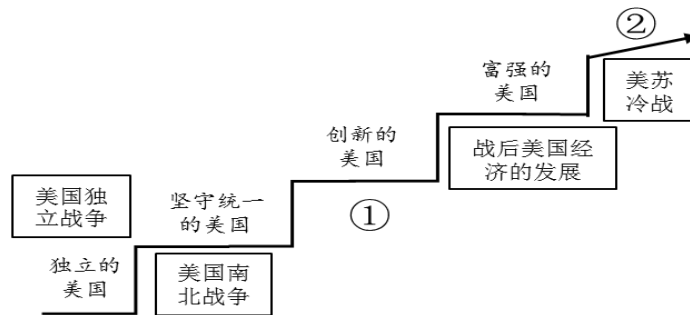
(1) 依据材料一结合所学分析英国“成为跨越两个世纪世界发展的领头羊”的政治原因和经济原因？（2分）

材料二 近代日本是东亚唯一逃脱了被殖民主义者入侵命运的国家，不仅没有沦为西方工业化“中心”的边缘或者半边缘，反而跻身当时世界强国之列，并分享西方建立的现代殖民体系利益，因而被认为是一个“重大例外情况”或“稀有的例外”。

——摘自马克垚主编《世界文明史》

(2) 依据材料二并结合所学分析近代日本跻身当时世界强国之列的历史事件是什么？（1分）  
并举出近代日本分享西方建立的现代殖民体系利益的一个事例。（1分）

材料三



美国的发展历程示意图

(3) 将材料三中①②处填分别填写恰当的内容，并结合所学分析美国的发展历程对我国社会主义现代化建设有何借鉴意义？（4分）

①\_\_\_\_\_ ②\_\_\_\_\_

材料四 当全球市场把世界紧紧联结在一起，大国之间的互动、合作和依存关系开始增强，具有历史眼光和战略智慧的国家开始做出理性的判断：无论是崛起为大国还是维持大国地位，已不可能再走那种依靠战争打破原有国际体系，依靠集团对抗来争夺霸权的老路。如果沿用



传统大国的思维方式来构造今天的世界，如果以不切实际的征服幻想来鲁莽从事，都将是一种时代的错位。

——摘自《大国崛起》解说词

(4) 依据材料四指出当今世界经济发展呈现什么趋势？（1分）

(5) 综合上述材料，你认为推动大国崛起的主要因素有哪些？（2分）

34. (11分) 交流·发展·共赢

材料一



图片一



图片二



图片三



图片四

(1) 请对以上图片进行判断、选择，并将对应的图片及其状态或史实填入下列表格中的空白位置，（3分）结合所学比较唐朝与清朝前期的对外政策你可以得出什么结论？（1分）

时期	状态	史实	影响
西汉	对外开放	张骞出使西域	开辟了通往中亚、西亚的“丝绸之路”，促进了东西方的经济文化交流。
唐朝		玄奘西游	西游天竺，研习佛法，为中国佛教发展做出重大贡献，由其口述的《大唐西域记》记录了沿途的山川风物及社会习俗，是研究中外交史史珍贵文献。
		①	为中日文化交流做出了卓越贡献。
宋朝		设立市舶司	促进了东西方的经济文化交流。
明朝		②	增进了中国与亚非国家和地区的相互了解和友好往来，开创了西太平洋与印度洋之间的亚非海上交通线，为人类的航海事业做出了巨大贡献。
清朝前期	③	实行海禁政策，限制海外贸易	限制了中外正当的经济文化交流，不利于我国人民接触外国的先进文化和科学技术，阻碍了中国社会的进步。



材料二 如果想看看各种发明的力量、作用，最显著的例子就是最近发明的印刷术、火药和指南针，因为这三种东西曾改变了整个世界的面貌。第一种在文字上，第二种在战争上，第三种在航海上。

——培根


(2) 依据材料二，结合所学知识，简述中国发明的印刷术、火药和指南针在欧洲向近代社会转变过程中的作用。(3分)

材料三 1978年以来，中国经济发展似乎可以说经历了三个阶段。第一个阶段是对外开放，让世界进入中国；第二个阶段还是对外开放，但中国开始走向世界；第三个阶段依然是对外开放，中国已经开始改变世界了。

——新加坡《联合早报》

(3) 依据材料三并结合所学知识，概括中国在1978年以来经济发展的特点？并说出表明“中国走向世界”的一个国际或地区组织？(2分)

材料四 由中国提出并推动的“一带一路”建设，得到了沿线国家的积极响应，目前已经有100多个国家和国际组织参与其中。

 <p>一带一路示意图</p>	<p>中国提出并推动“一带一路”建设，……为沿线国家加强经贸往来创造物质基础和便利条件，在平等、包容、合作、共赢的基础上续写共同发展的新篇章，最终形成互利共赢的利益共同体和共同发展繁荣的命运共同体。</p> <p>——《人民日报》热点辨析</p>
--	---

(4) 依据材料四并结合所学，谈一谈你对丝路精神的理解？(2分)

